



ریاست کرناٹک لسانی اقلیتی مدارس کے اساتذہ کی فلاحی تنظیم رجسٹر بنگلور



subscribe my  
YouTube channel  
ilm ki roushni

منصوبہ اسباق برائے  
اردو برائے پنجم جماعت  
برائے دوم سمسٹر

تیار کردہ:-

شبینہ تاج معاون معلمہ سرکاری اردو لوئر پرائمری اسکول کبور

تعلقہ / ضلع: ہاویری ☎ 9538556808

مجموعی قدر پیمائی-2 2024-2025

سرکاری اردو لوئر / ہائر پرائمری سکول \_\_\_\_\_ تعلقہ \_\_\_\_\_ ضلع \_\_\_\_\_

جماعت: پنجم مضمون: اردو نشانات: 40 تاریخ:

اسمائے گرامی: \_\_\_\_\_ رول نمبر:

I درج ذیل میں ہر سوال کے چار چار جوابات دیے گئے ہیں صحیح جوابات کا انتخاب کرتے ہوئے خالی جگہ بھرتی کریں

12×1=12

1: پیغام دے رہا ہے ہمیں \_\_\_\_\_ کا یہ

الف: ترانہ ب: شانتی پ: خوشی ج: غم

2: مولانا فضل خیر آبادی بڑے \_\_\_\_\_ گزرے ہیں۔

الف: عالم ب: جاہل پ: طالب علم ج: حاکم

3: ہے عابدوں کو \_\_\_\_\_ و تجرید کی خوشی

الف: سختی ب: شب پ: دن ج: اطاعت

4: کو میپو \_\_\_\_\_ ضلعے کے کپلی قصبے میں پیدا ہوئے۔

الف: ہاسن ب: شیوگہ پ: ہاویری ج: میسور

5: چمن میں \_\_\_\_\_ کی ہیں رنگینیاں

الف: خاروں ب: گلوں پ: باغوں ج: ترکاریوں

6: تم لوگ بھی یہیں \_\_\_\_\_ آنکھوں کا کروا سکتے ہو۔

الف: معائنہ ب: صفائی پ: کمزوری ج: اہتمام

7: \_\_\_\_\_ کی تمنا ہے اگر کام کرو

الف: کامیابی ب: گمنامی پ: نام ج: آرام

8: شیر ہمارا \_\_\_\_\_ جانور ہے۔

الف: دیہاتی ب: شہری پ: جنگلی ج: قومی

9: بے جان مٹی میں \_\_\_\_\_ آگئی۔

الف: جان ب: نرمی پ: سختی ج: موت

10: \_\_\_\_\_ ہماری روزے مرہ زندگی کا ایک اہم حصہ بن چکی ہے۔

الف: ڈبل پراٹھا ب: ڈبل روٹی پ: ڈبل مکھن ج: ڈبل پلاؤ

11: \_\_\_\_\_ سن عیسوی میں کویمپو یونیورسٹی کے وائس چانسلر بنے۔

الف: 1947 ب: 1950 پ: 1956 ج: 1958

12: مدرسے پر کیمپ کا اہتمام \_\_\_\_\_ نے کیا تھا۔

الف: ریڈ کراس والوں ب: لائسن کلب والوں پ: روٹری کلب والوں ج: انروہیل والوں

$2 \times 10 = 20$

II: مندر ذیل سوالات کے جوابات دو جملوں میں دیجیے۔

1: کئی مذہبوں کو ملانے والا دن کون سا ہے اور یہ کیا پیغام دے رہا ہے؟

ج:

2: مولانا فضل حق خیر آبادی کو کیا سزا ملی؟

ج:

3: درج ذیل الفاظ کے معنی لکھیے عابد: \_\_\_\_\_ بادشاہ: \_\_\_\_\_

4: ہماری ریاست کی زبان کون سی ہے؟ کویمپو کے نام سے مشہور یونیورسٹی کس ضلع میں قائم ہے؟

ج:

5: کائنات کا خالق کون ہے؟ شاعر کے مطابق کائنات کیسے بنی؟

ج:

6: بینائی کیوں کمزور ہوتی ہے؟

ج:

7: کون سے لوگ کام ادھورا نہیں چھوڑتے اور کون سے لوگ کام پورا نہیں کرتے؟

ج:

8: ٹیپو سلطان شہید رحمت اللہ علیہ کا قول کیا ہے؟

ج:

9: برسات سے کسانوں کو کیا فائدہ ہوتا ہے؟

ج:

10: کون سی گیس پیدا ہونے کی وجہ سے ڈبل روٹی میں سراخ بنتے ہیں؟

ج:

III: مندرجہ ذیل سوالات کے تفصیلی جوابات لکھیے۔۔  
 $2 \times 4 = 8$

1: مندرجہ ذیل الفاظ کے اضداد لکھیے۔

الف: بڑا × \_\_\_\_\_ ب: نیکی × \_\_\_\_\_

پ: جاندار × \_\_\_\_\_ ج: پھول × \_\_\_\_\_

2: مندرجہ ذیل الفاظ کے واحد لکھیے۔

الف: عابدوں + \_\_\_\_\_ ب: نعمتیں + \_\_\_\_\_

پ: زاہدوں + \_\_\_\_\_ ج: سختیوں + \_\_\_\_\_

مجموعی قدر پیمائی-2 2024-2025

سرکاری اردو لوئر / ہائر پرائمری سکول \_\_\_\_\_ تعلقہ \_\_\_\_\_ ضلع \_\_\_\_\_

جماعت: پنجم مضمون: علم ریاضی نشانات: 40 تاریخ:

اسمائے گرامی: \_\_\_\_\_ رول نمبر: \_\_\_\_\_

I- مندرجہ ذیل دی گئی ہدایات کے مطابق سوالات حل کیجئے۔۔۔  $1 \times 12 = 12$

1: اعداد کی بار بار جمع کو \_\_\_\_\_ کہا جاتا ہے۔

2:  $6 \div 3 =$  \_\_\_\_\_

3: اندازاً محسوب سے کسی عدد کو حاصل کرنے کا طریقہ \_\_\_\_\_ کہلاتا ہے۔

4: 800 سینٹی میٹر = \_\_\_\_\_ میٹر

5: 32 روپے کو پیسوں میں ظاہر کیجئے \_\_\_\_\_

6: ایک کلو گرام = \_\_\_\_\_ گرام

7: ایک گھنٹہ = \_\_\_\_\_ منٹ

8: BOX کا عکس \_\_\_\_\_ ہوگا۔

9: مکعب کے سطحوں کی تعداد \_\_\_\_\_ ہوتی ہے

10: مکمل کیجئے۔ \_\_\_\_\_ 1,3,6,10

11: 2837 کا تخمینہ دسویں مقام تک \_\_\_\_\_ ہوگا

5.21:12 کو الفاظ میں لکھیں

II: مندرجہ ذیل سوالات حل کیجیے

1: حاصل ضرب معلوم کیجئے۔  $178 \times 142$

2: درجہ ذیل میں خارج قسمت معلوم کریں۔  $246 \div 2$

3: درج ذیل اعداد کے مجموعہ کا تخمینہ 10 ہزار کے مقام تک کیجئے۔  $54837 + 41354$

4: درج ذیل کی اشعار یا ائی کسروں کو کسروں میں لکھیں۔

=0.7

=147.5

5: ایک انڈے کی قیمت 4 روپے ہو تو یہ ایک درجن انڈوں کی قیمت کیا ہوگی؟

6: تفریق کیجئے

550 گرام 28 کلو گرام

250 گرام 13 کلو گرام

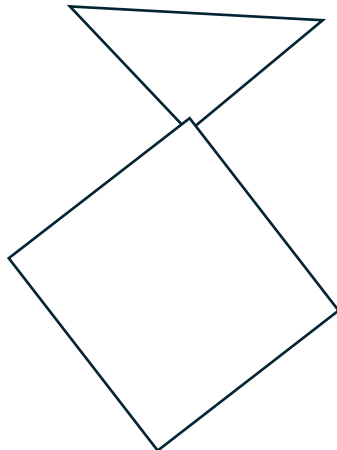
\_\_\_\_\_

\_\_\_\_\_

7: 3 سال 8 مہینے اور 2 سال 7 مہینے کا حاصل جمع معلوم کیجئے۔

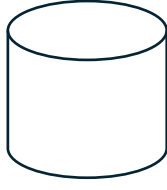
مہینے      سال

8: درجہ ذیل اشکال پر تشاکلی محور کھینچیے۔






9: درجہ ذیل اشکال کے نام لکھیے



10: درجہ ذیل ڈیزائن مکمل کیجئے۔



III درجہ ذیل سوالات کو حل کیجئے۔  $2 \times 4 = 8$

1: محکمہ جنگلات میں سرکاری زمین پر افقی قطار میں 96 اور عمودی قطار میں 80 درخت لگائے ہیں اگر 12 دیہاتی نے ان درختوں کی دیکھ بھال کرنا چاہیں تو ہر ایک دیہاتی کو ملنے والے پودوں کی تعداد کیا ہوگی؟

2: مندرجہ ذیل اشکال کا خاکہ کھینچیے۔

مخروط

استوانہ

مکعب نما

مکعب

مجموعی خدر پیمائی 2- 2024-2025

سرکاری اردو لوئر / پرائمری اسکول \_\_\_\_\_ تعلقہ \_\_\_\_\_ ضلع \_\_\_\_\_

جماعت: پنجم مضمون: ماحولیاتی مطالعہ نشانات: 40 وقفہ: 45 منٹ

طلبہ کا نام \_\_\_\_\_ رول نمبر: \_\_\_\_\_ تاریخ: \_\_\_\_\_

I: مندرجہ ذیل سوالات کے چار چار جوابات دیے گئے ہیں ان میں سے صحیح جوابات کا انتخاب کرتے ہوئے خالی جگہ بھرتی کیجئے۔  $1 \times 12 = 12$

1: \_\_\_\_\_ کو قحط کا ساتھی کہا جاتا ہے۔

الف: اناج ب: پھل ج: ترکاریاں د: بھاجی

2: \_\_\_\_\_ بچے کا پہلا مدرسہ ہے۔

الف: جنگل ب: گھر ج: اسکول د: خار

3: مادے کا سب سے چھوٹا ٹکڑا \_\_\_\_\_ کہلاتا ہے۔

الف: مادہ ب: پتھر ج: ذرہ د: اشیاء

4: \_\_\_\_\_ ایک عنصر ہے۔

الف: لوہا ب: شکر ج: پانی د: مسی

5: سورج سے حاصل ہونے والی توانائی \_\_\_\_\_ کہلاتی ہے۔

الف: بادی توانائی ب: شمسی توانائی ج: حرکی توانائی د: عضلاتی توانائی

6: نظام شمسی کا سب سے روشن سیارہ \_\_\_\_\_ ہے۔

الف: زمین ب: پھل عطارد ج: زہرہ د: پلوٹو

7: ساحلی میدان میں رہنے والے لوگوں کا اہم پیشہ \_\_\_\_\_ ہے۔

الف: تجارت      ب: ٹوکری سازی      ج: زراعت      د: بھاجی ماہی گیری

8: بھارت براعظم ایشیا کے \_\_\_\_\_ میں واقع ہے۔

الف: شمال      ب: جنوب      ج: مشرق      د: مغرب

9: \_\_\_\_\_ نباتات سے حاصل ہوتے ہیں۔

الف: لیمو      ب: انڈے      ج: دودھ      د: گوشت

10: \_\_\_\_\_ ایک ٹھوس شے ہے۔

الف: دودھ      ب: لوہا      ج: تیل      د: پانی

11: پانی کا سالماتی ضابطہ \_\_\_\_\_ ہے۔

الف: CO<sub>2</sub>      ب: H<sub>2</sub>O      ج: HO      د: HO

12: کام کرنے کے لیے درکار توانائی ہم کو \_\_\_\_\_ سے حاصل ہوتی ہے۔

الف: غذا      ب: سورج      ج: فون      د: نیند

II: مندرجہ ذیل سوالات کے جوابات دو جملوں میں لکھیں۔  $2 \times 10 = 20$

13: نظام شمسی کے کتنے سیارے ہیں اور وہ کون کون سے ہیں؟

---

14: ہمالہ پہاڑی علاقے کی کوئی دو خصوصیات لکھیں؟

---

15: بھارت کے پڑوسی ممالک کون کون سے ہیں؟

---

16: غذائی عادتوں کی تبدیلی کی وجہ سے مرتب ہونے والے دو اثرات لکھیں۔

17: دیہی رہائش گاہ کے کوئی دو مسائل لکھے۔

18: عمل تصعید کسے کہتے ہیں؟

19: آمیزہ کسے کہتے ہیں؟ مثال دیں۔

20: عضلاتی توانائی کسے کہتے ہیں؟ مثال دیں۔

21: زمین کی حرکتیں کتنی ہیں اور وہ کون کون سی ہیں؟

22: کرناٹک کے ساحلی میدانی علاقہ کے اہم فصلوں کی فہرست بنائیں۔

III: مندرجہ ذیل سوالات کے تفصیلی جوابات لکھیے۔  $2 \times 4 = 8$

23: بھارت کا نقشہ کھینچ کر درج ذیل مقامات کی نشاندہی کیجئے۔

الف: نئی دہلی ب: بینگلور ج: گوا د: بحر عرب



زبانی آزمائشی پرچہ برائے اردو برائے پنجم جماعت

- 1: کئی مذہبوں کو ملانے والا دن کون سا ہے؟ \_\_\_\_\_ یوم جمہوریہ
- 2: آزادی کی ضد کیا ہے؟ \_\_\_\_\_ غلامی
- 3: عید الفطر کس کی لکھی ہوئی نظم ہے؟ \_\_\_\_\_ نظیر اکبر آبادی
- 4: ہماری ریاست کی زبان کون سی ہے؟ \_\_\_\_\_ کئڑا
- 5: وٹامن A کن چیزوں میں پایا جاتا ہے؟ \_\_\_\_\_ گاجر
- 6: پھدکنا اس لفظ کے معنی بتائیں۔ \_\_\_\_\_ اچھلنا
- 7: نسل کے اعتبار سے شیر کا تعلق کس خاندان سے ہے؟ \_\_\_\_\_ بلی
- 8: ڈھنگ کا ہم قافیہ لفظ بتائیں۔ \_\_\_\_\_ رنگ
- 9: کون سی گئیس پیدا ہونے کی وجہ سے ڈبل روٹی میں سوراخ بنتے ہیں؟ \_\_\_\_\_ کاربن ڈائی آکسائیڈ
- 10: روٹی کی جمع بتائیں۔ \_\_\_\_\_ روٹیاں

زبانی آزمائشی پرچہ برائے علم ریاضی برائے پنجم جماعت

- 1: ایک عدد اور صفر کا حاصل ضرب کیا ہوتا ہے؟ \_\_\_\_\_ صفر
- 2: 3469 کا تخمینہ ہزار کے مقام تک بتائیں۔ \_\_\_\_\_ 3000
- 3:  $\frac{8}{10}$  کی اعشاریاتی صورت کیا ہے؟ \_\_\_\_\_ 0.8
- 4: یہ ایک مزدور اگر دن میں 500 روپے کماتا ہو تو ایک ہفتے میں وہ کتنا کمائے گا؟ \_\_\_\_\_ 3500
- 5: ایک کلو گرام = \_\_\_\_\_ گرام \_\_\_\_\_ 1000

- 6: ایک منٹ کے کتنے سیکنڈ ہوتے ہیں؟ \_\_\_ 60
- 7: مکعب نما کے کناروں کی تعداد بتائیں؟ \_\_\_ 12
- 8: استوانہ میں دائرہ نما چہروں کی تعداد کتنی ہے؟ \_\_\_ 3
- 9: 48 سیب کو 12 بچوں میں بانٹا ہو تو ہر ایک بچے کو کتنے سیب ملیں گے؟ \_\_\_ 4
- 10: ایک سال میں کتنے دن ہوتے ہیں؟ \_\_\_ 365

زبانی ازمانشی پرچہ برائے پنجم جماعت برائے ماحولیاتی مطالعہ

- 1: کاربو ہائیڈریٹ کن غذائی اشیا میں پایا جاتا ہے؟ \_\_\_ راگی
- 2: انسانیت کے ابتدائی رہائش گاہ کس کو کہا جاتا ہے؟ \_\_\_ غار
- 3: کمیت کی یس آئی اکائی کیا ہے؟ \_\_\_ کلوگرام
- 4: مائع عنصر کا نام بتائیں۔ \_\_\_ پارہ
- 5: وہ توانائی جو کسی چیز میں اسکی حرکت کی وجہ سے اکٹھا ہوتی ہے اسے کیا کہتے ہیں؟ \_\_\_ توانائی بالحرکت
- 6: برقی خانہ میں ہونے والے کیمیائی تعامل کے نتیجے میں کیا تیار ہوتی ہے؟ \_\_\_ برقی رو
- 7: نظام شمسی کا سب سے بڑا سیارہ کون سا ہے؟ \_\_\_ مشتری
- 8: ایک وسیع علاقہ جو سوکھارینٹیللا اور گھاس یا پودوں کے بغیر ہوتا ہے کیا کہلاتا ہے؟ \_\_\_ صحرا
- 9: کرناٹک کا دارالحکومت کون سا ہے؟ \_\_\_ بنگلور
- 10: ہمارے ہندوستان کے وزیراعظم کا نام بتائیں۔ \_\_\_ شری نریندر مودی

## جوابات برائے اردو

1: ب: شانتی

2: الف: عالم

3: د: طاعت

4: ب: شیوگہ

5: ب: گلوں

6: الف: معائنہ

7: الف: کامیابی

8: د: قومی

9: الف: جان

10: ب: ڈبل روٹی

11: ج: 1956

12: ب: لائٹس کلب والوں

13: کئی مذہبوں کو ملانے والادن یوم جمہوریہ ہے یہ ہمیں شانتی کا پیغام دے رہا ہے۔

14: مولانا فضل حق خیرآبادی کو کالے پانی کی سزا سنائی گئی۔

15: عابد\_عبادت کرنے والا شاہ\_بادشاہ

16: ہماری ریاست کی زبان کٹرا ہے۔ کویمپو کے نام سے مشہور یونیورسٹی ضلع شیوگہ میں واقع ہے۔

17: کلینات کا خالق اللہ ہے۔ شاعر کے مطابق کائنات لفظ کن سے بنی ہے۔

18: وٹامن اے کی کمی سے بینائی کمزور ہوتی ہے۔



19: ہمت والے لوگ کام ادھورا نہیں چھوڑتے اور راحت والے لوگ کام پورا نہیں کرتے۔

20: نیپو سلطان شہید رحمت اللہ علیہ کا قول یہ ہے کہ گیدڑ کی سو سالہ زندگی سے شیر کی ایک دن کی زندگی بہتر ہے۔

21: زمین سبزے سے لہلہانے لگتی ہے اور کسانوں کی محنت ٹھکانے لگتی ہے۔

22: کاربن ڈائی آکسائیڈ گیس کی وجہ سے ڈبل روٹی میں سرخ بنتے ہیں۔

23: چھوٹا

بدی

غیر جاندار

خار

24: عابد

نعمت

زاہد

سختی

جوابات برائے علم ریاضی برائے پنجم جماعت

1: ضرب

2:2

3: تخمینہ

8:4

3200 5:

1000:6

60:7

8: Box

6:9

15:10

2840:11

12: پانچ اعشاریہ دو ایک

II

$$178 \times 142 = 25276:1$$

$$24658 \div 2 = 123:2$$

$$54837 + 41354 = :3$$

$$96191 = 100000$$

$$0.7 = 7/10 : 4$$

$$147.5 = 1475/10 :$$

5: ایک انڈے کی قیمت = 4 روپے

12 انڈوں کی قیمت =  $12 \times 4 = 48$  روپے

6: 550 گرام 28 کلو گرام

250 گرام 13 کلو گرام

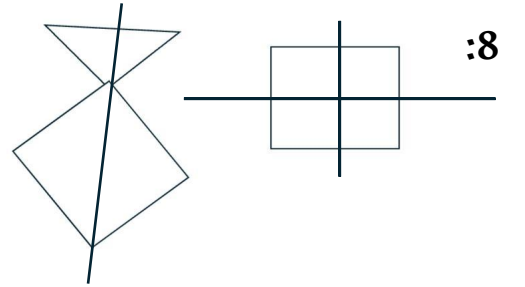
800 گرام 41 کلو گرام

7: مہینے - سال

3 8

2 7

6 5



9: مخروط

استوانہ

10:



### III

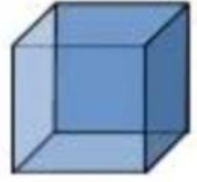
1:  $96 \times 80 =$  سرکاری زمین پر لگائے ہوئے درختوں کی تعداد

$$= 7,680$$

$1 = 7680 \div 12$  دیہاتی کولمنے والے درختوں کی تعداد

$640 =$  ہر ایک دیہاتی کولمنے والے درختوں کی تعداد

2:



جوابات برائے ماحولیاتی مطالعہ برائے پنجم جماعت۔

1: الف- اناج

2: ب- گھر

3: ج- ذرہ

4: الف- لوہا

5: ب- شمسی توانائی

6: ج- زہرہ

7: د- ماہی گیری

8: ب- جنوب

9: الف: لیمو

10: ب- لوہا

11: ج- H<sub>2</sub>O

12: الف- غذا

13: نظام شمسی میں 8 سیارے ہیں عطارد، زہرہ، زمین، مشتری، زحل، مریخ، یورینس، نیپون

14: یہ برف سے ڈھکی ہوتی ہے۔

ان میں کئی اونچی چوٹیاں ہیں۔

15: بھارت کے پڑوسی ممالک پاکستان، افغانستان، نیپال، بھوٹان، چین، بنگلہ دیش، سری لنکہ ہیں۔

16: غذائی عادتوں کی تبدیلی کے اثرات:

لوگ باسانی بیمار پڑ جاتے ہیں، زہریلے کیمیائی اشیاء جسم میں داخل ہو جاتے ہیں، ناقص غذا کی وجہ سے موٹاپا بڑھ جاتا ہے۔

17: دیہی رہائش گاہ کے مسائل

بیت الخلا اور غسل خانوں کی عدم موجودگی

بجلی کا نامناسب انتظام

18: چند ٹھوس اشیا جو گرم کرنے پر بالواسطہ بھاپ کی حالت میں تبدیل ہوتے ہیں انہیں مائع حالت سے گزرنے کی ضرورت نہیں پڑتی یہ مرحلہ عمل تصعید کہلاتا ہے۔

19: اگر دو یا زیادہ چیزیں کسی بھی تناسب میں ملائے جاتے ہوں جبکہ ان میں کوئی کیمیائی تبدیلی واقع نہ ہو اور وہ اپنی نجی خاصیت برقرار رکھتے ہوں تو یہ ملاوٹی شے آمیزہ کہلاتی ہے مثال مٹی ریت۔

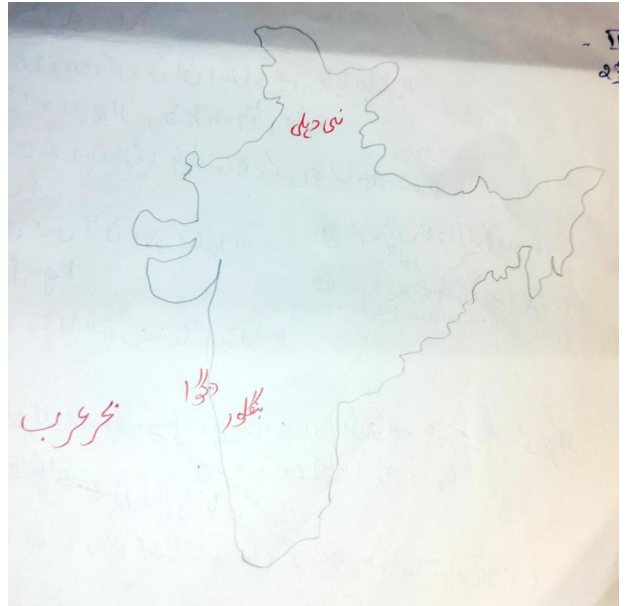
20: روز بروز کے کام کرنے کے لیے ضروری ہمارے جسمانی عضلات میں تیار ہونے والی توانائی کو عضلاتی توانائی کہتے ہیں۔

مثالیں: چلنا پھرنا

21: زمین میں دو قسم کی حرکتیں ہیں جو گردش حرکت اور طوافی حرکت کہلاتی ہیں۔

22: کرناٹک کے ساحلی علاقے کی اہم فصلیں چاول، سپاری، ناریل، کاجو، الائچی ہیں۔

23:



ٹھوس	مانع	گسیں
پتھر	چھاچھ	دھواں
موم بتی	دودھ	
لکڑی	کیروسن	
ایسٹ	پیٹرول	
کوتلہ		



## {SECOND SEM BLUEPRINT 2024-25}

[ CLASS: 5th

SUBJECT: ENGLISH]

[ WRITTEN: 40 marks

ORAL: 10 marks]



**Prepared by: Farida begum. K. Makandar.**

**U G S Talikoti**



# SECOND SUMMATIVE EVALUATION 2024-2025

CLASS : V std

SUBJECT : ENGLISH

MARKS :

10

## I- WEIGHTAGE TO THE OBJECTIVES

Sl no	Objectives	Percent%	Marks	Questions
1	Knowledge	25%	10	9
2	Comprehension	35%	14	9
3	Expression	30%	12	5
4	Appreciation	10%	04	1
	Total	25%	10	9

## II - CONTENT BASED MARKS DISTRIBUTION

Sl no	Name of the Lesson	Marks	No of Qn's
1	Shabale	4	3
2	The cow	4	3
3	Dignity of labour	8	5
4	Results and roses	3	2
5	A great coachman	4	3
6	Paper boat	1	1
7	Children of courage bravery awards	5	3
8	My land	1	1
9	Grammar	10	3
10			
11			
	<b>TOTAL</b>	40	24

## III - QUESTION TYPE BASED MARKS DISTRIBUTION

Sl no	Objectives	Percent%	Marks	No of Question
1	V.S. A	30%	12	12
2	S.Ans	50%	20	10
3	E.Type	20%	08	02
	Total	100%	40	24

## IV- WEIGHTAGE TO THE DIFFICULTY LEVEL

Sl no	Objectives	Percent%	Marks	No of Question
1	Easy	30%	12	12
2	Average	50%	20	10
3	Difficulty	20%	08	02
	Total	100%	40	24



# BLUE PRINT

**SUBJECT: ENGLISH**

**MARKS: 40**

**STD: V**

SL NO	LESSON'S NAME	KNOWLEDGE			COMPREHENSION			EXPRESSION			APPRECIATION			NO OF QUESTIONS	TOTAL MARKS
		V.S.A	S.Ans	L.ans	v.s.a	S.Ans	L.ans	V.S.A	S.Ans	L.ans	V.S.A	S.Ans	L.ans		
1	Shabale	2(1)	-	-	-	1(2)	-	-	-	-	-	-	-	3	4
2	The cow	2(1)	-	-	-	1(2)	-	-	-	-	-	-	-	3	4
3	Dignity of labour	1(1)	1(2)	-	1(1)	1(2)	-	-	1(2)	-	-	-	-	5	8
4	Results and roses	-	-	-	1(1)	1(2)	-	-	-	-	-	-	-	2	3
5	A great coachman	2(1)	-	-	-	1(2)	-	-	-	-	-	-	-	3	4
6	Paper boat	-	-	-	1(1)	-	-	-	-	-	-	-	-	1	1
7	Children of courage bravery awards	1(1)	-	-	-	1(2)	-	-	1(2)	-	-	-	-	3	5
8	My land	-	-	-	-	-	-	1(1)	-	-	-	-	-	1	1
9	Grammar	-	-	-	-	-	-	-	1(2)	1(4)	-	-	1(4)	3	10
10															
11															
<b>TOTAL</b>		<b>9(10)</b>			<b>9(15)</b>			<b>6(11)</b>			<b>1(4)</b>			<b>24</b>	<b>40</b>

**NOTE :** Numbers in brackets indicate MARKS and number outside indicate of QUESTIONS.

## SECOND SEMESTER EXAMINATION 2024-25

NAME: \_\_\_\_\_ SCHOOL: \_\_\_\_\_

STD: 5<sup>th</sup>

SUB: ENGLISH

MARKS: 40

DATE: \_\_ / 03 / 2025

A. Choose the correct answer and fill the blanks.

(6X1=6)

1. Another name of Shabale is \_\_\_\_\_.

- a) Nandini                      b) Kaushika                      c) Kamdhenu

2. Which word rhymes with the air \_\_\_\_\_.

- a) Dare                              b) dairy                              c) mail

3. What kind of a boy was the businessman's son?

- a) Hardworking                      b) lazy                              c) kind

4. What do these words from the poem refer to: fair, small, and big?

- a) Rose                              b) gardener                              c) garden

5. What is the birth name of Narendranath Dutta?

- a) Vishwanath                      b) Vivekanand                      c) Veereshwara

6. What did the child load the boat with?

- a) Shiuli flowers                      b) roses                              c) jasmine

B. Answer the following questions in a word, phrase or in a sentence each.

(6X1=6)

7. When was the first Bravery award for children given in India?

\_\_\_\_\_

8. How are the men or women in this land?

\_\_\_\_\_

9. Where did the Vasishta live?

\_\_\_\_\_

10. What does the cow eat?

\_\_\_\_\_

11. Who gave the gold coin to the boy?

\_\_\_\_\_

12. Who was Narendranath's guru?

\_\_\_\_\_

C. Question number 13 to 22 carries two marks.

(10X2=20)

13. Write the full form of these.

a) What's - \_\_\_\_\_

b) Doesn't - \_\_\_\_\_

14. Write the opposite gender of these.

a) Father - \_\_\_\_\_

b) Boys - \_\_\_\_\_

15. Rearrange these letters into meaningful word.

a) Mslal - \_\_\_\_\_

b) cabk - \_\_\_\_\_

16. Make as many words as possible from each of the words below.

a) Established: \_\_\_\_\_

b) Understand: \_\_\_\_\_

17. What do the awardees receive?

\_\_\_\_\_  
\_\_\_\_\_  
\_\_\_\_\_

18. What was the special about Shabale?

\_\_\_\_\_  
\_\_\_\_\_  
\_\_\_\_\_

19. Sort the singular and plural words by writing them in the correct order.

Fox                  Elephants                  a deer                  bees  
person                  cities                  Bear                  doctors

**SINGULAR**

**PLURAL**

a) \_\_\_\_\_  
b) \_\_\_\_\_  
c) \_\_\_\_\_  
d) \_\_\_\_\_

a) \_\_\_\_\_  
b) \_\_\_\_\_  
c) \_\_\_\_\_  
d) \_\_\_\_\_

20. Some words are given below. They refer to the father and the son in the lesson. Dignity of labour, select the appropriate words and write them in the right column.

Scared                  Lazy                  Strict                  Ache  
Wise                  Guess                  Rashes                  Value of hard work

Father

---

---

---

---

Son

---

---

---

---

21. Use these words into meaningful sentence.

a) My: \_\_\_\_\_

b) That: \_\_\_\_\_

22. Find the adjective in these :

a. She is very pretty.

b. He is a good teacher.

D. Question number 23 to 24 carries 4 marks.

(2X4=8)

23. Read the story and answer these questions.

My name is Sunil. I live in Bangalore. It is a big and beautiful place. There are a lot of parks, museums, buildings, and Malls. My favourite is the utility building. We usually go there on Sundays. We spend time with our parents and friends. We have a lot of fun by playing games.

a) Where does Sunil live?

-----

b) How is Bangalore city?

-----

c) Which is Sunil's favourite place?

-----

d) What do they do after going to the utility building?

-----

24. Look at this picture and write four to five sentences about it.



---

---

---

---

---

## Answers for 5<sup>th</sup> class

- A.
1. A) Nandini
  2. A) Dare
  3. B) Lazy
  4. C) Garden
  5. C) Veereshwar
  6. A) Shiuli flowers
- B.
7. In 1957
  8. Men are the bravest on the earth and women are not scared of anything.
  9. In the forest
  10. Meadow flowers
  11. Mother
  12. Rama Krishnaparamhans
- C.
13. a) What is            b) Does not
  14. a) Mother            b) Girls
  15. a) Small            b) Back
  16. a) eat, table, shade, shall, had, tablet.  
a) Under, stand, and, stare, state.
  17. The awardees receive a medal, a certificate, and cash as a token of appreciation of their valour. Some of them are also granted financial assistance to complete their higher education.
  18. Whenever Vasishtha asked her for anything, such as food, drink or clothes, she would give them to him.
  19. 

<u>Singular</u>	<u>Plural</u>
fox	bees
person	doctors
a deer	Elephants
Bear	cities
  20. 

<u>Father</u>	<u>Mother</u>
Wise	Scared
Strict	Lazy
Guess	Ache
Value of hard work	Rashes
  21. My: This is my pen.  
That: That is a beautiful monument.
  22. a) very pretty            b) good
- D.
23. a) Sunil lives in Bangalore.  
b) It is big and beautiful place. There are a lot of parks museum, buildings, and malls.  
c) Sunil's favourite place is utility building.  
d) He spent time with his parents and friends. They had lot fun by playing games.
  24. This is a picture of children's park. They are playing and enjoying. There are many things for the children to play. Some of them are cycling, others are sliding and so on. All of them are happy and enjoying the moment.

## ORAL QUESTION PAPER

CLASS: 5<sup>TH</sup>

SUB: ENGLISH

MARKS: 10

Q-1: Ask to the students to read this story .

3 Marks

### LAZY JOHN

There was a boy named John who was so lazy he couldn't even change his clothes. One day, he saw the apple tree in their yard was full of fruits. He wanted to eat some apples, but he was too lazy to climb the tree and take the fruits. So, he lay down underneath the tree and waited for the fruits to fall off. John waited until he was starving, but the apples never fell.

Q-2: Say the opposites of these:

3 Marks

- a. small
- b. cold
- c. on etc

Q-3: Teacher will show some objects/ pictures to the students and ask their names. 4marks



# 2ನೇ ಸಂಕಲನಾತ್ಮಕ ಪರೀಕ್ಷೆ 2024-25

ದ್ವಿತೀಯ ಭಾಷೆ ಕನ್ನಡ

ತರಗತಿ : 5

ಪ್ರಶ್ನೆ ಪತ್ರಿಕೆ ತಯಾರಕರು :

**ಶ್ರೀಮತಿ ಐ ಬಿ ಗಜಕೋಶ**

ಸ.ಉ.ಕಿ.ಪ್ರಾ.ಶಾಲೆ ನೇರಲಿ ಹುಕ್ಕೇರಿ ಚಿಕ್ಕೋಡಿ

ಡಿ.ಟಿ.ಪಿ :

**ಇಸ್ಮಾಯಿಲ್ ಖಾನ್**

ಸ.ಉ.ಹಿ.ಪ್ರಾ.ಶಾಲೆ ಚಿಕ್ಕಪೇಟೆ ಸೊರಬ ಶಿವಮೊಗ್ಗ(ಜಿಲ್ಲೆ)



## 2ನೇ ಸಂಕಲನಾತ್ಮಕ ಪರೀಕ್ಷೆ 2024-25

ಸರ್ಕಾರಿ ಉರ್ದು ಹಿರಿಯ / ಕಿರಿಯ ಪ್ರಾಥಮಿಕ ಶಾಲೆ \_\_\_\_\_

ವಿದ್ಯಾರ್ಥಿ ಹೆಸರು : \_\_\_\_\_ ರೋಲ್ ನಂ : \_\_\_\_\_

ವಿಷಯ : ಕನ್ನಡ

ಊಕ : 40

ಸಮಯ : 90 ನಿಮಿಷ

ಪ್ರಶ್ನೆ - 1 : ಈ ಕೆಳಗಿನ ಐದು ಪ್ರಶ್ನೆಗಳನ್ನು ತುಂಬಿ....

6x1=6

- 1) ಅಮ್ಮ ಪದ್ಯವನ್ನು ಬರೆದ ಕವಿ \_\_\_\_\_
- 2) ಶಕ್ತಿಯೇ ಜೀವನ : ದೌರ್ಬಲ್ಯವೇ \_\_\_\_\_
- 3) “ ತೆಂಗಿನ ಕಂಗಿನ “ ಈ ಪದಗಳ ಅರ್ಥ \_\_\_\_\_
- 4) ಪಾಲಿಗೆ ಬಂದದ್ದೇ \_\_\_\_\_
- 5) ಗಾಂಧಿ ಜಯಂತಿ \_\_\_\_\_ ರಂದು ಆಚರಿಸುತ್ತೇವೆ.
- 6) ಶ್ರವಣ ಕುಮಾರನ ತಂದೆ ತಾಯಿಗಳು \_\_\_\_\_ ಆಗಿದ್ದರು.

ಪ್ರಶ್ನೆ - 2 : ಈ ಪ್ರಶ್ನೆಗಳಿಗೆ ಒಂದೇ ವಾಕ್ಯದಲ್ಲ ಉತ್ತರಿಸಿ....

4x1=4

7) ಕವಿ ಅಮ್ಮನನ್ನು ಏನೆಂದು ಕರೆದಿದ್ದಾರೆ ?

8) ಸ್ವಾಮಿ ವಿವೇಕಾನಂದರು ಜನರಿಗೆ ಕೊಟ್ಟ ಸಂದೇಶವೇನು ?

9) ನರಿ - ದ್ರಾಕ್ಷಿ ಕೆತ್ತಿಹಿಡಿದ ಪುಟ್ಟಕೊಂಡ ಗಾದೆಮಾತು ಯಾವುದು ?

10) ಗಾಂಧೀಜಿ ಹಣವನ್ನು ಏಕೆ ಸಂಗ್ರಹಿಸುತ್ತಿದ್ದರು ?

ಪ್ರಶ್ನೆ - 3 (ಅ) : ಹೊಂದಿಸಿ ಬರೆಯಿರಿ....

3x1=3

- |               |           |       |
|---------------|-----------|-------|
| 11) ನುಡಿ      | ಆಕಾಶ      | _____ |
| 12) ನಾಭ       | ಜಗಲಾಡುವನು | _____ |
| 13) ಕತ್ತಲೊಡನೆ | ಮಾತು      | _____ |

(ಆ) : ಈ ಕೆಳಗಿನ ವಿರುದ್ಧಾರ್ಥಕ ಪದ ಬರೆಯಿರಿ....

3x1=3

- 14) ಒಡೆಯ X \_\_\_\_\_
- 15) ಅಮೃತ X \_\_\_\_\_
- 16) ಬಡವ X \_\_\_\_\_

ಪ್ರಶ್ನೆ - 4 : ಈ ಕೆಳಗಿನ ಪದ್ಯವನ್ನು ಪೂರ್ಣಗೊಳಿಸಿ....

1x4=4

- 17) ಹಾಲ್ವೇಡಿ ಅತ್ತಾನ \_\_\_\_\_  
\_\_\_\_\_ ಗೆಜ್ಜೆ ಹೆಸರಾಯ್ತು  
ಹಾವಿನ ಹೆಡೆಚಂದ \_\_\_\_\_  
\_\_\_\_\_ ನಮ್ಮ ಮನಿಗಲ್ಲ

ಪ್ರಶ್ನೆ - 5 : ಈ ಕೆಳಗಿನ ಪ್ರಶ್ನೆಗಳಿಗೆ ಯಾರು ? ಯಾರಿಗೆ ಹೇಳಿದರು ?

2x2=4

18) “ ಭಯದ ಮಾತುಗಳನ್ನು ನಂಬಬಾರದು “

ಯಾರು ಹೇಳಿದರು : \_\_\_\_\_ ಯಾರಿಗೆ ಹೇಳಿದರು : \_\_\_\_\_

19) “ ನನ್ನ ಮುಷ್ಟಿನ ತಂದೆ ತಾಯಿಗಳಿಗೆ ಇನ್ನಾರು ಗತಿ “

ಯಾರು ಹೇಳಿದರು : \_\_\_\_\_ ಯಾರಿಗೆ ಹೇಳಿದರು : \_\_\_\_\_



## 2ನೇ ಸಂಕಲನಾತ್ಮಕ ಮೌಖಿಕ ಪರೀಕ್ಷೆ 2024-25

ವಿಷಯ : ಕನ್ನಡ

ತರಗತಿ : 5

ಅಂಕ : 10

- 1) ಉದಯ ರಾಗ ಎಂಬ ಪದ್ಯವನ್ನು ಬರೆದ ಕವಿ ಯಾರು ?
- 2) ಸೂರ್ಯನು ಯಾವ ದಿಕ್ಕಿನಲ್ಲಿ ಉದಯಿಸುತ್ತಾನೆ ?
- 3) ರವಿ ಎಲ್ಲಿ ಕುಣಿದಾಡುವನು ?
- 4) ನಿನಗೆ ಗೊತ್ತಿರುವ ಎರಡು ಕಥೆಗಳ ಹೆಸರು ಹೇಳು ?
- 5) ಗಾಂಧೀಜಿಯ ಅವರ ಪೂರ್ಣ ಹೆಸರೇನು ?
- 6) ದಶರಥನು ಎಲ್ಲಿ ಯಾವ ನಗರದಲ್ಲಿ ನೆಲೆಸಿದ್ದನು ?
- 7) ಶಬ್ದವೇದಿ ಎಂದರೇನು ?
- 8) ಪಾಂಡವರ ತಾಯಿಯ ಹೆಸರೇನು ?
- 9) ನಿನಗೆ ಗೊತ್ತಿರುವ 2 ವಿರುದ್ಧಾರ್ಥಕ ಪದಗಳನ್ನು ಹೇಳು ?
- 10) ಸ್ವಾಮಿ ವಿವೇಕಾನಂದರ ಹೆಸರೇನು ?