

SUMMATIVE ASSESSMENT II

تلخیصی قدر پیمائی۔ ششماہی دوم 25-2024

نشانات: 40

مضمون: اردو

جماعت: چہارم 4



1۔ مقاصد کی بنا پر نشانات کی تقسیم

نمبر شمار	مقاصد	فیصد	سوالات کی تعداد	نشانات
1	معلومات	25%	08	10
2	ادراک / تفہیم	45%	12	18
3	اطلاق / اظہار	20%	03	08
4	مہارت / مدح	10%	01	04
5	جملہ	100%	24	40

* زباندانی: 1۔ معلومات، 2۔ تفہیم، 3۔ اظہار، 4۔ مدح * بنیادی مضامین: 1۔ معلومات، 2۔ ادراک، 3۔ اطلاق، 4۔

مہارت

2۔ سوالات کی بنیاد پر نشانات کی تقسیم

نمبر شمار	نوعیت	فیصد	سوالات کی تعداد	نشانات
1	معروضی	30%	12	12
2	مختصر جوابی	50%	10	20
3	تفصیلی	20%	2	8
4	جملہ	100%	24	40

4۔ اسباق / یونٹ کی بنیاد پر نشانات کی تقسیم

نمبر شمار	اسباق / یونٹ کے نام	سوالات	نشانات	فیصد
1	بکری	02	03	7.5
2	عیدالضحیٰ	03	07	17.5
3	مٹی کا دیا	02	03	7.5
4	برنداون	02	03	7.5
5	میر ابھارت	01	02	05
6	بہادر شاہ ظفر	02	03	7.5
7	ارد گرد کی صفائی	02	03	7.5
8	بھارت کے نو نہالو!	05	09	22.5
9	استاد ذاکر حسین	05	07	17.5
جملہ		24	40	100%

Prepared by :Nilofer Inamdar (GUHPS Jumnal Vijaypur)

[Type text]

SUMMATIVE ASSESSMENT II



تلخیصی قدر پیمائی - ششماہی دوم 2024-25

بلو کا خاکہ Blue's Print

وقفہ: 90 منٹ

نشانات: 40

مضمون: اردو

جماعت: چہارم 4

نمبر شمار	اکائیاں	معلومات			تفہیم / ادراک			اظہار خیال			مہارت			جملہ	
		معروضی	مختصر	تفصیلی	معروضی	مختصر	تفصیلی	معروضی	مختصر	تفصیلی	معروضی	مختصر	تفصیلی	سوالات	نشانات
1	بکری	1(1)	1(2)										02	03	
2	عیدالضحیٰ	1(1)	1(2)										03	07	
3	مٹی کا دیا	1(1)		1(2)									02	03	
4	برنداؤن	1(1)		1(2)									02	03	
5	میر ابھارت			1(2)									01	02	
6	بہادر شاہ ظفر	1(1)		1(2)									02	03	
7	ارد گرد کی صفائی	1(1)		1(2)									02	03	
8	بھارت کے نو نہالو!				3(1)			1(4)	1(2)				05	09	
9	استاد ڈاکٹر حسین				3(1)			1(2)	1(2)				05	07	
	جملہ	6(6)	2(4)	6(6)	6(6)	6(12)		1(4)	2(4)				24	40	
			8(10)			12(18)		3(8)				1(4)			

Prepared by :Nilofer Inamdar(GUHPS Jumnal vijaypur)

[Type text]

SUMMATIVE ASSESSMENT II

نمونہ سوالی پرچہ

طالب علم کا نام _____ اسکول کا نام _____

وقفہ: 90 منٹ

نشانات: 40

مضمون: اردو

جماعت: چہارم 4

مورخہ: _____

6x1=6

سوال نمبر 1۔ درج ذیل خالی جگہوں کو مکمل کرو۔

1. پالنا اس کا۔۔۔۔۔ کی سنت
2. ہمارا ہندوستان مختلف مذاہب کا۔۔۔۔۔ ہے۔
3. ایک بڑھیا نے سر راہ لاکے۔۔۔۔۔ کر دیا۔
4. دینا کا مشہور اور خوبصورت باغ۔۔۔۔۔ باغ ہے۔
5. مغل سلطنت کے آخری بادشاہ۔۔۔۔۔ تھے۔
6. ہم جو کھاتے ہیں وہ۔۔۔۔۔ ہے۔

3x1=3

سوال نمبر 2: الف) درج ذیل کے معنی لکھو؟

(1) نونہال۔۔۔۔۔ (2) محبت۔۔۔۔۔ (3) فرصت۔۔۔۔۔

3x1=3

ب) مثال کے مطابق لکھئے۔

مثال: راستہ بنانے والا۔ رہبر

(1) علم سیکھانے والا۔۔۔۔۔ (2) پیدا کرنے والا۔۔۔۔۔ (3) حفظ کرنے والا۔۔۔۔۔

10x2=20

سوال نمبر 3: درج ذیل سوالات کے جوابات لکھو۔

(1) بیگ اور جوتے کس سے بنتے ہیں؟

(2) مسلمانوں کی دو اہم عیدیں کونسی ہیں؟

(3) کس وقت بڑھیا نے دیاروشن کر دیا؟

(4) کس ندی پر باندھ بنایا گیا ہے؟

(5) بھارت کی ندیاں کونسی ہیں؟

(6) ہمارا ملک کب آزاد ہوا؟

[Type text]

7) میدان میں کونسا پروگرام ہو رہا تھا؟

8) شاعر نے نظم میں کس کو دولت بتایا ہے؟

9) طبلہ کس نے ایجاد کیا؟

10) ذاکر حسین کب پیدا ہوئے؟

$$2 \times 4 = 8$$

سوال نمبر 4: درج ذیل سوالات کے تفصیلاً جوابات دو۔

1) نظم میں شاعر نے ہندو اور مسلمانوں کو کیا نصیحت کی ہے؟

2) اللہ نے حضرت ابراہیمؑ کو وحی کے ذریعہ کیا بتایا؟

[Type text]

جوابی پرچہ

سوال 1:1) نبی ﷺ (2) گہوارا (3) روشن (4) برنداون (5) بہادر شاہ ظفر (6) غذا

سوال 2: الف:1) نونہال: معصوم بچے (2) محبت: چاہت (3) فرصت: خالی وقت

ب:1) عالم (2) خالق (3) حافظ

سوال 3:1) بیگ اور جوتے بکری کی کھال سے بنتے ہیں

2) مسلمانوں کی دو اہم عیدیں، عید الفطر اور عید الفطر ہیں۔

3) جھٹ پٹے کے وقت بڑھیا نے دیاروشن کر دیا۔

4) کاویری ندی پر باندھ بنایا گیا ہے۔

5) گنگا، جمنا بھارت کی ندیاں ہیں۔

6) ہمارا ملک 15 اگست 1947 کو آزاد ہوا۔

7) میدان میں پروگرام برائے قومی خدمت ہو رہا تھا۔

8) شاعر نے نظم میں علم و ہنر کو دولت بتایا ہے۔

9) طبلہ حضرت امیر خسرو کی ایجاد ہے۔

10) ذاکر حسین 19 مارچ 1951 کو ممبئی میں پیدا ہوئے۔

سوال 4:1) نظم میں شاعر نے ہندو اور مسلمانوں کو بھائی چارگی، الفت اور ہر وقت امن کا درس دینے کی نصیحت کی ہے۔

2) اللہ نے حضرت ابراہیمؑ کو وحی کے ذریعے یہ بتایا کہ ہم نے تمہارا امتحان لینا چاہا اور تم ہمارے امتحان میں پورے اترے۔

زبانی سوالات

نشانات: 10

مضمون: اردو

جماعت: 4

- (1) بکری سے ہمیں کیا کیا فائدے ہوتے ہیں؟
- (2) برنداون باغ کونسے ضلع میں ہے؟
- (3) ہمارے ملک میں کون کون سے مذہب کے لوگ رہتے ہیں؟
- (4) چند موسیقی کے آلات کے نام بتاؤ؟
- (5) حروف تہجی کتنے ہیں؟
- (6) عید الفطر اور عید الاضحیٰ کے متعلق بتائیے؟
- (7) NSS کا کیا مطلب ہے؟
- (8) بھارت کے نو نہالوں نظم کے چند اشعار پڑھو؟
- (9) ذاکر حسین کس لئے مشہور تھے؟
- (10) آپ کی درسی کتاب کا کیا نام ہے؟

Prepared by :Nilofer Inamdar(GUHPS Jumna vijaypur)

[Type text]

تلخیصی قدر پیمائی۔ دوّم ششماہی 2024-25

SUMMATIVE ASSESSMENT II

جماعت: چہارم 4 مضمون: علم ریاضی نشانات: 40



1- مقاصد کی بنا پر نشانات کی تقسیم

نمبر شمار	مقاصد	فیصد	سوالات کی تعداد	نشانات
1	معلومات	25%	08	10
2	ادراک / تفہیم	45%	12	18
3	اطلاق / اظہار	20%	03	08
4	مہارت / مدح	10%	01	04
5	جملہ	100%	24	40

* زباندانی: 1- معلومات، 2- تفہیم، 3- اظہار، 4- مدح * بنیادی مضامین: 1- معلومات، 2- ادراک، 3- اطلاق، 4-

مہارت

2- سوالات کی بنیاد پر نشانات کی تقسیم

نمبر شمار	نوعیت	فیصد	سوالات کی تعداد	نشانات
1	معروضی	30%	12	12
2	مختصر جوابی	50%	10	20
3	تفصیلی	20%	2	8
4	جملہ	100%	24	40

4۔ اسباق / یونٹ کی بنیاد پر نشانات کی تقسیم

نمبر شمار	اسباق / یونٹ کے نام	سوالات	نشانات	فیصد
1	رقم کی جمع اور تفریق	03	04	10
2	لمبائی	03	04	10
3	پیمائشات	03	04	10
4	حجم کا ناپ	03	04	10
5	وقت	06	10	25
6	مفروضات کا استعمال	02	06	15
7	نمونہ اور تشاکل	01	02	05
8	ٹیا نگر اس اور نقوش	01	02	05
9	ٹھوس اشکال	02	04	10
جملہ		24	40	100

Prepared by :Nilofer Inamdar(GUHPS Jumnal vijaypur)

[Type text]

تلخیصی قدر پیمائی۔ دوم ششماہی 2024-25



SUMMATIVE ASSESSMENT II

بلو کا خاکہ Blue's Print

جماعت: چہارم 4 مضمون: علم ریاضی نشانات: 40

نمبر شمار	اکائیاں	معلومات			تفہیم / ادراک			اطلاق			مہارت			جملہ	
		معرو ضی	مختصر	تفصیلی	معرو ضی	مختصر	تفصیلی	معرو ضی	مختصر	تفصیلی	معرو ضی	مختصر	تفصیلی	سوالا ت	نشانا ت
1	رقم کی جمع اور تفریق	2(1)	1(2)											03	04
2	لمبائی	2(1)				1(2)								03	04
3	پیمائش	2(1)				1(2)								03	04
4	حجم کا ناپ				2(1)			1(2)						03	04
5	وقت	1(2)			4(1)									06	10
6	مفروضات کا استعمال					1(2)		1(4)						02	06
7	نمونہ اور تشاکل							1(2)						01	02
8	ٹیا نگر اس اور نقوش					1(2)								01	02
9	ٹھوس اشکال					1(2)		1(2)						02	04
	جملہ	6(6)	2(4)		6(6)	4(8)	1(4)	4(8)	1(4)	4(8)				24	40
			8(10)		11(18)	4(8)				1(4)					

SUMMATIVE ASSESSMENT II

تلخیصی قدر پیمائی۔ دوّم ششماہی 2024-25

نمونتا سوالی پرچہ

وقفہ: 90 منٹ

نشانات: 40

مضمون: علم ریاضی

جماعت: چہارم 4

مورخہ:

طالب علم کا نام: _____ اسکول: _____

سوال نمبر 1۔ درج ذیل خالی جگہوں کو مکمل کرو۔

$$6 \times 1 = 6$$

(1) 6.25 روپے _____ پیسے

(2) 500 پیسے _____ روپے

(3) 6 میٹر _____ سنٹی میٹر

(4) 12 میٹر 16 سنٹی میٹر _____ سنٹی میٹر

(5) 1 کلو گرام _____ گرام

(6) 3000 گرام _____ کلو گرام

سوال نمبر 2: جوڑ لگاؤ

$$6 \times 1 = 6$$

[Type text]

جواب	ب	ا
	16:50-a	1-1 لیٹر 200 ملی لیٹر
	1200-b ملی لیٹر	2- سال کبیسہ
	12-C مہینے	3-9 لیٹر
	900-D ملی لیٹر	4-شام 4.50
	E- فروری کے 29 دن	5-13:00 گھنٹے
	1pm-F	6-1 سال
	4-G گھنٹے	

$$10 \times 2 = 20$$

سوال نمبر 3: درج ذیل کو حل کرو

(1) ایک کٹھ پتلی کی قیمت 45 روپے ہو تو 3 اس طرح کے کٹھ پتلیوں کی قیمت کیا ہوگی؟

(2) 9 میٹر اور 10 میٹر کو سنٹی میٹر میں تحويل کرو

(3) جمع کرو

(2) 249 کلو گرام

(1) 34 کلو گرام

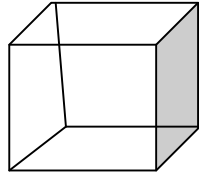
136 کلو گرام

12 کلو گرام

(4) آئینہ 3 لیٹر 500 ملی لیٹر مٹی کا تیل خریدتی ہے اس میں 2 لیٹر 280 ملی لیٹر مٹی کا تیل استعمال کرتی ہے۔ بقیہ تیل کی مقدار کیا

ہے؟

5) سال کبیسہ کسے کہتے ہیں؟



6) اس مکعب کے چہرے، کنارے اور راس کتنے ہیں؟

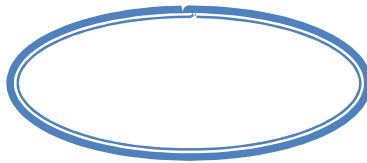
7) دئے گئے نمونوں کو مکمل کرو۔

1) 100, 80, 60, 40,

2) 1, 2, 4, 8, 16,

8) 9 کا ضربی پہاڑا لکھو۔

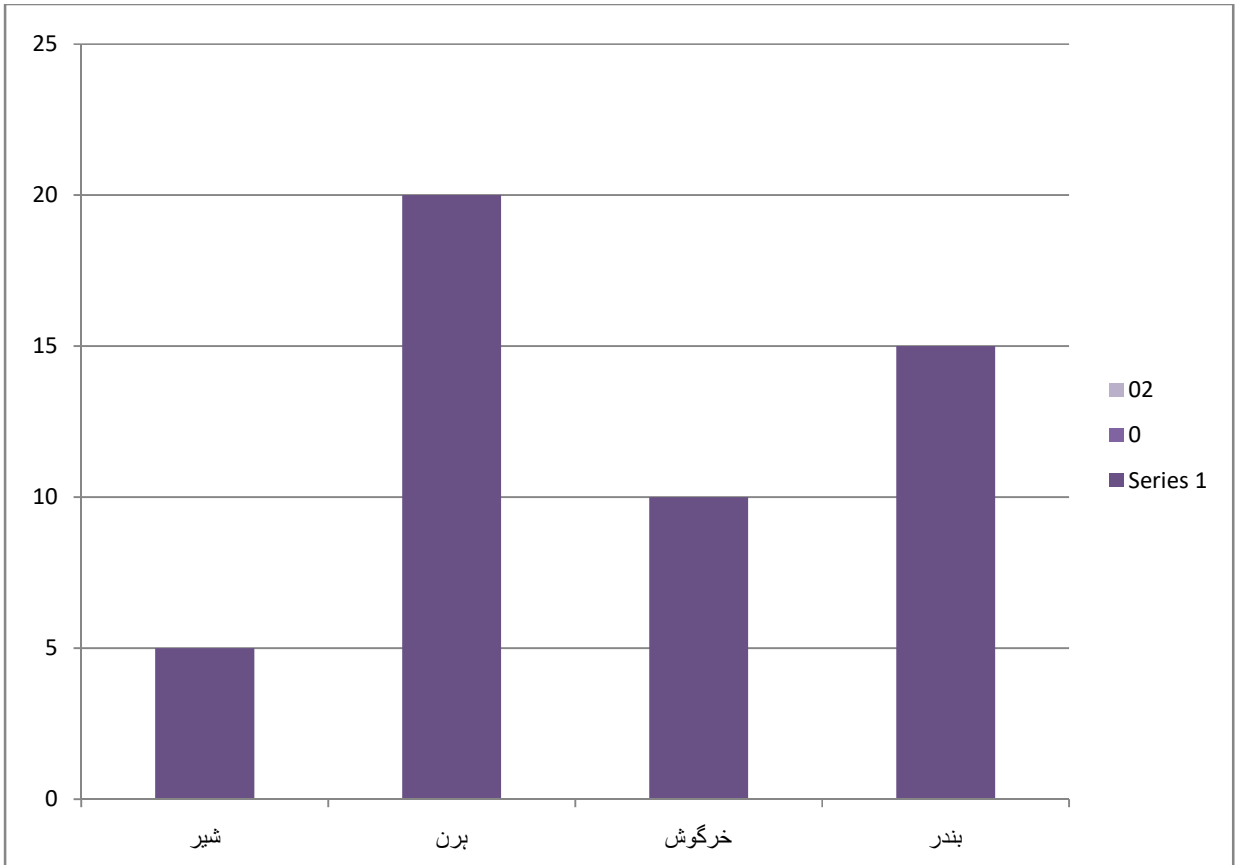
9) درج ذیل میں تشاکلی مورین کھینچئے۔



10) کرہ سے مشابہت رکھنے والے چند اشیاء کے نام لکھو؟

سوال نمبر 4: درج ذیل ستونی ترسیم میں ایک چڑیا گھر میں موجود جانوروں کی تعداد دی گئی ہے ترسیم میں موجود تفصیلات کو لکھو۔

$$2 \times 4 = 8$$



[Type text]

2- ایک ہوائی جہاز کے پہنچنے کا وقت 20-00 گھنٹے بتلایا گیا ہے، اس وقت کو 12 گھنٹوں کی گھڑی میں شکل کے ذریعے بتائیے؟

جوابی پرچہ

1000 گرام (5)

12.16 cm (4)

600 سنٹی میٹر (3)

5 روپے (2)

سوال (1:1) 625 پیسے

(6) 3 کلوگرام

سوال 2:

1.b 2.e 3.d 4.a 5.f 6.c

سوال 3:

1) $45 \times 3 = 135$

2) $9m = 900cm, 10m = 10000cm$

3) $46kg, 385kg$

4) $3.500ml - 2.280ml = 1.220ml$

(5) جس سال فروری مہینے کے 29 دن ہو تو اس سال کو سہل کبیسہ کہتے ہیں۔ سہل کبیسہ ہر چار سال میں ایک مرتبہ آتا

ہے۔

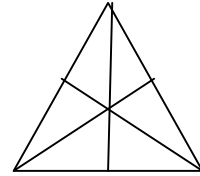
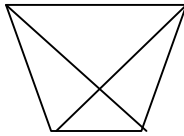
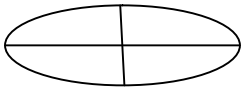
(6) اس مکعب کے چہرے۔ 6، کنارے۔ 12، راس۔ 8 ہیں

7) $100, 80, 60, 40, \dots, 20$

$1, 2, 4, 6, 8, 16, \dots, 32$

8) $9 \times 1 = 9, 9 \times 2 = 18, 9 \times 3 = 27, 9 \times 4 = 36, 9 \times 5 = 45, 9 \times 6 = 54, 9 \times 7 = 63, 9 \times 8 = 72, 9 \times 9 = 81, 9 \times 10 = 90$

(9)



(10) گلوب، گولی، فٹ بال، کرکٹ بال وغیرہ۔

سوال (4) (1) دئے گئے گراف میں شیر کی تعداد۔ 5، ہرن۔ 20، خرگوش۔ 10، بندر۔ 15 ہیں

2) 20.00 گھنٹے کو 12 گھنٹے کی گھڑی میں درج ذیل سکل کی طرح ظاہر کرتے ہیں۔



shutterstock.com · 667734

زبانی سوالات

نشانات: 10

مضمون: علم ریاضی

جماعت: 4

- 1) 100 پیسوں کے کتنے روپے ہوتے ہیں؟
- 2) 1000 ملی لیٹر کو لیٹر میں تبدیل کرو؟
- 3) اگر آپ کسی دکان سے 5 کلوگرام چاول اور 10 کلوگرام شکر لاتے ہیں تو کل کتنے کلوگرام ہوئے؟
- 4) آنے والے سالوں میں کونسا سال کبیسہ ہوگا؟
- 5) 24 گھنٹے والی گھڑی کا استعمال کون کون سے جگہ ہوتا ہے؟
- 6) آپ کے اسکول کی چھٹی کے وقت کو 24 گھنٹے والی گھڑی میں بتائیے؟
- 7) چند مستوی اشکال کے نام بتائیے؟
- 8) چند ٹھوس اجسام کے نام بتائیے؟
- 9) مثلث میں کتنے تشاکلی محور ہوتے ہیں؟
- 10) کرہ میں کل کتنے کنارے ہوتے ہیں؟



2024-25
BLUE - PRINT

مجموعی قدر و پیمائی - 2

نیلہ خاکہ

جماعت :- چوتھی جماعت

موضوع :- اردو زبان

جملہ نشانات	جملہ سوالات	مدح			اظہار			تفہیم			معلومات			اسباق کے نام	شمار نمبر
		LA	SA	O	LA	SA	O	LA	SA	O	LA	SA	O		
5	2	1(4)	-	-	-	-	-	-	-	-	-	-	1(1)	ہمارا جسم ایک حیرت انگیز مشین	1
3	2	-	-	-	-	-	-	-	-	1(1)	-	1(2)	-	ٹرائفک کے اصول	2
3	2	-	-	-	-	-	-	-	1(2)	-	-	-	1(1)	نقل و حمل اور پیغام رسانی	3
1	1	-	-	-	-	-	-	-	-	1(1)	-	-	-	بدلتے ہوئے کنبے	4
3	2	-	-	-	-	-	1(1)	-	-	-	-	1(2)	-	گھر --- بچہ کا پہلا مدرسہ	5
3	2	-	-	-	-	-	1(1)	-	1(2)	-	-	-	-	ہر شخص منفرد ہے	6
7	3	-	-	-	1(4)	-	-	-	1(2)	1(1)	-	-	-	پیشے اور ان کی اہمیت	7
4	2	-	-	-	-	1(2)	-	-	-	-	-	1(2)	-	خوشیوں کے تہوار	8
2	2	-	-	-	-	-	-	-	-	1(1)	-	-	1(1)	کھوکھو۔ ایک کھیل	9
1	1	-	-	-	-	-	-	-	-	-	-	-	1(1)	سہولتوں کا سدھار	10
3	2	-	-	-	-	1(2)	-	-	-	-	-	-	1(1)	لباس کی قسمیں	11
4	1	1(4)	-	-	-	-	-	-	-	-	-	-	-	بادل کا سفر	12
1	1	-	-	-	-	-	-	-	-	1(1)	-	-	-	ہماری ریاست۔ ہماری نشان	13
40	23	2(4)	-	-	1(4)	2(4)	2(2)	-	3(6)	5(5)	-	3(6)	5(5)	جملہ	
		2(8)			5(10)			8(11)			8(11)			جملہ	

نوٹ :- قوسین کے اندر نشانات اور باہر سوالات کی تعداد درج ہے۔

15) آپ کے گھر میں منائے جانے والے کوئی دو منڈ ہی تہواروں کے نام لکھئے؟

جواب:-----

16) آپ میں پائی جانے والی کوئی دو مخصوص صلاحیت لکھئے؟

جواب:-----

17) ہاتھی کون کونسے کاریگروں کو پاس گیا؟

جواب:-----

18) مدرسے میں قومی پرچم کب لہرایا جاتا ہے؟

جواب:-----

19) مختلف کھیلوں کے نام لکھئے؟

جواب:-----

20) ریاست کرنائک کے روایتی لباس کونسے ہیں؟

جواب:-----

4X3=12

5 - ان سوالوں کے مختصر جوابات لکھئے:-

21) تصویر میں دئے گئے اعضاء کے نام اور ان کے فعل خالی جگہوں میں لکھئے؟



22) مختلف کام کرنے والوں کے تصاویر دی گئی ہے۔ یہ کون ہیں خالی جگہوں میں لکھئے؟



23) دئے گئے تصاویر میں کیا کام ہو رہا ہے لکھئے؟



جوابی پرچہ

- (1) لال (2) ٹھہرو (3) ریل گاڑی (4) گھر میں موجود افراد کی تعداد
- (5) صحیح (6) غلط (7) صحیح
- (8) 2 اکتوبر (9) بیرونی کھیل (10) چارلس بانچ (11) سویٹر (12) ہوا کی آلودگی
- (13) اشاراتی قلموں میں 3 رنگ ہوتے ہیں۔
- (14) بیل ، اُنٹ ، گھوڑا وغیرہ
- (15) عید الفطر، عید الاضحیٰ، محرم ، میلاد النبی - وغیرہ
- (16) مصوری کرنا۔ کوئی بھی کھیل کھیلنا، اداکاری کرنا۔ موسیقی وغیرہ
- (17) ہاتھی مدد مانگنے کے لئے حلوائی کارپینٹر لوہار اور کمہار کے پاس گیا۔
- (18) ہمارے مدرسے میں یوم جمہوریہ یوم آزادی اور کنزاجیسے تہواروں پر قومی پرچم لہراتے ہیں۔
- (19) کھوکھو، کبڈی، کرکٹ، والی بال، شطرنج، فٹ بال، وغیرہ
- (20) ریاست کرناٹک میں مردوں کے لئے دھوتی قمص اور تولیہ اور عورتوں کے لئے ساڑھی لہنگا اور ٹنی ہیں
- (21) دانت۔ غذا کو چبانے کے لئے۔ دل۔ ہمارے سارے جسم کو خون پہنچاتا ہے۔ گردے۔ خون کو صاف کرتا ہے۔
- معدہ۔ غذا کو ہضم کرتا ہے۔
- (22) لکڑے ہار ڈیانسر درزی پولیس مین
- (23) سورج سے گرمی پڑ رہی ہے۔ بارش کے بادل چھائے ہوئے ہیں۔ ہوائیں چل رہی ہیں۔ بارش ہو رہی ہے۔

زبانی سوالاتی پر حپ

1x10=10

درجہ ذیل سوالات کے جوابات زبانی بولتے:-

- (1) ہمارا قومی پرندہ کونسا ہے؟
- (2) ہمارا ریاستی پھول کونسا ہے؟
- (3) دل کی ڈھکن کی جانچ کرنے والے آلہ کونسا ہے؟
- (4) ہمارا قومی پھول کونسا ہے؟
- (5) ہماری ریاست کونسی ہے؟
- (6) گول گنبد کہاں پر واقع ہے؟
- (7) قوس قزح میں کتنے رنگ ہوتے ہیں؟
- (8) چھوٹے کنپے میں کتنے افراد ہوتے ہیں؟
- (9) ٹیلی ویژن کا موجد کون ہے؟
- (10) پیدل چلنے والوں کو سڑک کہاں پار کرنی چاہیے؟

جوابات

- (1) مور (2) کنول (3) استھینسکوپ (4) ہاکی (5) کرناٹک
- (6) وجے پور (7) 7 رنگ (8) 4 لوگ (9) جان لوگی بیرڈ (10) زیبرہ کراسنگ پر

تیار کردہ معلمہ :-

سُسمیہ بانو پٹیل معاون معلمہ

سرکاری اردو ہائیر پرائمری بائیس اسکول کرے بلچی

چنگری تعلقہ دو انگرے ضلع



BLUE PRINT

SUBJECT: ENGLISH

Model Question Paper

MARKS: 40

STD: IVth

SI No	LESSON'S NAME	KNOWLEDGE			COMPREHENSION			EXPRESSION			APPRECIATION			NO OF QUESTIONS	TOTAL MARKS
		V.S.A	S.A	L.A	V.S.A	S.A	L.A	V.S.A	S.A	L.A	V.S.A	S.A	L.A		
1	Hobbies	1(1)	2(4)							1(4)	1(1)			5	10
2	Farming				1(1)				2(4)		1(1)			4	06
3	Profession	1(1)	1(2)					1(1)	1(2)					4	06
4	Art	1(1)			1(1)			1(1)			1(1)	2(4)		6	08
5	Adventure	1(1)				2(4)	1(4)	1(1)						5	10
TOTAL		4(4)	3(6)	----	2(2)	2(4)	1(4)	3(3)	3(6)	1(4)	1(3)	2(4)	---	24	40

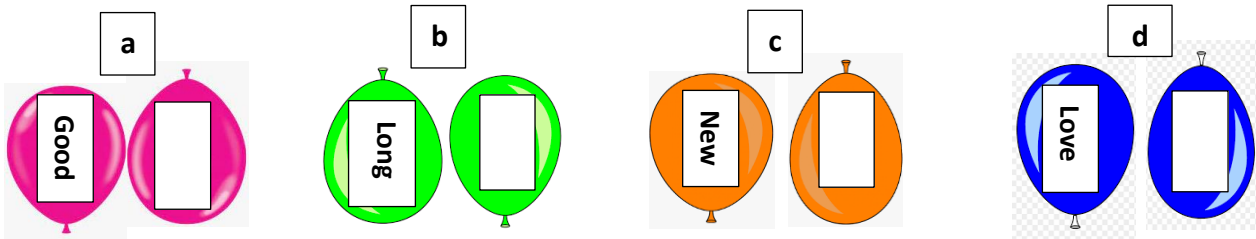
NOTE: Numbers in brackets indicates the MARKS and numbers outside indicates the QUESTIONS.

Name: _____ Roll No: _____ School: _____


Q no I: Write the answers for the following questions .

1X12=12

1.Fill in the blanks in the balloons with their opposites.



2. Link the pictures with their cries or utterances.



Hisses Bleats
Roars Barks

3.match the column A and B

A	B
i) He dances.	a) Guitarist
ii) Mohan plays on the guitar.	b) I am a singer
iii) I sing songs	c) we are painters
iv) We paint pictures.	d) He is a dancer

II. Answer the following questions.

2X10=20

1. When does the balloon man come to sell his balloons?

Ans: _____

2. What different colours of the balloons does the balloon man sell?

Ans: _____

3. Complete the following sentences by correcting jumbled spelling words given in the brackets.

a) The ink is as red as _____ (olobd)

b) Sketching is my _____ (bohyb)

4. Circle the word which means the same as the given word.

a) Sketch = write, read, draw

b) Enchanting = Singing, dancing, flying

5. Fill in the blanks to get the names of the musical instruments.



T _ b _ _ a



V _ o _ i _




H _ r m _ n _ _ m



G _ i _ a _

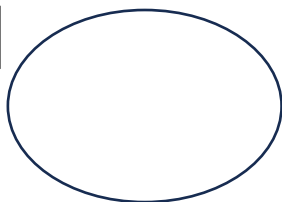
6. Colour the pictures.



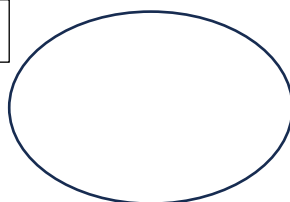
7. Write the words in circles A and B based on their sounds.

Cat den mat men fat bat hen pen

a



b



8. Devide the words into two groups with 'Sh' and 'Ch' sounds and write it on whiteboards given below.

Short, shell, shine

Cherry, chair, cheap

Rich, crush



9. Select the right answer.

The colour of the cow was _____

a)black b) brown c)black and brown

The little lamb had _____

a) silk b) cotton c)wool

10.Hanumantha asked the sheep to call him _____

a)master b)boss c) friend

The sheep wanted Hanumantha to _____

a)shear the wool b)give them food c)sell them at the market

III:Answer the following.

4X2=8

1.Add '-er' or '-r' to the doing words below to make new words.


1- fight _____ 2-dance _____

3- speak _____ 4- ride _____

5- write _____ 6- joke _____

7- sing _____ 8- play _____

2.Complete the birthday invitation given below by filling the gaps with appropriate prepositions.



ORAL QUESTION PAPER MARKS-10

Q no I: Answer the following questions.

A. Look at the picture and guess the sports name.

1X3=3




B. Teacher says these words. Listen and put them under the right box.

1X3=3

tear, mere, mare, pair, year, dear, fare,
hear, near, chair, clear. ear, air

A

B



C-Read the riddles and find the answers.

2X2=4

1. I am in the vegetable group
I grow under the ground
I can be eaten raw or cooked
I help keep eyes healthy
I am orange in colour
Who am I? _____

2. I am in the fruit group
I am a type of citrus fruit
You can squeeze me to make juice
I am the same colour as my name
Who am I? _____

WRITTEN QP ANSWERS

I:1-a) bad b) short c) old d) hate

2- a) barks b) roars c) hisses d) bleats

3- i- d ii- a iii- b iv- c

II:1) The balloon man comes on every market day to sell his balloons.

2) The balloon man sells balloons of red,purple,green and blue colours.

3-a) blood b) hobby

4- a) draw b) singing

5- Tablaa Violin Harmonium Guitar

6-.Colour the pictures.

7-a) cat ,mat,fat,bat b) hen,pen,men,den

8- a) short, shell, shine. Crush b) cherry ,chair, cheap, rich

9- a) brown b) wool

10- a) friend b) shear the wool

III: 1- fighter 2-dancer 3- speaker 4- rider 5-writer 6-joker 7-singer 8-player

2-to,on,at,in.

ORAL QP ANSWERS

A) Skating, rope walking,bungee jumping

B) A-tear,mere.dear,year,near,hear ,ear B- mare,pair,fair,chair,clear,air

C) 1-Carrot 2-Orange



2ನೇ ಸಂಕಲನಾತ್ಮಕ ಪರೀಕ್ಷೆ 2024-25

ದ್ವಿತೀಯ ಭಾಷೆ ಕನ್ನಡ

ತರಗತಿ : 4

ಪ್ರಶ್ನೆಪತ್ರಿಕೆ ತಯಾರಕರು :

ಐ.ಬಿ. ಗಜಕೋಶ

ಡಿ.ಟಿ.ಪಿ :

ಇಸ್ಮಾಯಿಲ್ ಖಾನ್

ಸ.ಉ.ಹಿ.ಪ್ರಾ.ಶಾಲೆ ಚಿಕ್ಕಪೇಟೆ ಸೊರಬ ಶಿವಮೊಗ್ಗ

2ನೇ ಸಂಕಲನಾತ್ಮಕ ಪರೀಕ್ಷೆ 2024-25

ಶಾಲೆ : ಸರ್ಕಾರಿ ಉರ್ದು ಹಿರಿಯ ಪ್ರಾಥಮಿಕ ಶಾಲೆ ಚಿಕ್ಕಪೇಟೆ ಸೊರಬ

ವಿದ್ಯಾರ್ಥಿ ಹೆಸರು : _____ ತರಗತಿ : 4 ದಿನಾಂಕ :

ವಿಷಯ : ಕನಡ

ಅಂಕ : 40

ಸಮಯ : 90 ನಿಮಿಷ

ಪ್ರಶ್ನೆ 1 : ಈ ಕೆಳಗಿನ ಬಿಟ್ಟ ಸ್ಥಳಗಳಲ್ಲಿ ಕೆಳಗೆ ಕೊಟ್ಟಿರುವ ಸೂಕ್ತ ಪದಗಳನ್ನು ಸೇರಿಸಿ ಬರೆಯಿರಿ.

(ಅರ್ಜಿಯೇ , ಹಿರಿಮಾವ , ಶುಭೋದಯ , ಮಕ್ಕಳು , ಬರಹ)

5x1=5

- 1) ಶಿಕ್ಷಕರು ತರಗತಿ ಪ್ರವೇಶಿಸಿದ ತಕ್ಷಣ ಮಕ್ಕಳಿಗೆ _____ ಹೇಳಿದರು.
- 2) ಅನುಮತಿಗಾಗಿ ಬರೆಯುವ _____ ರಜಾ ಅರ್ಜಿ.
- 3) ನಾಲ್ಕನೇ ತರಗತಿಯ _____ ಶಿಕ್ಷಕರೊಂದಿಗೆ ಪ್ರವಾಸಕ್ಕೆ ಹೊರಟರು.
- 4) ಬೇಬಿ , ಬೇಬಿ , ಮಕ್ಕಳು _____ ಇರಬೇಕಮ್ಮ ಹೇಗೆ?
- 5) ನಾನು ನಿಮ್ಮೆಲ್ಲರ _____

ಪ್ರಶ್ನೆ 2 : ಕೆಳಗಿನ ಪ್ರಶ್ನೆಗಳಿಗೆ ಒಂದು ವಾಕ್ಯದಲ್ಲಿ ಉತ್ತರಿಸಿರಿ.

5x1=5

6) ಶಿಕ್ಷಕರು ಮಕ್ಕಳಿಗೆ ಯಾವ ಆಟ ಆಡಿಸುವುದಾಗಿ ಹೇಳಿದರು?

ಉತ್ತರ : _____

7) ಸಲೀಂ ಅಲಿ ಯಾವಾಗ ಮತ್ತು ಎಲ್ಲಿ ಜನಿಸಿದರು?

ಉತ್ತರ : _____

8) ಗಾಳಿಪಟವು ಯಾರ ಕೈಯಲ್ಲಿ ಇತ್ತು?

ಉತ್ತರ : _____

9) ವಿದ್ಯಾರ್ಥಿಗಳು ಯಾರಿಗೆ ರಜಾ ಅರ್ಜಿ ಬರೆಯಬೇಕು?

ಉತ್ತರ : _____

10) ಮಕ್ಕಳು ಯಾವ ಊರಿಗೆ ಪ್ರವಾಸಕ್ಕೆ ಹೊರಟರು?

ಉತ್ತರ : _____

ಪ್ರಶ್ನೆ 3 : (ಅ) - ಹೊಂದಿಸಿ ಬರೆಯಿರಿ.

3 X 1=3

11 ದ.ರಾ. ಬೇಂದ್ರೆ --- ದೀಪ _____

12 ಅರಳುವ --- ಅಂಬಿಕಾತನಯ ದತ್ತ _____

13 ಬೆಳಗುವ --- ಹೂವು _____

(ಬ) ಈ ಕೆಳಗಿನ ಪದಗಳಿಗೆ ವಿರುದ್ಧಾರ್ಥಕ ಪದ ಬರೆಯಿರಿ.

3 X 1=3

14 ಜಯ x _____

15 ಶತ್ರು x _____

16 ವಿರೋಧ x _____

ಪ್ರಶ್ನೆ 4 : ಈ ಪದ್ಯವನ್ನು ಪೂರ್ಣಗೊಳಿಸಿರಿ

1 X 4 = 4

- 17) ಬೇಬಿ ಬೇಬಿ _____

_____ ತೋಟದ ಹಾಗೆ
ಬೇಬಿ ಬೇಬಿ _____

_____ ಸಾಲಿನ ಹಾಗೆ

ಪ್ರಶ್ನೆ 5 : ಈ ವಾಕ್ಯಗಳು ಯಾರು ಯಾರಿಗೆ ಹೇಳಿದರು.

2 X 2 = 4

18) “ ಮಕ್ಕಳೇ,ನಾನು ನಿಮಗೆ ಈ ದಿನ ಪದಗಳ ಆಟ ಆಡಿಸುತ್ತೇನೆ “

ಯಾರು ಹೇಳಿದರು : _____

ಯಾರಿಗೆ ಹೇಳಿದರು : _____

19) “ ಊರನ್ನು ಶತ್ರುಗಳಿಂದ ರಕ್ಷಿಸಲು ಕೋಟಿಯನ್ನು ಕಟ್ಟಿದ್ದಾರೆ “

ಯಾರು ಹೇಳಿದರು : _____

ಯಾರಿಗೆ ಹೇಳಿದರು : _____

ಪ್ರಶ್ನೆ 6 : ಈ ಕೆಳಗಿನ ಪ್ರಶ್ನೆಗಳಿಗೆ ಎರಡು ಮೂರು ವಾಕ್ಯಗಳಲ್ಲಿ ಉತ್ತರಿಸಿರಿ....

4 X 2 = 8

20) ಯಾವ ಪರಂಪರೆಯನ್ನು ಬೆಳೆಸುವುದು ನಮ್ಮ ಕರ್ತವ್ಯ?

ಉತ್ತರ : _____

21) ಪುಟ್ಟನು ಗೆಲೆಯರಿಗೆ ಜಂಭದಿಂದ ಏನನ್ನು ಹೇಳಿದನು?

ಉತ್ತರ : _____

22) ಮದ್ದಿನ ಮನೆಯನ್ನು ಏಕೆ ನಿರ್ಮಿಸಿದ್ದಾರೆ?

ಉತ್ತರ : _____


23) ತೆಂಗಿನ ಮರ ಕಲ್ಪವೃಕ್ಷ ಹೇಗೆ?

ಉತ್ತರ : _____

ಪ್ರಶ್ನೆ 7 : 24) ನಿಮ್ಮ ಮನೆಯಲ್ಲಿ ಅಣ್ಣನ ಮದುವೆ ಕಾರ್ಯಕ್ರಮ ಇರುವುದರಿಂದ 2 ದಿನದ ರಜೆಯನ್ನು ಪಡೆಯಲು ಮುಖ್ಯ ಶಿಕ್ಷಕರಿಗೆ ರಜಾ ಪತ್ರ ಬರೆಯಿರಿ....

1 X 4 = 4

ಪ್ರಶ್ನೆ 8 : 25) ಈ ಕೆಳಗಿನ ಚಿತ್ರವನ್ನು ನೋಡಿ ಈ ಸಸ್ಯದಲ್ಲಿರುವ ಐದು ಎಲೆಗಳನ್ನು ಗುರುತಿಸಿ ಅವುಗಳ ಹೆಸರುಗಳನ್ನು ಬರೆಯಿರಿ... 1 X 4 = 4



2ನೇ ಸಂಕಲನಾತ್ಮಕ ಪರೀಕ್ಷೆ 2023-24

ವಿಷಯ : ಕನ್ನಡ

ಅಂಕ : 10

- 1) ತೆಹಿನಾ ಯಾರು?
- 2) ಗಾಳಿಪಟ ಯಾರ ಪಾಲಾಯಿತು?
- 3) ಬಿದಿಗೆ ಎಂದರೇನು?
- 4) ಶ್ರೀರಂಗಪಟ್ಟಣವೂಯಾವ ಜಿಲ್ಲೆಯಲ್ಲಿದೆ?
- 5) ಪ್ರೀತಿಯ ಟೀಚರ್ ಹೇಗಿರಬೇಕು?
- 6) ನಿನಗೆ ಇಷ್ಟವಾದ ಹಣ್ಣು ಯಾವುದು?
- 7) ಕಾಮನ ಬಿಲ್ಲಿನಲ್ಲಿ ಎಷ್ಟು ಬಣ್ಣಗಳಿವೆ? ಯಾವುವು?
- 8) ದ.ರಾ ಬೇಂದ್ರೆಯವರು ಹುಟ್ಟಿದ ಊರು ಯಾವುದು?
- 9) ನೀನು ನೋಡಿದ ಐತಿಹಾಸಿಕ ಸ್ಥಳಗಳಾವುವು?
- 10) ನಿನಗೆ ಗೊತ್ತಿರುವ 5 ಗಿಡ ಮರಗಳ ಹೆಸರು ಹೇಳು?

ಉತ್ತರ ಪತ್ರಿಕೆ

- 1) ತೆಹಿನಾ ಸಲೀಂ ಅಲಿಯವರ ಹೆಂಡತಿ.
- 2) ಗಾಳಿಪಟವು ಎಲ್ಲರ ಪಾಲಾಯಿತು.
- 3) ಅಮಾವಸ್ಯೆಯ ಅನಂತರದ ಎರಡನೇಯ ದಿನ.
- 4) ಶ್ರೀರಂಗಪಟ್ಟಣವು ಮಂಡ್ಯ ಜಿಲ್ಲೆಯಲ್ಲಿದೆ.
- 5) ಪ್ರೀತಿಯ ಟೀಚರ್ ಅಂಕಲ್ ಆಚಿಟಿ ತರಹ ಇರಬೇಕು.
- 6) ನನಗೆ ಇಷ್ಟವಾದ ಹಣ್ಣು ಮಾವಿನ ಹಣ್ಣು.
- 7) ಕಾಮನ ಬಿಲ್ಲಿನಲ್ಲಿ 7 ಬಣ್ಣಗಳಿವೆ. ಕೆಂಪು,ಹಳದಿ,ಹಸಿರು,ನೇರಳೆ ಮತ್ತು ಗುಲಾಬಿ
- 8) ದ.ರಾ ಬೇಂದ್ರೆ ಯವರು ಹುಟ್ಟಿದ ಊರು ಧಾರವಾಡ.
- 9) ಮಕ್ಕಳು ಇಷ್ಟವಾದ ಸ್ಥಳಗಳನ್ನು ಹೇಳುತ್ತಾರೆ.
- 10) ಬೇವಿನ ಮರ, ತೆಂಗಿನ ಮರ, ಪಪ್ಪಾಯ, ಆಲದ ಮರ ಮುಂತಾದವು.