

مجموعی تدریسی مسٹر دوّم 25-2024

سوالی پرچہ مع جوابی

مضمون: علم ریاضی

جماعت: سوّم

وقفہ: 90 منٹ

نشانات: 50



تیار کردہ: خواجہ معین الدین قاضی لنگسور

مجموعی قدر پیمائی سمسٹر دوّم 25-2024

جماعت: سوّم مضمون: علم ریاضی نشانات: 50 وقفہ: 90 منٹ تاریخ: _____

طالب علم کا نام: _____ رول نمبر: _____

اسکول کا نام: _____

$$2 * 7 = 14$$

سوال نمبر 1: دئے گئے چار متبادل جوابات میں سے صحیح جواب چن کر لکھئے۔

(1) $\frac{1}{4}$ حصے کی نشاندہی کریں۔





(2) مجموعہ معلوم کریں

250 (D) 200 (C) 100 (B) 50 (A)

(3) حاصل تفریق معلوم کریں۔

673

- 242

(4) کونسے مہینے میں 28 دن ہوتے ہیں؟

(A) جنوری (B) فروری (C) مارچ (D) اپریل

(5) 1 کلوگرام = _____

(D) 500 گرام

(C) 10 گرام

(B) 1000 گرام

(A) 100 گرام

(A)

(6) ذیل کی کونسی شے کو گرام میں پیمائش کرتے ہیں؟

(D) سمینٹ کی

(C) لفافہ

(B) گتے کے بٹل

(A) دھان کا ڈھیر

بوری

(7) تصویری سلسلہ مکمل کریں۔



(D)

(C)

(B)

(A)

$3 \times 5 = 15$

سوال نمبر 2 : ذیل کے سوالات کے جوابات دو یا تین جملوں میں لکھئے۔

جولائی 2022						
اتوار	پہلے	دو	تین	چار	پنچ	شنبہ
	1	2				
3	4	5	6	7	8	9
10	11	12	13	14	15	16
17	18	19	20	21	22	23
24	25	26	27	28	29	30
31						

(8) * کیلنڈر میں 13 جولائی کو نشانہ ہی کریں۔

• اس ماہ میں اتوار کی تعداد کتنی ہے؟



جواب: -----



(9) * ربر کی لمبائی ----- سم

• بھینڈی کی لمبائی ----- سم

• گاجر کی لمبائی ----- سم



(11) درج ذیل اعداد کو الفاظ میں لکھیں؟

_____ = 4328*

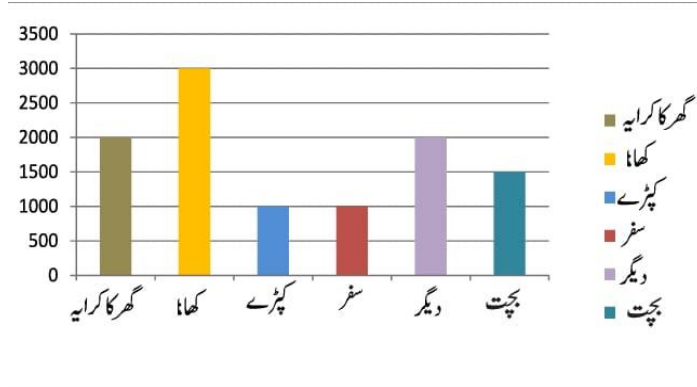
_____ = 3126*

(12) نکلناو جی کے کوئی 4 آلات کے نام لکھو؟

جواب:

4×1=4

سوال نمبر 3 زویا کے والد کے ایک ماہ کا خرچ ذیل کی طرح ہے۔ اس جدول کو غور کرتے ہوئے خانہ پری کریں۔



* گھر کے کرایا پر خرچ کی گئی رقم _____

* _____ کے لئے تین ہزار روپے خرچ کیے ہیں۔

* زویا کے والد کی کل آمدنی _____

* اس ماہ کا کل خرچ _____

* اس ماہ کا کل بچت _____

$$1 \times 7 = 7$$

1) $457 - 268$

2) $323 + 410$

3) 47×4

4) 24×6

5) $27 \div 3$

6) $32 \div 4$

7) $42 \div 6$

جوابی پرچہ

سوال نمبر 1



(A) (1)

250 (D) (2)

123 (A) (3)

فروری (B) (4)

1000 گرام (B) (5)

(C) (6) لفافہ



(C) (7)

سوال نمبر 2

جولائی 2022						
اتوار	پہ	منگل	چهار شنبہ	جمعرات	ہفت	ہفتہ
					1	2
3	4	5	6	7	8	9
10	11	12	13	14	15	16
17	18	19	20	21	22	23
24	25	26	27	28	29	30
31						

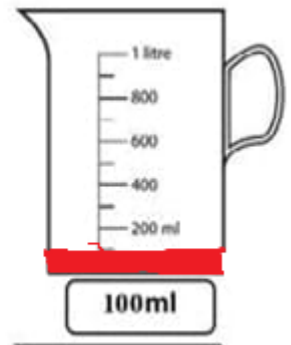

[8]

اس ماہ میں اتوار کی تعداد 5 ہے۔

[9] * ربر کی لمبائی 2 سم

- بھینڈی کی لمبائی 10 سم
- گاجر کی لمبائی 8 سم۔

[10]



[11] * 4328 = -- چار ہزار تین سو اٹھائیس

* 3126 = -- تین ہزار ایک سو چھتیس

12 کمپیوٹر

موبائل

روبوٹ

لیپ ٹاپ

سوال نمبر 3

* گھر کے کرایا پر خرچ کی گئی رقم -- 2000

* کھانے کے لئے تین ہزار روپے خرچ کیے ہیں۔

* زویا کے والد کی کل آمدنی -- 10500

* اس ماہ کا کل خرچ -- 9000

* اس ماہ کا کل بچت -- 1500

سوال نمبر 4:

(1) 189 (2) 733 (3) 188 (4) 144 (5) 9 (6) 8 (7) 7



زبانى سوالات مع جوابات

1*10=10

(1) دو سو روپے ميں تين سو روپے جمع کرنے پر کل رقم كيا هوكى؟

جواب: 500 روپے

(2) چار سو روپے ميں ميں ايک سو پچاس روپے هے كے خرچ کرنے پر بچت رقم كيا هوكى؟

جواب: 250 روپے

(3) نئے سال كا جشن كس تاريخ كو مناتے هيں؟

جواب: جنوري 1 تاريخ كو مناتے هيں

(4) ايک ميٹر كپڑے كى سينٲى ميٹر ميں لباى كيا هوكى؟

جواب: 100 سينٲى ميٹر۔

(5) ايک كلو ميٹر ميں كتنے ميٹر هوتے هيں؟

جواب: 1000 ميٹر

(6) ايک پنسل كى لباى دس سم هوتو تين پنسلوں كى لباى كتنى هوكى؟

جواب: - 30 سم

(7) اينٲ اور كنگھى ميں كون سى چيز زياده وزننى هے؟

جواب: اينٲ -

(8) ايک ليٲر سے زياده پانى سمانے والى كوئى ايک شے كا نام بتايئے؟

جواب: بالٲى

(9) ايک هفتے ميں كتنے دن هوتے هيں؟

جواب: 7

(10) ايک سال ميں كتنے مهينے هوتے هيں؟

جواب: 12

ضلع

تعلق

سرکاری اردو لوئر / پرائمری اسکول

دوم ششماہی امتحان سوالاتی پرچہ مارچ 2025

وقت: 90 منٹ

مارکس: 40

جماعت: III سوم

مضمون: اردو

نام:

1×4= 4

I مناسب جواب چن کر خانہ پوری کرو۔ { پرچم - مصوری - بہادر - ٹھنڈی }

1 آر کے لکشمین نے _____ کا مشغلہ جاری رکھا۔

2 علم کا _____ ہاتھ میں لے کر

3 زیادہ گرم یا زیادہ _____ غذا نہ کھائیں۔

4 ٹیپو سلطان رحمۃ اللہ علیہ نیک اور رحم دل اور _____ بادشاہ تھے۔

1×4= 4

II مناسب جواب چن کر درجہ ذیل کے اضداد لکھو۔ { بیرونی - فائدہ - شام - غریب }

5 امیر × _____

6 صبح × _____

7 نقصان × _____

8 اندرونی × _____

1×4= 4

III مناسب جواب چن کر درجہ ذیل کی جمع لکھو۔ { گھروں جانوروں اسباق نعمتوں }

9 جانور + _____

10 گھر + _____

11 نعمت + _____

12 سبق + _____

2×10= 2

IV درجہ ذیل سوالوں کے جواب دو یا تین جملوں میں لکھو

13 آر کے لکشمین کا پورا نام کیا ہے ؟

جواب:

14 راگی استعمال کے کوئی دو فائدے بتائیے ؟

جواب :

15 علم حاصل کرنے میں کس کی عزت ہے؟

جواب:

16 منہ سے بدبو آنے کی وجہ کیا ہے؟

جواب:

17 درختوں سے حاصل ہونے والے چند پھولوں کے نام بتائیے؟

جواب:

18 ٹیپو سلطان رحمۃ اللہ علیہ کا مشہور قول کیا ہے؟

جواب:

19 کم خرچ والی سواری کونسی ہے

جواب:

20 لوگ غریب آدمی کو کوئی کام کیوں نہیں دیتے تھے؟

جواب:

21 کواچونچ میں روٹی لانے کے بعد کیا کرتا ہے؟

جواب:

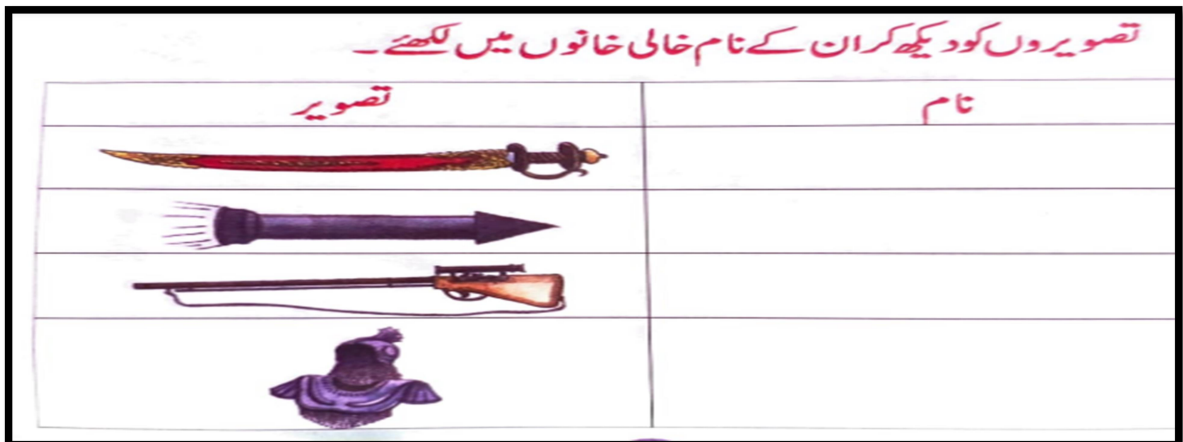
22 بزرگ فقیر نے بچے سے کیا کہا؟

جواب:

4×2= 8

V تفصیلی جواب لکھیے؟

23



دوم ششماہی امتحان مارچ 2025

جوابی پرچہ

مضمون: اردو جماعت: III سوم مارکس: 40 وقت: 90 منٹ

I مناسب جواب چن کر خانہ پوری کرو۔ (1)۔ مصوری (2) پرچم (3) ٹھنڈی (4) بہادر

II مناسب جواب چن کر درجہ ذیل کے اضداد لکھو۔ (5) غریب (6) شام (7) فائدہ (8) بیرونی -

III مناسب جواب چن کر درجہ ذیل کی جمع لکھو۔ (9) جانوروں (10) گھروں (11) نعمتوں (12) اسباق

IV درجہ ذیل سوالوں کے جواب دو یا تین جملوں میں لکھو۔

(13) آر کے لکشمین کا پورا نام راسی پورم کرشنا سوامی ایئر لکشمین ہے

(14) راگی استعمال سے جسم کو طاقت و قوت حاصل ہوتی ہے۔ شکر کی بیماری ذیابیطس کے مریضوں کے لئے یہ بے حد مفید ہے اس کے علاوہ راگی کو دوا کے طور پر بھی استعمال کیا جاتا ہے۔

(15) قوم کی عزت دولت اور حکمت علم ہی سے ہوتی ہے۔

(16) جب ہم رات میں کچھ کھاتے ہیں تو بہت سارے غذائی اجزاء ہمارے دانتوں کے درمیان پھنسے رہ جاتے ہیں۔ وہ غذائی اجزاء سڑنے لگتے ہیں۔ ان میں جراثیم پیدا ہوتے ہیں ان سے نہ صرف ہمارے منہ سے بدبو آتی ہے بلکہ ہمارے دانت بھی سڑھ جاتے ہیں

(17) ام امر دسیب سینتا پھل انگور انار کیلا پیتا

(18) "گیدڑ کی سو سالہ زندگی سے شیر کی ایک دن زندگی بہتر ہے"

(19) کم خرچ والی سواری ^{سکلیڈ} ہے

(20) لوگ غریب آدمی کو کوئی کام اس لئے نہیں دیتے تھے کہ وہ بہت کاہل تھا۔

21 کو اچوٹ میں روٹی لانے کے بعد کائیں کائیں کر کے سب کو بلاتا ہے

22 اے لڑکے --- تیری خوش نصیبی تجھے ایک دن ریاست کا حکمران بنائے گی اور جب وہ وقت آئے گا تو اس جگہ ایک ایسی عالی شان مسجد تعمیر کر جو زمانے میں تیری یادگار رہے۔

V تفصیلی جواب لکھیے؟

23 تلوار راکٹ بندوق زرہ بکتر

24 ترانہ علم نظم

دوم ششماہی زبانی امتحان مارچ 2025

مارکس: 10 وقت:

جماعت: III سوم

مضمون: اردو

I درجہ ذیل سوالوں کے جواب دو۔

- 1 آر کے لکشمین کون ہیں؟
- 2 کرناٹک میں زیادہ تر کس اناج کا استعمال ہوتا ہے
- 3 بچوں کے ہاتھ میں کیا ہونا چاہیے
- 4 ایک دن میں کتنے بار برش کرنا چاہیے
- 5 دو انیاں کس سے بنتی ہیں
- 6 ٹیپو سلطان کے والدین کا نام لکھئے
- 7 کس کا بوجھ اٹھاتی ہے
- 8 غریب آدمی نے کیا عہد کیا۔
- 9 کس پرندے میں بانٹ کر کھانے کی عادت ہوتی ہے
- 10 شکر کے مریضوں کے لئے کونسی غذا مفید ہے

زبانی سوالات کے جوابات

- 1 آر کے لکشمین ہندوستان کے ایک مشہور کارٹونسٹ ہیں
- 2 کرناٹک میں زیادہ تر راگی اناج کا استعمال ہوتا ہے
- 3 بچوں کے ہاتھ میں علم کا پرچم ہونا چاہیے
- 4 ایک دن میں دو بار برش کرنا چاہیے
- 5 دو انیاں پھلوں پتوں بیجوں جڑوں پھولوں چھالوں سے بنتی ہیں
- 6 ٹیپو سلطان کے والد حیدر علی اور والدہ فاطمہ بیگم تھیں
- 7 غریبوں کا بوجھ اٹھاتی ہے
- 9 کو ا پرندے میں بانٹ کر کھانے کی عادت ہوتی ہے
- 10 شکر کے مریضوں کے لئے راگی غذا مفید ہے



تلفیسی قدر پیمائی۔ ششماہی دوم 2025

وقتہ: 90 منٹ

نشانات: 40

مضمون: اردو

جماعت: III سوم

1۔ مقاصد کی بنا پر نشانات کی تقسیم

نمبر شمار	مقاصد	فیصد	سوالات کی تعداد	نشانات
1	معلومات	25%	06	10
2	ادراک / تفہیم	35%	10	14
3	اطلاق / اظہار	30%	07	12
4	مہارت / مدح	10%	01	04
5	جملہ	100%	24	40

* زبان دانی: 1۔ معلومات، 2۔ تفہیم، 3۔ اظہار، 4۔ مدح * بنیادی مضامین: 1۔ معلومات، 2۔ ادراک، 3۔ اطلاق، 4۔ مہارت

2۔ سوالات کی بنیاد پر نشانات کی تقسیم

نمبر شمار	نوعیت	فیصد	سوالات کی تعداد	نشانات
1	معروضی	33%	12	12
2	مختصر جوابی	47%	10	20
3	تفصیلی	20%	02	08
4	جملہ	100%	24	40

3۔ درجہ بندی کی سطح کی بنیاد پر نشانات کی تقسیم

نمبر شمار	درجہ بندی کی سطح	فیصد	سوالات کی تعداد	نشانات
1	آسان	30%	07	12
2	اوسط	40%	10	16
3	مشکل	30%	07	12
4	جملہ	100%	24	40



4۔ اسباق / یونٹ کی بنیاد پر نشانات کی تقسیم

نمبر شمار	اسباق / یونٹ کے نام	فیصد	سوالات	نشانات
1	آر کے لکشمین	10	03	04
2	راگی	10	03	04
3	ترانہ علم	17.5	03	07
4	دانتوں کی صحت اب اپنے ہاتھ	12.5	03	05
5	درختوں کی کہانی انہیں کی زبانی	10	03	04
6	ٹیپو سلطان رحمتہ اللہ علیہ	20	03	08
7		7.5	02	03
8	وقت کی قیمت	5	02	02
9	کوا	7.5	02	03
	جملہ	100%	24	40

دستخط میر معلم / معلمہ

دستخط معلم / معلمہ



blue's print نیلا نقشہ / بلو خاکہ

وقفہ: 90 منٹ

نشانات: 40

مضمون: اردو

جماعت: III سوم

جملہ		مدح/مہارت			اظہار/اطلاق			تفہیم/ادراک			معلومات			اکائیاں	نمبر شمار
نشانات	سوالات	تفصیلی	مختصر	معروضی	تفصیلی	مختصر	معروضی	تفصیلی	مختصر	معروضی	تفصیلی	مختصر	معروضی		
04	03						1(1)			1(1)		1(2)		آر کے کشمن	1
04	03						1(1)		1(2)	1(1)				راگی	2
07	03	1(4)							1(2)				1(1)	ترانہء علم	3
05	03								1(2)	1(1)		1(2)		دانتوں کی صحت اب اپنے ہاتھ	4
04	03					1(2)	1(1)			1(1)				درختوں کی کہانی انہیں کی زبانی	5
08	03				1(4)				1(2)			1(2)		ٹیپو سلطان رحمۃ اللہ علیہ	6
03	02					1(2)				1(1)					7
02	02						1(1)						1(1)	وقت کی قیمت	8
03	02									1(1)		1(2)		کوا	9
40	24		1(4)			7(12)			10(14)			6(10)		جملہ	10

نوٹ: قوس کے اندر نشانات اور قوس کے باہر سوالات کی تعداد درج ہے۔

دستخط میر معلم / معلمہ

دستخط معلم / معلمہ



سوم جماعت ماحولیاتی مطالعہ کا
مجموعی و تدریسی - 2 کا سوالاتی پرچہ
برائے سال (2024 - 25)

تیار کردہ :- امام عطار, معاون معلم : سرکاری اردو ہائیر پرائمری اسکول ہڈنگلی - وجے پور ضلع

مجموعی قدر پیمائی SA-2 سوالیہ مع جوابی پرچہ برائے سال (2024-25)

جماعت :- سوم مضمون :- ماحولیاتی مطالعہ مارکس :- 40 مورخہ :-

طالب علم کا نام :-

(1×6=6)

سوال 1 :- ان تصویروں کا مشاہدہ کرتے ہوئے صحیح جوڑ لگاؤ۔



پوسٹ مان

کرسمس

کمہار

ڈرائیور

اسپتال

گول گنبد

(1×6=6)

سوال 2 :- درج ذیل خاکوں پر غور کرتے ہوئے صحیح شمار نمبر لکھو۔



(2×10=20)

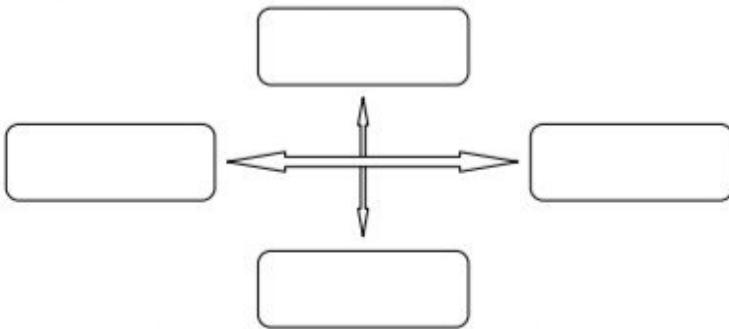
سوال 3 :- ان سوالوں کے جواب لکھئے۔

(1) چار سواریوں کے نام لکھو۔؟

(2) عید کے دن تمہارے گھر میں کون کون سے پکوان بنائے جاتے ہیں۔؟

(3) اپنے ساتھ اسکول لے جانے کے لئے ٹریا کے گھر کون آئے تھے۔؟

(4) چار سمتوں کے نام لکھو۔؟



(5) منگے کا استعمال کس لئے ہوتا ہے۔ لکھو۔؟

6) ایک خاندان کا خاکہ دیا گیا ہے۔ اس خاندان کے افراد کا نام لکھئے۔؟



7) یہ اشارے کیا بتا رہے ہیں۔ لکھو۔؟



8) میلے کو جا کر کون لوٹ آئی ہے۔؟

9) سنجری کس نے بنائی۔

10) منکے کس سے تیار کرتے ہیں۔؟

(4×2=8)

سوال 4 :- ان کے جواب لکھئے۔

1) یہاں اندرونی اور بیرونی کھیل کے نام لکھو۔ جنہیں تم کھیلتے ہو۔

اندرونی کھیل :

بیرونی کھیل :

2) صحیح جوڑ لگاؤ۔

علامت

1) ندی

2) گھر

3) درخت

4) سورج

تفصیلات





سوم جماعت ماحولیاتی مطالعہ کا

مجموعی و تدریسی -2 کا جوابی پرچہ

برائے سال (2024 - 25)

تیار کردہ :- امام عطار معاون معلم سرکاری اردو ہائیر پرائمری اسکول ہڈنگلی وجے پور ضلع

مجموعی قدر پیمائی SA-2 سوالیہ مع جوابی پرچہ برائے سال (2024-25)

جماعت :- سوم مضمون :- ماحولیاتی مطالعہ مارکس :- 40 مورخہ :-

جوابی پرچہ

(1×6=6)

سوال 1 :- ان تصویروں کا مشاہدہ کرتے ہوئے صحیح جوڑ لگاؤ۔



پوسٹ مان

کرسمس

کمہار

درائیور

اسپتال

گول گنبد

(1×6=6)

سوال 2 :- درج ذیل خاکوں پر غور کرتے ہوئے صحیح شمار نمبر لکھو۔



5

4

1

3

6

2

(2×10=20)

سوال 3 :- ان سوالوں کے جواب لکھئے۔

(1) چار سواریوں کے نام لکھو۔؟

کار بس ریل ہوائی جہاز پانی جہاز یکہ گاڑی

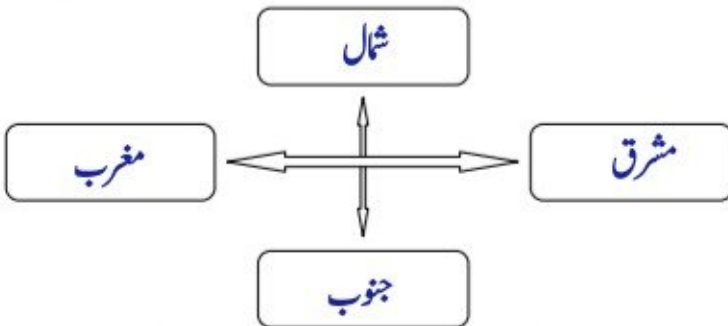
(2) عید کے دن تمہارے گھر میں کون کون سے پکوان بنائے جاتے ہیں۔؟

شیرخما بیرانی ریتا سالن مٹھائیاں

(3) اپنے ساتھ اسکول لے جانے کے لئے ثریا کے گھر کون آئے تھے۔؟

اپنے سات اسکول لے جانے کے لئے ثریا کے گھر سہلیاں آئے تھے۔

(4) چار سمتوں کے نام لکھو۔؟



(5) منگے کا استعمال کس لئے ہوتا ہے۔ لکھو۔؟

منگے کا استعمال گرمیوں میں ٹھنڈے پانی کو پینے کے لئے ہوتا ہے۔

6) ایک خاندان کا خاکہ دیا گیا ہے۔ اس خاندان کے افراد کا نام لکھئے۔



اپا



دادی



دادا



امی

7) یہ اشارے کیا بتا رہے ہیں۔ لکھو۔



یہ اشارہ سونے جانے کے لئے



یہ اشارہ پانی کے لئے

8) میلے کو جا کر کون لوٹ آئی ہے۔
میلے کو جا کر سلمہ لوٹ آئی ہے۔

9) سنجری کس نے بنائی۔
ڈراوڈ نے سنجری بنائی۔

10) منکے کس سے تیار کرتے ہیں۔
منکے مٹی سے تیار کرتے ہیں۔

(4×2=8)

سوال 4 :- ان کے جواب لکھئے۔

1) یہاں اندرونی اور بیرونی کھیل کے نام لکھو۔ جنہیں تم کھیلتے ہو۔
اندرونی کھیل : کیارم سٹرنج سانپ سبزی پتھر کا ٹھیل
بیرونی کھیل : کبڈی کھوکھو کرکٹ فٹ بال

2) صحیح جوڑ لگاؤ۔

تفصیلات



علامت

1) ندی

2) گھر

3) درخت

4) سورج

سرکاری اردو لوئرہائر پرائمری اسکول

مجموعی قدر پیمائی -2 برائے سال (2024-25)

مکس :- 10

مضمون :- ماحولیاتی مطالعہ

جماعت :- سوم

زبانی پرچہ

(1) کتب خانے میں کیا ہوتی ہیں بتاؤ۔	(6) تمہارے گھر میں منائے جانے والے تہوار کون سے ہیں بتاؤ۔
(2) تم دیکھتے ہوئے سواریوں کے نام بتاؤ۔	(7) تم گھر میں پڑھائی کب کرتے ہو بتاؤ۔
(3) خط ہمیں کون لاکر دیتے ہیں بتاؤ۔	(8) تم کون کون سے کھیل کھیلتے ہو بتاؤ۔
(4) تمہارے خاندان میں کتنے افراد ہیں بتاؤ۔	(9) ہم سب کہاں رہتے ہیں بتاؤ۔
(5) تمہارے پسندیدہ مشغلہ کون کون سے ہیں بتاؤ۔	(10) سورج سے ہمیں کیا حاصل ہوتی ہے بتاؤ۔

زبانی

شمار نمبر	طلباء و طالبات کے نام	سوالات کی تعداد									
		10	9	8	7	6	5	4	3	2	1
20		1	1	3	1	3	3	3	1	1	3

دستخط میر معلم

دستخط معلم :



SUMMATIVE ASSESSMENT – 2

2024-2025

CLASS: 3rd Std

PREPARED BY: MAHEJABEEN HALWAI

**SCHOOL: GOVT URDU HIGHER PRIMARY GIRLS
SCHOOL NAVALGUND, DHARWAD**

SECOND SUMMATIVE EXAMINATION : 2024-25

SCHOOL:

STUDENT NAME: ROLL NO:

SUBJECT: ENGLISH

CLASS : 3RD

MARKS: 40

I. READ THE WORDS GIVEN IN THE BOX, WRITE THE NAME OF THE SPORT/GAME BELOW EACH PICTURE.

(Hockey, Swimming, Table Tennis, Badminton,)

1X4=4



1. 2..... 3..... 4.....

II. FILL IN THE BLANKS WITH THE MISSING LETTERS, USE ONLY (A, E, I, O, U) 1X4=4

5. C__mp__t__r 6. R__d__o 7. N__wsp__p__rs 8. T__leph__n__

III. COPY THE SENTENCES IN THE LINES GIVEN BELOW.

1X2=2

9. Health is Wealth

10. Cleanliness is next to Godliness

IV. (11) READ THE SENTENCES AND WRITE YES OR NO

1x4=4

- a. I respect the umpires decision _____
- b. I play games and I always win _____
- c. I hate others if I lost the game _____
- d. I follow the rules of the game _____

V. (12) MATCH THE FOLOWING

1x4=4

- | A | B |
|-----------|---------|
| a. Bird | Pens |
| b. Tree | Birds |
| c. Pen | Flowers |
| d. Flower | Trees |

VI. (13) CIRCLE THE WORD THAT DOES NOT BELONG TO THE GROUP.

1x4=4

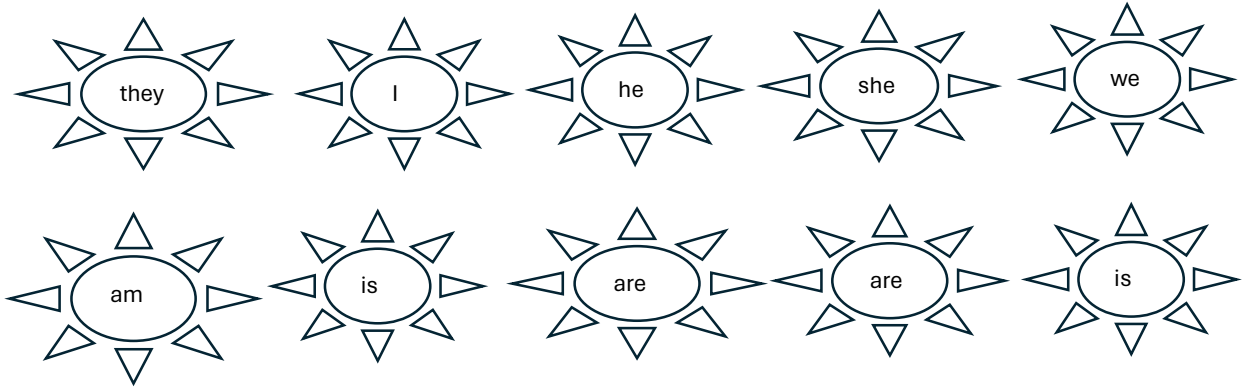
- a. Doctor, Teacher, Nurse, Patient
- b. Tablets, Dettol, First aid Box, Soap
- c. Winter, Cough, Cold, Headache
- d. Scissors, Bandage, Plaster, Paste

VII. (14) REARRANGE THE LETTERS TO GET THE NAMES OF TREES

1X4=4

- a. ncuocot _____ b. yanbna _____
c. enem _____ d. abanan _____

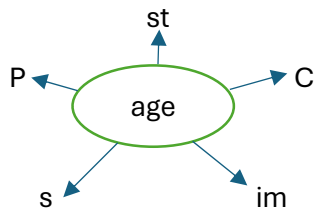
VIII. JOIN THE CORRECT PAIRS. WRITE THE WORDS IN THE SPACE PROVIDED. 1X5=5



15. _____ 16. _____ 17. _____ 18. _____ 19. _____

IX. 20. MAKE NEW WORDS

1X5=5



- a. _____
b. _____
c. _____
d. _____
e. _____

X. ANSWER THE FOLLOWING

1X4=4

21. Where was Manu going ?

22. Who did Manu ask for water?

23. Who disappeared from the sky suddenly?

24. Where was the beehive?

The Beehive was _____ of the tree. (on the branch / in the hollow)

SECOND SUMMATIVE EXAMINATION 2024-25

Answer sheet.

SUBJECT: ENGLISH

CLASS: 3RD

MARKS: 40

1. Badminton
2. Hockey
3. Table Tennis
4. Swimming
5. Computer
6. Radio
7. Newspaper
8. Telephone
9. Health is Wealth
10. Cleanliness is next to Godliness.
11. a. Yes b. No c. No d. Yes
12. a. Birds b. Trees c. Pens d. Flowers
13. a. Patient b. Soap c. Winter d. Paste
14. a. Coconut b. Banyan c. Neem d. Banana
15. I am.
16. He is.
17. They are.
18. She is.
19. We are.
20. a. Stage b. Image c. Sage d. Cage e. Page
21. Manu was going to Grandma's house.
22. Manu asked for water to the shopkeeper.
23. Sun disappeared from the sky suddenly.
24. In the hollow.

SECOND SUMMATIVE EXAMINATION 2024-25

Oral questions

SUBJECT: ENGLISH

CLASS: 3RD

MARKS: 10

1. Which is your favourite game?
2. Who is your favourite player?
3. Why was the sun shocked?
4. What was the woman searching?
5. What did the sun decide to do in the end?
6. Give some examples of Indoor games?
7. Give some examples of outdoor games?
8. What will you say when someone wins the game?
9. Plural forms of child / knife?
10. Rhyming word of hot / nut / wake?

SECOND SUMMATIVE EXAMINATION 2024-25

Oral Answers

SUBJECT: ENGLISH

CLASS: 3RD

MARKS: 10

- 1.
- 2.
3. The Sun was shocked because he saw what everybody was doing while he was resting.
4. The woman was searching 500 Rs note.
5. The Sun decided to give up his holiday and shine again in the end.
6. Carrom, Chess, Table Tennis.
7. Cricket, Football, Hockey, Volleyball
8. Congratulations.
9. Children / Knives
10. Hot- Pot/ Nut - Cut / Wake -Fake



2ನೇ ಸಂಕಲನಾತ್ಮಕ ಪರೀಕ್ಷೆ 2024-25

ದ್ವಿತೀಯ ಭಾಷೆ ಕನ್ನಡ

ತರಗತಿ : 3

ಪ್ರಶ್ನೆ ಪತ್ರಿಕೆ ತಯಾರಕರು :

ಎಸ.ಎ ಮಡಿವಾಳ

ಸ.ಉ.ಹಿ.ಪ್ರಾ.ಶಾಲೆ ಮಾಸರಗುಪ್ಪಿ, ಹುಕ್ಕೇರಿ ಚಿಕ್ಕೋಡಿ

ಡಿ.ಟಿ.ಪಿ :

ಇಸ್ಮಾಯಿಲ್ ಖಾನ್

ಸ.ಉ.ಹಿ.ಪ್ರಾ.ಶಾಲೆ ಚಿಕ್ಕಪೇಟೆ ಸೊರಬ ಶಿವಮೊಗ್ಗ (ಜಿಲ್ಲೆ)

2ನೇ ಸಂಕಲನಾತ್ಮಕ ಪರೀಕ್ಷೆ 2024-25

ಶಾಲೆ : _____

ವಿದ್ಯಾರ್ಥಿ ಹೆಸರು : _____ ರೋಲ್ ನಂ : _____

ವಿಷಯ : ಕನ್ನಡ

ಅಂಕ : 40

ತರಗತಿ : 3

ಸಮಯ : 90 ನಿಮಿಷ

ಕ್ರಮ 1 : ಐಚ್ಛಿಕ ಪ್ರಶ್ನೆಗಳನ್ನು ಕುರಿತು...

5x1=5

- 1) ನೀವು ಕುದಿಸಿ ಆರಿಸಿದ _____ ಕಡಿಯುತ್ತಿದ್ದೀರಿ.
- 2) ಹಿಟ್ಟಿನು ಸೌಟಲಿ _____ ಹೊಯ್ಯಲು.
- 3) ನಿನ್ನಂತಹ _____ ಮಗನನ್ನು ಪಡೆದ ನಾನೇ ಧನ್ಯ.
- 4) ಪರಡಿ ಚಿಲ್ಲಿ _____ ಮೇಲೆ ಹಾರಿತು.
- 5) ಗೆಳೆಯರೆ ತುಂಬಿದ _____ ತುಳುಕುವುದಿಲ್ಲ.

ಕ್ರಮ 2 : ವಿರುದ್ಧಾರ್ಥಕ ಪದ ಐರಂಜಿ...

2

- 1) ಸಂತೋಷ X = _____
- 2) ಸಮಾನ X = _____
- 3) ಸತ್ಯ X = _____
- 4) ಮೇಲೆ X = _____

ಕ್ರಮ 3 : ಹೊಂದಿಸಿ ಐರಂಜಿ...

5x1=5

ಅ

ಬ

- 1) ಕೋಳಿ ಕುಹೂ ಕುಹೂ = _____
- 2) ಕಾಗೆ ಗುಟರ್ ಗುಟರ್ = _____
- 3) ಗುಬ್ಬಿ ಕಾ ಕಾ ಕಾ ಕಾ = _____
- 4) ಕೋಗಿಲೆ ಚೀಂವ್ ಚೀಂವ್ = _____
- 5) ಪಾರಿವಾಳ ಕೊಕ್ಕೊಕ್ಕೊ = _____

ಕ್ರಮ 4 : ಪದ್ಯ ಪೂರ್ಣಗೊಳಿಸಿ...

1x3=4

ಯಾವುದೋ ದೇಶದ _____
_____ ಇಲ್ಲಿಗೆ
ಕ್ರೀಮು _____
_____ ಬೆಳ್ಳಗೆ

ಕ್ರಮ 5 : ಗುಂಪಿಗೆ ನೇರದ ಪದ ಗುರುತಿಸಿ ಐರಂಜಿ...

4x1=4

- 1) ತಾಯಿ , ಮಾತೆ , ಮಗಳು , ಜನನಿ , = _____
- 2) ಸಂತೋಷ , ದುಃಖ , ಆನಂದ , ಋಷಿ , = _____
- 3) ರೊಟ್ಟಿ , ದೋಸೆ , ಉಪ್ಪಿಟ್ಟು , ಕಿತ್ತಳೆ , = _____
- 4) ಹರಸು , ಸೋಲಿಸು , ಹಾರೈಸು , ಅಶೀರ್ವದಿಸು = _____

ಕ್ರಶ್ಯೆ 6 : ಈ ಲೆಲಗಿನ ಢಾತನ್ನು ಯಾರು ಯಾರಿಗೆ ಹೇಳಿದರು...

- 1) “ ರೂಟ್ಟಿಗಲನ್ನು ಕಪಾಟಿನಲ್ಲಿ ಏಕೆ ಢುಚ್ಚಿಟ್ಟಿದೆ. “ 2
ಯಾರು ಹೇಳಿದರು : _____
ಯಾರಿಗೆ ಹೇಳಿದರು : _____
- 2) “ ಇದಕ್ಕೆ ಕಾರಣ ಯಾರು ಗೂತ್ತೆ? “ 2
ಯಾರು ಹೇಳಿದರು : _____
ಯಾರಿಗೆ ಹೇಳಿದರು : _____

ಕ್ರಶ್ಯೆ 7 : ಒಂದು ವಾಕ್ಯದಲ್ಲ ಉತ್ತರ ಬರೆಯಿರಿ...

6x1=6

- 1) ತಾಯಿ ಏನೆಂದು ಹರಸಿದಳು?
ಉತ್ತರ : _____
- 2) ಜೀವಿಗಲು ಉಸಿರಾಡಲು ಏನು ಬೇಕು?
ಉತ್ತರ : _____
- 3) ಕರನೆಯ ಹಂಚಿನಲಿ ಎಂತಹ ದೂೇಷ ತಯಾರಾಗುತ್ತದೆ?
ಉತ್ತರ : _____
- 4) ಯಾರಿಗೆ ಹೂಟ್ಟೆ ನೂೇವು ಬಂದಿತ್ತು?
ಉತ್ತರ : _____
- 5) ಪಕ್ಷಿಗಲು ಹೇಗೆ ಶಬ್ದ ಢಾಡುತ್ತವೆ?
ಉತ್ತರ : _____
- 6) ಢಹಿಕಾ ಗುಪ್ತಾಳಿಗೆ ಯಾವ ಪ್ರಶಸ್ತಿ ನೀಡಲಾಯಿತು?
ಉತ್ತರ : _____

ಕ್ರಶ್ಯೆ 8 (ಅ) : ಸಢನಾರ್ಥಕ ಪದ ಬರೆಯಿರಿ...

4x1=4

- 1) ಸ್ನಾನ = _____
2) ಗಾಳಿ = _____
3) ಸ್ನೇಹಿತ = _____
4) ಗ್ರಹ = _____

(ಆ) : ಸಕಾರಾತ್ಮಕ ರೂಪ ಬರೆಯಿರಿ...

3x1=3

- 1) ಢಾರಿದ್ದೆ - _____
2) ತಂದರು - _____
3) ಕುಣಿಯಿತು - _____

ಕ್ರಶ್ಯೆ 8 (ಃ) : ಸಢನಾರ್ಥಕ ಪದ ಬರೆಯಿರಿ...

3x1=3

ಬಿಡಿ ಅಕ್ಷರಗಲನ್ನು ಅರ್ಥವತ್ತಾಗಿ ಜೂೇಡಿಸಿ ಬರೆಯಿರಿ...

ಳಿ	ತಂ	ಗಾ

ಹಿ	ನು	ಸಿ	ಜೇ

ಸಿ	ಸೆ	ಬಿ	ದೂೇ