

بِسْمِ اللّٰهِ الرَّحْمٰنِ الرَّحِیْمِ

2024-25

مجموعی قدریمائی -

مضمون: اردو

جماعت "نوم"

سوالی پرچہ مع جوابی پرچہ



مجموعی قدری پائی-25-2024

مضمون: اُردو

سوالی پرچہ مع جوابی پرچہ

جماعت: دوّم

سرکاری اُردو لوئیر / ہائیر پرائمری اسکول

طالب علم کا نام: _____ رول نمبر: _____ تاریخ: _____

5

سوال نمبر 1: دیئے گئے جملوں کو ختم اور سوالیہ نشان (علامات) لگائیے۔

1: کل تم مدرسہ کیوں نہیں آئے

2 ہم سب مل کر سیر و تفریح کے لئے گئے تھے

3 عادل، عمران اور میں کل بازار جائیں گے

4 تمہارا نام کیا ہے

5 تم کہاں تھے

10

سوال نمبر 2: الفاظ کو ترتیب سے جوڑ کر جملے بنائیں۔

دیکھا	دادی نے	میں	چوہے کو	گھر
چھپ گئی	اُمّی کو	بائی	بستر کے اندر	دیکھ کر
دیکھا	خواب	کل	ایک	میں نے
بیٹ ہیں	کے	کرکٹ	میرے پاس	دو
سالانہ	اسکول کا	جلسہ	ہے	آج

5

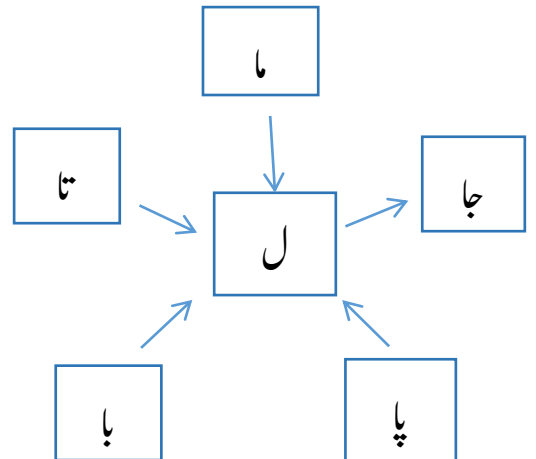
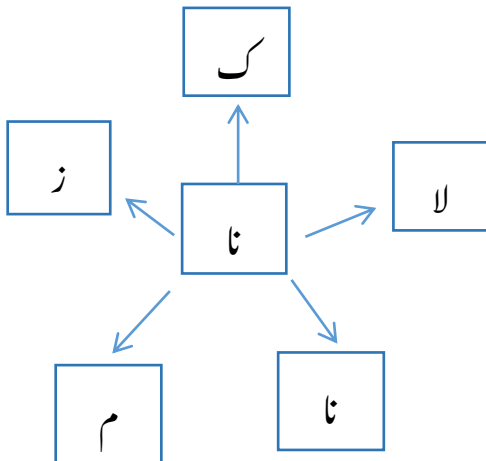
سوال نمبر 3: دیئے گئے الفاظ کی مدد سے جملے مکمل کریں۔

- 1 عید میں سب ایک دوسرے کے _____ ملتے ہیں۔
- 2 سب نئے کپڑے پہن کر _____ مناتے ہیں۔
- 3 عید گاہ جا کر _____ ادا کرتے ہیں۔
- 4 گھروں میں _____ اور مٹھائیاں بنائی جاتی ہیں۔
- 5 رشتہ داروں کو عید کی _____ دیتے ہیں

(نماز، گلے، خوشیاں، سویاں، مبارکباد)



10

سوال نمبر 4: الفاظ بنائیں۔



سوال نمبر 5: قافیہ الفاظ کے اعتبار سے جوڑ لگائیں۔

6



4

سوال نمبر 6: ”یہ اور“ وہ ” لفظ کی مدد سے جملے مکمل کیجئے۔



_____ آم ہے۔



_____ درخت ہیں۔



_____ گاری ہے۔



_____ جوتے ہیں۔

- 1: کل تم مدرسہ کیوں نہیں آئے؟
- 2 ہم سب مل کر سیر و تفریح کے لئے گئے تھے۔
- 3 عادل، عمران اور میں کل بازار جائیں گے۔
- 4 تمہارا نام کیا ہے؟
- 5 تم کہاں تھے؟

دیکھا	چوہے کو	میں	گھر	دادی نے
چھپ گئی	بستر کے اندر	بائی	دیکھ کر	امی کو
دیکھا	خواب	ایک	میں نے	کل
بیٹ ہیں	کے	کرکٹ	دو	میرے پاس
ہے	جلسہ	سالانہ	اسکول کا	آج

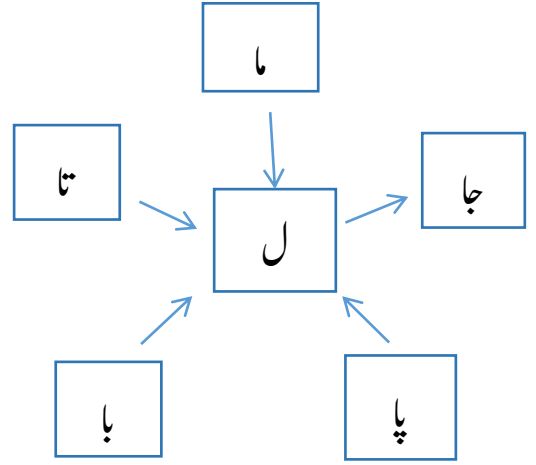
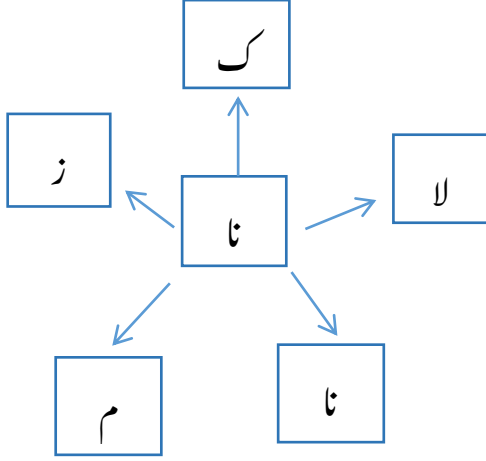
- 1 عید میں سب ایک دوسرے کے گلے ملتے ہیں۔
- 2 سب نئے کپڑے پہن کر خوشیاں مناتے ہیں۔
- 3 عید گاہ جا کر نماز ادا کرتے ہیں۔

4 گھروں میں سویاں اور مٹھائیاں بنائی جاتی ہیں۔

5 رشتہ داروں کو عید کی مبارکباد دیتے ہیں

سوال نمبر 4: الفاظ بنائیں۔


10



بال	پال	جال	مال
ناز	ناک	نالا	تال
	نام	نانا	





6

سوال نمبر 5:



سوال نمبر 6:

4

	آم ہے۔	یہ
	درخت ہیں۔	وہ
	گاری ہے۔	یہ
	جوتے ہیں۔	وہ


زبانى سوالى پرچہ

$$5=1*5$$

1) درسى كتاب ميں موجود كوئى كوئى ايك نظم اداكارى كے ساتھ پڑھيں۔

$$5=1*5$$

2) تصاویر دیکھ کر اپنے الفاظ میں کہانی سنائیں۔



2024-25

مجموعی قدر پیمائی-2

مضمون: علم ریاضی

جماعت: دوّم



تیار کردہ: کنیز فاطمہ معاون معلمہ سرکاری اردو ہائیر پرائمری اسکول قلع مدگل تعلقہ؛ لنگسور ضلع رائچور

نمونہ سوالی پرچہ مجموعی قدر پیمائی - 2 2024-25

مدرسہ: سرکاری اُردو لائبریری / ہائیر پرائمری اسکول


جماعت: دوّم مضمون: علم ریاضی نشانات: 30 وقفہ: 90 منٹ

طالب علم کا نام: _____ رول نمبر: _____ مورخہ: _____

$$5 \times 2 = 10$$

سوال نمبر: 1

(1) تصویر میں موجود حساب حل کریں۔

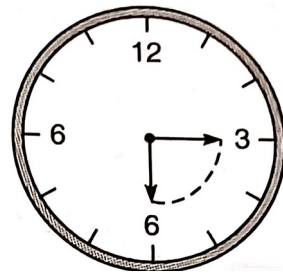
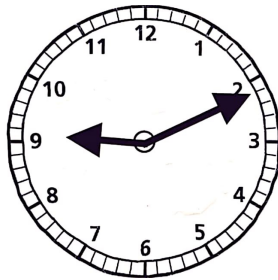


(2) ذیل کے اعداد ہندسوں میں لکھئے۔

تین سو بیس

ایک سو دو

(3) گھڑی میں وقت کی پہچان کرتے ہوئے لکھیں۔



4) تفریق کریں۔

$4-3=.....$



$5-1=.....$



$3-0=.....$



$2-0=.....$



5) 0 سے 99 تک گنتی لکھیں۔

	<input type="checkbox"/>	Rs 20
	<input type="checkbox"/>	Rs 100
	<input type="checkbox"/>	Rs 2000
	<input type="checkbox"/>	Rs 50
	<input type="checkbox"/>	Rs 500
	<input type="checkbox"/>	Rs 5
	<input type="checkbox"/>	Rs 10
	<input type="checkbox"/>	Rs 200

سوال نمبر 2: $6 \times 1 = 6$

6) جوڑ لگاؤ

$4 \times 2 = 8$

(7) بڑھتی ہوئی ترتیب میں لکھیں۔

11 21 5 28 → ○ ○ ○ ○

7 27 9 26 → ○ ○ ○ ○

30 21 20 1 → ○ ○ ○ ○

18 9 11 24 → ○ ○ ○ ○

$1 \times 2 = 2$

(8) گھٹتی ہوئی ترتیب میں لکھیں۔



12 15 11 16 18

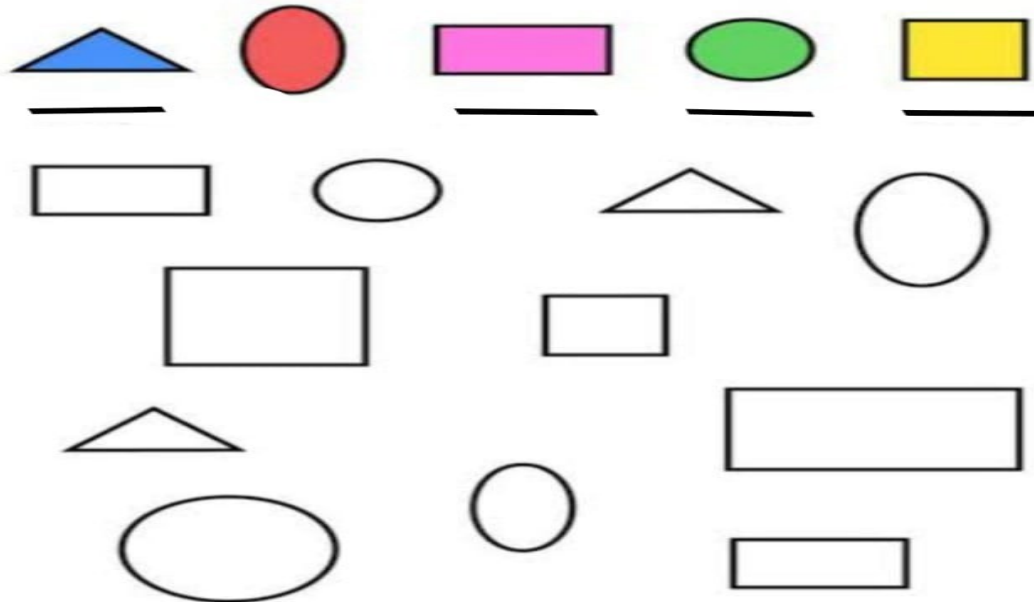


20 16 18 19 17

$7 \times 1 = 7$

سوال نمبر 3:

(9) ذیل میں موجود اشکال کے نام لکھیں اور مناسب رنگ بھریں۔



زبانی سوالی پرچہ

$$1 \times 10 = 10$$

(1) میرے پاس ایک روپے کے 55 سکنے ہیں 10 سکوں کے گروہ بنائیں گے تو

بنائے گئے گروہ کی تعداد

بقیہ سکوں کی تعداد

(2) میرے پاس 70 گولیاں ہیں میں ان کو اگر اپنے 7 دوستوں میں مساوی تقسیم کروں تو

ہر ایک کو ملنے والی گولیوں کی تعداد


میرے پاس بچی ہوئی گولیوں کی تعداد

(3) 51 سے 99 تک گنتی پڑھیں۔


(4) ہمارے دکان میں 32  ہیں۔

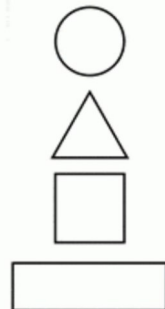
دوسروں کی دکان میں 26  ہیں۔

دونوں دکانوں میں موجود  کی تعداد۔

(5) ہمارے گھر کی ٹنکی میں 18  تھیں

پھر 11  اور اس میں ڈالی گئیں

اب ٹنکی میں  کی تعداد



(6) اشکال کے نام بتاؤ


(7) ذیل میں دیئے گئے اعداد کا اگلا عدد بتائیے۔

a 478 -----

b 548 -----

(8) ایک کار کی قیمت 8 روپیے ہے تو 6 کار خریدنے کے لئے کتنے روپے ہوں گے؟

(9) کیلنڈر کی مدد سے کسی ایک مہینے میں اتوار کو آنے والی تاریخیں پوچھیں۔



(10) مثلث میں کتنے کنارے اور راس ہیں؟

2024-25

مجموعی قدر پیمائی-2

جوابی پرچہ

مضمون: علم ریاضی

جماعت: دوّم



تیار کردہ: کنیز فاطمہ معاون معلمہ سرکاری اردو ہائیر پرائمری اسکول قلع مدگل تعلقہ؛ لنگسور ضلع رائچور

نمونہ سوالی پرچہ مجموعی قدر پیمائی - 2024-25

مدرسہ: سرکاری اُردو لولویئر / ہائیر پرائمری اسکول

جماعت: دوّم مضمون: علم ریاضی نشانات: 30 وقفہ: 90 منٹ

جوابی پرچہ

سوال نمبر 1:

(1) تصویر میں موجود حساب حل کریں۔

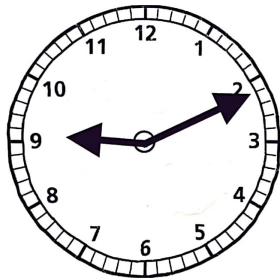


(2) ذیل کے اعداد ہندسوں میں لکھئے۔

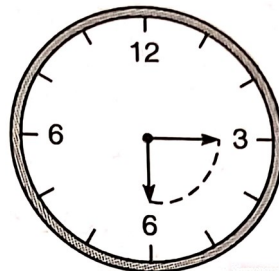
تین سو بیس --- 320

ایک سو دو --- 102

(3) گھڑی میں وقت کی پہچان کرتے ہوئے لکھیں۔



9:11



6:15

4) تفریق کریں۔

$$4-3=.....1.....$$



$$5-1=.....4.....$$



$$3-0=...3.....$$

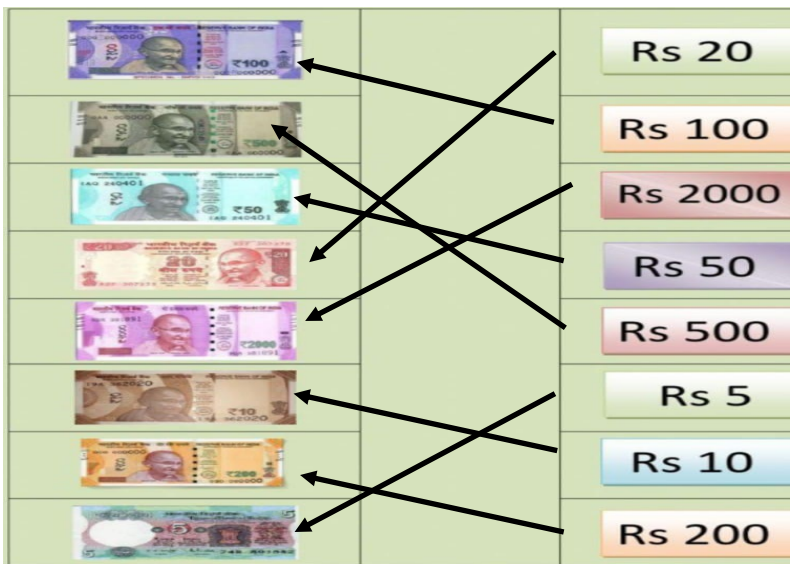


$$2-0=.....2.....$$



5) 0 سے 99 تک گنتی لکھیں۔

0	10	20	30	40	50	60	70	80	90
1	11	21	31	41	51	61	71	81	91
2	12	22	32	42	52	62	72	82	92
3	13	23	33	43	53	63	73	83	93
4	14	24	34	44	54	64	74	84	94
5	15	25	35	45	55	65	75	85	95
6	16	26	36	46	56	66	76	86	96
7	17	27	37	47	57	67	77	87	97
8	18	28	38	48	58	68	78	88	98
9	19	29	39	49	59	69	79	89	99



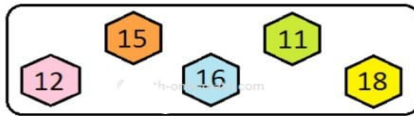
سوال نمبر 2:

6) جوڑ لگاؤ

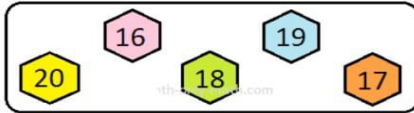
7) بڑھتی ہوئی ترتیب میں لکھیں۔



8) گھٹتی ہوئی ترتیب میں لکھیں۔



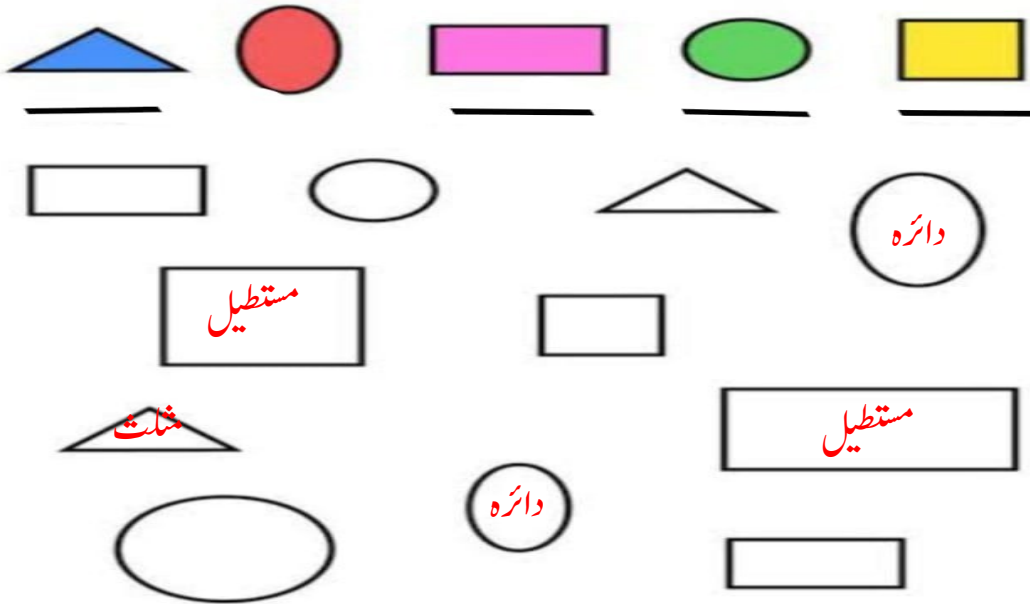
18,16,15,12,11



20,19,18,17,16

سوال نمبر 3:

9) ذیل میں موجود اشکال کے نام لکھیں اور مناسب رنگ بھریں۔



10) خالی جگہ میں مناسب اعداد لکھیں۔

a

34	36	38	40	42	44	46
----	----	----	----	----	----	----

b

12	14	16	18	20	22	24
----	----	----	----	----	----	----

:

سوال نمبر 4:

11) ضربی عمل مکمل کرو۔

×	0	1	2	3	4	5	6	7	8	9
0	0	0	0	0	0	0	0	0	0	0
1	0	1	2	3	4	5	6	7	8	9
2	0	2	4	6	8	10	12	14	16	18
3	0	3	6	9	12	15	18	21	24	27
4	0	4	8	12	16	20	24	28	32	36
5	0	5	10	15	20	25	30	35	40	45
6	0	6	12	18	24	30	36	42	48	54
7	0	7	14	21	28	35	42	49	56	63
8	0	8	16	24	32	40	48	56	64	72
9	0	9	18	27	36	45	54	63	72	81

2024-25

مجموعی قدر پیمائی- 2

جماعت : دوم

مضمون: صحت اور ماحول (EVS)

تیار کردہ : عرفان بوجگر

رکاری مثالی اردو ہائر پرائمری اسکول نمبر- 1 گوکاک۔



SUMMATIVE ASSESSMENT-2

2024-25

CLASS: 2ND STD

SUB: EVS

PREPARED BY : IRFAN BOJAGAR

SCHOOL: GOVERNMENT MODEL URDU

HIGHER PRIMARY SCHOOL NO-1

GOKAK.

2024- 2025

نمونتا سوالی پرچہ مجموعی قدر پیمانی

مدرسہ: سرکاری اردو ہائز / لوئر پرائمری اسکول

وقفہ: 90 منٹ

نشانات: 40

مضمون: صحت اور ماحول (EVS)

جماعت: دوئم

مورخہ:

رول نمبر:

نام:

6

سوال نمبر 1: تصاویر پر غور کر کے خالی مربعوں میں صحیح (✓) یا غلط (X) کا نشان لگائیں۔



6

سوال نمبر 3: قوسین میں دئے گئے الفاظ کی مدد سے خانہ پری کیجیے۔

(ڈرائیور، ڈاکٹر، مدرسہ، سبزی فروش، معمار، ابا)

1: بیماروں کا علاج کرتے ہیں۔



2: بس کو چلانے کے لئے کی ضرورت ہوتی ہے۔



3: پڑھنا لکھنا سیکھنے کے لئے جاتے ہیں۔



4: گھر کی مرمت کرنے کے لئے کی ضرورت ہوتی ہے۔



5: روزانہ گلی میں سبزی لاتا ہے۔

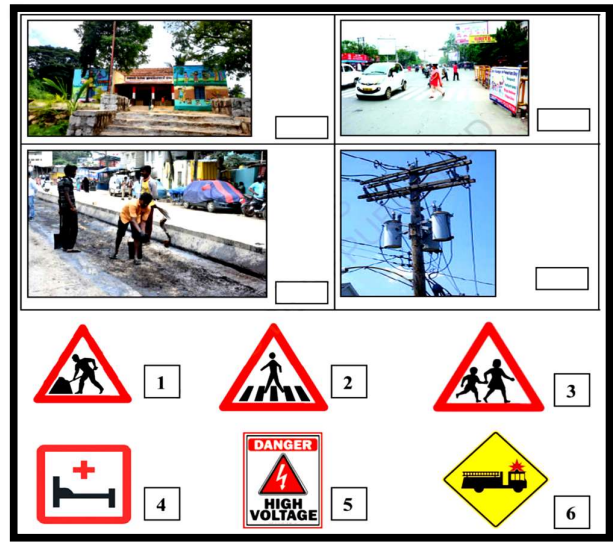


6: بہت محنت سے پال پوس کے بڑھا کرنے والے کو سلام۔



سوال نمبر 2: دی گئی تختیوں پر غور کرتے ہوئے اور تصاویر کے ساتھ ان

تختیوں کے صحیح نمبر لکھیں۔ 5



سوال نمبر 4: ہاں یا نہیں میں جواب لکھیں۔ 5



1: کیا تم روزانہ ورزش کرتے ہو؟




2: تمہیں کھیلنا پسند ہے؟









3: کیا آپ کسی انجان شخص سے چاکلیٹ لوگے؟










4: کیا تم شہد کے چستہ پر پتھر مارتے ہو؟



5: برقی تار سے کھیلتے ہو؟

نمبر	الف	ب
1	رستی کا کھیل 	☆ سانپ سیڑھی کا بورڈ
2	کرکٹ 	☆ گلی ڈنڈا
3	لٹو کا کھیل 	☆ لگوری کاسیٹ - گیند
4	لگوری 	☆ لٹو اور دھاگا
5	سانپ سیڑھی کا کھیل 	☆ گیند اور بلا
6	گلی ڈنڈا کا کھیل 	☆ رستی

	<input type="text" value="خوشی"/>	
	<input type="text" value="غصہ"/>	
	<input type="text" value="تعب"/>	
	<input type="text" value="ہنسنا"/>	
	<input type="text" value="رونا"/>	
	<input type="text" value="مایوس"/>	



نوٹ: مندرجہ ذیل 30 سوالات میں سے معلم یا معلمہ کوئی بھی 10 سوالات لے سکتے ہیں۔

- 1: اہلی کا ذائقہ کیسا ہوتا ہے؟
- 2: گڑ کا ذائقہ کیسا ہوتا ہے؟
- 3: اندرونی کھیلوں کے نام بتائیے؟
- 4: بیرونی کھیلوں کے نام بتائیے؟
- 5: تمہاری پسندیدہ سواری کونسی ہے؟
- 6: اپنے سفر کا کوئی تجربہ بیان کیجئے؟
- 7: راستہ پار کرتے وقت کن باتوں کا خیال رکھنا چاہیے؟
- 8: پانی کا ٹل کھلا ہو، پانی بہہ رہا ہو تو آپ کیا کرو گے؟
- 9: برقی تار یا سوئچ بورڈ کو کیوں نہیں چھونا چاہیے؟
- 10: آپ کے گھر میں کون کون رہتے ہیں؟
- 11: مدرسہ جانے کے لیے آپ کون تیار کرتے ہیں؟
- 12: آپ کے لئے کھانے کی چیزیں، کپڑے وغیرہ کون خرید کے لاتے ہیں؟
- 13: بیماریوں کا علاج کون کرتا ہے؟
- 14: مدرسے میں آپ کو لکھنا پڑھنا کون سیکھاتے ہیں؟
- 15: آپ بڑے ہو کر کیا بننا چاہتے ہو؟
- 16: آپ کے ابا کیا کام کرتے ہیں؟
- 17: ہمیں ورزش کیوں کرنا چاہیے؟
- 18: اگر آپ کو کوئی زخمی پرندہ مل جائے تو آپ کیا کرو گے؟
- 19: کوئی بھی تین پھلوں کے نام بتاؤ؟
- 20: کچی کھائی جانے والی ترکاری کونسی ہے؟
- 21: آپ کی پسندیدہ ترکاری کا نام بتائیے؟
- 22: لیموں کا ذائقہ کیسا ہوتا ہے؟
- 23: ضعیفوں کو پیدل چلتے دیکھو گے تو آپ کیا کرو گے؟
- 24: کیلا کھانے کے بعد چھلکے کو راستے پر پھینکنا صحیح ہے؟
- 25: آپ کی امی کونسا لباس پہنتی ہیں؟
- 26: آپ کو کونسا لباس پسند ہے؟
- 27: آپ کے اور آپ کے دوست کے درمیان کیا فرق ہے؟
- 28: آپ، اپنی امی کی کس طرح مدد کرتے ہو؟
- 29: اپنی جماعتی کمرے کی صفائی کس طرح کرتے ہو؟
- 30: پودوں کی نشوونما کے لیے کیا ضروری ہے؟



SUMMATIVE ASSESSMENT-2

2024-2025

CLASS:2nd

SUBJECT:ENGLISH ENK

PREPARED BY:

SAMEEN UNNISA

SCHOOL:GOVT U.L.P.S HUNSEKERE

BELUR(TALUK)

HASSAN (DISTRICT)

SUMMATIVE ASSESSMENT-2

2024-2025

SCHOOL: _____

CLASS:2nd

SUB:ENGLISH ENK

MARKS:40

NAME: _____ ROLL NO: _____ DATE: _____

I . Identify the pictures and match the words:

5



Drum



Spoon



Rain



Leaf



Prize

II .Use the given letters and write the words in the box.

5

gr	bl	sm	tr	sk
----	----	----	----	----

(a)___ile (b)___irt (c)___een (d)___ack (e)___uck

III. Unscramble the jumbled letters and write the correct word. 5

- (a)hinc - _____ (b)pish - _____ (c)ubel - _____
(d)lafg - _____ (e)rfog - _____




IV. Write the opposite words for: 5

- (a)Fast x _____ (b)Weak x _____
(c)Awake x _____ (d)Sit x _____ (e)Big x _____

V. Circle the sight words. 5

- (a)flag , stand , above , smile
(b)stick , flower , stop , across
(c)moon , cook , all , book
(d)meet , sheep , greet , together
(e)poem , bake , too , pose

VI. Circle the right word: 3

- (a)  - swan , stick , spoon , slide
(b)  - apple , grapes , orange , banana
(c)  - tail , rail , pain , nail

VII. Write any two things which are in black colour. 2

- (a)_____ (b)_____

VIII. Find the words with long 'e' sounds and sort them in the space provided below. 6

baby week team money jeep heat

ea	ee	y

IX. Copy the sentences. 4

We come to school every day.

The van stopped at the railway station.

SUMMATIVE ASSESSMENT-2

2024-2025

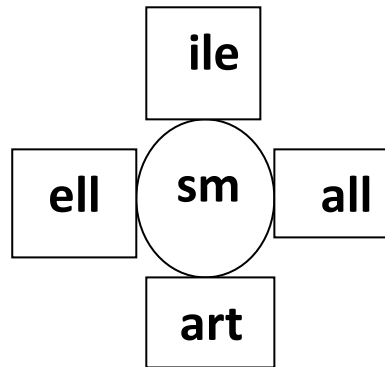
ORAL QUESTION PAPER

CLASS:2nd SUB:ENGLISH ENK MARKS:10

I .Answer the following questions:

5 x 2 =10

1)Read the words with blends of 's'.



2)Which is the first and last month of the year?

3)What did Daddu see in the zoo?

4)Recite any one rhyme;

Fifty little fruits swinging on the trees

OR

Sania Tania went to the zoo E....i.....e....i.....o

5)Read the sentences.

(a)Buses and bikes go on roads.

(b)The colour of the bear is brown.

WRITTEN QUESTIONS

KEY ANSWERS

I .

Rain

Leaf

Prize

Drum

Spoon

II .(a)smile (b)skirt (c)green (d)black (e)truck

III.(a)chin (b)ship (c)blue (d)flag (e)frog

IV.(a)slow (b)strong (c)sleep (d)stand (e)small

V.(a)above (b)across (c)all (d)together (e)too

VI.(a)slide (b)grapes (c)tail

VII.(a)crow (b)blackboard (accept any relevant answer)


VIII.

ea	ee	y
team	week	baby
heat	jeep	money

IX.

We come to school every day.

The van stopped at the railway station.





2ನೇ ಸಂಕಲನಾತ್ಮಕ ಪರೀಕ್ಷೆ 2024-25

ದ್ವಿತೀಯ ಭಾಷೆ ಕನ್ನಡ

ತರಗತಿ : 2

ಪ್ರಶ್ನೆ ಪತ್ರಿಕೆ ತಯಾರಕರು :

ಎಸ.ಎ ಮಡಿವಾಳ

ಸ.ಉ.ಹಿ.ಪ್ರಾ.ಶಾಲೆ ಮಸರಗುಪ್ಪಿ, ಹುಕ್ಕೇರಿ ಚಿಕ್ಕೋಡಿ

ಡಿ.ಟಿ.ಪಿ :

ಇಸ್ಮಾಯಿಲ್ ಖಾನ್

ಸ.ಉ.ಹಿ.ಪ್ರಾ.ಶಾಲೆ ಚಿಕ್ಕಪೇಟೆ ಸೊರಬ ಶಿವಮೊಗ್ಗ (ಜಿಲ್ಲೆ)

2ನೇ ಸಂಕಲನಾತ್ಮಕ ಪರೀಕ್ಷೆ 2024-25

ಶಾಲೆ : _____

ವಿದ್ಯಾರ್ಥಿ ಹೆಸರು : _____ ರೋಲ್ ನಂ : _____

ವಿಷಯ : ಕನ್ನಡ

ಅಂಕ : 30

ತರಗತಿ : 2

ಸಮಯ : 90 ನಿಮಿಷ

ಪ್ರಶ್ನೆ 1 : ಕೆಳಗಿನ ಅಕ್ಷರಗಳನ್ನು ನಕಲು ಮಾಡಿ...

3

ಖ ಚ ಋ ಔ ಕೈ ಗೊ ಥ ಢ

ಪ್ರಶ್ನೆ 2 : ಪದಗಳನ್ನು ನಕಲು ಮಾಡಿ...

6x1=6

ಮದರಗಚ _____

ದಾಸವಾಳ _____

ಗುಡಿಸಲು _____


ಚದುರಂಗ _____

ಗೆಳೆತನ _____

ಚೀನುಗೂಡು _____

ಪ್ರಶ್ನೆ 3 : ಚಿತ್ರ ಗುರುತಿಸಿ ಪದ ಬರೆ...

4x1=4



ಪ್ರಶ್ನೆ 4 : ಈ ಕೆಳಗಿನವುಗಳಿಗೆ ಕಾ ಗುಣಿತ ಬರೆಯಿರಿ...

3x3=9

೪ _____

೫ _____

೬ _____

ಕ್ರಶ್ಯ 5 : ಪದಗಲನ್ನು ಹೂಂದಿಸಿ ಬರೂಬಲಿ...

5x1=5

ಅ	ಬ	
ಪದಕ	ಸರಸರ	_____
ಸರಸರ	ಗಲತಿ	_____
ಅಂಗಲ	ಪದಕ	_____
ಗಲತಿ	ಸೂತಕಾಯಿ	_____
ಸೂತಕಾಯಿ	ಅಂಗಲ	_____

ಕ್ರಶ್ಯ 6 : ಬಿಟ್ಟ ಅಕ್ಷರಗಲನ್ನು ಹೂಂಢಗೂಲಿಸು...

3

ಅ _____ ಈ ಉ _____ ಋ _____ ಐ ಒ _____ ಅಂ _____
 ಕ _____ ಳ _____
 ಚ _____ ಞ _____
 ಟ ಠ _____ ಡ ಣ _____
 _____ ಣ _____ ನ _____
 ಪ ಫ _____
 ಯ _____ ಸ ಣ _____

ಕ್ರಶ್ಯ 7 : ಪದ - ಚಿತ್ರ ಹೂಂದಿಸಿ ಬರೂಬಲಿ...

5x1=5

ಅ.	ಚ್ಯರೂ		_____
ಆ.	ಗೂಪ		_____
ಇ.	ಕೀಲಿ		_____
ಀ.	ಸೂತಕಾಯಿ		_____
ಃ.	ಅಂಬಾರಿ		_____

ಪ್ರಶ್ನೆ 8 : ನಲಿಯಾದ ಅಕ್ಷರವನ್ನು ಬಳಸಿ ಮತ್ತು ಪದಗಳನ್ನು ಬರೆಯಿರಿ....

5x1=5

ಮಾದರಿ : ರೈಲು

ಮೂ	ಬೆ	ಲು	ಗೀ	ವೇ	ನು
ಣ	ಕಾ	ಜೇ	ಹೂ	ಗಾ	ಠ
ಔ	ರೂ	ಶೂ	ಕು	ಘ	ಋ
ಊ	ಶ್ಯ	ಛ	ದೋ	ಛ	ಠ
ಉ	ಊ	ಘ	ಪು	ರಿ	ಋ
ಊ	ಋ	ಛ	ಣಿ	ಕೋ	ಗಾ

2ನೇ ಸಂಕಲನಾತ್ಮಕ ಮೌಖಿಕ ಪರೀಕ್ಷೆ 2024-25

ವಿಷಯ : ಕನ್ನಡ

ತರಗತಿ : 2

ಅಂಕ : 10

- 1) ಈ ಅಕ್ಷರಗಳನ್ನು ಓದಿರಿ...
ಬ ಹ ಔ ಛ (ಕ - ಹ) 1
- 2) ಈ ಕೆಳಗಿನ ಚಿತ್ರಗಳನ್ನು ಗುರುತಿಸಿ ಹೇಳಿರಿ... 1



- 3)  2

- 4)  2

- 5)  1

- 6) ಬಿಟ್ಟ ಅಕ್ಷರ ಹೇಳು... 3

ಅ _ _ _ ಉ _ ಋ _ _ _ ಒ _ _ _ ಅಂ ಆಃ

- 7) ಈ ಕೆಳಗಿನ ಪದಗಳನ್ನು ಓದಿರಿ... 4

ಮದಗಜ , ದೀಪವಳಿ , ದಾಸವಾಳ , ಗೆಳೆತನ , ಹಿಮಾಲಯ , ಜತೆಗಾರ , ಗುಡಿಸಲು , ಯೋಗಾಸನ

- 8) ರ _ (ಸ , ದ) ಮ _ (ಶ , ಷ , ಗ) 2

- 9) ಕಾ ಗುಣಿತ ಹೇಳು... 3

ಕ _ _ _ _ _

ಗ _ _ _ _ _

- 10) ಕೀಟಕಿ ಈ ಪದವನ್ನು ಓದಿ ಬರೆಯಿರಿ... 1