

ವಿದ್ಯಾರ್ಥಿ ಹೆಸರು:-_____

I. ಬಿಟ್ಟ ಸ್ಥಳಗಳನ್ನು ಸೂಕ್ತ ಪದಗಳಿಂದ ತುಂಬಿರಿ .

5x1=5

1. ಹೆಣ್ಣೊಂದು ಕಲಿತರೆ _____
2. ಕೊಟ್ಟಿದ್ದು ತನಗಾದರೆ ಬಚ್ಚಿಟ್ಟಿದ್ದು _____
3. ಅಭಿಮನ್ಯುವಿನ ತಂದೆ _____
4. ಬಟ್ಟೆಯ ಗಂಟನ್ನು _____ ಹೊರುತ್ತದೆ.
5. ರೆಕ್ಕೆಯುಂಟು ಹಕ್ಕಿಯಲ್ಲ, ಸದ್ದುಂಟು ಗುಡುಗಲ್ಲ, ಓಡುವೆನು ಮೋಡವಲ್ಲ ನಾನಾರು? ಈ ಒಗಟಿನ ಉತ್ತರ _____

II. ಕೆಳಗಿನ ಪ್ರಶ್ನೆಗಳಿಗೆ ಒಂದು ವಾಕ್ಯದಲ್ಲಿ ಉತ್ತರಿಸಿ.

4x1=4

6. ಮಕ್ಕಳೆಲ್ಲರೂ ಎಲ್ಲಿಗೆ ಪ್ರವಾಸ ಹೋಗಲು ಸಿದ್ಧರಾದರು ?

ಉ: _____

7. ಜನರನ್ನು ಸಲಹುವುದಾತ ಯಾರು ?

ಉ: _____

8. ಪುಟ್ಟು ಹೇಗೆ ಬಿದ್ದನು?

ಉ: _____

9. ಕಾಡಿನಲ್ಲಿ ನಡೆದ ಸ್ಪರ್ಧೆ ಯಾವುದು ?

ಉ: _____

III. ಕೆಳಗಿನ ಪದಗಳಿಗೆ ಎರಡು ಸಮಾನಾರ್ಥಕ ಪದಗಳನ್ನು ಬರೆಯಿರಿ.

2 x1=2

10. ಕಾಡು _____, _____ 11. ತಾಯಿ _____, _____

IV. ಕೆಳಗಿನವುಗಳಿಗೆ ವಿರುದ್ಧಾರ್ಥಕ ಪದಗಳನ್ನು ಬರೆಯಿರಿ.

4x1=4

12. ಸಂತೋಷ X _____ 13. ಹಗುರ X _____

14. ಹಿಂಸೆ X _____ 15. ಮುಕ್ತಾಯ X _____

V. ಕೆಳಗಿನ ಪದಗಳಿಗೆ ಸ್ವಂತ ವಾಕ್ಯ ರಚಿಸಿ.

3x 1=3

16. ಪ್ರವಾಸ:-_____

17. ಜೋರಾಗಿ:-_____

18. ಆಶ್ಚರ್ಯ:- _____

VI. ಕೊಟ್ಟಿರುವ ಮಾತುಗಳನ್ನು ಯಾರು, ಯಾರಿಗೆ ಹೇಳಿದರು ?

2 x 2 =4

19. “ಅಮ್ಮ ಹಿರಿಯವರು ಮತ್ತು ಕಿರಿಯವರು ಎನ್ನುವುದು ಮುಖ್ಯವಲ್ಲ.”

ಉ:_____

20.” ಏನು ಕಂದಾ! ನೀನು ಯುದ್ಧದಲ್ಲಿ ಚಕ್ರವ್ಯೂಹವನ್ನು ಭೇದಿಸುವೆಯಾ? ”

ಉ:_____

VII. ಈ ಪದ್ಯ ಪೂರ್ಣಗೊಳಿಸಿ.

1 x 1=3

21. ಬಾವಿಲಿ ಚಂದ್ರನ _____

_____ ಎಂದು

ಅಯ್ಯೋ _____

_____ ಹುಡುಕಿದರು.

VIII. ಹೊಂದಿಸಿ ಬರೆಯಿರಿ.

4x1=4

22. ಸರ್ವಜ್ಞ ಅಭಿಮನ್ಯುವಿನ ದೊಡ್ಡಪ್ಪ _____

23. ಬೆಂಗಳೂರು ರಾಷ್ಟ್ರಪತಿ _____

24. ಧರ್ಮರಾಯ ವಿಧಾನ ಸೌಧ _____

25. ಅಬ್ದುಲ್ ಕಲಾಂ ತ್ರಿಪದಿ _____

IX. ಇವುಗಳಿಗೆ ಅರ್ಥ ಬರೆಯಿರಿ.

2x1=2

26) ಆಗಸ=_____ 27) ಋಷಿ=_____

X. ಕೆಳಗಿನ ಪ್ರಶ್ನೆಗಳಿಗೆ 2-3 ವಾಕ್ಯಗಳಲ್ಲಿ ಉತ್ತರಿಸಿ.

3 x 3=9

28. ಧರ್ಮರಾಯನು ಚಿಂತಾಕ್ರಾಂತನಾಗಲು ಕಾರಣವೇನು?

ಉ:_____

29. ರೈಲು ನಿಲ್ದಾಣದಲ್ಲಿ ಏನೇನು ಸೌಲಭ್ಯಗಳಿರುತ್ತವೆ?

ಉ:_____

30. ನೊಗವನ್ನು ಹೇಗೆ ಮಾಡುವರು ?

ಉ:_____

I. ಬಿಟ್ಟ ಸ್ಥಳಗಳನ್ನು ಸೂಕ್ತ ಪದಗಳಿಂದ ತುಂಬಿರಿ .

3x1=3

1. ಹೆಣ್ಣೊಂದು ಕಲಿತರೆ ಶಾಲೆಯೊಂದು ತೆರೆದಂತೆ
2. ಕೊಟ್ಟಿದ್ದು ತನಗಾದರೆ ಬಚ್ಚಿಟ್ಟಿದ್ದು ಪರರಿಗೆ
3. ಅಭಿಮನ್ಯುವಿನ ತಂದೆ ಅರ್ಜುನ
4. ಬಟ್ಟೆಯ ಗಂಟನ್ನು ಕತ್ತೆ ಹೊರುತ್ತದೆ.
5. ರೆಕ್ಕೆಯುಂಟು ಹಕ್ಕಿಯಲ್ಲ, ಸದ್ದುಂಟು ಗುಡುಗಲ್ಲ, ಓಡುವೆನು ಮೋಡವಲ್ಲ ನಾನಾರು? ಈ ಒಗಟಿನ ಉತ್ತರ ವಿಮಾನ

II. ಕೆಳಗಿನ ಪ್ರಶ್ನೆಗಳಿಗೆ ಒಂದು ವಾಕ್ಯದಲ್ಲಿ ಉತ್ತರಿಸಿ.

4x1=4

6. ಮಕ್ಕಳೆಲ್ಲರೂ ಎಲ್ಲಿಗೆ ಪ್ರವಾಸ ಹೋಗಲು ಸಿದ್ಧರಾದರು ? ಶ್ರವಣಬೆಳಗೊಳ
7. ಜನರನ್ನು ಸಲಹುವುದಾತ ಯಾರು ? - ರೈತ
7. ಪುಟ್ಟು ಹೇಗೆ ಬಿದ್ದನು? ಹಗ್ಗ ತುಂಡಾಗಿ
8. ಕಾಡಿನಲ್ಲಿ ನಡೆದ ಸ್ಪರ್ಧೆ ಯಾವುದು ? - ಆಶುಭಾಷಣ

III. ಕೆಳಗಿನ ಪದಗಳಿಗೆ ಎರಡು ಸಮಾನಾರ್ಥಕ ಪದಗಳನ್ನು ಬರೆಯಿರಿ.

2 x 1=2

9. ಆಶ್ಚರ್ಯ ಅಚ್ಚರಿ ವಿಸ್ಮಯ 10. ಮಗ ಸುತ ಪುತ್ರ

IV. ಕೆಳಗಿನವುಗಳಿಗೆ ವಿರುದ್ಧಾರ್ಥಕ ಪದಗಳನ್ನು ಬರೆಯಿರಿ.4 x $\frac{1}{2}$ =2

11. ಸಂತೋಷ X ದುಃಖ ಅಸಂತೋಷ 12. ಹಗುರ X ಭಾರ
13. ಹಿಂಸೆ X ಅಹಿಂಸೆ. 14. ಮುಕ್ತಾಯ X ಆರಂಭ ಪ್ರಾರಂಭ

V. ಕೆಳಗಿನ ಪದಗಳಿಗೆ ಸ್ವಂತ ವಾಕ್ಯ ರಚಿಸಿ.

2x 1=2

14. ಪ್ರವಾಸ 15. ಜೋರಾಗಿ 17. ಆಶ್ಚರ್ಯ:- ಮಕ್ಕಳು ಸ್ವಂತ ವಾಕ್ಯ ರಚಿಸುವರು

VI. ಕೊಟ್ಟಿರುವ ಮಾತುಗಳನ್ನು ಯಾರು, ಯಾರಿಗೆ ಹೇಳಿದರು ?

2 x 2 =4

16. "ಅಮ್ಮ ಹಿರಿಯವರು ಮತ್ತು ಕಿರಿಯವರು ಎನ್ನುವುದು ಮುಖ್ಯವಲ್ಲ." ಬಾಲಕ ನಾರಾಯಣ ಅಮ್ಮನಿಗೆ ಹೇಳಿದ ಮಾತು
17. " ಏನು ಕಂದಾ! ನೀನು ಯುದ್ಧದಲ್ಲಿ ಚಕ್ರವ್ಯೂಹವನ್ನು ಭೇದಿಸುವೆಯಾ? " ಅಭಿಮನ್ಯು ಧರ್ಮರಾಯನಿಗೆ ಹೇಳಿದ ಮಾತು

VII. ಈ ಪದ್ಯ ಪೂರ್ಣಗೊಳಿಸಿ.

1 x 2=2

18. ಬಾವಿಲಿ ಚಂದ್ರನ ಬಿಂಬವ ಕಂಡು
ಚಂದ್ರನು ಬಾವಿಗೆ ಬಿದ್ದನು ಎಂದು
ಅಯ್ಯೋ ! ಪಾಪವೆ ಎನ್ನುತಲೊಂದು
ಕೊಕ್ಕೆಯ ಹುಡುಕಿದರು.

VIII. ಹೊಂದಿಸಿ ಬರೆಯಿರಿ.4 x $\frac{1}{2}$ =2

19. ಸರ್ವಜ್ಞ ತ್ರಿಪದಿ
20. ಬೆಂಗಳೂರು ವಿಧಾನ ಸೌಧ
21. ಧರ್ಮರಾಯ ಅಭಿಮನ್ಯುವಿನ ದೊಡ್ಡಪ್ಪ
22. ಅಬ್ದುಲ್ ಕಲಾಂ ರಾಷ್ಟ್ರಪತಿ

IX. ಇವುಗಳಿಗೆ ಅರ್ಥ ಬರೆಯಿರಿ.

2x1=2

- 25) ಆಗಸ= ಬಾನು ಆಕಾಶ 26) ಋಷಿ=ಸಂತೋಷ

ಕೆಳಗಿನ ಪ್ರಶ್ನೆಗಳಿಗೆ 2-3 ವಾಕ್ಯಗಳಲ್ಲಿ ಉತ್ತರಿಸಿ.

3 x 3=9

23. ಧರ್ಮರಾಯನು ಚಿಂತಾಕ್ರಾಂತನಾಗಲು ಕಾರಣವೇನು?

ಉ:-----

24. ರೈಲು ನಿಲ್ದಾಣದಲ್ಲಿ ಏನೇನು ಸೌಲಭ್ಯಗಳಿರುತ್ತವೆ?

ಉ:-----

25. ನೊಗವನ್ನು ಹೇಗೆ ಮಾಡುವರು ?

ಉ:-----

ವಿದ್ಯಾರ್ಥಿ ಹೆಸರು:-_____

1.Fill in the blanks:-

5X1=5

(*Guitarist,brown,volleyball,bakery,master*)

- 1) The colour of the cow was _____
- 2) I am going to the _____ to buy some bread.
- 3) Hanumantha asked the sheep to call him_____
- 4) Arunima sinha was a _____player.
- 5) Mohan plays on the guitar ,he is a _____

2. Match the following Dance forms and the states

5X1=5

- | | |
|--------------------|----------------|
| 1) Bharatha natyam | Andra pradesh |
| 2) Kathak | karnataka |
| 3) Yakshagana | uttar pradesha |
| 4) kathakali | Tamilu nadu |
| 5) Kuchipudi | Kerala |

3. Give the opposites off :-

5X1=5

Big X _____ Happy X _____ Day X _____ Up X _____ White X _____

4.fill the missing letters :-

5X1=5

F _ R M ER S C H O _ L G R _ _ N H E R _ E T H E R _ _

5.Give the plurals forms off:-

5X1=5

wing _____ minister - _____ potato- _____ bench - _____ Book- _____

6.fill in the blanks with suitable prepositions:- (to, from,on ,in,at)

5X1=5

- 1) The clock is _____ the wall.
- 2) There are four members _____ my family.
- 3) I am coming _____ Bengaluru.
- 4) I went _____ the market.
- 5) My name is _____

7.Answer the following questions.

5X2=10

- 1) What different colours of balloons does the balloon man sell?

Ans : _____

- 1) Who led the shepherd boy to the throne?

Ans : _____

- 2) Name any two adventures games?

Ans : _____

- 3) Write the rhyming words for the following

a.fly _____ b.ring _____

- 4) write any two professions?

Ans : _____

Key answer

1.Fill in the blanks:-

5X1=5

- 1) The colour of the cow was **brown**
- 2) I am going to the **bakery** to buy some bread
- 3) Hanumantha asked the sheep to call him_____
- 4) Arunima sinha was a **volleyball** player.
- 5) Mohan plays on the guitar ,he is a **Guitarist**

2. Match the following animals with their sounds:-

5X1=5

- | | |
|--------------------|----------------|
| 1) Bharatha natyam | Tamilu nadu |
| 2) Kathak | uttar pradesha |
| 3) Yakshagana | karnataka |
| 4) kathakali | Kerala |
| 5) Kuchipudi | Andra pradesh |

3.Give the opposites off :-

5X1=5

Big X small Happy X unhappy Day X night Up X down White X black

4.fill the missing letters :-

5X1=5

FARMER SCHOOL GREEN HORS E E THERE

5.Give the plurals forms off:-

5X1=5

wing -WINGS minister - MINISTERS potato- potatoes bench – benches Book- books

6.fill ine the blanks with suitable prepositions:- (to, from,on ,in,at)

5X1=5

- 1) The clock is **on** the wall.
- 2) There are four members **in** my family.
- 3) Iam coming **from** Bengaluru
- 4) I went **to** the market.
- 5) My name is _____

7.Answer the following questions.

5X1=5

- 1) What different colours of balloons does the balloon man sell?

Ans: red purple blue green

- 2) Who led the shepherd boy to the throne?

Ans: emperor

- 3) Name any two adventures games?

Ans : rock climbing mountain climbing paragliding skating

- 4) Write the rhyiming words for the following

a. fly why high lie b.ring wing sing bring

- 5) write any two professions?

Ans : barber cobbler farmer teacher lawyer carpenter doctor

CONTINUOUS AND COMPREHENSIVE EVALUATION SCHOOL

SUMMATIVE EVALUATION- 2 2025-March.

CLASS:4TH SUBJECT:ENGLISH

ORAL EXAM

TOTAL MARKS:10

1. **Read a paragraph.** Lesson A unique painting
2. **READ THE POEM:-** Art
3. **READ THESE WORDS:** short mesh match cheek
cherry shaine
4. **READ THESE.** little kettle riddle battle middle
5. **SAY NUMBERS 1 TO 50.**
6. What is your name?
- 7 What is your father name?

8. What is your mother name?
9. What is your father?
10. What is your mother?
11. How old are you?
12. What are you studying?
13. Which is your native place?
14. Which is your school?
15. Which is your country?

Sl. no.	Name of the students Allotted marks	Question numbers										total
		1	2	3	4	5	6	7	8	9	10	
		1	1	1	1	1	1	1	1	1	1	
1												

ವಿದ್ಯಾರ್ಥಿ ಹೆಸರು:-_____

I. ಬಿಟ್ಟ ಸ್ಥಳ ತುಂಬಿರಿ:

6x1=6

- 1) 3 ರೂ. ಗೆ _____ ಪೈಸೆಗಳು.
- 2) 4 ಮೀ.ಗೆ _____ ಸೆಂ.ಮೀ.
- 3) 3 ಕಿ.ಗ್ರಾಂ. 560 ಗ್ರಾಂನ್ನು , ಗ್ರಾಂಗೆ ಪರಿವರ್ತಿಸಿದರೆ _____ ಗ್ರಾಂ ಆಗುವುದು.
- 4) ಮೇ ತಿಂಗಳಲ್ಲಿ ಒಟ್ಟು _____ ದಿನಗಳಿರುತ್ತವೆ.
- 4) ಅಧಿಕ ವರ್ಷಕ್ಕೆ _____ ದಿನಗಳು.
- 5) $5000 \times 50 =$ _____

II. ಉತ್ತರಿಸಿ:

4x1=4

- 1) ಕಂಭನಕ್ಕೆ ಎಂದರೇನು?

ಉ:_____

- 2) ಸಮಮಿತಿ ಆಕೃತಿಗೆ ಉದಾಹರಣೆ ಕೊಡಿ.

ಉ:_____

- 3) ಟ್ರಾನ್ಸ್‌ಗ್ರಾಂ ಎಂದರೇನು?

ಉ:_____


- 4) ಚೌಕ ಘನದಲ್ಲಿ ಎಷ್ಟು ಮುಖಗಳಿವೆ?

ಉ:_____

III. ಸಂಕ್ಷೇಪಿಸಿರಿ:

6x3=18

- 1) ಗಡಿಯಾರದ ಚಿತ್ರ ರಚಿಸಿ ಸಮಯ ಗುರ್ತಿಸಿರಿ. a. 5:50 b. 20:25



- 2) 1 ನೀರಿನ ಟ್ಯಾಂಕ್‌ನ ಹಿಡಿಪು 500ಲೀ. ಟ್ಯಾಂಕ್‌ನಲ್ಲಿ 375 ಲೀ ನೀರಿದೆ. ಟ್ಯಾಂಕ್ ತುಂಬಲು ಇನ್ನು ಎಷ್ಟು ನೀರಿನ ಅವಶ್ಯಕತೆ ಇದೆ?

ಉ:_____

- 3) ವಿಜಯ್ 40 ಕಿ.ಗ್ರಾಂ. ಅಕ್ಕಿ ಕೊಂಡು ಅದರಲ್ಲಿ 19 ಕಿ.ಗ್ರಾಂ. ಅಕ್ಕಿ ಉಪಯೋಗಿಸಿದರೆ ಉಳಿಯುವ ಅಕ್ಕಿ ಎಷ್ಟು?

ಉ:_____

- 4) ಗೀತಾಳ ಹತ್ತಿರ 18 ಮೀ. ಕೆಂಪು ಟೇಪು ಇದೆ. ಮತ್ತು 15 ಮೀ. ನೀಲಿ ಟೇಪು ಇದೆ. ಅವಳ ಬಳಿ ಇರುವ ಟೇಪಿನ ಉದ್ದ ಎಷ್ಟು?

ಉ:_____

5) ಮಸ್ತಕದ ಬೆಲೆ 75.25 ರೂ. ಆದರೆ 24 ಮಸ್ತಕಗಳ ಬೆಲೆ ಎಷ್ಟು?

ಉ:_____

6) 4 ಜನರು ಕೆಲಸ ಮಾಡಿ 8276 ರೂ. ಗಳಿಸಿದ್ದಾರೆ ಪ್ರತಿಯೊಬ್ಬರಿಗೂ ಬರುವ ಹಣ ಎಷ್ಟು?

ಉ:_____

IV. ಲೆಕ್ಕಗಳನ್ನು ಬಿಡಿಸಿರಿ:

4x1=4

- 1) 7200 ಮಿ.ಲೀ + 250 ಮಿ.ಲೀ 2) 32 ಕಿ.ಗ್ರಾ. 250 ಗ್ರಾಂ - 12ಕಿ.ಗ್ರಾಂ 250 ಗ್ರಾಂ. 3) 239 ಮೀ×3 4) 60÷5

V. ಬಿಡಿಸಿರಿ:

4x2=8

1) ಈ ದತ್ತಾಂಶಗಳಿಂದ ಕಂಭ ನಕ್ಷೆ ರಚಿಸಿರಿ.

ಸ್ಪರ್ಧೆಗಳ ಹೆಸರು	ಭಾವಗೀತೆ	ಚರ್ಚಾಸ್ಪರ್ಧೆ	ಪ್ರಬಂಧ	ಆಶುಭಾಷಣ
ಭಾಗವಹಿಸಿದ ವಿದ್ಯಾರ್ಥಿಗಳ ಸಂಖ್ಯೆ	10	20	25	5

2) ವರ್ಗಪಾಠ ಗೋಪುರ ಮತ್ತು ತ್ರಿಭುಜ ಪಾದ ಪಟ್ಟಕದ ಜಾಲಾಕೃತಿಗಳನ್ನು ಬರೆಯಿರಿ?

I. ಬಿಟ್ಟು ಸ್ಥಳ ತುಂಬಿರಿ:

6x1=6

- 1) 3 ರೂ. ಗೆ 300 ಪೈಸೆಗಳು.
- 2) 4 ಮೀ,ಗೆ 400 ಸೆಂ.ಮೀ.
- 3) 3 ಕಿ.ಗ್ರಾಂ. 560 ಗ್ರಾಂನ್ನು , ಗ್ರಾಂಗೆ ಪರಿವರ್ತಿಸಿದರೆ 3560 ಗ್ರಾಂ ಆಗುವುದು.
- 4) ಮೇ ತಿಂಗಳಲ್ಲಿ ಒಟ್ಟು 31 ದಿನಗಳಿರುತ್ತವೆ.
- 4) ಅಧಿಕ ವರ್ಷಕ್ಕೆ 366 ದಿನಗಳು.
- 5) $5000 \times 50 = 50000$

II. ಉತ್ತರಿಸಿ:

4x1=4

- 1) ಕಂಭನಕ್ಕೆ ಎಂದರೇನು?

ಉ:- ದತ್ತಾಂಶಗಳನ್ನು ನೇರ ಕಂಬಗಳಲ್ಲಿ ಪ್ರತಿನಿಧಿಸಲಾಗಿದೆ. ಇದನ್ನು ಕಂಬನಕ್ಕೆ ಅಥವಾ ಸ್ತಂಭನಕ್ಕೆ ಎನ್ನುವರು

- 2) ಸಮಮಿತಿ ಆಕೃತಿಗೆ ಉದಾಹರಣೆ ಕೊಡಿ.

ಉ:- ಆಯತ ಚೌಕ ಸಮಬಾಹು ತ್ರಿಭುಜ

- 3) ಟ್ಯಾನ್‌ಗ್ರಾಂ.ನಲ್ಲಿ ಎಷ್ಟು ಆಕೃತಿಗಳನ್ನು ಕಾಣುತ್ತೇವೆ?

ಉ: ಟ್ಯಾನ್‌ಗ್ರಾಂ.ನಲ್ಲಿ 7 ಆಕೃತಿಗಳನ್ನು ಕಾಣುತ್ತೇವೆ

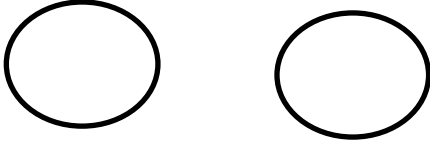
- 4) ಚೌಕ ಘನದಲ್ಲಿ ಎಷ್ಟು ಮುಖಗಳಿವೆ?

ಉ: 6

III. ಸಂಕ್ಷೇಪಿಸಿರಿ:

6x3=18

- 1) ಗಡಿಯಾರದ ಚಿತ್ರ ರಚಿಸಿ ಸಮಯ ಗುರ್ತಿಸಿರಿ. a. 5:50 b. 20:25



- 2) 1 ನೀರಿನ ಟ್ಯಾಂಕ್‌ನ ಹಿಡಿಪು 500ಲೀ. ಟ್ಯಾಂಕ್‌ನಲ್ಲಿ 375 ಲೀ. ನೀರಿದೆ. ಟ್ಯಾಂಕ್ ತುಂಬಲು ಇನ್ನು ಎಷ್ಟು ನೀರಿನ ಅವಶ್ಯಕತೆ ಇದೆ?

ನೀರಿನ ಟ್ಯಾಂಕ್‌ನ ಹಿಡಿಪು 500ಲೀ.

ಟ್ಯಾಂಕ್‌ನಲ್ಲಿರುವ ನೀರು -375 ಲೀ.

ಅವಶ್ಯಕತೆ ಇರುವ ನೀರು 125 ಲೀ.

- 3) ವಿಜಯ್ 40 ಕಿ.ಗ್ರಾಂ. ಅಕ್ಕಿ ಕೊಂಡು ಅದರಲ್ಲಿ 19 ಕಿ.ಗ್ರಾಂ. ಅಕ್ಕಿ ಉಪಯೋಗಿಸಿದರೆ ಉಳಿಯುವ ಅಕ್ಕಿ ಎಷ್ಟು?

ವಿಜಯ್ ಕೊಂಡ ಅಕ್ಕಿ 40 ಕಿ.ಗ್ರಾಂ

ಉಪಯೋಗಿಸಿದ ಅಕ್ಕಿ -19 ಕಿ.ಗ್ರಾಂ

ಉಳಿದ ಅಕ್ಕಿ 21 ಕಿ.ಗ್ರಾಂ

- 4) ಗೀತಾಳ ಹತ್ತಿರ 18 ಮೀ. ಕೆಂಪು ಟೇಪು ಇದೆ. ಮತ್ತು 15 ಮೀ. ನೀಲಿ ಟೇಪು ಇದೆ. ಅವಳ ಬಳಿ ಇರುವ ಒಟ್ಟು ಟೇಪಿನ ಉದ್ದ ಎಷ್ಟು?

ಕೆಂಪು ಟೇಪಿನ ಉದ್ದ 18 ಮೀ.

ನೀಲಿ ಟೇಪಿನ ಉದ್ದ 15 ಮೀ.

ಒಟ್ಟು ಟೇಪಿನ ಉದ್ದ 33 ಮೀ.

- 5) ಪುಸ್ತಕದ ಬೆಲೆ 75.25 ರೂ. ಆದರೆ 24 ಪುಸ್ತಕಗಳ ಬೆಲೆ ಎಷ್ಟು?

ಒಂದು ಪುಸ್ತಕದ ಬೆಲೆ 75.25 ರೂ

24 ಪುಸ್ತಕಗಳ ಬೆಲೆ = $75.25 \times 24 = 1808$ ರೂ.

6) 4 ಜನರು ಕೆಲಸ ಮಾಡಿ 8276 ರೂ. ಗಳಿಸಿದ್ದಾರೆ ಪ್ರತಿಯೊಬ್ಬರಿಗೂ ಬರುವ ಹಣ ಎಷ್ಟು?

ಕೆಲಸ ಮಾಡಿದ ಜನರು - 4

ಕೆಲಸ ಮಾಡಿ ಗಳಿಸಿದ ಹಣ 8276 ರೂ.

ಪ್ರತಿಯೊಬ್ಬರಿಗೂ ಬರುವ ಹಣ $8276 \div 4 = 2069$ ರೂ.

IV. ಲೆಕ್ಕಗಳನ್ನು ಬಿಡಿಸಿರಿ:

- 1) 7450 ಮಿ.ಲೀ 2) 20 ಗ್ರಾಂ. 3) 717 ಮೀ 4) 12

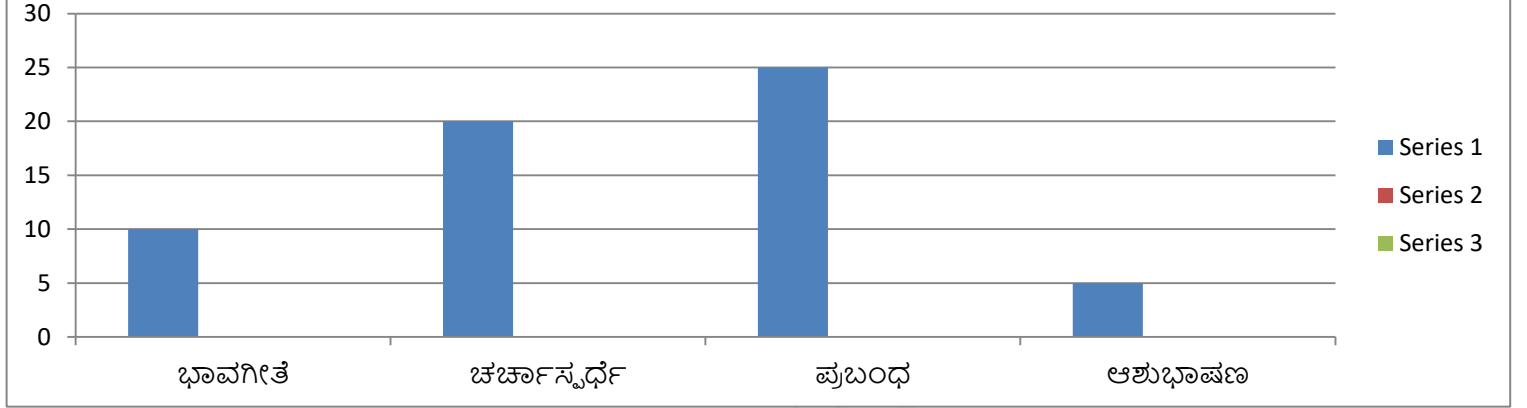
4x1=4

ಬಿಡಿಸಿರಿ:

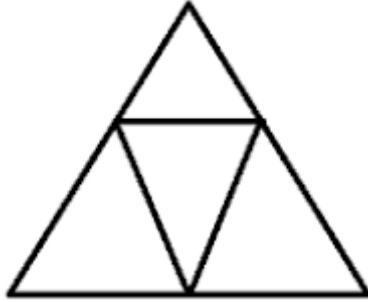
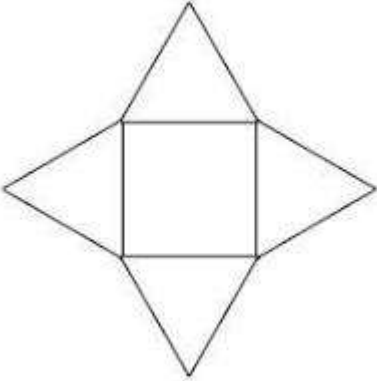
- 1) ಈ ದತ್ತಾಂಶಗಳಿಂದ ಕಂಭ ನಕ್ಷೆ ರಚಿಸಿರಿ.

4x2=8

ಸ್ಪರ್ಧೆಗಳ ಹೆಸರು	ಭಾವಗೀತೆ	ಚರ್ಚಾಸ್ಪರ್ಧೆ	ಪ್ರಬಂಧ	ಆಶುಭಾಷಣ
ರಾಗಹಿರಿಸಿದ ವಿದ್ಯಾರ್ಥಿಗಳ ಸಂಖ್ಯೆ	10	20	25	5



- 2 ವರ್ಗಪಾದ ಗೋಪುರ ಮತ್ತು ತ್ರಿಭುಜ ಪಾದ ಪಟ್ಟಕದ ಜಾಲಾಕೃತಿಗಳನ್ನು ಬರೆಯಿರಿ?



ವಿದ್ಯಾರ್ಥಿ ಹೆಸರು:-_____

I.ಹೊಂದಿಸಿ ಬರೆಯಿರಿ :-

4 x 1=4

- | | |
|----------------------|---------------|
| 1] ಕಿವಿರು | ವಾಯುಸಾರಿಗೆ |
| 2] ವಿಮಾನ | ಹಾಸನ ಜಿಲ್ಲೆ |
| 3] ಬುಟ್ಟಿ ಹೆಣೆಯುವುದು | ಮೀನು |
| 4] ಶ್ರವಣಬೆಳಗೊಳ | ಗುಡಿ ಕೈಗಾರಿಕೆ |

II.ಬಿಟ್ಟ ಸ್ಥಳವನ್ನು ಸೂಕ್ತ ಪದಗಳಿಂದ ತುಂಬಿರಿ:-

4 x 1=4

- 1] ರಕ್ತವನ್ನು ಶುದ್ಧೀಕರಿಸುವ ಅಂಗ _____
- 2] ಕಾಮನ ಬಿಲ್ಲಿನಲ್ಲಿರುವ ಬಣ್ಣಗಳ ಸಂಖ್ಯೆ _____
- 3] ನಮ್ಮ ಕರ್ನಾಟಕ ರಾಜ್ಯವು ಭಾರತ ದೇಶದ _____ ದಿಕ್ಕಿನಲ್ಲಿದೆ.
- 4] ನಮ್ಮ ದೇಶದ ಈಗಿನ ಪ್ರಧಾನ ಮಂತ್ರಿಯ ಹೆಸರು _____

III.ಸರಿ ತಪ್ಪು ಗುರುತಿಸಿ ಬರೆಯಿರಿ :-

4 x 1=4

- 1] ರಸ್ತೆ ದಾಟಲು ರಿಬ್ಬಾ ಪಟ್ಟಿಯನ್ನು ಬಳಸಬೇಕು. _____
- 2] ಹಲ್ಲನ್ನು ವಾರಕ್ಕೊಂದು ಬಾರಿ ಉಜ್ಜಬೇಕು. _____
- 3] ಅಂಚೆಪದ್ಧತಿ ಅತಿ ವೇಗದ ಸಂಪರ್ಕ ಸಾಧನವಾಗಿದೆ. _____
- 4] ಪ್ರೋಲೀಸರ ಮುಖ್ಯ ಕೆಲಸ ಬಸ್ ಚಾಲನೆ. _____

IV.ಒಂದು ವಾಕ್ಯದಲ್ಲಿ ಉತ್ತರಿಸಿ -

4 x 2=8

- 1] ದಾದಾ ಪಾಲ್ಕೆ ಪ್ರಶಸ್ತಿ ಪಡೆದ ಕನ್ನಡದ ನಟ ಯಾರು?
ಉ:- _____
- 2] ಕಿತ್ತೂರು ರಾಣಿ ಚೆನ್ನಮ್ಮ ಜನಿಸಿದ ಊರಿನ ಹೆಸರೇನು ?
ಉ:- _____
- 3] ಸರ್ ಎಂ ವಿಶ್ವೇಶ್ವರಯ್ಯನವರಿಗೆ ಭಾರತ ಸರ್ಕಾರ ನೀಡಿದ ಅತ್ಯುನ್ನತ ಪ್ರಶಸ್ತಿ ಯಾವುದು?
ಉ:- _____
- 4] ನಾವು ಆಚರಿಸುವ ರಾಷ್ಟ್ರೀಯ ಹಬ್ಬಗಳು ಯಾವುವು ?
ಉ:- _____

V.ಕೆಳಗಿನ ಪ್ರಶ್ನೆಗಳಿಗೆ 3-4 ವಾಕ್ಯಗಳಲ್ಲಿ ಉತ್ತರಿಸಿ :-

- 1] ಸಾರಿಗೆಯ ಮೂರು ವಿಧಗಳು ಯಾವುವು ? ಉದಾಹರಣೆ ಕೊಡಿ ?
ಉ: _____

3

2] ನಿಮ್ಮ ಕುಟುಂಬದ ವಂಶ ವೃಕ್ಷ ರಚಿಸಿ ?

3

ಉ:

3] ರಸ್ತೆ ಬದಿಯ ಈ ಸಂಕೇತಗಳು ಏನನ್ನು ಸೂಚಿಸುತ್ತವೆ ?

4



4] ಮಕ್ಕಳು ಆಟವಾಡುವುದರಿಂದ ಆಗುವ ಪ್ರಯೋಜನಗಳೇನು ?

3

ಉ:

5] ನಮ್ಮ ರಾಜ್ಯದ ನೆರೆಹೊರೆಯ ರಾಜ್ಯಗಳಾವುವು?

3

ಉ:

VI.ಟಿಪ್ಪಣಿ ಬರೆಯಿರಿ :-

2 x 2=4

1] ಬೆಂಗಳೂರಿನ ಪ್ರೇಕ್ಷಣೀಯ ಸ್ಥಳಗಳು

ಉ:

2] ನೀರು ಮಲಿನವಾಗದಂತೆ ತಡೆಯುವ ಕ್ರಮಗಳು.

ಉ:

ವಿದ್ಯಾರ್ಥಿ ಹೆಸರು:-_____

I.ಹೊಂದಿಸಿ ಬರೆಯಿರಿ :-

4 x 1=4

- | | |
|----------------------|---------------|
| 1] ಕಿವಿರು | ಮೀನು |
| 2] ವಿಮಾನ | ವಾಯುಸಾರಿಗೆ |
| 3] ಬುಟ್ಟಿ ಹೆಣೆಯುವುದು | ಗುಡಿ ಕೈಗಾರಿಕೆ |
| 4] ಶ್ರವಣಬೆಳಗೊಳ | ಹಾಸನ ಜಿಲ್ಲೆ |

II.ಬಿಟ್ಟ ಸ್ಥಳವನ್ನು ಸೂಕ್ತ ಪದಗಳಿಂದ ತುಂಬಿರಿ:-

4 x 1=4

- 1] ರಕ್ತವನ್ನು ಶುದ್ಧೀಕರಿಸುವ ಅಂಗ ಹೃದಯ
- 2] ಕಾಮನ ಬಿಲ್ಲಿನಲ್ಲಿರುವ ಬಣ್ಣಗಳ ಸಂಖ್ಯೆ 7
- 3] ನಮ್ಮ ಕರ್ನಾಟಕ ರಾಜ್ಯವು ಭಾರತ ದೇಶದ ದಕ್ಷಿಣ ದಿಕ್ಕಿನಲ್ಲಿದೆ.
- 4] ನಮ್ಮ ದೇಶದ ಈಗಿನ ಪ್ರಧಾನ ಮಂತ್ರಿಯ ಹೆಸರು ನರೇಂದ್ರ ಮೋದಿ

III.ಸರಿ ತಪ್ಪು ಗುರುತಿಸಿ ಬರೆಯಿರಿ :-

4 x 1=4

- 1] ರಸ್ತೆ ದಾಟಲು ಝೀಬ್ರಾ ಪಟ್ಟಿಯನ್ನು ಬಳಸಬೇಕು - ಸರಿ
- 2] ಹಲನ್ನು ವಾರಕ್ಕೊಂದು ಬಾರಿ ಉಜ್ಜಬೇಕು. ತಪ್ಪು-
- 3] ಅಂಚೆಪದ್ಧತಿ ಅತಿ ವೇಗದ ಸಂಪರ್ಕ ಸಾಧನವಾಗಿದೆ. - ತಪ್ಪು
- 4] ಪೋಲೀಸರ ಮುಖ್ಯ ಕೆಲಸ ಬಸ್ ಚಾಲನೆ. - ತಪ್ಪು

IV.ಒಂದು ವಾಕ್ಯದಲ್ಲಿ ಉತ್ತರಿಸಿ -

4 x 1=4

- 1] ದಾದಾ ಪಾಲ್ಕೆ ಪ್ರಶಸ್ತಿ ಪಡೆದ ಕನ್ನಡದ ನಟ ಯಾರು ?

ಉ:- ಡಾ. ರಾಜಕುಮಾರ್

- 2] ಕಿತ್ತೂರು ರಾಣಿ ಚೆನ್ನಮ್ಮ ಜನಿಸಿದ ಊರಿನ ಹೆಸರೇನು ?

ಉ:- ಕಾಕತಿ

- 3] ಸರ್ ಎಂ ವಿಶ್ವೇಶ್ವರಯ್ಯನವರಿಗೆ ಭಾರತ ಸರ್ಕಾರ ನೀಡಿದ ಅತ್ಯುನ್ನತ ಪ್ರಶಸ್ತಿ ಯಾವುದು?

ಉ:- ಭಾರತರತ್ನ

- 4] ನಾವು ಆಚರಿಸುವ ರಾಷ್ಟ್ರೀಯ ಹಬ್ಬಗಳು ಯಾವುವು ?

ಉ: ಸ್ವಾತಂತ್ರ್ಯ ದಿನಾಚರಣೆ ಗಣರಾಜ್ಯೋತ್ಸವ ಶಿಕ್ಷಕರ ದಿನಾಚರಣೆ ಮಕ್ಕಳ ದಿನಾಚರಣೆ

V.ಕೆಳಗಿನ ಪ್ರಶ್ನೆಗಳಿಗೆ 3-4 ವಾಕ್ಯಗಳಲ್ಲಿ ಉತ್ತರಿಸಿ :-

3

- 1] ಸಾರಿಗೆಯ ಮೂರು ವಿಧಗಳು ಯಾವುವು ? ಉದಾಹರಣೆ ಕೊಡಿ ?

ರಸ್ತೆ ಸಾರಿಗೆ ಜಲಸಾರಿಗೆ ವಾಯುಸಾರಿಗೆ ಮತ್ತು ಇದಕ್ಕೆ ಉದಾಹರಣೆ

- 2] ನಿಮ್ಮ ಕುಟುಂಬದ ವಂಶ ವೃಕ್ಷ ರಚಿಸಿ ?

3

3] ರಸ್ತೆ ಬದಿಯ ಈ ಸಂಕೇತಗಳು ಏನನ್ನು ಸೂಚಿಸುತ್ತವೆ ?

4



4] ಮಕ್ಕಳು ಆಟವಾಡುವುದರಿಂದ ಆಗುವ ಪ್ರಯೋಜನಗಳೇನು ?

3

ಉ: _____

5] ನಮ್ಮ ರಾಜ್ಯದ ನೆರೆಹೊರೆಯ ರಾಜ್ಯಗಳಾವುವು?

3

ಉ: _____

VI.ಟಿಪ್ಪಣಿ ಬರೆಯಿರಿ :-

2 x 2=4

1] ಬೆಂಗಳೂರಿನ ಪ್ರೇಕ್ಷಣೀಯ ಸ್ಥಳಗಳು

ಉ: _____

2] ನೀರು ಮಲಿನವಾಗದಂತೆ ತಡೆಯುವ ಕ್ರಮಗಳು.

ಉ: _____

ಇದನ್ನೇ ಯಥಾವತ್ತಾಗಿ ಬಳಸದೆ ಕೇವಲ ಒಂದು ಮಾದರಿಗಾಗಿ ಬಳಸುವುದು

ಶ್ರೀನಿವಾಸ್ ಮೂರ್ತಿ

ಸಹಶಿಕ್ಷಕರು ಸ.ಹಿ.ಪ್ರಾ.ಶಾಲೆ ಕೆಂಜಿಗನಹಳ್ಳಿ

ದೊಡ್ಡಬಳ್ಳಾಪುರ ತಾ. ಬೆಂಗಳೂರು ಗ್ರಾಮಾಂತರ ಜಿಲ್ಲೆ

9481806802

ವಾಟ್ಸಾಪ್ ಗ್ರೂಪ್ ಹೆಸರು: ಶಿಕ್ಷಕರಿಗಾಗಿ



2024