

ضلع

تعلق

سرکاری اردو لوئر / پرائمری اسکول

دوم ششماہی امتحان سوالاتی پرچہ مارچ 2024

وقت: 90 منٹ

مارکس: 40

جماعت: III سوم

مضمون: اردو

نام:

$1 \times 4 = 4$

I مناسب جواب چن کر خانہ پوری کرو۔ {پرچم - مصوری - بہادر - ٹھنڈی}

1 آر کے لکشمین نے \_\_\_\_\_ کا مشغلہ جاری رکھا۔

2 علم کا \_\_\_\_\_ ہاتھ میں لے کر

3 زیادہ گرم یا زیادہ \_\_\_\_\_ غذا نہ کھائیں۔

4 ٹیپو سلطان رحمۃ اللہ علیہ نیک اور رحم دل اور \_\_\_\_\_ بادشاہ تھے۔

$1 \times 4 = 4$

II مناسب جواب چن کر درجہ ذیل کے اضداد لکھو۔ {بیرونی - فائدہ - شام - غریب}

5 امیر x \_\_\_\_\_

6 صبح x \_\_\_\_\_

7 نقصان x \_\_\_\_\_

8 اندرونی x \_\_\_\_\_

$1 \times 4 = 4$

III مناسب جواب چن کر درجہ ذیل کی جمع لکھو۔ {گھروں جانوروں اسباق نعمتوں}

9 جانور + \_\_\_\_\_

10 گھر + \_\_\_\_\_

11 نعمت + \_\_\_\_\_

12 سبق + \_\_\_\_\_

$2 \times 10 = 2$

IV درجہ ذیل سوالوں کے جواب دو یا تین جملوں میں لکھو

13 آر کے لکشمین کا پورا نام کیا ہے؟

جواب:

14 راگی استعمال کے کوئی دو فائدے بتلائیے؟

جواب:

-----

-----

-----

15 علم حاصل کرنے میں کس کی عزت ہے؟

جواب: \_\_\_\_\_

16 منہ سے بدبو آنے کی وجہ کیا ہے؟

جواب: \_\_\_\_\_

17 درختوں سے حاصل ہونے والے چند پھولوں کے نام بتائیے؟

جواب: \_\_\_\_\_

18 ٹیپو سلطان رحمۃ اللہ علیہ کا مشہور قول کیا ہے؟

جواب: \_\_\_\_\_

19 کم خرچ والی سواری کونسی ہے

جواب: \_\_\_\_\_

20 لوگ غریب آدمی کو کوئی کام کیوں نہیں دیتے تھے؟

جواب: \_\_\_\_\_

21 کواچونچ میں روٹی لانے کے بعد کیا کرتا ہے؟

جواب: \_\_\_\_\_

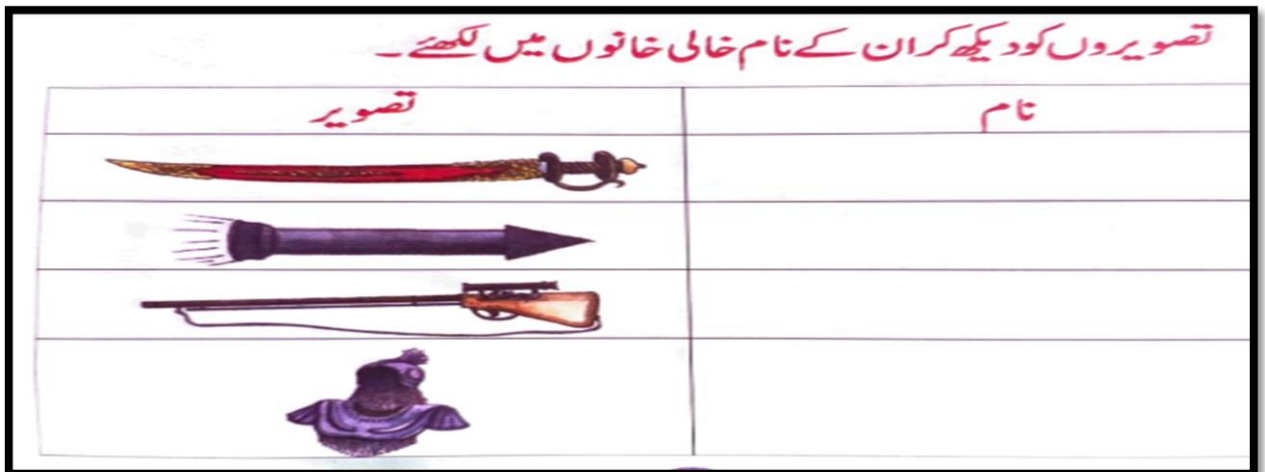
22 بزرگ فقیر نے بچے سے کیا کہا؟

جواب: \_\_\_\_\_

$$4 \times 2 = 8$$

V تفصیلی جواب لکھیے؟

23



---

---

---

---

---

---

---

---

---

---

## دوم ششماہی امتحان مارچ 2024

### جوابی پرچہ

مضمون: اردو جماعت: III سوم مارکس: 40 وقت: 90 منٹ

I مناسب جواب چن کر خانہ پوری کرو۔ (1)۔ مصوری (2) پرچم (3) ٹھنڈی (4) بہادر

II مناسب جواب چن کر درجہ ذیل کے اعداد لکھو۔ (5) غریب (6) شام (7) فائدہ (8) بیرونی۔

III مناسب جواب چن کر درجہ ذیل کی جمع لکھو۔ (9) جانوروں (10) گھروں (11) نعمتوں (12) اسباق

IV درجہ ذیل سوالوں کے جواب دو یا تین جملوں میں لکھو۔

(13) آر کے لکشمین کا پورا نام راسی پورم کرشنا سوامی ایئر لکشمین ہے

(14) راگی استعمال سے جسم کو طاقت و قوت حاصل ہوتی ہے۔ شکر کی بیماری ذیابیطس کے مریضوں کے لئے یہ بے حد مفید ہے اس کے علاوہ راگی کو دوا کے طور پر بھی استعمال کیا جاتا ہے۔

(15) قوم کی عزت دولت اور حکمت علم ہی سے ہوتی ہے۔

(16) جب ہم رات میں کچھ کھاتے ہیں تو بہت سارے غذائی اجزاء ہمارے دانتوں کے درمیان پھنسے رہ جاتے ہیں۔ وہ غذائی اجزاء سڑنے لگتے ہیں۔ ان میں جرائم پیدا ہوتے ہیں ان سے نہ صرف ہمارے منہ سے بدبو آتی ہے بلکہ ہمارے دانت بھی سڑھ جاتے ہیں

(17) آم امر دسیب سینٹا پھل انگور انار کیلا پینٹا

(18) "گیدڑ کی سو سالہ زندگی سے شیر کی ایک دن زندگی بہتر ہے"

(19) کم خرچ والی سواری سہانگی ہے

(20) لوگ غریب آدمی کو کوئی کام اس لئے نہیں دیتے تھے کہ وہ بہت کاہل تھا۔

21 کو اچھ میں روٹی لانے کے بعد کانیں کانیں کر کے سب کو بلاتا ہے

22 اے لڑکے۔۔۔۔ تیری خوش نصیبی تجھے ایک دن ریاست کا حکمران بنائے گی اور جب وہ وقت آئے گا تو اس جگہ ایک ایسی عالی شان مسجد تعمیر کر جو زمانے میں تیری یاد گار رہے۔

V تفصیلی جواب لکھیے؟

23 تلوار راکٹ بندوق زرہ بکتر

24 ترانہ علم نظم

## دوم ششماہی زبانی امتحان مارچ 2024

مارکس: 10 وقت:

جماعت: III سوم

مضمون: اردو

I درجہ ذیل سوالوں کے جواب دو۔

- 1 آر کے لکشمین کون ہیں؟
- 2 کرناٹک میں زیادہ تر کس اناج کا استعمال ہوتا ہے
- 3 بچوں کے ہاتھ میں کیا ہونا چاہیے
- 4 ایک دن میں کتنے بار برش کرنا چاہیے
- 5 دو اینیاں کس سے بنتی ہیں
- 6 ٹیپو سلطان کے والدین کا نام لکھئے
- 7 سلینگل کس کا بوجھ اٹھاتی ہے
- 8 غریب آدمی نے کیا عہد کیا۔
- 9 کس پرندے میں بانٹ کر کھانے کی عادت ہوتی ہے
- 10 شکر کے مریضوں کے لئے کونسی غذا مفید ہے

زبانی سوالات کے جوابات

- 1 آر کے لکشمین ہندوستان کے ایک مشہور کارٹونسٹ ہیں
- 2 کرناٹک میں زیادہ تر راگی اناج کا استعمال ہوتا ہے
- 3 بچوں کے ہاتھ میں علم کا پرچم ہونا چاہیے
- 4 ایک دن میں دو بار برش کرنا چاہیے
- 5 دو اینیاں پھلوں پتوں بیجوں جڑوں پھولوں چھالوں سے بنتی ہیں
- 6 ٹیپو سلطان کے والد حیدر علی اور والدہ فاطمہ بیگم تھیں
- 7 سلینگل غریبوں کا بوجھ اٹھاتی ہے
- 9 نوآپرندے میں بانٹ کر کھانے کی عادت ہوتی ہے
- 10 شکر کے مریضوں کے لئے راگی غذا مفید ہے



## تلخیصی قدریہ پائی۔ ششماہی دوم 2024

وقفہ: 90 منٹ

نشانات: 40

مضمون: اردو

جماعت: III سوم

### 1- مقاصد کی بنا پر نشانات کی تقسیم

نمبر شمار	مقاصد	فیصد	سوالات کی تعداد	نشانات
1	معلومات	25%	06	10
2	ادراک / تفہیم	35%	10	14
3	اطلاق / اظہار	30%	07	12
4	مہارت / مدح	10%	01	04
5	جملہ	100%	24	40

\* زبانہائی: 1- معلومات، 2- تفہیم، 3- اظہار، 4- مدح \* بنیادی مضامین: 1- معلومات، 2- ادراک، 3- اطلاق، 4- مہارت

### 2- سوالات کی بنیاد پر نشانات کی تقسیم

نمبر شمار	نوعیت	فیصد	سوالات کی تعداد	نشانات
1	معروضی	33%	12	12
2	مختصر جوابی	47%	10	20
3	تفصیلی	20%	02	08
4	جملہ	100%	24	40

### 3- دقیقیت کی سطح کی بنیاد پر نشانات کی تقسیم

نمبر شمار	دقیقیت کی سطح	فیصد	سوالات کی تعداد	نشانات
1	آسان	30%	07	12
2	اوسط	40%	10	16
3	مشکل	30%	07	12
4	جملہ	100%	24	40



#### 4۔ اسباق / یونٹ کی بنیاد پر نشانات کی تقسیم

نمبر شمار	اسباق / یونٹ کے نام	فیصد	سوالات	نشانات
1	آر کے لکشمین	10	03	04
2	راگی	10	03	04
3	ترانہء علم	17.5	03	07
4	دانتوں کی صحت اب اپنے ہاتھ	12.5	03	05
5	درختوں کی کہانی انہیں کی زبانی	10	03	04
6	ٹیپو سلطان رحمۃ اللہ علیہ	20	03	08
7	سلاہنگل	7.5	02	03
8	وقت کی قیمت	5	02	02
9	کوا	7.5	02	03
	جملہ	100%	24	40

دستخط میر معلم / معلمہ

دستخط معلم / معلمہ



blue's print نیلا نقشہ / بلو خاکہ

وقتہ: 90 منٹ

نشانات: 40

مضمون: اردو

جماعت: III سوم

نشانات	سوالات	مدح/مہارت			اظہار/اطلاق			تفہیم/ادراک			معلومات			اکائیاں	نمبر شمار
		تفصیلی	مختصر	معروضی	تفصیلی	مختصر	معروضی	تفصیلی	مختصر	معروضی	تفصیلی	مختصر	معروضی		
04	03						1(1)			1(1)		1(2)		آر کے لکشمین	1
04	03						1(1)		1(2)	1(1)				راگی	2
07	03	1(4)							1(2)				1(1)	ترانہ علم	3
05	03								1(2)	1(1)		1(2)		دانتوں کی صحت اب اپنے ہاتھ	4
04	03					1(2)	1(1)			1(1)				درختوں کی کہانی انہیں کی زبانی	5
08	03				1(4)				1(2)			1(2)		ٹیپو سلطان رحمۃ اللہ علیہ	6
03	02					1(2)				1(1)				سلاٹنگل	7
02	02						1(1)						1(1)	وقت کی قیمت	8
03	02									1(1)		1(2)		کوا	9
40	24		1(4)			7(12)			10(14)			6(10)		جملہ	10

نوٹ: قوس کے اندر نشانات اور قوس کے باہر سوالات کی تعداد درج ہے۔

دستخط میر معلم / معلمہ

دستخط معلم / معلمہ





**SUMMATIVE ASSESSMENT – 2**

**2023 -24**

**CLASS: 3<sup>rd</sup> Std**

**PREPARED BY: MAHEJABEEN HALWAI**

**SCHOOL: GOVT URDU HIGHER PRIMARY GIRLS  
SCHOOL NAVALGUND, DHARWAD**

SECOND SUMMATIVE EXAMINATION 23-24

SCHOOL: .....

STUDENT NAME: ..... ROLL NO: .....

SUBJECT: ENGLISH

CLASS : 3<sup>RD</sup>

MARKS: 40

I. READ THE WORDS GIVEN IN THE BOX, WRITE THE NAME OF THE SPORT/GAME BELOW EACH PICTURE.

(Hockey, Swimming, Table Tennis, Badminton,)

1X4=4



1. .... 2..... 3..... 4.....

II. FILL IN THE BLANKS WITH THE MISSING LETTERS, USE ONLY (A, E, I, O, U) 1X4=4

5. C\_\_mp\_\_t\_\_r    6. R\_\_d\_\_o    7. N\_\_wsp\_\_p\_\_rs    8. T\_\_leph\_\_n\_\_

III. COPY THE SENTENCES IN THE LINES GIVEN BELOW.

1X2=2

9. Health is Wealth

-----  
-----  
-----  
-----

10. Cleanliness is next to Godliness

-----  
-----  
-----  
-----

IV. (11) READ THE SENTENCES AND WRITE YES OR NO

1x4=4

- a. I respect the umpires decision \_\_\_\_\_
- b. I play games and I always win \_\_\_\_\_
- c. I hate others if I lost the game \_\_\_\_\_
- d. I follow the rules of the game \_\_\_\_\_

V. (12) MATCH THE FOLOWING

1x4=4

- | A         | B       |
|-----------|---------|
| a. Bird   | Pens    |
| b. Tree   | Birds   |
| c. Pen    | Flowers |
| d. Flower | Trees   |

VI. (13) CIRCLE THE WORD THAT DOES NOT BELONG TO THE GROUP.

1X4=4

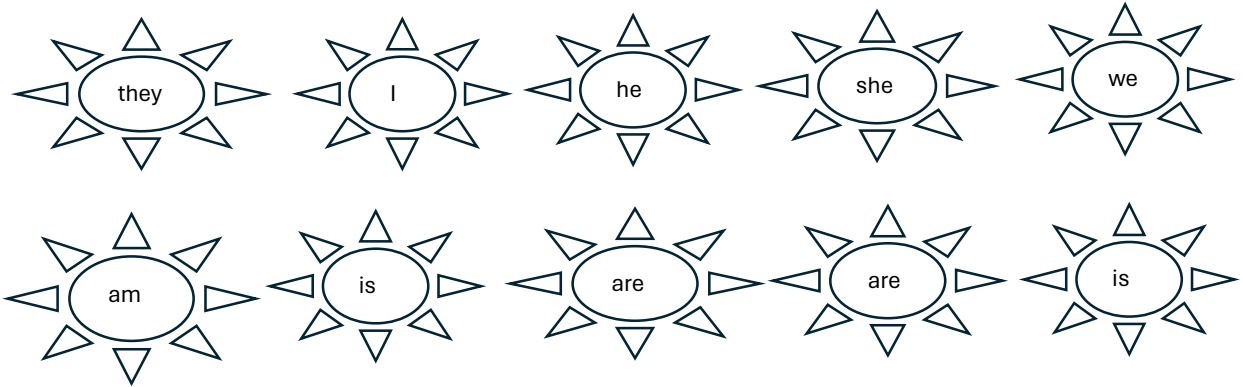
- a. Doctor, Teacher, Nurse, Patient
- b. Tablets, Dettol, First aid Box, Soap
- c. Winter, Cough, Cold, Headache
- d. Scissors, Bandage, Plaster, Paste

VII. (14) REARRANGE THE LETTERS TO GET THE NAMES OF TREES

1X4=4

- a. ncuocot \_\_\_\_\_ b. yanbna \_\_\_\_\_  
c. enem \_\_\_\_\_ d. abanan \_\_\_\_\_

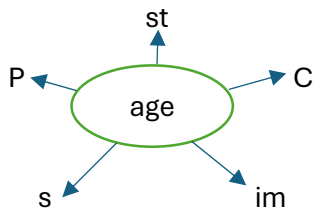
VIII. JOIN THE CORRECT PAIRS. WRITE THE WORDS IN THE SPACE PROVIDED. 1X5=5



15. \_\_\_\_\_ 16. \_\_\_\_\_ 17. \_\_\_\_\_ 18. \_\_\_\_\_ 19. \_\_\_\_\_

IX. 20. MAKE NEW WORDS

1X5=5



- a. \_\_\_\_\_  
b. \_\_\_\_\_  
c. \_\_\_\_\_  
d. \_\_\_\_\_  
e. \_\_\_\_\_

X. ANSWER THE FOLLOWING

1X4=4

21. Where was Manu going ?

\_\_\_\_\_

22. Who did Manu asker for water?

\_\_\_\_\_

23. Who disappeared from the sky suddenly?

\_\_\_\_\_

24. Where was the beehive?

The Beehive was \_\_\_\_\_ of the tree. (on the branch / in the hollow)

**SECOND SUMMATIVE EXAMINATION 23-24**

**Answer sheet.**

**SUBJECT: ENGLISH**

**CLASS: 3<sup>RD</sup>**

**MARKS: 40**

1. Badminton
2. Hockey
3. Table Tennis
4. Swimming
5. Computer
6. Radio
7. Newspaper
8. Telephone
9. Health is Wealth
10. Cleanliness is next to Godliness.
11. a. Yes b. No c. No d. Yes
12. a. Birds b. Trees c. Pens d. Flowers
13. a. Patient b. Soap c. Winter d. Paste
14. a. Coconut b. Banyan c. Neem d. Banana
15. I am.
16. He is.
17. They are.
18. She is.
19. We are.
20. a. Stage b. Image c. Sage d. Cage e. Page
21. Manu was going to Grandma's house.
22. Manu asked for water to the shopkeeper.
23. Sun disappeared from the sky suddenly.
24. In the hollow.

**SECOND SUMMATIVE EXAMINATION 23-24**

**Oral questions**

**SUBJECT: ENGLISH**

**CLASS: 3<sup>RD</sup>**

**MARKS: 10**

1. Which is your favourite game?
2. Who is your favourite player?
3. Why was the sun shocked?
4. What was the woman searching?
5. What did the sun decide to do in the end?
6. Give some examples of Indoor games?
7. Give some examples of outdoor games?
8. What will you say when someone wins the game?
9. Plural forms of child / knife?
10. Rhyming word of hot / nut / wake?

**SECOND SUMMATIVE EXAMINATION 23-24**

**Oral Answers**

**SUBJECT: ENGLISH**

**CLASS: 3<sup>RD</sup>**

**MARKS: 10**

- 1.
- 2.
3. The Sun was shocked because he saw what everybody was doing while he was resting.
4. The woman was searching 500 Rs note.
5. The Sun decided to give up his holiday and shine again in the end.
6. Carrom, Chess, Table Tennis.
7. Cricket, Football, Hockey, Volleyball
8. Congratulations.
9. Children / Knives
10. Hot- Pot/ Nut - Cut / Wake -Fake

# مجموعی قدر پیمائی-2 2023-24

مضمون: علم

جماعت: سوّم



تیار کردہ: خواجہ معین الدین قاضی معاون معلم سرکاری اردو ہائیر پرائمری اسکول مسکی، تعلقہ: لنگسور

نمونہ سوالی پرچہ مجموعی قدر پیمائی - 2 2023-24

مدرسہ: سرکاری اُردو لائبریری / ہائیر پرائمری اسکول

جماعت: سوّم مضمون: علم ریاضی نشانات: 30 وقفہ 90 منٹ


طالب علم کا نام: \_\_\_\_\_ رول نمبر: \_\_\_\_\_ مورخہ: \_\_\_\_\_

$1 \times 4 = 4$

سوال نمبر 1: صحیح جواب کا انتخاب کر کے لکھیں۔

(1) تقسیم کی علامت (A) "+" (B) "-" (C) "x" (D) "÷"

(2) عدد '26' کو ڈگنا کر کے لکھنے پر (A) 45 (B) 52 (C) 68 (D) 50



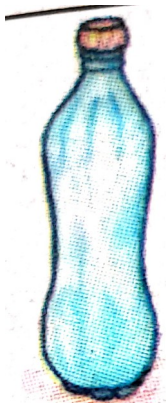
(3) رنگ شدہ حصہ ظاہر کرتا ہے

(A)  $1/2$  (B)  $4/1$  (C)  $1/4$  (D)  $3/4$

(4) 10 روپے = (A) 50 پیسے (B) 5 پیسے (C) 10 پیسے (D) 1000 پیسے

$1 \times 4 = 4$

سوال نمبر 2: ذیل کے اشکال کے نام اور ان کے استعمالات دیئے گئے جدول میں لکھئے۔





شمار نمبر	شے کا نام	استعمالات

سوال نمبر 3: خط کھینچ کر جوڑ لگائیے۔

$$1 \times 4 = 4$$

الف	ب
1 60 منٹ	1000 ملی لیٹر
2 1 لیٹر	100 پیسے
3 1 میٹر	ایک گھنٹہ
4 ایک روپیہ	100 سنٹی میٹر

سوال نمبر 4: حل کرو۔

$$2 \times 5 = 10$$

آپ کے پاس 18 گولیاں ہیں۔ آپ نے کھیل میں اور 12 گولیاں جیتی ہیں تو اب آپ کے پاس کتنی گولیاں ہوں گی۔

18 گولیاں

(1)

12 گولیاں


---



---

$$27 \div 3$$

(2) حل کرو۔



(3) شکل کے 4 حصوں میں سے 3 حصوں کو رنگ بھریں اور کسر میں لکھیں۔



(4) دیئے گئے نمونہ جات جاری رکھئے۔

(5) 30 دن رکھنے والے مہینوں کے نام لکھئے۔

$$1 \times 4 = 4$$

سوال نمبر 6: خالی جگہ پُر کریں۔

(1)  $8 + 40 = \text{—————}$

(2) 20 روپے میں 5 روپے کے \_\_\_\_\_ سکے ہوتے ہیں۔



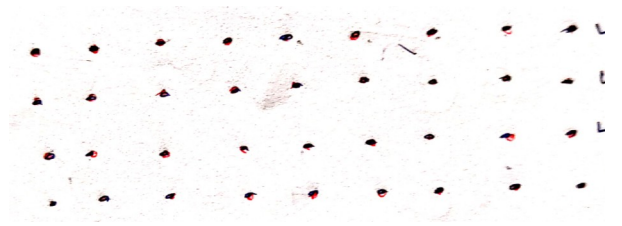
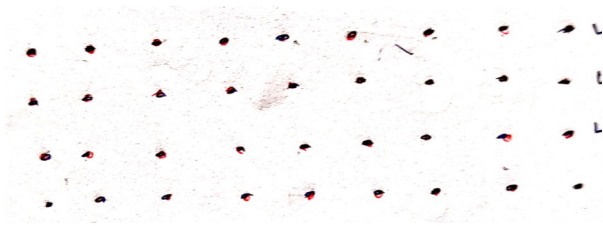
(3) ہندوستان کی کرنسی کا نام \_\_\_\_\_ ہے۔

(4) عددی نمونہ مکمل کرو۔  
11, 13, 15, 17 — — — — —

$$4 \times 1 = 4$$

سوال نمبر 5: نقاط کا استعمال کرتے ہوئے دیئے گئے اشکال کے نقش بنائیے۔

(1) پتنگ (2) پتہ (3) کشتی (4) تارا



مجموعی قدر پیمائی-2 2023-24

جوابی پرچہ

مضمون: علم

جماعت: سوّم



تیار کردہ: خواجہ معین الدین قاضی معاون معلم سرکاری اردو ہائیر پرائمری اسکول مسکی، تعلقہ: لنگسور

مدرسہ: سرکاری اُردو لائبریری / ہائیر پرائمری اسکول

جماعت: سوم مضمون: علم ریاضی نشانات: 30 وقفہ: 90 منٹ

جوابی پرچہ

$$1 \times 4 = 4$$

سوال نمبر 1: صحیح جواب کا انتخاب کر کے لکھیں۔

(1) تقسیم کی علامت

$\div$  d

$\div$  d

$\times$  c

- b

+ a

52 - b


50 - d

68 - c

52 - b

45 - a

(2) عدد '26' کو ڈگنا کر کے لکھنے پر



(3) رنگ شدہ حصہ ظاہر کرتا ہے

$\frac{1}{4}$  c

$\frac{1}{3}$  - d

$\frac{1}{4}$  c

$\frac{4}{1}$  b

$\frac{1}{2}$  a

1000 پیسے d

1000 پیسے

10 پیسے c

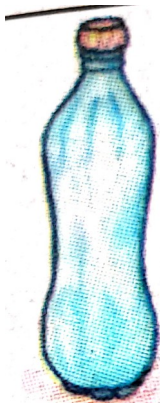
5 پیسے b

50 پیسے a

(4) 10 روپے =

$$1 \times 4 = 4$$

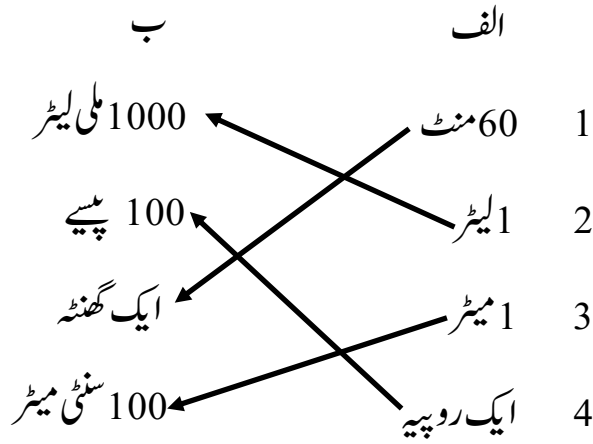
سوال نمبر 2: ذیل کے اشکال کے نام اور ان کے استعمالات دیئے گئے جدول میں لکھئے۔



شمار نمبر	شے کا نام	استعمالات
1	بوتل	پانی پینے کے لئے استعمال کرتے ہیں۔
2	چائے کا کپ	چائے پینے کے لیے استعمال کرتے ہیں۔
3	پانی کا گھڑا	پانی بھرنے کے لئے استعمال کرتے ہیں۔
4	بالٹی	پانی نہانے کے لئے استعمال کرتے ہیں۔

سوال نمبر 3: خط کھینچ کر جوڑ لگائیے۔

$$1 \times 4 = 4$$



$$2 \times 5 = 10$$

سوال نمبر 4: حل کرو۔

آپ کے پاس 18 گولیاں ہیں۔ آپ نے کھیل میں اور 12 گولیاں جیتی ہیں تو اب آپ کے پاس کتنی گولیاں ہوں گی۔

18 گولیاں

(1)

12 گولیاں

30

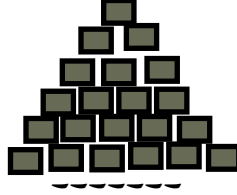
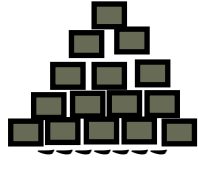
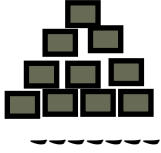
جواب: 9

$27 \div 3$

(2)



(3) شکل کو 3/4 رنگ بھر کر کسر میں لکھئے۔



(4) دیئے گئے نمونہ جات جاری رکھئے۔

(5) 30 دن رکھنے والے مہینوں کے نام لکھئے۔

نومبر

ستمبر

جون

اپریل

$$1 \times 4 = 4$$

سوال نمبر 6: خالی جگہ بھرتی کرو۔

$$8 + 40 = \text{—} 48 \text{—} \quad (1)$$

(2) 20 روپے میں 5 روپے کے — 4 — سکے ہوتے ہیں۔


(3) ہندوستان کی کرنسی کا نام — روپیہ — ہے۔

(4) عددی نمونہ مکمل کرو۔  
11, 12, 13, 14    15 — 16 — 17 — 18 — 19    20

$$4 \times 1 = 4$$

سوال نمبر 5: نقاط کا استعمال کرتے ہوئے دیئے گئے اشکال کے نقش بنائیے۔

(1) پتنگ    (2) پتہ    (3) کشتی    (4) تارا



## زبانی سوالی پرچہ

(1)  $2+4+8$  کا حاصل جمع کیا ہے؟

(2) اشوک اپنے 15 چاکلیٹ میں سے جیوتی کو 4 چاکلیٹ دیتا ہے تو اس کے پاس کتنے چاکلیٹ بچیں گے؟

(3) عرشہ 16 کتابوں میں سے 7 کتابیں اپنی سہیلی کو دیتی ہے تو اس کے پاس کتنی کتابیں رہیں گی؟

(4) 25 اور 16 کا حاصل جمع کیا ہے؟

(5) 45 اور 6 کا حاصل ضرب کیا ہے؟

(6) 50 اور 12 کا حاصل تفریق کیا ہے؟

(7) 17 کی دو گنا قیمت۔

(8) 40 کی آدھی قیمت کیا ہوگی؟

(9) آپ کی سالگرہ کے دن بانٹنے کے لئے آپ کے پاس 45 چاکلیٹ ہیں اگر آپ نے 32 چاکلیٹ بانٹ دیئے تو آپ کے پاس

کتنے چاکلیٹ بچیں گے؟

(10) مٹھائی کی دکان میں 60 لڈو ہیں اگر 29 لڈو فروخت کئے جائیں تو کتنے لڈو باقی رہیں گے؟

(11) روپیے کی سب سے چھوٹی اکائی کیا ہے؟

(12) ایک کلو میں کتنے گرام ہوتے ہیں؟

(13) آدھا کلو میں کتنے گرام ہوتے ہیں؟

(14) ایک میٹر میں کتنے سنٹی میٹر ہوتے ہیں؟

(15) میٹر کی سب سے چھوٹی اکائی کیا ہے؟

16) وزن کی پیمائشی اکائی کیا ہے؟

17) مائع اشیاء کو ناپنے کی اکائی کیا ہے؟

18) ایک سال میں کتنے دن ہوتے ہیں؟

19) ایک دن میں کتنے گھنٹے ہوتے ہیں؟

20) تین ضلعوں والی بند شکل کو کیا کہتے ہیں؟





4	9					1(2)		1(4)	1(2)				1(1)	تہوار اور میلے	6
2	3						1(1)		1(2)					میری زندگی کا ایک دن	7
1	2											1(2)		آنکھ مچولی کا کھیل	8
2	3						1(1)					1(2)		منکے کی کہانی	9
1	2					1(2)								زمین ---ہمارا گھر	10
2	2												2(2)	نقشہ	11
1	2					1(2)								میرا ضلع اور تمہارا ضلع	12
24	40	-	1(4)	-	-	5(10)	3(3)	1(4)	2(4)	3(3)	-	3(6)	6(6)		

نوٹ: قوس کے اندر نشانات اور قوس کے باہر سوالات کی تعداد درج ہے۔۔ تیار کردہ: شبینہ تاج

نموناً سوالی پرچہ مجموعی قدر پیمائی -242-2023

مدارسہ: سرکاری اردو ہائر پرائمری اسکول -----

جماعت: سوم مضمون: ماحولیاتی مطالعہ نشانات: 40 وقفہ: 90 منٹ

نام: \_\_\_\_\_ رول نمبر: \_\_\_\_\_ مورخہ: \_\_\_\_\_

$1 \times 4 = 4$

سوال نمبر 1- مناسب جوابات کا انتخاب کرتے ہوئے خالی جگہ بھرتی کیجئے۔۔۔

1- \_\_\_\_\_ کو ڈاک ڈبے میں ڈالتے ہیں۔۔۔ ( کاغذ خط - )

2- شہر کے لوگ جنگل کے درختوں کو \_\_\_\_\_ کے لیے آئے۔۔۔ ( اگانے کاٹنے )



3- یہ اشارے میں \_\_\_\_\_ کتنا چاہ رہی ہے۔۔۔ ( پانی پی - کھانا کھایا )



4- یہ \_\_\_\_\_ کی علامت ہے۔۔۔ ( سورج چاند )

سوال نمبر 2- درج ذیل الف کو ب سے جوڑ لگائیں۔

ب

الف

30 روزے

1- سانپ سیڑھی

چوزے

2- رمضان

اندرونی کھیل

3- درخت



4- مرغی

$1 \times 4 = 4$

سوال نمبر 3- مندرجہ ذیل جملے اگر صحیح ہو تو  کا نشان اور غلط ہوں تو  کا نشان لگائیں

- 1- خط ہی کی طرح پیسوں کو بھی ڈاک کے ذریعے دوسروں کو بھیج سکتے ہیں۔ ( )
- 2- جنگل کے درخت کاٹنا چاہیے۔ درخت نہیں اگانا چاہیے۔ ( )
- 3- تعلیم ہر بچے کے لیے بے حد ضروری ہے۔ ( )
- 4- منگے مٹی سے تیار کیے جاتے ہیں۔ ( )

سوال نمبر 4- مندرجہ ذیل سوالات کے جوابات ایک یا دو جملے میں دیجئے۔۔  $2 \times 10 = 20$

1- اپنے پسندیدہ مشغلوں کو لکھیے؟

جواب \_\_\_\_\_

2- عید کے دن تمہارے گھر میں کون کون سے پکوان بنائے جاتے ہیں؟

جواب \_\_\_\_\_

3- اسکول جانے کے بجائے تیریہ کام پر کیوں گئی؟

جواب \_\_\_\_\_

4- منگے کے استعمالات لکھیں؟

جواب \_\_\_\_\_

5- چار سمتوں کے نام لکھیے؟

جواب \_\_\_\_\_

6- بیرونی کھیلوں کے نام لکھیے؟

جواب \_\_\_\_\_

7- آپ کے ضلع کے اہم پیشوں کے نام لکھیے؟

جواب \_\_\_\_\_

8- نقل و حمل کے ذرائع کون کون سے ہیں؟

جواب

9- آپ اپنے گھر میں کون کون سے تہوار مناتے ہیں؟

جواب

10- محرمی سواروں کے نام لکھیے؟

جواب

$$2 \times 4 = 8$$

سوال نمبر 3- تفصیلی جوابات لکھیں --

1- اپنے خاندان کا شجرہ بنائیں؟

جواب

2- گھر میں منائے جانے والے کسی خاص تہوار سے متعلق چار جملے لکھیے؟

جواب

جوابی پرچہ برائے مجموعی قدر پیمائی -24 2-2023

سوال نمبر 1-

ج 1- خط

ج 2- کاٹنے

ج 3- کھانا کھایا

ج 4- سورج

سوال نمبر 2-

ب

ج 1- اندرونی کھیل

ج 2- 30 روزے

ج 3-



ج 4- پوزے

سوال نمبر 3-

ج 1-

ج 2-

✓ --3ج

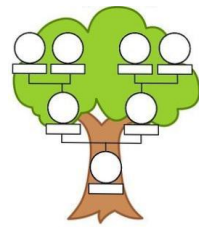
✓ --4ج

سوال نمبر 4-

- ج1- میرے پسندیدہ مشغلہ مصوری کرنا، کتابیں پڑھنا، لکھنا، ٹی وی دیکھنا وغیرہ ہیں۔
- ج2- عید کے دن ہمارے گھر میں بریانی، کسٹڑ، جامن، کباب وغیرہ پکاتے ہیں۔
- ج3- اسکول جانے کے بجائے تریہ کام پر گئی کیونکہ تریا کی ماں کی طبیعت ٹھیک نہیں تھی۔
- ج4- منگے کھانا بنانے کے لیے، پانی بھرنے کے لیے، پانی گرم کرنے کے لیے استعمال کرتے ہیں۔
- ج5- سمتوں کے نام شمال جنوب مشرق اور مغرب ہیں۔
- ج6- بیرونی کھیلوں کے نام کرکٹ، کبڈی، ہاکی، والی بال، فٹ بال، کھوکھو وغیرہ ہیں۔
- ج7- ہماری ضلعے کے اہم پیشوں کے نام زراعت، لوگری سازی، مچھلی پکڑنا، مٹی کے برتن بنانا وغیرہ ہیں۔
- ج8- نقل و حمل کے ذرائع بس، کار، موٹر سائیکل، ہوائی جہاز وغیرہ ہیں۔
- ج9- بحری سواریاں کشتی بحری جہاز ہیں۔
- ج10- ہم اپنے گھر میں عید الفطر، عید الاضحی، عید میلاد النبی مناتے ہیں۔

سوال نمبر 5-

ج1-



ج 2- ہمارے گھر میں عید الفطر مناتے ہیں سب رشتہ دار ملنے آتے ہیں۔ عید کے دن بریانی، کباب، جامن، بہت ساری اچھی اچھی چیزیں کھانے کے لیے پکائی جاتی ہیں۔ عید کے دن سب نئے کپڑے پہنتے ہیں۔

### سوالات مع زبانی جانچ

جماعت: سوم مضمون: ماحولیاتی مطالعہ نشانات: 20

سوالات و جوابات:

1- دھیمی رفتار سواروں کے نام بتائیں؟

جواب: گھوڑا گاڑی، بیل گاڑی، سائیکل وغیرہ

2- سپیڈ پوسٹ کی سہولت کیا ہے؟

جواب: اگر خط سپیڈ پوسٹ پر دیں گے تو خط ہوائی جہاز کے ذریعے جلدی پہنچے گا۔

3- تمہارے گھر میں کون کون ہے؟

جواب: امی ابا دادا دادی بہن بھائی۔

4- تمہارا پسندیدہ مشغلہ کون سا ہے؟

جواب: مصوری، کھیلنا، پڑھنا لکھنا وغیرہ۔

5- عابد کے پاؤں میں تکلیف ہے جس کی وجہ سے وہ چل نہیں سکتا اگر عابد تمہاری جماعت میں داخلہ لیتا ہے تو تم کس طرح اس کی مدد کرو گے؟

جواب: عابد کو چلنے پھرنے اٹھنے بیٹھنے میں سہارا دے کر مدد کریں گے۔

6- عید کے دن تمہارے گھر میں کون کون سے پکوان بنائے جاتے ہیں؟



جواب شیر خورمہ ، سویاں ، جامن ، کباب ، رس ملائی وغیرہ

7- ثریا دوبارہ سکول کب گئی؟

جواب: اس کی ماں کی طبیعت ٹھیک ہونے پر ثریا دوبارہ اسکول گئی۔

8- فٹبال کھیلنے کے لیے کن کن اشیاء کا استعمال کیا جاتا ہے؟

جواب گیند فٹبال نیٹ

9- منگے کی تیاری میں کن کن اشیاء کو استعمال کرتے ہیں؟

جواب: پانی مٹی پھیرہ وغیرہ

10- دھوپ سے کیا سہولیات ہوتی ہیں؟

جواب: دھوپ سے کپڑے جلد سوکھتے ہیں۔

