

ಸಂಕಲನಾತ್ಮಕ ಮೌಲ್ಯಮಾಪನ-2 2023-24

ವಿದ್ಯಾರ್ಥಿ ಹೆಸರು:-

1. ಹೊಂದಿಸಿ ಗೆರೆ ಎಳೆಯಿರಿ :-

5x1=5

- 1) 100 ಸೆಂಟಿಮೀಟರ್ ಅರ್ಧ
- 2) $\frac{1}{2}$ 1 ಮೀಟರ್
- 3) 12 ತಿಂಗಳು 1 ಲೀಟರ್
- 4) 23X 0 ಒಂದು ವರ್ಷ
- 5) 1000 ಮಿಲಿಲೀಟರ್ 0

2. ಸೂಕ್ತ ಉತ್ತರ ಆರಿಸಿ ಬಿಟ್ಟ ಸ್ಥಳ ತುಂಬಿರಿ.

5x1=5

- 1) $12 \times 5 =$ _____ (50 60 72)
- 2) $24 \div 6 =$ _____ (5 2 3)
- 3) $28 - 9 =$ _____ (19 20 21)
- 4) $\frac{1}{4}$ ಅಂದರೆ _____ (ಅರ್ಧಭಾಗ ಕಾಲು ಭಾಗ ಮುಕ್ಕಾಲು ಭಾಗ)
- 5) ಒಂದು ತಿಂಗಳಿಗೆ _____ ದಿನಗಳು. (35 28 30)

3. ಚಿನ್ಹೆಯನ್ನು ಲೆಕ್ಕಗಳನ್ನು ಮಾಡಿರಿ.

8x2=16

$$\begin{array}{r} 349 \\ + 689 \\ \hline \end{array} \quad \begin{array}{r} 260 \\ + 469 \\ \hline \end{array} \quad \begin{array}{r} 349 \\ - 248 \\ \hline \end{array} \quad \begin{array}{r} 612 \\ - 503 \\ \hline \end{array} \quad \begin{array}{r} 24 \times 28 \\ \hline \end{array} \quad \begin{array}{r} 31 \times 26 \\ \hline \end{array} \quad 45 \div 5 = \quad 54 \div 6 =$$

4. ನೀಡಿರುವ ಭಿನ್ನರಾಶಿಯಂತೆ ಚಿತ್ರವನ್ನು ಸಮಭಾಗಗಳನ್ನು ಮಾಡಿ ಬಣ್ಣ ತುಂಬಿರಿ.

2x1=2



5. ಸಮಸ್ಯೆಗಳನ್ನು ಬಿಡಿಸಿರಿ

2x1=2

- 1) ಒಂದು ಪುಸ್ತಕದ ಬೆಲೆ 25 ರೂ. ಆದರೆ 13 ಪುಸ್ತಕದ ಬೆಲೆ ಎಷ್ಟು?
- 2) 213 ಕೆ.ಜಿ ಬಾಳೆಹಣ್ಣಿನಲ್ಲಿ 115 ಕೆ.ಜಿ ಮಾರಾಟವಾದರೆ ಉಳಿದ ಬಾಳೆಹಣ್ಣು ಎಷ್ಟು?

ಸಂಕಲನಾತ್ಮಕ ಮೌಲ್ಯಮಾಪನ-2 2023-24

ಮೌಖಿಕ ಪ್ರಶ್ನೆ ಪತ್ರಿಕೆ

1. ಕೊಟ್ಟಿರುವ ಸಂಖ್ಯೆಗಳನ್ನು ಓದಿರಿ.
 $\frac{1}{2}$ $\frac{1}{4}$ $\frac{3}{4}$ $\frac{2}{3}$
2. 24 ಕ್ಕೆ 17ನ್ನು ಕೂಡಿಸಿ ಹೇಳು?
3. 19ರಲ್ಲಿ 12ನ್ನು ಕಳೆದರೆ ಬರುವ ಉತ್ತರ ಹೇಳು?
4. 1 ರಿಂದ 10ರ ವರೆಗೆ ಮಗ್ಗಿ ಹೇಳಿರಿ
5. 23+5 ಎಷ್ಟು?
6. 50 ರೂ. ಮತ್ತು 150 ರೂ. ಸೇರಿಸಿದರೆ ಎಷ್ಟಾಗುವುದು.
7. 345 ರಲ್ಲಿ ಮತ್ತು 567 5 ರ ಸ್ಥಾನಬೆಲೆಗಳು ಎಷ್ಟು
8. 675 + 139 ಇದನ್ನು ಮಣಿಕಟ್ಟಿನಲ್ಲಿ ಬಣ್ಣದ ಮಣಿ ಹಾಕಿ ಹೇಳು.
9. ಉದ್ದದ ಮಾನ ಯಾವುದು?
10. ಉಷ್ಣತೆಯನ್ನು ಅಳೆಯುವ ಮಾಪನ ಯಾವುದು?

ಕ್ರ.ಸಂ	ವಿದ್ಯಾರ್ಥಿ ಹೆಸರು ನಿಗದಿಪಡಿಸಿರುವ ಅಂಕಗಳು →	ಪ್ರಶ್ನೆಗಳ ಸಂಖ್ಯೆ										ಪಡೆದ ಅಂಕ
		1	2	3	4	5	6	7	8	9	10	
		4	2	2	4	2	2	1	1	1	1	20

ಸಂಕಲನಾತ್ಮಕ ಮೌಲ್ಯಮಾಪನ-2 2023-24

ವಿದ್ಯಾರ್ಥಿ ಹೆಸರು:-

1. ಯೋಚಿಸಿ ಬಿಟ್ಟು ಹೋದ ಸಂಖ್ಯೆಗಳನ್ನು ಬರೆಯಿರಿ.

2x2=4

X	1	2	3	4	5	6	7	8	9	10
2										
3										

2. ಸಂಖ್ಯಾ ಸರಣಿ ವಿನ್ಯಾಸ ಪೂರ್ಣಗೊಳಿಸಿ

2x2=4

12	15		21	
15		25	30	

5. ಈ ಗಡಿಯಾರಗಳಲ್ಲಿನ ಸಮಯ ಎಷ್ಟಾಗಿದೆ ಬರೆಯಿರಿ.

2x1=2



5. ಸೂಕ್ತ ಉತ್ತರಗಳನ್ನು ಆಯ್ಕೆ ಮಾಡಿ

5x1=5

1. ವರ್ಷದ ಮೊದಲ ತಿಂಗಳು _____ (ಜನವರಿ ಡಿಸೆಂಬರ್ ಆಗಸ್ಟ್ ಮೇ)

2. ಸೂರ್ಯ ಉದಯಿಸಿದಂತೆ ಕಾಣುವ ದಿಕ್ಕು. (ಉತ್ತರ ಪೂರ್ವ ಪಶ್ಚಿಮ ದಕ್ಷಿಣ)

3. ವಾರದ ದಿನಗಳ ಸಂಖ್ಯೆ. _____ (4 5 6 7)

4. ಸ್ಟೆಟರ್ ಬಳಸುವ ಕಾಲ _____ (ಬೇಸಿಗೆಕಾಲ ಚಳಿಗಾಲ ಮಳೆಗಾಲ ಯಾವುದೂ ಅಲ್ಲ)

5. 30 ರೂಪಾಯಿ ಆಗಲು 10 ರೂಪಾಯಿಯು _____ ನೋಟಗಳನ್ನು ಕೂಡಿಸಬೇಕು. (4 3 2 6)

6. ಕೂಡಿರಿ. $53 + 24 =$ _____ $73 + 20 =$ _____ 36
+48

7. ಕಳೆಯಿರಿ. $67 - 12 =$ _____ $54 - 13 =$ _____ 35 45
- 25 - 38

8. ಗುಣಿಸಿ:- $5 \times 3 =$ _____ $6 \times 3 =$ _____

9. ಭಾಗಿಸು:- $14 \div 2 =$ _____ $24 \div 6 =$ _____

10. ಈ ಸಮಸ್ಯೆಗಳನ್ನು ಬರೆಯಿರಿ. 2x2=4

1. ಸುರೇಖಾಳ ಬಳಿ 44 ಮಣಿಗಳಿವೆ. ಸಮೀನಾಳ ಬಳಿ 22 ಮಣಿಗಳಿವೆ. ಹಾಗಾದರೆ ಸುರೇಖಾಳ ಬಳಿ ಸಮೀನಾಳಿಗಿಂತ ಎಷ್ಟು ಹೆಚ್ಚು ಮಣಿಗಳಿವೆ?

2. ಲಹರಿಯ ನಲಿಕಲಿ ಕೊಠಡಿಯ 1ನೇ ತರಗತಿಯಲ್ಲಿ 12 ವಿದ್ಯಾರ್ಥಿಗಳು, 2ನೇ ತರಗತಿಯಲ್ಲಿ 9 ವಿದ್ಯಾರ್ಥಿಗಳು ಹಾಗೂ 3ನೇ ತರಗತಿಯಲ್ಲಿ 8 ವಿದ್ಯಾರ್ಥಿ- ಗಳಿದ್ದಾರೆ. ಹಾಗಾದರೆ ಆ ಕೊಠಡಿಯಲ್ಲಿರುವ ಒಟ್ಟು ವಿದ್ಯಾರ್ಥಿಗಳು ಎಷ್ಟು?

ಸಂಕಲನಾತ್ಮಕ ಮೌಲ್ಯಮಾಪನ-2 2023-24

ಮೌಖಿಕ ಪ್ರಶ್ನೆ ಪತ್ರಿಕೆ

1. ಕೊಟ್ಟಿರುವ ಸಂಖ್ಯೆಗಳನ್ನು ಓದಿರಿ.
56 87 30 20 86 19 908 878
2. 89 99 ಇದರಲ್ಲಿ ಕನಿಷ್ಠ ಗರಿಷ್ಠ ಸಂಖ್ಯೆಗಳಾವುವು?
3. 5 ಮತ್ತು 6ರ ಮಗ್ಗಿ ಹೇಳಿರಿ.
4. ಕ್ಯಾಲೆಂಡರ್ ತಿಂಗಳುಗಳು ಯಾವುವು?
5. ತಿಂಗಳಿಗೆ ಎಷ್ಟು ವಾರಗಳು?
6. ಕಾಲಗಳು ಯಾವುವು?
7. ವಾರಗಳನ್ನು ಹೇಳು?
8. 11ಕ್ಕೆ 10ನ್ನು ಕೂಡಿರಿ
9. 15ರಲ್ಲಿ 6ನ್ನು ಕಳೆದು ಹೇಳು?
10. ಈ ನೋಟುಗಳ ಮೌಲ್ಯ ತಿಳಿಸು- 10, 20, 100, 500

ಕ್ರ.ಸಂ	ವಿದ್ಯಾರ್ಥಿ ಹೆಸರು	ಪ್ರಶ್ನೆಗಳ ಸಂಖ್ಯೆ										ಪಡೆದ
		1	2	3	4	5	6	7	8	9	10	ಅಂಕ
	ನಿಗಧಿಪಡಿಸಿರುವ ಅಂಕಗಳು →	3	2	2	3	2	2	2	2	1	1	20

ಸಂಕಲನಾತ್ಮಕ ಮೌಲ್ಯಮಾಪನ-2 2023-24

ವಿದ್ಯಾರ್ಥಿ ಹೆಸರು:-

1. ಇವುಗಳನ್ನು ಕೂಡಿಸಿ ಉತ್ತರ ಬರೆಯಿರಿ.

2x1=2



2. ಬಿಟ್ಟು ಹೋದ ಸಂಖ್ಯೆಗಳನ್ನು ಬರೆಯಿರಿ.

1	2	3			6	7			
	12	13				17		19	

3. ದೊಡ್ಡ ಸಂಖ್ಯೆಗೆ ವೃತ್ತ ಹಾಕಿ.

2x1=2

12 14 10 11

9 6 8 6

4. ಚಿಕ್ಕ ಸಂಖ್ಯೆಗೆ ವೃತ್ತ ಹಾಕಿ.


2x1=2

17 18 12 13

8 2 7 3

5) ಎರಡರ ಗುಂಪು ಮಾಡಿ ವೃತ್ತ ಹಾಕಿ. ಎಷ್ಟು ಗುಂಪುಗಳಾಗಿವೆ ಎಂದು ಬರೆಯಿರಿ.

2x1=2



6) ಈ ಸಂಖ್ಯೆಗಳನ್ನು ಏರಿಕೆ ಕ್ರಮದಲ್ಲಿ ಬರೆಯಿರಿ.

2x1=2

9 12 11 10 _____ 8 9 4 2 _____

7) ಕೂಡಿಸು.

5x1=5

5 + 1 = 7 + 2 = 3 + 0 =

4 4
+ 6 + 0

8) ಕಳೆಯಿರಿ.

5x1=5

8 - 1 = 9 - 2 = 3 - 0 =

6 9
- 6 - 5

9) ಗುಣಿಸಿ ಬರೆಯಿರಿ: 2 X 3 = 2 X 7 =

2x1=2

10) ಭಾಗಿಸಿ: 6 ÷ 2 = 9 ÷ 3 =

2x1=2

11) ಬಿಟ್ಟು ಹೋಗಿರುವ ಹಿಂದಿನ ಮುಂದಿನ ಹಾಗೂ ಮಧ್ಯದ ಸಂಖ್ಯೆಗಳನ್ನು ಬರೆಯಿರಿ.







3x1=3

12 ___ 14 10 11 ___ ___ 9 10

12) ಎಣಿಸಿ ಸಂಖ್ಯೆಯನ್ನು ಬರೆಯಿರಿ.

3x1=3



ವಿವರ	ಸಂಖ್ಯೆಗಳು
 ಇಲಿ	
 ನಾಯಿ	
 ಹಾವು	
 ಬೆಕ್ಕು	
 ಹುಲಿ	
 ಆನೆ	

ಸಂಕಲನಾತ್ಮಕ ಮೌಲ್ಯಮಾಪನ-2 2023-24

ಮೌಖಿಕ ಪ್ರಶ್ನೆ ಪತ್ರಿಕೆ

1. 1-99 ಎಣಿಕೆ ಮಾಡಿ ಹೇಳಿ
2. ವಾರಗಳನ್ನು ಹೇಳಿರಿ?
3. ಈ ನಾಣ್ಯಗಳ ಬೆಲೆ ತಿಳಿಸು. 2 5 1
4. ಹಿಂದಿನ ಸಂಖ್ಯೆ ಹೇಳು. 10 6 8 15
5. ವಾರಕ್ಕೆ ಎಷ್ಟು ದಿನಗಳು?
6. ಮುಂದಿನ ಸಂಖ್ಯೆ ಹೇಳು 13 17 19 10
7. ದೊಡ್ಡ ಸಂಖ್ಯೆ ಯಾವುದು- 14-15 17-13 10-11
8. ಚಿಕ್ಕಸಂಖ್ಯೆ ಯಾವುದು 13-12 16-11 19-10
9. ಈ ನೋಟುಗಳ ಬೆಲೆ ಹೇಳು. 10 20 50 100
10. ಅಡುಗೆ ಕೋಣೆ ನಿನ್ನ ಶಾಲೆಯಿಂದ ಎಷ್ಟು ಹೆಜ್ಜೆ ಇದೆ? .

ಕ್ರ.ಸಂ	ವಿದ್ಯಾರ್ಥಿ ಹೆಸರು	ಪ್ರಶ್ನೆಗಳ ಸಂಖ್ಯೆ										ಪಡೆದ ಅಂಕ
		1	2	3	4	5	6	7	8	9	10	
	ನಿಗದಿಪಡಿಸಿರುವ ಅಂಕಗಳು →	3	3	2	2	2	2	2	2	1	1	20

2023-24 ನೇ ಸಾಲಿನ ನಲಿಕಲಿ ಮಕ್ಕಳ ಏರಡನೇ ಸಂಕಲನಾತ್ಮಕ ಮೌಲ್ಯಮಾಪನದ ವಯಕ್ತಿಕ ಅಂಕವಹಿ

ವಿಷಯ: ಗಣಿತ

ಕ್ರಮ ಸಂಖ್ಯೆ	ವಿದ್ಯಾರ್ಥಿಯ ಹೆಸರು	ತರಗತಿ	ಲಿಖಿತ 30ಕ್ಕೆ	ಮೌಖಿಕ 20ಕ್ಕೆ	ಒಟ್ಟು 50ಕ್ಕೆ	20ಕ್ಕೆ	ಶೇರಿ

2023-24

ಧನ್ಯವಾದಗಳು



ಶ್ರೀನಿವಾಸ್ ಮೂರ್ತಿ

ಸಹಶಿಕ್ಷಕರು ಸ.ಹಿ.ಪ್ರಾ.ಶಾಲೆ ಕೆಂಜಿಗನಹಳ್ಳಿ
ದೊಡ್ಡಬಳ್ಳಾಪುರ ತಾ. ಬೆಂಗಳೂರು ಗ್ರಾಮಾಂತರ ಜಿಲ್ಲೆ
ಪದಾಧಿಕಾರಿಗಳು- ಕ.ರಾ.ಪ್ರಾ.ಶಾಲಾ ಶಿಕ್ಷಕರ ಸಂಘ
ದೊಡ್ಡಬಳ್ಳಾಪುರ

9481806802

ವಾಟ್ಸಾಪ್ ಗ್ರೂಪ್ ಹೆಸರು: ಶಿಕ್ಷಕರಿಗಾಗಿ

ಅಂಕ್‌ಗಾಗಿ ಇಲ್ಲಿ ಸ್ಟಾನ್ ಮಾಡಿ