

ವಿದ್ಯಾರ್ಥಿ ಹೆಸರು:-\_\_\_\_\_

### I. ಬಿಟ್ಟು ಸ್ಥಳ ತುಂಬಿರಿ:

6x1=6

- 1) 3 ರೂ. ಗೆ \_\_\_\_\_ ಪೈಸೆಗಳು.
- 2) 4 ಮೀ.ಗೆ \_\_\_\_\_ ಸೆಂ.ಮೀ.
- 3) 3 ಕಿ.ಗ್ರಾಂ. 560 ಗ್ರಾಂನ್ನು , ಗ್ರಾಂಗೆ ಪರಿವರ್ತಿಸಿದರೆ \_\_\_\_\_ ಗ್ರಾಂ ಆಗುವುದು.
- 4) ಮೇ ತಿಂಗಳಲ್ಲಿ ಒಟ್ಟು \_\_\_\_\_ ದಿನಗಳಿರುತ್ತವೆ.
- 4) ಅಧಿಕ ವರ್ಷಕ್ಕೆ \_\_\_\_\_ ದಿನಗಳು.
- 5)  $5000 \times 50 =$  \_\_\_\_\_

### II. ಉತ್ತರಿಸಿ:

4x1=4

- 1) ಕಂಭನಕ್ಷೆ ಎಂದರೇನು?

ಉ:\_\_\_\_\_

- 2) ಸಮಮಿತಿ ಆಕೃತಿಗೆ ಉದಾಹರಣೆ ಕೊಡಿ.

ಉ:\_\_\_\_\_

- 3) ಟ್ಯಾಂಕ್‌ಗ್ರಾಂ ಎಂದರೇನು?

ಉ:\_\_\_\_\_


- 4) ಚೌಕ ಘನದಲ್ಲಿ ಎಷ್ಟು ಮುಖಗಳಿವೆ?

ಉ:\_\_\_\_\_

### III. ಸಂಕ್ಷೇಪಿಸಿರಿ:

6x3=18

- 1) ಗಡಿಯಾರದ ಚಿತ್ರ ರಚಿಸಿ ಸಮಯ ಗುರುತಿಸಿರಿ. a. 5:50 b. 20:25



- 2) 1 ನೀರಿನ ಟ್ಯಾಂಕ್‌ನ ಹಿಡಿಮ 500ಲೀ. ಟ್ಯಾಂಕ್‌ನಲ್ಲಿ 375 ಲೀ ನೀರಿದೆ. ಟ್ಯಾಂಕ್ ತುಂಬಲು ಇನ್ನು ಎಷ್ಟು ನೀರಿನ ಅವಶ್ಯಕತೆ ಇದೆ?

ಉ:\_\_\_\_\_

- 3) ವಿಜಯ್ 40 ಕಿ.ಗ್ರಾಂ. ಅಕ್ಕಿ ಕೊಂಡು ಅದರಲ್ಲಿ 19 ಕಿ.ಗ್ರಾಂ. ಅಕ್ಕಿ ಉಪಯೋಗಿಸಿದರೆ ಉಳಿಯುವ ಅಕ್ಕಿ ಎಷ್ಟು ?

ಉ:\_\_\_\_\_

- 4) ಗೀತಾಳ ಹತ್ತಿರ 18 ಮೀ. ಕೆಂಪು ಟೇಪ ಇದೆ. ಮತ್ತು 15 ಮೀ. ನೀಲಿ ಟೇಪ ಇದೆ. ಅವಳ ಬಳಿ ಇರುವ ಟೇಪಿನ ಉದ್ದ ಎಷ್ಟು ?

ಉ:\_\_\_\_\_

- 5) ಮಸ್ತಕದ ಬೆಲೆ 75.25 ರೂ. ಆದರೆ 24 ಮಸ್ತಕಗಳ ಬೆಲೆ ಎಷ್ಟು?

ಉ:\_\_\_\_\_

6) 4 ಜನರು ಕೆಲಸ ಮಾಡಿ 8276 ರೂ. ಗಳಿಸಿದ್ದಾರೆ ಪ್ರತಿಯೊಬ್ಬರಿಗೂ ಬರುವ ಹಣ ಎಷ್ಟು ?

ಉ:\_\_\_\_\_

**IV. ಲೆಕ್ಕಗಳನ್ನು ಬಿಡಿಸಿರಿ:**

4x1=4

- 1) 7200 ಮಿ.ಲೀ + 250 ಮಿ.ಲೀ    2) 32 ಕಿ.ಗ್ರಾ. 250 ಗ್ರಾಂ - 12ಕಿ.ಗ್ರಾಂ 250 ಗ್ರಾಂ.    3) 239 ಮೀ×3    4) 60÷5

**V. ಬಿಡಿಸಿರಿ:**

4x2=8

- 1) ಈ ದತ್ತಾಂಶಗಳಿಂದ ಕಂಭ ನಕ್ಷೆ ರಚಿಸಿರಿ.

ಸ್ಪರ್ಧೆಗಳ ಹೆಸರು	ಭಾವಗೀತೆ	ಚರ್ಚಾಸ್ಪರ್ಧೆ	ಪ್ರಬಂಧ	ಅನುಭಾವಣ
ಭಾಗವಹಿಸಿದ ವಿದ್ಯಾರ್ಥಿಗಳ ಸಂಖ್ಯೆ	10	20	25	5

- 2 ವರ್ಗವಾಧ ಗೋಮರ ಮತ್ತು ತ್ರಿಭುಜ ಪಾದ ಪಟ್ಟಿಕದ ಜಾಲಾಕೃತಿಗಳನ್ನು ಬರೆಯಿರಿ?

**I. ಬಿಟ್ಟು ಸ್ಥಳ ತುಂಬಿರಿ:**

6x1=6

- 1) 3 ರೂ. ಗೆ 300 ಪೈಸೆಗಳು.
- 2) 4 ಮೀ.ಗೆ 400 ಸೆಂ.ಮೀ.
- 3) 3 ಕಿ.ಗ್ರಾಂ. 560 ಗ್ರಾಂನ್ನು , ಗ್ರಾಂಗೆ ಪರಿವರ್ತಿಸಿದರೆ 3560 ಗ್ರಾಂ ಆಗುವುದು.
- 4) ಮೇ ತಿಂಗಳಲ್ಲಿ ಒಟ್ಟು 31 ದಿನಗಳಿರುತ್ತವೆ.
- 4) ಅಧಿಕ ವರ್ಷಕ್ಕೆ 366 ದಿನಗಳು.
- 5)  $5000 \times 50 = 50000$

**II. ಉತ್ತರಿಸಿ:**

4x1=4

- 1) ಕಂಭನಕ್ಕೆ ಎಂದರೇನು?

ಉ:- ದತ್ತಾಂಶಗಳನ್ನು ನೇರ ಕಂಬಗಳಲ್ಲಿ ಪ್ರತಿನಿಧಿಸಲಾಗಿದೆ. ಇದನ್ನು ಕಂಬನಕ್ಕೆ ಅಥವಾ ಸ್ತಂಭನಕ್ಕೆ ಎನ್ನುವರು

- 2) ಸಮಮಿತಿ ಆಕೃತಿಗೆ ಉದಾಹರಣೆ ಕೊಡಿ.

ಉ:-ಆಯತ ಚೌಕ ಸಮಬಾಹು ತ್ರಿಭುಜ

- 3) ಟ್ಯಾಂಕ್‌ಗ್ರಾಂ.ನಲ್ಲಿ ಎಷ್ಟು ಆಕೃತಿಗಳನ್ನು ಕಾಣುತ್ತೇವೆ?

ಉ: ಟ್ಯಾಂಕ್‌ಗ್ರಾಂ.ನಲ್ಲಿ 7 ಆಕೃತಿಗಳನ್ನು ಕಾಣುತ್ತೇವೆ

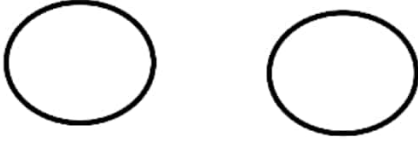
- 4) ಚೌಕ ಘನದಲ್ಲಿ ಎಷ್ಟು ಮುಖಗಳಿವೆ?

ಉ: 6

**III. ಸಂಕ್ಷೇಪಿಸಿರಿ:**

6x3=18

- 1) ಗಡಿಯಾರದ ಚಿತ್ರ ರಚಿಸಿ ಸಮಯ ಗುರುತಿಸಿರಿ. a. 5:50 b. 20:25



- 2) 1 ನೀರಿನ ಟ್ಯಾಂಕ್‌ನ ಹಿಡಿಮ 500ಲೀ. ಟ್ಯಾಂಕ್‌ನಲ್ಲಿ 375 ಲೀ. ನೀರಿದೆ. ಟ್ಯಾಂಕ್ ತುಂಬಲು ಇನ್ನು ಎಷ್ಟು ನೀರಿನ ಅವಶ್ಯಕತೆ ಇದೆ?

ನೀರಿನ ಟ್ಯಾಂಕ್‌ನ ಹಿಡಿಮ 500ಲೀ.

ಟ್ಯಾಂಕ್‌ನಲ್ಲಿರುವ ನೀರು -375 ಲೀ.

ಅವಶ್ಯಕತೆ ಇರುವ ನೀರು 125 ಲೀ.

- 3) ವಿಜಯ್ 40 ಕಿ.ಗ್ರಾಂ. ಅಕ್ಕಿ ಕೊಂಡು ಅದರಲ್ಲಿ 19 ಕಿ.ಗ್ರಾಂ. ಅಕ್ಕಿ ಉಪಯೋಗಿಸಿದರೆ ಉಳಿಯುವ ಅಕ್ಕಿ ಎಷ್ಟು?

ವಿಜಯ್ ಕೊಂಡ ಅಕ್ಕಿ 40 ಕಿ.ಗ್ರಾಂ

ಉಪಯೋಗಿಸಿದ ಅಕ್ಕಿ -19 ಕಿ.ಗ್ರಾಂ

ಉಳಿದ ಅಕ್ಕಿ 21 ಕಿ.ಗ್ರಾಂ

- 4) ಗೀತಾಳ ಹತ್ತಿರ 18 ಮೀ. ಕೆಂಪು ಟೇಪು ಇದೆ. ಮತ್ತು 15 ಮೀ. ನೀಲಿ ಟೇಪು ಇದೆ. ಅವಳ ಬಳಿ ಇರುವ ಒಟ್ಟು ಟೇಪಿನ ಉದ್ದ ಎಷ್ಟು?

ಕೆಂಪು ಟೇಪಿನ ಉದ್ದ 18 ಮೀ.

ನೀಲಿ ಟೇಪಿನ ಉದ್ದ 15 ಮೀ.

ಒಟ್ಟು ಟೇಪಿನ ಉದ್ದ 33 ಮೀ.

- 5) ಪುಸ್ತಕದ ಬೆಲೆ 75.25 ರೂ. ಆದರೆ 24 ಪುಸ್ತಕಗಳ ಬೆಲೆ ಎಷ್ಟು?

ಒಂದು ಪುಸ್ತಕದ ಬೆಲೆ 75.25 ರೂ

24 ಪುಸ್ತಕಗಳ ಬೆಲೆ =  $75.25 \times 24 = 1808$  ರೂ.

6) 4 ಜನರು ಕೆಲಸ ಮಾಡಿ 8276 ರೂ. ಗಳಿಸಿದ್ದಾರೆ ಪ್ರತಿಯೊಬ್ಬರಿಗೂ ಬರುವ ಹಣ ಎಷ್ಟು?

ಕೆಲಸ ಮಾಡಿದ ಜನರು - 4

ಕೆಲಸ ಮಾಡಿ ಗಳಿಸಿದ ಹಣ 8276 ರೂ.

ಪ್ರತಿಯೊಬ್ಬರಿಗೂ ಬರುವ ಹಣ  $8276 \div 4 = 2069$  ರೂ.

#### IV. ಲೆಕ್ಕಗಳನ್ನು ಬಿಡಿಸಿರಿ:

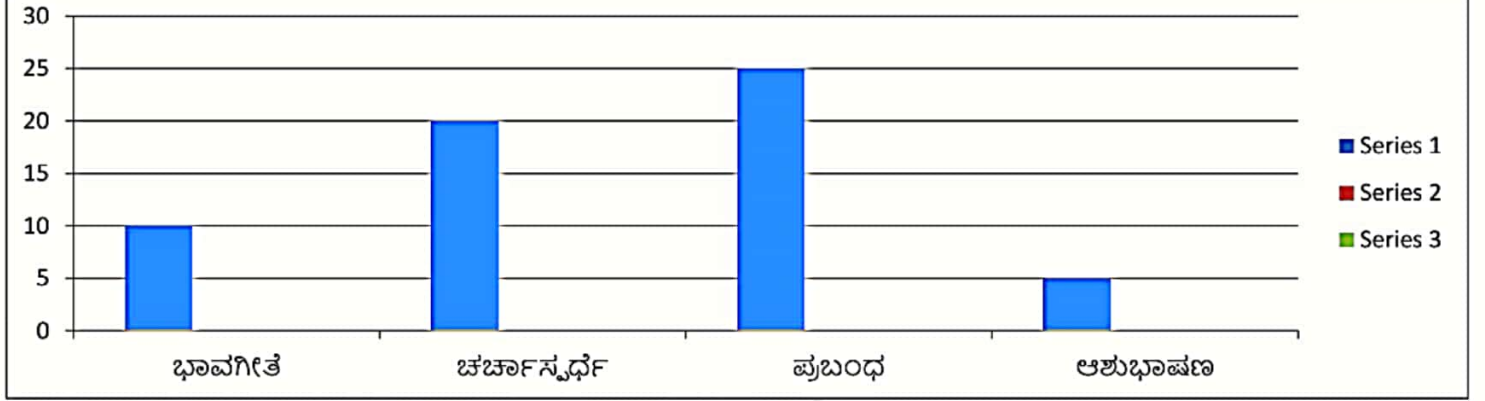
- 1) 7450 ಮಿ.ಲೀ 2) 20 ಗ್ರಾಂ. 3) 717 ಮೀ 4) 12

#### ಬಿಡಿಸಿರಿ:

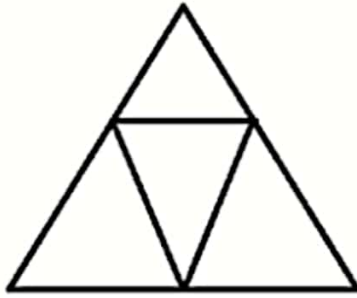
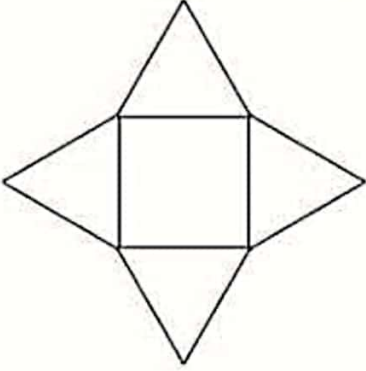
1) ಈ ದತ್ತಾಂಶಗಳಿಂದ ಕಂಭ ನಕ್ಷೆ ರಚಿಸಿರಿ.

4x2=8

ಸ್ಪರ್ಧೆಗಳ ಹೆಸರು	ಭಾವಗೀತೆ	ಚರ್ಚಾಸ್ಪರ್ಧೆ	ಪ್ರಬಂಧ	ಅಶುಭಾಷಣ
ಗಣವಹಿಸಿದ ವಿದ್ಯಾರ್ಥಿಗಳ ಸಂಖ್ಯೆ	10	20	25	5



2 ವರ್ಗಪಾದ ಗೋಮರ ಮತ್ತು ತ್ರಿಭುಜ ಪಾದ ಪಟ್ಟಕದ ಜಾಲಾಕೃತಿಗಳನ್ನು ಬರೆಯಿರಿ?



ಸಂಕಲನಾತ್ಮಕ ಮೌಲ್ಯಮಾಪನ-2 2023-24

**ಮೌಖಿಕ ಪ್ರಶ್ನೆ ಪತ್ರಿಕೆ**

1. ತುಣುಕು ಟ್ಯಾನ್‌ಗ್ರಾಂ ಆಕೃತಿಗಳನ್ನು ಬಳಸಿ ಆಕೃತಿಗಳನ್ನು ಮಾಡು?
  2. ಒಂದು ಗಂಟೆಗೆ ಎಷ್ಟು ನಿಮಿಷಗಳು?
  3. "ಸಮಮಿತಿಯ ಒಂದು ಅಕ್ಷ ಎಂದರೇನು?
  4. '9'ರ ಗುಣಾಕಾರದ ಮೆಗ್ಗಿಯನ್ನು ಹೇಳು.
  5. 1, 2, 4, 8, 16,..... ಮುಂದಿ ಸಂಖ್ಯೆಯ ವಿನ್ಯಾಸವನ್ನು ಬರೆ.
  6. ನೀನು ದಿನ ನಿತ್ಯ ಮಾಡುವ 4 ಕೆಲಸಗಳನ್ನು ಹಾಗೂ ಅವು ತೆಗೆದುಕೊಳ್ಳುವ ಸಮಯವನ್ನು ಹೇಳು.
  7. ಈಗ ಸಮಯ ಎಷ್ಟಾಗಿದೆ?
  8. ಯಾವ ಎರಡು ತಿಂಗಳಿನಲ್ಲಿ 31 ದಿನಗಳಿವೆ ಎಂಬುದನ್ನು ಹೇಳು.
  9. ಒಂದು ಮೀ.ಗೆ ಎಷ್ಟು ಸೆಂ.ಮೀ.ಗಳು?
  10. ಒಂದು ಲೀ.ಗೆ ಎಷ್ಟು ಮಿ.ಮೀ.ಗಳು?

[illegible]