



نمونہ مجموعی قدر پیمائی-2-2023-24

وقفہ: 90 منٹ

نشانات: 40

مضمون: ماحولیاتی مطالعہ

جماعت: چہارم 4

نیلا نقشہ (Blue Print)

شمار نمبر	اکائیوں کے نام	معلومات			تفہیم / ادراک			اظہار / اطلاق			مدح / ابہارت		جملہ							
		معروضی	مختصر	تفصیلی	معروضی	مختصر	تفصیلی	معروضی	مختصر	تفصیلی	معروضی	مختصر		تفصیلی						
1	ہمارا جسم												1(1)	2	5					
2	ٹراک کے اصول													1(1)	2	5				
3	نقل و حمل و پیغام رسانی													1(1)	1(2)	2	3			
4	بدلتے ہوئے کنبے													1(1)	1(2)	2	3			
5	گھر													1(1)	1(2)	2	3			
6	ہر شخص منفرد ہے													1(1)	1(2)	2	3			
7	پیشہ اور ان کی اہمیت													1(1)	1(2)	2	3			
8	خوشیوں کے تہوار													1(1)	1(2)	2	3			
9	کھوکھو													1(2)		1	2			
10	سہولتوں کا سدھار													1(1)	1(2)	2	3			
11	لباس کی قسمیں													1(1)		1	1			
12	بادل کا سفر													1(1)	1(2)	2	3			
13	ہماری ریاست													1(1)	1(2)	2	3			
24	40													8(1)	3(2)	4(1)	3(2)	1(4)	2(2)	2(2)
															11(14)	8(14)	3(8)	2(4)		

نوٹ: قوس کے اندر نشانات اور قوس کے باہر سوالات کی تعداد درج ہے۔

نمونہ سوالی پرچہ مجموعی قدر پیمائی-2-24-2023

مدرسہ: سرکاری اردو ہائر پرائمری اسکول-----

وقفہ: 90 منٹ

نشانات: 40

مضمون: ماحولیاتی مطالعہ

جماعت: چہارم

مورحہ:

رول نمبر:

نام:

$1 \times 5 = 5$

سوال نمبر 1 :- درج ذیل خالی جگہوں کو مکمل کرو۔

(1) ریڑھ کی ہڈیوں کے دونوں جانب ایک جوڑی----- ہوتے ہیں۔

(2) سڑک پار کرنے کے لئے----- کراسنگ کا استعمال کرنا چاہئے۔

(3) ٹیلی ویژن کی ایجاد----- نے کی۔

(4) اقبال اور شمیم کے کنبے میں----- افراد ہیں۔

(5) قدیم زمانے میں پکوان کے لئے----- اور اب----- کا استعمال کرتے ہیں۔

$1 \times 3 = 3$

سوال نمبر 2 :- مناسب نام دو۔

(6) میں اون سے بنتا ہوں اور سردیوں میں پہنا جاتا ہوں۔

(7) میں زمین کے اوپر ہتا ہوں اور بارش برساتا ہوں۔

(8) میں ہندوستان کے مغربی سمت میں ہوں، میرا صدر مقام بنگلور ہے۔

$1 \times 4 = 4$

سوال نمبر 3 :- ندرج ذیل میں مناسب جوڑا Alphabet لکھئے۔

(9) ڈاکٹر راج کمار [] (a) پھل فروش

(10) پھل بیچنے والا [] (b) اداکاری

(11) پی ٹی او شتا [] (c) جن گن من

(12) قومی گیت [] (d) دوڑ

$2 \times 10 = 20$

سوال نمبر 4 :- درج ذیل سوالات کے مختصر جواب لکھئے۔

(13) قدیم دور اور موجودہ دور میں استعمال ہونے والے پیغام رسائی کے ذریعوں کی فہرست تیار کرو؟

(14) تمہارے گھر میں منائے جانے والے تہواروں کے نام لکھو؟

(15) کوئی دو عظیم شخصیات اور ان کی صلاحیتوں کے متعلق لکھو؟

(16) مدرسوں میں قومی پرچم کب لہرایا جاتا ہے؟

(17) اپنے کنبے کا ایک شجرہ نسب تیار کیجئے؟

(18) کھوکھو کھیل کے اصول لکھئے؟

(19) مختلف موسم میں استعمال ہونے والے لباسوں کے نام لکھئے؟



(20) قوس قزح میں موجود سات رنگوں کے نام لکھو؟

(21) ہماری ریاست کرنٹک کے ندیوں کے نام لکھو؟




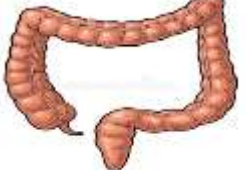
(22) مختلف کام کرنے والے افراد کی تصاویر یہاں دی گئی ہیں یہ کونسا کام کرتے ہیں، خالی جگہوں میں لکھیں۔



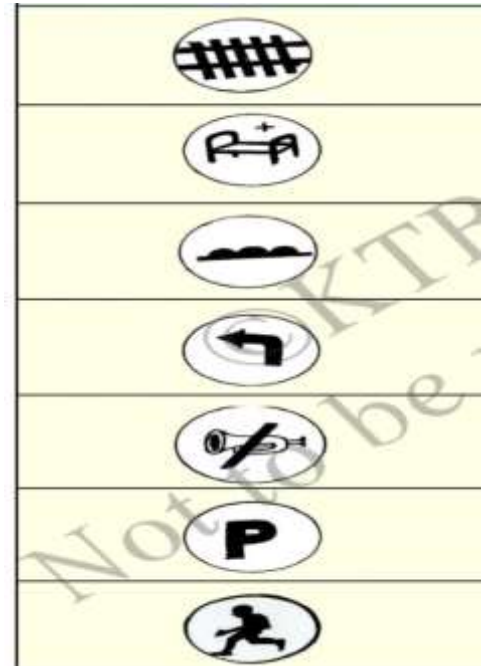
4x2=8

سوال نمبر 5: درج ذیل سوالات کے تفصیلی جوابات لکھئے۔

(23) درج ذیل اعضاء کے نام اور افعال لکھو؟

شمار نمبر	حصوں کے اشکال	حصوں کے نام	حصوں کے افعال
1			
2			
3			
4			

(24) درج ذیل اشاراتی تختیوں کے سامنے ان کے لئے مناسب ہدایتیں لکھیں۔



سوال نمبر 1 :-

(1) گردے

(2) زیرہ

(3) جان پیرڈ

(4) 9

(5) لکڑیوں کا چولہا اور گیس کا چولہا

سوال نمبر 2 :-

(5) سوئٹر

(6) بادل

(7) کرناٹک

سوال نمبر 3 :-

(9) [b]

(10) [a]

(11) [d]

(12) [c]

سوال نمبر 4 :-

(13) قدیم پیغام رسائی کے ذرائع: کوتر، ڈاکیہ وغیرہ

جدید پیغام رسائی کے ذرائع: موبائل، انٹرنیٹ، ای میل وغیرہ

(14) عید الفطر، عید الاضحیٰ وغیرہ

(16) مدرتیریا : مدرتیریانے اپنی ساری زندگی مریضوں، معزوروں اور یتیموں کی خدمت میں گزار دی انہیں نوبل انعام سے بھی نوازا گیا

کتور رانی چنا: انگریزوں کے ساتھ بہادری سے لڑتی رہی اور بہادری سے انگریزوں کا سامنا کیا۔

(17) شجرہ نسب

(18) کھوکھو کھیل میں دو باریاں ہوتی ہیں ہر باری میں بھاگنے اور چھونے کی دوڑ ہوتی ہے۔ ہر باری میں 7 منٹ کا وقفہ ہوتا ہے۔

کھوکھو کی ٹیم میں 12 کھلاڑی ہوتے ہیں ان میں 9 کھلاڑی کھیلنے والے اور 3 متبادل کھلاڑی ہوتے ہیں۔

(19) موسم سرما۔۔ سوئیٹز، اوئی مفلر

موسم گرما۔۔ سوئی کپڑے

موسم بارش۔۔ رین کوٹ

(20) قوس و قزح میں موجود سات رنگ : بنفشی، اودا، پیلا، سبز، زرد، نارنجی، سرخ

(21) ریاست کرناٹک کے ندیوں کے نام : کرشنا، گنڈاپربھا، شراوتی، کالی، ملاپربھا، بھیمیا، کاویری، بیماوتی، تنگا بھدرا

(22) ٹیچر: تعلیم دیتے ہیں، ڈاکٹر: بیماری کا علاج کرتے ہیں پولیس: ہماری حفاظت کرتے ہیں ڈاکیہ: خطوط پہنچاتے ہیں سبزی فروش: ترکاری اور پھل

فروخت کرتے ہیں ڈانس ٹیچر: رقص سیکھاتی ہیں ڈرائیور: گاڑیاں چلاتی ہیں میکانیک: سامان کی مرمت کرتے ہیں

(23) دانت : چبانے میں مدد کرتے ہیں

معدہ: غذا کو ہضم کرنے میں مدد کرتا ہے

چھوٹی آنت: غذا کے اجزاء کو جذب کرتی ہے

بڑی آنت: پانی اور دیگر اجزاء کو جذب کرتی ہے

(24)

1- آگے ٹرین کی پٹریاں ہی

2- آگے ہسپتال ہے

3- راستے پر ابھارے رفتار کم کریں

4- بائیں گھومیں

5- ہارن مت بجائیں

6- یہاں سواریاں ٹہرا سکتے ہیں

7- آہستہ جائیں

زبانى سوالى پرچہ مجموعى قدر پىسائى-2 2023-24

- 1- خون کارنگ کىسا هوتا هے؟ سرخ
- 2- دل کا کىا کام هے؟ خون پرچ کرنا
- 3- رىڊيو کو کس نے ايجاد کىا؟ مارکونى
- 4- تمهارے کنبه کے سب سے چھوٹے فرد کا نام کىا هے؟ -----
- 5- ناڊگيت لکھنے والے شاعر کون هیں؟ کوويميچو
- 6- همارا رىاستى پھول کونسا هے؟ کنول
- 7- کمپيوٹر کس نے ايجاد کىا؟ چارليس بياچ
- 8- هندوستان کى موجوده جملہ رىاستوں کى تعداد کتنى هے؟ 29
- 9- همارا رىاستى ترانہ کونسا هے؟ جے بھارت جننى تن جاتے
- 10- هندوستان کے نقشے ميں کرناٹک کونسى سمت ميں هے۔ جنوبى سمت