

ಕ್ಷೇತ್ರ ಶಿಕ್ಷಣಾಧಿಕಾರಿಗಳು ಮತ್ತು ಕ್ಷೇತ್ರ ಸಮನ್ವಯಾಧಿಕಾರಿಗಳ ಕಾರ್ಯಾಲಯ ಹರಪನಹಳ್ಳಿ
ನಲಿ ಕಲಿ ಸಂಕಲನಾತ್ಮಕ ಮೌಲ್ಯಮಾಪನ - 2
ಸರ್ಕಾರಿ ಕಿರಿಯ / ಹಿರಿಯ ಪ್ರಾಥಮಿಕ ಶಾಲೆ _____

ತರಗತಿ: 3

ವಿಷಯ: ಗಣಿತ

ಸಮಯ: 90 ನಿಮಿಷ

ಅಂಕ : 30


I. ಹೊಂದಿಸಿ ಬರೆಯಿರಿ.

1×5=5

- | | | |
|-----------------|-------------|-------|
| 1. 6×3 | 12 ತಿಂಗಳು | _____ |
| 2. $15 \div 3$ | 3 | _____ |
| 3. $12 - 9$ | 100 ಸೆಂ.ಮೀ. | _____ |
| 4. 1 ಮೀಟರ್ | 18. | _____ |
| 5. 1 ವರ್ಷಕ್ಕೆ | 5 | _____ |

II. ಬಿಟ್ಟ ಸ್ಥಳವನ್ನು ಸೂಕ್ತ ಉತ್ತರದಿಂದ ತುಂಬಿರಿ.

1×5=5

- 100, 200, _____, _____, _____, 600
- $680 \times 0 =$ _____
- $40 \div 5 = 8$ ಇದರಲ್ಲಿ ಭಾಜಕ _____
- ಒಂದು ಕಿಲೋ ಮೀಟರ್ ಗೆ _____ ಮೀಟರ್ ಗಳು.
-  ಇವುಗಳ ಅರ್ಧ ಭಾಗ ಸಂಖ್ಯೆಯಲ್ಲಿ _____

III. ಲೆಕ್ಕಗಳನ್ನು ಮಾಡೋಣ.

2×6=12

- ತೇಜು 257 ಪುಟಗಳಿರುವ ಪುಸ್ತಕದಲ್ಲಿ 159 ಪುಟಗಳನ್ನು ಓದಿದ್ದಾಳೆ ಅವಳು ಪುಸ್ತಕ ಪೂರ್ಣಗೊಳಿಸಲು ಇನ್ನು ಎಷ್ಟು ಪುಟಗಳನ್ನು ಓದಬೇಕು.
 - ಪುಸ್ತಕದಲ್ಲಿರುವ ಒಟ್ಟು ಪುಟಗಳ ಸಂಖ್ಯೆ : _____
 - ಓದಿದ ಪುಟಗಳ ಸಂಖ್ಯೆ : _____
 - ಓದಬೇಕಾದ ಪುಟಗಳ ಸಂಖ್ಯೆ: _____
- ಒಂದು ಸಾಲಿನಲ್ಲಿ 12 ಜನ ಮಕ್ಕಳಿದ್ದಾರೆ, 10 ಸಾಲಿನಲ್ಲಿ ಇರುವ ಮಕ್ಕಳ ಒಟ್ಟು ಸಂಖ್ಯೆ ಎಷ್ಟು?
- $90 \div 9$ ಲೆಕ್ಕ ಬಿಡಿಸಿ. ಭಾಜ್ಯ, ಭಾಜಕ,ಬಾಗಲಬ್ಬ ಗುರುತಿಸಿ.
- ಹೂವಾಡಗಿತ್ತಿಯ ಬಳಿ 7 ಕಿಲೋ ಗ್ರಾಂ 300 ಗ್ರಾಂ ಸೇವಂತಿಗೆ, 5 ಕಿಲೋ ಗ್ರಾಂ 450 ಗ್ರಾಂ ಗುಲಾಬಿ ಹೂವು, ಮತ್ತು 10 ಕಿಲೋ ಗ್ರಾಂ ಸಂಪಿಗೆ ಹೂವು ಇದೆ. ಹಾಗಾದರೆ ಅವಳ ಬಳಿ ಇರುವ ಒಟ್ಟು ಹೂಗಳ ತೂಕವೆಷ್ಟು?
 - ಸೇವಂತಿಗೆ: _____ ಕಿ.ಗ್ರಾಂ _____ ಗ್ರಾಂ
 - ಗುಲಾಬಿ : _____ ಕಿ.ಗ್ರಾಂ _____ ಗ್ರಾಂ
 - ಸಂಪಿಗೆ: _____ ಕಿ.ಗ್ರಾಂ _____ ಗ್ರಾಂ
 - ಒಟ್ಟು: _____ ಕಿ.ಗ್ರಾಂ _____ ಗ್ರಾಂ
- | | | | |
|------------|----------|--------|--------|
| $\times 4$ | $\div 8$ | -3 | $+ 6$ |
| 12 | -----> | -----> | -----> |
| | | | 9 |
- 36 ಚಾಕಲೇಟ್ ಗಳನ್ನು ಒಬ್ಬರಿಗೆ 6 ಹಂಚಿದರೆ ಒಟ್ಟು ಎಷ್ಟು ಜನರಿಗೆ ಹಂಚಬಹುದು?

IV. ಕೆಳಗಿನ ಚಿತ್ರಗಳಲ್ಲಿ ಸೂಚಿಸಿದಷ್ಟು ಭಾಗಕ್ಕೆ ಬಣ್ಣ ಹಚ್ಚಿರಿ.

1×4=4

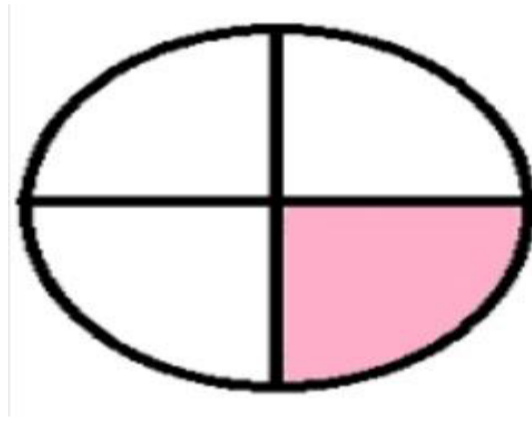

ಚಿತ್ರ	ಅರ್ಧ ಭಾಗ (½)	ಕಾಲು ಭಾಗ (¼)	ಮೂಕ್ಕಾಲು ಭಾಗ(¾)	ಪೂರ್ಣ ಭಾಗ

V. ಬಣ್ಣ ಹಚ್ಚಿರುವ ಭಾಗವನ್ನು ಭಿನ್ನರಾಶಿ ರೂಪದಲ್ಲಿ ಬರೆಯಿರಿ.

1×4=4

1.

2.



VI. ಕೋಷ್ಟಕದ ಮಾಹಿತಿಯನ್ನು ಗಮನಿಸಿ ಸರಿಯಾದ ಉತ್ತರವನ್ನು ಆರಿಸಿ ಬರೆಯೋಣ.

1×2=2

(ಪ್ರಮಾಣ: # = 5 ಪ್ರಾಣಿಗಳು)

ಕ್ರ.ಸಂ	ಪ್ರಾಣಿಗಳು	ಸಂಕೇತಗಳು	ಸಂಖ್ಯಾ ರೂಪ
1	ಕುರಿ	# # # # # #	
2	ಹಸು	# #	
3	ಎಮ್ಮೆ	# # #	
4	ಮೇಕೆ	# # # # #	

1. ಮೇಕೆಗಳ ಒಟ್ಟು ಸಂಖ್ಯೆ _____

a. 30 b. 15 c. 10 d. 25

2. ಯಾವ ಪ್ರಾಣಿಗಳ ಸಂಖ್ಯೆ ಕಡಿಮೆ ಇದೆ. _____

ಅವುಗಳ ಸಂಖ್ಯೆ ಎಷ್ಟು _____