

ಕ್ಷೇತ್ರ ಶಿಕ್ಷಣಾಧಿಕಾರಿಗಳು ಮತ್ತು ಕ್ಷೇತ್ರ ಸಮನ್ವಯಾಧಿಕಾರಿಗಳ ಕಾರ್ಯಾಲಯ ಹರಪನಹಳ್ಳಿ

ನಲಿ ಕಲಿ ಸಂಕಲನಾತ್ಮಕ ಮೌಲ್ಯಮಾಪನ - 2

ಸರ್ಕಾರಿ ಕಿರಿಯ / ಹಿರಿಯ ಪ್ರಾಥಮಿಕ ಶಾಲೆ _____

ತರಗತಿ: 2

ವಿಷಯ: ಗಣಿತ

ಸಮಯ: 90 ನಿಮಿಷ

ಅಂಕ : 30

I. ಬಿಟ್ಟ ಸ್ಥಳವನ್ನು ಸರಿಯಾದ ಉತ್ತರದಿಂದ ತುಂಬಿ ಬರೆಯಿರಿ.

1×5=5

1. ವರ್ಷದ ಮೊದಲ ತಿಂಗಳು _____

2. ನಾನು ಹುಟ್ಟಿದ ತಿಂಗಳು _____

3. ಒಂದು ದಿನಕ್ಕೆ _____ ಗಂಟೆಗಳು.

4. 20 ರೂಪಾಯಿಗಳಲ್ಲಿ 10ರೂಪಾಯಿ ಖರ್ಚು ಮಾಡಿದರೆ, ಉಳಿಯುವ ಹಣ -----

5. ಒಟ್ಟು ದಿಕ್ಕುಗಳು _____

II. ಸಮಸ್ಯೆಗಳನ್ನು ಬಿಡಿಸಿರಿ.

2×10=20

1. $8 \times 5 =$

2. $6 \times 4 =$

3. $12 \div 3 =$

4. $50 \div 10 =$



5. = _____ ಗಂಟೆ _____ ನಿಮಿಷ.

6. $20 + 35 - 15 =$ _____



7. ವಿನ್ಯಾಸ ಅನುಸರಿಸಿ ಪೂರ್ಣಗೊಳಿಸಿ.

5	10			25		
A	B		B	A		

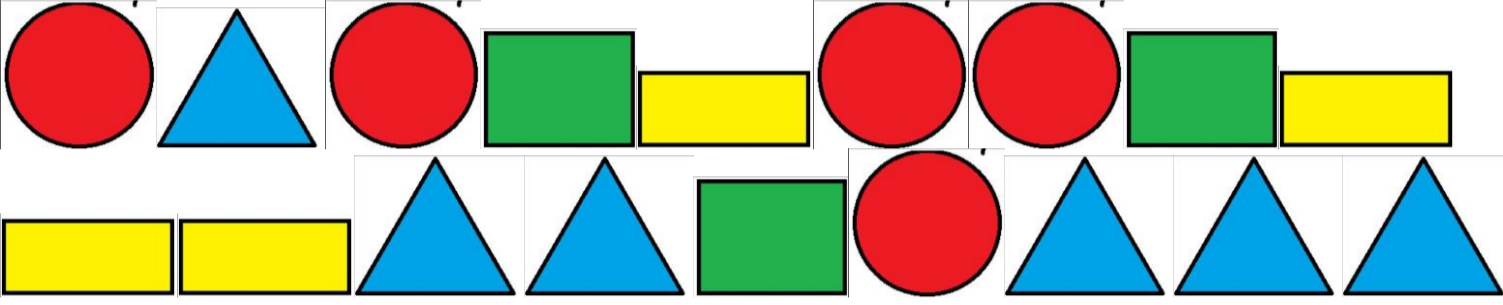
8. ನನ್ನ ಬಳಿ 70 ಲಡ್ಡುಗಳಿವೆ. ಅವುಗಳನ್ನು ನಿನ್ನ ಹತ್ತು ಜನ ಸ್ನೇಹಿತರಿಗೆ ಸಮಾನಾಗಿ ಹಂಚಿದರೆ ಪ್ರತಿಯೊಬ್ಬರಿಗೂ ಸಿಗುವ ಲಡ್ಡುಗಳು ಎಷ್ಟು?

9. ಸಂತೆಯಿಂದ 24 ಕಿತ್ತಳೆ ಹಣ್ಣುಗಳನ್ನು ಮತ್ತು ಹದಿನೈದು ದಾಳಿಂಬೆ ಹಣ್ಣುಗಳನ್ನು ತಂದಿರುವ ಅವುಗಳಲ್ಲಿ 11 ಹಣ್ಣುಗಳನ್ನು ತಿಂದ ನಂತರ ಉಳಿಯುವ ಹಣ್ಣುಗಳು ಎಷ್ಟು?

10. ಚಿತ್ರ ಗಮನಿಸಿ ಭಾರವಾದ ವಸ್ತುವಿಗೆ ಹಳದಿ ಬಣ್ಣವನ್ನು ಹಾಗೂ ಹಗುರವಾದ ವಸ್ತುವಿಗೆ ಕೆಂಪು ಬಣ್ಣದಿಂದ ಗುರುತಿಸಿರಿ.



III. ಕೊಟ್ಟಿರುವ ವಸ್ತುಗಳನ್ನು ಗಮನಿಸಿ ಅವುಗಳ ಬಣ್ಣ ಆಕಾರಗಳ ಆಧಾರದಲ್ಲಿ ಎಣಿಸಿ ಕೋಷ್ಟಕದಲ್ಲಿ ಬರೆಯಿರಿ. 5*1=5



ವಸ್ತುಗಳ ಬಣ್ಣ	ಸಂಖ್ಯೆ
ಹಳದಿ	
ನೀಲಿ	
ಕೆಂಪು	
ಹಸಿರು	
ಒಟ್ಟು ವಸ್ತುಗಳು ----->	

ವಸ್ತುಗಳ ಆಕಾರ	ಸಂಖ್ಯೆ
ತ್ರಿಭುಜ	
ಆಯತ	
ಚೌಕ	
ವೃತ್ತ	
ಒಟ್ಟು ವಸ್ತುಗಳು ----->	