

ನಲಿಕಲಿ ಸಂಪನ್ಮೂಲ ತಂಡ ಯಾದಗಿರಿ ರವರಿಂದ
ನಲಿ-ಕಲಿ ರೂಪಣಾತ್ಮಕ ಮೌಲ್ಯಮಾಪನ _1 ಪ್ರಶ್ನೆಪತ್ರಿಕೆ
ತರಗತಿ:2

ವಿಷಯ: ಗಣಿತ

ಅಂಕ- 30(ಲಿ-25 ಮೌ-05)

ತರಗತಿ:2

ಶಾಲೆಯ ಹೆಸರು:

ವಿದ್ಯಾರ್ಥಿಯ ಹೆಸರು:

1.ಚಿತ್ರಗಳನ್ನು ಎಣಿಸಿ ಸಂಖ್ಯೆಗಳನ್ನು ಬರೆಯೋಣ

ಅ. 

2*1/2=1

ಆ. 

2.ಸ್ಥಾನಕ್ಕೆ ಅನುಗುಣವಾಗಿ ಬಿಡಿ,,ಹತ್ತುಗಳಲ್ಲಿ ಬರೆಯಿರಿ.

ಅ. 19

ಹ	ಬಿ

 ಆ. 11

2*1/2=1

ಹ	ಬಿ

3.ಹೆಚ್ಚು ಅಂಕಿ-ಸಂಖ್ಯೆಗೆ ವೃತ್ತ ಹಾಕಿರಿ.

2*1/2=1

ಅ. 9, 8, 1, 5, 3

ಆ. 10 15, 13 17, 14

4. ಕಡಿಮೆ ಅಂಕಿ-ಸಂಖ್ಯೆಗೆ ವೃತ್ತ ಹಾಕಿರಿ

2*1/2=1

ಅ. 3, 4, 9, 6

ಆ. 13, 14, 15, 11

5.ಏರಿಕೆ ಕ್ರಮದಲ್ಲಿ ಬರೆಯಿರಿ

2*1/2=1

ಅ. 9, 3, 6, 11 ಉತ್ತರ :

ಆ. 11, 10, 15, 14 ಉತ್ತರ :

6. ಇಳಿಕೆ ಕ್ರಮದಲ್ಲಿ ಬರೆಯಿರಿ

2*1/2=1

ಅ. 5, 9, 8, 10 ಉತ್ತರ :

ಆ. 13, 10, 16, 15 ಉತ್ತರ :

7.ಹಿಂದಿನ -ಮುಂದಿನ-ಮಧ್ಯದ ಸಂಖ್ಯೆಗಳನ್ನು ಬರೆಯಿರಿ

$4 \times \frac{1}{2} = 2$

ಅ. 10 12

ಆ. 8 9

ಇ. 13 14

ಈ. 15 16

8.ಸಂಕಲನ ಮಾಡಿರಿ.

$2 \times 1 = 2$

1	4
+	3

1	3
+	5

9.ವ್ಯವಕಲನ ಮಾಡಿರಿ

$2 \times 1 = 2$

1	2
-	4

1	9
-	5

10.ಗುಣಾಕಾರ ಮಾಡಿರಿ




$1 \times \frac{1}{2} = 1$

ಅ. $3 \times 3 =$

ಆ. $4 \times 5 =$

$2 \times 1 = 2$

11.




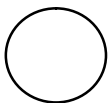
ಪ್ರತಿ ಗುಂಪಿನಲ್ಲಿರುವ ಚೆಂಡುಗಳು=

ಒಟ್ಟು ಚೆಂಡುಗಳು =

ಒಟ್ಟು ಚೆಂಡುಗಳು =


12. ಚಿತ್ರಗಳನ್ನು ಹೆಸರಿಸು

$2 \times \frac{1}{2} = 1$



13.ವಿನ್ಯಾಸ ಸರಣಿ ಪೂರ್ಣಗೊಳಿಸಿ.

1*1=1



14. ಬಿಟ್ಟು ಸ್ಥಳ ತುಂಬಿರಿ

1*1=1

ಅ. ನಿನ್ನೆ ಇಂದು ನಾಳೆ
ಸೋಮವಾರ ಮಂಗಳವಾರ

ಆ.ವರ್ಷದ ಮೊದಲ ತಿಂಗಳು .

15.ಉದ್ದವನ್ನು ಅಳೆದು ಬರೆಯಿರಿ(ಗೇಣು)

2*1/2=1

ಅ)ಟೇಬಲ್ = ಆ) ಕಪ್ಪು ಹಲಗೆ=

16. ಈ ಕೆಳಗಿನ ನಾಣ್ಯ ಮತ್ತು ನೋಟುಗಳ ಮೌಲ್ಯ ಗುರುತಿಸಿ ಬರೆಯಿರಿ.

2*1=2



=



=

17.ಭಾರವಾದ ವಸ್ತುವಿನ ಮನೆಗೆ ಕೆಂಪುಬಣ್ಣ ಹಾಗೂ ಹಗುರವಾದ ವಸ್ತುವಿನ ಮನೆಗೆ ಹಸಿರು ಬಣ್ಣ ತುಂಬು . 2 ಅಂಕ



18.ನಿನ್ನ ಇಬ್ಬರ ಸ್ನೇಹಿತರ ಹೆಸರಿನಲ್ಲಿರುವ ಅಕ್ಷರಗಳ ಸಂಖ್ಯೆ ಬರೆ.

2*1/2=1

ನಲಿಕಲಿ ಸಂಪನ್ಮೂಲ ತಂಡ ಯಾದಗಿರಿ ರವರಿಂದ
ನಲಿ-ಕಲಿ ರೂಪಣಾತ್ಮಕ ಮೌಲ್ಯಮಾಪನ _1 ಪ್ರಶ್ನೆಪತ್ರಿಕೆ
ತರಗತಿ:2

ವಿಷಯ: ಗಣಿತ

ಅಂಕ- ಮೌ-05

ತರಗತಿ:2

ಶಾಲೆಯ ಹೆಸರು:

ಮೌಖಿಕ ಪ್ರಶ್ನೆಗಳು.

- 1.ಒಂದು ವಾರಕ್ಕೆ ಎಷ್ಟು ದಿನಗಳು?
- 2.ಹೂವನ್ನು ಯಾವುದರಿಂದ ಅಳೆಯುತ್ತಾರೆ?
- 3.ಒಂದು ಡಯನ್ ಬಾಳೆಹಣ್ಣಿನಲ್ಲಿ ಎಷ್ಟು ಬಾಳೆಹಣ್ಣುಗಳು ಇರುತ್ತವೆ?
- 4.ಋಸ್ತುಕ ಇದು ಯಾವ ಆಕೃತಿಗೆ ಉದಾಹರಣೆಯಾಗಿದೆ?
5. 15 ಇದರಲ್ಲಿ 1 ರ ಸ್ಥಾನಬೆಲೆ ಹೇಳು