



پیل بندھ کارروائی — 2023-24

مطلوب اکتسابی ما حاصل

جماعت: ششم مضمون: علم ریاضی

- اعداد کو پڑھنا، مقامی قیمتوں کو سمجھنا اور اعداد کو بڑھتی ہوئی اور گھٹتی ترتیب میں لکھنا۔
- ریاضی کے بنیادی اعمال جیسے جمع اور تفریق کے مسائل کا حل کرنا۔
- ضرب اور تقسیم کے مسائل حل کرنا اور اس کو اپنی روزمرہ زندگی میں استعمال کرنا۔
- کسروں اور مساوی کسروں کے معنی بیان کرنا، مساوی کسروں کی شناخت کرنا اور عشری اعداد کے بارے میں سمجھنا۔
- اجزائے ضربی اور مضاعف کے بارے میں سمجھنا۔
- زاویوں کی پیمائش کرنا اور نام شناسی کرنا۔
- روزمرہ کی زندگی میں پیش آنے والے حادثات کے متعلق معلومات اکٹھا کر کے تصویری نقشہ، ستونی نقشہ کے ذریعہ پیش کرنا۔
- مربع اور مستطیل کا رقبہ معلوم کرنا۔
- سادہ ہندسی اشکال کا احاطہ معلوم کرنا۔
- سہ ابعادی اشکال مکعب، مکعب نما اور استوانہ کو سمجھنا۔

قبل از جانچ کا نمونہ سوالی پرچہ - 2023-24

جماعت: ششم مضمون: علم ریاضی

- 1- 1740125 اسکو پڑھئے اور الفاظ میں لکھئے؟
- 2- 13092 کو توسیع شکل میں لکھئے؟
- 3- 6384279 اور 6387928 ان میں بڑا عدد کونسا ہے لکھئے؟
- 4- جمع کرو۔ 25329 + 36907
- 5- 5/6 میں شمار کنندہ اور نسب نما کی نشاندہی کرو؟
- 6- 3627 x 23 کا حاصل ضرب معلوم کرو؟
- 7- 5/3 کے دو مساوی کسریں معلوم کرو؟
- 8- زاویوں کے اقسام لکھئے؟
- 9- ٹھیک 90^0 کے زاویے کو کیا کہتے ہیں؟
- 10- مستطیل کا احاطہ معلوم کرو جبکہ لمبائی 2 سم اور چوڑائی 3 سم ہو؟
- 11- مکعب میں سطحوں کی تعداد کتنی ہوتی ہے؟
- 12- استوانہ میں دائرہ نما سطحوں کی تعداد کتنی ہوتی ہے؟
- 13- کوئی چار سادہ ہندسی اشکال کے نام لکھئے؟
- 14- 36 کے اجزائے ضربی معلوم کرو؟
- 15- 6 کے چار مضاعف لکھئے؟
- 16- 3578، 3875، 3587، 3778 کو گھٹتی ہوئی ترتیب میں لکھئے؟
- 17- 5970، 5097، 5907، 5709، کو بڑھتی ترتیب میں لکھئے؟
- 18- $3058 \div 9$ کو تقسیم کرو؟
- 19- $1/10$ کو اعشاریہ کی شکل میں لکھئے؟
- 20- ایک اسکول کے ششم جماعت میں کل 72 طلباء موجود ہیں۔ اس میں 34 طلباء لڑکے ہوں تو اس جماعت میں موجود لڑکیوں کی تعداد کیا ہوگی؟

بعد از حساب کا نمونہ سوالی پرچہ - 2023-24

جماعت: ششم مضمون: علم ریاضی

1- 45378 اسکو پڑھئے اور الفاظ میں لکھئے؟

2- 37659 میں '6' کی مقامی قیمت معلوم کریں؟

3- 9028، 2097، 4999، 9320، 5703، 5073 کو بڑھتی ہوئی ترتیب میں لکھئے؟

4- 5037، 7035، 3705، 5073 کو گھٹتی ہوئی ترتیب میں لکھئے؟

5- 538 - 50768 + 4375 کو حل کرو؟

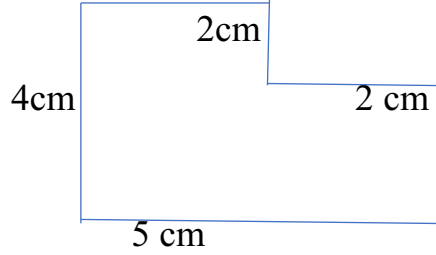
6- $4528 \div 13$ کو تقسیم کر کے خارج قسمت اور بچت معلوم کرو؟

7- 25×15 کا حاصل ضرب معلوم کرو؟

8- ایک گڑیا کی قیمت 120 روپے ہو تو 27 گڑیوں کی قیمت کیا ہوگی؟

9- 24 چاکلیٹوں کو 4 بچوں میں مساوی طور پر تقسیم کیا گیا ہو تو فی بچے کو کتنے چاکلیٹ ملیں گے؟

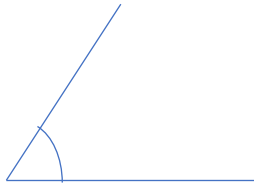
10- احاطہ معلوم کرو۔



11- 18 کے اجزائے ضربی معلوم کرو؟

12- 9 کے مضاعف لکھئے؟

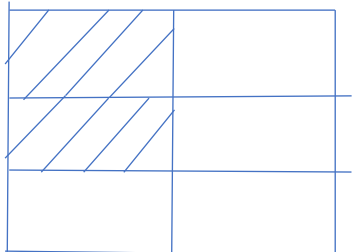
13- اس زاویے کی پیمائش کر کے نام شناسی کریں۔



14- دیئے گئے شماریات کے لئے ستونی ترسیم کھینچئے؟

جماعت	ششم	ہفتم	ہشتم
طلبا و طالبات کی تعداد	50	80	30

15- ذیل کی شکل میں رنگ شدہ حصے کو کسر میں لکھئے؟



16- 10 / 2 کو اعشاریہ میں تبدیل کرو؟

17- ساٹھ ہزار پانچ سو اکتیس کو اعداد میں لکھئے؟

18- ایک ضلع میں مردوں کی تعداد 19،73،568 اور عورتوں کی تعداد 16،98،976 ہو تو اس ضلع میں عورتوں کی تعداد مردوں کی تعداد سے

کتنی کم ہے معلوم کرو؟

19- ایک دکاندار اپنی دکان سے روزانہ 40 روپیے کی کمائی کرتا ہو تو بتائیے کہ 15 دنوں میں دکاندار کتنی کمائی کی؟

20- ذیل کے اشکال کو پہچان کر نام لکھیئے؟

