



## اكتسابى محصل كى فهرست

مضمون :- علم رياضى

جماعت :- سوم

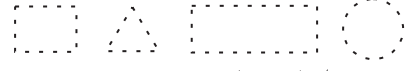
- (1) دو ابعادى اور سه ابعادى اشكال كى شناخت كريئگے اور خط كے درميان فرق كو معلوم كرتے هوءے خطوط كى پيچان كريئگے۔
- (2) 1 سے 99 تك كے اعداد كے ساتھ كام
- (3) روزمره زندگى ميں آنے والے 2 هندسى اعداد كى جمع پر مبنى مسائل حل كريں گے۔
- (4) روزمره زندگى ميں آنے والے 2 هندسى اعداد كى تفریق پر مبنى مسائل حل كريں گے۔
- (5) جمع كو دهراتے هوءے ضرب كرنا۔
- (6) مساوى بانئنے كے طريقے سے تقسيم كريں گے۔
- (7) 50 روپے سے كم جمله رقم كو  $3/4$  نوٹ اور سئكے ايك هى قيمت يا الگ قيمت ركھتے هیں فيصله كريئگے۔
- (8) لمبائى اور حجم كو غير رسمى آلات پنسل/لونا/چيچ/بالئيب جيسے چيزوں سے انداز اُپيانش كريئگے۔
- (9) ساده ترازو سے هلكى اور بهارى اشياء كا موازنه كريئگے۔
- (10) هفتته كے دنوں اور سال كے ماه كو جائينگے۔
- (11) اعداد كى ترتيب كو توسيع كريئگے۔
- (12) جمع شده معلومات كى بنياد پر مفروضه كا تجزيه كريئگے۔

## قبل از جانچ کا نمونہ سوالہ پرچہ

مضمون :- علم ریاضی

جماعت :- سوم

(1) نقاط کو جوڑ کر اشکال کا نام لکھیں۔



(2) مندرجہ ذیل کے اشکال بناؤ۔

خط مستقیم، منحنی خط، استوانہ، سیلینڈر، تارا

(3) مندرجہ ذیل اعداد کو الفاظ میں لکھو۔

25 (a) 72 (b)

(4) مندرجہ ذیل الفاظ اعداد میں لکھو۔

(a) پچپن (b) نو اسی

(5) جمع کرو:-  $65+20=$

$42+21=$

(6) جدول کے استعمال سے جمع کرو۔

اکائی	دہائی	+	اکائی	دہائی
3	5		7	3
6	2		2	4

(7) تفریق کرو:-  $38-22=$

$85-43=$

(8) جدول کے استعمال سے تفریق کرو:-

اکائی	دہائی	-	اکائی	دہائی
3	5		8	7
4	3		6	2

(9) ضرب کرو:-

(b)  $4 \times 7 =$   (a)  $9 \times 6 =$


(10) خالی جگہ مکمل کرو:-

☆  $5+5+5+5+5=$    $=5 \times$    $=$

☆  $9+9=$    $=9 \times$    $=$

(11) یکساں گروہ بناؤ:-

8(a) قلموں کے 4 گروہ بناؤ:-



10(b) غبارے کے 5 گروہ بناؤ:-



(12) تقسیم کرو:-

$$\begin{array}{r} 3 \overline{) 15} \\ 7 \overline{) 49} \end{array}$$

(13) 1 روپیے \_\_\_\_\_ پیسے ہوتے ہیں۔<sup>1</sup>

(14) کمپاس پیٹھی \_\_\_\_\_ باکس کے برابر ہے۔



(15) ٹیبل کی لمبائی \_\_\_\_\_ ہاتھ ہے۔



(16) ذیل میں آپ کے اسکول کے بیگ سے زیادہ بھاری اشیاء پر دائرہ ڈالیں۔



(17) ہفتے کے دنوں کے نام ترتیب وار لکھو۔

(18) سال کے مہینوں کے نام ترتیب وار لکھو۔

(19) چھٹے ہوئے اعداد لکھو۔

47, \_\_\_\_\_, \_\_\_\_\_, 50, \_\_\_\_\_, \_\_\_\_\_,

(20) نمونہ جات پر غور کرتے ہوئے خالی جگہ پر کریں۔




## بعد از جانچ کا نمونہ سوال پرچہ

مضمون :- علم ریاضی

جماعت :- سوم

(1) نقاط کو جوڑ کر اشکال کا نام لکھیں۔



(2) مندرجہ ذیل کے اشکال بناؤ۔

داڑھ، مثلث، مستطیل، مربع

(3) مندرجہ ذیل اعداد کو الفاظ میں لکھو۔

87 (b) 38 (a)

(4) مندرجہ ذیل الفاظ اعداد میں لکھو۔

(a) تیس (b) باون

(5) جمع کرو:-  $72+19=$

$83+27=$

(6) جدول کے استعمال سے جمع کرو۔

اکائی	دہائی	+	اکائی	دہائی
5	3		7	7
3	6		9	8

(7) تفریق کرو:-  $97-54=$

$89-35=$

(8) جدول کے استعمال سے تفریق کرو:-

اکائی	دہائی	-	اکائی	دہائی
7	5		9	7
2	3		2	6

(9) ضرب کرو:-

(b)  $5 \times 9 =$   (a)  $7 \times 6 =$

(10) خالی جگہ مکمل کرو:-

☆  $6+6+6=$    $=6 \times$    $=$

☆  $4+4+4+4=$    $=4 \times$    $=$

(11) یکساں گروہ بناؤ:-

9(a) 9 گروہ بناؤ:-



12(b) 12 کیلوں کے 3 گروہ بناؤ:-



(12) تقسیم کرو:-

$$4 \overline{) 24} \quad 8 \overline{) 64}$$

(13) 1 روپیے \_\_\_\_\_ پیسے ہوتے ہیں۔

(14) کمپاس پٹھی \_\_\_\_\_ باکس کے برابر ہے۔



(15) ٹیبل کی لمبائی \_\_\_\_\_ ہاتھ ہے۔



(16) ترازو دیکھیں اور روزنی چیز کو ✓ اور ہلکی چیز کو x کا نشان لگائیں۔



(17) ہفتے کے دنوں کے نام لکھو۔

(18) سال کے مہینوں کے نام ترتیب وار لکھو۔

(19) چھٹے ہوئے اعداد لکھو۔

80, \_\_\_\_\_, \_\_\_\_\_, 84, \_\_\_\_\_, \_\_\_\_\_,

(20) نمونہ جات پر غور کرتے ہوئے خالی جگہ پر کریں۔

