



اكتسابى ما حصل كى فهرست

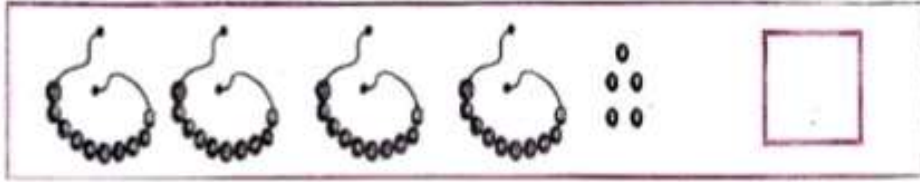
جماعت: دوّم مضمون: علم رياضى



- 1-20 تک کے اشیاء بولنا، لکھنا اور گنتی کریں گے۔
- 2- جمع اور تفریق کے روزمرہ کے مسائل حل کریں گے۔
- 3- اکائی، دہائی کی گروہ بندی کریں گے۔ تصاویر اور علامات کے ذریعہ مشاہدہ کریں گے۔
- 4- گھٹی ہوئی اور بڑھتی ہوئی ترتیب کو حل کریں گے۔
- 5- زیادہ اور کم قیمت والے اعداد کی پہچان کریں گے۔
- 6- آگے، پیچھے اور درمیان والے اعداد کی پہچان کریں گے۔
- 7- وزنی اور ہلکی اشیاء کی پہچان کریں گے۔
- 8- دہائیوں کا گروہ بنا کر دہائی کی پہچان کریں گے۔
- 9- 1 سے 5 تک کے پہاڑے لکھیں گے۔
- 10- دو ابعادی اشکال کی نشاندہی کر کے رنگ بھریں گے۔

قبل از جانچ کا نمونہ سوالی پرچہ


جماعت: دوم مضمون: علم ریاضی



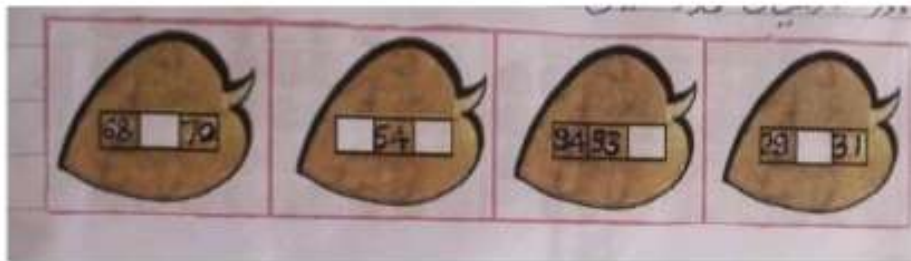
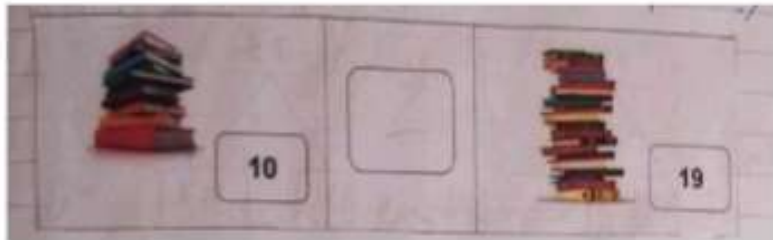
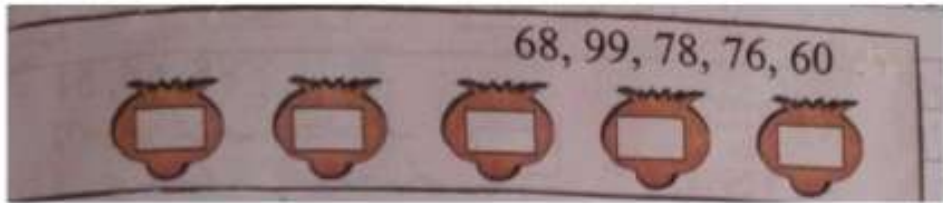
1- منکوں کی گنتی کر کے لکھو۔

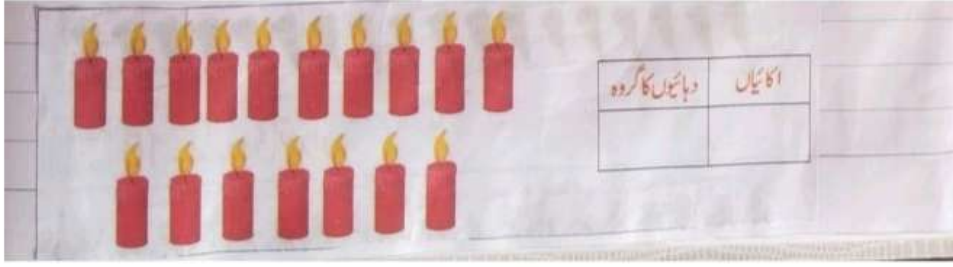


2- جمع کریں۔



3- لکائی اور دہائی میں لکھیں۔






8۔ دہائی کا گروہ بنا کر لکھیں۔

| | $1 \times 1 = 1$ | $2 \times 1 = 2$ | $3 \times 1 = 3$ | $4 \times 1 = 4$ | $5 \times 1 = 5$ |
|----|------------------|------------------|------------------|------------------|------------------|
| 1 | | | | | |
| 2 | | | | | |
| 3 | | | | | |
| 4 | | | | | |
| 5 | | | | | |
| 6 | | | | | |
| 7 | | | | | |
| 8 | | | | | |
| 9 | | | | | |
| 10 | | | | | |

9۔ 1 سے 5 تک پہاڑے لکھو۔

10۔ تصویر میں موجود مربع، مثلث مسطیل اور دائروں کو رنگ بھریں اور اشکال کی مناسب گنتی کرتے ہوئے لکھیں۔



دائرہ =

مثلث =

مسطیل =

$42 - 36 =$

11۔ تفریق کریں۔

A) 50, 70, 60

12۔ بڑے عدد پر دائرہ بناؤ۔

B) 95, 85, 76

A) 64,56,73

13۔ چھوٹے عدد پر دائرہ بناؤ۔

B) 90,40,04



14۔ اس تصویر میں اشکال گنتی کر کے لکھئے۔

کل مربع =-----

کل مستطیل =-----

کل مثلث =-----

کل دائرے =-----

15۔ عدد 35 میں دہائی مقام پر موجود ہندسہ کونسا ہے۔

16۔ 1 تا 50 تک کے اعداد سلسلہ وار کہیں۔

17۔ 38 کے آگے اور پیچھے کے اعداد کہیں۔

18۔ 25، 24، 29، 30 ان اعداد کو بڑھتی ہوئی اور گھٹتی ہوئی ترتیب میں لکھیں۔

19۔ 49، 18، 25، 38 ان اعداد میں چھوٹا عدد کونسا ہے اور بڑا عدد کونسا ہے۔

20۔ 1 تا 5 ضربی پہاڑے کہو۔

بعد از جانچ کا نمونہ سوالی پرچہ

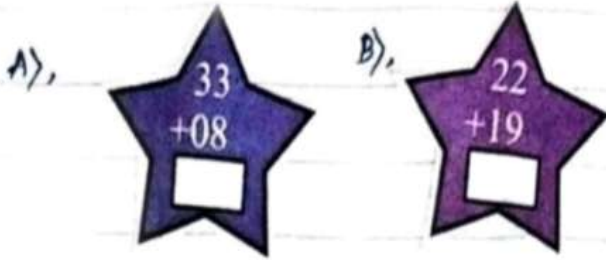
جماعت: دوّم مضمون: علم ریاضی

1- ترتیب وار اعداد کو جوڑ کر تصویر بنائیں گے۔ (1 سے شروع کریں)

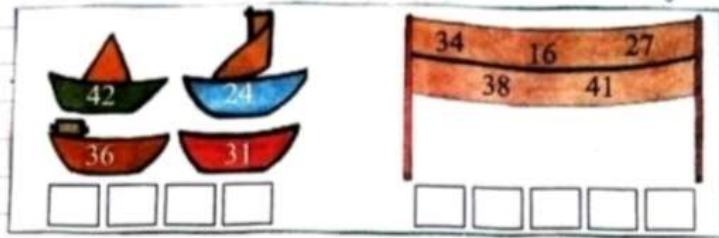


| | |
|-------|-------|
| دہائی | اکائی |
| | |

2- تصاویر کے مطابق اعداد کی گنتی کر کے لکھیں۔




3- جمع کریں۔

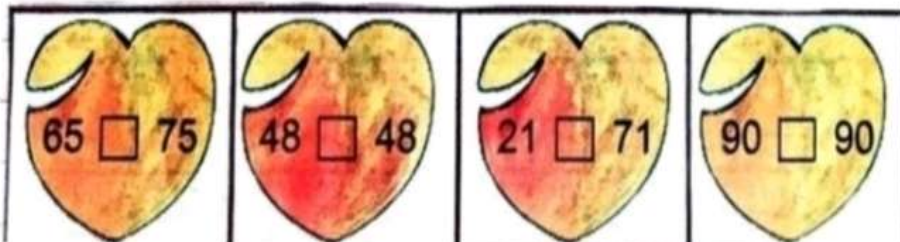


4- بڑھتی ہوئی ترتیب میں لکھیں۔

5- زیادہ سے زیادہ قیمت والے اعداد پر دائرہ بنائیں۔



6- خالی جگہ میں زیادہ (\geq)، کم (\leq) اور مساوی ($=$) کی علامت لکھئے۔



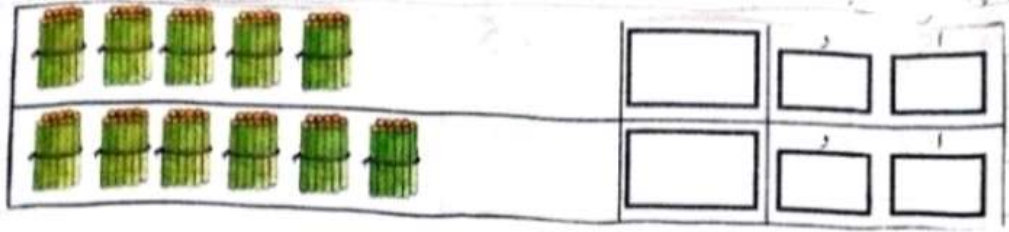
7- ذیل کے مسائل میں چھوٹے ہوئے اعداد لکھئے (اگلا، پچھلا اور درمیانی)

A) 36,37


B) 28,29

C) 41 43

8- دہائی کا گروہ بنا کر لکھو۔





9- ہلکی اشیاء پر دائرہ کھینچو۔



10- جمع کریں۔



A) $15+20=$

B) $26+69=$

| | | | |
|----|---|------------------|------------------------------------|
| A> |  | $5+5+5=15$ | $\square \times 3=15$ |
| B> |  | $2+2+2+2+2+2=14$ | $2 \times 7=$ <input type="text"/> |

11- گنتی کرتے ہوئے پہاڑے بنا کر خالی جگہ بناؤ۔

12- مندرجہ ذیل تصاویر میں موجود دائرے میں لال، مثلث میں زرد، مستطیل میں نیلا اور مربع میں سیاہ رنگ بھریں۔



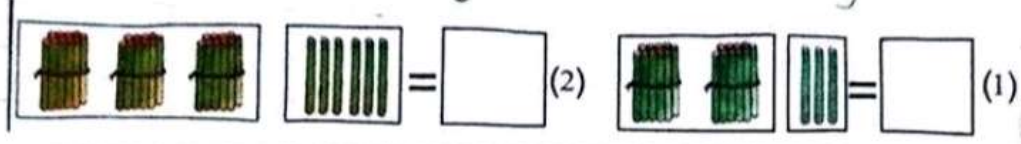
----- A-13) 96 کا مساوی عدد

----- B) 50 کا پچھلا عدد

-----2 کی مقامی قیمت (A-14) 27 میں 7 کی مقامی قیمت-----

-----4 کی مقامی قیمت (B) 48 میں 8 کی مقامی قیمت-----

15- تیلیوں کی گنتی کرو اور خالی جگہ میں لکھو۔



16- پتھر اور پتہ میں کونسی چیز ہلکی ہے؟

17- عدد 65 میں دہائی مقام پر موجود ہندسہ کونسا ہے؟

18- 2 تا 5 ضربی پیڑھے کہو؟

19- خالی جگہ پُر کرو

A) $5 \times 0 =$

B) $5 \times 2 =$

B) $9 \times 1 =$

D) $3 \times 4 =$

20- درج ذیل الفاظ کو چہرہ نما اشکال کے ساتھ جوڑ لگائیے:

| | |
|--------|--|
| مستطیل | |
| دائرہ | |
| مناث | |
| مربع | |

