

ಕ್ಷೇತ್ರ ಶಿಕ್ಷಣಾಧಿಕಾರಿಗಳ ಕಛೇರಿ ಹಾಗೂ ಕ್ಷೇತ್ರ ಸಂಪನ್ಮೂಲ ಕೇಂದ್ರ ಸಕಲೇಶಪುರ

ವಿಷಯ- ಗಣಿತ

ತರಗತಿ -1

2 ನೇ ತರಗತಿ ಸೇತುಬಂಧಕ್ಕೆ ಬುನಾದಿ ಸಾಮರ್ಥ್ಯಗಳು

ಶಾಲೆಯ ಹೆಸರು:-

ಆಶಯ:- ಇಂದಿನ ತರಗತಿಯ ಮೌಲ್ಯಮಾಪನ ಮಾಡಿ ಮುಂದಿನ ತರಗತಿಗೆ ಅಣಿಗೊಳಿಸುವುದು

ಪರಿಕಲ್ಪನೆಗಳು :

1 ಆಕಾರ ಮತ್ತು ಆಕೃತಿಗಳಿಗೆ ಅನುಗುಣವಾಗಿ ಮೇಲೆ -ಕೆಳಗೆ ,ಹತ್ತಿರ -ದೂರ, ಹಿಂದೆ-ಮುಂದೆ -ಮಧ್ಯೆ ಚಿಕ್ಕದು ದೊಡ್ಡದು ಇವುಗಳನ್ನು ಗುರುತಿಸುವುದು ಓದುವುದು ಮತ್ತು ಬರೆಯುವುದು.

2. ಸೊನ್ನೆಯಿಂದ 99 ರವರೆಗಿನ ಸಂಖ್ಯೆಗಳನ್ನು ಎಣಿಸುವುದು ಗುರುತಿಸುವುದು ಓದುವುದು ಮತ್ತು ಬರೆಯುವುದು.

3.ಸಂಖ್ಯೆಗಳನ್ನು ಏರಿಕೆ ಮತ್ತು ಇಳಿಕೆ ಕ್ರಮದಲ್ಲಿ ಜೋಡಿಸುವುದು ಕನಿಷ್ಠ ಗರಿಷ್ಠ, ಹಿಂದೆ-ಮುಂದೆ ಮಧ್ಯೆ ,ಅಂಕಿಸಂಖ್ಯೆಗಳನ್ನು ಗುರುತಿಸುವುದು ಓದುವುದು ಮತ್ತು ಬರೆಯುವುದು.

4.+ -- ಚಿಹ್ನೆಗಳನ್ನು ಬಳಸಿ ಸಂಕಲನ ಮತ್ತು ವ್ಯವಕಲನ ಮಾಡುವುದು ಮತ್ತು ಮಿಶ್ರ ಕ್ರಿಯೆ ಲೆಕ್ಕಗಳನ್ನು ಮಾಡುವುದು.

5.0 ಕಲ್ಪನೆ , 0ಯೊಂದಿಗೆ ಸಂಕಲನ ವ್ಯವಕಲನ ಮಾಡುವುದು ಹತ್ತರ ಕಲ್ಪನೆ, ಬಿಡಿ ,ಹತ್ತರ ಸ್ಥಾನಗಳ ಕಲ್ಪನೆ ತಿಳಿಯುವುದು.

6.ಮತ್ತ ಮತ್ತು ವ್ಯತ್ಯಾಸ 19ಕ್ಕೆ ಮೀರದಂತೆ ಸಂಕಲನ ಮತ್ತು ವ್ಯವಕಲನ ಮಾಡುವುದು.

7.ನಾಣ್ಯ ಮತ್ತು ನೋಟುಗಳನ್ನು ಗುರುತಿಸುವುದು.

8. ಅನೌಪಚಾರಿಕ ಅಳತೆಮಾನ ಗಳ ಬಗ್ಗೆ ತಿಳಿಯುವುದು.

9 ಸಮಯ ಹಾಗೂ ವಾರದ ದಿನಗಳನ್ನು ಪರಿಚಯಿಸುವುದು.

10. ಆಕೃತಿಗಳ ಪರಿಚಯ.

ಕ್ಷೇತ್ರ ಶಿಕ್ಷಣಾಧಿಕಾರಿಗಳ ಕಛೇರಿ ಹಾಗೂ ಕ್ಷೇತ್ರ ಸಂಪನ್ಮೂಲ ಕೇಂದ್ರ ಸಕಲೇಶಪುರ

ವಿಷಯ- ಗಣಿತ

ತರಗತಿ -1

2 ನೇ ತರಗತಿ ಸೇತುಬಂಧಕ್ಕೆ ಪೂರ್ವ ಪರೀಕ್ಷೆ

ಶಾಲೆಯ ಹೆಸರು:-

ವಿದ್ಯಾರ್ಥಿ ಹೆಸರು:-

ಚಟುವಟಿಕೆ: 1 ಮರದ ಮೇಲೆ ಏನಿದೆ? ಮನೆಯ ಹತ್ತಿರ ಏನಿದೆ?



ಚಟುವಟಿಕೆ :2

1)ಬಿಟ್ಟ ಸಂಖ್ಯೆ ಬರೆಯಿರಿ.

1		3			7				11				15						
---	--	---	--	--	---	--	--	--	----	--	--	--	----	--	--	--	--	--	--

2)ಅಂಕಿ ಅಷ್ಟೇ ಮನೆಗೆ ಬಣ್ಣ ತುಂಬು.

6---

--	--	--	--	--	--	--	--	--	--

ಚಟುವಟಿಕೆ: 3 ಕೆಳಗಿನ ಸಂಖ್ಯೆಗಳನ್ನು ಏರಿಕೆ ಇಳಿಕೆ ಕ್ರಮದಲ್ಲಿ ಬರೆಯಿರಿ.

25,45,12,32,56

82,64,76,58,94,61

ಚಟುವಟಿಕೆ: 4 ಕೆಳಗಿನ ಸಂಖ್ಯೆಗಳನ್ನು ಸಂಕಲನ ವ್ಯವಕಲನ ಮತ್ತು ಮಿಶ್ರ ಕ್ರಿಯೆ ಮಾಡಿರಿ.

$3+5 = \underline{\hspace{2cm}}$

$9-6 = \underline{\hspace{2cm}}$

$8+4-2 = \underline{\hspace{2cm}}$

ಚಟುವಟಿಕೆ: 5 ಲೆಕ್ಕಗಳನ್ನು ಮಾಡು

$4-0 = \underline{\hspace{2cm}}$

$9-0 = \underline{\hspace{2cm}}$

ಚಟುವಟಿಕೆ: 6 ಸಂಕಲನ ವ್ಯವಕಲನ ಮಾಡು ಮಾಡು

$$\begin{array}{r} 3 \\ +15 \\ \hline \end{array}$$

$$\begin{array}{r} 13 \\ -2 \\ \hline \end{array}$$

ಚಟುವಟಿಕೆ: 7 ಒಂದೇ ಬೆಲೆಯ ನಾಣ್ಯಗಳನ್ನು ಹೊಂದಿಸಿ ಗೆರೆ ಎಳೆ.

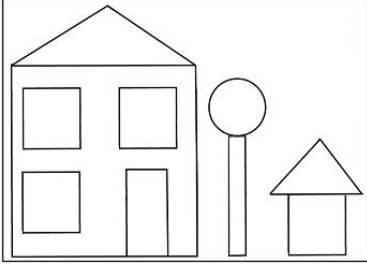






ಚಟುವಟಿಕೆ :8 ಹೂ ವನ್ನು ಯಾವುದರಲ್ಲಿ ಅಳೆಯುತ್ತಾರೆ
ನಿನ್ನ ಸ್ನೇಹಿತನ ಎತ್ತರವನ್ನು ಗೇರಿನಲ್ಲಿ ಅಳೆದು ಬರೆ

ಚಟುವಟಿಕೆ: 9 ವಾರದ ದಿನಗಳನ್ನು ಹೊಂದಿಸು

ಬುಧವಾರ	1
ಗುರುವಾರ	3
ಶನಿವಾರ	5
ಶುಕ್ರವಾರ	7
ಭಾನುವಾರ	2
ಸೋಮವಾರ	4

ಚಟುವಟಿಕೆ .10 ಈ ಕೆಳಗಿನ ಚಿತ್ರದಲ್ಲಿ ವಿವಿಧ ಆಕೃತಿಗಳನ್ನು ಎಣಿಸಿ ಬರೆ.



	_____
	_____
	_____
	_____

ಕ್ಷೇತ್ರ ಶಿಕ್ಷಣಾಧಿಕಾರಿಗಳ ಕಛೇರಿ ಹಾಗೂ ಕ್ಷೇತ್ರ ಸಂಪನ್ಮೂಲ ಕೇಂದ್ರ ಸಕಲೇಶಪುರ

ವಿಷಯ- ಗಣಿತ

ತರಗತಿ -1

2 ನೇ ತರಗತಿ ಸೇತುಬಂಧಕ್ಕೆ ಸಾಫಲ್ಯ ಪರೀಕ್ಷೆ

ಶಾಲೆಯ ಹೆಸರು:-

ವಿದ್ಯಾರ್ಥಿ ಹೆಸರು:-

ಚಟುವಟಿಕೆ :1



ಮೇಜಿನ ಕೆಳಗೆ ಏನಿದೆ?



ಕೊಳದ ಹತ್ತಿರ ಏನಿದೆ?

ಚಟುವಟಿಕೆ: 2 ಬಿಟ್ಟು ಸಂಖ್ಯೆ ಬರೆ

11		13		16		20
----	--	----	--	----	--	----

ಬಣ್ಣ ತುಂಬಿದ ಮನೆಯ ಸಂಖ್ಯೆ ಬರೆ.

																				= _____
--	--	--	--	--	--	--	--	--	--	--	--	--	--	--	--	--	--	--	--	---------

ಚಟುವಟಿಕೆ :3 ಕೆಳಗಿನ ಸಂಖ್ಯೆಗಳನ್ನು ಏರಿಕೆ ಇಳಿಕೆ ಕ್ರಮದಲ್ಲಿ ಬರೆಯಿರಿ.

32,75,17,82,56 72,54,76,48,94,41

ಚಟುವಟಿಕೆ: 4 ಸಂಕಲನ, ವ್ಯವಕಲನ, ಮಿಶ್ರ ಕ್ರಿಯೆ ಮಾಡಿರಿ.

4+3 = _____ 6-4= _____ 5+2-4= _____

ಚಟುವಟಿಕೆ : 5 ಲೆಕ್ಕಗಳನ್ನು ಮಾಡಿರಿ

2-0= _____ 5-0= _____

ಚಟುವಟಿಕೆ: 6 ಸಂಕಲನ ವ್ಯವಕಲನ ಮಾಡಿರಿ

14	16
+ 3	--2
-----	-----

ಚಟುವಟಿಕೆ :7 ನೋಟುಗಳನ್ನು ಗೆರೆಯೆಳೆದು ಹೊಂದಿಸು



ಚಟುವಟಿಕೆ :8 ನಿನ್ನ ಮನೆಯ ಬಾಗಿಲ ಉದ್ದವನ್ನು ಮಾರಿನಲ್ಲಿ ಅಳೆ?
ನಿನ್ನ ಅಮ್ಮನ ಜಡೆಯನ್ನು ಗೇಣಿನಲ್ಲಿ ಅಳೆ?

ಚಟುವಟಿಕೆ :9 ನಿನ್ನ ಶಾಲೆಗೆ ರಜೆ ದಿನ ಯಾವ ವಾರ?
ಸೋಮವಾರದ ನಂತರ ವಾರ ಯಾವುದು?

ಚಟುವಟಿಕೆ: 10 ಆಕೃತಿಗಳನ್ನು ಜೋಡಿಸು.

