


ಸಮಾಜ ವಿಜ್ಞಾನ
ಸಲಿತುಬಂಧ

{ವಿಶಿಷ್ಟವಾದ ಅಭ್ಯಾಸದ ಹಾಳೆಗಳೊಂದಿಗೆ}



ಸಂಶೋಷಣೆ ಕುಮಾರ್ .ಸಿ



ಸರ್ಕಾರಿ ಪ್ರೌಢಶಾಲೆ, ರಾಮಘಟ್ಟ

ಹರಪನಹಳ್ಳಿ(ತಾ)

ವಿಜಯನಗರ (ಜಿ)



ತರಗತಿ

ಸೇತುಬಂಧ

ಕಾರ್ಯಕ್ರಮ

ಸಂತೋಷ್ ಕುಮಾರ್ .ಸಿ

ಸಹಶಿಕ್ಷಕರು (ಕಲಾ ಕನ್ನಡ)

ಸರ್ಕಾರಿ ಪ್ರೌಢಶಾಲೆ, ರಾಮಘಟ್ಟ

ಹರಪನಹಳ್ಳಿ(ತಾ) ವಿಜಯನಗರ (ಜಿ)



ಬುನಾದಿ ಸಾಮರ್ಥ್ಯಗಳು

8ನೇ ತರಗತಿ

ಸಮಾಜ ವಿಜ್ಞಾನ

- 1) ಆಧಾರಗಳು, ಇತಿಹಾಸ ಪೂರ್ವ ಕಾಲ ಮತ್ತು ಐತಿಹಾಸಿಕ ಪ್ರಜ್ಞೆ
- 2) ಭಾರತ ಮತ್ತು ಜಗತ್ತಿನ ಪ್ರಾಚೀನ ನಾಗರಿಕತೆಗಳು
- 3) ಭಾರತ ಮತ್ತು ಕರ್ನಾಟಕವನ್ನು ಆಳಿದ ಪ್ರಮುಖ ರಾಜಮನೆತನಗಳು
- 4) ಧರ್ಮಗಳು ಹಾಗೂ ಸಾಮಾಜಿಕ ಮತ್ತು ಧಾರ್ಮಿಕ ಸುಧಾರಣೆ ಚಳುವಳಿಗಳು
- 5) ಭಾರತದಲ್ಲಿ ಬ್ರಿಟಿಷ್ ವಿರೋಧಿ ಹೋರಾಟಗಳು
- 6) ಕರ್ನಾಟಕದ ಸಾಂಸ್ಕೃತಿಕ ಪರಿಚಯ
- 7) ಸಂವಿಧಾನ ಮತ್ತು ಸರ್ಕಾರ
- 8) ದೇಶ ರಕ್ಷಣೆ ಮತ್ತು ರಾಷ್ಟ್ರೀಯ ಭಾವೈಕ್ಯತೆ
- 9) ದಿಕ್ಕುಗಳು, ಅಕ್ಷಾಂಶ ಮತ್ತು ರೇಖಾಂಶಗಳು ಹಾಗೂ ಭೂಮಿ
- 10) ಭೂ ಖಂಡಗಳ ಸಂಕ್ಷಿಪ್ತ ಪರಿಚಯ

ಸೇತುಬಂಧ ನೈದಾನಿಕ ಪರೀಕ್ಷೆ


ತರಗತಿ: 8 ವಿದ್ಯಾರ್ಥಿಯ ಹೆಸರು:

ವಿಷಯ: ಸಮಾಜ ವಿಜ್ಞಾನ

ಕೆಳಗಿನ ಪ್ರಶ್ನೆಗಳಿಗೆ ಅಥವಾ ಅಪೂರ್ಣ ಹೇಳಿಕೆಗಳಿಗೆ ನಾಲ್ಕು ಆಯ್ಕೆಗಳನ್ನು ನೀಡಲಾಗಿದೆ. ಅವುಗಳಲ್ಲಿ ಸೂಕ್ತವಾದ ಉತ್ತರವನ್ನು ಆರಿಸಿ ಕ್ರಮಾಕ್ಷರದೊಂದಿಗೆ ಬರೆಯಿರಿ.

1A. ಈ ಕೆಳಗಿನ ಚಿತ್ರವನ್ನು ಗಮನಿಸಿ, ಇತಿಹಾಸದ ಪಿತಾಮಹ ಎಂದು ಕರೆಯಲ್ಪಡುವ ಈತನನ್ನು ಹೆಸರಿಸಿ.

- ಅರಿಸ್ಟಾಟಲ್
- ಸಾಕ್ರಟೀಸ್
- ಹೆರಡೋಟಸ್
- ಪ್ಲೇಟೋ



ಉತ್ತರ:-


1B. ಈ ಕೆಳಗಿನವುಗಳಲ್ಲಿ ಯಾವುದು ಪುರತತ್ವ ಆಧಾರವಲ್ಲ ಎಂಬುದನ್ನು ಗುರುತಿಸಿ.

- ಸ್ಮಾರಕಗಳು
- ಶಾಸನಗಳು
- ನಾಣ್ಯಗಳು
- ಲಾವಣಿಗಳು

ಉತ್ತರ:-

2A. ಈ ಕೆಳಗಿನ ಮುದ್ರೆಯನ್ನು ಗಮನಿಸಿ, ಇಂತಹ ಮುದ್ರೆಗಳು ಯಾವ ನಾಗರಿಕತೆಗೆ ಸಂಬಂಧಿಸಿದವೆ ಎಂಬುದನ್ನು ಗುರುತಿಸಿ.

- ಈಜಿಪ್ಟ್ ನಾಗರಿಕತೆ
- ಚೀನಾ ನಾಗರಿಕತೆ
- ಮೆಸಪಟೋಮಿಯಾ ನಾಗರಿಕತೆ
- ಹರಪ್ಪ ನಾಗರಿಕತೆ



ಉತ್ತರ:-

2B. ಈ ಕೆಳಗಿನ ಸ್ಮಾರಕವನ್ನು ಗಮನಿಸಿ, ಇದು ಯಾವ ನಾಗರಿಕತೆಗೆ ಸಂಬಂಧಿಸಿದವೆ ಎಂಬುದನ್ನು ಗುರುತಿಸಿ.

- ಈಜಿಪ್ಟ್ ನಾಗರಿಕತೆ
- ಚೀನಾ ನಾಗರಿಕತೆ
- ಮೆಸಪಟೋಮಿಯಾ ನಾಗರಿಕತೆ
- ಹರಪ್ಪ ನಾಗರಿಕತೆ



ಉತ್ತರ:-

3A. ಬಾದಾಮಿ ಚಾಲುಕ್ಯ ಮನೆತನದ ಲಾಂಛನವನ್ನು ಹೆಸರಿಸಿ.

- ಸಿಂಹ
- ಆನೆ
- ವರಹಾ
- ಹುಲಿ

ಉತ್ತರ:-

3B. ಎಲ್ಲೋರಾದ ಕೈಲಾಸನಾಥ ದೇವಾಲಯವು ಈ ರಾಜ ಮನೆತನದ ಕೊಡುಗೆಯಾಗಿದೆ.


- ಬಾದಾಮಿಯ ಚಾಲುಕ್ಯರು
- ಕಂಚಿಯ ಪಲ್ಲವರು
- ಮಾನ್ಯಖೇಟದ ರಾಷ್ಟ್ರಕೂಟರು
- ದ್ವಾರಸಮುದ್ರದ ಹೊಯ್ಸಳರು



ಉತ್ತರ:-

4A. ಈ ಕೆಳಗಿನ ಚಿತ್ರವನ್ನು ಗಮನಿಸಿ, ಈ ಭಕ್ತ ಪಂಥದ ಸಂತನನ್ನು ಹೆಸರಿಸಿ.

- ಕಬೀರರು
- ತುಳಸಿದಾಸರು
- ಕನಕದಾಸರು
- ಚೈತನ್ಯರು



ಉತ್ತರ:-

4B. ಈ ಕೆಳಗಿನವರಲ್ಲಿ 'ಗುಲಾಮಗಿರಿ' ಎಂಬ ಗ್ರಂಥವನ್ನು ರಚಿಸಿದವರನ್ನು ಹೆಸರಿಸಿ.

- ಚ್ಯೋತಿಭಾ ಫುಲೆ
- ಸರ್ ಸೈಯದ್ ಖಾನ್
- ದಯಾನಂದ ಸರಸ್ವತಿ
- ರಾಜಾ ರಾಮ್ ಮೋಹನ್ ರಾಯ್

ಉತ್ತರ:-

5A. ಮಹಾತ್ಮ ಗಾಂಧೀಜಿಯವರು ರಾಜಕೀಯ ಗುರುಗಳೆಂದು ಇವರನ್ನು ಕರೆಯಲಾಗಿದೆ.

- ಬಾಲಗಂಗಾಧರ ತಿಲಕ್
- ಗೋಪಾಲಕೃಷ್ಣ ಗೋಖಲೆ
- ದಾದಾಬಾಯಿ ನವರೋಜಿ
- ಲಾಲಾ ಲಜಪತ್ ರಾಯ್



ಉತ್ತರ:-

5B. ಸಹಾಯಕ ಸೈನ್ಯ ಪದ್ಧತಿಯನ್ನು ಜಾರಿಗೆ ತಂದವನು.

- ಲಾರ್ಡ್ ವೆಲ್ಲೆಸ್ಲಿ
- ಲಾರ್ಡ್ ಡಾಲ್‌ಹೌಸಿ
- ಲಾರ್ಡ್ ಕಾರ್ನ್‌ವಾಲಿಸ್
- ವಾರನ್ ಹೇಸ್ಟಿಂಗ್ಸ್

ಉತ್ತರ:-

6A. ಸಾಲುಮರಗಳನ್ನೇ ತನ್ನ ಮಕ್ಕಳೆಂದು ಸಾಕಿದ ಈ ಮಹಾನ್ ಸಾಧಕಿಯನ್ನು ಗುರುತಿಸಿ.



- ಎ) ತಿಮ್ಮಕ್ಕ
- ಬಿ) ಎಂ.ಕೆ ಇಂದಿರಾ
- ಸಿ) ಗಂಗೂಬಾಯಿ ಹಾನಗಲ್
- ಡಿ) ಉಮಾದೇವಿ

ಉತ್ತರ:-

6B. ವಿಶ್ವ ವಿಖ್ಯಾತ ಜೋಗ ಜಲಪಾತ ಈ ಕೆಳಗಿನ ಯಾವ ಜಿಲ್ಲೆಯಲ್ಲಿದೆ ತಿಳಿಸಿ.

- ಎ) ಉತ್ತರ ಕನ್ನಡ
- ಬಿ) ದಕ್ಷಿಣ ಕನ್ನಡ
- ಸಿ) ಶಿವಮೊಗ್ಗ
- ಡಿ) ಉಡುಪಿ

ಉತ್ತರ:-

7A. 'ಭಾರತ ಸಂವಿಧಾನದ ಶಿಲ್ಪಿ' ಎಂದು ಕರೆಯಲ್ಪಟ್ಟಿರುವ ಮಹಾನ್ ವ್ಯಕ್ತಿಯನ್ನು ಹೆಸರಿಸಿ.

- ಎ) ಮಹಾತ್ಮ ಗಾಂಧೀಜಿ
- ಬಿ) ಡಾ| ಬಿ.ಆರ್ ಅಂಬೇಡ್ಕರ್
- ಸಿ) ಜವಹರ್ ಲಾಲ್ ನೆಹರು
- ಡಿ) ಸರ್ದಾರ್ ವಲ್ಲಭಬಾಯಿ ಪಟೇಲ್

ಉತ್ತರ:-

7B. ಈ ಕೆಳಗಿನವರಲ್ಲಿ ಪ್ರಸ್ತುತ ಭಾರತದ ರಾಷ್ಟ್ರಪತಿಯನ್ನು ಹೆಸರಿಸಿ.



- ಎ) ದ್ರೌಪದಿ ಮುರ್ಮು
- ಬಿ) ಸೋನಿಯಾ ಗಾಂಧಿ
- ಸಿ) ಮಮತಾ ಬ್ಯಾನರ್ಜಿ
- ಡಿ) ಉಮಾ ಭಾರತಿ

ಉತ್ತರ:-

8A. ಈ ಕೆಳಗೆ ನೀಡಿರುವ ಚಿತ್ರವನ್ನು ಗಮನಿಸಿ, ಅದು ಯಾವುದರ ಲಾಂಛನ ಎಂಬುದನ್ನು ಗುರುತಿಸಿ.



- ಎ) ಭಾರತೀಯ ಭೂಸೇನೆ
- ಬಿ) ಭಾರತೀಯ ನೌಕಾದಳ
- ಸಿ) ಭಾರತೀಯ ವಾಯುಪಡೆ
- ಡಿ) ಭಾರತೀಯ ರೆಡ್‌ಕ್ರಾಸ್

ಉತ್ತರ:-

8B. ಭಾರತದ ರಾಷ್ಟ್ರಗೀತೆಯನ್ನು ಹಾಡಲು ಬೇಕಾಗುವ ಕಾಲಾವಧಿ ಎಂದರೆ

- ಎ) 30 ಸೆಕೆಂಡುಗಳು
- ಬಿ) 36 ಸೆಕೆಂಡುಗಳು
- ಸಿ) 42 ಸೆಕೆಂಡುಗಳು
- ಡಿ) 52 ಸೆಕೆಂಡುಗಳು

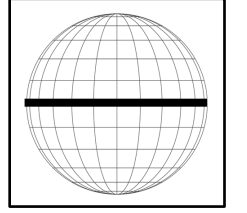
ಉತ್ತರ:-

9A. ಈ ಕೆಳಗಿನವುಗಳಲ್ಲಿ ನಾಲ್ಕು ಉಪದಿಕ್ತುಗಳ ಸರಿಯಾದ ಸರಣಿಯನ್ನು ಗುರುತಿಸಿ.

- ಎ) ಪೂರ್ವ, ಪಶ್ಚಿಮ, ಉತ್ತರ, ದಕ್ಷಿಣ
- ಬಿ) ವಾಯುವ್ಯ, ಈಶಾನ್ಯ, ಉತ್ತರ, ದಕ್ಷಿಣ
- ಸಿ) ಪೂರ್ವ, ಪಶ್ಚಿಮ, ವಾಯುವ್ಯ, ನೈರುತ್ಯ
- ಡಿ) ವಾಯುವ್ಯ, ಈಶಾನ್ಯ, ಆಗ್ನೇಯ, ನೈರುತ್ಯ

ಉತ್ತರ:-

9B. ಈ ಕೆಳಗಿನ ಗೋಳದಲ್ಲಿ ಗುರುತಿಸಲಾಗಿರುವ ಅಕ್ಷಾಂಶವನ್ನು ಹೆಸರಿಸಿ.



- ಎ) 0° ಅಕ್ಷಾಂಶ
- ಬಿ) 23½° ಉತ್ತರ ಅಕ್ಷಾಂಶ
- ಸಿ) 66½° ದಕ್ಷಿಣ ಅಕ್ಷಾಂಶ
- ಡಿ) 90° ಉತ್ತರ ಅಕ್ಷಾಂಶ

ಉತ್ತರ:-

10A. ಪ್ರಪಂಚದ ಭೂಖಂಡಗಳಲ್ಲಿ ಅತ್ಯಂತ ದೊಡ್ಡ ಭೂಖಂಡವನ್ನು ಹೆಸರಿಸಿ.

- ಎ) ಏಷ್ಯಾ ಖಂಡ
- ಬಿ) ಆಫ್ರಿಕಾ ಖಂಡ
- ಸಿ) ಆಸ್ಟ್ರೇಲಿಯಾ ಖಂಡ
- ಡಿ) ಉತ್ತರ ಅಮೇರಿಕಾ ಖಂಡ

ಉತ್ತರ:-

10B. ಆಸ್ಟ್ರೇಲಿಯಾ ಖಂಡದಲ್ಲಿ ಕಂಡು ಬರುವ ಈ ವಿಭಿನ್ನ ಪ್ರಾಣಿ ಸಂಕುಲವನ್ನು ಗುರುತಿಸಿ.



- ಎ) ಲಾಮಾ
- ಬಿ) ಕಾಂಗರೋ
- ಸಿ) ಪೆಂಗ್ವಿನ್
- ಡಿ) ಒಂಟೆ

ಉತ್ತರ:-

ಸೇತುಬಂಧ ಅಭ್ಯಾಸದ ಹಾಳೆ - 01

ಸಾಮರ್ಥ್ಯ:-1 ಆಧಾರಗಳು, ಇತಿಹಾಸ ಪೂರ್ವ ಕಾಲ ಮತ್ತು ಐತಿಹಾಸಿಕ ಪ್ರಶ್ನೆ

ತರಗತಿ: 8 ವಿದ್ಯಾರ್ಥಿಯ ಹೆಸರು:

ವಿಷಯ: ಸಮಾಜ ವಿಜ್ಞಾನ

ಪುಸ್ತಕದ ಸಹಾಯದಿಂದ ಇವರನ್ನು ಹೆಸರಿಸಿ:





- ಕೆಳಗಿನ ಬಿಟ್ಟಿರುವ ಸ್ಥಳಗಳನ್ನು ಸರಿಯಾದ ಪದಗಳಿಂದ ತುಂಬಿರಿ:
 - ಇತಿಹಾಸದ ಪಿತಾಮಹ _____.
 - ಮಾನವನು ಬಳಸಿದ ಮೊದಲ ಲೋಹ _____.
 - ಸಂಗನಕಲ್ಲು _____ ಉತ್ಪಾದನೆಯ ನೆಲೆಯಾಗಿತ್ತು.
 - ಮಧ್ಯ ಶಿಲಾಯುಗವನ್ನು _____ ಎಂದೂ ಕರೆಯುವರು.
- ಕೆಳಗಿನ ಪ್ರಶ್ನೆಗಳಿಗೆ ಒಂದು ಪದ/ವಾಕ್ಯದಲ್ಲಿ ಉತ್ತರಿಸಿರಿ:
 - ಇತಿಹಾಸ ಎಂದರೇನು?
 - ಪುರತತ್ವ ಆಧಾರಗಳು ಎಂದರೇನು?
 - ಪ್ರಾಗೈತಿಹಾಸಿಕ ಕಾಲ ಎಂದರೇನು?
 - ಯಾವ ಯುಗದಲ್ಲಿ ಮಾನವ ಕೃಷಿಯನ್ನು ಪ್ರಾರಂಭಿಸಿದನು?

ಕರ್ನಾಟಕದಲ್ಲಿನ ಶಿಲಾಯುಗದ ನೆಲೆಗಳನ್ನು ಹೆಸರಿಸಿ:

ಹಳೆ ಶಿಲಾಯುಗ

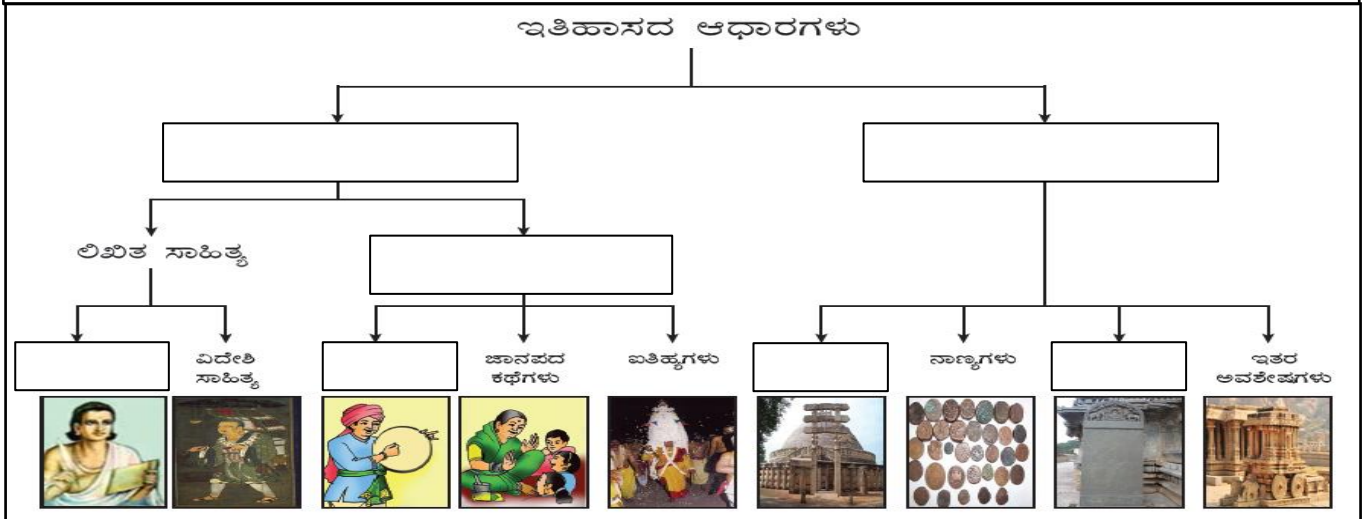
ಮಧ್ಯ ಶಿಲಾಯುಗ

ನವ ಶಿಲಾಯುಗ

ಈ ಚಿತ್ರಗಳನ್ನು ಗಮನಿಸಿ ಪ್ರಾಗೈತಿಹಾಸಿಕ ಕಾಲದ 3 ಹಂತಗಳನ್ನು ಹೆಸರಿಸಿ:



ಆಧಾರಗಳ ಪ್ರಕಾರಗಳಿಗೆ ಸಂಬಂಧಿಸಿದಂತೆ ಈ ಕೆಳಗಿನ ಚರ್ಚಿನಲ್ಲಿ ಖಾಲಿ ಬಿಟ್ಟಿರುವ ಸ್ಥಳಗಳನ್ನು ಸೂಕ್ತ ಪದಗಳಿಂದ ತುಂಬಿರಿ:





ಸೇತುಬಂಧ ಅಭ್ಯಾಸದ ಹಾಳೆ - 02

{ಸಾಮರ್ಥ್ಯ:-2 ಭಾರತ ಮತ್ತು ಜಗತ್ತಿನ ಪ್ರಾಚೀನ ನಾಗರಿಕತೆಗಳು}

ತರಗತಿ: 8 ವಿದ್ಯಾರ್ಥಿಯ ಹೆಸರು:

ವಿಷಯ: ಸಮಾಜ ವಿಜ್ಞಾನ

ಈ ಕೆಳಗಿನವುಗಳನ್ನು ಗುರುತಿಸಿ:



I. ಕೆಳಗಿನ ಬಿಟ್ಟಿರುವ ಸ್ಥಳಗಳನ್ನು ಸರಿಯಾದ ಪದಗಳಿಂದ ತುಂಬಿರಿ:

- 1) ಹರಪ್ಪನ್ನರು _____ ದೇವತೆಯನ್ನು ಪೂಜಿಸುತ್ತಿದ್ದರು.
- 2) ಜಗತ್ತಿನ ಮೊತ್ತಮೊದಲ ಸಾಮ್ರಾಜ್ಯ _____.
- 3) ಬ್ಯಾಬಿಲೋನ್ ತೂಗು ಉದ್ಯಾನ ನಿರ್ಮಿಸಿದವನು _____.
- 4) ಚೀನಿಯರು _____ ಲಿಪಿಯ ಮೂಲಕ ಬರೆಯುತ್ತಿದ್ದರು.
- 5) ವೈದ್ಯಶಾಸ್ತ್ರದ ಪಿತಾಮಹ _____.
- 6) ರೋಮನ್ನರ ಭಾಷೆ _____.
- 7) ರೋಮನ್ನರ ಮೂಲ ಪುರುಷರು _____.

II. ಕೆಳಗಿನ ಪ್ರಶ್ನೆಗಳಿಗೆ ಒಂದು ಪದ/ವಾಕ್ಯದಲ್ಲಿ ಉತ್ತರಿಸಿರಿ:

- 1) ಜಗತ್ತಿನಲ್ಲೇ ಹತ್ತಿ ಬೆಳೆದ ಮೊದಲ ದೇಶ ಯಾವುದು?
- 2) ಜಗತ್ತಿನ ಉದ್ದವಾದ ನದಿ ಯಾವುದು?
- 3) ಫೆರೋ ಎಂದರೆ ಯಾರು?
- 4) ಇತಿಹಾಸದ ಪಿತಾಮಹ ಎಂದು ಯಾರನ್ನು ಕರೆಯುತ್ತಾರೆ?

III. ಕೆಳಗಿನವುಗಳನ್ನು ಹೊಂದಿಸಿ ಬರೆಯಿರಿ:

- | | |
|------------------------|-----------------------|
| 'ಅ' ಪಟ್ಟಿ | 'ಬ' ಪಟ್ಟಿ |
| 1. ಕಲೋಸಿಯಂ | ಎ. ಚೀನಾದ ಮಹಾಗೋಡೆ |
| 2. ಸಾರ್ವಜನಿಕ ಸ್ನಾನ ಗೃಹ | ಬಿ. ಅಕಾಡೆಮಿ |
| 3. ಪ್ಲೇಟೋ | ಸಿ. ರೋಮಿನ ವಾಸ್ತುಶಿಲ್ಪ |
| 4. ಪಿ ಹ್ಲಾಂಗ್ ತಿ | ಡಿ. ಖುಫು |
| 5. ಗಿಜೆ ಪಿರಮಿಡ್ | ಇ. ಮೊಹೆಂಚೊದಾರೊ |

ನಾಲ್ಕು ವೇದಗಳನ್ನು ಹೆಸರಿಸಿ:

ನಾಲ್ಕು ವರ್ಣಗಳನ್ನು ಹೆಸರಿಸಿ:

ಹರಪ್ಪ ನಾಗರಿಕತೆಯ ನಗರಗಳನ್ನು ಹೆಸರಿಸಿ:

ಪಠ್ಯಪುಸ್ತಕ ಅವಲೋಕಿಸಿ ಈ ಕೆಳಗಿನ ಮಾಹಿತಿಯನ್ನು ಪೂರ್ಣಗೊಳಿಸಿರಿ:

ನಾಗರಿಕತೆ	ನದಿ ದಂಡೆ	ಯಾವುದಾದರೊಂದು ವೈಶಿಷ್ಟ್ಯ
ಹರಪ್ಪ ನಾಗರಿಕತೆ		
ಈಜಿಪ್ಟ್ ನಾಗರಿಕತೆ		
ಮೆಸಪಟೋಮಿಯಾ ನಾಗರಿಕತೆ		
ಚೀನಾ ನಾಗರಿಕತೆ		
ರೋಮ್ ನಾಗರಿಕತೆ		

ಸೇತುಬಂಧ ಅಭ್ಯಾಸದ ಹಾಳೆ - 03

(ಸಾಮರ್ಥ್ಯ:-3 ಭಾರತ ಮತ್ತು ಕರ್ನಾಟಕವನ್ನು ಆಳಿದ ಪ್ರಮುಖ ರಾಜಮನೆತನಗಳು)

ತರಗತಿ: 8 ವಿದ್ಯಾರ್ಥಿಯ ಹೆಸರು:

ವಿಷಯ: ಸಮಾಜ ವಿಜ್ಞಾನ

ಈ ಕೆಳಗಿನ ಸ್ಮಾರಕಗಳನ್ನು ಹೆಸರಿಸಿ:



I. ಕೆಳಗಿನ ಬಿಟ್ಟಿರುವ ಸ್ಥಳಗಳನ್ನು ಸರಿಯಾದ ಪದಗಳಿಂದ ತುಂಬಿ:

- 1) ಕವಿ ಚಕ್ರವರ್ತಿ ಎಂಬ ಬಿರುದು ಗಳಿಸಿದ ಕವಿ _____.
- 2) ಚೋಳರ ರಾಜಧಾನಿ _____.
- 3) ದೇವಾಲಯಗಳ ಚಕ್ರವರ್ತಿ ಎನಿಸಿಕೊಂಡ ದೇವಾಲಯ _____.
- 4) ಕಂಚಿಯ ಪಲ್ಲವರ ಪ್ರಸಿದ್ಧ ದೊರೆ _____.
- 5) ದೇವಾಲಯಗಳ ವಾಸ್ತುಶಿಲ್ಪದ ತೊಟ್ಟಿಲು _____.
- 6) ಅಶೋಕನ ಶಾಸನಗಳು ಪ್ರಧಾನವಾಗಿ _____ ಲಿಪಿಯಲ್ಲಿವೆ.
- 7) ಬಹುಮನಿ ಸಾಮ್ರಾಜ್ಯದ ಸ್ಥಾಪಕ _____.
- 8) ಅಮುಕ್ತ ಮೌಲ್ಯದ ಗ್ರಂಥವನ್ನು ಬರೆದವನು _____.

ಉತ್ತರ ಭಾರತವನ್ನಾಳಿದ ರಾಜ ಮನೆತನಗಳನ್ನು ಹೆಸರಿಸಿ:

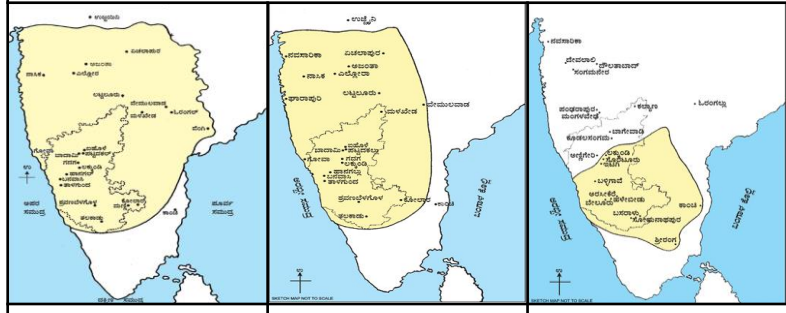
III. ಕೆಳಗಿನವುಗಳನ್ನು ಹೊಂದಿಸಿ ಬರೆಯಿರಿ:

- | | |
|----------------------|----------------------|
| 'ಅ' ಪಟ್ಟಿ | 'ಬ' ಪಟ್ಟಿ |
| 1. ಮೌರ್ಯರು | ಅ. 2ನೇ ತೈಲಪ |
| 2. ದೆಹಲಿ ಸುಲ್ತಾನರು | ಆ. ಪಷ್ಯಭೂತಿ |
| 3. ಮೊಘಲರು | ಇ. ಕುತ್ಬುದ್ದೀನ್ ಐಬಕ್ |
| 4. ಕಲ್ಯಾಣದ ಚಾಲುಕ್ಯರು | ಈ. ಬಾಬರ್ |
| 5. ವರ್ಧನರು | ಉ. ಚಂದ್ರಗುಪ್ತ |

ಈ ಕೆಳಗಿನ ಕವಿಗಳ ಗ್ರಂಥಗಳನ್ನು ಹೆಸರಿಸಿ:

- | |
|----------------|
| ಕಾಳಿದಾಸ - |
| ಶ್ರೀಪುರುಷ - |
| ಶ್ರೀವಿಜಯ - |
| 3ನೇ ಸೋಮೇಶ್ವರ - |
| ಕುಮಾರ ವ್ಯಾಸ - |

ಈ ಕೆಳಗಿನ ಸಾಮ್ರಾಜ್ಯದ ಗಡಿಗಳನ್ನು ಗಮನಿಸಿ ಸಾಮ್ರಾಜ್ಯವನ್ನು ಹೆಸರಿಸಿ:



ವಿಜಯನಗರ ಸಾಮ್ರಾಜ್ಯವನ್ನಾಳಿದ 4 ಮನೆತನಗಳನ್ನು ತಿಳಿಸಿ:

ರಾಜಮನೆತನ	ಸ್ಥಾಪಕ	ರಾಜಧಾನಿ	ಪ್ರಸಿದ್ಧ ದೊರೆ	ಲಾಂಛನ
ಕದಂಬರು				
ಗಂಗರು				
ಬಾ. ಚಾಲುಕ್ಯರು				
ಹೊಯ್ಸಳರು				
ವಿಜಯನಗರ				
ಒಡೆಯರು				





ಸೇತುಬಂಧ ಅಭ್ಯಾಸದ ಹಾಳೆ - 04

(ಸಾಮರ್ಥ್ಯ:-4 ಧರ್ಮಗಳು ಹಾಗೂ ಸಾಮಾಜಿಕ ಮತ್ತು ಧಾರ್ಮಿಕ ಸುಧಾರಣೆ ಚಳುವಳಿಗಳು)

ತರಗತಿ: 8 ವಿದ್ಯಾರ್ಥಿಯ ಹೆಸರು:





ವಿಷಯ: ಸಮಾಜ ವಿಜ್ಞಾನ

ಇವರನ್ನು ಹೆಸರಿಸಿ:

- I. ಕೆಳಗಿನ ಬಿಟ್ಟಿರುವ ಸ್ಥಳಗಳನ್ನು ಸರಿಯಾದ ಪದಗಳಿಂದ ತುಂಬಿರಿ:**
- 1) ಚೈತನ್ಯರ ಮೊದಲ ಹೆಸರು _____.
 - 2) ತುಳಸಿದಾಸರ ಪ್ರಸಿದ್ಧ ಗ್ರಂಥ _____.
 - 3) ಬಂದೇನವಾಜ್ ಎಂದರೆ _____ ಎಂದರ್ಥ.
 - 4) ಸ್ವಾಮಿ ವಿವೇಕಾನಂದರ ಗುರುಗಳು _____.
 - 5) ವೇದಗಳಿಗೆ ಹಿಂದಿರುಗಿ ಎಂದು _____ ಕರೆಯುತ್ತರು.
 - 6) ಗುಲಾಮಗಿರಿ ಎಂಬ ಕೃತಿಯನ್ನು ರಚಿಸಿದವರು _____.
 - 7) 'ಮುಕ್ತಿ ಮಿಷನ್' ಸಂಸ್ಥೆಯ ಸ್ಥಾಪಕರು _____.
- II. ಕೆಳಗಿನ ಪ್ರಶ್ನೆಗಳಿಗೆ ಒಂದು ಪದ/ವಾಕ್ಯದಲ್ಲಿ ಉತ್ತರಿಸಿರಿ:**
- 1) ಕನ್ನಡದ ಮೊದಲ ಮುಸ್ಲಿಂ ಕವಿ ಯಾರು?
 - 2) ಭಾರತದ ರಾಷ್ಟ್ರೀಯತೆಯ ನಿಜವಾದ ಪಿತಾಮಹ ಯಾರು?
 - 3) ಒಬ್ಬ ದೇವರು, ಒಂದು ಧರ್ಮ & ಒಂದು ಜಾತಿ ಎಂದವರು ಯಾರು?
 - 4) ಪ್ರಾರ್ಥನಾ ಸಮಾಜದ ಸ್ಥಾಪಕರು ಯಾರು?
- III. ಕೆಳಗಿನವುಗಳನ್ನು ಹೊಂದಿಸಿ ಬರೆಯಿರಿ:**
- | | |
|-------------------|---------------------|
| 'ಅ' ಪಟ್ಟಿ | 'ಬ' ಪಟ್ಟಿ |
| 1. ಅಕ್ಕಮಹಾದೇವಿ | ಅ. ಕರ್ನಾಟಕದ ಕಬೀರ |
| 2. ಶ್ರೀನಿವಾಸ ನಾಯಕ | ಆ. ಆದಿಕೇಶವ |
| 3. ಕನಕದಾಸರು | ಇ. ಪುರಂದರ ದಾಸ |
| 4. ಶಿಶುನಾಳ ಶರೀಫರು | ಈ. ಕಲಿಯುಗದ ರಾಧೆ |
| 5. ಮೀರಾಬಾಯಿ | ಉ. ಚನ್ನಮಲ್ಲಿಕಾರ್ಜುನ |

ಇವರನ್ನು ಹೆಸರಿಸಿ:

ಪಠ್ಯಪುಸ್ತಕವನ್ನು ಅವಲೋಕಿಸಿ ಈ ಕೆಳಗಿನ ಮಾಹಿತಿಯನ್ನು ಪೂರ್ಣಗೊಳಿಸಿರಿ:

ಧರ್ಮ	ಸ್ಥಾಪಕರು	ಪವಿತ್ರ ಗ್ರಂಥ	ನಿಮಗಿಷ್ಟವೆನಿಸಿದ ಅವರ ಒಂದು ಬೋಧನೆ
ಜೈನ ಧರ್ಮ			
ಬೌದ್ಧ ಧರ್ಮ			
ಕ್ರೈಸ್ತಧರ್ಮ			
ಇಸ್ಲಾಂ ಧರ್ಮ			
ಸಿಖ್ ಧರ್ಮ			

ಸೇತುಬಂಧ ಅಭ್ಯಾಸದ ಹಾಳೆ - 05

ಸಾಮರ್ಥ್ಯ:-5 ಭಾರತದಲ್ಲಿ ಬ್ರಿಟಿಷ್ ವಿರೋಧಿ ಹೋರಾಟಗಳು

ತರಗತಿ: 8 ವಿದ್ಯಾರ್ಥಿಯ ಹೆಸರು:

ವಿಷಯ: ಸಮಾಜ ವಿಜ್ಞಾನ

ಈ ಬ್ರಿಟಿಷ್ ಅಧಿಕಾರಿಗಳನ್ನು ಗುರುತಿಸಿ:



I. ಕೆಳಗಿನ ಬಿಟ್ಟಿರುವ ಸ್ಥಳಗಳನ್ನು ಸರಿಯಾದ ಪದಗಳಿಂದ ತುಂಬಿರಿ:

- 1) ಸಹಾಯಕ ಸೈನ್ಯ ಪದ್ಧತಿಯನ್ನು ಜಾರಿಗೆ ತಂದವನು _____.
- 2) ದತ್ತು ಮಕ್ಕಳಿಗೆ ಹಕ್ಕಿಲ್ಲ ನೀತಿಯನ್ನು ಜಾರಿಗೆ ತಂದವನು _____.
- 3) ಬಂಗಾಳವನ್ನು ವಿಭಜಿಸಿದ ಬ್ರಿಟಿಷ್ ವೈಸರಾಯ್ _____.
- 4) ಪಂಜಾಬಿನ ಸಿಂಹ ಎಂದು ಖ್ಯಾತರಾಗಿದ್ದವರು _____.
- 5) ರೌಲತ್ ಕಾಯ್ದೆ ಜಾರಿಗೆ ಬಂದ ವರ್ಷ _____.
- 6) ಗಡಿನಾಡ ಗಾಂಧೀ ಎಂದು _____ರನ್ನು ಕರೆಯುತ್ತಾರೆ.
- 7) ಸುಭಾಷ್ ಚಂದ್ರ ಬೋಸರು ಸ್ಥಾಪಿಸಿದ ಹೊಸ ಪಕ್ಷ _____.


II. ಕೆಳಗಿನ ಪ್ರಶ್ನೆಗಳಿಗೆ ಒಂದು ಪದ/ವಾಕ್ಯದಲ್ಲಿ ಉತ್ತರಿಸಿರಿ:

- 1) ಭಾರತದ ಪ್ರಥಮ ಸ್ವಾತಂತ್ರ್ಯ ಸಂಗ್ರಾಮ ಎಷ್ಟರಲ್ಲಿ ಜರುಗಿತು?
- 2) ಬಾಲಗಂಗಾಧರ ತಿಲಕರು ಪ್ರಾರಂಭಿಸಿದ ಪತ್ರಿಕೆಗಳು ಯಾವುವು?
- 3) ಗಾಂಧೀಜಿಯವರ ರಾಜಕೀಯ ಗುರು ಯಾರು?
- 4) ಸುಭಾಷ್ ಚಂದ್ರ ಬೋಸರು ಸ್ಥಾಪಿಸಿದ ಸೇನೆಯ ಹೆಸರೇನು?
- 5) ಭಾರತ ಸಂವಿಧಾನದ ಶಿಲ್ಪಿಯೆಂದು ಯಾರನ್ನು ಕರೆಯುತ್ತೇವೆ?


III. ಕೆಳಗಿನವುಗಳನ್ನು ಹೊಂದಿಸಿ ಬರೆಯಿರಿ:

- | | |
|---------------------|---------------------------------|
| 'ಅ' ಪಟ್ಟಿ | 'ಬ' ಪಟ್ಟಿ |
| 1. 2ನೇ ಬಹದ್ದೂರ್ ಷಾ | ಎ. ಕ್ರಾಂತಿಕಾರಿ |
| 2. ದಾದಾಬಾಯಿ ನವರೋಜಿ | ಬಿ. ಮೊಘಲರ ಕೊನೆಯ ದೊರೆ |
| 3. ಎ.ಓ. ಹ್ಯೂಮ್ | ಸಿ. ಅಸಹಕಾರ ಚಳುವಳಿ |
| 4. ಆಜಾದ್ ಚಂದ್ರಶೇಖರ್ | ಡಿ. ಮಂದಗಾಮಿ ನಾಯಕ |
| 5. ಮಹಾತ್ಮ ಗಾಂಧೀಜಿ | ಇ. ರಾಷ್ಟ್ರೀಯ ಕಾಂಗ್ರೆಸ್‌ನ ಸ್ಥಾಪಕ |

ಈ ಕೆಳಗಿನ ತೀವ್ರಗಾಮಿ ನಾಯಕರನ್ನು ಹೆಸರಿಸಿ:



ಈ ಸ್ವಾತಂತ್ರ್ಯ ಹೋರಾಟಗಾರರನ್ನು ಹೆಸರಿಸಿ:



ಸೇತುಬಂಧ ಅಭ್ಯಾಸದ ಹಾಳೆ - 06

{ಸಾಮರ್ಥ್ಯ:-6 ಕರ್ನಾಟಕದ ಸಾಂಸ್ಕೃತಿಕ ಪರಿಚಯ}

ತರಗತಿ: 8 ವಿದ್ಯಾರ್ಥಿಯ ಹೆಸರು:

ವಿಷಯ: ಸಮಾಜ ವಿಜ್ಞಾನ

ಈ ಸಾಧಕರನ್ನು ಹೆಸರಿಸಿ:



I. ಕೆಳಗಿನ ಬಿಟ್ಟಿರುವ ಸ್ಥಳಗಳನ್ನು ಸರಿಯಾದ ಪದಗಳಿಂದ ತುಂಬಿರಿ:

- 1) ಬಾಬಾಬುಡನ್ ಗಿರಿ _____ ಜಿಲ್ಲೆಯಲ್ಲಿದೆ.
- 2) ಕರ್ನಾಟಕದ ರಾಜಧಾನಿ _____.
- 3) ಕರ್ನಾಟಕದ ಅತ್ಯಂತ ದೊಡ್ಡ ಕೆರೆ _____.
- 4) ಕರ್ನಾಟಕದ ಪ್ರಥಮ ಮುಖ್ಯಮಂತ್ರಿ _____.
- 5) ಕನಕದಾಸರು _____ ಎಂಬ ಗ್ರಾಮದಲ್ಲಿ ಜನಿಸಿದರು.
- 6) ಉತ್ತರ ಕನ್ನಡ ಜಿಲ್ಲೆಯಲ್ಲಿರುವ ಬೃಹತ್ ನೌಕಾನೆಲೆ _____.
- 7) ರಾಜರ್ಷಿ ಎಂದು ಕರೆಯಲ್ಪಟ್ಟ ಮೈಸೂರಿನ ಒಡೆಯರು _____.

II. ಕೆಳಗಿನ ಪ್ರಶ್ನೆಗಳಿಗೆ ಒಂದು ಪದ/ವಾಕ್ಯದಲ್ಲಿ ಉತ್ತರಿಸಿರಿ:

- 1) ವಚನಗಳ ಪಿತಾಮಹ ಎಂದು ಯಾರನ್ನು ಕರೆಯುತ್ತಾರೆ?
- 2) ಮೈಸೂರಿನ ಹುಲಿ ಎಂದು ಖ್ಯಾತನಾದವರು ಯಾರು?
- 3) ಭಾರತ ರತ್ನ ಪ್ರಶಸ್ತಿ ಪಡೆದ ಮೊದಲ ಕನ್ನಡಿಗ ಯಾರು?
- 4) ಬೆಂಗಳೂರು ನಗರದ ಸ್ಥಾಪಕ ಯಾರು?
- 5) ಪ್ರಧಾನಮಂತ್ರಿ ಹುದ್ದೆಗೇರಿದ ಮೊದಲ ಕನ್ನಡಿಗ ಯಾರು?

III. ಕೆಳಗಿನವುಗಳನ್ನು ಹೊಂದಿಸಿ ಬರೆಯಿರಿ:

- | | |
|---------------------|-------------|
| 'ಅ' ಪಟ್ಟಿ | 'ಬ' ಪಟ್ಟಿ |
| 1. ಏಕಶಿಲಾ ಬೆಟ್ಟ | ಎ. ಶಿವಮೊಗ್ಗ |
| 2. ಅಂತರಗಂಗೆ | ಬಿ. ಕಲಬುರಗಿ |
| 3. ಜೋಗ ಜಲಪಾತ | ಸಿ. ಕೋಲಾರ |
| 4. ದರೋಜಿ ಕರಡಿ ಧಾಮ | ಡಿ. ತುಮಕೂರು |
| 5. ಖ್ವಾಜ ಬಂದೇ ನವಾಜ್ | ಇ. ಬಳ್ಳಾರಿ |

ಈ ಕೆಳಗಿನ ಮಹಿಳಾ ಸಾಧಕಿಯರನ್ನು ಹೆಸರಿಸಿ:



ಈ ಪ್ರೇಕ್ಷಣೀಯ ಸ್ಥಳಗಳನ್ನು ಹೆಸರಿಸಿ:



ಸೇತುಬಂಧ ಅಭ್ಯಾಸದ ಹಾಳೆ - 07

{ಸಾಮರ್ಥ್ಯ:-7 ಸಂವಿಧಾನ ಮತ್ತು ಸರ್ಕಾರ}



ತರಗತಿ: 8 ವಿದ್ಯಾರ್ಥಿಯ ಹೆಸರು:

ವಿಷಯ: ಸಮಾಜ ವಿಜ್ಞಾನ


ಭಾರತ ಸಂವಿಧಾನದ ಲಕ್ಷಣಗಳನ್ನು ಬರೆಯಿರಿ:	

1. ಕೆಳಗಿನ ಬಿಟ್ಟಿರುವ ಸ್ಥಳಗಳನ್ನು ಸರಿಯಾದ ಪದಗಳಿಂದ ತುಂಬಿ:
 - 1) ಸಂವಿಧಾನ ರಚನಾ ಸಭೆಯ ಅಧ್ಯಕ್ಷರು _____.
 - 2) ಭಾರತದ ಸಂವಿಧಾನದ ಶಿಲ್ಪಿ _____.
 - 3) ರಾಜ್ಯಸಭೆಯ ಅಧ್ಯಕ್ಷರು _____ಯವರು ಆಗಿರುತ್ತಾರೆ.
 - 4) ಭಾರತ ಗಣರಾಜ್ಯದ ಅತ್ಯುನ್ನತ ಮುಖ್ಯಸ್ಥರು _____.
 - 5) ಭಾರತದ ಪ್ರಥಮ ಪ್ರಧಾನಮಂತ್ರಿ _____.
 - 6) ಪ್ರಸ್ತುತ ನಿಮ್ಮ ಕ್ಷೇತ್ರದ ಶಾಸಕರು(ಎಂ.ಎಲ್.ಎ) _____.
 - 7) ನಿಮ್ಮ ಕ್ಷೇತ್ರದ ಸಂಸದರು(ಎಂ.ಪಿ) _____.
- II. ಕೆಳಗಿನ ಪ್ರಶ್ನೆಗಳಿಗೆ ಒಂದು ಪದ/ವಾಕ್ಯದಲ್ಲಿ ಉತ್ತರಿಸಿ:
 - 1) ಸಂವಿಧಾನ ಎಂದರೇನು?
 - 2) ಭಾರತ ಸಂವಿಧಾನದ ಕರಡು ಸಮಿತಿಯ ಅಧ್ಯಕ್ಷರು ಯಾರು?
 - 3) ಕರ್ನಾಟಕ ವಿಧಾನಸಭೆಯ ಒಟ್ಟು ಸದಸ್ಯರ ಸಂಖ್ಯೆ ಎಷ್ಟು?
 - 4) ಭಾರತ ಸಂವಿಧಾನವು ಎಷ್ಟರಲ್ಲಿ ಜಾರಿಗೆ ಬಂದಿತು?

ನಾನು ಯಾರು?
ಪುಸ್ತಕ ನೋಡಿ ಹೆಸರಿಸಿ.





ಈ ಮಾಹಿತಿ ಪೂರ್ಣಗೊಳಿಸಿ:	
ಹುದ್ದೆ	ಕನಿಷ್ಠ ಮಯೋಮಿತಿ
ರಾಷ್ಟ್ರಪತಿ	
ರಾಜ್ಯಸಭೆ ಸದಸ್ಯ	
ಲೋಕಸಭೆ ಸದಸ್ಯ	
ರಾಜ್ಯಪಾಲ	
ವಿಧಾನ ಸಭೆ ಸದಸ್ಯ	
ವಿಧಾನ ಪರಿಷತ್ ಸದಸ್ಯ	

ಪುಸ್ತಕ ನೋಡಿ ಮಾಹಿತಿ ನೀಡಿ:		
ಸರ್ಕಾರದ 3 ಅಂಗಗಳು		
1	2	3
ಕೇಂದ್ರ ಶಾಸಕಾಂಗ(ಸಂಸತ್ತು)ದ 2 ಸದನಗಳು		
1	2	
ರಾಜ್ಯ ಶಾಸಕಾಂಗದ 2 ಸದನಗಳು		
1	2	

6 ಮೂಲಭೂತ ಹಕ್ಕುಗಳನ್ನು ಹೆಸರಿಸಿ:

ಈ ಕೆಳಗಿನ ಕಟ್ಟಡಗಳನ್ನು ಗುರುತಿಸಿ:





ಸೇತುಬಂಧ ಅಭ್ಯಾಸದ ಹಾಳೆ - 08

ಸಾಮರ್ಥ್ಯ:-8 ದೇಶ ರಕ್ಷಣೆ ಮತ್ತು ರಾಷ್ಟ್ರೀಯ ಭಾವೈಕ್ಯತೆ

ತರಗತಿ: 8 ವಿದ್ಯಾರ್ಥಿಯ ಹೆಸರು:

ವಿಷಯ: ಸಮಾಜ ವಿಜ್ಞಾನ

ಈ ಕೆಳಗಿನವುಗಳನ್ನು ಹೆಸರಿಸಿ:



ಭಾರತದ 3 ಯುದ್ಧ ಹಡಗುಗಳನ್ನು ಹೆಸರಿಸಿ:


I. ಕೆಳಗಿನ ಬಿಟ್ಟಿರುವ ಸ್ಥಳಗಳನ್ನು ಸರಿಯಾದ ಪದಗಳಿಂದ ತುಂಬಿ:

- 1) ಭೂಸೇನೆಯ ಕೇಂದ್ರ ಕಛೇರಿ _____ಯಲ್ಲಿದೆ.
- 2) ಕಾರವಾರದಲ್ಲಿ _____ ನೌಕಾ ನೆಲೆಯನ್ನು ಸ್ಥಾಪಿಸಲಾಗಿದೆ.
- 3) _____ ಎಂಬುದು ಎನ್.ಸಿ.ಸಿ.ಯ ಧ್ಯೇಯ ವಾಕ್ಯವಾಗಿದೆ.
- 4) ರೆಡ್ ಕ್ರಾಸ್ ಸಂಸ್ಥೆಯ ಧ್ಯೇಯ ವಾಕ್ಯ _____.
- 5) ಭಾರತದ ರಾಷ್ಟ್ರಗೀತೆಯನ್ನು ರಚಿಸಿದವರು _____.
- 6) ರಾಷ್ಟ್ರಗೀತೆಯನ್ನು ಹಾಡಲು ಬೇಕಾಗುವ ಕಾಲಾವಧಿ _____ ಸೆಕೆಂಡುಗಳು.

II. ಕೆಳಗಿನ ಪ್ರಶ್ನೆಗಳಿಗೆ ಒಂದು ಪದ/ವಾಕ್ಯದಲ್ಲಿ ಉತ್ತರಿಸಿ:

- 1) ರಕ್ಷಣಾ ಪಡೆಗಳ ಸರ್ವೋಚ್ಚ ಅಧಿಕಾರ ಯಾರಿಗೆ ನೀಡಲಾಗಿದೆ?
- 2) ಗಡಿಭದ್ರತಾ ದಳದ ಧ್ಯೇಯ ವಾಕ್ಯವೇನು?
- 3) ಭಾರತೀಯ ರೆಡ್ ಕ್ರಾಸ್ ಸಂಸ್ಥೆಯ ಅಧ್ಯಕ್ಷರು ಯಾರು?
- 4) ನಮ್ಮ ರಾಷ್ಟ್ರ ಲಾಂಛನವನ್ನು ಏನೆಂದು ಕರೆಯುತ್ತಾರೆ?
- 5) ರಾಷ್ಟ್ರೀಯ ಭಾವೈಕ್ಯತೆ ಎಂದರೇನು?

ಇವುಗಳ ವಿಶೇಷತೆ ತಿಳಿಸಿ:



III. ಕೆಳಗಿನವುಗಳನ್ನು ಹೊಂದಿಸಿ ಬರೆಯಿರಿ:

'ಅ' ಪಟ್ಟಿ

'ಬ' ಪಟ್ಟಿ

- | | |
|----------------------|---------------------|
| 1. ಭೂಸೇನೆಯ ಮುಖ್ಯಸ್ಥ | ಎ. ಏರ್‌ಚೀಫ್ ಮಾರ್ಷಲ್ |
| 2. ನೌಕಾದಳದ ಮುಖ್ಯಸ್ಥ | ಬಿ. ಜನರಲ್ |
| 3. ವಾಯುಪಡೆಯ ಮುಖ್ಯಸ್ಥ | ಸಿ. ಆಡ್ಮಿರಲ್ |

ಪೂರಕ ರಕ್ಷಣಾ ಪಡೆಗಳನ್ನು ಹೆಸರಿಸಿ:

ಈ ಕೆಳಗಿನ ಚಿತ್ರಗಳನ್ನು ಗಮನಿಸಿ ಸೇನಾ ಪಡೆಯ ವಿಭಾಗಗಳನ್ನು ಹೆಸರಿಸಿ:



ಸೇತುಬಂಧ ಅಭ್ಯಾಸದ ಹಾಳೆ - 09


{ಸಾಮರ್ಥ್ಯ:-9 ದಿಕ್ಕುಗಳು, ಅಕ್ಷಾಂಶ ಮತ್ತು ರೇಖಾಂಶಗಳು ಹಾಗೂ ಭೂಮಿ}

ತರಗತಿ: 8

ವಿದ್ಯಾರ್ಥಿಯ ಹೆಸರು:

ವಿಷಯ: ಸಮಾಜ ವಿಜ್ಞಾನ

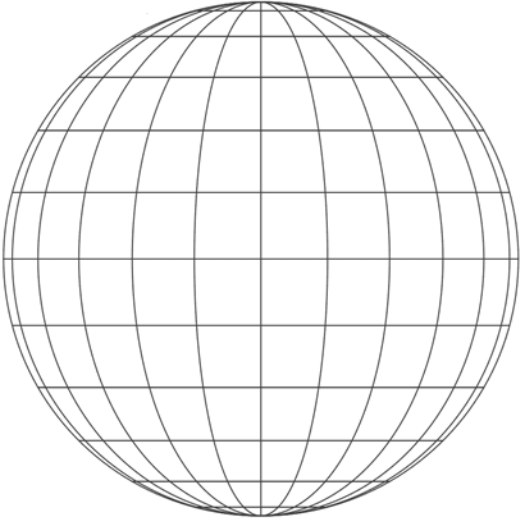
ಈ ಕೆಳಗಿನ ಚಿತ್ರದಲ್ಲಿ 4 ದಿಕ್ಕು ಮತ್ತು 4 ಉಪದಿಕ್ಕುಗಳನ್ನು ಹೆಸರಿಸಿ:



1. ಕೆಳಗಿನ ಪ್ರಶ್ನೆಗಳಿಗೆ ಒಂದು ಪದ/ವಾಕ್ಯದಲ್ಲಿ ಉತ್ತರಿಸಿರಿ:


- 1) ಸೌರವ್ಯೂಹದಲ್ಲಿ ಭೂಮಿಯು ಎಷ್ಟನೆ ದೊಡ್ಡ ಗ್ರಹವಾಗಿದೆ?
- 2) ಭೂಮಿಯು ಯಾವ ಆಕಾರದಲ್ಲಿದೆ?
- 3) ಸೌರವ್ಯೂಹದಲ್ಲಿ ಜೀವಿಗಳಿರುವ ಏಕೈಕ ಗ್ರಹ ಯಾವುದು?
- 4) 0° ಅಕ್ಷಾಂಶವನ್ನು ಏನೆಂದು ಕರೆಯುತ್ತಾರೆ?
- 5) 0° ರೇಖಾಂಶವನ್ನು ಏನೆಂದು ಕರೆಯುತ್ತಾರೆ?

ಈ ಗ್ಲೋಬ್‌ನ ಸಹಾಯದಿಂದ ಕೆಳಗಿನ ಚಟುವಟಿಕೆಗಳನ್ನು ಪೂರ್ಣಗೊಳಿಸಿ:



- 1) ಸಮಭಾಜಕ ವೃತ್ತವನ್ನು ಗುರುತಿಸಿ(ತಿದ್ದಿರಿ).
- 2) ಪ್ರಧಾನ ರೇಖಾಂಶವನ್ನು ಗುರುತಿಸಿ(ತಿದ್ದಿರಿ).
- 3) ಉತ್ತರ ಗೋಳಾರ್ಧವನ್ನು ಗುರುತಿಸಿ(ಬರೆಯಿರಿ).
- 4) ದಕ್ಷಿಣ ಗೋಳಾರ್ಧವನ್ನು ಗುರುತಿಸಿ(ಬರೆಯಿರಿ).
- 5) ಪೂರ್ವ ಗೋಳಾರ್ಧವನ್ನು ಗುರುತಿಸಿ(ಬರೆಯಿರಿ).
- 6) ಪಶ್ಚಿಮ ಗೋಳಾರ್ಧವನ್ನು ಗುರುತಿಸಿ(ಬರೆಯಿರಿ).
- 7) ಉತ್ತರ ದ್ರುವವನ್ನು ಗುರುತಿಸಿ(ಬರೆಯಿರಿ).
- 8) ದಕ್ಷಿಣ ದ್ರುವವನ್ನು ಗುರುತಿಸಿ(ಬರೆಯಿರಿ).

ಈ ಕೆಳಗಿನ ಚಿತ್ರವನ್ನು ಗಮನಿಸಿ, ನಮ್ಮ ಸೌರವ್ಯೂಹದಲ್ಲಿರುವ ಗ್ರಹಗಳನ್ನು ಹೆಸರಿಸಿ:



ಸೀತುಬಂಧ ಅಭ್ಯಾಸದ ಹಾಳೆ - 10

{ಸಾಮರ್ಥ್ಯ:-10 ಭೂ ಖಂಡಗಳ ಸಂಕ್ಷಿಪ್ತ ಪರಿಚಯ}

ತರಗತಿ: 8 ವಿದ್ಯಾರ್ಥಿಯ ಹೆಸರು:

ವಿಷಯ: ಸಮಾಜ ವಿಜ್ಞಾನ

ಈ ಕೆಳಗಿನವುಗಳನ್ನು
ಹೆಸರಿಸಿ:



I. ಕೆಳಗಿನ ಬಿಟ್ಟಿರುವ ಸ್ಥಳಗಳನ್ನು ಸರಿಯಾದ ಪದಗಳಿಂದ ತುಂಬಿ:

- 1) ಪ್ರಪಂಚದ ಅತ್ಯಂತ ದೊಡ್ಡ ಭೂಖಂಡ _____.
- 2) ಭಾರತವು _____ ಖಂಡದಲ್ಲಿದೆ
- 3) ಪ್ರಪಂಚದ ಅತ್ಯಂತ ಚಿಕ್ಕ ಭೂಖಂಡ _____.
- 4) ಆಸ್ಟ್ರೇಲಿಯಾದ ಅತಿ ಪ್ರಮುಖ ವೃತ್ತಿ _____.
- 5) _____ ಖಂಡವನ್ನು ಹುಲ್ಲುಗಾವಲುಗಳ ನಾಡು ಎನ್ನುವರು.
- 6) ಉತ್ತರ ಅಮೇರಿಕಾ ಖಂಡವನ್ನು ಕಂಡು ಹಿಡಿದವನು _____.
- 7) ಯುರೋಪ್ ಖಂಡದ ಅತಿ ಎತ್ತರವಾದ ಶಿಖರ _____.

II. ಕೆಳಗಿನ ಪ್ರಶ್ನೆಗಳಿಗೆ ಒಂದು ಪದ/ವಾಕ್ಯದಲ್ಲಿ ಉತ್ತರಿಸಿ:

- 1) ಪ್ರಪಂಚದ ಅತಿ ದೊಡ್ಡ ನದಿ ಯಾವುದು?
- 2) ಕೇಂದ್ರೀಯ ಖಂಡವೆಂದು ಯಾವ ಖಂಡವನ್ನು ಕರೆಯುತ್ತಾರೆ?
- 3) ಅಂಟಾರ್ಕ್ಟಿಕ್ ಖಂಡದಲ್ಲಿರುವ ನಮ್ಮ ಸಂಶೋಧನಾ ಕೇಂದ್ರ ಯಾವುದು?

III. ಕೆಳಗಿನವುಗಳನ್ನು ಹೊಂದಿಸಿ ಬರೆಯಿರಿ:

- | | |
|----------------------|--------------------|
| 'ಅ' ಪಟ್ಟಿ | 'ಬ' ಪಟ್ಟಿ |
| 1. ಏಷ್ಯಾ ಖಂಡ | ಎ. ಕತ್ತಲೆಯ ಖಂಡ |
| 2. ಆಫ್ರಿಕಾ ಖಂಡ | ಬಿ. ಸಮತಟ್ಟಾದ ಭೂಖಂಡ |
| 3. ಉತ್ತರ ಅಮೇರಿಕಾ ಖಂಡ | ಸಿ. ವೈಪರೀತ್ಯಗಳ ಖಂಡ |
| 4. ಆಸ್ಟ್ರೇಲಿಯಾ | ಡಿ. ಶ್ವೇತ ಭೂಖಂಡ |
| 5. ಅಂಟಾರ್ಕ್ಟಿಕ್ ಖಂಡ | ಇ. ಪ್ರೇರಿ ನಾಡು |

ಈ ಕೆಳಗಿನವುಗಳನ್ನು
ಹೆಸರಿಸಿ:



ಪ್ರಪಂಚದ 7 ಖಂಡಗಳು ಮತ್ತು 4 ಮಹಾಸಾಗರಗಳನ್ನು ಗುರುತಿಸಿ:



ಸೇತುಬಂಧ ಸಾಫಲ್ಯ ಪರೀಕ್ಷೆ

ತರಗತಿ: 8 ವಿದ್ಯಾರ್ಥಿಯ ಹೆಸರು:

ವಿಷಯ: ಸಮಾಜ ವಿಜ್ಞಾನ

ಕೆಳಗಿನ ಪ್ರಶ್ನೆಗಳಿಗೆ ಅಥವಾ ಅಪೂರ್ಣ ಹೇಳಿಕೆಗಳಿಗೆ ನಾಲ್ಕು ಆಯ್ಕೆಗಳನ್ನು ನೀಡಲಾಗಿದೆ. ಅವುಗಳಲ್ಲಿ ಸೂಕ್ತವಾದ ಉತ್ತರವನ್ನು ಆರಿಸಿ ಕ್ರಮಾಕ್ಷರದೊಂದಿಗೆ ಬರೆಯಿರಿ.


1A. ಇತಿಹಾಸದ ರಚನೆಗೆ ಅಗತ್ಯವಾದ ಸಾಹಿತ್ಯಾಧಾರದ ಎರಡು ಪ್ರಕಾರಗಳೆಂದರೆ

- ದೇಶೀಯ ಸಾಹಿತ್ಯ ಮತ್ತು ವಿದೇಶೀಯ ಸಾಹಿತ್ಯ
- ಲಿಖಿತ ಸಾಹಿತ್ಯ ಮತ್ತು ಮೌಖಿಕ ಸಾಹಿತ್ಯ
- ಸಾಹಿತ್ಯಗಳು ಮತ್ತು ಐತಿಹ್ಯಗಳು
- ದೇಶೀಯ ಸಾಹಿತ್ಯ ಮತ್ತು ಲಾವಣಿಗಳು

ಉತ್ತರ:-

1B. ಪ್ರಾಗೈತಿಹಾಸಿಕ ಕಾಲಘಟ್ಟದಲ್ಲಿ ಮಾನವನು ಬೆಂಕಿಯ ಬಳಕೆಯನ್ನು ಆರಂಭಿಸಿದ ಕಾಲವೆಂದರೆ

- ಹಳೆ ಶಿಲಾಯುಗ
- ಮಧ್ಯ ಶಿಲಾಯುಗ
- ನವ ಶಿಲಾಯುಗ
- ಕಬ್ಬಿಣದ ಯುಗ



ಉತ್ತರ:-

2A. ಜಗತ್ತಿನಲ್ಲೇ ಮೊಟ್ಟಮೊದಲ ಬಾರಿಗೆ ಹತ್ತಿಯನ್ನು ಬೆಳೆದ ನಾಗರಿಕತೆಯನ್ನು ಹೆಸರಿಸಿ.

- ಈಜಿಪ್ಟ್ ನಾಗರಿಕತೆ
- ಚೀನಾ ನಾಗರಿಕತೆ
- ಮೆಸಪಟೋಮಿಯಾ ನಾಗರಿಕತೆ
- ಹರಪ್ಪ ನಾಗರಿಕತೆ

ಉತ್ತರ:-

2B. ಈ ಕೆಳಗಿನ ಸ್ಮಾರಕವನ್ನು ಗಮನಿಸಿ, ಇದು ಯಾವ ನಾಗರಿಕತೆಗೆ ಸಂಬಂಧಿಸಿದೆ ಎಂಬುದನ್ನು ಗುರುತಿಸಿ.

- ಈಜಿಪ್ಟ್ ನಾಗರಿಕತೆ
- ಚೀನಾ ನಾಗರಿಕತೆ
- ಮೆಸಪಟೋಮಿಯಾ ನಾಗರಿಕತೆ
- ಹರಪ್ಪ ನಾಗರಿಕತೆ



ಉತ್ತರ:-

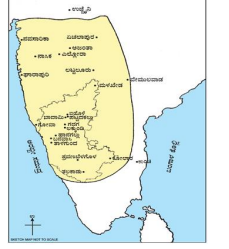
3A. ಕವಿರಾಜ ಮಾರ್ಗ ಬರೆದ ಕವಿಯನ್ನು ಹೆಸರಿಸಿ.

- ಕಾಳಿದಾಸ
- ಶ್ರೀವಿಜಯ
- ಶ್ರೀಪುರುಷ
- 3ನೇ ಸೋಮೇಶ್ವರ

ಉತ್ತರ:-

3B. ಕೆಳಗೆ ನೀಡಲಾಗಿರುವ ನಕ್ಷೆಯನ್ನು ಗಮನಿಸಿ, ಸಂಬಂಧಿಸಿದ ಸಾಮ್ರಾಜ್ಯವನ್ನು ಹೆಸರಿಸಿ.

- ಬಾದಾಮಿಯ ಚಾಲುಕ್ಯರು
- ಕಂಚಿಯ ಪಲ್ಲವರು
- ಮಾನ್ಯಖೇಟದ ರಾಷ್ಟ್ರಕೂಟರು
- ದ್ವಾರಸಮುದ್ರದ ಹೊಯ್ಸಳರು



ಉತ್ತರ:-


4A. ಈ ಕೆಳಗಿನವರಲ್ಲಿ 'ಕನ್ನಡದ ಮೊದಲ ಮುಸ್ಲಿಂ ಕವಿ' ಎಂದು ಖ್ಯಾತರಾದ ಸಂತ.

- ಕಬೀರರು
- ಶಿಶುನಾಳ ಶರೀಫ
- ಖ್ವಜಾ ಬಂದೇ ನವಾಜ್
- ಗುರುನಾನಕ್

ಉತ್ತರ:-

4B. ಈ ಕೆಳಗಿನವರಲ್ಲಿ 'ಬ್ರಹ್ಮ ಸಮಾಜ' ಎಂಬ ಸುಧಾರಣಾ ಸಂಸ್ಥೆಯನ್ನು ಸ್ಥಾಪಿಸಿದವರನ್ನು ಹೆಸರಿಸಿ.

- ಚೋಪ್ರಾ ಭಾ ಫುಲೆ
- ಸರ್ ಸೈಯದ್ ಖಾನ್
- ದಯಾನಂದ ಸರಸ್ವತಿ
- ರಾಜಾ ರಾಮ್ ಮೋಹನ್ ರಾಯ್



ಉತ್ತರ:-

5A. ಈ ಕೆಳಗಿನವರಲ್ಲಿ 'ಪಂಜಾಬಿನ ಸಿಂಹ' ಎಂದು ಖ್ಯಾತರಾದ ಸ್ವಾತಂತ್ರ್ಯ ಹೋರಾಟಗಾರ

- ಬಾಲಗಂಗಾಧರ ತಿಲಕ್
- ಗೋಪಾಲಕೃಷ್ಣ ಗೋಖಲೆ
- ದಾದಾಬಾಯಿ ನವರೋಜಿ
- ಲಾಲಾ ಲಜಪತ್ ರಾಯ್



ಉತ್ತರ:-

5B. ಮೊಘಲರ ಕೊನೆಯ ದೊರೆಯನ್ನು ಹೆಸರಿಸಿ.

- ಔರಂಗಜೇಬ
- ಫರುಕ್ಸಿಯಾರ್
- 2ನೇ ಆಲಂ ಷಾ
- 2ನೇ ಬಹದ್ದೂರ್ ಷಾ

ಉತ್ತರ:-

6A.ಕರ್ನಾಟಕದಲ್ಲಿ 'ನಡೆದಾಡುವ ದೇವರು' ಎಂದು ಖ್ಯಾತರಾದ ಈ ಮಹಾನ್ ಶಿವಶರಣರನ್ನು ಹೆಸರಿಸಿ.



- ಎ) ಶ್ರೀ ಶಿವಕುಮಾರ ಸ್ವಾಮೀಜಿ
- ಬಿ) ಶ್ರೀ ಸಿದ್ದಲಿಂಗೇಶ್ವರ ಸ್ವಾಮೀಜಿ
- ಸಿ) ಶ್ರೀ ಚನ್ನಬಸವ ಸ್ವಾಮೀಜಿ
- ಡಿ) ಶ್ರೀ ಚನ್ನಮಲ್ಲಿಕಾರ್ಜುನ ಸ್ವಾಮೀಜಿ

ಉತ್ತರ:-_____

6B.ಕಾವೇರಿ ನದಿಯ ಉಗಮಸ್ಥಾನ ತಲಕಾವೇರಿಯು ಈ ಕೆಳಗಿನ ಯಾವ ಜಿಲ್ಲೆಯಲ್ಲಿದೆ ತಿಳಿಸಿ.



- ಎ) ಉತ್ತರ ಕನ್ನಡ
- ಬಿ) ದಕ್ಷಿಣ ಕನ್ನಡ
- ಸಿ) ಕೊಡಗು
- ಡಿ) ಉಡುಪಿ

ಉತ್ತರ:-_____

7A.ಈ ಕೆಳಗಿನವರಲ್ಲಿ ಭಾರತ ಸಂವಿಧಾನ ರಚನಾ ಸಭೆಯ ಅಧ್ಯಕ್ಷರನ್ನು ಹೆಸರಿಸಿ.

- ಎ) ಮಹಾತ್ಮ ಗಾಂಧೀಜಿ
- ಬಿ) ಡಾ|| ಬಿ.ಆರ್ ಅಂಬೇಡ್ಕರ್
- ಸಿ) ಬಾಬು ರಾಜೇಂದ್ರ ಪ್ರಸಾದ್
- ಡಿ) ಸರ್ದಾರ್ ವಲ್ಲಭಬಾಯಿ ಪಟೇಲ್

ಉತ್ತರ:-_____

7B.ಕರ್ನಾಟಕದ ನೂತನ ರಾಜ್ಯಪಾಲರಾಗಿ ರಾಷ್ಟ್ರಪತಿಗಳಿಂದ ನೇಮಕಗೊಂಡವರು.



- ಎ) ರಾಮನಾಥ್ ಕೋವಿಂದ್
- ಬಿ) ನರೇಂದ್ರ ಮೋದಿ
- ಸಿ) ಥಾಪರ್ ಚಂದ್ ಗೆಹ್ಲೋಟ್
- ಡಿ) ವಜುಬಾಯಿ ವಾಲಾ

ಉತ್ತರ:-_____

8A.ಭಾರತೀಯ ಭೂಸೇನೆಯ ಮುಖ್ಯಸ್ಥನನ್ನು ಹೀಗೆಂದು ಕರೆಯುತ್ತಾರೆ.

- ಎ) ಜನರಲ್
- ಬಿ) ಅಡ್ಮಿರಲ್
- ಸಿ) ಏರ್‌ಚೀಫ್ ಮಾರ್ಷಲ್
- ಡಿ) ಕಮಾಂಡೋ

ಉತ್ತರ:-_____

8B.ಭಾರತದ ರಾಷ್ಟ್ರೀಯ ಲಾಂಛನವನ್ನು ಹೀಗೆಂದು ಕರೆಯುತ್ತಾರೆ.



- ಎ) ಸಿಂಹ ಧ್ವಜ
- ಬಿ) ಅಶೋಕ ಚಕ್ರ
- ಸಿ) ಧರ್ಮ ಪೀಠ
- ಡಿ) ಸಿಂಹ ಬೋದಿಗೆ

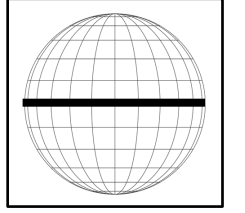
ಉತ್ತರ:-_____

9A.ಈ ಕೆಳಗಿನವುಗಳಲ್ಲಿ ನಾಲ್ಕು ಉಪದಿಕ್ತುಗಳ ಸರಿಯಾದ ಸರಣಿಯನ್ನು ಗುರುತಿಸಿ.

- ಎ) ಪೂರ್ವ, ಪಶ್ಚಿಮ, ಉತ್ತರ, ದಕ್ಷಿಣ
- ಬಿ) ವಾಯುವ್ಯ, ಈಶಾನ್ಯ, ಉತ್ತರ, ದಕ್ಷಿಣ
- ಸಿ) ಪೂರ್ವ, ಪಶ್ಚಿಮ, ವಾಯುವ್ಯ, ನೈರುತ್ಯ
- ಡಿ) ವಾಯುವ್ಯ, ಈಶಾನ್ಯ, ಆಗ್ನೇಯ, ನೈರುತ್ಯ

ಉತ್ತರ:-_____

9B.ಈ ಕೆಳಗಿನ ಗೋಳದಲ್ಲಿ ಗುರುತಿಸಲಾಗಿರುವ ಅಕ್ಷಾಂಶವನ್ನು ಹೆಸರಿಸಿ.



- ಎ) 0° ಅಕ್ಷಾಂಶ
- ಬಿ) 23½° ಉತ್ತರ ಅಕ್ಷಾಂಶ
- ಸಿ) 66½° ದಕ್ಷಿಣ ಅಕ್ಷಾಂಶ
- ಡಿ) 90° ಉತ್ತರ ಅಕ್ಷಾಂಶ

ಉತ್ತರ:-_____

10A.ವೈಪರೀತ್ಯಗಳ ಭೂಖಂಡವೆಂದು ಯಾವ ಭೂಖಂಡವನ್ನು ಕರೆಯಲಾಗಿದೆ.

- ಎ) ಏಷ್ಯಾ ಖಂಡ
- ಬಿ) ಆಫ್ರಿಕಾ ಖಂಡ
- ಸಿ) ಆಸ್ಟ್ರೇಲಿಯಾ ಖಂಡ
- ಡಿ) ಉತ್ತರ ಅಮೇರಿಕಾ ಖಂಡ

ಉತ್ತರ:-_____

10B.ಅಂಟಾರ್ಕ್ಟಿಕ್ ಖಂಡದಲ್ಲಿ ಸ್ಥಾಪಿಸಲಾಗಿರುವ ಭಾರತೀಯ ಸಂಶೋಧನಾ ಕೇಂದ್ರದ ಹೆಸರು.

- ಎ) ಮೈತ್ರಿ
- ಬಿ) ಪೃಥ್ವಿ
- ಸಿ) ಆರ್ಯಭಟ
- ಡಿ) ಸಂಗಮ

ಉತ್ತರ:-_____



ಸರ್ಕಾರಿ ಪ್ರೌಢಶಾಲೆ, ರಾಮಘಟ್ಟ

ಹರಪನಹಳ್ಳಿ(ತಾ)

ವಿಜಯನಗರ (ಜಿ)



ತರಗತಿ

ಸೇತುಬಂಧ

ಕಾರ್ಯಕ್ರಮ

ಸಂತೋಷ್ ಕುಮಾರ್ .ಸಿ

ಸಹಶಿಕ್ಷಕರು (ಕಲಾ ಕನ್ನಡ)

ಸರ್ಕಾರಿ ಪ್ರೌಢಶಾಲೆ, ರಾಮಘಟ್ಟ

ಹರಪನಹಳ್ಳಿ(ತಾ) ವಿಜಯನಗರ (ಜಿ)



ಬುನಾದಿ ಸಾಮರ್ಥ್ಯಗಳು

9ನೇ ತರಗತಿ

ಸಮಾಜ ವಿಜ್ಞಾನ

- 1) ಆಧಾರಗಳು, ಪ್ರಕಾರಗಳು ಮತ್ತು ಅವುಗಳ ಐತಿಹಾಸಿಕ ಮಹತ್ವ
- 2) ಜಗತ್ತಿನ ಮತ್ತು ಭಾರತದ ಪ್ರಾಚೀನ ನಾಗರೀಕತೆಗಳು
- 3) ಪ್ರಾಚೀನ ಭಾರತವನ್ನಾಳಿದ ವಿವಿಧ ರಾಜಮನೆತನಗಳು
- 4) ರಾಜ್ಯಶಾಸ್ತ್ರದ ಪರಿಚಯ, ಪೌರತ್ವ, ಪ್ರಜಾಪ್ರಭುತ್ವ ಮತ್ತು ಸ್ಥಳೀಯ ಸರ್ಕಾರಗಳು
- 5) ಸಮಾಜಶಾಸ್ತ್ರದ ಪರಿಚಯ, ಮಾನವ ಮತ್ತು ಸಂಸ್ಕೃತಿ ಹಾಗೂ ಸಮಾಜ
- 6) ಅಕ್ಷಾಂಶ ಮತ್ತು ರೇಖಾಂಶ ಹಾಗೂ ಭೂ ಗ್ರಹದ ವೈಶಿಷ್ಟ್ಯಗಳು
- 7) ಭೂಮಿಯ ರಚನೆ, ಶಿಲಾಗೋಳ ಮತ್ತು ವಾಯುಗೋಳ
- 8) ಜಲಗೋಳ, ಜೀವಗೋಳ ಹಾಗೂ ಪರಿಸರ ಮಾಲಿನ್ಯ
- 9) ಅರ್ಥಶಾಸ್ತ್ರದ ಅರ್ಥ ಮತ್ತು ಮಹತ್ವ ಹಾಗೂ ಮೂಲ ಪರಿಕಲ್ಪನೆಗಳು
- 10) ವ್ಯವಹಾರದ ಅರ್ಥ ಮತ್ತು ಮಹತ್ವ ಹಾಗೂ ವ್ಯವಹಾರ ಸಂಘಟನೆಗಳು

ಸೇತುಬಂಧ ನೈದಾನಿಕ ಪರೀಕ್ಷೆ

ತರಗತಿ: 9 ವಿದ್ಯಾರ್ಥಿಯ ಹೆಸರು:

ವಿಷಯ: ಸಮಾಜ ವಿಜ್ಞಾನ

ಕೆಳಗಿನ ಪ್ರಶ್ನೆಗಳಿಗೆ ಅಥವಾ ಅಪೂರ್ಣ ಹೇಳಿಕೆಗಳಿಗೆ ನಾಲ್ಕು ಆಯ್ಕೆಗಳನ್ನು ನೀಡಲಾಗಿದೆ. ಅವುಗಳಲ್ಲಿ ಸೂಕ್ತವಾದ ಉತ್ತರವನ್ನು ಆರಿಸಿ ಕ್ರಮಾಕ್ಷರದೊಂದಿಗೆ ಬರೆಯಿರಿ.

1A. ಮೌರ್ಯ ಸಾಮ್ರಾಟ ಅಶೋಕನ ಬಹುತೇಕ ಶಾಸನಗಳು ಈ ಲಿಪಿಯಲ್ಲಿವೆ.

- ಎ) ಸಂಸ್ಕೃತ
- ಬಿ) ಬ್ರಾಹ್ಮಿ
- ಸಿ) ಪ್ರಾಕೃತ
- ಡಿ) ದೇವನಾಗರಿ

ಉತ್ತರ:- _____


1B. ಈ ಕೆಳಗಿನವುಗಳಲ್ಲಿ ದೇಶೀಯ ಸಾಹಿತ್ಯಕ್ಕೆ ಉತ್ತಮ ಉದಾಹರಣೆ

- ಎ) ತಾರಿಕ್ ಎಫೆರಿಸ್ತಾ
- ಬಿ) ಜಿಯೋಗ್ರಾಫಿ
- ಸಿ) ಪೃಥ್ವಿರಾಜ ರಾಸೋ
- ಡಿ) ಸಿಯುಕಿ

ಉತ್ತರ:- _____

2A. ಈ ಕೆಳಗಿನ ಮೂರ್ತಿಶಿಲ್ಪವನ್ನು ಗಮನಿಸಿ, ಇದು ಯಾವ ನಾಗರಿಕತೆಗೆ ಸಂಬಂಧಿಸಿದೆ ಎಂಬುದನ್ನು ಗುರುತಿಸಿ.

- ಎ) ಈಜಿಪ್ಟ್ ನಾಗರಿಕತೆ
- ಬಿ) ಚೀನಾ ನಾಗರಿಕತೆ
- ಸಿ) ಮೆಸಪಟೋಮಿಯಾ ನಾಗರಿಕತೆ
- ಡಿ) ಹರಪ್ಪ ನಾಗರಿಕತೆ



ಉತ್ತರ:- _____

2B. ಈ ಕೆಳಗಿನ ಸ್ಮಾರಕವನ್ನು ಗಮನಿಸಿ, ಇದು ಯಾವ ನಾಗರಿಕತೆಗೆ ಸಂಬಂಧಿಸಿದೆ ಎಂಬುದನ್ನು ಗುರುತಿಸಿ.

- ಎ) ಈಜಿಪ್ಟ್ ನಾಗರಿಕತೆ
- ಬಿ) ಚೀನಾ ನಾಗರಿಕತೆ
- ಸಿ) ಮೆಸಪಟೋಮಿಯಾ ನಾಗರಿಕತೆ
- ಡಿ) ಹರಪ್ಪ ನಾಗರಿಕತೆ



ಉತ್ತರ:- _____

3A. ಈ ಕೆಳಗಿನವರಲ್ಲಿ ಬಾದಾಮಿ ಚಾಲುಕ್ಯ ಮನೆತನದ ಸ್ಥಾಪಕ

- ಎ) ಇಮ್ಮಡಿ ಪುಲಿಕೇಶಿ
- ಬಿ) ರಾಜಾ ಜಯಸಿಂಹ
- ಸಿ) ದಂತಿದುರ್ಗ
- ಡಿ) ಚಂದ್ರಗುಪ್ತ ಮೌರ್ಯ

ಉತ್ತರ:- _____

3B. ಎಲ್ಲೋರಾದ ಕೈಲಾಸನಾಥ ದೇವಾಲಯವು ಈ ರಾಜ ಮನೆತನದ ಕೊಡುಗೆಯಾಗಿದೆ.

- ಎ) ಬಾದಾಮಿಯ ಚಾಲುಕ್ಯರು
- ಬಿ) ಕಂಚಿಯ ಪಲ್ಲವರು
- ಸಿ) ಮಾನ್ಯಖೇಟದ ರಾಷ್ಟ್ರಕೂಟರು
- ಡಿ) ದ್ವಾರಸಮುದ್ರದ ಹೊಯ್ಸಳರು



ಉತ್ತರ:- _____

4A. ಭಾರತದಲ್ಲಿ ಪೌರತ್ವ ಕಾಯ್ದೆಯನ್ನು ಜಾರಿಗೆ ತರಲಾದ ವರ್ಷವನ್ನು ತಿಳಿಸಿ.

- ಎ) 1947
- ಬಿ) 1948
- ಸಿ) 1950
- ಡಿ) 1955

ಉತ್ತರ:- _____

4B. ಈ ಕೆಳಗಿನವರಲ್ಲಿ 'ರಿಪಬ್ಲಿಕ್' ಎಂಬ ಗ್ರಂಥದ ಕರ್ತೃವನ್ನು ಗುರುತಿಸಿ.

- ಎ) ಅರಿಸ್ಟಾಟಲ್
- ಬಿ) ಹೆರಡೋಟಸ್
- ಸಿ) ಪ್ಲೇಟೋ
- ಡಿ) ಸಾಕ್ರಟೀಸ್

ಉತ್ತರ:- _____

5A. ಸಮಾಜ ಶಾಸ್ತ್ರದ ಪಿತಾಮಹನೆಂದು ಎಂದು ಗುರುತಿಸಲ್ಪಟ್ಟಿರುವವನು.

- ಎ) ಅರಿಸ್ಟಾಟಲ್
- ಬಿ) ಹೆರಡೋಟಸ್
- ಸಿ) ಆಗಸ್ಟ್ ಕಾಮ್ಯೆ
- ಡಿ) ಮ್ಯಾಕ್ಸ್ ವೆಬರ್



ಉತ್ತರ:- _____

5B. ನೇಗಿಲ ಸಂಶೋಧನೆಯಿಂದ ಆರಂಭಗೊಂಡ ಸಮಾಜ

- ಎ) ಅಲೆಮಾರಿ ಸಮಾಜ
- ಬಿ) ಕೃಷಿಕ ಸಮಾಜ
- ಸಿ) ಕೈಗಾರಿಕಾ ಸಮಾಜ
- ಡಿ) ಗ್ರಾಮೀಣ ಸಮಾಜ

ಉತ್ತರ:- _____

6A.ಈ ಕೆಳಗಿನವುಗಳಲ್ಲಿ ಪ್ರಪಂಚದ ಅತ್ಯಂತ ವಿಶಾಲವಾದ ಸಾಗರವೆಂದರೆ

- ಎ) ಫೆಸಿಪಿಕ್ ಮಹಾಸಾಗರ
- ಬಿ) ಅಟ್ಲಾಂಟಿಕ್ ಮಹಾಸಾಗರ
- ಸಿ) ಆರ್ಕ್ಟಿಕ್ ಮಹಾಸಾಗರ
- ಡಿ) ಹಿಂದೂ ಮಹಾಸಾಗರ

ಉತ್ತರ:-_____

6B.ಈ ಕೆಳಗಿನವುಗಳಲ್ಲಿ ಅತ್ಯಂತ ದೊಡ್ಡ ಅಕ್ಷಾಂಶವನ್ನು ಗುರುತಿಸಿ.

- ಎ) 0° ಅಕ್ಷಾಂಶ
- ಬಿ) $23\frac{1}{2}^{\circ}$ ಉತ್ತರ ಅಕ್ಷಾಂಶ
- ಸಿ) $66\frac{1}{2}^{\circ}$ ದಕ್ಷಿಣ ಅಕ್ಷಾಂಶ
- ಡಿ) 90° ಉತ್ತರ ಅಕ್ಷಾಂಶ

ಉತ್ತರ:-_____

7A.ಶಿಲೆಗಳು ಯಾವುದೇ ರಾಸಾಯನಿಕ ಬದಲಾವಣೆಯಾಗದೇ ಒಡೆದು ಚೂರಾಗುವ ಪ್ರಕ್ರಿಯೆಯೇ

- ಎ) ರಾಸಾಯನಿಕ ಶಿಥಿಲೀಕರಣ
- ಬಿ) ಜಲಸಂಯೋಜನೆ
- ಸಿ) ಭೌತಿಕ ಶಿಥಿಲೀಕರಣ
- ಡಿ) ಜೈವಿಕ ಶಿಥಿಲೀಕರಣ

ಉತ್ತರ:-_____

7B.ಈ ಕೆಳಗಿನವುಗಳಲ್ಲಿ ವಾಯುಗೋಳದ ಅತ್ಯಂತ ಕೆಳ ಪದರವೆಂದರೆ

- ಎ) ಪರಿವರ್ತನಾ ಮಂಡಲ
- ಬಿ) ಸಮೋಷ್ಣ ಮಂಡಲ
- ಸಿ) ಮಧ್ಯಂತರ ಮಂಡಲ
- ಡಿ) ಉಷ್ಣತಾ ಮಂಡಲ

ಉತ್ತರ:-_____

8A.ಇವುಗಳಲ್ಲಿ ಸಾಗರದ ಆಳವನ್ನು ಆಳೆಯುವ ಮಾನಕವನ್ನು ಗುರುತಿಸಿ.

- ಎ) ಕಿಲೋಮೀಟರ್
- ಬಿ) ಫ್ಯಾದಮ್
- ಸಿ) ಪ್ಯಾರಾಮೀಟರ್
- ಡಿ) ಮಿಲಿ ಲೀಟರ್

ಉತ್ತರ:-_____

8B. ಮಿತಿಮೀರಿದ ರಾಸಾಯನಿಕ ಗೊಬ್ಬರ ಮತ್ತು ಕಳೆನಾಶಕಗಳ ಬಳಕೆಯಿಂದ

- ಎ) ವಾಯು ಮಾಲಿನ್ಯ ಹೆಚ್ಚಾಗಿದೆ.
- ಬಿ) ಜಲ ಮಾಲಿನ್ಯ ಹೆಚ್ಚಾಗಿದೆ.
- ಸಿ) ಶಬ್ದ ಮಾಲಿನ್ಯ ಹೆಚ್ಚಾಗಿದೆ.
- ಡಿ) ಮಣ್ಣಿನ ಮಾಲಿನ್ಯ ಹೆಚ್ಚಾಗಿದೆ.

ಉತ್ತರ:-_____

9A.ಮಾನವನ ಬಯಕೆಗಳನ್ನು ತೃಪ್ತಿಪಡಿಸುವ ಶಕ್ತಿಯನ್ನು ಹೀಗೆಂದು ಕರೆಯುತ್ತಾರೆ.

- ಎ) ಅನುಭೋಗ
- ಬಿ) ಪೂರೈಕೆ
- ಸಿ) ಉಪಯುಕ್ತತೆ
- ಡಿ) ವಿತರಣೆ

ಉತ್ತರ:-_____

9B. ಅರ್ಥಶಾಸ್ತ್ರದ ಪಿತಾಮಹನೆಂದು ಎಂದು ಕರೆಯಲ್ಪಟ್ಟಿರುವವನು.

- ಎ) ಅರಿಸ್ಟಾಟಲ್
- ಬಿ) ಆಡಂಸ್ಮಿತ್
- ಸಿ) ಆರ್ಗಸ್ಟ್ ಕಾಮ್ಪ್ಲೆ
- ಡಿ) ಕೌಟಿಲ್ಯ

ಉತ್ತರ:-_____

10A.ಈ ಕೆಳಗಿನ ಯಾವ ಪ್ರಕಾರದ ವ್ಯವಹಾರ ಸಂಘಟನೆಯು ಭಾರತದಲ್ಲಿ ಮಾತ್ರ ಕಂಡುಬರುತ್ತದೆ.

- ಎ) ಪಾಲುದಾರಿಕೆ ಸಂಸ್ಥೆಗಳು
- ಬಿ) ಹಿಂದೂ ಅವಿಭಕ್ತ ಕುಟುಂಬ ಸಂಸ್ಥೆಗಳು
- ಸಿ) ಕೂಡು ಬಂಡವಾಳ ಸಂಸ್ಥೆಗಳು
- ಡಿ) ಸಹಕಾರಿ ಸಂಘಗಳು

ಉತ್ತರ:-_____

10B.ಈ ಕೆಳಗಿನವುಗಳಲ್ಲಿ ಪುನರ್ ರಫ್ತು ವ್ಯಾಪಾರಕ್ಕೆ ಅತ್ಯುತ್ತಮ ಉದಾಹರಣೆ

- ಎ) ಅಮೇರಿಕಾ
- ಬಿ) ಭಾರತ
- ಸಿ) ಸಿಂಗಾಪುರ
- ಡಿ) ಇಂಗ್ಲೆಂಡ್

ಉತ್ತರ:-_____

ಸೇತುಬಂಧ ಅಭ್ಯಾಸದ ಹಾಳೆ - 01

{ಸಾಮರ್ಥ್ಯ:-1 ಆಧಾರಗಳು ಮತ್ತು ಅವುಗಳ ಐತಿಹಾಸಿಕ ಮಹತ್ವ ಪ್ರಾಗೈತಿಹಾಸಿಕ ಕಾಲ}




ತರಗತಿ: 9 ವಿದ್ಯಾರ್ಥಿಯ ಹೆಸರು:

ವಿಷಯ: ಸಮಾಜ ವಿಜ್ಞಾನ


ನಾಣ್ಯಗಳಿಂದ ಲಭ್ಯವಾಗುವ ಮಾಹಿತಿಗಳು:

- I. ಕೆಳಗಿನ ಬಿಟ್ಟಿರುವ ಸ್ಥಳಗಳನ್ನು ಸರಿಯಾದ ಪದಗಳಿಂದ ತುಂಬಿರಿ:
 - 1) _____ನ ಶಾಸನಗಳೇ ಭಾರತದಲ್ಲಿ ಕಂಡುಬರುವ ಆರಂಭಿಕ ಶಾಸನಗಳಾಗಿವೆ.
 - 2) ಭಾರತವು ಒಂದು _____ ದ್ವೀಪವಾಗಿದೆ.
 - 3) ಬೂದಿಯ ಕುರುಹುಗಳು _____ ಗವಿಗಳಲ್ಲಿ ದೊರೆತಿವೆ.
 - 4) ಕನ್ನಡದ ಮೊದಲ ಶಿಲಾ ಶಾಸನ _____.
 - 5) ಅಶೋಕನ ಬಹುತೇಕ ಶಾಸನಗಳು _____ ಲಿಪಿಯಲ್ಲಿವೆ.
- II. ಕೆಳಗಿನ ಪ್ರಶ್ನೆಗಳಿಗೆ ಒಂದು ಪದ/ವಾಕ್ಯದಲ್ಲಿ ಉತ್ತರಿಸಿರಿ:
 - 1) ಆಧಾರ ಎಂದರೇನು?
 - 2) ಪ್ರಾಗೈತಿಹಾಸಿಕ ಕಾಲ ಎಂದರೇನು?

ಈ ಕೆಳಗಿನ ಚಿತ್ರಗಳನ್ನು ಗಮನಿಸಿ ಅವುಗಳನ್ನು ಹೆಸರಿಸಿ:


		

ಈ ಪುರಾತತ್ವ ಆಧಾರಗಳನ್ನು ಹೆಸರಿಸಿ:



ದೇಶೀಯ ಸಾಹಿತ್ಯ ಕೃತಿಗಳು & ಕರ್ತೃಗಳು

ಈ ಕೆಳಗಿನ ನಕ್ಷೆಯಲ್ಲಿ ಭಾರತದ ಪ್ರಾಕೃತಿಕ ವಿಭಾಗಗಳನ್ನು ಗುರುತಿಸಿರಿ:



ಈ ಪುರಾತತ್ವ ಆಧಾರಗಳನ್ನು ಹೆಸರಿಸಿ:





ಸೇತುಬಂಧ ಅಭ್ಯಾಸದ ಹಾಳೆ - 02

ಸಾಮರ್ಥ್ಯ:-2 ಜಗತ್ತಿನ ಮತ್ತು ಭಾರತದ ಪ್ರಾಚೀನ ನಾಗರಿಕತೆಗಳು

ತರಗತಿ: 9 ವಿದ್ಯಾರ್ಥಿಯ ಹೆಸರು:

ವಿಷಯ: ಸಮಾಜ ವಿಜ್ಞಾನ

ಈ ಕೆಳಗಿನವುಗಳನ್ನು ಗುರುತಿಸಿ:



I. ಕೆಳಗಿನ ಬಿಟ್ಟಿರುವ ಸ್ಥಳಗಳನ್ನು ಸರಿಯಾದ ಪದಗಳಿಂದ ತುಂಬಿ:

- 1) ಹರಪ್ಪ ಸಂಸ್ಕೃತಿಯ ಜನ ಕೃಷಿ ಮತ್ತು _____ ಅವಲಂಬಿಸಿದ್ದರು.
- 2) ಹಿರೋಗ್ಲಿಪಿಸ್‌ನ್ನು _____ ಎಂದು ಕರೆಯುತ್ತಾರೆ.
- 3) ಅಮೋಝಿಯರ ಸುಪ್ರಸಿದ್ಧ ದೊರೆ _____.
- 4) ವೈದ್ಯಕೀಯ ಅಧ್ಯಯನಕ್ಕೆ ಬುನಾದಿಯನ್ನು ಹಾಕಿದವನು _____.
- 5) ಚರಿತ್ರೆಯ ಮೊದಲ ವಿಶ್ಲೇಷಣಾಕಾರ _____.
- 6) ರೋಮನ್ನರ ಭಾಷೆ _____.
- 7) ಇಂಕಾಗಳ ಆರಾಧ್ಯ ದೈವ _____.

II. ಕೆಳಗಿನ ಪ್ರಶ್ನೆಗಳಿಗೆ ಒಂದು ಪದ/ವಾಕ್ಯದಲ್ಲಿ ಉತ್ತರಿಸಿ:

- 1) ರೋಮನ್ ಸಮಾಜದಲ್ಲಿದ್ದ ಎರಡು ವರ್ಗಗಳಾವುವು?
- 2) ಮಾಯನ್ನರು ಯಾರು?

III. ಕೆಳಗಿನವುಗಳನ್ನು ಹೊಂದಿಸಿ ಬರೆಯಿರಿ:

'ಅ' ಪಟ್ಟಿ 'ಬ' ಪಟ್ಟಿ

- | | |
|-----------------|------------------------|
| 1. ಕ್ಯೂನಿಫಾರ್ಮ್ | ಎ. ಈಜಿಪ್ಟಿನ ಕಡೆಯ ರಾಣಿ |
| 2. ಕ್ಲಿಯೋಪಾತ್ರ | ಬಿ. ಈನಿಯಡ್ |
| 3. ವರ್ಜಿಲ್ | ಸಿ. ಇಂಕಾ ನಾಗರಿಕತೆ |
| 4. ಟ್ಯೂಪೆಕ್ | ಡಿ. ಬುಡಕಟ್ಟಿನ ಮುಖ್ಯಸ್ಥ |
| 5. ರಾಜನ್ | ಇ. ಮೆಸಪಟೋಮಿಯ |

ಹರಪ್ಪಾ ನಾಗರಿಕತೆಯ ನಗರ ಯೋಜನೆಯ ವೈಶಿಷ್ಟ್ಯಗಳನ್ನು ಪಟ್ಟಿ ಮಾಡಿ:

ಪಠ್ಯಪುಸ್ತಕ ಅವಲೋಕಿಸಿ ಈ ಕೆಳಗಿನ ಮಾಹಿತಿಯನ್ನು ಪೂರ್ಣಗೊಳಿಸಿ:

ನಾಗರಿಕತೆ	ನದಿ ದಂಡೆ	ಯಾವುದಾದರೊಂದು ವೈಶಿಷ್ಟ್ಯ
ಹರಪ್ಪ ನಾಗರಿಕತೆ		
ಈಜಿಪ್ಟ್ ನಾಗರಿಕತೆ		
ಮೆಸಪಟೋಮಿಯಾ ನಾಗರಿಕತೆ		
ಚೀನಾ ನಾಗರಿಕತೆ		
ರೋಮ್ ನಾಗರಿಕತೆ		




ಸೇತುಬಂಧ ಅಭ್ಯಾಸದ ಹಾಳೆ - 03

{ಸಾಮರ್ಥ್ಯ:-3 ಪ್ರಾಚೀನ ಭಾರತವನ್ನಾಳಿದ ವಿವಿಧ ರಾಜಮನೆತನಗಳು}

ತರಗತಿ: 9 ವಿದ್ಯಾರ್ಥಿಯ ಹೆಸರು:

ವಿಷಯ: ಸಮಾಜ ವಿಜ್ಞಾನ

ಇವರನ್ನು ಹೆಸರಿಸಿ:



I. ಕೆಳಗಿನ ಬಿಟ್ಟಿರುವ ಸ್ಥಳಗಳನ್ನು ಸರಿಯಾದ ಪದಗಳಿಂದ ತುಂಬಿರಿ:

- 1) ಕಾಳಿದಾಸನ ಶ್ರೇಷ್ಠ ನಾಟಕಗಳಲ್ಲಿ _____ ಒಂದು.
- 2) ಕರ್ನಾಟಕ ಎಂಬ ಹೆಸರನ್ನು ಕೊಟ್ಟ ರಾಜವಂಶದವರು _____.
- 3) 'ಅರ್ಜುನನ ತಪಸ್ಸು' ಎಂಬ ಕಲಾಕೃತಿಯು _____ ದಲ್ಲಿದೆ.
- 4) ಹೊಯ್ಸಳರ ಕಾಲದ ಅಂಗರಕ್ಷಕ ಪಡೆ _____.
- 5) ಗಂಗರ ಪ್ರಮುಖ ರಾಜ _____.

II. ಕೆಳಗಿನ ಪ್ರಶ್ನೆಗಳಿಗೆ ಒಂದು ಪದ/ವಾಕ್ಯದಲ್ಲಿ ಉತ್ತರಿಸಿರಿ:

- 1) ಶಾತವಾಹನರ ಕೊನೆಯ ಅರಸನಾರು?
- 2) ಕುಶಾನರು ಯಾವ ಸಂತತಿಗೆ ಸೇರಿದವರು?
- 3) ಅತ್ಯಂತ ಪ್ರಸಿದ್ಧವಾದ ಚೋಳ ವಿದ್ಯಾಕೇಂದ್ರ(ಅಗ್ರಹಾರ) ಯಾವುದು?
- 4) ಪೊನ್ನನು ರಚಿಸಿದ ಪ್ರಸಿದ್ಧ ಕಾವ್ಯ ಯಾವುದು?
- 5) ಪುಲಿಕೇಶಿಯು ಸೋಲಿಸಿದ ಪಲ್ಲವರ ದೊರೆ ಯಾರು?

ಈ ಕೆಳಗಿನ ಸ್ಮಾರಕಗಳನ್ನು ಹೆಸರಿಸಿ:



ಪಠ್ಯಪುಸ್ತಕ ಅವಲೋಕಿಸಿ ಈ ಕೆಳಗಿನ ಮಾಹಿತಿಯನ್ನು ಸಂಗ್ರಹಿಸಿ:




ರಾಜಮನೆತನ	ಸ್ಥಾಪಕರು	ರಾಜಧಾನಿ	ಪ್ರಸಿದ್ಧ ದೊರೆ
ಮೌರ್ಯರು			
ಕುಶಾನರು			
ಗುಪ್ತರು			
ವರ್ಧನರು			
ಶಾತವಾಹನರು			
ಕದಂಬರು			
ಬಾದಾಮಿಯ ಚಾಲುಕ್ಯರು			
ಕಂಚಿಯ ಪಲ್ಲವರು			
ರಾಷ್ಟ್ರಕೂಟರು			
ಕಲ್ಯಾಣದ ಚಾಲುಕ್ಯರು			
ಚೋಳರು			
ಹೊಯ್ಸಳರು			

ಸೇತುಬಂಧ ಅಭ್ಯಾಸದ ಹಾಳೆ - 04

[ಸಾಮರ್ಥ್ಯ:-4 ರಾಜ್ಯಶಾಸ್ತ್ರದ ಪರಿಚಯ, ಪೌರತ್ವ, ಪ್ರಜಾಪ್ರಭುತ್ವ ಮತ್ತು ಸ್ಥಳೀಯ ಸರ್ಕಾರಗಳು]

ತರಗತಿ: 9 ವಿದ್ಯಾರ್ಥಿಯ ಹೆಸರು:

ವಿಷಯ: ಸಮಾಜ ವಿಜ್ಞಾನ

ವಿಶೇಷತೆಯನ್ನು ಗಮನಿಸಿ, ಇವರನ್ನು ಹೆಸರಿಸಿ: ರಾಜ್ಯಶಾಸ್ತ್ರದ ಪಿತಾಮಹ	I. ಕೆಳಗಿನ ಬಿಟ್ಟಿರುವ ಸ್ಥಳಗಳನ್ನು ಸರಿಯಾದ ಪದಗಳಿಂದ ತುಂಬಿರಿ: 1) ಅರಿಸ್ಟಾಟಲ್‌ನ ಪ್ರಸಿದ್ಧ ಗ್ರಂಥ _____ 2) ಭಾರತದಲ್ಲಿ ಮತ ಚಲಾಯಿಸಲು ಕನಿಷ್ಠ ವಯಸ್ಸು _____ ವರ್ಷ. 3) ಭಾರತದಲ್ಲಿ ಪೌರತ್ವ ಕಾಯ್ದೆಯು _____ ರಲ್ಲಿ ಜಾರಿಗೆ ಬಂದಿದೆ. 4) ಪ್ರಜಾಪ್ರಭುತ್ವದಲ್ಲಿ ಪರಮಾಧಿಕಾರವನ್ನು _____ ಹೊಂದಿರುತ್ತಾರೆ. II. ಕೆಳಗಿನ ಪ್ರಶ್ನೆಗಳಿಗೆ ಒಂದು ಪದ/ವಾಕ್ಯದಲ್ಲಿ ಉತ್ತರಿಸಿರಿ: 1) ರಾಜ್ಯಶಾಸ್ತ್ರ ಎಂದರೇನು? 2) ಪ್ರಜಾಪ್ರಭುತ್ವ ಎಂದರೇನು? 3) ನಿಮ್ಮ ವಾರ್ಡಿನ ಜನ ಪ್ರತಿನಿಧಿಯನ್ನು ಹೆಸರಿಸಿ. 4) ಗ್ರಾಮ ಪಂಚಾಯತಿ ಅಧ್ಯಕ್ಷರ ಅಧಿಕಾರವಧಿ ಎಷ್ಟು ವರ್ಷಗಳು? 5) ಕರ್ನಾಟಕದಲ್ಲಿ ಒಟ್ಟು ಎಷ್ಟು ಮಹಾನಗರ ಪಾಲಿಕೆಗಳಿವೆ? 6) ಪೌರತ್ವ ಎಂದರೇನು?	ಭಾರತದಲ್ಲಿ ಪೌರತ್ವ ಪಡೆಯುವ ವಿಧಾನಗಳು: ಭಾರತದಲ್ಲಿ ಪೌರತ್ವ ಕಳೆದುಕೊಳ್ಳುವ ವಿಧಾನಗಳು: 3 ಹಂತದ ಪಂಚಾಯತ್ ರಾಜ್ ಸಂಸ್ಥೆಗಳು:
ರಿಪಬ್ಲಿಕ್ ಗ್ರಂಥದ ಕರ್ತೃ	5) ಕರ್ನಾಟಕದಲ್ಲಿ ಒಟ್ಟು ಎಷ್ಟು ಮಹಾನಗರ ಪಾಲಿಕೆಗಳಿವೆ? 6) ಪೌರತ್ವ ಎಂದರೇನು?	
ಅರ್ಥಶಾಸ್ತ್ರ ಗ್ರಂಥದ ಕರ್ತೃ		
		
		
		

ಪಠ್ಯಪುಸ್ತಕದ ಸಹಾಯದಿಂದ ಈ ಮಾಹಿತಿಯನ್ನು ಪೂರ್ಣಗೊಳಿಸಿರಿ:

ಪ್ರಜಾಪ್ರಭುತ್ವದ ಅನುಕೂಲಗಳು	ಪ್ರಜಾಪ್ರಭುತ್ವದ ಅನಾನುಕೂಲಗಳು






ಸೇತುಬಂಧ ಅಭ್ಯಾಸದ ಹಾಳೆ - 05

ಸಾಮರ್ಥ್ಯ:-5 ಸಮಾಜಶಾಸ್ತ್ರದ ಪರಿಚಯ, ಮಾನವ ಮತ್ತು ಸಂಸ್ಕೃತಿ ಹಾಗೂ ಸಮಾಜ}

ತರಗತಿ: 9 ವಿದ್ಯಾರ್ಥಿಯ ಹೆಸರು:

ವಿಷಯ: ಸಮಾಜ ವಿಜ್ಞಾನ

ಸಮಾಜಶಾಸ್ತ್ರಜ್ಞರನ್ನು ಹೆಸರಿಸಿ:




- I. ಕೆಳಗಿನ ಬಿಟ್ಟಿರುವ ಸ್ಥಳಗಳನ್ನು ಸರಿಯಾದ ಪದಗಳಿಂದ ತುಂಬಿ:
- 1) ಮಾನವ _____ ಜೀವಿ.
 - 2) ಔಪಚಾರಿಕ ಶಿಕ್ಷಣ _____ಯಲ್ಲಿ ದೊರೆಯುತ್ತದೆ.
 - 3) ಭಾರತದಲ್ಲಿ _____ಯಲ್ಲಿ ಏಕತೆ ಕಂಡುಬರುತ್ತದೆ.
 - 4) ಸಂಸ್ಕೃತಿ ಎಂದರೆ _____ ಎಂದರ್ಥ.
 - 5) ನಮ್ಮ ಭಾವನೆಗಳನ್ನು _____ ಮೂಲಕ ವ್ಯಕ್ತಪಡಿಸುತ್ತೇವೆ.
 - 6) ಕೃಷಿ ಸಮಾಜದಲ್ಲಿ ಉಳುಮೆಗೆ _____ ಬಳಸುತ್ತಾರೆ.
 - 7) ಸಮಾಜಶಾಸ್ತ್ರದ ಪಿತಾಮಹಾ _____.

II. ಕೆಳಗಿನ ಪ್ರಶ್ನೆಗಳಿಗೆ ಒಂದು ಪದ/ವಾಕ್ಯದಲ್ಲಿ ಉತ್ತರಿಸಿ:

- 1) ಸಮಾಜಶಾಸ್ತ್ರ ಎಂದರೇನು?
- 2) ಸಂಸ್ಕೃತಿ ಎಂದರೇನು?
- 3) ಸಮಾಜ ಎಂದರೇನು?
- 4) ಸಾಮಾಜಿಕ ಅಂತರಕ್ರಿಯೆ ಎಂದರೇನು?
- 5) ಪಾತ್ರಪ್ಪಜ್ಜೆ ಎಂದರೇನು?
- 6) ಸಾಮಾಜಿಕರಣ ಎಂದರೇನು?

ಸಂಸ್ಕೃತಿಯ ಅಂಶಗಳನ್ನು ತಿಳಿಸಿ:

ಈ ಸಮಾಜಗಳನ್ನು ಹೆಸರಿಸಿ:

ಕೃಷಿಕ ಸಮಾಜದ ಗುಣಲಕ್ಷಣಗಳನ್ನು ಪಠ್ಯಪುಸ್ತಕದ ಸಹಾಯದಿಂದ ಪಟ್ಟಿ ಮಾಡಿ:

ಸೇತುಬಂಧ ಅಭ್ಯಾಸದ ಹಾಳೆ - 06


ಸಾಮರ್ಥ್ಯ:-6 ಅಕ್ಷಾಂಶ ಮತ್ತು ರೇಖಾಂಶ ಹಾಗೂ ಭೂ ಗ್ರಹದ ವೈಶಿಷ್ಟ್ಯಗಳು}

ತರಗತಿ: 9

ವಿದ್ಯಾರ್ಥಿಯ ಹೆಸರು:

ವಿಷಯ: ಸಮಾಜ ವಿಜ್ಞಾನ

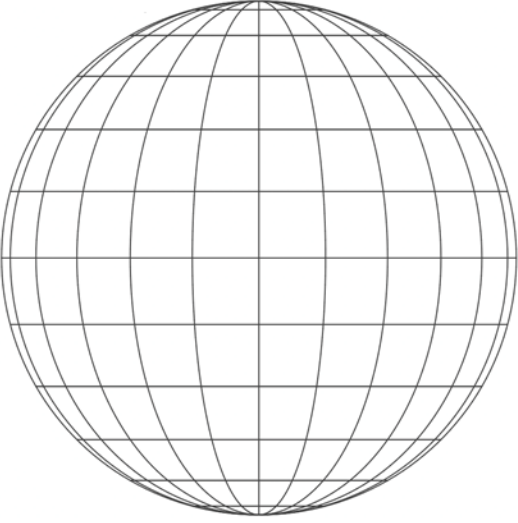
ಎಂಟು ದಿಕ್ಕುಗಳನ್ನು ಹೆಸರಿಸಿ:



1. ಕೆಳಗಿನ ಬಿಟ್ಟಿರುವ ಸ್ಥಳಗಳನ್ನು ಸರಿಯಾದ ಪದಗಳಿಂದ ತುಂಬಿರಿ:

- 1) ಭೂಮಿಯ ಒಟ್ಟು ಭೌಗೋಳಿಕ ಕ್ಷೇತ್ರವು _____ ಚ.ಕಿ.ಮೀ.
- 2) ಭೂಮಿಯು _____ ಆಕಾರದಲ್ಲಿದೆ.
- 3) $23\frac{1}{2}^{\circ}$ ಉತ್ತರ ಅಕ್ಷಾಂಶವನ್ನು _____ ಎಂದು ಕರೆಯುತ್ತಾರೆ.
- 4) ಭಾರತದ ಆದರ್ಶ ವೇಳೆಯು _____ ರೇಖಾಂಶವನ್ನು ಆಧರಿಸಿದೆ.
- 5) ದಕ್ಷಿಣ ಗೋಳಾರ್ಧವನ್ನು _____ ಎಂದೂ ಕರೆಯುವರು.
- 6) ಪ್ರಪಂಚದಲ್ಲೇ ಅತಿ ದೊಡ್ಡ ಖಂಡ _____ .
- 7) _____ ಸಾಗರವು ಅತಿ ವಿಶಾಲವಾದ & ಹೆಚ್ಚು ಆಳವಾದುದಾಗಿದೆ.
- 8) ಅಂತಾರಾಷ್ಟ್ರೀಯ ದಿನಾಂಕ ರೇಖೆ ಎಂದು _____ ರೇಖಾಂಶವನ್ನು ಎನ್ನುವರು.

ಈ ಗ್ಲೋಬ್‌ನ ಸಹಾಯದಿಂದ ಕೆಳಗಿನ ಚಟುವಟಿಕೆಗಳನ್ನು ಪೂರ್ಣಗೊಳಿಸಿ:



- 1) ಸಮಭಾಜಕ ವೃತ್ತವನ್ನು ಗುರುತಿಸಿ(ತಿದ್ದಿರಿ).
- 2) ಪ್ರಧಾನ ರೇಖಾಂಶವನ್ನು ಗುರುತಿಸಿ(ತಿದ್ದಿರಿ).
- 3) ಉತ್ತರ ಗೋಳಾರ್ಧವನ್ನು ಗುರುತಿಸಿ(ಬರೆಯಿರಿ).
- 4) ದಕ್ಷಿಣ ಗೋಳಾರ್ಧವನ್ನು ಗುರುತಿಸಿ(ಬರೆಯಿರಿ).
- 5) ಪೂರ್ವ ಗೋಳಾರ್ಧವನ್ನು ಗುರುತಿಸಿ(ಬರೆಯಿರಿ).
- 6) ಪಶ್ಚಿಮ ಗೋಳಾರ್ಧವನ್ನು ಗುರುತಿಸಿ(ಬರೆಯಿರಿ).
- 7) ಉತ್ತರ ದ್ರುವವನ್ನು ಗುರುತಿಸಿ(ಬರೆಯಿರಿ).
- 8) ದಕ್ಷಿಣ ದ್ರುವವನ್ನು ಗುರುತಿಸಿ(ಬರೆಯಿರಿ).

$82\frac{1}{2}^{\circ}$ ಪೂರ್ವ ರೇಖಾಂಶವನ್ನು ಎಳೆಯಿರಿ:



ಪ್ರಪಂಚದ 7 ಖಂಡಗಳು ಮತ್ತು 4 ಮಹಾಸಾಗರಗಳನ್ನು ಗುರುತಿಸಿ:



ಸೇತುಬಂಧ ಅಭ್ಯಾಸದ ಹಾಳೆ - 07

{ಸಾಮರ್ಥ್ಯ:-7 ಭೂಮಿಯ ರಚನೆ, ಶಿಲಾಗೋಳ ಮತ್ತು ವಾಯುಗೋಳ}

ತರಗತಿ: 9 ವಿದ್ಯಾರ್ಥಿಯ ಹೆಸರು:

ವಿಷಯ: ಸಮಾಜ ವಿಜ್ಞಾನ

ಭೂ ನಕ್ಷೀಕರಣದ ಕರ್ತೃಗಳನ್ನು ತಿಳಿಸಿ:

I. ಕೆಳಗಿನ ಬಿಟ್ಟಿರುವ ಸ್ಥಳಗಳನ್ನು ಸರಿಯಾದ ಪದಗಳಿಂದ ತುಂಬಿರಿ:

- 1) 'ಭೂಖಂಡಗಳ' ಮೇಲ್ಪದರು ಎಂದು _____ನ್ನು ಕರೆಯುತ್ತಾರೆ.
- 2) ಹೆಚ್ಚು ಹಾನಿಕಾರಕ ಭೂಕಂಪನ ಅಲೆಗಳೆಂದರೆ _____.
- 3) ಪಶ್ಚಿಮ ಮಾರುತಗಳನ್ನು _____ ಎಂದೂ ಕರೆಯುತ್ತಾರೆ.
- 4) ವಾಯುಗುಣದ ವೈಜ್ಞಾನಿಕ ಅಧ್ಯಯನವೇ _____.
- 5) ಮರಳು ದಂಡೆಗಳು _____ ಕಾರ್ಯದಿಂದ ನಿರ್ಮಿತವಾಗುತ್ತವೆ.

II. ಕೆಳಗಿನ ಪ್ರಶ್ನೆಗಳಿಗೆ ಒಂದು ಪದ/ವಾಕ್ಯದಲ್ಲಿ ಉತ್ತರಿಸಿರಿ:

- 1) ವಾಯುಗೋಳ ಎಂದರೇನು?
- 2) ಸೂರ್ಯಜನ್ಯ ಶಾಖೆ ಎಂದರೇನು?
- 3) ಭೂಕಂಪನ ಎಂದರೇನು?

III. ಕೆಳಗಿನವುಗಳನ್ನು ಹೊಂದಿಸಿ ಬರೆಯಿರಿ:

ವಾಯುಗೋಳದ ಪದರಗಳನ್ನು ತಿಳಿಸಿ:

ಭೂಕಂಪನ ಅಲೆಗಳ ಮೂರು ವಿಧಗಳು:

- | | |
|---------------|-------------------------|
| 'ಅ' ಪಟ್ಟಿ | 'ಬ' ಪಟ್ಟಿ |
| 1. ಸೈಮಾ | ಅ) ಭೂಕಂಪ |
| 2. ಮರಳುಗಲ್ಲು | ಆ) ಹಳದಿಮಣ್ಣು |
| 3. ಹೊರ ಕೇಂದ್ರ | ಇ) ಸಾಗರೀಕ ವಲಯದ ಮೇಲ್ಪದರು |
| 4. ಗೇಸರ್ | ಈ) ಕಣಶಿಲೆ |
| 5. ಲೋಯೆಸ್ | ಉ) ಅಂತರ್ಜಲ |

ಚಿತ್ರ ಗಮನಿಸಿ, ಇವುಗಳನ್ನು ಹೆಸರಿಸಿ:

ಈ ಗೋಳದಲ್ಲಿರುವ 5 ಒತ್ತಡ ಪಟ್ಟಿಗಳನ್ನು ಗುರುತಿಸಿ(ಹೆಸರಿಸಿ):

ಈ ಕೆಳಗಿನ ಚಿತ್ರದಲ್ಲಿ ಉಷ್ಣತಾವಲಯಗಳನ್ನು ಗುರುತಿಸಿ:

ವಾಣಿಜ್ಯ & ಪ್ರತಿ ವಾಣಿಜ್ಯ ಮಾರುತಗಳನ್ನು ಹೆಸರಿಸಿ:

ಸೇತುಬಂಧ ಅಭ್ಯಾಸದ ಹಾಳೆ - 08

ಸಾಮರ್ಥ್ಯ:-8 ಜಲಗೋಳ, ಜೀವಗೋಳ ಹಾಗೂ ಪರಿಸರ ಮಾಲಿನ್ಯ:

ತರಗತಿ: 9 ವಿದ್ಯಾರ್ಥಿಯ ಹೆಸರು:

ವಿಷಯ: ಸಮಾಜ ವಿಜ್ಞಾನ

ವಾಯು ಮಾಲಿನ್ಯದ ಪರಿಣಾಮಗಳನ್ನು ತಿಳಿಸಿ:

- I. ಕೆಳಗಿನ ಬಿಟ್ಟಿರುವ ಸ್ಥಳಗಳನ್ನು ಸರಿಯಾದ ಪದಗಳಿಂದ ತುಂಬಿರಿ:
- 1) 'ಖಂಡಾವರಣ ಪ್ರದೇಶದ ಸರಾಸರಿ ಆಳವು _____ ಆಗಿದೆ.
 - 2) ಪೆಪ್ಸಿಫಿಕ್ ಸಾಗರದ ಅತ್ಯಂತ ಆಳವಾದ ಸ್ಥಳ _____.
 - 3) ಹುಣ್ಣಿಮೆಯ ದಿನಗಳಲ್ಲಿ ಕಂಡುಬರುವ ಉಬ್ಬರಗಳು _____.
 - 4) ಆಮ್ಲ ಮಳೆಯನ್ನು _____ ಎಂದು ಕರೆಯುತ್ತಾರೆ.

II. ಕೆಳಗಿನ ಪ್ರಶ್ನೆಗಳಿಗೆ ಒಂದು ಪದ/ವಾಕ್ಯದಲ್ಲಿ ಉತ್ತರಿಸಿರಿ:

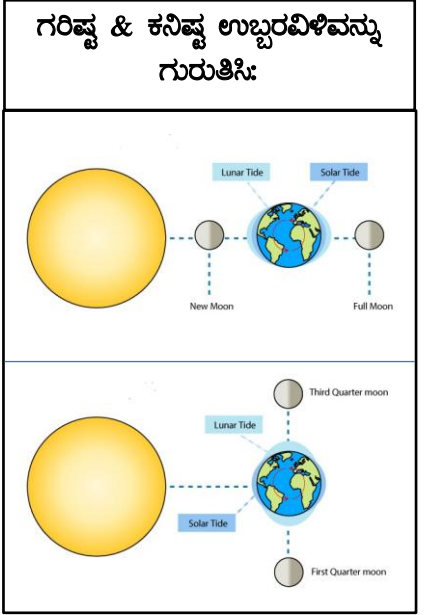
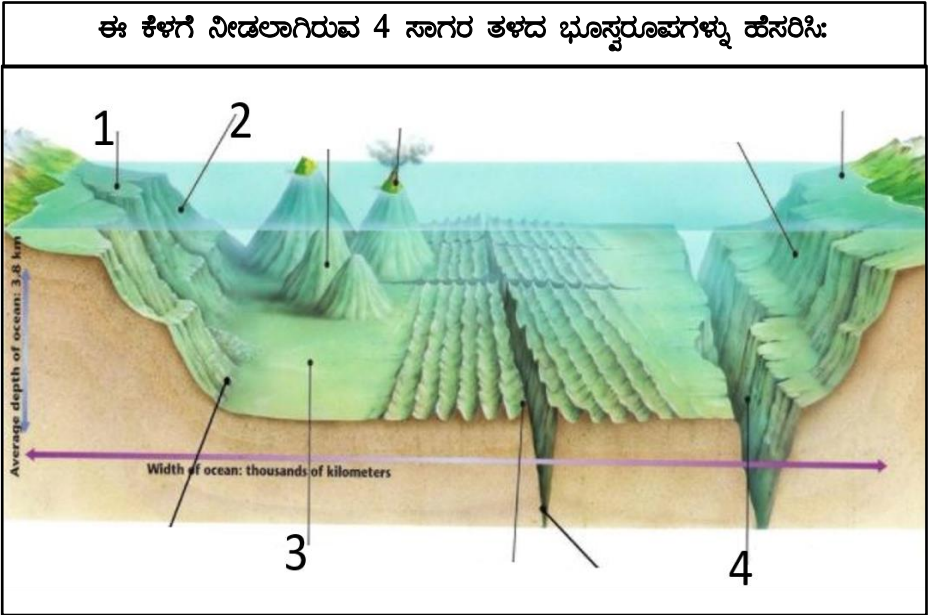
- 1) ಸಾಗರ ಪ್ರವಾಹ ಎಂದರೇನು?
- 2) ಜೀವಿ ಪರಿಸರ ವ್ಯವಸ್ಥೆ ಎಂದರೇನು?
- 3) 'ಹಸಿರು ಮನೆಯ ಪರಿಣಾಮ' ಎಂದರೇನು?

ಜಲಮಾಲಿನ್ಯದಿಂದ ಹರಡುವ ಕಾಯಲೆಗಳನ್ನು ತಿಳಿಸಿ:

III. ಕೆಳಗಿನವುಗಳನ್ನು ಹೊಂದಿಸಿ ಬರೆಯಿರಿ:

- | | |
|---------------------|-------------------------------|
| 'ಅ' ಪಟ್ಟಿ | 'ಬ' ಪಟ್ಟಿ |
| 1. ಫ್ಯಾದಮ್ | ಅ) ಆಳಸಾಗರ ಮೈದಾನ |
| 2. ಓಯೋಶಿವೊ | ಆ) ಅ.ಸಂ. ಸಂಸ್ಥಾನದ ಪೂರ್ವಕರಾವಳಿ |
| 3. ಗಲ್ಫ್ ಸ್ಟ್ರೀಂ | ಇ) ಶೀತ ಸಾಗರ ಪ್ರವಾಹ |
| 4. ಸಮುದ್ರ ಪರ್ವತಗಳು | ಈ) ಹಿಂದೂ ಮಹಾಸಾಗರ ಪ್ರವಾಹ |
| 5. ಅಗುಲ್ಹಾಸ್ ಪ್ರವಾಹ | ಉ) ಸಾಗರದ ಆಳದ ಅಳತೆ ಮಾನ |

ಮಾಲಿನ್ಯದ ಪ್ರಕಾರಗಳನ್ನು ತಿಳಿಸಿ:





ಸೇತುಬಂಧ ಅಭ್ಯಾಸದ ಹಾಳೆ - 09

(ಸಾಮರ್ಥ್ಯ:-9 ಅರ್ಥಶಾಸ್ತ್ರದ ಅರ್ಥ ಮತ್ತು ಮಹತ್ವ ಹಾಗೂ ಮೂಲ ಪರಿಕಲ್ಪನೆಗಳು)

ತರಗತಿ: 9 ವಿದ್ಯಾರ್ಥಿಯ ಹೆಸರು:

ವಿಷಯ: ಸಮಾಜ ವಿಜ್ಞಾನ

ಉತ್ಪಾದಕ ಚಟುವಟಿಕೆಗಳನ್ನು ಪಟ್ಟಿ ಮಾಡಿರಿ:	I. ಕೆಳಗಿನ ಬಿಟ್ಟಿರುವ ಸ್ಥಳಗಳನ್ನು ಸರಿಯಾದ ಪದಗಳಿಂದ ತುಂಬಿರಿ: 1) ಬೇಡಿಕೆ ಹೆಚ್ಚಾದಾಗ ಉತ್ಪಾದನೆ _____. 2) ಉತ್ಪಾದನಾಂಗವಾದ ಶ್ರಮಕ್ಕೆ ನೀಡುವ ಪ್ರತಿಫಲವೇ _____. 3) ಸಾಮಾನ್ಯವಾಗಿ ಬೆಲೆಗಳು ಹೆಚ್ಚಾದಾಗ ಸರಕುಗಳ ಪೂರೈಕೆ _____. 4) ಅನುಭೋಗ ಎಂದರೆ _____ ತೃಪ್ತಿ ಎಂದರ್ಥ.	ಸರ್ಕಾರದ ಈ ಯೋಜನೆಗಳನ್ನು ಗುರುತಿಸಿ:
	II. ಕೆಳಗಿನ ಪ್ರಶ್ನೆಗಳಿಗೆ ಒಂದು ಪದ/ವಾಕ್ಯದಲ್ಲಿ ಉತ್ತರಿಸಿರಿ: 1) ಅರ್ಥಶಾಸ್ತ್ರ ಎಂದರೇನು? 2) ತಲಾ ಆದಾಯವನ್ನು ಹೇಗೆ ಕಂಡು ಹಿಡಿಯುತ್ತಾರೆ? 3) ರಾಷ್ಟ್ರೀಯ ಆದಾಯವನ್ನು ವ್ಯಾಖ್ಯಾನಿಸಿರಿ. 4) ಆರ್ಥಿಕ ಚಟುವಟಿಕೆ ಎಂದರೇನು? 5) ತುಷ್ಟಿಗುಣ ಎಂದರೇನು?	ಅರ್ಥಶಾಸ್ತ್ರದ ಪಿತಾಮಹಾ  ಅರ್ಥಶಾಸ್ತ್ರ ಗ್ರಂಥದ ಕರ್ತೃ  ಆರ್ಥಿಕ ಚಟುವಟಿಕೆಗಳ 4 ಗುಂಪು

ಈ ಅರ್ಥಶಾಸ್ತ್ರದ ಮೂಲ ಪರಿಕಲ್ಪನೆಗಳನ್ನು ಅರ್ಥೈಸಿರಿ:

ಬೇಡಿಕೆ	
ಪೂರೈಕೆ	
ಉತ್ಪಾದನೆ	
ವಿತರಣೆ	
ಅನುಭೋಗ	
ಉಪಯುಕ್ತತೆ	
ಬೆಲೆ	
ಲಾಭ	

ಸೇತುಬಂಧ ಅಭ್ಯಾಸದ ಹಾಳೆ - 10

{ಸಾಮರ್ಥ್ಯ:-10 ವಾಣಿಜ್ಯ ಅಧ್ಯಯನ ಘಟಕಗಳ ಮತ್ತು ವಿವಿಧ ವ್ಯವಹಾರ ಸಂಘಟನೆಗಳು}

ತರಗತಿ: 9 ವಿದ್ಯಾರ್ಥಿಯ ಹೆಸರು:

ವಿಷಯ: ಸಮಾಜ ವಿಜ್ಞಾನ

ವಿವಿಧ ಚಿಲ್ಲರೆ ವ್ಯಾಪಾರಿಗಳನ್ನು ಹೆಸರಿಸಿ:






I. ಕೆಳಗಿನ ಬಿಟ್ಟಿರುವ ಸ್ಥಳಗಳನ್ನು ಸರಿಯಾದ ಪದಗಳಿಂದ ತುಂಬಿರಿ:

- 1) ಭಾರತದಲ್ಲಿ ಮಾತ್ರವಿರುವ ಸಣ್ಣ ವ್ಯವಹಾರ ಸಂಸ್ಥೆ _____.
- 2) ಗೃಹ ಕೈಗಾರಿಕೆಗಳು _____ಗಳಲ್ಲಿ ಕೇಂದ್ರೀಕೃತಗೊಂಡಿವೆ.
- 3) ಪುನರ್ ರಫ್ತು ವ್ಯಾಪಾರಕ್ಕೆ ಉತ್ತಮ ಉದಾಹರಣೆ _____.
- 4) ಸಹಕಾರಿ ಸಂಘಗಳ ಸದಸ್ಯರ ಸಂಖ್ಯೆಯ ಕನಿಷ್ಠ ಮಿತಿ _____.
- 5) ಬಹುರಾಷ್ಟ್ರೀಯ ಕಂಪನಿಗಳು ಮೊದಲು ಪ್ರಾರಂಭವಾದದ್ದು _____.

II. ಕೆಳಗಿನ ಪ್ರಶ್ನೆಗಳಿಗೆ ಒಂದು ಪದ/ವಾಕ್ಯದಲ್ಲಿ ಉತ್ತರಿಸಿರಿ:

- 1) ಕರ್ನಾಟಕದ ಮೊದಲ ಸಹಕಾರಿ ಸಂಘ ಎಲ್ಲಿ ಆರಂಭವಾಯಿತು?
- 2) ವ್ಯಾಪಾರ ಎಂದರೇನು?
- 3) ಸಗಟು ವ್ಯಾಪಾರಿಗಳೆಂದರೆ ಯಾರು?

III. ಕೆಳಗಿನವುಗಳನ್ನು ಹೊಂದಿಸಿ ಬರೆಯಿರಿ:

- | | |
|----------------------|-----------------------------------|
| 'ಅ' ಪಟ್ಟಿ | 'ಬ' ಪಟ್ಟಿ |
| 1. ರಸ್ತೆ ವ್ಯಾಪಾರಿಗಳು | ಅ) ಗಣಿಗಾರಿಕೆ |
| 2. ಪುನರ್ ರಫ್ತು | ಆ) ಚಿಲ್ಲರೆ ವ್ಯಾಪಾರಿಗಳು |
| 3. ಪ್ರಾಥಮಿಕ ಉದ್ಯಮ | ಇ) ಕೃಷಿ ಉತ್ಪನ್ನಗಳ ಗುಣಮಟ್ಟ ಪರೀಕ್ಷೆ |
| 4. ಗೃಹ ಕೈಗಾರಿಕೆಗಳು | ಈ) ವಿದೇಶಿ ವ್ಯಾಪಾರ |
| 5. ಆರ್ಗಮಾರ್ಕ್ | ಉ) ಹಳ್ಳಿಗಳಲ್ಲಿ ಕೇಂದ್ರೀಕೃತ |

ಪಾಲುಗಾರಿಕೆ ಸಂಸ್ಥೆಯ ಅನುಕೂಲಗಳನ್ನು ತಿಳಿಸಿ:

ಬಹುರಾಷ್ಟ್ರೀಯ ಕಂಪನಿಗಳನ್ನು ಹೆಸರಿಸಿ:

ಪ್ರತ್ಯಮಸ್ತಕದ ಸಹಾಯದಿಂದ ಈ ಮಾಹಿತಿಯನ್ನು ಪೂರ್ಣಗೊಳಿಸಿರಿ:

ಸಹಕಾರಿ ಸಂಘಗಳ ವಿಧಗಳನ್ನು ಹೆಸರಿಸಿ.	ಬಹುರಾಷ್ಟ್ರೀಯ ಕಂಪನಿಗಳ ಲಕ್ಷಣಗಳನ್ನು ಪಟ್ಟಿ ಮಾಡಿ.

ಸೇತುಬಂಧ ಸಾಫಲ್ಯ ಪರೀಕ್ಷೆ

ತರಗತಿ: 9 ವಿದ್ಯಾರ್ಥಿಯ ಹೆಸರು:

ವಿಷಯ: ಸಮಾಜ ವಿಜ್ಞಾನ

ಕೆಳಗಿನ ಪ್ರಶ್ನೆಗಳಿಗೆ ಅಥವಾ ಅಪೂರ್ಣ ಹೇಳಿಕೆಗಳಿಗೆ ನಾಲ್ಕು ಆಯ್ಕೆಗಳನ್ನು ನೀಡಲಾಗಿದೆ. ಅವುಗಳಲ್ಲಿ ಸೂಕ್ತವಾದ ಉತ್ತರವನ್ನು ಆರಿಸಿ ಕ್ರಮಾಕ್ಷರದೊಂದಿಗೆ ಬರೆಯಿರಿ.

1A. ಈ ಕೆಳಗಿನವುಗಳಲ್ಲಿ ಕನ್ನಡದ ಮೊದಲ ಶಿಲಾ ಶಾಸನವೆಂದು ಕರೆಯಲ್ಪಡುವುದು.



- ತಾಳಗುಂದ ಶಾಸನ
- ಉತ್ತರ ಮೇರೂರು ಶಾಸನ
- ಹಲ್ಮಿಡಿ ಶಾಸನ
- ಚಂದ್ರಗಿರಿಯ ಶಾಸನ

ಉತ್ತರ:-

1B. ಮೌರ್ಯ ಸಾಮ್ರಾಜ್ಯದ ಬಗ್ಗೆ ಮಾಹಿತಿ ನೀಡುವ 'ಇಂಡಿಕಾ' ಗ್ರಂಥವನ್ನು ಬರೆದವನು.

- ಮೆಗಸ್ತನೀಸ್
- ಫಾಹಿಯಾನ
- ಅಲ್‌ಬೆರೂನಿ
- ಕೌಟಿಲ್ಯ

ಉತ್ತರ:-

2A. ಈ ಕೆಳಗೆ ನೀಡಲಾಗಿರುವ ನಾಲ್ಕು ವೇದಗಳಲ್ಲಿ ಅತ್ಯಂತ ಪುರಾತನವಾದ ವೇದವನ್ನು ಗುರುತಿಸಿ.

- ಋಗ್ವೇದ
- ಸಾಮವೇದ
- ಯಜುರ್ವೇದ
- ಅಥರ್ವಣ ವೇದ

ಉತ್ತರ:-

2B. ಈ ಕೆಳಗಿನ ಸ್ಮಾರಕವನ್ನು ಗಮನಿಸಿ, ಇದು ಯಾವ ನಾಗರಿಕತೆಗೆ ಸಂಬಂಧಿಸಿದೆ ಎಂಬುದನ್ನು ಗುರುತಿಸಿ.



- ಈಜಿಪ್ಟ್ ನಾಗರಿಕತೆ
- ಚೀನಾ ನಾಗರಿಕತೆ
- ಮೆಸಪಟೋಮಿಯಾ ನಾಗರಿಕತೆ
- ಹರಪ್ಪ ನಾಗರಿಕತೆ

ಉತ್ತರ:-

3A. ರಾಷ್ಟ್ರಕೂಟ ಸಾಮ್ರಾಜ್ಯದ ರಾಜಧಾನಿಯನ್ನು ಹೆಸರಿಸಿ.

- ವಾತಾಪಿ
- ಬನವಾಪಿ
- ಕಲ್ಯಾಣ
- ಮಾನ್ಯಖೇಟ

ಉತ್ತರ:-


3B. ಪ್ರಾಚೀನ ಭಾರತೀಯರ ಲೋಹ ತಂತ್ರಜ್ಞಾನದ ಪ್ರತೀಕವಾದ ಮೆರಾಲಿ ಕಬ್ಬಿಣ ಸ್ತಂಭವು ಇವರ ಕಾಲದ್ದಾಗಿದೆ.



- ಮೌರ್ಯರ ಕಾಲದ್ದು
- ಗುಪ್ತರ ಕಾಲದ್ದು
- ಕುಶಾನರ ಕಾಲದ್ದು
- ವರ್ಧನರ ಕಾಲದ್ದು

ಉತ್ತರ:-

4A. 'ರಾಜ್ಯಶಾಸ್ತ್ರದ ಪಿತಾಮಹ'ನೆಂದು ಕರೆಯಲ್ಪಡುವ ಗ್ರೀಕಿನ ಈ ಚಿಂತಕನನ್ನು ಹೆಸರಿಸಿ.



- ಅರಿಸ್ಟಾಟಲ್
- ಹೆರಡೋಟಸ್
- ಪ್ಲೇಟೋ
- ಸಾಕ್ರಟೀಸ್


ಉತ್ತರ:-

4B. ಭಾರತದಲ್ಲಿ ರಾಷ್ಟ್ರೀಯ ಮಾನವ ಹಕ್ಕುಗಳ ಆಯೋಗದ ಅಧ್ಯಕ್ಷರನ್ನು ನೇಮಿಸುವವರು

- ಪ್ರಧಾನಮಂತ್ರಿ
- ಸುಪ್ರೀಂ ಕೋರ್ಟ್‌ನ ನ್ಯಾಯಾಧೀಶರು
- ರಾಷ್ಟ್ರಪತಿ
- ಸಂಸತ್ತು

ಉತ್ತರ:-

5A. ಜರ್ಮನಿಯ ಪ್ರಸಿದ್ಧ ತತ್ವಜ್ಞಾನಿಯೆಂದು ಕರೆಯಲ್ಪಡುವ ಈ ಸಮಾಜಶಾಸ್ತ್ರಜ್ಞನನ್ನು ಗುರುತಿಸಿ.



- ಆಗಸ್ಟ್ ಕಾಮ್
- ಕಾರ್ಲ ಮಾರ್ಕ್ಸ್
- ಎಮಿಲಿ ಡರ್ಬಿನ್
- ಮ್ಯಾಕ್ಸ್ ವೆಬರ್

ಉತ್ತರ:-

5B. ಯಾಂತ್ರಿಕ ಉತ್ಪಾದನೆ ಈ ಸಮಾಜದ ಲಕ್ಷಣವಾಗಿದೆ.

- ಅಲೆಮಾರಿ ಸಮಾಜ
- ನಗರ ಸಮಾಜ
- ಕೈಗಾರಿಕಾ ಸಮಾಜ
- ಗ್ರಾಮೀಣ ಸಮಾಜ

ಉತ್ತರ:-

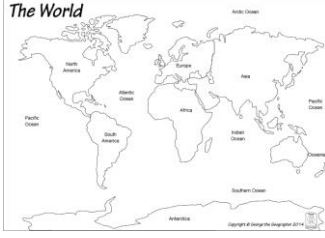
6A.ಭಾರತದ ಆದರ್ಶ ವೇಳೆಯನ್ನು ಈ ಕೆಳಗಿನ ಯಾವ ರೇಖಾಂಶದ ಆಧಾರದ ಮೇಲೆ ನಿರ್ಧರಿಸಲಾಗಿದೆ.

- 23½° ಪೂರ್ವ ರೇಖಾಂಶ
- 82½° ಪೂರ್ವ ರೇಖಾಂಶ
- 66½° ಪಶ್ಚಿಮ ರೇಖಾಂಶ
- 180° ಪಶ್ಚಿಮ ರೇಖಾಂಶ

ಉತ್ತರ:-

6B.ಪ್ರಪಂಚದ ಅತ್ಯಂತ ಚಿಕ್ಕ ಖಂಡವನ್ನು ಹೆಸರಿಸಿ ಮತ್ತು ನಕ್ಷೆಯಲ್ಲಿ ಅದಕ್ಕೆ ಬಣ್ಣ ತುಂಬಿ.

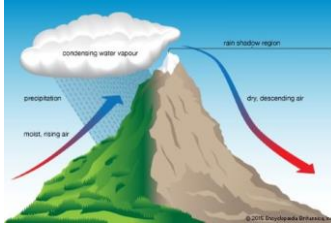
- ಏಷ್ಯಾ
- ಯುರೋಪ್
- ಆಸ್ಟ್ರೇಲಿಯಾ
- ಆಫ್ರಿಕಾ



ಉತ್ತರ:-

7A.ಈ ಕೆಳಗೆ ನೀಡಿರುವ ಚಿತ್ರವನ್ನು ಗಮನಿಸಿ ಮಳೆಯ ಪ್ರಕಾರವನ್ನು ಗುರುತಿಸಿ.

- ಪರ್ವತ ಮಳೆ
- ಪರಿಸರಣ ಮಳೆ
- ಆವರ್ತ ಮಳೆ
- ಪ್ರತ್ಯಾವರ್ತ ಮಳೆ



ಉತ್ತರ:-

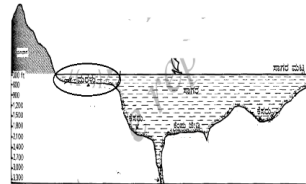
7B.ಈ ಕೆಳಗಿನ ಯಾವ ಶಿಲೆಗಳನ್ನು ಪ್ರಾಥಮಿಕ ಶಿಲೆಗಳೆಂತಲೂ ಕರೆಯುತ್ತಾರೆ.

- ಕಣಶಿಲೆ
- ಪದರಶಿಲೆ
- ಸ್ಪಟಿಕ ಶಿಲೆ
- ಅಗ್ನಿಶಿಲೆ

ಉತ್ತರ:-

8A. ಈ ಕೆಳಗಿನ ಸಮುದ್ರ ತಳದ ಮೇಲ್ಮೈ ಲಕ್ಷಣದ ಚಿತ್ರದಲ್ಲಿ ಗುರುತಿಸಲಾಗಿರುವ ಮೇಲ್ಮೈ ಲಕ್ಷಣವನ್ನು ಹೆಸರಿಸಿ.

- ಖಂಡವಾರಣ ಪ್ರದೇಶ
- ಖಂಡವಾರಣ ಇಳಿಜಾರು
- ಆಳಸಾಗರ ಮೈದಾನ
- ಸಾಗರ ತಗ್ಗುಗಳು



ಉತ್ತರ:-

8B.ಹಸಿರುಮನೆಯ ಪರಿಣಾಮವಾಗಿ ಇಂದು ಜಾಗತಿಕ ತಾಪಮಾನ

- ಹೆಚ್ಚಾಗುತ್ತಿದೆ.
- ಕಡಿಮೆಯಾಗುತ್ತಿದೆ.
- ನಿಯಂತ್ರಣದಲ್ಲಿದೆ.
- ಸಮತೋಲನ ಕಾಯ್ದುಕೊಂಡಿದೆ.

ಉತ್ತರ:-

9A.ಅರ್ಥಶಾಸ್ತ್ರ ಎಂಬ ಪ್ರಸಿದ್ಧ ಗ್ರಂಥವನ್ನು ರಚಿಸಿದ ಪ್ರಮುಖ ಚಿಂತಕನೆಂದರೆ.

- ಅರಿಸ್ಟಾಟಲ್
- ಆಡಂಸ್ಮಿತ್
- ಆಗಸ್ಟ್ ಕಾಮ್ಸ್
- ಕೌಟಿಲ್ಯ

ಉತ್ತರ:-

9B.ಉತ್ಪಾದನಾ ಕಾರ್ಯಕ್ಕೆ ಸಲ್ಲಿಸಿದ ಸೇವೆಗೆ ಬದಲಾಗಿ ಉತ್ಪಾದಕ ಗಳಿಸುವ ಪ್ರತಿಫಲವೇ

- ಗೇಣಿ
- ಕೂಲಿ
- ಬಡ್ಡಿ
- ಲಭ

ಉತ್ತರ:-

10A.ಈ ಕೆಳಗಿನ ಯಾವ ಪ್ರಕಾರದ ವ್ಯವಹಾರ ಸಂಘಟನೆಯು ಭಾರತದಲ್ಲಿ ಮಾತ್ರ ಕಂಡುಬರುತ್ತದೆ.

- ಪಾಲುದಾರಿಕೆ ಸಂಸ್ಥೆಗಳು
- ಹಿಂದೂ ಅವಿಭಕ್ತ ಕುಟುಂಬ ಸಂಸ್ಥೆಗಳು
- ಕೂಡು ಬಂಡವಾಳ ಸಂಸ್ಥೆಗಳು
- ಸಹಕಾರಿ ಸಂಘಗಳು

ಉತ್ತರ:-

10B.ಈ ಕೆಳಗಿನ ಚಿತ್ರವನ್ನು ಗಮನಿಸಿ, ಇದು ಯಾವ ಪ್ರಕಾರದ ಕೈಗಾರಿಕೆಯಾಗಿದೆ ಎಂಬುದನ್ನು ತಿಳಿಸಿ.

- ಬೃಹತ್ ಕೈಗಾರಿಕೆ
- ಸಣ್ಣ ಕೈಗಾರಿಕೆ
- ಗೃಹ ಕೈಗಾರಿಕೆ
- ಮಧ್ಯಮ ಕೈಗಾರಿಕೆ



ಉತ್ತರ:-



ಸರ್ಕಾರಿ ಪ್ರೌಢಶಾಲೆ, ರಾಮಘಟ್ಟ

ಹರಪನಹಳ್ಳಿ(ತಾ)

ವಿಜಯನಗರ (ಜಿ)



ತರಗತಿ

ಸೇತುಬಂಧ

ಕಾರ್ಯಕ್ರಮ

ಸಂತೋಷ್ ಕುಮಾರ್ .ಸಿ

ಸಹಶಿಕ್ಷಕರು (ಕಲಾ ಕನ್ನಡ)

ಸರ್ಕಾರಿ ಪ್ರೌಢಶಾಲೆ, ರಾಮಘಟ್ಟ

ಹರಪನಹಳ್ಳಿ(ತಾ) ವಿಜಯನಗರ (ಜಿ)



ಋನಾದಿ ಸಾಮರ್ಥ್ಯಗಳು

10ನೇ ತರಗತಿ

ಸಮಾಜ ವಿಜ್ಞಾನ

- 1) ಅನ್ಯಧರ್ಮಗಳು, ಭಾರತದ ಮತಪ್ರವರ್ತಕರು ಮತ್ತು ಭಕ್ತಿಪಂಥದ ಪರಿಚಯ
- 2) ಮಧ್ಯಯುಗದಲ್ಲಿ ಭಾರತವನ್ನಾಳಿದ ವಿವಿಧ ರಾಜಮನೆತನಗಳು
- 3) ಮಧ್ಯಯುಗೀನ ಮತ್ತು ಆಧುನಿಕ ಯುರೋಪ್ ಹಾಗೂ ಕ್ರಾಂತಿಗಳು
- 4) ಭಾರತ ಸಂವಿಧಾನ, ಕೇಂದ್ರ ಮತ್ತು ರಾಜ್ಯ ಸರ್ಕಾರಗಳು
- 5) ಸಾಂವಿಧಾನಿಕ ಸಂಸ್ಥೆಗಳು, ರಾಷ್ಟ್ರೀಯ ಭದ್ರತೆ ಮತ್ತು ಭಾವೈಕ್ಯತೆ
- 6) ಕುಟುಂಬ, ಸಾಮಾಜಿಕರಣ ಹಾಗೂ ಸಮುದಾಯ
- 7) ಕರ್ನಾಟಕದ ಭೌಗೋಳಿಕ ಹಿನ್ನೆಲೆ, ವಾಯುಗುಣ ಮತ್ತು ಪ್ರಾಕೃತಿಕ ಸಂಪತ್ತು
- 8) ಕರ್ನಾಟಕದ ಸಾರಿಗೆ, ಕೈಗಾರಿಕೆ ಮತ್ತು ಪ್ರವಾಸೋದ್ಯಮ ಹಾಗೂ ಜನಸಂಖ್ಯೆ
- 9) ಆರ್ಥಿಕ ರಚನೆ ಮತ್ತು ವಲಯಗಳು ಹಾಗೂ ಹಣ, ಶ್ರಮ ಮತ್ತು ಉದ್ಯೋಗ
- 10) ವ್ಯವಹಾರ ನಿರ್ವಹಣೆ ಮತ್ತು ಮಾರುಕಟ್ಟೆ ನಿರ್ವಹಣೆ


ಸೇತುಬಂಧ ನೈದಾನಿಕ ಪರೀಕ್ಷೆ

ತರಗತಿ: 10 ವಿದ್ಯಾರ್ಥಿಯ ಹೆಸರು:

ವಿಷಯ: ಸಮಾಜ ವಿಜ್ಞಾನ

ಕೆಳಗಿನ ಪ್ರಶ್ನೆಗಳಿಗೆ ಅಥವಾ ಅಪೂರ್ಣ ಹೇಳಿಕೆಗಳಿಗೆ ನಾಲ್ಕು ಆಯ್ಕೆಗಳನ್ನು ನೀಡಲಾಗಿದೆ. ಅವುಗಳಲ್ಲಿ ಸೂಕ್ತವಾದ ಉತ್ತರವನ್ನು ಆರಿಸಿ ಕ್ರಮಾಕ್ಷರದೊಂದಿಗೆ ಬರೆಯಿರಿ.

1A. ಈ ಕೆಳಗಿನ ಚಿತ್ರದಲ್ಲಿರುವ ಭಕ್ತಿ ಪಂಥದ ಸಂತನನ್ನು ಗುರುತಿಸಿ.



- ಎ) ರಾಮಾನುಜಾಚಾರ್ಯರು
- ಬಿ) ಕಬೀರರು
- ಸಿ) ಗುರುನಾನಕ್
- ಡಿ) ಬಸವೇಶ್ವರರು

ಉತ್ತರ:- _____

1B. ಕ್ರೈಸ್ತ ಧರ್ಮೀಯರ ಪವಿತ್ರ ಗ್ರಂಥ

- ಎ) ಬೈಬಲ್
- ಬಿ) ಕುರಾನ್
- ಸಿ) ಗ್ರಂಥ ಸಾಹೇಬ್
- ಡಿ) ಕಿತಾಬಲ್ ಹಿಂದ್

ಉತ್ತರ:- _____

2A. ದೆಹಲಿಯನ್ನು ಆಳಿದ ದೆಹಲಿ ಸುಲ್ತಾನರ ಮೊದಲ ಮನೆತನ

- ಎ) ಗುಲಾಮಿ ಸಂತತಿ
- ಬಿ) ಖಿಲ್ಜಿ ಸಂತತಿ
- ಸಿ) ತುಘಲಕ್ ಸಂತತಿ
- ಡಿ) ಸೈಯದ್ ಸಂತತಿ

ಉತ್ತರ:- _____

2B. ಭಾರತವನ್ನಾಳಿದ ಈ ಪ್ರಸಿದ್ಧ ದೊರೆಯನ್ನು ಹೆಸರಿಸಿ.

- ಎ) ಅಲ್ಲಾವುದ್ದೀನ್ ಖಿಲ್ಜಿ
- ಬಿ) ಅಕ್ಬರ್ ಮಹಾಶಯ
- ಸಿ) ಮಹಮದ್ ಬಿನ್ ತುಘಲಕ್
- ಡಿ) ಪೃಥ್ವಿರಾಜ್ ಚೌಹಾನ್



ಉತ್ತರ:- _____

3A. ಹತ್ತಿಬಟ್ಟೆ ಕೈಗಾರಿಕೆಯಲ್ಲಿ ಕ್ರಾಂತಿಯನ್ನುಂಟು ಮಾಡಿದ ಈ ಯಂತ್ರವನ್ನು ಗುರುತಿಸಿ.

- ಎ) ಸ್ಪೀಮ್ ಎಂಜಿನ್
- ಬಿ) ಮ್ಯೂಲ್
- ಸಿ) ಸ್ಪಿನ್ನಿಂಗ್ ಚೆನ್ನಿ
- ಡಿ) ಪವರ್ ಲೂಮ್



ಉತ್ತರ:- _____

3B. ಜರ್ಮನಿಯ ಏಕೀಕರಣಕ್ಕಾಗಿ 'ರಕ್ತ & ಕಬ್ಬಿಣ' ನೀತಿಯನ್ನು ಪ್ರತಿಪಾದಿಸಿದವನು.

- ಎ) ಬಿಸ್ಮಾರ್ಕ್
- ಬಿ) ಗ್ಯಾರಿಬಾಲ್ಡಿ
- ಸಿ) ಮ್ಯಾಜಿನಿ
- ಡಿ) ಕೌಂಟ್ ಕವೂರ್

ಉತ್ತರ:- _____

4A. ಇವುಗಳಲ್ಲಿ ಯಾವುದು ಭಾರತ ಸಂವಿಧಾನದ ಲಕ್ಷಣವಲ್ಲ

- ಎ) ಲಿಖಿತ ಮತ್ತು ಬೃಹತ್ ಸಂವಿಧಾನ
- ಬಿ) ಸಂಸದೀಯ ಸರ್ಕಾರ ಪದ್ಧತಿ
- ಸಿ) ದ್ವಿಸದನ ಶಾಸಕಾಂಗ
- ಡಿ) ದ್ವಿ ಪೌರತ್ವ

ಉತ್ತರ:- _____

4B. ಇವರು ಭಾರತದ ಪ್ರಸ್ತುತ ರಾಷ್ಟ್ರಪತಿಗಳು

- ಎ) ದ್ರೌಪದಿ ಮುರ್ಮು
- ಬಿ) ಸೋನಿಯಾ ಗಾಂಧಿ
- ಸಿ) ಮಮತಾ ಬ್ಯಾನರ್ಜಿ
- ಡಿ) ಉಮಾ ಭಾರತಿ



ಉತ್ತರ:- _____

5A. ಭಾರತದಲ್ಲಿ ರಾಜಕೀಯ ಪಕ್ಷಗಳಿಗೆ ಮಾನ್ಯತೆ ನೀಡುವುದು.

- ಎ) ರಾಷ್ಟ್ರಪತಿ
- ಬಿ) ಚುನಾವಣಾ ಆಯೋಗ
- ಸಿ) ಸಂಸತ್ತು
- ಡಿ) ಸುಪ್ರೀಂ ಕೋರ್ಟ್

ಉತ್ತರ:- _____

5B. ಈ ಸಂಸ್ಥೆಯು ಶಾಲಾ ಕಾಲೇಜು ಹಂತದಲ್ಲಿ ಮಕ್ಕಳಿಗೆ ಸೇನೆಗೆ ಸೇರಲು ಬೇಕಾದ ಅಗತ್ಯ ತರಬೇತಿಯನ್ನು ನೀಡುತ್ತದೆ.

- ಎ) ಗೃಹ ರಕ್ಷಕ ದಳ
- ಬಿ) ಎನ್.ಸಿ.ಸಿ
- ಸಿ) ಗಡಿ ಭದ್ರತಾ ದಳ
- ಡಿ) ಕರಾವಳಿ ಪಹರೆ

ಉತ್ತರ:- _____

6A. ಸಾಮಾನ್ಯವಾಗಿ ಸಾಮಾಜಿಕರಣ ಪ್ರಕ್ರಿಯೆಯು ಮೊದಲ ಪ್ರಾರಂಭವಾಗುವುದು.

- ಎ) ಕುಟುಂಬದಲ್ಲಿ
- ಬಿ) ಸಮವಯಸ್ಕರ ಗುಂಪಿನಲ್ಲಿ
- ಸಿ) ಶಾಲೆಯಲ್ಲಿ
- ಡಿ) ನೆರೆಹೊರೆಯಲ್ಲಿ

ಉತ್ತರ:-_____

6B. ಈ ಕೆಳಗಿನವುಗಳಲ್ಲಿ ಬುಡಕಟ್ಟು ಸಮುದ್ರಾಯದ ಅತ್ಯಂತ ಪ್ರಮುಖ ಲಕ್ಷಣವೆಂದರೆ

- ಎ) ಆಧುನಿಕತೆಯ ಒಲವು
- ಬಿ) ಸದಸ್ಯರಿಗೆ ಹೆಚ್ಚಿನ ಸ್ವಾತಂತ್ರ್ಯ
- ಸಿ) ಒಳಬಾಂಧವ್ಯ ವಿವಾಹ
- ಡಿ) ಸಾಂಸ್ಕೃತಿಕ ಬಹುತ್ವ

ಉತ್ತರ:-_____

7A. ಕೊಡಗನ್ನು 'ಕರ್ನಾಟಕದ ಕಾಶ್ಮೀರ' ಎಂದು ಕರೆಯಲು ಕಾರಣ ಕೊಡಗಿನಲ್ಲಿ

- ಎ) ತಂಪಾದ ವಾತಾವರಣವಿರುತ್ತದೆ.
- ಬಿ) ಕಿತ್ತಳೆ ಹಣ್ಣನ್ನು ಹೆಚ್ಚಾಗಿ ಬೆಳೆಯುತ್ತಾರೆ.
- ಸಿ) ಹಿಮ ವೃಷ್ಟಿಯಾಗುತ್ತದೆ.
- ಡಿ) ಕಾಫಿಯನ್ನು ಹೆಚ್ಚಾಗಿ ಬೆಳೆಯುತ್ತಾರೆ.

ಉತ್ತರ:-_____

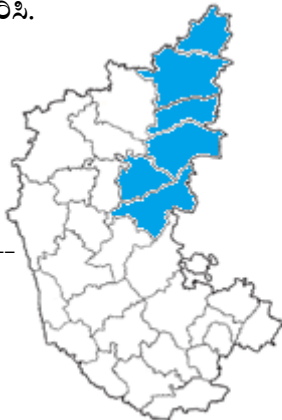
7B. ಕರ್ನಾಟಕದಲ್ಲಿ ಚಳಿಗಾಲದ ಅವಧಿಯಲ್ಲಿ ಅತ್ಯಂತ ಕಡಿಮೆ ಉಷ್ಣಾಂಶ ದಾಖಲಾಗುವ ಜಿಲ್ಲೆ

- ಎ) ಬೆಂಗಳೂರು ನಗರ
- ಬಿ) ಕಲ್ಬುರ್ಗಿ
- ಸಿ) ದಕ್ಷಿಣ ಕನ್ನಡ
- ಡಿ) ಬೆಳಗಾವಿ

ಉತ್ತರ:-_____

8A. ಈ ಕೆಳಗಿನ ಕರ್ನಾಟಕ ನಕ್ಷೆಯಲ್ಲಿ ಬಣ್ಣ ತುಂಬಿರುವ ಆಡಳಿತಾತ್ಮಕ ವಿಭಾವವನ್ನು ಹೆಸರಿಸಿ.

- ಎ) ಬೆಂಗಳೂರು
- ಬಿ) ಕಲ್ಬುರ್ಗಿ
- ಸಿ) ಮೈಸೂರು
- ಡಿ) ಬೆಳಗಾವಿ



ಉತ್ತರ:-_____

8B. ಕರ್ನಾಟಕದಲ್ಲಿ ಅತಿಹೆಚ್ಚು ಸಾಕ್ಷರತೆಯನ್ನು ಹೊಂದಿರುವ ಜಿಲ್ಲೆಯನ್ನು ಹೆಸರಿಸಿ.

- ಎ) ಬೆಂಗಳೂರು ನಗರ
- ಬಿ) ಕಲ್ಬುರ್ಗಿ
- ಸಿ) ದಕ್ಷಿಣ ಕನ್ನಡ
- ಡಿ) ಬೆಳಗಾವಿ

ಉತ್ತರ:-_____

9A. ಕರ್ನಾಟಕ ಸರ್ಕಾರವು "ಯಶಸ್ವಿನಿ ಯೋಜನೆ"ಯನ್ನು ಜಾರಿಗೆ ತಂದಿರುವ ಉದ್ದೇಶ

- ಎ) ಬಡವರಿಗೆ ಆರೋಗ್ಯ ಸೇವೆ ಒದಗಿಸುವುದು.
- ಬಿ) ಬಡವರಿಗೆ ವಸತಿ ಸೌಲಭ್ಯ ಒದಗಿಸುವುದು.
- ಸಿ) ನಿರುದ್ಯೋಗಿಗಳಿಗೆ ಉದ್ಯೋಗ ಒದಗಿಸುವುದು.
- ಡಿ) ವೃದ್ಧರಿಗೆ ಪಿಂಚಣಿ ಸೌಲಭ್ಯ ಒದಗಿಸುವುದು.

ಉತ್ತರ:-_____

9B. ಈ ಕೆಳಗಿನವುಗಳಲ್ಲಿ "ಬ್ಯಾಂಕುಗಳ ಬ್ಯಾಂಕು" ಎಂದು ಕರೆಯಲ್ಪಡುವುದು.

- ಎ) ಸ್ಟೇಟ್ ಬ್ಯಾಂಕ್ ಆಫ್ ಇಂಡಿಯಾ
- ಬಿ) ಇಂಡಿಯನ್ ಬ್ಯಾಂಕ್
- ಸಿ) ನಬಾರ್ಡ್ ಬ್ಯಾಂಕ್
- ಡಿ) ರಿಸರ್ವ್ ಬ್ಯಾಂಕ್ ಆಫ್ ಇಂಡಿಯಾ

ಉತ್ತರ:-_____

10A. ನಿರ್ವಹಣೆ ಎಂಬುದು ಬೇರೆಯವರಿಂದ ಕೆಲಸ ಮಾಡಿಸುವ ಕಲೆ' ಎಂದವರು

- ಎ) ಜಿ.ಎಲ್ ಹೇನ್ಸ್
- ಬಿ) ಜಾರ್ಜ್ ಆರ್ ಟೆರಿ
- ಸಿ) ಹೆನ್ರಿ ಫೆಯೋಲ್
- ಡಿ) ಗುಟಮನ್ ಮತ್ತು ಡಾಗಲ್

ಉತ್ತರ:-_____

10B. ಈ ಮಾರುಕಟ್ಟೆಯಲ್ಲಿ ಉತ್ಪಾದಕರು ತಮ್ಮ ಸರಕುಗಳನ್ನು ಸಗಟು ವ್ಯಾಪಾರಿಗಳಿಗೆ ಮಾರುತ್ತಾರೆ.

- ಎ) ಪ್ರಾಥಮಿಕ ಮಾರುಕಟ್ಟೆ
- ಬಿ) ದ್ವಿತೀಯ ಮಾರುಕಟ್ಟೆ
- ಸಿ) ಅಂತಿಮ ಮಾರುಕಟ್ಟೆ
- ಡಿ) ಗ್ರಾಹಕ ಮಾರುಕಟ್ಟೆ

ಉತ್ತರ:-_____

ಸೇತುಬಂಧ ಅಭ್ಯಾಸದ ಹಾಳೆ - 01

(ಸಾಮರ್ಥ್ಯ:-1 ಅನ್ಯಧರ್ಮಗಳು, ಭಾರತದ ಮತಪ್ರವರ್ತಕರು ಮತ್ತು ಭಕ್ತಿಪಂಥದ ಪರಿಚಯ)

ತರಗತಿ: 10 ವಿದ್ಯಾರ್ಥಿಯ ಹೆಸರು:

ವಿಷಯ: ಸಮಾಜ ವಿಜ್ಞಾನ

I. ಕೆಳಗಿನ ಬಿಟ್ಟಿರುವ ಸ್ಥಳಗಳನ್ನು ಸರಿಯಾದ ಪದಗಳಿಂದ ತುಂಬಿರಿ:

- 1) ಏಸುಕ್ರಿಸ್ತರು ಹುಟ್ಟಿದ ಸ್ಥಳ _____ .
- 2) ಮೊಹಮ್ಮದ್ ಪೈಗಂಬರರ ಉತ್ತರಾಧಿಕಾರಿಗಳನ್ನು _____ ಎನ್ನುವರು.
- 3) ಮೊಹಮ್ಮದ್ ಪೈಗಂಬರರು ಹುಟ್ಟಿದ ಸ್ಥಳ _____ .
- 4) ಜಗತ್ತು ಮಾಯೆ, ಬ್ರಹ್ಮ ಮಾತ್ರ ಸತ್ಯ ಎಂದು ಪ್ರತಿಪಾದಿಸಿದವರು _____ .
- 5) ರಮಾನಂದರ ಶಿಷ್ಯರಲ್ಲಿ ಪ್ರಸಿದ್ಧರಾದವರು _____ .
- 6) ಕಬೀರರ ಅನುಯಾಯಿಗಳನ್ನು _____ ಎಂದು ಕರೆಯುತ್ತಾರೆ.
- 7) ಭಕ್ತಿ ಎಂದರೆ ದೇವರಲ್ಲಿ ಶುದ್ಧ _____ .

II. ಕೆಳಗಿನವುಗಳನ್ನು ಹೊಂದಿಸಿ ಬರೆಯಿರಿ:

'ಅ' ಪಟ್ಟಿ




'ಬ' ಪಟ್ಟಿ

- | | |
|------------------|---------------------|
| 1. ಚೈತನ್ಯರು | ಎ. ದೋಹೆ |
| 2. ಮಹಮದ್ ಪೈಗಂಬರ್ | ಬಿ. ಮೋಹನ ತರಂಗಿಣಿ |
| 3. ಕನಕದಾಸರು | ಸಿ. ಹಿಜಿರಾ |
| 4. ಕಬೀರರು | ಡಿ. ಚೈತನ್ಯ ಚರಿತಾಮೃತ |

ನಾನ್ಯಾರು ಬಲ್ಲಿರಾ?
ಪುಸ್ತಕ ನೋಡಿ ಹೆಸರಿಸಿ.



ಈ ಮತ ಪ್ರವರ್ತಕರನ್ನು ಗುರುತಿಸಿ, ಪೂರಕ ಮಾಹಿತಿ ತುಂಬಿರಿ:

ಅಗತ್ಯ ಮಾಹಿತಿ			
ಹೆಸರು			
ಸಿದ್ಧಾಂತ			
ಗ್ರಂಥಗಳು (2ಮಾತ್ರ)			

ಪಠ್ಯಪುಸ್ತಕವನ್ನು ಅವಲೋಕಿಸಿ ಈ ಕೆಳಗಿನ ಮಾಹಿತಿಯನ್ನು ಪೂರ್ಣಗೊಳಿಸಿರಿ:

ಧರ್ಮ	ಸ್ಥಾಪಕರು	ಪವಿತ್ರ ಗ್ರಂಥ	ನಿಮಗಿಷ್ಟವೆನಿಸಿದ ಅವರ ಒಂದು ಬೋಧನೆ
ಕ್ರೈಸ್ತಧರ್ಮ			
ಇಸ್ಲಾಂ ಧರ್ಮ			
ಸಿಖ್ ಧರ್ಮ			

ಸೇತುಬಂಧ ಅಭ್ಯಾಸದ ಹಾಳೆ - 02

(ಸಾಮರ್ಥ್ಯ:-2 ಮಧ್ಯಯುಗದಲ್ಲಿ ಭಾರತವನ್ನಾಳಿದ ವಿವಿಧ ರಾಜಮನೆತನಗಳು)

ತರಗತಿ: 10 ವಿದ್ಯಾರ್ಥಿಯ ಹೆಸರು:

ವಿಷಯ: ಸಮಾಜ ವಿಜ್ಞಾನ

ನಾನು ಯಾರು?
ಪುಸ್ತಕ ನೋಡಿ ಹೆಸರಿಸಿ.



I. ಕೆಳಗಿನವುಗಳನ್ನು ಹೊಂದಿಸಿ ಬರೆಯಿರಿ:

'ಅ' ಪಟ್ಟಿ

'ಬ' ಪಟ್ಟಿ

- | | |
|--------------------|-------------------|
| 1. ಪೃಥ್ವಿರಾಜ್ ರಾಸೋ | ಎ. ಅಲ್‌ಬೆರೂನಿ |
| 2. ಕಿತಾಬುಲ್ ಹಿಂದ್ | ಬಿ. ಅಬುಲ್ ಫಜಲ್ |
| 3. ಗದುಗಿನ ಭಾರತ | ಸಿ. ಚಾಂದ್ ಬರ್ಧಾಯಿ |
| 4. ಐನ್ ಇ ಅಕ್ಬರಿ | ಡಿ. ಕುಮಾರ ವ್ಯಾಸ |

II. ಕೆಳಗಿನ ಬಿಟ್ಟಿರುವ ಸ್ಥಳಗಳನ್ನು ಸರಿಯಾದ ಪದಗಳಿಂದ ತುಂಬಿ:

- 1) ವಿಜಯನಗರ ಸಾಮ್ರಾಜ್ಯ ಸ್ಥಾಪನೆಯಾದ ವರ್ಷ _____.
- 2) ಬೀದರಿನಲ್ಲಿ ಮದರಸವನ್ನು ಕಟ್ಟಿಸಿದವನು _____.
- 3) ಶಿವಾಜಿಯ ತಾಯಿ ಹೆಸರು _____.
- 4) ಖಿಲ್ಜಿ ವಂಶದ ಪ್ರಸಿದ್ಧ ಸುಲ್ತಾನ _____.

III. ಕೆಳಗಿನ ಪ್ರಶ್ನೆಗಳಿಗೆ ಒಂದು ಪದ/ವಾಕ್ಯದಲ್ಲಿ ಉತ್ತರಿಸಿ:

- 1) ದೆಹಲಿ ಸುಲ್ತಾನರಲ್ಲಿ ಅಲ್ಪಕೆ ಮಾಡಿದ ಪ್ರಥಮ ಮಹಿಳೆ ಯಾರು?
- 2) ಅಮುಕ್ತ ಮಾಲ್ಯದ ಕೃತಿಯನ್ನು ರಚಿಸಿದ ದೊರೆ ಯಾರು?
- 3) 2ನೇ ಶಿವಾಜಿ ಎಂದು ಖ್ಯಾತನಾದವನು ಯಾರು?

ವಿಜಯನಗರವನ್ನಾಳಿದ 4 ರಾಜ ಮನೆತನಗಳನ್ನು ಹೆಸರಿಸಿ:

- 1.
- 2.
- 3.
- 4.

ದೆಹಲಿ ಅಳಿದ ದೆಹಲಿ ಸುಲ್ತಾನರ 5 ಸಂತತಿಗಳು

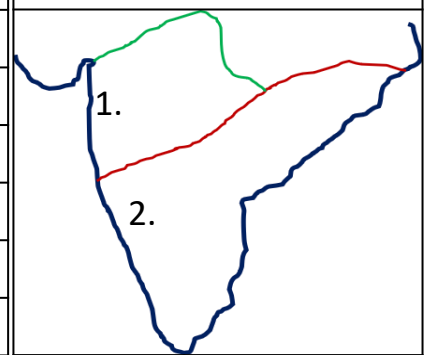
- 1.
- 2.
- 3.
- 4.
- 5.

ಮರಾಠ ಪೇಶ್ವೆಗಳನ್ನು ಹೆಸರಿಸಿ:

ಪಠ್ಯಪುಸ್ತಕ ಅವಲೋಕಿಸಿ ಈ ಕೆಳಗಿನ ಮಾಹಿತಿಯನ್ನು ಸಂಗ್ರಹಿಸಿ:

ರಾಜಮನೆತನ	ಸ್ಥಾಪಕರು	ರಾಜಧಾನಿ	ಪ್ರಸಿದ್ಧ ದೊರೆ
ಗುರ್ಜರ ಪ್ರತಿಹಾರ			
ಪರಮಾರ			
ವಿಜಯನಗರ			
ಬಹುಮನಿ			
ಮೊಘಲರು			

ಈ ಸಾಮ್ರಾಜ್ಯಗಳನ್ನು ಹೆಸರಿಸಿ:



ಪಠ್ಯಪುಸ್ತಕ ಅವಲೋಕಿಸಿ ಈ ಕೆಳಗಿನ ಐತಿಹಾಸಿಕ ಸ್ಮಾರಕಗಳನ್ನು ಹೆಸರಿಸಿ:




ಸೇತುಬಂಧ ಅಭ್ಯಾಸದ ಹಾಳೆ - 03

ಸಾಮರ್ಥ್ಯ:-3 ಮಧ್ಯಯುಗೀನ ಮತ್ತು ಆಧುನಿಕ ಯುರೋಪ್ ಹಾಗೂ ಕ್ರಾಂತಿಗಳು


ತರಗತಿ: 10 ವಿದ್ಯಾರ್ಥಿಯ ಹೆಸರು:

ವಿಷಯ: ಸಮಾಜ ವಿಜ್ಞಾನ

ನಾನು ಯಾರು?
ಪುಸ್ತಕ ನೋಡಿ ಹೆಸರಿಸಿ.








I. ಕೆಳಗಿನವುಗಳನ್ನು ಹೊಂದಿಸಿ ಬರೆಯಿರಿ:

- | | |
|------------------------|--------------------|
| 'ಅ' ಪಟ್ಟಿ | 'ಬ' ಪಟ್ಟಿ |
| 1. ಲಿಯೋನಾರ್ಡ್-ಡೆ-ವಿಂಚಿ | ಎ. ಆವಿಯ ಯಂತ್ರ |
| 2. ಡಾಂಟೆ | ಬಿ. ಮೊನಾಲಿಸಾ |
| 3. ಥಾಮಸ್ ಮ್ಯಾಕೋಮೆಸ್ | ಸಿ. ಸಾಮಾಜಿಕ ಒಪ್ಪಂದ |
| 4. ರೂಸೋ | ಡಿ. ಡಿವೈನ್ ಕಾಮಿಡಿ |

II. ಕೆಳಗಿನ ಬಿಟ್ಟಿರುವ ಸ್ಥಳಗಳನ್ನು ಸರಿಯಾದ ಪದಗಳಿಂದ ತುಂಬಿ:

- 1) ಅಮೆರಿಕ ಸ್ವಾತಂತ್ರ ಘೋಷಣೆ ಆದದ್ದು _____ರಂದು.
- 2) 'ತರುಣ ಇಟಲಿ' ಎಂಬ ಪಕ್ಷವನ್ನು ಕಟ್ಟಿದವನು _____.
- 3) ರಿನ್ಯೆಜಾನ್ಸ್ ಎಂದರೆ _____.
- 4) ಮಾರ್ಟಿನ್ ಲೂಥರ್‌ನ ಅನುಯಾಯಿಗಳು _____.

III. ಕೆಳಗಿನ ಪ್ರಶ್ನೆಗಳಿಗೆ ಒಂದು ಪದ/ವಾಕ್ಯದಲ್ಲಿ ಉತ್ತರಿಸಿ:

- 1) ಪ್ರತಿ ಸುಧಾರಣಾ ಚಳುವಳಿಯ ನಾಯಕ ಯಾರು?
- 2) ಪುನರುಜ್ಜೀವನದ ಜನಕ ಯಾರು?
- 3) 'ರಕ್ತ ಮತ್ತು ಕಬ್ಬಿಣ' ತತ್ವವನ್ನು ಪ್ರತಿಪಾದಿಸಿದವನು?



ಈ ಮಾಹಿತಿಯನ್ನು ಪೂರ್ಣಗೊಳಿಸಿ:

ಭೂ ಅನ್ವೇಷಕರು	ಭೂ ಅನ್ವೇಷಣೆಗಳು
ವಾಸ್ಕೋಡೆಗಾಮ	
ಕೊಲಂಬಸ್	
ಕಬ್ರಾಲ್	
ಬಲ್ಗೋವ	
ಮೆಗಲನ್	

ಈ ಯುರೋಪಿನ ನಕ್ಷೆಯಲ್ಲಿ ಈ ಕೆಳಗಿನ ದೇಶಗಳನ್ನು ಗುರುತಿಸಿ.(ಸಂಖ್ಯೆ ನಮೂದಿಸಿ):

1. ಇಟಲಿ, 2. ಫ್ರಾನ್ಸ್, 3. ಇಂಗ್ಲೆಂಡ್, 4. ಸ್ವೀಡನ್,
5. ಜರ್ಮನಿ, 6. ಪೋರ್ಚುಗಲ್.

ಈ ಕೆಳಗಿನ ವೈಜ್ಞಾನಿಕ ಸಲಕರಣೆಗಳನ್ನು ಹೆಸರಿಸಿ:



ಪುನರುಜ್ಜೀವನ ಕಾಲದ 4 ವರ್ಣಚಿತ್ರಗಳನ್ನು ತಿಳಿಸಿ:

ಸೇತುಬಂಧ ಅಭ್ಯಾಸದ ಹಾಳೆ - 04

ಸಾಮರ್ಥ್ಯ:-4 ಭಾರತ ಸಂವಿಧಾನ, ಕೇಂದ್ರ ಮತ್ತು ರಾಜ್ಯ ಸರ್ಕಾರಗಳು

ತರಗತಿ: 10 ವಿದ್ಯಾರ್ಥಿಯ ಹೆಸರು:

ವಿಷಯ: ಸಮಾಜ ವಿಜ್ಞಾನ

ಭಾರತ ಸಂವಿಧಾನದ ಲಕ್ಷಣಗಳನ್ನು ಬರೆಯಿರಿ:	

1. ಕೆಳಗಿನ ಬಿಟ್ಟಿರುವ ಸ್ಥಳಗಳನ್ನು ಸರಿಯಾದ ಪದಗಳಿಂದ ತುಂಬಿ:
 - 1) ರಾಜ್ಯವನ್ನಾಳುವ ಮೂಲ ಕಾನೂನೇ _____.
 - 2) ಭಾರತದ ಸಂವಿಧಾನದ ಶಿಲ್ಪಿ _____.
 - 3) ಮೂರು ಸೇನಾಪಡೆಗಳ ಮಹಾ ದಂಡನಾಯಕ _____.
 - 4) ಭಾರತವು _____ಗಳ ಒಕ್ಕೂಟವಾಗಿದೆ.
 - 5) ಸಂವಿಧಾನದ ಒಡವೆ ಎನಿಸಿರುವುದು _____.
 - 6) ಪ್ರಸ್ತುತ ನಿಮ್ಮ ಕ್ಷೇತ್ರದ ಶಾಸಕರು _____.
 - 7) ಸಂವಿಧಾನದ ಆತ್ಮ & ಹೃದಯ ಎನಿಸಿರುವುದು _____.
- II. ಕೆಳಗಿನ ಪ್ರಶ್ನೆಗಳಿಗೆ ಒಂದು ಪದ/ವಾಕ್ಯದಲ್ಲಿ ಉತ್ತರಿಸಿ:
 - 1) ಸಂವಿಧಾನ ರಚನಾ ಸಭೆಯ ಅಧ್ಯಕ್ಷರು ಯಾರು?
 - 2) ಭಾರತ ಸಂವಿಧಾನದ ಕರಡು ಸಮಿತಿಯ ಅಧ್ಯಕ್ಷರು ಯಾರು?
 - 3) ಕರ್ನಾಟಕ ವಿಧಾನಸಭೆಯ ಒಟ್ಟು ಸದಸ್ಯರ ಸಂಖ್ಯೆ ಎಷ್ಟು?
 - 4) ಭಾರತ ಸಂವಿಧಾನವು ಜಾರಿಗೆ ಬಂದಿದ್ದು ಎಷ್ಟರಲ್ಲಿ?

ನಾನು ಯಾರು?
ಪುಸ್ತಕ ನೋಡಿ ಹೆಸರಿಸಿ.








ಈ ಮಾಹಿತಿ ಪೂರ್ಣಗೊಳಿಸಿ:	
ಹುದ್ದೆ	ಕನಿಷ್ಠ ಮಯೋಮಿತಿ
ರಾಷ್ಟ್ರಪತಿ	
ರಾಜ್ಯಸಭೆ ಸದಸ್ಯ	
ಲೋಕಸಭೆ ಸದಸ್ಯ	
ರಾಜ್ಯಪಾಲ	
ವಿಧಾನ ಸಭೆ ಸದಸ್ಯ	
ವಿಧಾನ ಪರಿಷತ್ ಸದಸ್ಯ	

ಪುಸ್ತಕ ನೋಡಿ ಮಾಹಿತಿ ನೀಡಿ:		
ಸರ್ಕಾರದ 3 ಅಂಗಗಳು		
1	2	3
ಕೇಂದ್ರ ಶಾಸಕಾಂಗ(ಸಂಸತ್ತು)ದ 2 ಸದನಗಳು		
1	2	
ರಾಜ್ಯ ಶಾಸಕಾಂಗದ 2 ಸದನಗಳು		
1	2	

6 ಮೂಲಭೂತ ಹಕ್ಕುಗಳನ್ನು ಹೆಸರಿಸಿ:

ಈ ಕೆಳಗಿನ ಕಟ್ಟಡಗಳನ್ನು ಗುರುತಿಸಿ:





ಸೇತುಬಂಧ ಅಭ್ಯಾಸದ ಹಾಳೆ - 05

ಸಾಮರ್ಥ್ಯ:-5 ಸಾಂವಿಧಾನಿಕ ಸಂಸ್ಥೆಗಳು, ರಾಷ್ಟ್ರೀಯ ಭದ್ರತೆ ಮತ್ತು ಭಾವೈಕ್ಯತೆ

ತರಗತಿ: 10 ವಿದ್ಯಾರ್ಥಿಯ ಹೆಸರು:

ವಿಷಯ: ಸಮಾಜ ವಿಜ್ಞಾನ

ಚುನಾವಣಾ ಪ್ರಕ್ರಿಯೆಯ ಹಂತಗಳನ್ನು ತಿಳಿಸಿ:

- I. ಕೆಳಗಿನ ಬಿಟ್ಟಿರುವ ಸ್ಥಳಗಳನ್ನು ಸರಿಯಾದ ಪದಗಳಿಂದ ತುಂಬಿರಿ:
- 1) ಜನತಾ ನ್ಯಾಯಾಲಯಗಳು _____ ರಲ್ಲಿ ಅಸ್ತಿತ್ವಕ್ಕೆ ಬಂದವು.
 - 2) ರಾಜಕೀಯ ಪಕ್ಷಗಳಿಗೆ _____ ಮಾನ್ಯತೆ ನೀಡುತ್ತವೆ.
 - 3) ಭೂ ಸೇನಾ ಮುಖ್ಯಸ್ಥರನ್ನು _____ ಎಂದು ಕರೆಯಲಾಗುತ್ತದೆ.
 - 4) ಗಡಿ ಭದ್ರತಾ ಪಡೆಯ ತರಬೇತಿ ಕೇಂದ್ರ _____ ದಲ್ಲಿದೆ.
 - 5) ಭಾರತವು ರಾಷ್ಟ್ರೀಯ ಭಾಷೆಗಳನ್ನಾಗಿ ಅಂಗೀಕರಿಸಿರುವ ಭಾಷೆಗಳ ಸಂಖ್ಯೆ _____.
 - 6) ಪತ್ರಿಕಾ ಸ್ವಾತಂತ್ರ್ಯ ರಕ್ಷಣೆಗಾಗಿ ಇರುವ ಸಂಸ್ಥೆ _____.

II. ಕೆಳಗಿನ ಪ್ರಶ್ನೆಗಳಿಗೆ ಒಂದು ಪದ/ವಾಕ್ಯದಲ್ಲಿ ಉತ್ತರಿಸಿರಿ:

- 1) ಜನತಾ ನ್ಯಾಯಾಲಯ ಸ್ಥಾಪಿಸುವ ಉದ್ದೇಶವೇನು?
- 2) ಸ್ವತಂತ್ರ ಅಭ್ಯರ್ಥಿಗಳು ಎಂದರೆ ಯಾರು?
- 3) ನಮ್ಮ 3 ಸೇನಾಪಡೆಗಳ ಸರ್ವೋಚ್ಚ ಪ್ರಧಾನ ದಂಡನಾಯಕರು ಯಾರು?
- 4) ರಾಷ್ಟ್ರೀಯ ಭಾವೈಕ್ಯತೆ ಎಂದರೇನು?

ಇವುಗಳ ವಿಶೇಷತೆ ತಿಳಿಸಿ:

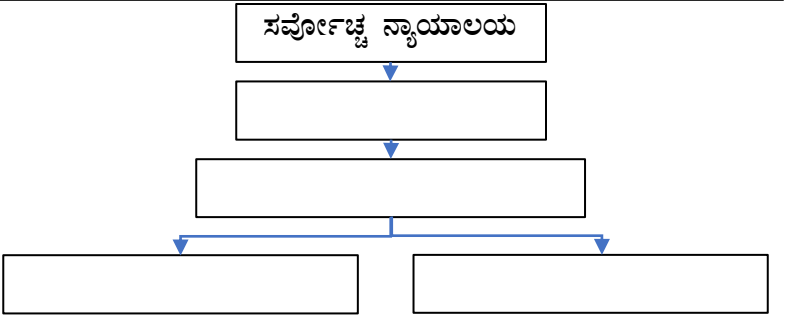


ವಿವಿಧತೆಯಲ್ಲಿ ಐಕ್ಯತೆ ಮೂಡಿಸುವ ಅಂಶಗಳು:

ನಮ್ಮ ಸೇನಾ ಪಡೆಯ 3 ವಿಭಾಗ(ಪಡೆ)ಗಳನ್ನು ಹೆಸರಿಸಿ:

- 1
- 2
- 3

ಮಸ್ತಕ ನೋಡಿ ಭಾರತದ ನ್ಯಾಯಾಂಗ ವ್ಯವಸ್ಥೆ ಚಾರ್ಟ್ ಪೂರ್ಣ ಮಾಡಿ:



ಭಾರತದ 4 ಯುದ್ಧ ಹಡಗುಗಳನ್ನು ತಿಳಿಸಿ:

ಈ ಕೆಳಗಿನ ಕಟ್ಟಡಗಳನ್ನು ಹೆಸರಿಸಿ:









ಸೇತುಬಂಧ ಅಭ್ಯಾಸದ ಹಾಳೆ - 06

ಸಾಮರ್ಥ್ಯ:-6 ಕುಟುಂಬ, ಸಾಮಾಜಿಕರಣ ಹಾಗೂ ಸಮುದಾಯ}

ತರಗತಿ: 10 ವಿದ್ಯಾರ್ಥಿಯ ಹೆಸರು:

ವಿಷಯ: ಸಮಾಜ ವಿಜ್ಞಾನ

ಈ ಕೆಳಗೆ ನೀಡಿರುವ ಸಾಮಾಜಿಕರಣದ ನಿಯೋಗಿಗಳನ್ನು ಹೆಸರಿಸಿ:











- I. ಕೆಳಗಿನ ಬಿಟ್ಟಿರುವ ಸ್ಥಳಗಳನ್ನು ಸರಿಯಾದ ಪದಗಳಿಂದ ತುಂಬಿರಿ:
- 1) ಸಮಾಜದ ಜೀವಕೋಶ _____ ಆಗಿದೆ.
 - 2) ತಾಯಿಯೇ ಮಗುವಿನ ಮೊದಲ _____.
 - 3) ಧರ್ಮವು _____ ಜೀವನಕ್ಕೆ ಆದರ್ಶದ ತಳಹದಿ ಹಾಕುತ್ತದೆ.
 - 4) ಭಾರತೀಯ ಸಮಾಜದ ಆಧಾರ ಸ್ತಂಭ _____ ಸಮುದಾಯ.
 - 5) ಕೇರಳದ ಮಲಬಾರ್‌ನ ನಾಯರ್‌ಗಳಲ್ಲಿ _____ ಕುಟುಂಬವಿದೆ.
 - 6) ರೇಡಿಯೋ ಸಾಮಾಜಿಕರಣದ _____ ನಿಯೋಗಿ.
 - 7) ನಿಮ್ಮ ಕುಟುಂಬವು _____ ಪ್ರಕಾರದ ಕುಟುಂಬವಾಗಿದೆ.

- II. ಕೆಳಗಿನ ಪ್ರಶ್ನೆಗಳಿಗೆ ಒಂದು ಪದ/ವಾಕ್ಯದಲ್ಲಿ ಉತ್ತರಿಸಿರಿ:
- 1) ಕೇಂದ್ರ ಕುಟುಂಬ ಎಂದರೇನು?
 - 2) ಸಾಮಾಜಿಕರಣ ಎಂದರೇನು?
 - 3) ನಗರ ಎಂದರೇನು?
 - 4) ಬುಡಕಟ್ಟು ಎಂದರೇನು?

- III. ಕೆಳಗಿನವುಗಳನ್ನು ಹೊಂದಿಸಿ ಬರೆಯಿರಿ:
- | | |
|--------------------|-----------------------------------|
| 'ಅ' ಪಟ್ಟಿ | 'ಬ' ಪಟ್ಟಿ |
| 1. ಕೇಂದ್ರ ಕುಟುಂಬ | ಎ. ಸ್ವಯಂಪೂರ್ಣ ಘಟಕ |
| 2. ನಗರ ಸಮುದಾಯ | ಬಿ. ಸದಸ್ಯರಿಗೆ ಹೆಚ್ಚಿನ ಸ್ವಾತಂತ್ರ್ಯ |
| 3. ಅವಿಭಕ್ತ ಕುಟುಂಬ | ಸಿ. ಒಳಬಾಂಧವ್ಯ ವಿವಾಹ |
| 4. ಬುಡಕಟ್ಟು ಸಮುದಾಯ | ಡಿ. ಸಾಂಸ್ಕೃತಿಕ ಬಹುತ್ವ |

ಈ ಚಿತ್ರಗಳನ್ನು ಗಮನಿಸಿ ಆಯಾ ಸಮುದಾಯಗಳನ್ನು ಹೆಸರಿಸಿ:

ಕುಟುಂಬದ ಪ್ರಕಾರಗಳನ್ನು ತಿಳಿಸಿ:




ನಗರ ಸಮುದಾಯದ ಲಕ್ಷಣಗಳು:

ಗ್ರಾಮ ಸಮುದಾಯದ ಲಕ್ಷಣಗಳು:

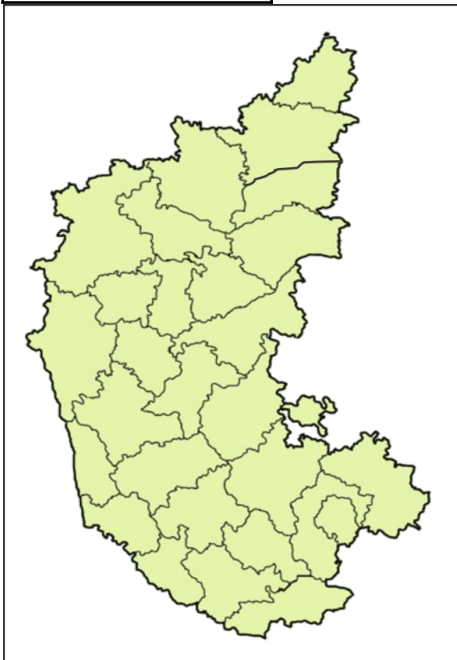
ಸೇತುಬಂಧ ಅಭ್ಯಾಸದ ಹಾಳೆ - 07

ಸಾಮರ್ಥ್ಯ:-7 ಕರ್ನಾಟಕದ ಭೌಗೋಳಿಕ ಹಿನ್ನೆಲೆ, ವಾಯುಗುಣ ಮತ್ತು ಪ್ರಾಕೃತಿಕ ಸಂಪತ್ತು

ತರಗತಿ: 10 ವಿದ್ಯಾರ್ಥಿಯ ಹೆಸರು:


ವಿಷಯ: ಸಮಾಜ ವಿಜ್ಞಾನ

<p>ಕರ್ನಾಟಕದ ಪ್ರಾಕೃತಿಕ ವಿಭಾಗಗಳು:</p>	<p>I. ಕೆಳಗಿನವುಗಳನ್ನು ಹೊಂದಿಸಿ ಬರೆಯಿರಿ:</p> <table border="0"> <tr> <td style="text-align: center;">'ಅ' ಪಟ್ಟಿ</td> <td style="text-align: center;">'ಬ' ಪಟ್ಟಿ</td> </tr> <tr> <td>1. ಬಿಸಿಲನಾಡು</td> <td>ಎ. ಚಿಕ್ಕಬಳ್ಳಾಪುರ</td> </tr> <tr> <td>2. ತಂಬಾಕು</td> <td>ಬಿ. ಮಂಡಗದ್ದೆ</td> </tr> <tr> <td>3. ಪಕ್ಷಿಧಾಮ</td> <td>ಸಿ. ಬೆಂಗಳೂರು ನಗರ</td> </tr> <tr> <td>4. ನಂದಿಗಿರಿದಾಮ</td> <td>ಡಿ. ಉತ್ತರ ಮೈದಾನ</td> </tr> <tr> <td>5. ಅತಿಚಿಕ್ಕ ಜಿಲ್ಲೆ</td> <td>ಇ. ನಿಪ್ಪಾಣಿ</td> </tr> </table>	'ಅ' ಪಟ್ಟಿ	'ಬ' ಪಟ್ಟಿ	1. ಬಿಸಿಲನಾಡು	ಎ. ಚಿಕ್ಕಬಳ್ಳಾಪುರ	2. ತಂಬಾಕು	ಬಿ. ಮಂಡಗದ್ದೆ	3. ಪಕ್ಷಿಧಾಮ	ಸಿ. ಬೆಂಗಳೂರು ನಗರ	4. ನಂದಿಗಿರಿದಾಮ	ಡಿ. ಉತ್ತರ ಮೈದಾನ	5. ಅತಿಚಿಕ್ಕ ಜಿಲ್ಲೆ	ಇ. ನಿಪ್ಪಾಣಿ	<p>ಕರ್ನಾಟಕದ ಪ್ರಮುಖ ನದಿಗಳನ್ನು ತಿಳಿಸಿ:</p> <p>ಪೂರ್ವಕ್ಕೆ ಹರಿಯುವ</p>
'ಅ' ಪಟ್ಟಿ	'ಬ' ಪಟ್ಟಿ													
1. ಬಿಸಿಲನಾಡು	ಎ. ಚಿಕ್ಕಬಳ್ಳಾಪುರ													
2. ತಂಬಾಕು	ಬಿ. ಮಂಡಗದ್ದೆ													
3. ಪಕ್ಷಿಧಾಮ	ಸಿ. ಬೆಂಗಳೂರು ನಗರ													
4. ನಂದಿಗಿರಿದಾಮ	ಡಿ. ಉತ್ತರ ಮೈದಾನ													
5. ಅತಿಚಿಕ್ಕ ಜಿಲ್ಲೆ	ಇ. ನಿಪ್ಪಾಣಿ													
<p>ಕರ್ನಾಟಕದ ಪ್ರಮುಖ ಪರ್ವತ ಘಾಟಿಗಳು:</p>	<p>II. ಕೆಳಗಿನ ಬಿಟ್ಟಿರುವ ಸ್ಥಳಗಳನ್ನು ಸರಿಯಾದ ಪದಗಳಿಂದ ತುಂಬಿ:</p> <ol style="list-style-type: none"> 1) ಕರ್ನಾಟಕ ಎಂದು ಮರುನಾಮಕರಣ ಮಾಡಿದ ವರ್ಷ _____. 2) ಸಹ್ಯಾದ್ರಿ ಎಂದು _____ ಗಳನ್ನು ಕರೆಯುತ್ತಾರೆ. 3) ಉತ್ತರ ಕರ್ನಾಟಕದಲ್ಲಿ _____ ಮಣ್ಣು ಹೆಚ್ಚಾಗಿ ಕಂಡುಬರುತ್ತದೆ. 4) ಆಲಮಟ್ಟಿ ಅಣೆಕಟ್ಟೆಯನ್ನು _____ ನದಿಗೆ ನಿರ್ಮಿಸಲಾಗಿದೆ. 5) ಕರ್ನಾಟಕದಲ್ಲಿ ಅತಿ ಹೆಚ್ಚು ಕಬ್ಬು ಬೆಳೆಯುವ ಜಿಲ್ಲೆ _____. 	<p>ಪಶ್ಚಿಮಕ್ಕೆ ಹರಿಯುವ</p>												
<p>ವಾಯುಗುಣದ ಋತುಗಳು:</p>	<p>III. ಕೆಳಗಿನ ಪ್ರಶ್ನೆಗಳಿಗೆ ಒಂದು ಪದ/ವಾಕ್ಯದಲ್ಲಿ ಉತ್ತರಿಸಿ:</p> <ol style="list-style-type: none"> 1) ಕರ್ನಾಟಕವನ್ನು ಶ್ರೀಗಂಧದ ನಾಡು ಎಂದು ಏಕೆ ಕರೆಯುತ್ತಾರೆ? 2) ಕರ್ನಾಟಕದ ಮೊದಲ ಜಲವಿದ್ಯುತ್ ಉತ್ಪಾದನಾ ಕೇಂದ್ರ ಯಾವುದು? 3) ನೀರಾವರಿ ಬೇಸಾಯ ಎಂದರೇನು? 	<p>ಕರ್ನಾಟಕದ ಪ್ರಮುಖ ಮಣ್ಣಿನ ಪ್ರಕಾರಗಳು:</p>												



ಈ ಕೆಳಗೆ ಜಿಲ್ಲೆಗಳ ವಿಶೇಷತೆಯನ್ನು ನೀಡಲಾಗಿದ್ದು, ಅವುಗಳನ್ನು ಪತ್ತೆ ಮಾಡಿ ನಕ್ಷೆಯಲ್ಲಿ ಗುರುತಿಸಿ: (ಕ್ರಮಸಂಖ್ಯೆ ಮಾತ್ರ ನಮೂದಿಸಿ)

- 1) ಕರ್ನಾಟಕದ ಅತ್ಯಂತ ಉತ್ತರದಲ್ಲಿರುವ ಜಿಲ್ಲೆ
- 2) ಕರ್ನಾಟಕದ ಅತ್ಯಂತ ದಕ್ಷಿಣದಲ್ಲಿರುವ ಜಿಲ್ಲೆ
- 3) ಕಾಫಿನಾಡು ಎನಿಸಿಕೊಂಡಿರುವ ಜಿಲ್ಲೆ
- 4) ಕರ್ನಾಟಕದ ಕಾಶ್ಮೀರ ಎನಿಸಿಕೊಂಡಿರುವ ಜಿಲ್ಲೆ
- 5) ಗರಿಷ್ಠ ಉಷ್ಣಾಂಶ ದಾಖಲಾಗುವ ಜಿಲ್ಲೆ
- 6) ಕನಿಷ್ಠ ಉಷ್ಣಾಂಶ ದಾಖಲಾಗುವ ಜಿಲ್ಲೆ
- 7) ಅತ್ಯಧಿಕ ಅರಣ್ಯ ಪ್ರದೇಶ ಹೊಂದಿರುವ ಜಿಲ್ಲೆ
- 8) ಅತಿ ಕಡಿಮೆ ಅರಣ್ಯ ಪ್ರದೇಶ ಹೊಂದಿರುವ ಜಿಲ್ಲೆ
- 9) ಅತಿ ಹೆಚ್ಚು ಕಾಲು ವೇ ನೀರಾವರಿ ಹೊಂದಿರುವ ಜಿಲ್ಲೆ
- 10) ಅತಿ ಹೆಚ್ಚು ಕೆರೆ ನೀರಾವರಿ ಹೊಂದಿರುವ ಜಿಲ್ಲೆ
- 11) ಅತಿ ಹೆಚ್ಚು ಬೀಳು ಭೂಮಿ ಹೊಂದಿರುವ ಜಿಲ್ಲೆ
- 12) ಅತಿ ಹೆಚ್ಚು ರಾಗಿ ಬೆಳೆಯುವ ಜಿಲ್ಲೆ
- 13) ಅತಿ ಹೆಚ್ಚು ಹತ್ತಿ ಬೆಳೆಯುವ ಜಿಲ್ಲೆ
- 14) ಅತಿ ಹೆಚ್ಚು ತಂಬಾಕು ಬೆಳೆಯುವ ಜಿಲ್ಲೆ



ಸೇತುಬಂಧ ಅಭ್ಯಾಸದ ಹಾಳೆ - 08

ಸೂಮಾರ್ಯ:- 8 ಕರ್ನಾಟಕದ ಸಾರಿಗೆ, ಕೈಗಾರಿಕೆ ಮತ್ತು ಪ್ರವಾಸೋದ್ಯಮ ಹಾಗೂ ಜನಸಂಖ್ಯೆ

ತರಗತಿ: 10 ವಿದ್ಯಾರ್ಥಿಯ ಹೆಸರು:

ವಿಷಯ: ಸಮಾಜ ವಿಜ್ಞಾನ

ಕರ್ನಾಟಕದ ಪ್ರಮುಖ ಯಾತ್ರಾ ಸ್ಥಳಗಳನ್ನು ತಿಳಿಸಿ:

I. ಕೆಳಗಿನವುಗಳನ್ನು ಹೊಂದಿಸಿ ಬರೆಯಿರಿ:

- | | |
|---------------|--------------------------------|
| 'ಅ' ಪಟ್ಟಿ | 'ಬ' ಪಟ್ಟಿ |
| 1. ರಂಗನತಿಟ್ಟು | ಎ. ಸಿಮೆಂಟ್ ತಯಾರಿಕೆ |
| 2. ಬೇಲಿಕೇರಿ | ಬಿ. ಬಾಕ್ಸೈಟ್ ನಿಕ್ಷೇಪ |
| 3. ಶಹಾಬಾದ್ | ಸಿ. ಬಂದರು |
| 4. ತೋರಣಗಲ್ | ಡಿ. ಪಕ್ಷಿಧಾಮ |
| 5. ಖಾನಾಪುರ | ಇ. ಕಬ್ಬಿಣ ಮತ್ತು ಉಕ್ಕು ಕಾರ್ಖಾನೆ |

II. ಕೆಳಗಿನ ಬಿಟ್ಟಿರುವ ಸ್ಥಳಗಳನ್ನು ಸರಿಯಾದ ಪದಗಳಿಂದ ತುಂಬಿ:

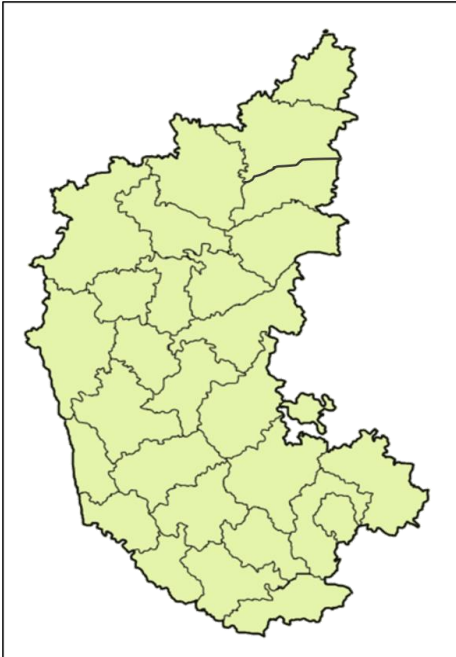

- 1) ಕುದುರೆಮುಖದಲ್ಲಿ _____ ಅದಿರು ದೊರೆಯುತ್ತದೆ.
- 2) ಬೆಂಗಳೂರಿನಲ್ಲಿರುವ ನಗರ ರೈಲನ್ನು _____ ಎನ್ನುತ್ತಾರೆ.
- 3) ಕರ್ನಾಟಕದ ಮ್ಯಾಂಚೆಸ್ಟರ್ _____.
- 4) ಅಬ್ಬಿ ಜಲಪಾತ _____ ನಗರದ ಸಮೀಪ ಇದೆ.
- 5) ಕರ್ನಾಟಕದ ಸರಾಸರಿ ಜನಸಾಂದ್ರತೆ ಪ್ರತಿ ಚ.ಕಿ.ಮೀ.ಗೆ _____.

III. ಕೆಳಗಿನ ಪ್ರಶ್ನೆಗಳಿಗೆ ಒಂದು ಪದ/ವಾಕ್ಯದಲ್ಲಿ ಉತ್ತರಿಸಿ:

- 1) ಕರ್ನಾಟಕವನ್ನು 'ಚಿನ್ನದ ನಾಡು' ಎಂದು ಏಕೆ ಕರೆಯುತ್ತಾರೆ?
- 2) ಕರ್ನಾಟಕದ ಹೆಬ್ಬಾಗಿಲು ಎಂದು ಕರೆಯುವ ಬಂದರು ಯಾವುದು?
- 3) ನಿಮ್ಮ ಜಿಲ್ಲೆಯ ಪ್ರಸಿದ್ಧ ಪ್ರವಾಸಿ ತಾಣವನ್ನು ಹೆಸರಿಸಿ?

ಕರ್ನಾಟಕದಲ್ಲಿರುವ 5 ರಾಷ್ಟ್ರೀಯ ಉದ್ಯಾನಗಳನ್ನು ತಿಳಿಸಿ:

ಈ ಪ್ರವಾಸಿ ತಾಣಗಳನ್ನು ಗುರುತಿಸಿ:



ಈ ಕೆಳಗೆ ಜಿಲ್ಲೆಗಳ ವಿಶೇಷತೆಯನ್ನು ನೀಡಲಾಗಿದ್ದು, ಅವುಗಳನ್ನು ಪತ್ತೆ ಮಾಡಿ ನಕ್ಷೆಯಲ್ಲಿ ಗುರುತಿಸಿ: (ಕ್ರಮಸಂಖ್ಯೆ ಮಾತ್ರ ನಮೂದಿಸಿ)

- 1) ಅತ್ಯಧಿಕ ಕಬ್ಬಿಣದ ನಿಕ್ಷೇಪ ಹೊಂದಿರುವ ಜಿಲ್ಲೆ
- 2) ಅತ್ಯಧಿಕ ಬಾಕ್ಸೈಟ್ ನಿಕ್ಷೇಪ ಹೊಂದಿರುವ ಜಿಲ್ಲೆ
- 3) ಅತಿ ದೊಡ್ಡ ಚಿನ್ನದ ಗಣಿಯನ್ನು ಹೊಂದಿದ ಜಿಲ್ಲೆ
- 4) ಅತಿ ಹೆಚ್ಚು ಜನಸಂಖ್ಯೆಯನ್ನು ಹೊಂದಿರುವ ಜಿಲ್ಲೆ
- 5) ಅತಿ ಕಡಿಮೆ ಜನಸಾಂದ್ರತೆ ಹೊಂದಿರುವ ಜಿಲ್ಲೆ
- 6) ಅತಿ ಹೆಚ್ಚು ಲಿಂಗಾನುಪಾತ ಹೊಂದಿರುವ ಜಿಲ್ಲೆ
- 7) ಅತ್ಯಧಿಕ ಸಾಕ್ಷರತೆಯನ್ನು ಹೊಂದಿರುವ ಜಿಲ್ಲೆ
- 8) ಅತಿ ಕಡಿಮೆ ಸಾಕ್ಷರತೆಯನ್ನು ಹೊಂದಿರುವ ಜಿಲ್ಲೆ
- 9) ಅರಮನೆಗಳ ನಗರವೆಂದು ಹೆಸರಾಗಿರುವ ಜಿಲ್ಲೆ
- 10) ಜೋಗ ಜಲಪಾತವನ್ನು ಹೊಂದಿರುವ ಜಿಲ್ಲೆ

ಸೇತುಬಂಧ ಅಭ್ಯಾಸದ ಹಾಳೆ - 09

ಸಾಮರ್ಥ್ಯ:- 9 ಆರ್ಥಿಕ ರಚನೆ ಮತ್ತು ವಲಯಗಳು ಹಾಗೂ ಹಣ, ಶ್ರಮ ಮತ್ತು ಉದ್ಯೋಗ

ತರಗತಿ: 10 ವಿದ್ಯಾರ್ಥಿಯ ಹೆಸರು:

ವಿಷಯ: ಸಮಾಜ ವಿಜ್ಞಾನ

<p>4 ಉತ್ಪಾದನಾಂಗಗಳನ್ನು ತಿಳಿಸಿ:</p>	<p>I. ಕೆಳಗಿನ ಬಿಟ್ಟಿರುವ ಸ್ಥಳಗಳನ್ನು ಸರಿಯಾದ ಪದಗಳಿಂದ ತುಂಬಿರಿ:</p> <ol style="list-style-type: none"> 1) ಕೈಗಾರಿಕಾ ಕ್ರಾಂತಿ ಮೊದಲು _____ ದೇಶದಲ್ಲಿ ನಡೆಯಿತು. 2) ಭಾರತೀಯ ರಿಸರ್ವ್ ಬ್ಯಾಂಕ್ _____ರಲ್ಲಿ ಸ್ಥಾಪನೆಯಾಯಿತು. 3) ನೂತನ ಆರ್ಥಿಕ ಸುಧಾರಣಾ ನೀತಿ _____ರಲ್ಲಿ ಜಾರಿಯಾಯಿತು. 4) ಭಾರತದ ಪ್ರಮುಖ ಉದ್ಯೋಗ _____. 5) ಶ್ರಮ ವಿಭಜನೆಯು _____ ಹೆಚ್ಚಿಸುತ್ತದೆ. <p>II. ಕೆಳಗಿನ ಪ್ರಶ್ನೆಗಳಿಗೆ ಒಂದು ಪದ/ವಾಕ್ಯದಲ್ಲಿ ಉತ್ತರಿಸಿರಿ:</p> <ol style="list-style-type: none"> 1) ಬಾಲಕಾರ್ಮಿಕ ಎಂದರೆ ಯಾರು? 2) ಹಣದ ಅರ್ಥವನ್ನು ತಿಳಿಸಿ. 3) ರಚನಾತ್ಮಕ ಬದಲಾವಣೆ ಎಂದರೇನು? 	<p>ಶ್ರಮ ವಿಭಜನೆಯ ಅನುಕೂಲಗಳು:</p>												
<p>ಹಣದ ವಿಕಾಸದ ಹಂತಗಳನ್ನು ತಿಳಿಸಿ:</p>	<p>ಈ ಕೆಳಗಿನ ಚಟುವಟಿಕೆಗಳನ್ನು ವರ್ಗೀಕರಿಸಿ ಬರೆಯಿರಿ:</p> <p>ಕೃಷಿ, ಕೈಗಾರಿಕೆ, ಸಾರಿಗೆ, ಶಿಕ್ಷಣ, ಕಟ್ಟಡ ನಿರ್ಮಾಣ, ಪಶುಪಾಲನೆ, ಮೀನುಗಾರಿಕೆ, ವಿದ್ಯುತ್ ಉತ್ಪಾದನೆ, ವಿಮೆ, ಗಣಿಗಾರಿಕೆ.</p> <table border="1" style="width: 100%; border-collapse: collapse;"> <thead> <tr> <th style="width: 33%;">ಪ್ರಾಥಮಿಕ ವಲಯ</th> <th style="width: 33%;">ದ್ವಿತೀಯ ವಲಯ</th> <th style="width: 33%;">ತೃತೀಯ ವಲಯ</th> </tr> </thead> <tbody> <tr> <td style="height: 40px;"></td> <td></td> <td></td> </tr> <tr> <td style="height: 40px;"></td> <td></td> <td></td> </tr> <tr> <td style="height: 40px;"></td> <td></td> <td></td> </tr> </tbody> </table>	ಪ್ರಾಥಮಿಕ ವಲಯ	ದ್ವಿತೀಯ ವಲಯ	ತೃತೀಯ ವಲಯ										<p>ಶ್ರಮ ವಿಭಜನೆಯ ಅನಾನುಕೂಲಗಳು:</p>
ಪ್ರಾಥಮಿಕ ವಲಯ	ದ್ವಿತೀಯ ವಲಯ	ತೃತೀಯ ವಲಯ												

ಪಠ್ಯಪುಸ್ತಕದ ಸಹಾಯದಿಂದ ಈ ಮಾಹಿತಿಯನ್ನು ಪೂರ್ಣಗೊಳಿಸಿರಿ:



ಕೃಷಿಯ ಮಹತ್ವ	ಕೈಗಾರಿಕೆಗಳ ಮಹತ್ವ	ರಿಸರ್ವ್ ಬ್ಯಾಂಕಿನ ಕಾರ್ಯಗಳು

ಸೇತುಬಂಧ ಅಭ್ಯಾಸದ ಹಾಳೆ - 10

ಸಾಮರ್ಥ್ಯ:- 10 ವ್ಯವಹಾರ ನಿರ್ವಹಣೆ ಮತ್ತು ಮಾರುಕಟ್ಟೆ ನಿರ್ವಹಣೆ

ತರಗತಿ: 10 ವಿದ್ಯಾರ್ಥಿಯ ಹೆಸರು:

ವಿಷಯ: ಸಮಾಜ ವಿಜ್ಞಾನ

<p>ನಿರ್ಧಾರದ ವಿಧಗಳನ್ನು ಗುರುತಿಸಿ:</p>	<p>I. ಕೆಳಗಿನ ಬಿಟ್ಟಿರುವ ಸ್ಥಳಗಳನ್ನು ಸರಿಯಾದ ಪದಗಳಿಂದ ತುಂಬಿರಿ:</p> <ol style="list-style-type: none"> 1) ನಿರ್ವಹಣೆಯ ತತ್ವಗಳನ್ನು ಸೂಚಿಸಿದವನು _____. 2) ಒಂದು ಪ್ರದೇಶಕ್ಕೆ ಸೀಮಿತವಾಗಿರುವ ಮಾರುಕಟ್ಟೆಯೇ _____. 3) ಗ್ರಾಹಕರನ್ನು _____ ಎಂದೂ ಕರೆಯುತ್ತಾರೆ. 4) ಗ್ರಾಹಕರ ಸಂರಕ್ಷಣೆ ಕಾಯ್ದೆಯು _____ ರಲ್ಲಿ ಜಾರಿಗೆ ಬಂದಿದೆ. 5) ಮಾರುಕಟ್ಟೆ ಮಿಶ್ರಣವನ್ನು ಪರಿಚಯಿಸಿದವನು _____. 	<p>ನಿರ್ವಹಣೆಯ ತತ್ವಗಳನ್ನು ತಿಳಿಸಿ:</p>
	<p>II. ಕೆಳಗಿನ ಪ್ರಶ್ನೆಗಳಿಗೆ ಒಂದು ಪದ/ವಾಕ್ಯದಲ್ಲಿ ಉತ್ತರಿಸಿರಿ:</p> <ol style="list-style-type: none"> 1) ನಿರ್ವಹಣೆ ಎಂದರೇನು? 2) ಗ್ರಾಹಕ ರಕ್ಷಣೆ ಎಂದರೇನು? 	
		
	<p>ಗ್ರಾಹಕರ ಹಕ್ಕುಗಳನ್ನು ಪಟ್ಟಿ ಮಾಡಿರಿ:</p>	<p>ಮಾರುಕಟ್ಟೆ ವ್ಯವಸ್ಥೆಯ ಕಾರ್ಯಗಳು:</p>
<p>ಮಾರುಕಟ್ಟೆಯ ಪ್ರಮುಖತೆಯನ್ನು ತಿಳಿಸಿ:</p>		
	<p>ಪಠ್ಯಪುಸ್ತಕದ ಸಹಾಯದಿಂದ ಈ ಕೆಳಗಿನ ಸರಕುಗಳ ಹರಿವಿನ ವಿತರಣೆಯನ್ನು ಪೂರ್ಣಗೊಳಿಸಿರಿ:</p>	
<p>1 ಉತ್ಪಾದಕ →</p>	<p>→ ಗ್ರಾಹಕ</p>	
<p>2 ಉತ್ಪಾದಕ →</p>	<p>→ ಚಿಲ್ಲರೆ ವ್ಯಾಪಾರಿ →</p>	
<p>3 ಉತ್ಪಾದಕ →</p>	<p>ಏಜೆಂಟ್ →</p>	<p>→ ಗ್ರಾಹಕ</p>
<p>4 ಉತ್ಪಾದಕ →</p>	<p>→ ಗ್ರಾಹಕ</p>	

ಸೇತುಬಂಧ ಸಾಫಲ್ಯ ಪರೀಕ್ಷೆ

ತರಗತಿ: 10 ವಿದ್ಯಾರ್ಥಿಯ ಹೆಸರು:

ವಿಷಯ: ಸಮಾಜ ವಿಜ್ಞಾನ

ಕೆಳಗಿನ ಪ್ರಶ್ನೆಗಳಿಗೆ ಅಥವಾ ಅಪೂರ್ಣ ಹೇಳಿಕೆಗಳಿಗೆ ನಾಲ್ಕು ಆಯ್ಕೆಗಳನ್ನು ನೀಡಲಾಗಿದೆ. ಅವುಗಳಲ್ಲಿ ಸೂಕ್ತವಾದ ಉತ್ತರವನ್ನು ಆರಿಸಿ ಕ್ರಮಾಕ್ಷರದೊಂದಿಗೆ ಬರೆಯಿರಿ.


1A. ಇಸ್ಲಾಂ ಧರ್ಮದ ಸ್ಥಾಪಕರಾದ ಮಹಮ್ಮದ್ ಪೈಗಂಬರರು ಹುಟ್ಟಿದ ಸ್ಥಳ

- ಬೆತ್ತಹ್ಯಾಂ
- ಮೆಕ್ಕಾ
- ಮದೀನಾ
- ನಜರತ್

ಉತ್ತರ:-

1B. "ಜಗತ್ತು ಮಾಯೆ, ಬ್ರಹ್ಮ ಮಾತ್ರ ಸತ್ಯ" ಎಂದು ಪ್ರತಿಪಾದಿಸಿದ ಮತ ಪ್ರವರ್ತಕ

- ರಮಾನಂದರು
- ರಾಮಾನುಜರು
- ಶಂಕರಾಚಾರ್ಯರು
- ತುಳಸಿದಾಸರು



ಉತ್ತರ:-

2A. 1ನೇ ತರೈನ್ ಯುದ್ಧದಲ್ಲಿ ಮಹಮ್ಮದ್ ಘೋರಿಯನ್ನು ಸೋಲಿಸಿದ ಈ ರಜಪೂತ ದೊರೆ

- ಪೃಥ್ವಿರಾಜ್ ಚೌಹಾಣ್
- ಮಿಹಿರ ಭೋಜ
- ಒಂದನೇ ಕರ್ಣ
- ಗೋವಿಂದಚಂದ್ರ



ಉತ್ತರ:-

2B. ಈ ಕೆಳಗೆ ನೀಡಲಾಗಿರುವ ಭೂಪಟವನ್ನು ಗಮನಿಸಿ ಸಾಮ್ರಾಜ್ಯವನ್ನು ಹೆಸರಿಸಿ.

- ಬಹುಮನಿ ಸಾಮ್ರಾಜ್ಯ
- ಮೊಘಲ್ ಸಾಮ್ರಾಜ್ಯ
- ವಿಜಯನಗರ ಸಾಮ್ರಾಜ್ಯ
- ಮರಾಠ ಸಾಮ್ರಾಜ್ಯ



ಉತ್ತರ:-

3A. ಪುನರುಜ್ಜೀವನದ ಜನಕ ಎಂದು ಕರೆಯಲ್ಪಟ್ಟವನು

- ವಾಸ್ಕೋಡಿಗಾಮ
- ಮಾರ್ಟಿನ್ ಲೂಥರ್
- ಬಿಸ್ಕಾಕ್
- ಪೆಟ್ರಾರ್ಕ್



ಉತ್ತರ:-

3B. ಅನೇಕ ಅನ್ವೇಷಣೆಗಳಿಗೆ ಕಾರಣವಾದ ಈ ಉಪಕರಣವನ್ನು ಹೆಸರಿಸಿ.

- ಸ್ಪಿನ್ರಿಂಗ್ ಚಿನ್ನ
- ಅಸ್ಟ್ರೋಲೋಬ್
- ದಿಕ್ಸೂಚಿ
- ಸ್ವೀಮ್ ಎಂಜಿನ್



ಉತ್ತರ:-

4A. 'ಭಾರತ ಸಂವಿಧಾನದ ತಿಲ್ಪಿ' ಎಂದು ಕರೆಯಲ್ಪಡುವ ಮಹಾನ್ ವ್ಯಕ್ತಿ

- ಮಹಾತ್ಮ ಗಾಂಧೀಜಿ
- ಡಾ. ಬಿ.ಆರ್ ಅಂಬೇಡ್ಕರ್
- ಸರ್ದಾರ್ ವಲ್ಲಭಭಾಯಿ ಪಟೇಲ್
- ಬಾಬು ರಾಜೇಂದ್ರ ಪ್ರಸಾದ್



ಉತ್ತರ:-

4B. ಭಾರತದ ಸಂಸತ್ತಿನ ಎರಡು ಸದನಗಳ ಸರಿಯಾದ ಚೋಡಿಯನ್ನು ಗುರುತಿಸಿ.

- ರಾಜ್ಯಸಭೆ ಮತ್ತು ವಿಧಾನಸಭೆ
- ಲೋಕಸಭೆ ಮತ್ತು ವಿಧಾನಸಭೆ
- ವಿಧಾನಸಭೆ ಮತ್ತು ವಿಧಾನಸಭೆ
- ರಾಜ್ಯಸಭೆ ಮತ್ತು ಲೋಕಸಭೆ

ಉತ್ತರ:-

5A. ಈ ಕೆಳಗಿನ ಚಿತ್ರವನ್ನು ಗಮನಿಸಿ, ಆ ಐತಿಹಾಸಿಕ ಕಟ್ಟಡವನ್ನು ಹೆಸರಿಸಿ.

- ಸಂಸತ್ತು
- ವಿಧಾನಸೌಧ
- ಸುಪ್ರೀಂ ಕೋರ್ಟ್
- ರಾಷ್ಟ್ರಪತಿ ಭವನ



ಉತ್ತರ:-

5B. ನಮ್ಮ ಸೇನಾಪಡೆಗಳ ಪ್ರಧಾನ ದಂಡನಾಯಕರು

- ರಾಷ್ಟ್ರಪತಿ
- ಪ್ರಧಾನಮಂತ್ರಿ
- ರಕ್ಷಣಾ ಮಂತ್ರಿ
- ಹಣಕಾಸು ಮಂತ್ರಿ

ಉತ್ತರ:-

6A.ಸಾಮಾನ್ಯವಾಗಿ ಒಳಬಾಂಧವ್ಯ ವಿವಾಹ ಈ ಸಮುದಾಯದ ಲಕ್ಷಣವಾಗಿದೆ.

- ಎ) ಗ್ರಾಮ ಸಮುದಾಯ
- ಬಿ) ನಗರ ಸಮುದಾಯ
- ಸಿ) ಬುಡಕಟ್ಟು ಸಮುದಾಯ
- ಡಿ) ಕೈಗಾರಿಕಾ ಸಮುದಾಯ

ಉತ್ತರ:-_____

6B.ಈ ಕೆಳಗಿನ ಚಿತ್ರವನ್ನು ಗಮನಿಸಿ, ಈ ಸಾಮಾಜಿಕರಣದ ನಿಯೋಗಿಯನ್ನು ಹೆಸರಿಸಿ.

- ಎ) ಕುಟುಂಬ
- ಬಿ) ಸಮವಯಸ್ಕರ ಗುಂಪು
- ಸಿ) ನೆರೆಹೊರೆ
- ಡಿ) ಧರ್ಮ



ಉತ್ತರ:-_____

7A.ಕರ್ನಾಟಕವನ್ನು 'ಶ್ರೀಗಂಧದ ನಾಡು' ಎಂದು ಕರೆಯಲು ಕಾರಣ ಕರ್ನಾಟಕದಲ್ಲಿ

- ಎ) ಶ್ರೀಗಂಧವನ್ನು ಹೆಚ್ಚಾಗಿ ಬಳಸುತ್ತಾರೆ.
- ಬಿ) ಶ್ರೀಗಂಧದ ವಿಗ್ರಹಗಳನ್ನು ಹೆಚ್ಚಾಗಿ ತಯಾರಿಸುತ್ತಾರೆ.
- ಸಿ) ಶ್ರೀಗಂಧದ ಮರಗಳು ಹೆಚ್ಚಾಗಿ ಬೆಳೆಯುತ್ತವೆ.
- ಡಿ) ಶ್ರೀಗಂಧದ ಸಾಬೂನುಗಳನ್ನು ಹೆಚ್ಚು ತಯಾರಿಸುತ್ತಾರೆ.

ಉತ್ತರ:-_____

7B.ಕರ್ನಾಟಕದಲ್ಲಿ ಅತಿಕಡಿಮೆ ಉಷ್ಣಾಂಶ ದಾಖಲಾಗುವ ಜಿಲ್ಲೆಯನ್ನು ಹೆಸರಿಸಿ ಮತ್ತು ನಕ್ಷೆಯಲ್ಲಿ ಅ ಜಿಲ್ಲೆಗೆ ಬಣ್ಣ ತುಂಬಿ

- ಎ) ಶಿವಮೊಗ್ಗ
- ಬಿ) ಬೆಳಗಾವಿ
- ಸಿ) ರಾಯಚೂರು
- ಡಿ) ಕೊಡಗು



ಉತ್ತರ:-_____

8A.ಕರ್ನಾಟಕದ ಹೆಬ್ಬಾಗಿಲು ಎಂದು ಕರೆಯಲ್ಪಡುವ ಕರ್ನಾಟಕದ ಪ್ರಮುಖ ಬಂದರು

- ಎ) ಭಟ್ಕಳ
- ಬಿ) ಕುಂದಾಪುರ
- ಸಿ) ಬೇಲಿಕೇರಿ
- ಡಿ) ನವಮಂಗಳೂರು

ಉತ್ತರ:-_____

8B.ಕರ್ನಾಟಕದಲ್ಲೇ ಅತಿ ಎತ್ತರದಿಂದ ಧುಮ್ನಿಕ್ಕುವ ಜಲಪಾತವನ್ನು ಹೆಸರಿಸಿ.

- ಎ) ಗೋಕಾಕ್ ಜಲಪಾತ
- ಬಿ) ಚೋಗ ಜಲಪಾತ
- ಸಿ) ಅಬ್ಬಿ ಜಲಪಾತ
- ಡಿ) ಕಲ್ಲತ್ತಗಿರಿ ಜಲಪಾತ



ಉತ್ತರ:-_____

9A.ಈ ಕೆಳಗಿನವುಗಳಲ್ಲಿ ಗುಂಪಿಗೆ ಸೇರದಿರುವುದನ್ನು ಗುರುತಿಸಿ ಬರೆಯಿರಿ.

- ಎ) ಪಶುಪಾಲನೆ
- ಬಿ) ಪ್ರವಾಸೋದ್ಯಮ
- ಸಿ) ಗಣಿಗಾರಿಕೆ
- ಡಿ) ಮೀನುಗಾರಿಕೆ

ಉತ್ತರ:-_____

9B. ಭಾರತದಲ್ಲಿ ನೋಟುಗಳ ಚಲಾವಣೆಯ ಮೇಲೆ ಏಕಸ್ವಾಮ್ಯ ಹೊಂದಿರುವ ಬ್ಯಾಂಕ್.

- ಎ) ಸ್ಟೇಟ್ ಬ್ಯಾಂಕ್ ಆಫ್ ಇಂಡಿಯಾ
- ಬಿ) ಇಂಡಿಯನ್ ಬ್ಯಾಂಕ್
- ಸಿ) ನಬಾರ್ಡ್ ಬ್ಯಾಂಕ್
- ಡಿ) ರಿಸರ್ವ್ ಬ್ಯಾಂಕ್ ಆಫ್ ಇಂಡಿಯಾ

ಉತ್ತರ:-_____

10A.'ನಿರ್ವಹಣೆ ಎಂಬುದು ಬೇರೆಯವರಿಂದ ಕೆಲಸ ಮಾಡಿಸುವ ಕಲೆ' ಎಂದವರು.

- ಎ) ಜೆ.ಎಲ್ ಹೇನ್ಸ್
- ಬಿ) ಜಾರ್ಜ್ ಆರ್ ಟೆರಿ
- ಸಿ) ಹೆನ್ರಿ ಫೆಯೋಲ್
- ಡಿ) ಗುಟಮನ್ ಮತ್ತು ಡಾಗಲ್

ಉತ್ತರ:-_____

10B.ಭಾರತದಲ್ಲಿ ಗ್ರಾಹಕರ ಸಂರಕ್ಷಣಾ ಕಾಯ್ದೆಯನ್ನು ಜಾರಿಗೆ ತಂದ ವರ್ಷ

- ಎ) 1930
- ಬಿ) 1952
- ಸಿ) 1955
- ಡಿ) 1986

ಉತ್ತರ:-_____

ವೈಶಿಷ್ಟ್ಯಗಳು

- ➔ ಪ್ರತಿ ತರಗತಿಗಳ ಸಾಮರ್ಥ್ಯಗಳ ಪಟ್ಟಿ.
- ➔ ನೈದಾನಿಕ ಪರೀಕ್ಷೆ ಪ್ರಶ್ನೆ ಪತ್ರಿಕೆಗಳು.
- ➔ ಸಾಮರ್ಥ್ಯವಾರು ಅಭ್ಯಾಸದ ಹಾಳೆಗಳು.
- ➔ ಸಾಫಲ್ಯ ಪರೀಕ್ಷೆ ಪ್ರಶ್ನೆ ಪತ್ರಿಕೆಗಳು.

ಸೂಚನೆ: ಅಭ್ಯಾಸದ ಹಾಳೆಗಳನ್ನು ಬರೆಸಲು ಕಡ್ಡಾಯವಾಗಿ ಹಿಂದಿನ ವರ್ಷದ ಪಠ್ಯಪುಸ್ತಕ ಅತ್ಯಗತ್ಯವಾಗಿದೆ.