

ಕ್ಷೇತ್ರಶಿಕ್ಷಣಾಧಿಕಾರಿಗಳ/ಕ್ಷೇತ್ರ ಸಂಪನ್ಮೂಲ ಸಮನ್ವಯಾಧಿಕಾರಿಗಳ ಕಾರ್ಯಾಲಯ
ಪಾವಗಡ ,ಪಾವಗಡ ತಾಲ್ಲೂಕು ಮಧುಗಿರಿ ಜಿಲ್ಲೆ

ಮುನ್ನುಡಿ

ಪ್ರಸ್ತುತ 2022-23ನೇ ಸಾಲಿನಲ್ಲಿ ಮಕ್ಕಳ ಕಲಿಕಾ ಕೊರತೆಯನ್ನು ನೀಗಿಸಲು ಕಲಿಕಾ ಚೇತರಿಕೆ ಕಾರ್ಯಕ್ರಮವನ್ನು ಅನುಷ್ಠಾನಗೊಳಿಸಿ ಕಲಿಕಾ ಪ್ರಗತಿ ಅನುಪಾಲನೆಯಲ್ಲಿದೆ. ಹಾಗೂ 1ನೇ ತರಗತಿಯಿಂದ 9ನೇ ತರಗತಿವರೆಗೆ ಶಾಲಾ ಹಂತದಲ್ಲಿ ಸಿ.ಸಿ.ಇ. ಅಡಿ ಮೌಲ್ಯಾಂಕನ ವಿಶ್ಲೇಷಣೆ ಮಾಡುತ್ತಿರುವುದರಿಂದ ಹಾಗೂ ವಾರ್ಷಿಕ ಪರೀಕ್ಷೆ ನಿರ್ವಹಿಸುತ್ತಿಲ್ಲವಾದ್ದರಿಂದ ರಾಜ್ಯ ಪಠ್ಯಕ್ರಮದ ಎಲ್ಲಾ ಶಾಲೆಗಳ ವಿದ್ಯಾರ್ಥಿಗಳ ಕಾರ್ಯಸಾಧನೆಯನ್ನು ಹಾಗೂ ಕಲಿಕಾಪ್ರಗತಿಯನ್ನು ತಿಳಿಯಲು ಕಲಿಕಾ ಫಲ(Learning outcome) ಗಳನ್ನು /ಸಾಮರ್ಥ್ಯಗಳನ್ನು ಆಧರಿಸಿ ಏಕ ರೂಪದ ಸಾಧನ ಮತ್ತು ತಂತ್ರಗಳನ್ನು ಬಳಸಿ 5 ಮತ್ತು 8ನೇ ತರಗತಿಗೆ ಮೌಲ್ಯಾಂಕನ ಮಾಡಲಾಗುತ್ತಿದೆ. ಇದು ಕೇವಲ ಮೌಲ್ಯಾಂಕನ ಕಾರ್ಯವಾಗಿದ್ದು, ಎಲ್ಲಾ ಮುಖ್ಯ ಶಿಕ್ಷಕರು ಮತ್ತು ಮಕ್ಕಳನ್ನು ಸದರಿ ಪರೀಕ್ಷೆಗೆ ಅಣಿಗೊಳಿಸುತ್ತೀರ ಎಂದು ಆಶಿಸುತ್ತೇನೆ.



ಅಶ್ವಥ್ ನಾರಾಯಣ ಎನ್
ಕ್ಷೇತ್ರ ಶಿಕ್ಷಣಾಧಿಕಾರಿಗಳು

ಎಲ್ಲರಿಗೂ ಶುಭವಾಗಲಿ

ಶುಭನುಡಿ

ರಾಜ್ಯಾದ್ಯಂತ 2022-23ನೇ ಸಾಲಿನಲ್ಲಿ 5 ಮತ್ತು 8ನೇ ತರಗತಿಗಳಿಗೆ ನಡೆಯಲಿರುವ ಮೌಲ್ಯಾಂಕನ ಕಾರ್ಯಕ್ಕೆ ನಮ್ಮ ತಾಲ್ಲೂಕಿನ ಎಲ್ಲಾ ಶಾಲೆಗಳ ಮಕ್ಕಳು ಉತ್ತಮವಾಗಿ ಪರೀಕ್ಷೆಯನ್ನು ಎದುರಿಸಿ ಕಲಿಕೆಯನ್ನು ಉತ್ತಮಗೊಳಿಸುವ ಕಾರಣಕ್ಕಾಗಿಯೇ ಈ ಮಾದರಿ ಪ್ರಶ್ನೆಪತ್ರಿಕೆಗಳನ್ನು ಸಂಪನ್ಮೂಲ ವ್ಯಕ್ತಿಗಳಿಂದ ರಚಿಸಲಾಗಿದೆ.

ಎಲ್ಲಾ ಶಾಲೆಗಳ ಮುಖ್ಯ ಶಿಕ್ಷಕರು ಹಾಗೂ ಸಹ ಶಿಕ್ಷಕರು ಸದರಿ ಮಾದರಿ ಪ್ರಶ್ನೆಪತ್ರಿಕೆಗಳನ್ನು ಮಕ್ಕಳಿಂದ ಅಭ್ಯಾಸ ಮಾಡಿಸುತ್ತೀರ ಎಂದು ಆಶಿಸುತ್ತಾ ಎಲ್ಲರಿಗೂ ಶುಭವಾಗಲಿ.



ಪವನ್ ಕುಮಾರ್ ರೆಡ್ಡಿ ವಿ.ಎಸ್.
ಕ್ಷೇತ್ರ ಸಂಪನ್ಮೂಲ
ಸಮನ್ವಯಾಧಿಕಾರಿಗಳು

ಸಲಹಾ ಸಮಿತಿ

ಕ್ರ.ಸಂ	ಅಧಿಕಾರಿಯ ಹೆಸರು	ಪದನಾಮ
01	ಶಿವಕುಮಾರ್ ಬಿ.ಕೆ.	ಇ.ಸಿ.ಓ.
02	ಶಿವಮೂರ್ತಿ ನಾಯ್ಕ	ಇ.ಸಿ.ಓ.
03	ರಂಗನಾಥ ಹೆಚ್.ಪಿ.	ಇ.ಸಿ.ಓ.
04	ವೇಣುಗೋಪಾಲ ರೆಡ್ಡಿ	ಇ.ಸಿ.ಓ.
05	ಚಂದ್ರಶೇಖರ ಎಮ್.	ಇ.ಸಿ.ಓ.
06	ದೇವರಾಜು ಬಿ.ಟಿ.	ಬಿ.ಆರ್.ಪಿ.
07	ಮುರಗೇಶ್ ಗಚ್ಚಿನ ಮಠ	ಬಿ.ಆರ್.ಪಿ.
08	ಗೀತಾರಾಣಿ	ಬಿ.ಆರ್.ಪಿ.
09	ರಂಗಸ್ವಾಮಿ ಕೆ.ಎಸ್.	ಬಿ.ಆರ್.ಪಿ.
10	ಸಾದಿಕ್ ಉಲ್ಲಾ ಷರೀಫ್	ಬಿ.ಆರ್.ಪಿ. (ಮೌಲ್ಯಾಂಕನ ನೋಡಲ್)
11	ವಿಶಾಲಾಕ್ಷಿ ಎಂ.	ಬಿ.ಐ.ಇ.ಆರ್.ಟಿ.

ತಾಂತ್ರಿಕ ಸಹಕಾರ

ಕ್ರ.ಸಂ	ಅಧಿಕಾರಿಯ ಹೆಸರು	ಪದನಾಮ
01	ಸಂಧ್ಯಾ ಪಿ.ಎಸ್.	ಲೆಕ್ಕ ಸಹಾಯಕರು
02	ಸೌಮ್ಯಶ್ರೀ	ಪ್ರೋಗ್ರಾಮರ್
03	ಶಿಲ್ಪ ಆರ್.	ಡೇಟಾ ಎಂಟ್ರಿ ಆಪರೇಟರ್
04	ಅಶ್ವತ್ಥ ಕುಮಾರ್	ಸಹಾಯಕರು

ಮಾದರಿ ಪ್ರಶ್ನೆ ಪತ್ರಿಕೆ ರಚನಾ ತಂಡ

ಕ್ರ.ಸಂ	ವಿಷಯ	ಸಂಪನ್ಮೂಲ ಶಿಕ್ಷಕರ ಹೆಸರು	ವಿಳಾಸ	ಮೊಬೈಲ್ ಸಂಖ್ಯೆ
01	ಕನ್ನಡ	ಮಮತ ಸ.ಶಿ.,	ಸ.ಹಿ.ಪ್ರಾ ಶಾಲೆ ಕಿಲಾರ್ಲಹಳ್ಳಿ, ಕನ್ನಮೇಡಿ ಕ್ಲಸ್ಟರ್	9901079598
02	ಇಂಗ್ಲೀಷ್	ನರಸಿಂಹ ಮೂರ್ತಿ ಸ.ಶಿ.	ಸ.ಹಿ.ಪ್ರಾ ಶಾಲೆ ಚಿನ್ನಮ್ಮನಹಳ್ಳಿ, ಕೆ.ಟಿ.ಹಳ್ಳಿ ಕ್ಲಸ್ಟರ್	9008964089
03	ಗಣಿತ	ರಾಜಾನಾಯ್ಕ ಎಸ್.ಹೆಚ್., ಸ.ಶಿ.	ಸ.ಹಿ.ಪ್ರಾ ಶಾಲೆ ಕಿಲಾರ್ಲಹಳ್ಳಿ, ಕನ್ನಮೇಡಿ ಕ್ಲಸ್ಟರ್	9731192343
04	ಪರಿಸರ ಅಧ್ಯಯನ	ಮಂಜಮ್ಮ ಸ.ಶಿ.	ಸ.ಹಿ.ಪ್ರಾ ಶಾಲೆ ದೇವರಬೆಟ್ಟ ಗುಂಡಾರ್ಲಹಳ್ಳಿ ಕ್ಲಸ್ಟರ್	9739450912

ಮಾದರಿ ಲಿಖಿತ ಪ್ರಶ್ನೆಪತ್ರಿಕೆ

1. ಮನೆಗೆ ಅನಾರೋಗ್ಯ ಉಂಟಾದಾಗ ಎಲ್ಲಿಗೆ ಭೇಟಿ ನೀಡುತ್ತೇವೆ?
ಎ) ಆಸ್ಪತ್ರೆ ಬಿ) ಶಾಲೆ ಸಿ) ದೇವಾಲಯ ಡಿ) ಅಂಗಡಿ
2. ಅವಿಭಕ್ತ ಕುಟುಂಬದಲ್ಲಿರುವ ಜನರ ಸಂಖ್ಯೆ.
ಎ) 02 ಬಿ) 01 ಸಿ) 4ಕ್ಕಿಂತ ಹೆಚ್ಚು ಡಿ) 03
3. ಹಳ್ಳಿಗಳಲ್ಲಿ ಸಾಮಾನ್ಯವಾಗಿ ಕಂಡುಬರುವ ಕಟ್ಟಡಗಳು.
ಎ) ಹೆಂಚಿನ ಮನೆ ಬಿ) ಮಾಲ್ ಗಳು ಸಿ) ಬಹುಮಹಡಿ ಕಟ್ಟಡ ಡಿ) ಕಚ್ಚಾಮನೆ
4. ಈ ಕೆಳಗಿನವುಗಳಲ್ಲಿ ಯಾವುದು ಸಾಹಸಿ ಕ್ರೀಡೆಯಾಗಿದೆ?
ಎ) ಗೋಲಿ ಆಟ, ಬಿ) ಚೆನ್ನೀದಾಂಡು ಸಿ) ಪರ್ವತಾರೋಹಣ ಡಿ) ಕ್ರಿಕೆಟ್
5. ಅತಿ ಕಡಿಮೆ ಬೆಲೆಯ ಸುದ್ದಿ ಸಂಪರ್ಕ ಸಾಧನ ಯಾವುದು?
ಎ) ದೂರದರ್ಶನ ಬಿ) ದಿನಪತ್ರಿಕೆ ಸಿ) ಪುಸ್ತಕಗಳು ಡಿ) ಮೊಬೈಲ್
6. ಮನುಷ್ಯನಿಗೆ ಜೀವಿಸಲು ಅತಿ ಅಗತ್ಯವಾಗಿ ಬೇಕಾದ ವಸ್ತು.
ಎ) ಮೊಬೈಲ್ ಬಿ) ಹಣ ಸಿ) ದೂರದರ್ಶನ ಡಿ) ಗಾಳಿ.
7. ಕಲುಷಿತ ನೀರು ಮತ್ತು ಆಹಾರ ಸೇವನೆಯಿಂದ ಬರುವ ರೋಗ.
ಎ) ಕಾಲರಾ ಬಿ) ಕೋವಿಡ್ ಸಿ) ಮೆದುಳು ಜ್ವರ ಡಿ) ಪಿಟ್ಸ್
8. ಇವುಗಳಲ್ಲಿ ರಾಷ್ಟ್ರೀಯ ಹಬ್ಬ ಯಾವುದು?
ಎ) ದಸರಾ ಬಿ) ವಿಜಯವಾಣಿ ಸಿ) ಬಾಲಮಂಗಳ ಡಿ) ಸಂಯುಕ್ತ ಕರ್ನಾಟಕ
9. ಇವುಗಳಲ್ಲಿ ಬಾಲ ಪತ್ರಿಕೆಯ ಹೆಸರು.
ಎ) ಪ್ರಜಾವಾಣಿ ಬಿ) ವಿಜಯ ವಾಣಿ ಸಿ) ಬಾಲಮಂಗಳ ಡಿ) ಸಂಯುಕ್ತ ಕರ್ನಾಟಕ
10. ಇವುಗಳಲ್ಲಿ ವಿಜಾತಿ ಒತ್ತಕ್ಷರದ ಪದ
ಎ) ಅಮ್ಮ ಬಿ) ಕನ್ನಡ ಸಿ) ರಾಷ್ಟ್ರ ಡಿ) ಭತ್ತ
11. ದಿನ ಪತ್ರಿಕೆಗಳಲ್ಲಿ ಒಳಗೊಂಡಿರುವ ಸುದ್ದಿಗಳು
ಎ) ಶೈಕ್ಷಣಿಕ ಸುದ್ದಿ ಬಿ) ರಾಜಕೀಯ ಸುದ್ದಿ ಸಿ) ಕ್ರೀಡಾ ಸುದ್ದಿ ಡಿ) ಎಲ್ಲವೂ
12. ವಿರಾಟ್ ಕೊಹ್ಲಿ ಯಾವ ಕ್ರೀಡೆಯ ಆಟಗಾರ
ಎ) ಕುಸ್ತಿ ಬಿ) ಕ್ರಿಕೆಟ್ ಸಿ) ಹಾಕಿ ಡಿ) ಕಬಡ್ಡಿ
13. ಈ ವಾಕ್ಯವನ್ನು ಪೂರ್ಣಗೊಳಿಸಿರಿ : _____ದೇಶದ ಬೆನ್ನೆಲುಬು.
ಎ) ರೈತ ಬಿ) ಶಿಕ್ಷಕ ಸಿ) ಪೋಲಿಸ್ ಡಿ) ವ್ಯಾಪಾರಿ.
14. ರಸ್ತೆ ಅಪಘಾತವಾದಾಗ ಮೊದಲು ಮಾಡಬೇಕಾಗಿರುವುದು.
ಎ) ಪ್ರಥಮ ಚಿಕಿತ್ಸೆ ಬಿ) ಆರೈಕೆ ಸಿ) ನಿರ್ಲಕ್ಷ್ಯ ಡಿ) ಯಾವುದು ಅಲ್ಲ.
15. ಈ ಘೋಷಣೆಯನ್ನು ಪೂರ್ಣಗೊಳಿಸಿರಿ.
ಅರಣ್ಯ ಬೆಳೆಸು ಜೀವ _____
ಎ) ಬದುಕಿಸು ಬಿ) ಉಳಿಸು ಸಿ) ಅಳಿಸು ಡಿ) ಗಳಿಸು
16. ಕಿರಿಯರಿಗೆ ಪತ್ರ ಬರೆಯುವಾಗ ಬರೆಯುವ ಸಂಬೋಧನೆ.
ಎ) ಮಾತೃಶ್ರೀ ಬಿ) ಪೂಜ್ಯ ಸಿ) ಚಿರಂಜೀವಿ ಡಿ) ತೀರ್ಥರೂಪ

17. 'ದ್ವೇಷಿಸು' ಪದದ ವಿರುದ್ಧಾರ್ಥಕ ಪದ

ಎ) ಸಹಿಸು ಬಿ) ಗೌರವಿಸು ಸಿ) ಪ್ರೀತಿಸು ಡಿ) ಅದ್ವೇಷಿಸು

18. ಆಹ್ವಾನ ಪತ್ರಿಕೆ ಕೊಡುವ ಸಂದರ್ಭ.

ಎ) ಮದುವೆ ಬಿ) ಗೃಹಪ್ರವೇಶ ಸಿ) ನಾಮಕರಣ ಡಿ) ಎಲ್ಲವೂ.

19. ಸೂರ್ಯ ಪದದ ಸಮಾನಾರ್ಥಕ ಪದ

ಎ) ಮನೆ ಬಿ) ನೀರು ಸಿ) ರವಿ ಡಿ) ಪುಸ್ತಕ

20. ಈ ಒಗಟನ್ನು ಬಿಡಿಸಿ:- ಭೂಮಿ ಮೇಲೆ ಓಡುತ್ತ ಮೋಟಾರಲ್ಲ, ಆಕಾಶದಲ್ಲಿ ಹಾರುತ್ತ ಹಕ್ಕಿಯಲ್ಲ, ಹಕ್ಕಿ ಕಂಡರೆ ಎಲ್ಲಿಲ್ಲದ ಭಯ ಅದಕ್ಕೆ.

ಎ) ರೈಲು ಬಿ) ಕಾರು ಸಿ) ವಿಮಾನ ಡಿ) ಹಡಗು

ವಿವರಣಾತ್ಮಕ ಪ್ರಶ್ನೆಗಳು

21. ಧಾರ್ಮಿಕ ಹಬ್ಬ ಮತ್ತು ರಾಷ್ಟ್ರೀಯ ಹಬ್ಬಗಳು ಯಾವುವು?

22. ನೀರಿನ ಉಪಯೋಗಗಳನ್ನು ಬರೆಯಿರಿ.

23. ದಿನಪತ್ರಿಕೆಗಳ ಹೆಸರನ್ನು ಬರೆಯಿರಿ.

24. ಸೋಮನ ಕುಡಿತದ ಚಟ ಆತನ ಕುಟುಂಬದ ಮೇಲಾಗುವ ಪರಿಣಾಮಗಳನ್ನು ಬರೆಯಿರಿ.

25. ಬಾಲ್ಯವಿವಾಹ ತಡೆಗಟ್ಟಲು ಮಾಡಬಹುದಾದ ಕ್ರಮಗಳು ಯಾವುದು?

26. ಹಳ್ಳಿಯ ಜೀವನ ಹಾಗೂ ನಗರ ಜೀವನದಲ್ಲಿ ಕಂಡುಬರುವ ಅಂಶಗಳನ್ನು ಬರೆಯಿರಿ.

27. ನಿಮಗೆ ಗೊತ್ತಿರುವ ಮೂರು ಗಾದೆ ಮಾತುಗಳನ್ನು ಬರೆಯಿರಿ.

28. ನೆರೆಹಾವಳಿ ಸಂದರ್ಭದಲ್ಲಿ ಜನರು ಎದುರಿಸುವ ಸವಾಲುಗಳನ್ನು ಬರೆಯಿರಿ.

29. ಪತ್ರ ಬರವಣಿಗೆಯ ಹಂತಗಳನ್ನು ಬರೆಯಿರಿ

30. ಮಕ್ಕಳ ದಿನಾಚರಣೆಯ ಕುರಿತು ಬರೆಯಿರಿ.

KARNATAKA STATE EXAMINATION AND ASSESSMENT BOARD

KSQAC, Malleswaram, Bangalore – 560003

Block Education Office and Block Resource centre, PavagadaTq

Assessment – March – 2023 Model Paper

Class : 5

Subject: Second Language English Marks : 40

Time: 2 Hours

Information to be filled by the student

Name of the Student : _____

Student SATS

--	--	--	--	--	--	--	--	--	--

No :

Signature of the Student: _____

Information filled by the invigilator

School DISE

--	--	--	--	--	--	--	--	--	--	--

School Name : _____

Cluster : _____ **Block :** _____ **District:** _____

School Type : Govt.

Aided

Unaided

(Put “√” mark for applicable information)

Signature of the invigilator: _____

Information to be filled by the Evaluator at the time of Evaluation

Question Numbers	Obtained marks	Question Numbers	Obtained marks	Question Numbers	Obtained marks
1		11		21	
2		12		22	
3		13		23	
4		14		24	
5		15		25	
6		16		26	
7		17		27	
8		18		28	
9		19		-	
10		20		-	
Total marks		Total marks		Total marks	
				Grand Total	

Total marks obtained (in words) :

Signature of the Evaluator : _____

I. Choose the correct alternative and write the complete answer along with the correct option for Question numbers 1 to 20

1. "Stand at ease" We hear the instruction at -

- A. Classroom
- B. Office room
- C. Prayer
- D. Lunch

Answer: _____

2. The Rhyming word for the word 'cool' is

- A. Pool
- B. Pull
- C. Full
- D. Dull

Answer: _____

3. The Elephant is _____ in size.

- A. Small
- B. Tiny
- C. Little
- D. Big

Answer: _____

4.

Fell, men, let, week, cot
want, feet, pen, jeep, net

The 2 sets of Rhyming words in the given words are-

- A. Fell-jeep
Cot-men
- B. Men-pen
Let-net
- C. Week-feet
Cot-let
- D. Want-feet
cot-pen

Answer: _____

5. We bite with our _____

- A. Tongue
- B. Mouth
- C. Teeth
- D. Nose

Answer: _____

6. The Opposite of 'Fast' is-

- A. Slow
- B. Quick
- C. Near
- D. Run

Answer: _____

7. The Crow says _____

- A. Bow-waw
- B. Caw-Caw
- C. Moo-Moo
- D. Quack-Quack

Answer: _____

8. The word 'grass' is formed by using the set of letters

- A. sarsk
- B. asrgs
- C. arsga
- D. pargs

Answer: _____

9. We drink water from a _____

- A. Drum
- B. Bucket
- C. Glass
- D. Plate

Answer: _____

10. The correct punctuation mark for the sentence-

What is your name

- A. Full stop
- B. Comma
- C. colon
- D. Question mark

Answer: _____

11. The hidden word in the word 'Soil'

- A. lois
- B. Oil
- C. os
- D. lios

Answer: _____

12. Pencils are used to _____

- A. Read
- B. Listen
- C. Write
- D. Speak

Answer: _____

13. Identify the related word for the given picture.



- A. feet
- C. chest

- B. stomach
- D. wrist

Answer: _____

14. Look at the below picture and choose the correct response.

- A. I am fine
- B. How old are you?
- C. Very good morning.
- D. Thank you



Answer: _____

15. Look at the picture and complete the word. Br_ _ h

- A. us
- B. hs
- C. es
- D. as



Answer: _____

16. This Sign board indicates—



- A. Go ahead
- B. One way
- C. Right Turn
- D. Go straight

Answer: _____

17. The word starting with the ending letter of the word 'Train'

- A. Ten B. Ink C. Right D. Nest

Answer: _____

18. We see time in a _____ .

- A. Clock B. Tree C. Table D. Bag

Answer: _____

19. India is my country. Identify the 'place' in this sentence.

- A. My B. Country C. India D. is

Answer: _____

20. Pick out the correct pair of words as per the example.

Ex: Full – Fool

- A. Pull - Pool B. Fit – Feet
C. Will – Wheel D. Hip – Heap

Answer: _____

II. Answer the following questions from 21 to 28 in the space provided.

21. Pick out the Rhyming words in the below sentences:

2marks

The king likes to sing.
She can hop with a mop.

Answer: _____ - _____

_____ - _____

22. Write any four words ending with the given letters: 2 Marks

Ex: ill-Bill

in- _____ , _____ , _____ , _____

23. Frame a sentence using the given pair of rhyming words.

2 Marks

a. Hit-Sit

Answer: _____

b. Boy – Toy

Answer:

Read the given story and answer the questions from 24 and

2+2Marks

Gopu went to the market.He bought a kilo of onions.Some were big, some were small,Some were tiny,some were pink,some were red, some were white and some were Green.

24. Who went to the market? What did he buy?

Answer:

25. What is the size of the Onions? List out the colours mentioned in the paragraph.

Answer:

26. Read the paragraph and use the capital letters, full stops and commas wherever necessary: 3Marks

radha was a cute baby she was studying in 5th standard on Sunday's she plays with a doll teddy one Sunday she didn't find it she searched for it in the cupboard in the hall under the sofa on the shelf and in the kitchen

Answer:

27. Draw the picture of a tree. colour it and write 2-3 sentences about it. 3Marks



Answer:

28. Look at the given picture and write 3 to 4 lines about it.
4Marks



Answer:

Key Answers

I.		
1	C	Prayer
2	A	Pool
3	D	Big
4	B	Men - pen let – net
5	C	Teeth
6	A	Slow
7	B	Caw – Caw
8	B	asrgs
9	C	Glass
10	D	Question Mark
11	B	Oil
12	C	Write
13	A	Feet
14	D	Thank you
15	A	us
16	B	One way
17	D	Nest
18	A	Clock
19	C	India
20	A	Pull – Pool
II.		
21	King – Sing Hop – mop	
22	Win, Sin, Tin, Pin, Fin, Bin	
23	a) Hit – He hit the ball with his leg. Sit – I want to sit in a chair. b) Boy – He is a boy. Toy – I want to play with a toy	
24	Gopu went to the market. He bought a kilo of onions.	
25	Some were big, some were small, some were tiny. Pink, red, white, green	
26	Radha was a cute baby. She was studying in 5 th standard, On Sunday's she plays with a doll teddy. One Sunday. She didn't find it. She searched for it in the cupboard, in the hall, under the sofa, on the shelf and in the kitchen.	
27	1 ½ marks for Drawing the Picture 1 ½ marks for sentences * Tree is big in size. * Tree gives us shadow, fruits.	
28	* This is a forest. * A child playing with a deer, 2 rabbits, a peacock and otherbirds. * The forest looks so beautiful. * Peacock is very beautiful bird in the forest.	

Oral Questions

1. Say any one Rhyme. 2marks
2. Read the following:
- A. Tie, Moon, Queue, Together, Found 1mark
- B. Give me another book. 2 marks
- The postman threw the bag into the van
3. Look at the picture and say the word: 2marks

A.



B.

C.



D.

4. Keep your books clean. Say the place of instruction given. 1mark
(Playground, classroom, Library, Assembly, Kitchen, Toilet)
5. Look at the picture and say any two slogans. 2marks




ಕ್ಷೇತ್ರಶಿಕ್ಷಣಾಧಿಕಾರಿಗಳ/ಕ್ಷೇತ್ರ ಸಂಪನ್ಮೂಲ ಸಮನ್ವಯಾಧಿಕಾರಿಗಳ ಕಾರ್ಯಾಲಯ
ಪಾವಗಡ ,ಪಾವಗಡ ತಾಲ್ಲೂಕು ಮಧುಗಿರಿ ಜಿಲ್ಲೆ

2022-23 ನೇ ಸಾಲಿನ ಪಬ್ಲಿಕ್ ಪರೀಕ್ಷೆಯ ಮಾದರಿ ಪ್ರಶ್ನೆ ಪತ್ರಿಕೆ

ವಿಷಯ: ಗಣಿತ ತರಗತಿ: 5ನೇ ಅಂಕಗಳು:40+10 ಸಮಯ: 2 ಗಂಟೆ

1. ಈ ಕೆಳಗೆ ಕೊಟ್ಟಿರುವ ಪ್ರಶ್ನೆಗಳಿಗೆ ಪ್ರತಿ ಪ್ರಶ್ನೆಗೆ A ,B,C,D ಎಂಬ ನಾಲ್ಕು ಆಯ್ಕೆಯ ಉತ್ತರಗಳನ್ನು ನೀಡಲಾಗಿದೆ ಇವುಗಳಲ್ಲಿ ಅತ್ಯಂತ ಸೂಕ್ತವಾದ ಉತ್ತರವನ್ನು $\sqrt{}$ (ಟಿಕ್) ಮಾಡುವುದರ ಮೂಲಕ ಉತ್ತರಿಸಿ 20X1=20

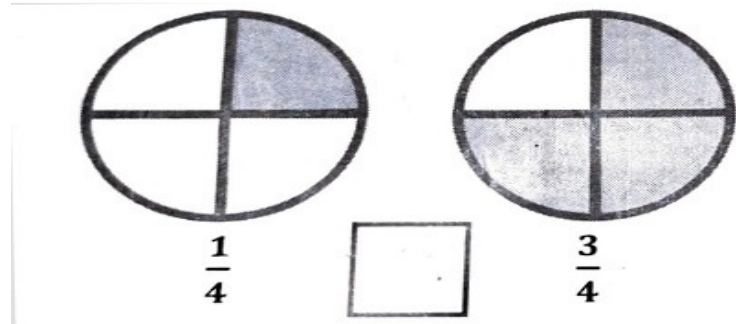
1) ಕೆಳಗಿನ ಚಿತ್ರದಲ್ಲಿ ಬಣ್ಣ ತುಂಬಿರುವ ಭಾಗದ ಭಿನ್ನರಾಶಿ ರೂಪ:



A) $\frac{2}{4}$ B) $\frac{3}{4}$

C) $\frac{2}{6}$ D) $\frac{1}{4}$

2) ಕೆಳಗಿನ ಚಿತ್ರಗಳಲ್ಲಿ ಯಾವ ಚಿತ್ರದ ಭಾಗಗಳು ದೊಡ್ಡದಾಗಿವೆ ಎಂಬುದನ್ನು ಗುರುತಿಸಿ, ಸೂಕ್ತ ಚಿಹ್ನೆ ಗುರುತಿಸಿ



A) \leq B) \geq

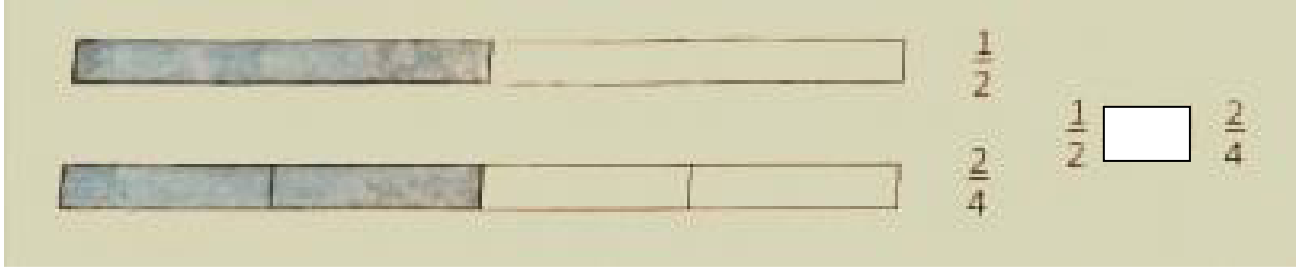
C) $<$ D) $>$

3) ಸಮಾನ ಬಿನ್ನರಾಶಿಗಳಲ್ಲಿ ಇರಬೇಕಾದ ಸೂಕ್ತ ಸಂಖ್ಯೆ :

$$\frac{2}{4} = \frac{\quad}{8}$$

- A) 4 B) 6
C) 3 D) 2

4) ಸೂಕ್ತ ಚಿಹ್ನೆ ಬಳಸಿ ಖಾಲಿ ಜಾಗ ತುಂಬಿ (< , > , =)



$\frac{1}{2}$ $\frac{2}{4}$
A) < B)= C) > D) +

5) 1 ಮೀಟರ್‌ಗೆ _____ ಸೆಂಟಿಮೀಟರ್

- A) 1000 B) 500 C) 10 D) 100


6) ಗಡಿಯಾರಕ್ಕೆ _____ ಮುಳ್ಳುಗಳಿವೆ

- A) 24 B) 12 C) 16 D) 7

7) AM ಎಂದರೆ ದಿನದ ಯಾವ ಸಮಯ ? -----

- A) ರಾತ್ರಿ B) ಸಂಜೆ C) ಮಧ್ಯಾಹ್ನ D) ಮಧ್ಯಾಹ್ನದ ಮೊದಲು

8) ಗಡಿಯಾರದ ಚಿತ್ರದಲ್ಲಿ ಸಮಯ ನೋಡಿ ಉತ್ತರಿಸಿ




- A) 12 ಗಂಟೆ ಮಧ್ಯಾಹ್ನ B) 2 ಗಂಟೆ ಮಧ್ಯಾಹ್ನ
C) 2ಗಂಟೆ 12ನಿಮಿಷ D)ಮಧ್ಯಾಹ್ನ 12 ಗಂಟೆ 2 ನಿಮಿಷ

9) L ಆಕಾರವಿರುವ ಕೋನದ ಹೆಸರೇನು ?

- A) ಲಘು ಕೋನ B) ಲಂಬ ಕೋನ
C) ವಿಶಾಲ ಕೋನ D)ಸಮಾನ ಕೋನ

10) ಕೆಳಗಿನ ಚಿತ್ರ ಯಾವ ಕೋನ ಆಗಿದೆ




- A) ಲಘು ಕೋನ B) ಲಂಬ ಕೋನ C) ವಿಶಾಲ ಕೋನ D)ಸಮಾನ ಕೋನ

11) ಗಡಿಯಾರದಲ್ಲಿ 2 ಗಂಟೆ ಸಮಯ ----- ಕೋನವಾಗಿರುತ್ತದೆ

- A)ಸರಳ ಕೋನ B) ಲಂಬ ಕೋನ C) ವಿಶಾಲ ಕೋನ D)ಲಘು ಕೋನ

12)ಕೆಳಗಿನ ಚಿತ್ರಗಳಲ್ಲಿ ವಿಶಾಲ ಕೋನವನ್ನು ಗುರುತಿಸಿ

A)



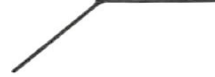
B)



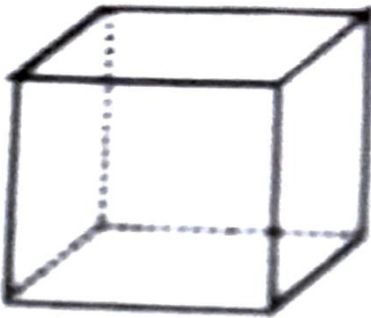
C)



D)



13) ಈ ಕೆಳಗಿನ ಘನಾಕೃತಿಯ ಹೆಸರೇನು ? -----

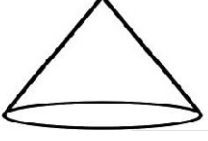


- A)ಚೌಕ ಘನ B)ಶಂಕು C) ಆಯತ ಘನ D)ಗೋಲ

14) ಆಯತ ಘನದ ಮುಖಗಳ ಸಂಖ್ಯೆ -----

- A) 4 B) 8 C) 6 D)12

15) ಈ ಕೆಳಗಿನ ಆಕೃತಿಯಲ್ಲಿರುವ ಇರುವ ಅಂಚುಗಳ ಸಂಖ್ಯೆ -----



A) 1 B) 0 C) 3 D) 4

16) ಈ ಕೆಳಗಿನವುಗಳಲ್ಲಿ ಸಿಲಿಂಡರ್ ಆಕಾರದ ವಸ್ತು :


A) ಚಂಡು B) ಹಲಗೆ C) ಐಸ್ ಕ್ರೀಮ್ D) ನೀರಿನ ಕ್ಯಾನ್

17) ಬಿಟ್ಟ ಸ್ಥಳ ಸಂಖ್ಯಾ ವಿನ್ಯಾಸಗಳಲ್ಲಿ ಪೂರ್ಣಗೊಳಿಸಿ

2 , 4 , — , 8 , — , 12

A) 6,10 B) 3,6 C) 5,6 D) 4,8

18) ಈ ಕೆಳಗಿನ ವಿನ್ಯಾಸವನ್ನು ಪೂರ್ಣಗೊಳಿಸಿ



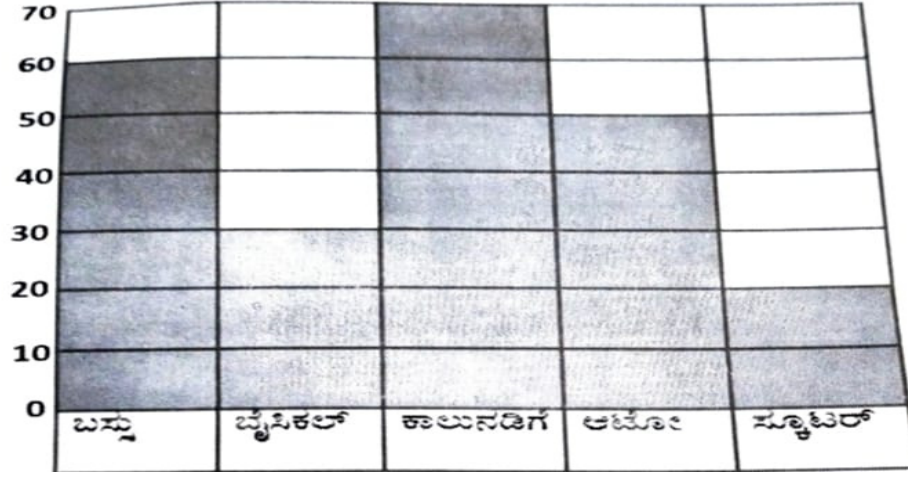
A) — , B) — C) — D) —

19) ಈ ಕೆಳಗಿನ ಸಂಖ್ಯಾವಿನ್ಯಾಸವನ್ನು ಪೂರ್ಣಗೊಳಿಸಿ

10	20	30	40	50	60	
----	----	----	----	----	----	--

A) 70 B) 20 C) 50 D) 30

20) ಶಾಲೆಯೊಂದರ ಮಕ್ಕಳು ಬಳಸುವ ವಾಹನಗಳು ಈ ಕೆಳಗಿನಂತೆ ನಕ್ಷೆ ಗಮನಿಸಿ ಪ್ರಶ್ನೆಗಳಿಗೆ ಸೂಕ್ತ ಉತ್ತರ ಆಯ್ಕೆ ಮಾಡಿ



ಮಕ್ಕಳು ಶಾಲೆಗೆ ಬರಲು ಯಾವ ವಾಹನ ಹೆಚ್ಚು ಬಳಸುತ್ತಾರೆ ಮತ್ತು ಕಾಲುವಡಿಗೇ ಮೂಲಕ ಎಷ್ಟು ಮಕ್ಕಳು ಬರುತ್ತಾರೆ

A) ಬಸ್ಸು , 60 B) ಕಾಲುವಡಿಗೇ, 70 C) ಆಟೋ, 50 D) ಸ್ಕೂಟರ್, 20

II. ಈ ಕೆಳಗಿನ ಪ್ರಶ್ನೆಗಳಿಗೆ ಉತ್ತರಿಸಿ

10X 2=20

1) ಈ ಕೆಳಗಿನ ಯಾವ ಭಿನ್ನರಾಶಿಗಳು $\frac{1}{2}$ ಕ್ಕೆ ಸಮನಾಗಿವೆ, ಅದಕ್ಕೆ ವೃತ್ತ ಹಾಕಿ

$$\frac{25}{50} \quad \frac{20}{50} \quad \frac{10}{25} \quad \frac{15}{30} \quad \frac{5}{10} \quad \frac{5}{15} \quad \frac{4}{20} \quad \frac{50}{100}$$

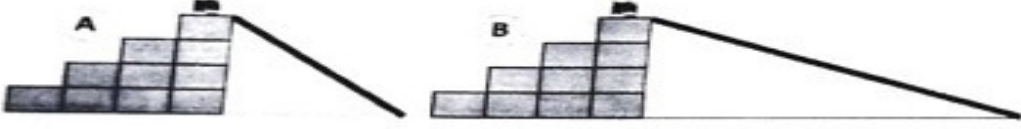
2) ಖಾಲಿ ಬಿಟ್ಟು ಸ್ಥಳದಲ್ಲಿ ಸೂಕ್ತ ಸಮಾನ ಭಿನ್ನರಾಶಿಗಳನ್ನು ಬರೆಯಿರಿ

$$\frac{2}{4} = \frac{\square}{2} \quad \frac{4}{8} = \frac{\square}{4} \quad \frac{4}{12} = \frac{\square}{6}$$

3) ಈ ಕೆಳಗಿನವುಗಳ ತೂಕಗಳನ್ನು ಯಾವ ಮಾನದಲ್ಲಿ ಅಳೆಯುತ್ತಾರೆ ಅದಕ್ಕೆ \sqrt ಮಾಡಿ

ಅಳೆಯಬೇಕಾದುದು	ಕಿಲೋಗ್ರಾಂಗಳಲ್ಲಿ	ಗ್ರಾಂಗಳಲ್ಲಿ
ಭತ್ತದ ರಾಶಿ		
ಏಲಕ್ಕಿ		
ಮೇಕೆಯ ತೂಕ		
ಸೀಮೆಂಟ್ ಚೀಲ		

4) ಈ ಕೆಳಗಿನ ಜಾರು ಬಂಡಿಯನ್ನು ಗಮನಿಸಿ ಕೊಟ್ಟಿರುವ ಪ್ರಶ್ನೆಗಳಿಗೆ ಉತ್ತರಿಸಿ



• ರಾಜು ಯಾವ ಜಾರು ಬಂಡಿಯಲ್ಲಿ ಬೇಗ ಜಾರುತ್ತಾನೆ

• ಯಾವ ಜಾರು ಬಂಡಿ ಉದ್ದವಾಗಿದೆ

• ಯಾವ ಜಾರು ಬಂಡೆ ಗೋಡೆ ಎತ್ತರವಾಗಿದೆ

• ಯಾವ ಜಾರು ಬಂಡಿ ಇಳಿಜಾರು ಹೆಚ್ಚಿದೆ

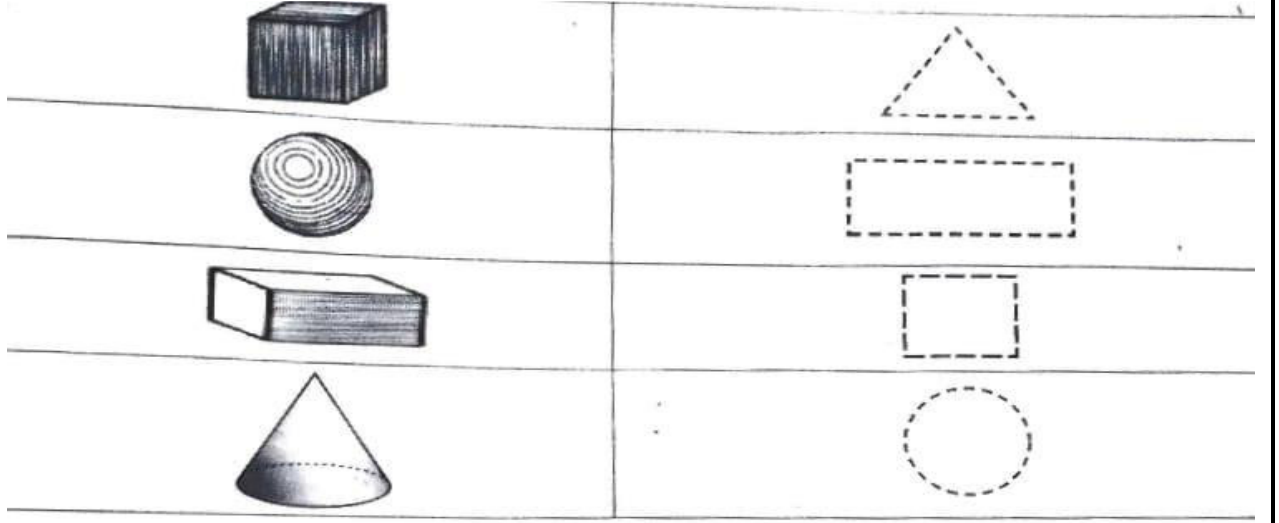
5) ಕೆಳಗೆ ಎರಡು ಕಡ್ಡಿಗಳನ್ನು ಉಪಯೋಗಿಸಿ ಆಕೃತಿಗಳನ್ನು ಮಾಡಲಾಗಿದೆ ಅವುಗಳನ್ನು ಗಮನಿಸಿ ಕೆಳಗಿನ ಪ್ರಶ್ನೆಗಳಿಗೆ ಉತ್ತರಿಸಿ



• ಯಾವ ಚಿತ್ರದಲ್ಲಿ ಎರಡು ಕಡ್ಡಿಗಳ ನಡುವಿನ ಅಂತರ ಹೆಚ್ಚಿದೆ ? -----


• ಯಾವ ಚಿತ್ರದಲ್ಲಿ ಎರಡು ಕಡ್ಡಿಗಳ ನಡುವಿನ ಅಂತರ ಕಡಿಮೆಯಿದೆ? -----

6) ಈ ಕೆಳಗಿನ ಕೋಷ್ಟಕದಲ್ಲಿರುವ ಘನಾಕೃತಿಯ ಚಿತ್ರಗಳನ್ನು ಎರಡು ಆಯಾಮದ ಚಿತ್ರದೊಂದಿಗೆ ಜೋಡಿಸಿ



7) ಸಂಖ್ಯಾವಿನ್ಯಾಸ ಗಮನಿಸಿ ಮುಂದುವರೆಸಿ

ಅ)



ಆ)



8) ಸಂಖ್ಯಾ ವಿನ್ಯಾಸ ಪೂರ್ಣಗೊಳಿಸಿ

5,10,15, _____, _____

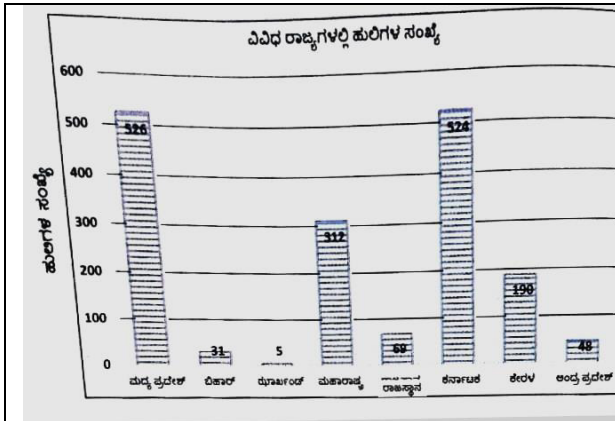
1,3,5, _____, _____

9) ವನಮಹೋತ್ಸವದ ದಿನ ಮಕ್ಕಳು ನೆಟ್ಟ ವಿವಿಧ ಸಸಿಗಳ ಸಂಖ್ಯೆ ಗಮನಿಸಿ ಉತ್ತರಿಸಿ

ಬೀಟೆ ಸಸಿ	🌳 🌳 🌳 🌳 🌳
ಹೊನ್ನೆ ಸಸಿ	🌳 🌳 🌳 🌳
ತೇಗದ ಸಸಿ	🌳 🌳 🌳 🌳 🌳 🌳
ಬೇವಿನ ಸಸಿ	🌳
ಅರಳಿ ಸಸಿ	🌳 🌳 🌳
ಬನ್ನಿ ಸಸಿ	🌳 🌳

- ಶಾಲಾ ಆವರಣದಲ್ಲಿ ನೆಟ್ಟ ಸಸಿಗಳೆಷ್ಟು ?-----
- ಶಾಲಾ ಆವರಣದಲ್ಲಿ ನೆಟ್ಟ ಬೀಟೆ ಸಸಿಗಳೆಷ್ಟು ?-----
- ಶಾಲಾ ಆವರಣದಲ್ಲಿ ನೆಟ್ಟ ತೇಗದ ಸಸಿಗಳೆಷ್ಟು ?-----
- ಶಾಲಾ ಆವರಣದಲ್ಲಿ ನೆಟ್ಟ ಬೇವಿನ ಸಸಿಗಳೆಷ್ಟು ?-----

10) ಜಗತ್ತಿನಲ್ಲಿಯೇ ಅಳಿವಿನಂಚಿನಲ್ಲಿ ಇರುವ ಪ್ರಾಣಿ ಹುಲಿ .2018 ಅಂಕಿ ಅಂಶಗಳ ಪ್ರಕಾರ ದೇಶದ ವಿವಿಧ ರಾಜ್ಯಗಳಲ್ಲಿರುವ ಹುಲಿಗಳ ಸಂಖ್ಯೆಯನ್ನು ಸ್ತಂಭ ನಕ್ಷೆಯಲ್ಲಿ ನೀಡಿದೆ ,ಅದನ್ನು ಗಮನಿಸಿ ಪ್ರಶ್ನೆಗಳಿಗೆ ಉತ್ತರಿಸಿ



ಅತಿ ಹೆಚ್ಚು ಹುಲಿಗಳಿರುವ ರಾಜ್ಯ ಯಾವುದು ? _____

300 ಕ್ಕಿಂತ ಹೆಚ್ಚು ಹುಲಿಗಳಿರುವ ರಾಜ್ಯ ಯಾವುದು ? _____

ಅತಿ ಕಡಿಮೆ ಹುಲಿಗಳಿರುವ 2ನೇ ರಾಜ್ಯ ಯಾವುದು ? _____

ನಕ್ಷೆಯಲ್ಲಿ ಅತೀ ಕಡಿಮೆ ಹುಲಿಗಳಿರುವ ರಾಜ್ಯ ಯಾವುದು ? _____

ಈ ಕೆಳಗಿನ ಪ್ರಶ್ನೆಗಳಿಗೆ ಮೌಖಿಕವಾಗಿ ಉತ್ತರಿಸಿ

ಅಂಕಗಳು: 10

ವಿಷಯ: ಗಣಿತ

ತರಗತಿ: 5ನೇ

- 1) $\frac{2}{4}$ ಮತ್ತು $\frac{3}{4}$ ರಲ್ಲಿ ಯಾವುದು ದೊಡ್ಡದು ?
- 2) $\frac{1}{3}$ ಕ್ಕೆ ಒಂದು ಸಮಾನ ಭಿನ್ನರಾಶಿ ಯಾವುದು ?
- 3) 1 ಮೀಟರ್ ----- ಗೆ ಸಮ ?
- 4) 1 ಕಿ ಗ್ರಾಂ ----- ಗ್ರಾಂ ಗೆ ಸಮ
- 5) 1 ಗಂಟೆಗೆ ----- ನಿಮಿಷಗಳು
- 6) 60^0 ಅಳತೆ ಹೊಂದಿರುವ ಕೋನದ ಹೆಸರೇನು ?
- 7) ಲಂಬಕೋನದ ಅಳತೆ ಎಷ್ಟು ?
- 8) ಆಯತ ಘನದ ಶೃಂಗಗಳ ಸಂಖ್ಯೆ ಎಷ್ಟು?
- 9) ಶಂಖುವಿನ ಆಕಾರಕ್ಕೆ ಒಂದು ಉದಾಹರಣೆ ಕೊಡಿ
- 10) 3,5,7 --- ಮುಂದಿನ ಸಂಖ್ಯೆ -----

ಕ್ಷೇತ್ರಶಿಕ್ಷಣಾಧಿಕಾರಿಗಳ/ಕ್ಷೇತ್ರ ಸಂಪನ್ಮೂಲ ಸಮನ್ವಯಾಧಿಕಾರಿಗಳ ಕಾರ್ಯಾಲಯ
ಪಾವಗಡ ,ಪಾವಗಡ ತಾಲ್ಲೂಕು ಮಧುಗಿರಿ ಜಿಲ್ಲೆ

2022-23 ನೇ ಸಾಲಿನ ಪಬ್ಲಿಕ್ ಪರೀಕ್ಷೆಯ ಮಾದರಿ ಪ್ರಶ್ನೆ ಪತ್ರಿಕೆಯ ಉತ್ತರ ಸೂಚಿ
ವಿಷಯ: ಗಣಿತ ತರಗತಿ: 5ನೇ ಅಂಕಗಳು:40+10 ಸಮಯ: 2 ಗಂಟೆ

- 1) B) $\frac{3}{4}$
- 2) C) <
- 3) A) 4
- 4) B) =
- 5) D) 100
- 6) B) 12
- 7) D)ಮಧ್ಯಾಹ್ನದ ಮೊದಲು
- 8) B) 2 ಗಂಟೆ ಮಧ್ಯಾಹ್ನ
- 9) B) ಲಂಬ ಕೋನ
- 10) A) ಲಘು ಕೋನ
- 11) D)ಲಘು ಕೋನ
- 12) C)



- 13) A) ಚೌಕ ಘನ
- 14) B) 8
- 15) A) 1
- 16) D)ನೀರಿನ ಕ್ಯಾನ್

17) A)6,10


18) D) :-

19) A)70

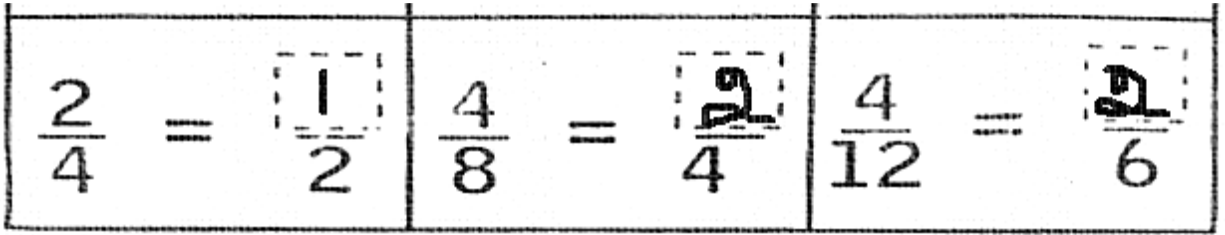
20) B) ಕಾಲುನಡಿಗೆ,70

II. ಈ ಕೆಳಗಿನ ಪ್ರಶ್ನೆಗಳಿಗೆ ಉತ್ತರಿಸಿ 10X 2=20

1)



2)



3)

ಅಳೆಯಬೇಕಾದುದು	ಕಿಲೋಗ್ರಾಂಮ್‌ಗಳಲ್ಲಿ	ಗ್ರಾಂಮ್‌ಗಳಲ್ಲಿ
ಭತ್ತದ ರಾಶಿ	√	
ಏಲಕ್ಕಿ		√
ಮೇಕೆಯ ತೂಕ	√	
ಸೀಮೆಂಟ್ ಚೀಲ	√	

4)

- ರಾಜು ಯಾವ ಜಾರು ಬಂಡಿಯಲ್ಲಿ ಬೇಗ ಜಾರುತ್ತಾನೆ

A

- ಯಾವ ಜಾರು ಬಂಡಿ ಉದ್ದವಾಗಿದೆ

B

- ಯಾವ ಜಾರು ಬಂಡೆ ಗೋಡೆ ಎತ್ತರವಾಗಿದೆ

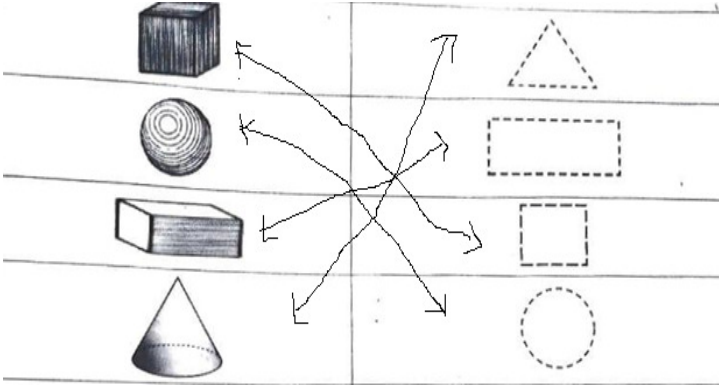
B

- ಯಾವ ಜಾರು ಬಂಡೆ ಇಳಿಜಾರು ಹೆಚ್ಚಿದೆ

A

5) ಯಾವ ಚಿತ್ರದಲ್ಲಿ ಎರಡು ಕಡ್ಡಿಗಳ ನಡುವಿನ ಅಂತರ ಹೆಚ್ಚಿದೆ ? R, N

- ಯಾವ ಚಿತ್ರದಲ್ಲಿ ಎರಡು ಕಡ್ಡಿಗಳ ನಡುವಿನ ಅಂತರ ಕಡಿಮೆ ಇದೆ? D, K



6)

7) ಸಂಖ್ಯಾವಿನ್ಯಾಸ ಗಮನಿಸಿ ಮುಂದುವರಿಸಿ



8) 20, 25 7,9

9)

- ಶಾಲಾ ಆವರಣದಲ್ಲಿ ನೆಟ್ಟ ಸಸಿಗಳೆಷ್ಟು ? 21
- ಶಾಲಾ ಆವರಣದಲ್ಲಿ ನೆಟ್ಟ ಬೀಟೆ ಸಸಿಗಳೆಷ್ಟು ? 5
- ಶಾಲಾ ಆವರಣದಲ್ಲಿ ನೆಟ್ಟ ತೇಗದ ಸಸಿಗಳೆಷ್ಟು ? 6
- ಶಾಲಾ ಆವರಣದಲ್ಲಿ ನೆಟ್ಟ ಬೇವಿನ ಸಸಿಗಳೆಷ್ಟು ? 1

10)

- ಅತಿ ಹೆಚ್ಚು ಹುಲಿಗಳಿರುವ ರಾಜ್ಯ ಯಾವುದು ? ಮಧ್ಯಪ್ರದೇಶ
- 300 ಕ್ಕಿಂತ ಹೆಚ್ಚು ಹುಲಿಗಳಿರುವ ರಾಜ್ಯ ಯಾವುದು ? ಕರ್ನಾಟಕ ಮತ್ತು ಮಧ್ಯಪ್ರದೇಶ
- ಅತಿ ಕಡಿಮೆ ಹುಲಿಗಳಿರುವ 2ನೇ ರಾಜ್ಯ ಯಾವುದು ? ಬಿಹಾರ
- ನಕ್ಷೆಯಲ್ಲಿ ಅತೀ ಕಡಿಮೆ ಹುಲಿಗಳಿರುವ ರಾಜ್ಯ ಯಾವುದು ? ಝಾರ್ಖಂಡ್

ಈ ಕೆಳಗಿನ ಪ್ರಶ್ನೆಗಳಿಗೆ ಮೌಖಿಕವಾಗಿ ಉತ್ತರಿಸಿ

ಅಂಕಗಳು: 10

ವಿಷಯ: ಗಣಿತ

ತರಗತಿ: 5ನೇ

ಉತ್ತರ ಸೂಚಿ

- 10) $\frac{2}{4}$ ಮತ್ತು $\frac{3}{4}$ ರಲ್ಲಿ ಯಾವುದು ದೊಡ್ಡದು ? $\frac{3}{4}$ ದೊಡ್ಡದು
- 11) $\frac{1}{3}$ ಕ್ಕೆ ಒಂದು ಸಮಾನ ಭಿನ್ನರಾಶಿ ಯಾವುದು ? $\frac{2}{6}$
- 3) 1 ಮೀಟರ್ ----- ಗೆ ಸಮ ? 100 ಸೆ .ಮೀ
- 4) 1 ಕಿ ಗ್ರಾಂ ----- ಗ್ರಾಂ ಗೆ ಸಮ 1000
- 5) 1 ಗಂಟೆಗೆ ----- ನಿಮಿಷಗಳು 60
- 6) 60^0 ಅಳತೆ ಹೊಂದಿರುವ ಕೋನದ ಹೆಸರೇನು ? ಲಘುಕೋನ
- 7) ಲಂಬಕೋನದ ಅಳತೆ ಎಷ್ಟು ? 90^0
- 8) ಆಯತ ಘನದ ಶೃಂಗಗಳ ಸಂಖ್ಯೆ ಎಷ್ಟು? 8
- 9) ಶಂಖುವಿನ ಆಕಾರಕ್ಕೆ ಒಂದು ಉದಾಹರಣೆ ಕೊಡಿ ಐಸ್ ಕ್ರೀಮ್
- 10) 3,5,7 ---- ಮುಂದಿನ ಸಂಖ್ಯೆ ----- 9

ತರಗತಿ :- 5 ವಿಷಯ: : ಪರಿಸರ ಅಧ್ಯಯನ ಲಿಖಿತ ಪ್ರಶ್ನೆಪತ್ರಿಕೆ ಅಂಕ: 40

ಕಲಿಕಾಫಲಗಳು

1. ಕೃಷಿಯ ಹಂತಗಳನ್ನು ಅರ್ಥಮಾಡಿಕೊಳ್ಳುವರು.
2. ಮಳೆಯಾಧಾರಿತ ಕೃಷಿ ಭೂಮಿ, ನೀರಾವರಿ ಕೃಷಿ ಭೂಮಿ ಬಗ್ಗೆ ಅರ್ಥಮಾಡಿಕೊಂಡು ವ್ಯತ್ಯಾಸಗಳನ್ನು ಗುರುತಿಸುವರು.
3. ಆಹಾರದಲ್ಲಿರುವ ಪೋಷಕಾಂಶಗಳನ್ನು ಗುರುತಿಸುವರು.
4. ಆಹಾರ ದೊರೆಯುವ ಮೂಲಗಳು ಹಾಗೂ ಆಹಾರ ಲಭ್ಯತೆಯ ಪರಿಚಯ ಮಾಡಿಕೊಳ್ಳುವರು.
5. ನೈಸರ್ಗಿಕ ಸಂಪನ್ಮೂಲಗಳ ಅವಶ್ಯಕತೆ ಮತ್ತು ವಿಧಗಳನ್ನು ಗುರುತಿಸುವರು ಮತ್ತು ವಿವಿಧ ಸಂಪನ್ಮೂಲಗಳ ಮಹತ್ವವನ್ನು ಅರ್ಥ ಮಾಡಿಕೊಳ್ಳುವರು.
6. ದ್ರವ್ಯ ಮತ್ತು ಅದರ ಲಕ್ಷಣಗಳನ್ನು ಗುರುತಿಸುವರು.
7. ದ್ರವ್ಯದ ವಿವಿಧ ಸ್ಥಿತಿಗಳನ್ನು ಗುರುತಿಸುವರು.
8. ಭಾರತದ ನಕ್ಷೆಯಲ್ಲಿ ಕರ್ನಾಟಕವನ್ನು ಗುರುತಿಸುವರು.
9. ರಾಜ್ಯಗಳು ಮತ್ತು ಕೇಂದ್ರಾಡಳಿತ ಪ್ರದೇಶಗಳನ್ನು ಗುರುತಿಸುವರು.

I. ಕೊಟ್ಟಿರುವ ಪ್ರಶ್ನೆಗಳನ್ನು ಓದಿ, ಅರ್ಥೈಸಿ ಸರಿಯಾದ ಆಯ್ಕೆಗಳಿಗೆ '✓' ಮಾಡಿರಿ.



1. ಈ ಕೃಷಿ ಉಪಕರಣದ ಹೆಸರೇನು?

ಎ) ಗುದ್ದಲಿ ಬಿ) ಕುಡುಗೋಲು ಸಿ) ನೇಗಿಲು ಡಿ) ಚಲಕೆ.

2. ಕೃಷಿ ಹಂತಗಳನ್ನು ಸರಿಯಾದ ಕ್ರಮದಲ್ಲಿ ಜೋಡಿಸಿದಾಗ.

ಎ) ಬೆಳೆ ಬೆಳೆಯಲು ಬೀಜಗಳನ್ನು ಬಿತ್ತುವುದು.

ಬಿ) ಬೆಳೆಗಳು ಚೆನ್ನಾಗಿ ಬೆಳೆಯಲು ರಾಸಾಯನಿಕ ಅಥವಾ ಸಾವಯವ ಗೊಬ್ಬರ ಹಾಕುವುದು.

ಸಿ) ಬೆಳೆ ಬೆಳೆಯಲು ಉಳುಮೆ ಮಾಡುವುದು.

ಡಿ) ನೀರು ಹಾಯಿಸುವುದು.

ಎ) ಬಿ,ಸಿ,ಎ,ಡಿ,

ಬಿ)ಸಿ,ಡಿ,ಎ,ಬಿ,

ಸಿ) ಬಿ,ಎ,ಡಿ,ಸಿ,

ಡಿ) ಸಿ,ಡಿ,ಬಿ,ಎ.

3. ಕೆಳಗಿನವುಗಳಲ್ಲಿ ನೀರಾವರಿ ಬೆಳೆಯನ್ನು ಗುರ್ತಿಸಿ.

ಎ) ರಾಗಿ , ಬಿ) ಹುಣಸೆಹಣ್ಣು ಸಿ) ಭತ್ತ ಡಿ) ಹುರುಳಿ

4. ಕೆಳಗಿನವುಗಳಲ್ಲಿ 'ಸಿರಿಧಾನ್ಯ'ವನ್ನು ಗುರ್ತಿಸಿರಿ.

ಎ) ಭತ್ತ, ಬಿ) ಗೋಧಿ ಸಿ) ಶೇಂಗಾ ಡಿ) ಸಜ್ಜೆ

5. 'ತುಂತುರು ನೀರಾವರಿ' ಪದ್ಧತಿಯಿಂದ ಬೆಳೆಯುವ ಬೆಳೆಯನ್ನು ಗುರ್ತಿಸಿರಿ.

ಎ) ಅಡಿಕೆ ಬಿ) ಶೇಂಗಾ ಸಿ) ರೇಷ್ಮೆ ಡಿ) ಪಪ್ಪಾಯಿ

6. " ನಾನು ಪ್ರತಿದಿನ ಹಾಲು ಕುಡಿಯುತ್ತೇನೆ". ಹಾಲು ನನ್ನ ಬೆಳವಣಿಗೆಗೆ ಸಹಕಾರಿಯಾಗಿದೆ. ಹಾಗಾದರೆ ಹಾಲಿನಲ್ಲಿರುವ ಪೋಷಕಾಂಶವನ್ನು ಗುರ್ತಿಸು.

ಎ) ವಿಟಮಿನ್

ಬಿ) ಕಾರ್ಬೋಹೈಡ್ರೇಟ್

ಸಿ) ಪ್ರೋಟೀನ್

ಡಿ) ನಾರು ಪದಾರ್ಥಗಳು.

7. " ಎಲ್ಲ ಸಿಹಿತಿಂಡಿ ತಯಾರಿಕೆ" ಹಾಗೂ ಅಡುಗೆಗೆ ನನ್ನನ್ನು ಬಳಸುತ್ತಾರೆ. ಹೆಚ್ಚು ಶಕ್ತಿ ಒದಗಿಸೋನನ್ನನ್ನು "ಕೊಬ್ಬಿನ ಪದಾರ್ಥಗಳು" ಎಂದು ಕರೆಯುತ್ತಾರೆ. ಹಾಗಾದರೆ ನನ್ನನ್ನು ಗುರ್ತಿಸುವೆಯಾ?

ಎ) ಆಲೂಗಡ್ಡೆ, ಬಿ) ಬಾಳೆ ಹಣ್ಣು, ಸಿ) ಸಕ್ಕರೆ ಡಿ) ತುಪ್ಪ

8. ಪ್ರಾಣಿ ಮೂಲ ಆಹಾರ ಪದಾರ್ಥವನ್ನು ಗುರ್ತಿಸಿರಿ.

ಎ) ಅಕ್ಕಿ ಬಿ) ಕ್ಯಾರೆಟ್ ಸಿ) ತೆಂಗಿನಕಾಯಿ ಡಿ) ಹಾಲು

9. ಹಸಿಯಾಗಿ ತಿನ್ನುವ ಆಹಾರ ಪದಾರ್ಥ ಯಾವುದು?

ಎ) ರಾಗಿ ಬಿ) ಜೋಳ ಸಿ) ಸೇಂಗಾ ಡಿ)ಮಾಂಸ

10. ಕೆಳಗಿನವುಗಳಲ್ಲಿ ಯಾವುದು ಸಿರಿಧಾನ್ಯ ಅಲ್ಲ?

ಎ) ನವಣೆ , ಬಿ) ಆರ್ಕಾ ಸಿ) ಗೋಧಿ ಡಿ) ಸಾಮೆ

11. "ರಾಷ್ಟ್ರೀಯ ರೈತರ ದಿನ" ಯಾವ ದಿನದಂದು ಆಚರಿಸಲಾಗುತ್ತದೆ?

ಎ) ಅಕ್ಟೋಬರ್ -15 ,ಬಿ) ಡಿಸೆಂಬರ್ -23 ಸಿ) ಜನವರಿ -12, ಡಿ) ಫೆಬ್ರವರಿ - 28

12. ಸಸ್ಯಗಳು ಆಹಾರ ತಯಾರಿಕೆಯಲ್ಲಿ ಬಳಸಿಕೊಳ್ಳುವ ನೈಸರ್ಗಿಕ ಸಂಪನ್ಮೂಲವನ್ನು ಗುರ್ತಿಸು.

ಎ)ಸಾವಯವ ಗೊಬ್ಬರ ಬಿ) ಸೌರಶಕ್ತಿ ಸಿ) ಕೀಟನಾಶಕ ಡಿ)ರಾಸಾಯನಿಕ ಗೊಬ್ಬರ

13. ನವೀಕರಿಸಲಾಗದ ಸಂಪನ್ಮೂಲವನ್ನು ಗುರ್ತಿಸು.
ಎ) ಗಾಳಿ ಬಿ) ಪೆಟ್ರೋಲ್ ಸಿ) ಸೌರಶಕ್ತಿ ಡಿ) ಕಾಡು
14. 'ಭಾರ'ವಾದ ವಸ್ತುವನ್ನು ಗುರ್ತಿಸಿರಿ
ಎ) ಕಾಗದ ಬಿ) ಕಡ್ಡಿ ಸಿ) ಹತ್ತಿ ಡಿ) ಕಲ್ಲು
15. 'ದ್ರವ' ಸ್ಥಿತಿಗೆ ಸರಿಯಾದ ಉತ್ತರ ಆಯ್ಕೆ ಮಾಡು.
ಎ) ನಾಣ್ಯ ಬಿ) ಜೇನುತುಪ್ಪ ಸಿ) ಹೊಗೆ ಡಿ) ಇದ್ದಿಲು
16. ಕರ್ನಾಟಕದ ರಾಜಧಾನಿ ಯಾವುದು?
ಎ) ಮುಂಬೈ ಬಿ) ಅಮರಾವತಿ ಸಿ) ಬೆಂಗಳೂರು ಡಿ) ತಿರುವನಂತಪುರಂ
17. ಕೆಳಗಿನವುಗಳಲ್ಲಿ ಯಾವುದು ಭಾರತದ ನೆರೆ ರಾಷ್ಟ್ರವಲ್ಲ?
ಎ) ಪಾಕಿಸ್ತಾನ ಬಿ) ಚೀನಾ ಸಿ) ಶ್ರೀಲಂಕಾ ಡಿ) ಅಮೆರಿಕಾ
18. ಕೆಳಗಿನವುಗಳಲ್ಲಿ ಭಾರತದ 'ಕೇಂದ್ರಾಡಳಿತ ಪ್ರದೇಶ' ಒಂದನ್ನು ಗುರ್ತಿಸಿರಿ.
ಎ) ಪಂಜಾಬ್ ಬಿ) ಕೇರಳ ಸಿ) ಲಡಾಕ್ ಡಿ) ತಮಿಳುನಾಡು
19. 'ಕೇರಳ' ರಾಜ್ಯದ ಮಾತೃಭಾಷೆಯನ್ನು ಗುರ್ತಿಸಿರಿ.
ಎ) ಮಲಯಾಳಂ , ಬಿ) ಕನ್ನಡ ಸಿ) ಇಂಗ್ಲೀಷ್ ಡಿ) ತೆಲುಗು
20. ನೀರನ್ನು ಫ್ರೀಜ್ ನಲ್ಲಿ ಇಟ್ಟು ಸ್ವಲ್ಪ ಸಮಯದ ನಂತರ ಏನಾಯಿತು?
ಎ) ನೀರಾವಿ ಬಿ) ಬಿಸಿ ನೀರು ಸಿ) ಮಂಜುಗಡ್ಡೆ ಡಿ) ನೀರು

II. ಕೆಳಗಿನ ಪ್ರಶ್ನೆಗಳಿಗೆ 2/3 ವಾಕ್ಯದಲ್ಲಿ ಉತ್ತರಿಸಿ.

1. ಅಣುಗಳ ಜೋಡಣೆ ಆಧಾರದ ಮೇಲೆ ದ್ರವ್ಯಗಳ '3' ಸ್ಥಿತಿಗಳನ್ನು ಹೆಸರಿಸಿ.
2. ನಿನ್ನ ಜಿಲ್ಲೆಯ '2' ನೆರೆ ಜಿಲ್ಲೆಗಳನ್ನು ಹೆಸರಿಸು.
3. ದಕ್ಷಿಣ ಭಾರತದ '2' ರಾಜ್ಯಗಳನ್ನು ಹೆಸರಿಸು
4. 'ದ್ರವ್ಯ'ದ ಎರಡು ಲಕ್ಷಣಗಳನ್ನು ಬರೆಯಿರಿ.

5. ನವೀಕರಿಸಬಹುದಾದ ಸಂಪನ್ಮೂಲಗಳನ್ನು ಪಟ್ಟಿ ಮಾಡಿರಿ.

6. ನೀನು ದಿನನಿತ್ಯ ತಿನ್ನುವ ಸಸ್ಯಮೂಲ ಆಹಾರ ಪದಾರ್ಥಗಳನ್ನು ಪಟ್ಟಿಮಾಡಿರಿ.

7. ನಿನ್ನೆ ರಾತ್ರಿ ಊಟದ ಆಹಾರದಲ್ಲಿ ಇದ್ದ ಪದಾರ್ಥಗಳು ಮತ್ತು ಅದರಲ್ಲಿ ಪೋಷಕಾಂಶಗಳನ್ನು ಪಟ್ಟಿ ಮಾಡು.

8. ನೀರಾವರಿಯ '2' ವಿಧಗಳನ್ನು ಬರೆದು, ಅವುಗಳಲ್ಲಿ ಬೆಳೆಯುವ '2' ಬೆಳೆಗಳನ್ನು ವರ್ಗೀಕರಿಸು.

9. ನಿನ್ನ ಜಿಲ್ಲೆಯಲ್ಲಿ ಬೆಳೆಯುವ ಪ್ರಮುಖ ಬೆಳೆಗಳನ್ನು ಪಟ್ಟಿ ಮಾಡು

10. ನೀನು ಬಳಸಿರುವ ಅಥವಾ ನೋಡಿರುವ ಕೃಷಿ ಉಪಕರಣಗಳನ್ನು ಪಟ್ಟಿ ಮಾಡು.

I. ಕೆಳಗಿನ ಪ್ರಶ್ನೆಗಳಿಗೆ ಮೌಖಿಕವಾಗಿ ಉತ್ತರಿಸಿ

1. ಸಸ್ಯಗಳಿಗೆ ಪಾತಿ ಮಾಡಲು ಯಾವ ಕೃಷಿ ಉಪಕರಣ ಬಳಸುತ್ತೀಯಾ?
2. 'ಒಣಭೂಮಿ ಬೇಸಾಯ' ಎಂದರೇನು?
3. 'ತುಂತುರು ನೀರಾವರಿ' ಪದ್ಧತಿಯಿಂದ ಬೆಳೆಯುವ ಬೆಳೆಗಳು ಯಾವುವು?
4. ನೀನು ಹಸಿವಿನಿಂದ ಬಳಲುತ್ತಿದ್ದು, ದಿನನಿತ್ಯದ ಹೆಲಸಗಳನ್ನು ಎಂದಿನಂತೆ ಮಾಡಲು ಸಾಧ್ಯವೇ?
5. ಶಕ್ತಿಗಾಗಿ ತಿನ್ನುವ ಆಹಾರ ಪದಾರ್ಥಗಳನ್ನು ಹೇಳು.
6. ನೀನು ತಿನ್ನುವ ಸಸ್ಯಮೂಲ ಆಹಾರ ಪದಾರ್ಥಗಳನ್ನು ಹೇಳು.
7. 'ಆಹಾರ ಪೋಲು ಮಾಡಬಾರದು' ಕಾರಣ ಕೊಡಿ.
8. "ಸೌರಶಕ್ತಿ"ಯನ್ನು ಎಲ್ಲಿಂದ ಪಡೆಯುತ್ತೀಯಾ?
9. ಪಳೆಯುಳಿಕೆ ಇಂಧನಗಳಿಗೆ ಉದಾ.ಕೊಡಿ.
10. 'ಉತ್ತರ ಭಾರತ'ದ ಒಂದು ರಾಜ್ಯದ ಹೆಸರನ್ನು ಹೇಳಿರಿ.

I. ಕೊಟ್ಟಿರುವ ಪ್ರಶ್ನೆಗಳನ್ನು ಓದಿ, ಅರ್ಥೈಸಿ ಸರಿಯಾದ ಆಯ್ಕೆಗಳಿಗೆ '✓' ಮಾಡಿರಿ.

1. ನೇಗಿಲು - ಸಿ
2. ಸಿ.ಡಿ.ಎ.ಬಿ. - ಬಿ.
3. ಭತ್ತ - ಸಿ
4. ಸಜ್ಜೆ - ಡಿ
5. ಶೇಂಗಾ - ಬಿ
6. ಪ್ರೋಟೀನ್ - ಸಿ.
7. ತುಪ್ಪ - ಡಿ
8. ಹಾಲು - ಡಿ
9. ಶೇಂಗಾ - ಸಿ.
10. ಗೋಧಿ - ಸಿ
11. ಡಿಸೆಂಬರ್ -23 - ಬಿ.
12. ಸೌರಶಕ್ತಿ - ಬಿ
13. ಪೆಟ್ರೋಲ್ - ಬಿ
14. ಕಲ್ಲು - ಡಿ
15. ಜೇನುತುಪ್ಪ - ಬಿ
16. ಬೆಂಗಳೂರು - ಸಿ.
17. ಅಮೇರಿಕಾ - ಡಿ
18. ಲಡಾಕ್ - ಸಿ
19. ಮಲಯಾಳಂ - ಎ
20. ಮಂಜುಗಡ್ಡೆ - ಸಿ

II. ಕೆಳಗಿನ ಪ್ರಶ್ನೆಗಳಿಗೆ 2/3 ವಾಕ್ಯದಲ್ಲಿ ಉತ್ತರಿಸಿ.

1. ದ್ರವ್ಯಗಳ 3 ಸ್ಥಿತಿಗಳು
ಎ) ಘನ, ಬಿ) ದ್ರವ ಸಿ) ಅನಿಲ
2. ನನ್ನ ಜಿಲ್ಲೆಯ 2 ನೆರೆ ಜಿಲ್ಲೆಗಳು ಯಾವುವೆಂದರೆ
ಎ) ಚಿತ್ರದುರ್ಗ, ಬಿ) ಬೆಂಗಳೂರು
3. ದಕ್ಷಿಣ ಭಾರತದ 2 ರಾಜ್ಯಗಳು ಯಾವುವೆಂದರೆ
ಎ) ಕರ್ನಾಟಕ ಬಿ) ತಮಿಳುನಾಡು
4. ದ್ರವ್ಯವು:-
ಎ) ಸ್ಥಳವನ್ನು ಆಕ್ರಮಿಸುತ್ತದೆ., ಬಿ) ದ್ರವ್ಯರಾಶಿಯನ್ನು ಹೊಂದಿದೆ.
5. ನವೀಕರಿಸಬಹುದಾದ ಸಂಪನ್ಮೂಲಗಳು
* ಸೌರಶಕ್ತಿ * ಗಾಳಿ * ನೀರು * ಕಾಡು * ಮಣ್ಣು
6. ನಾನು ದಿನನಿತ್ಯ ತಿನ್ನುವ ಸಸ್ಯಮೂಲ
* ಚಪಾತಿ * ಇಡ್ಲಿ * ಮುದ್ದೆ * ಸೊಪ್ಪಿನ ಸಾರು-ಅನ್ನ * ತರಕಾರಿ ಹುಳಿ * ದೋಸೆ *
ರೊಟ್ಟಿ * ಪಾಯಸ ಇತ್ಯಾದಿ..

7. ಅನ್ನ-ಸಾಂಬಾರ್ = ಕಾರ್ಬೋಹೈಡ್ರೇಟ್, ಲಿಪಿಡ್ , ನಾರಿನಾಂಶ
ಮೊಟ್ಟೆ = ಪ್ರೋಟೀನ್, ಮಜ್ಜೆಗೆ = ನೀರು+ ಲಿಪಿಡ್
8. ನೀರಾವರಿಯ 02 ವಿಧಗಳು
 - ಎ) ಹನಿ ನೀರಾವರಿ - ತೆಂಗು, ಅಡಿಕೆ, ರೇಷ್ಮೆ, ಹುಲ್ಲು ಇತ್ಯಾದಿ...
 - ಬಿ) ತುಂತುರು ನೀರಾವರಿ - ಕ್ಯಾರೆಟ್, ಶೇಂಗಾ, ರಾಗಿ, ಜೋಳ, ಹತ್ತಿ ಇತ್ಯಾದಿ...
9. ನನ್ನ ಜಿಲ್ಲೆ ತುಮಕೂರು = ಇಲ್ಲಿ ಬೆಳೆಯುವ ಪ್ರಮುಖ ಬೆಳೆಗಳು
ರಾಗಿ, ಬಾಳೆ, ತೆಂಗು, ಶೇಂಗಾ, ಹೆಸರುಕಾಳು ಇತ್ಯಾದಿ....
10. ನಾನು ಬಳಸಿರುವ ಹಾಗೂ ನೋಡಿರುವ ಕೃಷಿ ಉಪಕರಣಗಳು ಯಾವುವೆಂದರೆ.
ನೆಗೆಲು, ಚಲಕೆ, ಗುದ್ದಲಿ, ಎತ್ತಿನಗಾಡಿ, ಕುಡುಗೋಲು, ಕೂರಿಗೆ, ಬಾರ್ ಕೋಲ್ ಇತ್ಯಾದಿ...

**ತರಗತಿ :- 5 ವಿಷಯ:ಪರಿಸರ ಅಧ್ಯಯನ ಕಲಿಕಾ ಸಾಧನೆಯ ಮೌಖಿಕ ಪರೀಕ್ಷೆ
ಅಂಕ: 10**

1. ಸಸ್ಯಗಳಿಗೆ ಪಾತಿ ಮಾಡಲು ಚಲಕೆ,ಗುದ್ದಲಿ ಕೃಷಿ ಉಪಕರಣಗಳನ್ನು ಬಳಸುತ್ತೇನೆ.
2. 'ರೈತರು ಮಳೆಯನ್ನೇ ನಂಬಿ ಬೇಸಾಯ ಮಾಡುತ್ತಾರೆ ಇದನ್ನು 'ಒಣಭೂಮಿ ಬೇಸಾಯ'ಎನ್ನುತ್ತಾರೆ.
3. ಕ್ಯಾರೆಟ್, ಜೋಳ, ಸಜ್ಜೆ, ಶೇಂಗಾ, ಹತ್ತಿ, ಈರುಳ್ಳಿ, ರಾಗಿ, ಕಡಲೆ ಇತ್ಯಾದಿ..
4. ಸಾಧ್ಯವಾಗುವುದಿಲ್ಲ ಏಕೆಂದರೆ ಸುಸ್ತುಹಸಿವು ಆಗುತ್ತಿರುತ್ತದೆ.
5. ಅನ್ನ, ಮುದ್ದೆ, ಹಣ್ಣುಗಳು, ಮಾಂಸ, ಎಣ್ಣೆಕಾಳುಗಳು, ತರಕಾರಿ
6. ಚಪಾತಿ, ಅನ್ನ-ತರಕಾರಿಹುಳಿ, ಎಣ್ಣೆಕಾಳುಗಳು
7. "ಆಹಾರ ಪೋಲು ಮಾಡಬಾರದು" ಏಕೆಂದರೆ ಬೆಳೆ ಬೆಳೆಯುವ ರೈತನಿಗೆ ಕಷ್ಟ ಇದೆ. ತುಂಬಾ ಪರಿಶ್ರಮದಿಂದ, ತಾಳ್ಮೆಯಿಂದ ಆಹಾರವನ್ನು ಬೆಳೆಯುತ್ತಾರೆ. ಆದ್ದರಿಂದ ಪೋಲು ಮಾಡಬಾರದು.
8. 'ಸೂರ್ಯ'ನಿಂದ
9. ಪೆಟ್ರೋಲ್, ಡೀಸೆಲ್, ಸೀಮೆಎಣ್ಣೆ, ಕಲ್ಲಿದ್ದಲು
10. ಹಿಮಾಚಲ ಪ್ರದೇಶ, ಪಂಜಾಬ್ ಇತ್ಯಾದಿ...

ಪ್ರಶ್ನೆ ಪತ್ರಿಕೆ ತಯಾರಿಸಿದ ಸಂಪನ್ಮೂಲ ವ್ಯಕ್ತಿಗಳಿಗೆ ಇಲಾಖೆಯ ಪರವಾಗಿ ತುಂಬು ಹೃದಯದ ಧನ್ಯವಾದಗಳು