

ಪ್ರಥಮ ಸೆಮಿಸ್ಟರ್ ಪರೀಕ್ಷೆಗಳು

ಪರಿಸರ ಅಧ್ಯಯನ

ತರಗತಿ : 5

ಸಮಯ : 90 ನಿಮಿಷಗಳು

ಗರಿಷ್ಠ ಅಂಕಗಳು: 40

ವಿದ್ಯಾರ್ಥಿ ಹೆಸರು _____

I. ಈ ಕೆಳಗಿನ ಐದು ಸ್ಥಳಗಳನ್ನು ಸೂಕ್ತ ಪದ ಬಳಸಿ ತುಂಬಿ.

7*1=7

1. ನಿನಗೆ ತಿಳಿದಿರುವ ಒಂದು ಗ್ರಾಮೀಣ ಕ್ರೀಡೆ _____
2. ಸಾಹಸ ಕ್ರೀಡೆಗಳಿಗೆ ಒಂದು ಉದಾಹರಣೆ _____
3. ಕೊಡಗು ಜಿಲ್ಲೆಯ ಒಂದು ಪ್ರಮುಖ ಬೆಳೆ _____ .
4. ನಮ್ಮ ಉಸಿರಾಟಕ್ಕೆ ಬಳಸುವ ಅನಿಲ _____
5. ಭೂಮಿಯ ಮೇಲ್ಭಾಗ ಶೇ _____ ಭಾಗದಷ್ಟು ನೀರಿನಿಂದ ವರಿಸಿದೆ.
6. ವಾಯುವಿನಲ್ಲಿ ಅತ್ಯಂತ ಹೆಚ್ಚಾಗಿರುವ ಅನಿಲ _____

II. ಈ ಕೆಳಗಿನ ಪ್ರಶ್ನೆಗಳಿಗೆ ಹಿಂದು ಪದ/ವಾಕ್ಯದಲ್ಲ ಉತ್ತರಿಸಿ

5*1=5

7. ನೀರಾವರಿ ಕೃಷಿ ಎಂದರೇನು?
8. ವಾಯುಗೋಳ ಎಂದರೇನು?
9. ಸೌರಶಕ್ತಿ ಎಂದರೇನು?
10. ವಂಶವೃಕ್ಷ ಎಂದರೇನು?
11. ಸಮುದಾಯ ಎಂದರೇನು?:
12. ಗ್ರಾಮಗಳಲ್ಲಿ ಕಂಡುಬರುವ ಕೆಲವು ಕಸುಬುಗಳನ್ನು ತಿಳಿಸಿರಿ

III. ಈ ಕೆಳಗಿನ ಪ್ರಶ್ನೆಗಳಿಗೆ ಎರಡು-ಮೂರು ವಾಕ್ಯಗಳಲ್ಲಿ ಉತ್ತರಿಸಿ

10*2=20

13. ಕುಟುಂಬದಿಂದ ನೀನು ಕಲಿಯುವ ಒಳ್ಳೆಯ ಗುಣಗಳಾವುವು??
14. ನಿನ್ನ ಕುಟುಂಬದ ವಂಶವೃಕ್ಷ ಬರೆ.
15. ದ್ವೈವಾರ್ಷಿಕ ಮತ್ತು ಬಹುವಾರ್ಷಿಕ ಸಸ್ಯಗಳ ಉಪಯೋಗಗಳನ್ನು ಬರೆ.
16. ಅರಣ್ಯ(ಕಾಡು)ಗಳ ಮಹತ್ವವನ್ನು ತಿಳಿಸಿರಿ.
17. ನೀರಿನ ಆಕರಗಳು ಏಕೆ ಕಲುಷಿತಗೊಳ್ಳುತ್ತವೆ?
18. ವಾಯುಮಾಲಿನ್ಯವನ್ನು ತಡೆಗಟ್ಟಲು ಅನುಸರಿಸಬಹುದಾದ ಎರಡು ಕ್ರಮಗಳನ್ನು ಬರೆಯಿರಿ.
19. ಕೆರೆ ಮತ್ತು ಅಣೆಕಟ್ಟುಗಳ ಉಪಯೋಗಗಳನ್ನು ಬರೆಯಿರಿ.
20. ನಿನ್ನ ಗ್ರಾಮದಲ್ಲಿ ಬೆಳೆ ಪ್ರಮುಖ ಬೆಳೆಗಳನ್ನು ಪಟ್ಟಿಮಾಡಿರಿ.
21. ಕ್ರೀಡೆಗಳಿಂದ ನಮಗಾಗುವ ಉಪಯೋಗಗಳನ್ನು ತಿಳಿಸಿ.
22. ಸಮುದಾಯದ ಲಕ್ಷಣಗಳಾವುವು?

V. ಈ ಕೆಳಗಿನ ಪ್ರಶ್ನೆಗಳಿಗೆ ಐದು-ಆರು ವಾಕ್ಯಗಳಲ್ಲಿ ಉತ್ತರಿಸಿ

2*4=8

23. ನೈಸರ್ಗಿಕ ಸಂಪನ್ಮೂಲಗಳ ಉಪಯೋಗಗಳನ್ನು ಪಟ್ಟಿಮಾಡಿರಿ
24. ಸಸ್ಯವೊಂದರ ಚಿತ್ರ ಬರೆದು ಭಾಗಗಳನ್ನು ಗುರುತಿಸಿ .

ಪ್ರಥಮ ಸೆಮಿಸ್ಟರ್ ಪರೀಕ್ಷೆಗಳು
ಕನ್ನಡ

2023-24

ತರಗತಿ :4

ಸಮಯ : 90 ನಿಮಿಷಗಳು

ಗರಿಷ್ಠ ಅಂಕಗಳು: 30

I.ಈ ಕೆಳಗಿನ ಐದು ಸ್ಥಳಗಳನ್ನು ಸೂಕ್ತ ಪದ ಬಳಸಿ ತುಂಬಿ.

7*1=7

- 1.ಧೈರ್ಯ X -----ವಿರುದ್ಧ ಪದ
- 2.ಸಾಗರ =----- , ----- ಸಮಾನಾರ್ಥಕಪದ
- 3.ಇಲಿಯ ಮದುವೆ ----- ರೊಂದಿಗೆ ಆಯಿತು.
- 4.ಹೆಣ್ಣು-ಎಣ್ಣು, ತಾಳ-ತಾಯಿ ಈ ಜೋಡಿಗಳಲ್ಲಿರುವ ಸರಿಪದಗಳು -----ಮತ್ತು-----
- 5."ವದಗ್ಯಾವು"-ಈ ಆಡುನುಡಿ ಪದದ ಬರಹ ರೂಪ -----
- 6."ಅವ್ವನ ಹಾಸಿಗೆ ಸುತ್ತಿಕಾಕಿಲ್ಲ,ಅವ್ವನ ದುಡ್ಡು ಎಣಿಸೋಕಾಗಲ್ಲ" - ಈ ಒಗಟಿನ ಉತ್ತರ -----
- 7."ಮಾವ" ಪದದ ಅನ್ಯಲಿಂಗ ಪದ-----

II.ಈ ಕೆಳಗಿನ ಪ್ರಶ್ನೆಗಳಿಗೆ ಒಂದು ಪದ/ವಾಕ್ಯದಲ್ಲ ಉತ್ತರಿಸಿ

3*1=3

8. ಬಿಸಿಲ ರುಳಕೆ ನೀರು ಏನಾಯಿತು?
9. ಅಜ್ಜ ಹೆಚ್ಚಾಗಿ ಯಾವ ಗೊಬ್ಬರವನ್ನು ಬಳಸುತ್ತಿದ್ದರು?
10. ಕನ್ನಡದ ಕಂದ ಯಾವುದನ್ನು ಮರೆಯಬಾರದು?

III. ಈ ಕೆಳಗಿನ ಪ್ರಶ್ನೆಗಳಿಗೆ ಎರಡು-ಮೂರು ವಾಕ್ಯಗಳಲ್ಲಿ ಉತ್ತರಿಸಿ

4*2=8

11. ಕೊಟ್ಟಿರುವ ಮಾತನ್ನು ಯಾರಿಗೆ ಯಾರು ಹೇಳಿದರು?
ಅ). "ಮಾತಾಜಿಯವರಿಗೆ ಪ್ರಣಾಮಗಳು"
- 12."ಕನ್ನಡಮ್ಮನ ಹರಕೆ" ಪದ್ಯದಲ್ಲಿ ನೀನು ಮೆಚ್ಚಿದ ಯಾವುದಾದರೂ ನಾಲ್ಕು ಸಾಲುಗಳನ್ನು ಬರೆ ಮತ್ತು ಪ್ರಾಸಪದಗಳನ್ನು ಆರಿಸಿ ಬರೆ
- 13.ಬುದ್ಧಿವಂತ ರಾಮಕೃಷ್ಣನ ತಿಲಕಾಷ್ಮಮಹಿಷಬಂಧನ ಕತೆಯನ್ನು ಬರೆಯಿರಿ.
- 14).ಮಳೆ ಹೆಚ್ಚಾಗುವುದರಿಂದ ಏನೇನು ಸಂಭವಿಸಬಹುದು?

IV.ಈ ಕೆಳಗಿನ ಪ್ರಶ್ನೆಗಳಿಗೆ ಅವರಣದಲ್ಲ ಸೀಡಲಾಗುವ ಸೂಚನೆಗಳನ್ನು ಅನುಸರಿಸಿ ಉತ್ತರಿಸಿ.

3*2=6

15. ಈ ಕೆಳಗಿನ ವಾಕ್ಯಗಳನ್ನು ಸರಿಪಡಿಸಿ ಬರೆಯಿರಿ
ಅ).ನಾವು ಶಾಲೆಗೆ ಹೋಗುತ್ತೇನೆ. ಆ)ಶೀಲಾ ಕಥೆ ಬರೆಯುತ್ತಾನೆ.
16. ಸ್ವಂತ ವಾಕ್ಯದಲ್ಲಿ ಬಳಸಿ: ಯೋಚಿಸು ,ಸಮರ್ಥ.
17. ಒಂದು ಕಾಹಿಲರಹದ ಪುಟದಲ ಈ ಪ್ರಶ್ನಾಪತ್ರಿಕೆಯ 5-10 ವಾಕ್ಯಗಳನ್ನು ಅಂದವಾಗಿ ನಕಲು ಮಾಡಿ (ಸೂಕ್ತ ಗಾತ್ರ,ಅಂತರ ನಿಯಮಗಳನ್ನು ಅನುಸರಿಸುವುದು)

V. ಈ ಕೆಳಗಿನ ಪ್ರಶ್ನೆಗಳಿಗೆ ಐದು-ಆರು ವಾಕ್ಯಗಳಲ್ಲಿ ಉತ್ತರಿಸಿ



2*3=6

- 18.ಉಳಲು ಬಳಸುವ ಸಾಧನಗಳನ್ನು ತಿಳಿಸಿ.ಮತ್ತು ಇಂಗುಗುಂಡಿಯ ಪ್ರಯೋಜನಗಳನ್ನು ಬರೆಯಿರಿ.?
19. ನಿನ್ನ ರಜೆದಿನಗಳನ್ನು ಕುರಿತು ನಿನ್ನ ಗೆಲಯ /ಗೆಲತಿಗೆ ಪತ್ರ ಬರೆಯಿರಿ. ತಾ.ಯಿಗೊಂದು

Student Name: _____

I Answer the following questions in a word or phrase 1×10=10



1. Write any four vehicles name
- 2 Write any four household articles name.
- 3 Write any four vegetables name.
- 4 What did Gopu from the market?
5. Write name of the pictures.



6. Arrange the following in the orders ,based on their size:

pond, ocean, well, sea, river, lake, stream

7 .Read the picters and say about the weather



8. Put the words in order .one example is done for you.,

Ex: to/ I'd/a/bike//like -I'd like to have a bike

- i). like/sail/a/boat/I'd/to
- ii) I'd/to/a/bus/like/drive

9 Complete the given words by adding two letters (-ng,-ce,-ke,-ck,-ch)

Dan __, sla __, pri __, stri __, cra ____, stro ____, bran __.

10 .Fill in the Fourlines by any words or letters of English (Use proper method)

ಪ್ರಥಮ ಸೆಮಿಸ್ಟರ್ ಪರೀಕ್ಷೆಗಳು
ಗಣಿತ

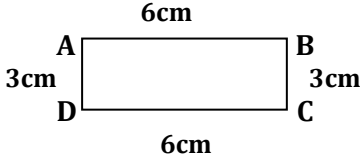
ತರಗತಿ : 4

ಸಮಯ : 90 ನಿಮಿಷಗಳು

ಗಣಿಸಿ ಅಂಕಗಳು: 30

I. ಈ ಕೆಳಗಿನ ಐದೂ ಸ್ಥಳಗಳನ್ನು ಸೂಕ್ತ ಪದ ಬರಿಸಿ ತುಂಬಿ.

10*1=10

1. ಈ ಚಿತ್ರದಲ್ಲಿ **BC** = -----ಸೆ.ಮೀ2. $5476+213$ ರ ಮೊತ್ತ=-----3. $3865-2430$ ರ ವ್ಯತ್ಯಾಸ =-----

4. 5,8,7,2-ಈ ಎಲ್ಲಾ ಅಂಕಗಳನ್ನು ಬಳಸಿ ರಚಿಸಬಹುದಾದ ನಾಲ್ಕು ಅಂಕಿಯ ಅತಿ ದೊಡ್ಡ ಸಂಖ್ಯೆ -----

5. $24 \div 8 = 3$ --ಇದರಲ್ಲಿ ಭಾಜ್ಯ ಸಂಖ್ಯೆ-----

6. 2326, 2330, 2334, -----, -----, -----

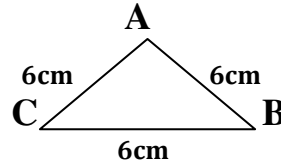
7. ಮನಸ್ಸಿನಲ್ಲಿ ಕೂಡಿ ಬರೆ $10+20+30 =$ -----8. ಮನಸ್ಸಿನಲ್ಲಿ ಲೆಕ್ಕಿಸಿ $3 \times 6 + 3 \times 2 =$ ----- + ----- =-----9. ಈ ಸಂಖ್ಯೆಯ ಭೇದ -ಅಂಶಗಳನ್ನು ಗುರುತಿಸಿ: $\frac{2}{4} =$ -----

10. ಈ ಭಿನ್ನರಾಶಿ ಚಿತ್ರವನ್ನು ಸಂಖ್ಯೆರೂಪದಲ್ಲಿ ಬರೆ.

 $7 \times 2 = 14$

III. ಈ ಕೆಳಗಿನ ಸಮಸ್ಯೆಗಳನ್ನು ಪರಿಹರಿಸಿ

11. ಈ ತ್ರಿಭುಜದ ಸುತ್ತಳತೆ ಕಂಡುಹಿಡಿಯಿರಿ.



12. 5926 ರ ಸ್ಥಾನ ಬೆಲೆ ನಕ್ಷೆ/ಕೋಷ್ಟಕ ರಚಿಸಿರಿ

13. 679, 368, 796, 697-ಈ ಸಂಖ್ಯೆಯನ್ನು ಏರಿಕೆ ಕ್ರಮದಲ್ಲಿ ಬರೆ.

14. ಗುಣಿಸಿರಿ: 102×43 15. ಭಾಗಿಸಿ: $5)850($

16. ವ್ಯಕ್ತಿಯೊಬ್ಬನ ದು ತಿಂಗಳ ದುಡಿಮೆ ರೂ.9500. ಅದರಲ್ಲಿ ಆ ತಿಂಗಳ ಮನೆ ಖರ್ಚು ರೂ.3268 ಆದರೆ ಆತನ ಬಳಿ ಉಳಿದ ಹಣವೆಷ್ಟು?

17. ನೀನು ಪ್ರತಿದಿನ 122 ನಾಣ್ಯಗಳನ್ನು ಸಂಗ್ರಹಿಸಿದೆ ಎಂದಾದರೆ, 24 ದಿನಗಳಲ್ಲಿ ನಿನ್ನಲ್ಲಿರಬಹುದಾದ ನಾಣ್ಯಗಳೆಷ್ಟು?

IV. ಈ ಕೆಳಗಿನ ಸಮಸ್ಯೆಗಳನ್ನು ಪರಿಹರಿಸಿ

 $2 \times 3 = 6$

18. ಒಂದು ಪಟ್ಟಣ ಪಂಚಾಯ್ತಿ ವ್ಯಾಪ್ತಿಯಲ್ಲಿ 4275 ಗಂಡಸರು, 4312 ಹೆಂಗಸರು, ಮತ್ತು 1380 ಮಕ್ಕಳಿದ್ದಾರೆ. ಹಾಗಾದರೆ ಇಲ್ಲಿನ ಒಟ್ಟು ಜನಸಂಖ್ಯೆ ಎಷ್ಟು?

19. ಒಂದು ವೃತ್ತವನ್ನು ರಚಿಸಿ. '0' ಕೇಂದ್ರವನ್ನು ಗುರುತಿಸಿ.

ಪ್ರಥಮ ಸೆಮಿಸ್ಟರ್ ಪರೀಕ್ಷೆಗಳು
ಪರಿಸರ ಅಧ್ಯಯನ

2023-24

ತರಗತಿ : 4

ಸಮಯ : 90 ನಿಮಿಷಗಳು

ಗಣನೆ ಅಂಕಗಳು: 30

ವಿದ್ಯಾರ್ಥಿ ಹೆಸರು-----

I.ಈ ಕೆಳಗಿನ ಐದು ಸ್ಥಳಗಳನ್ನು ಸೂಕ್ತ ಪದ ಬಳಸಿ ತುಂಬಿ.

3*1=3

- 1.ಸಸ್ಯಗಳಿಂದ ಬರುವ ಹುಲ್ಲು,ಎಲೆ ಇತ್ಯಾದಿ ಉತ್ಪನ್ನಗಳನ್ನು ತಿನ್ನುವ ಪ್ರಾಣಿಗಳನ್ನು-----ಎನ್ನುವರು.
- 2.ಹುಲಿಯ ಆಹಾರ -----
3. ನಿನ್ನ ಜಿಲ್ಲೆಯ 2 ವಿಶೇಷ ಅಡುಗೆಗಳು-----

II.ಈ ಕೆಳಗಿನ ಪ್ರಶ್ನೆಗಳಿಗೆ ಒಂದು ಪದ/ವಾಕ್ಯದಲ್ಲಿ ಉತ್ತರಿಸಿ

7*1=7

- 4.ನೀನು ನೋಡಿರುವ ಕೆಲ ಹೂಗಳನ್ನು ಹೆಸರಿಸು
5. ಜೇನುಹುಳುಗಳು ಎಲ್ಲಿ ವಾಸಿಸುತ್ತವೆ?
- 6.ಜೇನುಹುಳುಗಳನ್ನು ನೀನು ಏತಕ್ಕಾಗಿ ಬಳಸುವೆ?
- 7.ಹಬ್ಬ ಹರಿದಿನಗಳಲ್ಲಿ ತಯಾರಿಸುವ 2 ವಿಶೇಷ ಅಡುಗೆಗಳನ್ನು ಹೆಸರಿಸಿ
- 8.ಓ ಆರ್ ಎಸ್ ಸೇವಿಸುವುದರಿಂದಾಗುವ ಒಂದು ಪ್ರಯೋಜನವನ್ನು ಬರೆಯಿರಿ
9. ಮಲಿನ ನೀರಿನಿಂದ ಬರುವ 2 ಕಾಯಿಲೆಗಳನ್ನು ಹೆಸರಿಸಿ.
10. ಒಂದು ಮಾರು ಹೂ ಎಷ್ಟು ಮೊಳವಿರುತ್ತದೆ?

III. ಈ ಕೆಳಗಿನ ಪ್ರಶ್ನೆಗಳಿಗೆ ಎರಡು-ಮೂರು ವಾಕ್ಯಗಳಲ್ಲಿ ಉತ್ತರಿಸಿ

7*2=14

- 11.ಪ್ರಾಣಿಗಳಿಂದ ನಮಗಾಗುವ 5 ಅನುಕೂಲಗಳನ್ನು ಬರೆಯಿರಿ.
12. ಕಾಡು ಎಂದರೇನು? ಕಾಡನ್ನು ಕುರಿತು ನಿನ್ನ ಅಭಿಪ್ರಾಯಗಳನ್ನು ಬರೆ.
- 13.ಒಮ್ಮೆ ಬಳಸಿದ ನೀರನ್ನು ಮತ್ತೆ ಯಾವ ಕೆಲಸಗಳಿಗೆ ಉಪಯೋಗಿಸಬಹುದು? ಯೋಚಿಸಿ ಬರೆ
- 14.ಶಕ್ತಿ ಪ್ರಧಾನವಾದ ಆಹಾರ ಪದಾರ್ಥಗಳನ್ನು ಪಟ್ಟಿಮಾಡಿ
15. ನೀನು ಕಸವೆಂದು ಎಸೆಯುವ 5 ವಸ್ತುಗಳನ್ನು ಹೆಸರಿಸಿ
16. ದಿಕ್ಕು ಮತ್ತು ಉಪದಿಕ್ಕುಗಳನ್ನು ಹೆಸರಿಸಿ
17. ಈ ಕೆಳಗಿನ ಪ್ರಾಣಿ -ಪಕ್ಷಿಗಳ ವಾಸಸ್ಥಳವನ್ನು ಬರೆಯಿರಿ:-

ಗುಬ್ಬಚ್ಚಿ ,ಗೆದ್ದಲು ,ಗಿಳಿ ,ಕಾಗೆ ,ಹಸು,ಹಾವು

IV ಈ ಕೆಳಗಿನ ಪ್ರಶ್ನೆಗಳಿಗೆ ಐದು-ಆರು ವಾಕ್ಯಗಳಲ್ಲಿ ಉತ್ತರಿಸಿ

2*3=6

- 18 .ಸಸ್ಯವೊಂದರ ಚಿತ್ರ ಬರೆದು ಅದರ ಭಾಗಗಳನ್ನು ಗುರುತಿಸಿ
- 19.ನಿನ್ನ ದೇಹದ ಜ್ಞಾನೇಂದ್ರಿಯಗಳನ್ನು ಮತ್ತು ಪ್ರಮುಖ ಅಂಗ-ಅಂಗಾಂಗಗಳನ್ನು ಪಟ್ಟಿ ಮಾಡಿರಿ.
