

ان سوالوں کے جوابات دو .


1. ان میں کوئی کسر آدھا  $\frac{1}{2}$  کے برابر ہے۔ اس پر دائرہ بناؤ۔

$\frac{25}{50}$  ,  $\frac{10}{25}$  ,  $\frac{15}{30}$  ,  $\frac{5}{10}$  ,  $\frac{5}{15}$  ,  $\frac{4}{20}$  ,  $\frac{50}{100}$  ,  $\frac{3}{5}$

2. مناسب علامت کا استعمال کرو۔  $<$   $>$   $=$

$\frac{1}{2}$   $\square$   $\frac{2}{4}$

3. درج ذیل شکل میں موجود اشیاء کی لمبائی کو پیمائشی پٹی کی مدد سے ناپو۔



4. 1 میٹر برابر ہے cm = 100 میٹری میٹر

5. گھڑی کی کئی سوئیاں ہوتی ہیں۔

6. ایک گھنٹہ میں منٹ ہوتے ہیں۔

7. اس شکل کے زاویوں کو زاویہ کہتے ہیں۔

8. درج ذیل اجسام کے نام لکھو



9. درج ذیل بیٹن کو سمجھتے ہوئے مکمل کریں۔

☆ ☆☆ ☆☆☆ ———

2 4 6 8  $\square$  12

Key answers.

$$\frac{25}{50}, \frac{5}{10}, \frac{50}{100}$$

3

3cm اور 2cm

100cm

3

60

زاویہ قائمہ

دائروں - مثلث

☆☆ ☆☆☆

10

(1)

(2)

(3)

(4)

(5)

(6)

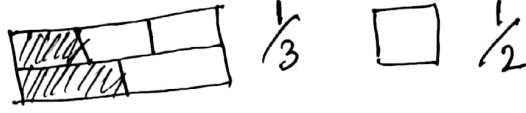
(7)

(8)

(9)

(10)

ان سوالوں کے جواب دو۔

صحیح علامت کا استعمال کرو:  $<$ ,  $>$ ,  $=$ ,  $\neq$ 2. کسر  $\frac{1}{2}$  کو شکل میں ظاہر کرو۔3. درج ذیل دی گئی لمبائی کے مطابق ایک خط کھینچیے۔  
4 cm.

4. 1 kg میں کتنے گرام ہوتے ہیں؟

5. صبح کے 10:00 گھنٹے کا وقت \_\_\_\_\_ زاویہ کو ظاہر کرتا ہے۔

6. گھٹری میں 9 گھنٹے کا وقت \_\_\_\_\_ زاویہ ظاہر کرتا ہے۔



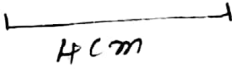






7. اس شکل کا نام لکھو۔  

8. درج ذیل اعداد کی ترتیب (پہلو) میں موجود خالی جگہوں کو مکمل کریں۔

 13             7     5     3
9. اس شکل کا نام لکھو۔  
10. — , — , —  
♥ ♥ ♥ ♥ ♥ ♥

Paper - 2  
Key Answers


جوابیہ

- |                                                                                                                                                                                                                                                                                                                                                         |     |
|---------------------------------------------------------------------------------------------------------------------------------------------------------------------------------------------------------------------------------------------------------------------------------------------------------------------------------------------------------|-----|
|                                                                                                                                                                                                                                                                      | .1  |
|                                                                                                                                                                                                                                                                      | -2  |
|                                                                                                                                                                                                                                                                       | -3  |
| 1000g                                                                                                                                                                                                                                                                                                                                                   | -4  |
| a.m.                                                                                                                                                                                                                                                                                                                                                    | -5  |
| زاویہ قائمہ                                                                                                                                                                                                                                                                                                                                             | -6  |
| مستطیل                                                                                                                                                                                                                                                                                                                                                  | -7  |
|  .                                                                                                                                                                                | -8  |
|     | -9  |
| استوانہ                                                                                                                                                                                                                                                                                                                                                 | .10 |

علم ریاضی پنجم جماعت  
تریبائی امتحانی پرچہ -

I ان سوالات کے جوابات دو

1/2

1- اس کو کسر میں بتاؤ؟ 

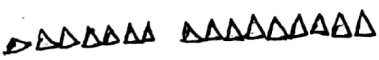
2- ایک لیٹر \_\_\_\_\_ ملی لیٹر کے برابر ہوتا ہے؟  
1000

3- گھٹری کی دوسو بیٹیوں کی لمبائی یکساں ہے یاں / نہیں۔ نہیں

4- اس (پیٹرن) کو ترتیب کو مکمل کرو




44, 55

33,    66  77  88



5- \_\_\_\_\_ 

6- مشابہہ کرتے ہوئے جوابات دیں

آم	
ناریل	
نیم	

6- نیم کے درختوں کی تعداد کتنی ہے \_\_\_\_\_

7- ناریل کے درختوں کی تعداد کتنی ہے \_\_\_\_\_

8- آم کے درختوں کی تعداد کتنی ہے \_\_\_\_\_

9-  $7 \times 3 = \boxed{\phantom{00}}$

21

90°

10- دو اوپر قائمہ کتنے درجہ کے برابر ہوتے ہیں۔

$\frac{2}{4}$

$\frac{2}{6}$

7cm

1000g

مضد کف

زاویہ قائمہ

مخروط

گیس سپنڈر



1) کس میں لکھو =


2)  $\frac{1}{3}$  مکمل کرو =  $\frac{\square}{6}$

3) درج ذیل کی لمبائی CM میں لکھو؟

4) ایک کلوگرام میں \_\_\_\_\_ گرام ہوتے ہیں۔

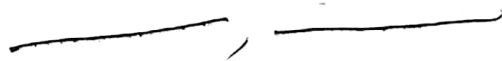
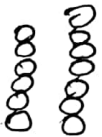
5) گھڑی میں چھوٹی سوئی کیا بتاتی ہے؟

6) یہ کون سے زاویہ کی شکل ہے؟

7) یہ کونسی شکل ہے؟ 

8) استوائیہ کی مثال بتاؤ۔

9) اس پیڑن کو مکمل کرو



10) ترتیب مکمل کرو

44, 55

33     66 77 88