

ಸಂಕಲನಾತ್ಮಕ ಮೌಲ್ಯಮಾಪನ-2

4ನೇ ತರಗತಿ

ಕಲಿಕಾ ಚೇತರಿಕೆ ಉಪಕ್ರಮ & ಪಠ್ಯಪುಸ್ತಕ ಆಧಾರಿತ ಮೌಲ್ಯಾಂಕನ.

2022-23

ಸಲಹೆ-ಮಾರ್ಗದರ್ಶನ.

ಶ್ರೀಮತಿ ಎಸ್.ಪುಷ್ಪ

ಮಾನ್ಯ ಕ್ಷೇತ್ರ ಶಿಕ್ಷಣಾಧಿಕಾರಿಗಳು

ಸಕಲೇಶಪುರ ತಾಲ್ಲೂಕು. ಹಾಸನ ಜಿಲ್ಲೆ

ಪರಿಕಲ್ಪನೆ

ಶ್ರೀಯುತ ದಿನೇಶ್ ಕುಮಾರ್ ಸಿ.ಎಲ್
ಬಿ.ಆರ್.ಪಿ ಸಕಲೇಶಪುರ ತಾಲ್ಲೂಕು

ಸಲಹೆ-ಮಾರ್ಗದರ್ಶನ.

ಶ್ರೀಯುತ ಗಂಗಾಧರ
ಬಿ.ಆರ್.ಸಿ ಸಕಲೇಶಪುರ ತಾಲ್ಲೂಕು.

ತಾಂತ್ರಿಕ ಕಾರ್ಯನಿರ್ವಹಣೆ.

ಶ್ರೀಯುತ ಮಂಜುನಾಥ್ ಜಿ.ಆರ್
ಸಿ.ಆರ್.ಪಿ ಬಾಳ್ಕುಪೇಟೆ & ಹೆತ್ತೂರು.

ಸಲಹೆ-ಸಹಕಾರ

ಶ್ರೀಧರ್ ಮೂರ್ತಿ ಇ.ಸಿ.ಒ	ನಜೀಬ್ ಪಾಷ ಇ.ಸಿ.ಒ	ನರಸಿಂಹಮೂರ್ತಿ ಎನ್.ಎಮ್ ಇ.ಸಿ.ಒ
ಸಿದ್ದೇಶ್ ಎಮ್ ಬಿ.ಆರ್.ಪಿ	ಮಲ್ಲೇಶ್ ಬಿ.ಆರ್.ಪಿ	ಕೃಷ್ಣ ಬಿ.ಆರ್.ಪಿ
ಕೃಷ್ಣ ಕುಮಾರ್ ಎಮ್.ಆರ್ ಸಿ.ಆರ್.ಪಿ ಅನೇಮಹಲ್	ಲಕ್ಷ್ಮೀ ನಾರಾಯಣ ಜಿ.ಎಮ್ ಸಿ.ಆರ್.ಪಿ ಪುರ ಸಭೆ	ಜಯಶಂಕರ ಬಿ.ಎಸ್ ಸಿ.ಆರ್.ಪಿ ಬೆಳಗೋಡು
ರಾಹಿಲಾ ಸುಲ್ತಾನ ಸಿ.ಆರ್.ಪಿ ಉರ್ದು ಸಕಲೇಶಪುರ	ಹೂವಣ್ಣ ಜಿ.ಎನ್ ಸಿ.ಆರ್.ಪಿ ಚಂಗಡಿಹಳ್ಳಿ	ಜಗದೀಶ್ ಎನ್.ಎನ್ ಸಿ.ಆರ್.ಪಿ ಹಾನುಬಾಳು
ಪ್ರವೀಣ್ ಕುಮಾರ್ ಜಿ.ಜಿ ಸಿ.ಆರ್.ಪಿ ವಳಲಹಳ್ಳಿ & ವಣಗೂರು	ಕೃಷ್ಣಯ್ಯ ಎ.ಬಿ ಸಿ.ಆರ್.ಪಿ ಕೊಲ್ಲಹಳ್ಳಿ	ಮಹೇಶ್ ಎ.ಸಿ ಸಿ.ಆರ್.ಪಿ ಯಸಳೂರು
ಗಣೇಶ್ ಎಮ್.ಆರ್ ಸಿ.ಆರ್.ಪಿ ಬ್ಯಾಕರವಳ್ಳಿ	ವಸಂತ್ ಕುಮಾರ್ ಎಮ್.ಎನ್ ಬಿ.ಎ.ಇ.ಆರ್.ಟಿ	ನಾಗೇಶ್, ವಿಜೇಶ್, ಶೃತಿ ಮೈಗ್ರಾಮ್ಸ್

ಸಂಪನ್ಮೂಲ ತಂಡ.

ಕ್ರ.ಸಂ	ಶಿಕ್ಷಕರ ಹೆಸರು & ಹುದ್ದೆ	ಶಾಲೆ ಹೆಸರು
1	ದೇವಕಿ ಎಮ್ ಎಸ್ ಸಹ ಶಿಕ್ಷಕರು	ಸ.ಕೆ.ಪ್ರಾ.ಶಾಲೆ ಕೋಣಬನಹಳ್ಳಿ
2	ಹೇಮಲತಾ ಕೆ.ಎಮ್ ಸಹ ಶಿಕ್ಷಕರು	ಸ.ಹಿ.ಪ್ರಾ.ಶಾಲೆ ಕೊಲ್ಲಹಳ್ಳಿ
3	ಶೋಭ ಎಮ್.ಎ ಸಹ ಶಿಕ್ಷಕರು	ಸ.ಹಿ.ಪ್ರಾ.ಶಾಲೆ ಹೆತ್ತೂರು
4	ನಾಗಲಾಂಬಿಕ ಸಹ ಶಿಕ್ಷಕರು	ಸ.ಹಿ.ಪ್ರಾ.ಶಾಲೆ ಶುಕ್ರವಾರಸಂತೆ
5	ಗೀತಾ ಹೆಚ್.ಸಿ ಸಹ ಶಿಕ್ಷಕರು	ಸ.ಹಿ.ಪ್ರಾ.ಶಾಲೆ ಶುಕ್ರವಾರಸಂತೆ
6	ಪರಮೇಶ್ ಸಹ ಶಿಕ್ಷಕರು	ಸ.ಹಿ.ಪ್ರಾ.ಶಾಲೆ ಐಗೂರು
7	ಖೈಸರ್ ಜಹಾನ್ ಸಹ ಶಿಕ್ಷಕರು	ಸ.ಹಿ.ಪ್ರಾ.ಶಾಲೆ ಕಬ್ಬಿನಗದ್ದೆ
8	ಜಯಪಾಲ ಎ.ಎನ್ ಸಹ ಶಿಕ್ಷಕರು	ಸ.ಹಿ.ಪ್ರಾ.ಶಾಲೆ ಕಡಗರವಳ್ಳಿ
9	ಕಲಾವತಿ ದೈಹಿಕ ಶಿಕ್ಷಕರು	ಸ.ಹಿ.ಪ್ರಾ.ಶಾಲೆ ಯಸಳೂರು
10	ಮಲ್ಲೇಶ್ ಜಿ ಸಹ ಶಿಕ್ಷಕರು	ಸ.ಹಿ.ಪ್ರಾ.ಶಾಲೆ ಕುಡುಗರಹಳ್ಳಿ
11	ಚೈತ್ರ ಸಿ.ಎನ್ ಸಹ ಶಿಕ್ಷಕರು	ಸ.ಹಿ.ಪ್ರಾ.ಶಾಲೆ ಹಾನುಬಾಳು
12	ಫಿರ್ ದೋಸ್ ಜಹಾನ್ ಸಹ ಶಿಕ್ಷಕರು	ಸ.ಹಿ.ಪ್ರಾ.ಶಾಲೆ ಚಿಕ್ಕನಾಯಕನಹಳ್ಳಿ
13	ಆಬಿದ್ ಅಲಿ ಸಹ ಶಿಕ್ಷಕರು	ಸ.ಹಿ.ಪ್ರಾ.ಶಾಲೆ ಕುಂಬರಡಿ
14	ಶ್ವೇತಾ ಸಹ ಶಿಕ್ಷಕರು	ಸ.ಹಿ.ಪ್ರಾ.ಶಾಲೆ ಹೆಬ್ಬಸಾಲೆ
15	ಪಲ್ಲವಿ ಸಹ ಶಿಕ್ಷಕರು	ಸ.ಹಿ.ಪ್ರಾ.ಶಾಲೆ ಬಾಗೆ
16	ಶೋಭ, ಸಹ ಶಿಕ್ಷಕರು	ಸ.ಹಿ.ಪ್ರಾ.ಶಾಲೆ ರಕ್ಷಿದಿ
	ತಾಂತ್ರಿಕ ಕಾರ್ಯನಿರ್ವಹಣೆ.	
1	ಸಿದ್ದೇಶ್ ಎಮ್. ಬಿ.ಆರ್.ಪಿ	ಬಿ.ಆರ್.ಸಿ ಸಕಲೇಶಪುರ
2	ಕೃಷ್ಣ ಬಿ.ಆರ್.ಪಿ	ಬಿ.ಆರ್.ಸಿ ಸಕಲೇಶಪುರ
3	ಪ್ರವೀಣ್ ಕುಮಾರ್ ಜಿ.ಜಿ ಸಿ.ಆರ್.ಪಿ	ಸಿ.ಆರ್.ಸಿ ವಳಲಹಳ್ಳಿ & ವಣಗೂರು
4	ಮಂಜುನಾಥ್ ಹೆಚ್.ಎನ್ ಸಹ ಶಿಕ್ಷಕರು	ಸ.ಹಿ.ಪ್ರಾ.ಶಾಲೆ ಆದರವಳ್ಳಿ
5	ವೇಣುಗೋಪಾಲ ಜಿ. ಸಹ ಶಿಕ್ಷಕರು	ಸ.ಕೆ.ಪ್ರಾ.ಶಾಲೆ ಉಮ್ಮತ್ತೂರು
6	ಲೋಕೇಶ್ ಎ.ಬಿ ಸಹ ಶಿಕ್ಷಕರು	ಸ.ಕೆ.ಪ್ರಾ.ಶಾಲೆ ಕಲ್ಲೂರಹಳ್ಳಿ
7	ಮಂಜುಳ ವೈಹೆಚ್ ಸಹ ಶಿಕ್ಷಕರು	ಸ.ಕೆ.ಪ್ರಾ.ಶಾಲೆ ಜಿ.ಪಿ ನಗರ
8	ನಾಗಮಣಿ ಟಿ. ಸಹ ಶಿಕ್ಷಕರು	ಸ.ಹಿ.ಪ್ರಾ.ಶಾಲೆ ಕೊಲ್ಲಹಳ್ಳಿ
9	ಯಶೋಧ ಹೆಚ್.ಜಿ ಅತಿಥಿ ಶಿಕ್ಷಕರು	ಸ.ಹಿ.ಪ್ರಾ.ಶಾಲೆ ಚಿಕ್ಕನಾಯಕನಹಳ್ಳಿ

ಕಲಿಕಾ ಫಲವಾರು ವಿಶ್ಲೇಷಣೆ

4ನೇ ತರಗತಿ

ವಿಷಯ: ಕನ್ನಡ

ಅಂಕಗಳು: 20 ಸಮಯ: 1ಗಂಟೆ

ಕ್ರ.ಸಂ	ಕಲಿಕಾ ಫಲದ ಸಂಖ್ಯೆ	ಪ್ರಶ್ನೆಯ ವಿಧ			ಒಟ್ಟು ಪ್ರಶ್ನೆಗಳು	ಒಟ್ಟು ಅಂಕಗಳು	ಶೇಕಡೆ
		1 ಅಂಕ	2 ಅಂಕ	4 ಅಂಕ			
1	08	2	-	-	2	2	14
2	09	1	-	-	1	1	8
3	10	2	1	-	3	4	21
4	11	2	1	-	3	4	21
5	12	2	1	-	3	4	21
6	13	1	-	1	2	5	14
	ಒಟ್ಟು	10	3	1	14	20	100

ವಾರ್ಷಿಕ ಸಂಕಲನಾತ್ಮಕ ಮೌಲ್ಯಮಾಪನ 2022-23 (ಲಿಖಿತ ಪ್ರಶ್ನೋತ್ತರ ಪತ್ರಿಕೆ)

4ನೇ ತರಗತಿ

ವಿಷಯ: ಕನ್ನಡ

ಅಂಕಗಳು:20

ಸಮಯ:1ಗಂಟೆ

ಶಾಲೆ ಹೆಸರು: _____

ವಿದ್ಯಾರ್ಥಿ ಹೆಸರು :

1. ಈ ಕೆಳಗಿನ ಪ್ರಶ್ನೆಗಳಿಗೆ ಸೂಕ್ತವಾದ ಒಂದು ಉತ್ತರವನ್ನು ಆರಿಸಿ ಬರೆಯಿರಿ.

10*1=10

1. ಪ್ರೀತಿ ತನ್ನ ತಂದೆಗೆ ಪತ್ರ ಬರೆಯುವಾಗ ಬಳಸುವ ಸಂಭೋಧನೆ_____

- ಚಿರಂಜೀವಿ * ತೀರ್ಥರೂಪು ಸಮಾನ * ಒಲವಿನ * ತೀರ್ಥರೂಪು

2. ಬಟ್ಟೆಯ ಗಂಟನ್ನು ಕತ್ತೆಯ ಬೆನ್ನಲಿ ಇರಿಸುವವನು _____

- ರೈತ * ಚಮ್ಮಾರ * ಅಗಸ * ಕುಂಬಾರ

3. ಇದು ಪೊದರಿನಲ್ಲಿ ಬಿಡುವ ತರಕಾರಿ_____

- ಹಾಗಲ ಕಾಯಿ * ಹುರುಳಿ ಕಾಯಿ * ಬದನೆ ಕಾಯಿ * ಕ್ಯಾರೆಟ್

4. ಗೆಲುವು ನಮ್ಮದಾಗಲು ನಮ್ಮಲ್ಲಿ ಇರಬಾರದ ಗುಣ_____

- ನಾಯಕತ್ವ * ಭಯ * ಉತ್ಸಾಹ * ಧೈರ್ಯ

5. ನಿನ್ನ ಹೆಸರೇನು ಈ ವಾಕ್ಯದಲ್ಲಿ ಬಳಸುವ ಲೇಖನ ಚಿಹ್ನೆ_____

- ಅ) ! ಆ) # ಇ) ? ಉ) }

6. ಗಿಡ್ಡ ಬಾಲ ದೊಡ್ಡ ಕಿವಿಯು

ನಿನಗೆ ಚಂದ

ಎದ್ದು ಎನ್ನ ಬಳಿಗೆ ಬಂದು

ಆಡೋ ಕಂದ

ಈ ಕವಿತೆ ಯಾರ ಕುರಿತಾಗಿದೆ ? _____

- ಗಿಳಿ * ಮೊಲದ ತಾಯಿ * ಮೊಲದ ಮರಿ * ಅಳಿಲು

7. ಈ ಸೂಚನಾ ಫಲಕಕ್ಕೆ ಹೊಂದುವ ಸೂಚನೆ_____



- * ರೈಲ್ವೆ ಹಳಿ ಇದೆ
* ಪಾದಾಚಾರಿ ಮಾರ್ಗ
* ಆಸ್ಪತ್ರೆ ಇದೆ
* ಇಲ್ಲಿ ಉಗುಳಬಾರದು

8. ಕಷ್ಟಪಡುವಿಕೆ ಈ ವಾಕ್ಯಕ್ಕೆ “ ಣಿ ” ಅಕ್ಷರದಿಂದ ಕೊನೆಯಾಗುವ ಇದೆ ಅರ್ಥ ಕೊಡುವ ಪದ _____

- ಬವಣಿ * ಧರಣಿ * ಕರುಣಿ * ಮಣಿ

9. ಉಕ್ರೀನ್ ಮೇಲೆ ಬಾಂಬ್ ದಾಳಿ ನಡೆಸಿದ ದೇಶ _____

- ಅಮೇರಿಕಾ * ಚೀನಾ * ರಷ್ಯಾ * ಇಸ್ರೇಲ್

10. ಇರುವೆ ಮತ್ತು ಪಾರಿವಾಳ ಕಥೆಯಲ್ಲಿ ನೀನು ಕಲಿತ ಪಾಠ _____

- ಧೈರ್ಯ * ಭಯ * ಉಪಾಯ * ಪರೋಪಕಾರ

ಈ ಕೆಳಗಿನ ಪ್ರಶ್ನೆಗಳಿಗೆ 2-3 ವಾಕ್ಯದಲ್ಲಿ ಉತ್ತರಿಸಿ.

3*2=6

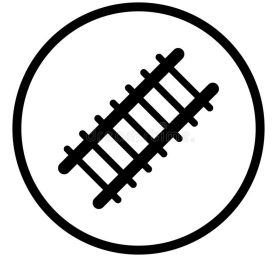
11. ಯಾರನ್ನು ಅನ್ನದಾತ ಎಂದು ಕರೆಯುತ್ತಾರೆ ? ಮತ್ತು ಏಕೆ ?

ಉತ್ತರ:

12. ಎಲ್ಲೆಂದರಲ್ಲಿ ಕಸ ಎಸೆಯುವುದನ್ನು ತುರಿತು ನಿನ್ನ ಅಭಿಪ್ರಾಯ ಬರೆ.

ಉತ್ತರ:

13. ಈ ಚಿತ್ರಗಳು ಏನು ಹೇಳುತ್ತವೆ ?



ಉತ್ತರ: _____

14. ಈ ಕೆಳಗಿನ ಚಿತ್ರ ಸರಣಿಯನ್ನು ನೋಡಿ ನಿನ್ನದೇ ಆದ ಒಂದು ಕಥೆ ರಚಿಸು.

1*4=4



ಉತ್ತರ: _

1. ತೀರ್ಥ ರೂಪು
2. ಅಗಸ
3. ಬದನೆ
4. ಭಯ
5. ?
6. ಮೊಲದ ಮರಿ
7. ಆಸ್ಪತ್ರೆ ಇದೆ
8. ಬವಣೆ
9. ರಷ್ಯಾ
10. ಪರೋಪಕಾರ
11. ರೈತನನ್ನು ಅನ್ನದಾತ ಎಂದು ಕರೆಯುತ್ತಾರೆ ಏಕೆಂದರೆ ನಗರದಲ್ಲಿರುವ ಪ್ರತಿಯೊಬ್ಬರು ತಿನ್ನುವುದು ಕಷ್ಟಪಟ್ಟು ರೈತ ಬೆಳೆದ ಆಹಾರವನ್ನು
12. ಎಲ್ಲೆಂದರಲ್ಲಿ ಕಸ ಎಸೆಯುವುದರಿಂದ ಅದು ಕೊಳೆತು ವಾಸನೆ ಬರುತ್ತದೆ ಮತ್ತು ಅದರಲ್ಲಿ ಕ್ರಿಮಿಕೀಟಗಳು ಉತ್ಪತ್ತಿಯಾಗಿ ನಮಗೆ ರೋಗವನ್ನು ಹರಡುತ್ತವೆ.
13. ಶಬ್ದ ಮಾಡಬೇಡಿ,
ಧೂಮಪಾನ ನಿಷೇಧಿಸಿದೆ,
ಅಪಾಯವಿದೆ.
ರೈಲ್ವೆ ಹಳಿ ಇದೆ.
14. ಚಿತ್ರಕ್ಕೆ ಕಥೆ ಬರೆದಿರುವ ಆಧಾರದ ಮೇಲೆ ಅಂಕ ನೀಡಿ.

1. ಮಾಡಿಸುವರು/ ನನಗೆ/ ಸ್ನಾನ/ ಅಪ್ಪ/ ಈ ವಾಕ್ಯವನ್ನು ಕ್ರಮಬದ್ಧವಾಗಿ ಹೇಳಿರಿ.
2. ತಮ್ಮನಿಗೆ ಪತ್ರ ಬರೆಯುವಾಗ ಬಳಸುವ ಸಂಭೋಧನೆ ಯಾವುದು ?
3. ಅನ್ನದಾತ ಎಂದು ಯಾರನ್ನು ಕರೆಯುತ್ತಾರೆ ?
4. ಸೈನ್ಯ ಈ ಪದಕ್ಕೆ ಬಳಸಬಹುದಾದ ಎರಡು ಸಮಾನಾರ್ಥಕ ಪದಗಳು ಯಾವುವು?
5. ಯಾವ ದೀಪ ಹೊತ್ತಿದಾಗ ವಾಹನಗಳು ನಿಲ್ಲಬೇಕು?
6. ನಮ್ಮ ಮನೆಯಲ್ಲಿ ಒಂದು ಸಣ್ಣ ಪಾಪ ಇರುವುದು. ಈ ಪದ್ಯದ ಮುಂದಿನ ಸಾಲು ಹೇಳಿರಿ.
7. ಯಾವ ದೇಶದ ಮೇಲೆ ರಷ್ಯಾ ಬಾಂಬ್‌ಗಳಿ ನಡೆಸಿತು?
8. ಮಗು ಈ ಪದದ ಬಹುವಚನ ರೂಪ
9. ಹೊಲದಲ್ಲಿ ಏನೇನು ಬೆಳೆಯುತ್ತಾರೆ ?
10. ಆಸ್ಪತ್ರೆಯ ಒಳಗಡೆ ಹಾಕಬಹುದಾದ ಯಾವುದಾದರೂ ಎರಡು ಜಾಹೀರಾತುಗಳನ್ನು ತಿಳಿಸಿ.
11. ರಸ್ತೆಯಲ್ಲಿ ಏಕೆ ಉಬ್ಬುಗಳನ್ನು ಹಾಕಿರುತ್ತಾರೆ ?
12. ನಿಮ್ಮ ಊರಿನ ಅಂಚೆ ಕಚೇರಿ ಎಲ್ಲಿದೆ ?
13. ನೀರನ್ನು ಯಾವ ಯಾವ ಕೆಲಸಗಳಿಗೆ ಬಳಸಬಹುದು ?
14. ಕೃಷಿಯಲ್ಲಿ ಬಳಸುವ ಯಾವುದಾದರೂ ಎರಡು ಉಪಕರಣಗಳನ್ನು ಹೆಸರಿಸಿ ?
15. ನೀನು ಎಂತಹ ಪುಸ್ತಕಗಳನ್ನು ಓದಲು ಇಷ್ಟಪಡುತ್ತೀಯ ?
16. ದುಃಖ ಈ ಪದದ ವಿರುದ್ಧಾರ್ಥಕ ಪದ
17. ನಮ್ಮ ದೇಶದ ರಾಷ್ಟ್ರ ಪಕ್ಷಿ ಯಾವುದು ?
18. ರಾಜರಾಗಿಲ್ಲ ಈ ಪದವನ್ನು ಬಿಡಿಸಿ ಬರೆದಾಗ ?
19. ಮೆರವಣಿಗೆ ಈ ಪದವನ್ನು ಸ್ವಂತ ವಾಕ್ಯದಲ್ಲಿ ಹೇಳಿ.
20. ಸಹಬಾಳೆ ಈ ಪದದ ಅರ್ಥ ಬರೆಯಿರಿ.

ANNUAL SUMMATIVE ASSESSMENT 2022-23 (written exam)**Analysis of learning outcomes****4TH STANDARD**
TIME:1hour**SUBJECT: ENGLISH****MARKS:10**

Sl	Learning outcomes	Type of questions			Total questions	Total Marks	Percentage
		1 Marks	2 Marks	3 Marks			
1	Learning outcome -07	1	-	-	1	01	10
2	Learning outcome -08	1	-	-	1	01	10
3	Learning outcome -09	2	-	-	2	02	20
4	Learning outcome -10	1	-	-	1	01	10
5	Learning outcome -11	1	-	-	1	01	10
6	Learning outcome -12	1	-	-	1	01	10
7	Learning outcome -13	1	-	-	1	1	10
8	Learning outcome -14	1	-	-	1	01	10
9	Learning outcome -15	1	-	-	1	01	10
	Total	10	10	-	10	10	100

ANNUAL SUMMATIVE ASSESSMENT 2022-23 (written exam)

4TH STANDARD

SUBJECT: ENGLISH

MARKS:10 TIME:1hour

School Name: _____

Student Name : _____

Four alternatives are given for each of the following questions / incomplete statements choose the correct alternative and write the answer.. 10*1=10

1. Pick out the long vowel word _____

- A) Book B) Moon C) Hook D) Look

2.



The rat hid _____ the table

- A) At B) In C) Under D) On


3. Pick out the message written in library-----

- A) No entry B) Raise your hand C) Keep silence D) Make a circle

4. The rhyming word for the word till-----

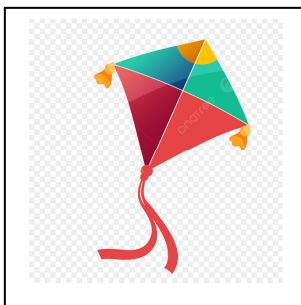
- A) Bell B) Hill C) Me D) Star

5. Identify the characters of the given picture-----



- A) Rabbit and shoe B) Rabbit and bone
C) Rabbit and car D) Rabbit and mango

6. Identify the toy-----



- A) Doll B) Kite
C) Gun D) Ball

7. Name of the picture is -----



A) Moon
C) Sun

B) Pond
D) Garden

8. We hear with our-----

A) Leg

B) Nose

C) Eye

D) Ear

9. Sl blend word is -----

A) Small

B) Slide

C) Spoon

D) Swim

10. Rewrite the sentence by using punctuation marks.

india is my country karnataka is one of the state of india

ANNUAL SUMMATIVE ASSESSMENT 2022-23 (Answer key)

4TH STANDARD

SUBJECT: ENGLISH

MARKS:10

Key Answers

1. Moon
2. Under
3. Keep silence
4. Hill
5. Rabbit and mango
6. Kite
7. Sun
8. Ear
9. Slide
10. India is my country, Karnataka is one of the state of India.

ANNUAL SUMMATIVE ASSESSMENT 2022-23 (oral exam)
4TH STANDARD **SUBJECT: ENGLISH MARKS:30 Time: 1hour**

1. What is your name?
2. What is your father /mother name?
3. At what time do you wakeup?
4. Name any classroom item?
5. Name any colour which is in our national flag?

6. What is your father's occupation / job?
7. Is it a person or place
 Bangalore ,Karnataka ,Geeta ,Rahul.....

8. Spell the word Moon ,School , River, Table....
9. Give the rhyming word of Green, Moon, Jill, Pink.....
10. At what time do you come to school ?

11. At what time do you assemble for prayer?
12. Which is your favourite colour?
13. Name any thing which you seen in your school surrounding?
14. Give a plural of Child, Man, Book, Pen.....

15. Pavan is eating.The action word of the sentence is
 (We can alter with other action words)

16. Name the colour of object (Use sketch pens or any other object)
17. Where will we see this message Use me,No entry ,Stand in Quee....

18. How do you greet your teacher / other's in the morning
19. How do you greet your teacher or others in a afternoon?
20. What is your favourite food?

21. Which colour do you like most?
22. Name any 2 animals?
23. Name any 2 flowers?
24. Name any 2 vehicles?

25. Name any 2 insects?
26. We see with our.....
27. We hear with our....

28. We smell with our....
29. We walk with our....
30. Which is our district

ವಾರ್ಷಿಕ ಸಂಕಲನಾತ್ಮಕ ಮೌಲ್ಯಮಾಪನ 2022-23

ಕಲಿಕಾ ಫಲವಾರು ವಿಶ್ಲೇಷಣೆ

4ನೇ ತರಗತಿ

ವಿಷಯ: ಗಣಿತ

ಅಂಕಗಳು: 20 ಸಮಯ: 1ಗಂಟೆ

ಕ್ರ.ಸಂ	ಕಲಿಕಾ ಫಲದ ಸಂಖ್ಯೆ	ಪ್ರಶ್ನೆಯ ವಿಧ			ಒಟ್ಟು ಪ್ರಶ್ನೆಗಳು	ಒಟ್ಟು ಅಂಕಗಳು	ಶೇಕಡೆ
		1 ಅಂಕ	2 ಅಂಕ	3 ಅಂಕ			
1	08	3	1	-	4	05	25
2	09	3	-	-	3	03	15
3	10	2	1	1	4	07	35
4	11	2	-	-	2	02	10
5	12	-	-	1	1	03	15
	ಒಟ್ಟು	10	2	2	14	20	100

ಶಾಲೆ ಹೆಸರು:_____

ವಿದ್ಯಾರ್ಥಿ ಹೆಸರು :

ಈ ಕೆಳಗಿನ ಪ್ರಶ್ನೆಗಳಲ್ಲಿ ನೀಡಲಾಗಿರುವ ನಾಲ್ಕು ಆಯ್ಕೆಗಳಲ್ಲಿ ಸೂಕ್ತವಾದ ಉತ್ತರವನ್ನು ಆರಿಸಿ ಬರೆಯಿರಿ.

1. ಸಮತಲಾಕೃತಿಯು ಹೊಂದಿರುವ ಆಯಾಮಗಳ ಸಂಖ್ಯೆ _____

10 X 1 = 10

a.1

b. 2

c.3

d. 4

2. 31 ದಿನಗಳಲ್ಲಿರುವ ತಿಂಗಳು_____

A.ಫೆಬ್ರವರಿ

b. ಜೂನ್

c. ಸೆಪ್ಟೆಂಬರ್

d. ಮಾರ್ಚ್

3. ಒಂದು ಕಿಲೋ ಗ್ರಾಂ = 300 ಗ್ರಾಂ + 100 ಗ್ರಾಂ + 200 ಗ್ರಾಂ+ _____

A. 300 ಗ್ರಾಂ

b. 600 ಗ್ರಾಂ

c. 250 ಗ್ರಾಂ

d. 400 ಗ್ರಾಂ

4. 8 ಮೀಟರ್ ಅನ್ನು ಸೆಂಟಿ ಮೀಟರ್ ಗಳಲ್ಲಿವ್ಯಕ್ತಪಡಿಸಿದಾಗ_____

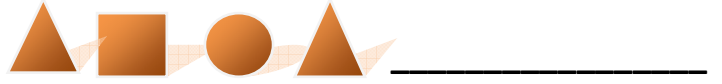
a. 8 ಸೆಂಟಿ ಮೀಟರ್

b. 80 ಸೆಂಟಿ ಮೀಟರ್

c. 800 ಸೆಂಟಿ ಮೀಟರ್

d. 8000 ಸೆಂಟಿ ಮೀಟರ್.

5. ಈ ಕೆಳಗಿನ ವಿನ್ಯಾಸದ ಮುಂದಿನ ಚಿತ್ರವು.



A.



B.



C.



D



6. ಎರಡು ಗಂಟೆಗೆ _____ನಿಮಿಷಗಳು.

a. 60

b.80

c. 100

d. 120

7. ಲೀಟರ್ ಅನ್ನು ಮಿಲಿ ಲೀಟರಿಗೆ ಪರಿವರ್ತಿಸಲು 100 ರಿಂದ_____

a. ಕೂಡಬೇಕು

b. ಕಳೆಯಬೇಕು

c. ಗುಣಿಸಬೇಕು

d. ಭಾಗಿಸಬೇಕು.

8. ಇಟ್ಟಿಗೆಯನ್ನು ಹೋಲುವ ಘನಾಕೃತಿಯು_____

a. ಆಯತ ಘನ

b. ಚೌಕ ಘನ

c. ಸಿಲಿಂಡರ್

d. ಶಂಕು

9. ಈ ಸಂಖ್ಯೆ ವಿನ್ಯಾಸದಲ್ಲಿ ಬಿಟ್ಟು ಹೋದ ಸಂಖ್ಯೆ 5,10,15_____25.

a. 40

b. 35

c. 20

d. 30

10. ಒಂದು ರೈಲು ನಿಲ್ದಾಣದ ಗಡಿಯಾರವು 18:00 ಗಂಟೆ ತೋರಿಸುತ್ತಿದೆ ಇದನ್ನು 12 ಗಂಟೆಯ ಗಡಿಯಾರಕ್ಕೆ

ಪರಿವರ್ತಿಸಿದಾಗ _____

a. 18:00 pm

b. 6:00 pm

c. 6:00 am

d. 18:00 am

I. ಈ ಕೆಳಗಿನ ಲೆಕ್ಕಗಳನ್ನು ಬಿಡಿಸಿ.

2 X 2 = 4

1. ಒಂದು ಸಿಲಿಂಡರ್ ಆಕೃತಿಯನ್ನು ರಚಿಸಿ.

2. ವ್ಯತ್ಯಾಸ ಕಂಡು ಹಿಡಿಯಿರಿ

94 ಕಿ.ಗ್ರಾಂ 174 ಗ್ರಾಂ

(-) 39 ಕಿ.ಗ್ರಾಂ 098 ಗ್ರಾಂ


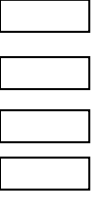



III. ಕೆಳಗಿನ ಪ್ರಶ್ನೆಗಳಿಗೆ ಉತ್ತರಿಸಿ.

3 X 2 = 6

1. ಘನಾಕೃತಿಗಳಿಗೆ ಸಂಬಂಧಿಸಿದ ಕೆಳಗಿನ ಪಟ್ಟಿಯನ್ನು ಪೂರ್ಣಗೊಳಿಸಿ.


ಕ್ರಮ.ಸಂಖ್ಯೆ	ಆಕೃತಿಯ ಹೆಸರು	ಮೇಲ್ಮೈ ಸಮತಲಗಳ ಸಂಖ್ಯೆ	ಶೃಂಗಗಳ ಸಂಖ್ಯೆ	ಅಂಚುಗಳ ಸಂಖ್ಯೆ
01	ಆಯತ ಘನ			
02	ಶಂಕು			
03	ಚೌಕ			

2. ತರಗತಿ ಯೊಂದರಲ್ಲಿ ಮಕ್ಕಳು ಇಷ್ಟ ಪಡದ ತರಕಾರಿಯನ್ನು ಪಟ್ಟಿ ಮಾಡಿ ಚಿತ್ರ ನಕ್ಷೆಯನ್ನು ರಚಿಸಲಾಗಿದೆ ಚಿತ್ರ ನಕ್ಷೆಯನ್ನು ಗಮನಿಸಿ ಪ್ರಶ್ನೆಗಳಿಗೆ ಉತ್ತರಿಸಿ.

				
ಕ್ಯಾರೆಟ್	ಮೂಲಂಗಿ	ಟಮೋಟೋ	ಹಾಗಲಕಾಯಿ	ಬೀನ್ಸ್

- ತರಗತಿಯಲ್ಲಿ ಅತಿ ಹೆಚ್ಚು ಮಕ್ಕಳು ಇಷ್ಟಪಡದ ತರಕಾರಿ _____
- ತರಗತಿಯಲ್ಲಿ ಕ್ಯಾರೆಟ್ ಇಷ್ಟಪಡದ ಮಕ್ಕಳ ಸಂಖ್ಯೆ _____
- ತರಗತಿಯಲ್ಲಿ ಅತಿ ಕಡಿಮೆ ಮಕ್ಕಳು ಇಷ್ಟಪಡದ ತರಕಾರಿ _____
- ತರಗತಿಯಲ್ಲಿ ಟಮೋಟೋ ಇಷ್ಟಪಡದ ಮಕ್ಕಳ ಸಂಖ್ಯೆ _____


I.

1. b. 2 2. d. ಮಾರ್ಚ್ 3. d. 400 ಗ್ರಾಂ 4. c. 800 ಸೆಂಟಿ ಮೀಟರ್ 5. a.  6. d. 120
7. c. ಗುಣಿಸಬೇಕು

8. a. ಆಯತ ಘನ 9. c. 20 10. b. 6:00 pm

II.

1.



2.

$$\begin{array}{r} 94 \text{ ಕಿ.ಗ್ರಾಂ} \quad 174 \text{ ಗ್ರಾಂ} \\ (-) 39 \text{ ಕಿ.ಗ್ರಾಂ} \quad 098 \text{ ಗ್ರಾಂ} \\ \hline 55 \text{ ಕಿ. ಗ್ರಾಂ} \quad 076 \text{ ಗ್ರಾಂ} \end{array}$$

III.

1.

ಕ್ರಮ. ಸಂಖ್ಯೆ	ಆಕೃತಿಯ ಹೆಸರು	ಮೇಲ್ಮೈ ಸಮತಲಗಳು	ಶೃಂಗಗಳು	ಅಂಚುಗಳು
01	ಆಯತ ಘನ	06	08	12
02	ಶಂಕು	02	01	01
03	ಚೌಕ	01	04	04

1. ಹಾಗಲಕಾಯಿ 2. 06 3. ಬೀನ್ಸ್ 4. 09

1. ಒಂದು ವರ್ಷದಲ್ಲಿರುವ ದಿನಗಳ ಸಂಖ್ಯೆ ಎಷ್ಟು ?
2. ಶಂಕುವಿನಲ್ಲಿರುವ ಶೃಂಗಗಳ ಸಂಖ್ಯೆ ಎಷ್ಟು ?
3. ಸಮತಲಾಕೃತಿಗೆ ಒಂದು ಉದಾಹರಣೆ ಕೊಡಿ.
4. 5 ಕಿಲೋ ಗ್ರಾಂ ಮತ್ತು 250 ಗ್ರಾಂ ಅನ್ನು ಕಿಲೋಗ್ರಾಂ ಗಳಲ್ಲಿ ವ್ಯಕ್ತಪಡಿಸಿ.
5. ಪ್ರತಿ ವರ್ಷ ಮಕ್ಕಳ ದಿನಾಚರಣೆಯನ್ನು ಯಾವಾಗ ಆಚರಿಸುತ್ತೇವೆ ?
6. ಧ್ರುವ ಪದಾರ್ಥಗಳನ್ನು _____ಮಾನದಿಂದ ಅಳೆಯುತ್ತಾರೆ.
7. ಚೌಕ ಘನಾಕೃತಿಯಲ್ಲಿರುವ ಮುಖಗಳು ಹಾಗೂ ಅಂಚುಗಳ ಸಂಖ್ಯೆ ಹೇಳಿ.
8. ಮೇರಿಯ ಬಳಿ 10 ಮೀಟರ್ ಬಿಳಿ ದಾರ ಮತ್ತು 18 ಮೀಟರ್ ಕಪ್ಪು ದಾರ ಇದೆ. ಮೇರಿಯ ಬಳಿ ಇರುವ ದಾರದ ಉದ್ದವೆಷ್ಟು?
9. 100 120 140 160 _ _ ಮುಂದೆ ಬರುವ ಸಂಖ್ಯೆ ಯಾವುದು ?
10. 6,000 ಮಿಲಿ ಲೀಟರ್ ಅನ್ನು ಲೀಟರಿಗೆ ಪರಿವರ್ತಿಸಿ.
11. ಸರಿತಾಳು 3 ಲೀಟರ್ 500 ಮಿಲಿ ಲೀಟರ್ ಸೀಮೆಎಣ್ಣೆ ಕೊಂಡುಕೊಂಡು ತಂದಳು, ಅದರಲ್ಲಿ 2 ಲೀಟರ್ ಸೀಮೆಎಣ್ಣೆ ಬಳಸಿದರೆ ಉಳಿದ ಸೀಮೆಎಣ್ಣೆ ಪ್ರಮಾಣ ಎಷ್ಟು ?
12. 2020 ಫೆಬ್ರವರಿಯಲ್ಲಿ ಎಷ್ಟು ದಿನಗಳಿವೆ ?
13. ಗಡಿಯಾರದಲ್ಲಿನ ದೊಡ್ಡ ಮುಳ್ಳು ಏನನ್ನು ಸೂಚಿಸುತ್ತದೆ ?
14. ರಾಮು 01-03-2012 ರಿಂದ 03-03-2012 ರ ವರೆಗೆ ಶಾಲೆಗೆ ಹೋಗುವುದಿಲ್ಲ, ಅವನು ಎಷ್ಟು ದಿನ ಗೈರುಹಾಜರಾಗಿದ್ದಾನೆ?
15. ದತ್ತಾಂಶಗಳನ್ನು ಒಂದೇ ಅಗಲದ ಕಂಬಗಳಲ್ಲಿ ಪ್ರತಿನಿಧಿಸಿದ ನಕ್ಷೆಯನ್ನು ಏನೆನ್ನುವರು
16. ಅಡ್ಡ ರೇಖೆಯನ್ನು ____ಅಕ್ಷ ಎಂದು, ಲಂಬರೇಖೆಯನ್ನು ____ಅಕ್ಷ ಎಂದು ಕರೆಯುತ್ತೇವೆ.
17. $40 \div 10 = 4$ ಆದರೆ $400 \div 10 =$ _____
18. ಮೂರು ಆಯಾಮಗಳನ್ನು ಹೊಂದಿರುವ ಆಕೃತಿಗಳನ್ನು ಏನೆನ್ನುತ್ತೇವೆ.
19. ಸಮತಲಾಕೃತಿಯ ಒಂದು ಲಕ್ಷಣ ಹೇಳಿ.
20. ಉದ್ದದ ಮೂಲಮಾನ ಯಾವುದು ?

ವಾರ್ಷಿಕ ಸಂಕಲನಾತ್ಮಕ ಮೌಲ್ಯಮಾಪನ 2022-23

ಕಲಿಕಾ ಫಲವಾರು ವಿಶ್ಲೇಷಣೆ

4ನೇ ತರಗತಿ

ವಿಷಯ: ಪರಿಸರ ಅಧ್ಯಯನ

ಅಂಕಗಳು: 20 ಸಮಯ: 1ಗಂಟೆ

ಕ್ರ.ಸಂ	ಕಲಿಕಾ ಫಲದ ಸಂಖ್ಯೆ	ಪ್ರಶ್ನೆಯ ವಿಧ			ಒಟ್ಟು ಪ್ರಶ್ನೆಗಳು	ಒಟ್ಟು ಅಂಕಗಳು	ಶೇಕಡೆ
		1 ಅಂಕ	2 ಅಂಕ	4 ಅಂಕ			
1	ಕಲಿಕಾ ಫಲ 33	2			2	2	10
2	ಕಲಿಕಾ ಫಲ 34		1		1	2	10
3	ಕಲಿಕಾ ಫಲ 35		1		1	2	10
4	ಕಲಿಕಾ ಫಲ 36	1			1	1	5
5	ಕಲಿಕಾ ಫಲ 37	2			2	2	10
6	ಕಲಿಕಾ ಫಲ 38	2			2	2	10
7	ಕಲಿಕಾ ಫಲ 39		1		1	2	10
8	ಕಲಿಕಾ ಫಲ 40	1			1	1	5
9	ಕಲಿಕಾ ಫಲ 41	1			1	1	5
10	ಕಲಿಕಾ ಫಲ 42	1		1	2	5	25
	ಒಟ್ಟು	10	03	1	14	20	100

ವಾರ್ಷಿಕ ಸಂಕಲನಾತ್ಮಕ ಮೌಲ್ಯಮಾಪನ 2022-23 (ಲಿಖಿತ ಪ್ರಶ್ನೋತ್ತರ ಪತ್ರಿಕೆ)

4ನೇ ತರಗತಿ

ವಿಷಯ: ಪರಿಸರ ಅಧ್ಯಯನ

ಅಂಕಗಳು:20 ಸಮಯ: 1ಗಂಟೆ

ಶಾಲೆ ಹೆಸರು:

ವಿದ್ಯಾರ್ಥಿ ಹೆಸರು :

A) ಒಂದ ರಿಂದ ಹತ್ತರ ವರೆಗಿನ ಪ್ರಶ್ನೆಗಳಿಗೆ ಸರಿಯಾದ ಉತ್ತರವನ್ನು ಆಯ್ಕೆ ಮಾಡಿ, ನಿಗದಿತ ಸ್ಥಳದಲ್ಲಿ ಬರೆಯಿರಿ.

10* 1 =10

1. ಅಜ್ಜ ಅಜ್ಜಿ ಅವರ ಮೊಮ್ಮಕ್ಕಳು ಎಲ್ಲರೂ ಒಟ್ಟಿಗೆ ಇರುವ ಕುಟುಂಬವೇ_____

• ಅವಿಭಕ್ತ ಕುಟುಂಬ * ವಿಭಕ್ತ ಕುಟುಂಬ * ಪಿತೃ ಪ್ರಧಾನ ಕುಟುಂಬ * ಮಾತೃ ಪ್ರಧಾನ ಕುಟುಂಬ

2. ನಿನ್ನ ಅಪ್ಪನ ಅಣ್ಣ ನಿನಗೆ ಏನಾಗಬೇಕು?_____

* ಮಾವ * ದೊಡ್ಡಪ್ಪ * ಚಿಕ್ಕಪ್ಪ * ತಾತ.

3. ಮಡಿಕೆ ಮಾಡುವವರು_____

* ಕಮ್ಮಾರ * ಚಮ್ಮಾರ * ಕುಂಬಾರ * ಬಡಿಗ

4. ಇದು ಒಂದು ರಾಷ್ಟ್ರೀಯ ಹಬ್ಬ_____

* ಕನ್ನಡ ರಾಜ್ಯೋತ್ಸವ * ಮದುವೆ * ದಸರಾ * ಸ್ವಾತಂತ್ರ್ಯ ದಿನಾಚರಣೆ

5. ಮೊದಲೆರಡು ಪದಗಳಿಗಿರುವ ಸಂಬಂಧ ಗಮನಿಸಿ, ಮೂರನೇ ಪದಕ್ಕೆ ಸೂಕ್ತವಾದ ಪದವನ್ನು ಬರೆ.

* ಕರ್ನಾಟಕದ ವೃಕ್ಷ : ಶ್ರೀಗಂಧದ ಮರ :: ರಾಷ್ಟ್ರೀಯ ವೃಕ್ಷ :_____

* ಆಲದ ಮರ * ಮಾವಿನ ಮರ * ತೇಗದ ಮರ * ಹಲಸಿನ ಮರ

6. ವಾಲಿಬಾಲ್ ಒಂದು_____

* ಒಳಾಂಗಣ ಆಟ * ಹೊರಾಂಗಣ ಆಟ * ಸಾಹಸ ಕ್ರೀಡೆ * ಜಾನಪದ ಆಟ

7. ಒಳಾಂಗಣ ಆಟಕ್ಕೆ ಇದು ಒಂದು ಉದಾಹರಣೆ_____

* ಕ್ರಿಕೆಟ್ * ಖೋ-ಖೋ * ಚೆಸ್ * ಕಬ್ಬಡಿ

8. ಕರ್ನಾಟಕದ ಜೀವನದಿ_____

* ಹೇಮಾವತಿ * ಕಪಿಲ * ಕೃಷ್ಣ * ಕಾವೇರಿ

9. ' ಬೇಸಿಗೆಯಲ್ಲಿ ನನ್ನ ಬಟ್ಟೆಯನ್ನೇ ಬಯಸುವೆ,ರೈತರು ನನ್ನನ್ನು ಬೆಳೆಯುತ್ತಾರೆ'. ನಾನು_____

* ರೇಷ್ಮೆ * ನೈಲಾನ್ * ಹತ್ತಿ * ರೆಯಾನ್

10. ಹಂಪಿಯು _____ಜಿಲ್ಲೆಯಲ್ಲಿದೆ.

* ವಿಜಯನಗರ * ಹಾವೇರಿ * ಮೈಸೂರು * ಬೀದರ್

ಃ) ಈ ಕೆಳಗಿನ ಪ್ರಶ್ನೆಗಳಿಗೆ ಎರಡು ಮೂರು ವಾಕ್ಯಗಳಲ್ಲಿ ಉತ್ತರಿಸಿ.

3*2=6

1. ನೀನು ಸ್ನೇಹಿತರು / ಹಿರಿಯರೊಂದಿಗೆ ಹೇಗೆ ವರ್ತಿಸಬೇಕೆಂದು ನಿನ್ನ ಕುಟುಂಬದವರು ಹೇಳುತ್ತಾರೆ? ಉತ್ತರ.

2. ನಿನ್ನ ಶಾಲೆಯಲ್ಲಿ ಪ್ರತಿಭಾ ಕಾರಂಜಿ ಮಾಡಿದರೆ, ನೀನು ಯಾವ ಸ್ಪರ್ಧೆಯಲ್ಲಿ ಭಾಗವಹಿಸಿವೆ? ಏಕೆ? ಉತ್ತರ.

3. ಈ ಕೆಳಗಿನ ವಸ್ತುಗಳಿಗೆ ಬದಲಾಗಿ ಹಿಂದೆ ಯಾವ ರೀತಿಯ ವಸ್ತುಗಳನ್ನು ಬಳಸುತ್ತಿದ್ದರು. ಹೆಸರಿಸು.

ಗ್ಯಾಸ್ ಸ್ಲವ್ - _____

ಫ್ಯಾನ್ - _____

ಮಿಕ್ಸಿ - _____

ದೂರವಾಣಿ - _____

ಅ) ಉತ್ತರಿಸಿ.

1*4=4

4. ನಿನಗೆ ತಿಳಿದಿರುವ ನಮ್ಮ ರಾಜ್ಯದ ಪ್ರೇಕ್ಷಣೀಯ ಸ್ಥಳಗಳನ್ನು ಕೆಳಗಿನಂತೆ ವಿಂಗಡಿಸಿ ಕನಿಷ್ಠ ಎರಡೆರಡು ಹೆಸರುಗಳನ್ನು ಪಟ್ಟಿ ಮಾಡು.

ಜಲಪಾತಗಳು	ಪಕ್ಷಿಧಾಮಗಳು	ಅಭಯಾರಣ್ಯಗಳು	ಕಡಲತೀರಗಳು

- | | | | |
|-------------------|---------------|-----------|-------------------------|
| 1. ಅವಿಭಕ್ತ ಕುಟುಂಬ | 2. ದೊಡ್ಡಪ್ಪ | 3. ಕುಂಬಾರ | 4. ಸ್ವಾತಂತ್ರ್ಯ ದಿನಾಚರಣೆ |
| 5. . ಆಲದ ಮರ | 6. ಹೊರಾಂಗಣ ಆಟ | 7. . ಚೆಸ್ | 8. . ಕಾವೇರಿ |
| 9. ಹತ್ತಿ | 10. ವಿಜಯನಗರ | | |

1. ಎಲ್ಲರೊಂದಿಗೆ ಸ್ನೇಹದಿಂದಿರು ಜಗಳ ಾಡ ಬಾರದು. ಹಿರಿಯರಿಗೆ ಗೌರವ ನೀಡಬೇಕು, ಅವರ ಕೆಲಸದಲ್ಲಿ ನೆರವಾಗಬೇಕು. ಅವರ ಮಾತುಗಳನ್ನು ಪಾಲಿಸಬೇಕು. ಎಂದು ನನ್ನ ಕುಟುಂಬದವರು ಹೇಳುತ್ತಾರೆ.
2. ಮಕ್ಕಳ ಉತ್ತರಗಳನ್ನು ಪರಿಶೀಲಿಸಿ ಅಂಕ ನೀಡುವುದು.
3.
 - ಗ್ಯಾಸ್ ಸ್ವಿಚ್ - ಸೌದೆ ಒಲೆ
 - ಫ್ಯಾನ್ - ಬೀಸಣಿಗೆ
 - ಮಿಕ್ಸಿ - ಅರೆಯುವ ಕಲ್ಲು
 - ದೂರವಾಣಿ - ಅಂಚೆ ಪತ್ರ.

ಜಲಪಾತಗಳು	ವಕ್ಷಿಧಾಮಗಳು	ಅಭಯಾರಣ್ಯಗಳು	ಕಡಲ ತೀರಗಳು
ಜೋಗ ಅಜ್ಜಿ ಹೆಣ್ಣಿ, ಗೋಕಾಕ್ ಉಂಚಳ್ಳಿ	ರಂಗನತಿಟ್ಟು ಗುಡುವಿ ಮಂಡಗದ್ದೆ ಕೊಕ್ಕರೆ ಬೆಳ್ಳೂರು ಘಟಪ್ರಭಾ	ನಾಗರಹೊಳೆ, ಬಂಡಿಪುರ ಬನ್ನೇರುಘಟ್ಟ ಬ್ರಹ್ಮಗಿರಿ ಭದ್ರಾ ಅಭಯಾರಣ್ಯ	ಮಂಗಳೂರು ಮಲ್ಲೆ ಕಾರವಾರ ಮರವಂತೆ ಓಂ, ಕುಡ್ಲ

1. ನಿನ್ನದು ವಿಭಕ್ತ ಕುಟುಂಬವೇ / ಅವಿಭಕ್ತ ಕುಟುಂಬವೇ ? ಏಕೆ ?
2. ನಿನ್ನ ಒಬ್ಬ ಸ್ನೇಹಿತ / ಸ್ನೇಹಿತೆಯ ಹೆಸರು ಹೇಳಿ ಹಾಗೂ ಅವರಲ್ಲಿ ನೀನು ಮೆಚ್ಚುವ ಗುಣ ತಿಳಿಸು.
3. ಗಾಂಧೀಜಿಯವರ ಹುಟ್ಟಿದ ನೆನಪಿಗಾಗಿ ಆಚರಿಸುವ ಹಬ್ಬ.-----
4. ನಿನ್ನ ಊರಿನಲ್ಲಿ ಜನರು ಮಾಡುವ ಯಾವುದಾದರೂ ಎರಡು ಕಸುಬುಗಳನ್ನು ಹೆಸರಿಸಿ.
5. ಸರಿ ತಪ್ಪು ತಿಳಿಸು. ಮಕ್ಕಳನ್ನು ದುಡಿಮೆಯಲ್ಲಿ ತೊಡಗಿಸಿಕೊಳ್ಳಬೇಕು.
6. ನಿನ್ನ ಶಾಲೆಯಲ್ಲಿ ರಾಷ್ಟ್ರಧ್ವಜವನ್ನು ಯಾವ ದಿನಗಳಲ್ಲಿ ಹಾರಿಸುತ್ತಾರೆ ?
7. ನಿನಗೆ ಇಷ್ಟವಾದ ಯಾವುದಾದರೂ ನಾಲ್ಕು ಆಟಗಳನ್ನು ಹೆಸರಿಸು.
8. ಸಮಾರಂಭಗಳಿಗೆ ಎರಡು ಉದಾಹರಣೆ ನೀಡಿ .
9. ಮಕ್ಕಳ ದಿನಾಚರಣೆಯನ್ನು ಯಾವ ದಿನದಂದು ಆಚರಿಸುತ್ತೇವೆ.
10. ನಮ್ಮ ರಾಷ್ಟ್ರ ಮುದ್ರೆಯಲ್ಲಿ ಕಾಣಿಸಿರುವ ಯಾವುದಾದರೂ ಎರಡು ವಸ್ತುಗಳನ್ನು ಹೆಸರಿಸಿ.
11. ನಮ್ಮ ನಾಡಗೀತೆ ಬರೆದವರು-----
12. ನಮ್ಮ ರಾಷ್ಟ್ರೀಯ ಕ್ರೀಡೆ -----
13. ಭಾರತದ ನಕ್ಷೆಯಲ್ಲಿ ನಮ್ಮ ರಾಜ್ಯ ಯಾವ ದಿಕ್ಕಿಗಿದೆ ?
14. ನಿನ್ನ ಜಿಲ್ಲೆ ಮತ್ತು ತಾಲೂಕುಗಳನ್ನು ಹೆಸರಿಸಿ.
15. ನಮ್ಮ ರಾಷ್ಟ್ರಗೀತೆ ಯಾವುದು?
16. ಕರ್ನಾಟಕದ ಪ್ರಾಣಿ ಯಾವುದು?
17. ಚಳಿಗಾಲದಲ್ಲಿ ನೀನು ಧರಿಸುವ ಉಡುಪುಗಳನ್ನು ಹೆಸರಿಸಿ.
18. ನೀನು ನೋಡಿರುವ ಯಾವುದಾದರೂ ಎರಡು ಪ್ರೇಕ್ಷಣೀಯ ಸ್ಥಳಗಳನ್ನು ಹೆಸರಿಸಿ.
19. ಕರ್ನಾಟಕದ ದಕ್ಷಿಣಕ್ಕೆರುವ ನೆರೆಯ ರಾಜ್ಯಗಳು ಯಾವುವು ?
20. ಸ್ವಾತಂತ್ರ್ಯ ದಿನಾಚರಣೆಯು ರಾಷ್ಟ್ರೀಯ ಹಬ್ಬವೇ ?

