

4 ನೇ ತರಗತಿ ಕನ್ನಡ(ಪ್ರ.ಭಾ), ಗಣಿತ ಮತ್ತು

ಪಠಿಸರ ಅಧ್ಯಯನಗಳ

**ಸಂಕಲನಾತ್ಮಕ ಮೌಲ್ಯಮಾಪನ-1**

2023-24

ಮಾದರಿ

**ಪ್ರಶ್ನೆಪತ್ರಿಕೆ**

(ಕೇವಲ ಪರಾಮರ್ಶೆಗಾಗಿ,ಇದೇ ಮಾದರಿಯಲ್ಲಿ  
ಶಾಲಾ ಹಂತದಲ್ಲಿ ತಯಾರಿಸಿಕೊಳ್ಳಬಹುದು.)

ಬಿನ್ಯಾಸ

ಅಂಜು ಸರಲೇಶ್ವರ

ಪ್ರಶ್ನೆಪತ್ರಿಕೆ ತಯಾರಿಕೆ

ಭಾಗ್ಯಲಕ್ಷ್ಮೀ ಸಿ.ಎಸ್

ಸಹಶಿಕ್ಷಕರು

ಸರ್ಕಾರಿ ಕಿರಿಯ ಪ್ರಾಥಮಿಕ ಶಾಲೆ ಹಲಗೇರಾಹಳ್ಳಿ

ಅರಸೀಕೆರೆ ತಾಲ್ಲೂಕು, ಹಾಸನ ಜಿಲ್ಲೆ

ಶಾರೀಯ ನೆರೆಯ:

**ಮೊದಲನೇ ಸಂಕಲನಾತ್ಮಕ ಮೌಲ್ಯಮಾಪನ, 2023-24**

ಐಷಯ: ಕನ್ನಡ

ತರಗತಿ: 4

ಉದ್ದಿಷ್ಟವಾರು ಕೋಷ್ಟಕ				
ಕ್ರ.ಸಂ	ಉದ್ದಿಷ್ಟಗಳು	ಪ್ರ.ಸಂ	ಅಂಕ	ಶೇ
1	ಜ್ಞಾನ	1,1,1,2,2,2=6	9	30
2	ಗ್ರಹಿಕೆ	1,1,1,2,2,2,2=7	11	37
3	ಅಭಿವ್ಯಕ್ತಿ	2,2,2=3	6	20
4	ಪ್ರಶಂಸೆ	4=1	4	13
	<b>ಒಟ್ಟು</b>	<b>17</b>	<b>30</b>	<b>100</b>

ಪ್ರಶ್ನಾವಾರು ಕೋಷ್ಟಕ				
ಕ್ರ.ಸಂ	ಪ್ರ.ವಿಧ	ಪ್ರ.ಸಂ	ಅಂಕ	ಶೇ
1	ವಸ್ತುನಿಷ್ಠ (1 ಅಂಕ)	06	06	20
2	ಕಿರುಉತ್ತರ (2 ಅಂಕ)	10	20	67
3	ವಿ.ಉತ್ತರ (4 ಅಂಕ)	01	04	13
	<b>ಒಟ್ಟು</b>	<b>17</b>	<b>30</b>	<b>100</b>

ಪ್ರಶ್ನೆ ಕ್ಲಿಷ್ಟತೆಮಟ್ಟ ಆಧಾರಿತ ಕೋಷ್ಟಕ				
ಕ್ರ.ಸಂ	ಕ್ಲಿಷ್ಟತೆ ಮಟ್ಟ	ಪ್ರ.ಸಂ	ಅಂಕ	ಶೇ
1	ಅತಿ ಸುಲಭ	06	09	30
2	ಸುಲಭ	09	15	50
3	ಕ್ಷಿಪ್ತ	02	06	20
	<b>ಒಟ್ಟು</b>	<b>17</b>	<b>30</b>	<b>100</b>

**ಮೊದಲನೇ ಸಂಕಲನಾತ್ಮಕ ಮೌಲ್ಯಮಾಪನ, 2023-24**

**ನೀಲಿನಕ್ಷೆ-4ನೇ ತರಗತಿ ಕನ್ನಡ(ಪ್ರ.ಭಾ)**

ಕ್ರ.ಸಂ	ಉದ್ದಿಷ್ಟಗಳು→	ಜ್ಞಾನ			ಗ್ರಹಿಕೆ			ಅಭಿವ್ಯಕ್ತಿ			ಪ್ರಶಂಸೆ			ಒಟ್ಟು	
	ಘಟಕಗಳು↓	ಪ.ನಿ	ಕಿ.ಉ	ವಿ.ಉ	ಪ.ನಿ	ಕಿ.ಉ	ವಿ.ಉ	ಪ.ನಿ	ಕಿ.ಉ	ವಿ.ಉ	ಪ.ನಿ	ಕಿ.ಉ	ವಿ.ಉ	ಪ್ರ.ಸಂ	ಅಂಕ
1	ಕನ್ನಡಮ್ಮನ ಹರಕೆ (ಪದ್ಯ)		1(2)			1(2)								2	4
2	ಬುದ್ಧಿವಂತ ರಾಮಕೃಷ್ಣ		1(2)		1(1)									2	3
3	ವೀರಮಾತೆ ಜೀಜಾಬಾಯಿ	1(1)				1(2)			1(2)					3	5
4	ಮಳೆ (ಪದ್ಯ)												1(4)	1	4
5	ಅಜ್ಜಿಯ ತೋಟದಲ್ಲಿ ಒಂದು ದಿನ	1(1)							1(2)					2	3
6	ದೊಡ್ಡವರು ಯಾರು?	1(1)			1(1)				1(2)					3	4
7	ಬೀಸೋಕಲ್ಲಿನ ಪದ (ಪದ್ಯ)				1(1)	1(2)								2	3
8	ತಾಯಿಗೊಂದು ಪತ್ರ		1(2)			1(2)								2	4
		3(3)	3(6)		3(3)	4(8)			3(6)				1(4)	17	30
		6(9)			7(11)			3(6)			1(4)			17(30)	

ಶಾರೀಯ ಷೆಸರು:

ಮೊದಲನೇ ಸಂಕಲನಾತ್ಮಕ ಮೌಲ್ಯಮಾಪನ, 2023-24

ತರಗತಿ : 4

ಐಷಯ : ಸಠಕನ್ನಡ

ಅಂಕಗಲು : 30

ಸಮಯ : 60 ಢಢುಷ

I. ಸೂಕ್ತ ಪದಗಲಿಂದ ವಾಕ್ಯ ಪೂರ್ತಿ ಮಾಡಿ:-

3X1=3

1. ಒಂದು ಊರು, ಅಲ್ಲೊಂದು \_\_\_\_\_ ಸಂಸಾರ.
2. ನೀತಿ ಪದದ ವಿರುದ್ಧಾರ್ಥಕ ಪದ \_\_\_\_\_
3. ಕಿಶೋರನ ಅಜ್ಜಿಯ ಮನೆ \_\_\_\_\_ ತಪ್ಪಲಿನಲ್ಲಿದೆ.

II. ಀ ಕೆಲಗಿನ ಪ್ರಶ್ನೆಗಲಿಗೆ ಉತ್ತರಿಸಿ.

3X1=3

4. ವಿದ್ಯಾಸಾಗರನೊಂದಿಗೆ ವಾದ ಮಾಡಲು ಒಪ್ಪಿಕೊಂಡವರು ಯಾರು?
5. ಕೊಟ್ಟಿರುವ ಪದಗಲನ್ನು ಸರಿಯಾಗಿ ಜೋಡಿಸಿ ವಾಕ್ಯ ರಚಿಸಿ. - ತಂದೆ ಇಲಿಗಲು ಯೋಚಿಸಿದವು ತಾಯಿ
6. ಬೀಸುವ ಕಲ್ಲಿನ ಹಿಡಿಗೂಟ ಹಿಡಿದು ಯಾರನ್ನು ನೆನೆಯುತ್ತಾರೆ?

II. ಀ ಕೆಲಗಿನ ಪ್ರಶ್ನೆಗಲಿಗೆ ಉತ್ತರಿಸಿ.

10X2=20

7. ಕೊಟ್ಟಿರುವ ಒತ್ತಕ್ಷರಗಲನ್ನು ಗಮನಿಸಿ. ವೃತ್ತದೊಲಿಗೆ ಸಜಾತಿ ಒತ್ತಕ್ಷರ ಹಾಗೂ ಚೌಕದಲ್ಲಿ ವಿಜಾತಿ ಒತ್ತಕ್ಷರಗಲನ್ನು ಬರೆಯಿರಿ.

ನ್ನ, ಸ್ನೂ, ಷ್ಷ, ಹ್, ಬ್ಬ, ಯ್ಯ, ಸ್ತ, ಟ್ಠ, ತ್ತ, ಮ್ಮ, ಶ್ರೇ, ಕ್ಷ, ಪ್ಪ, ಶ್ಶೆ

8. ಕೊಟ್ಟಿರುವ ಮಾತನ್ನು ಯಾರು? ಯಾರಿಗೆ ಹೇಲಿದರು?

'ಀ ವಿಷಯ ಮೊದಲೇ ತಿಲಿದಿದ್ದರೆ ನಾನು ಇಲ್ಲಿಗೆ ಬರುತ್ತಲೇ ಇರಲಿಲ್ಲ'

ಯಾರು?: \_\_\_\_\_

ಯಾರಿಗೆ?: \_\_\_\_\_

9. ಕೊಟ್ಟಿರುವ ಪದ ಬಲಸಿ ಸ್ವಂತ ವಾಕ್ಯ ಬರೆಯಿರಿ.

ಬಹುಮಾನ : \_\_\_\_\_

ಗುಲಾಮಗಿರಿ: \_\_\_\_\_

10. ಅಜ್ಜಿಯ ತೋಟದಲ್ಲಿ ಯಾವ ಯಾವ ಗಿಡಗಲಿದ್ದವು?

11. ತಂದೆ-ತಾಯಿ ಇಲಿಗಲು ಏನೆಂದು ಯೋಚಿಸಿದವು? ತಾಯಿ ಇಲಿ ಏನೆಂದು ಹೇಲಿತು?

12. ಸಿಟ್ಟುಗೊಂಡ ಸರಸತಿಯನ್ನು ಸಮಾಧಾನ ಮಾಡಿದ ಬಗೆ ಹೇಗೆ?

13. ಪ್ರಾಣಿ ಸಂಗ್ರಹಾಲಯದಲ್ಲಿ ಯಾವ ಯಾವ ಪ್ರಾಣಿಗಲು ಇದ್ದವು?

14. ಲಿಂಗ ಬದಲಿಸಿ ಬರೆಯಿರಿ.

ಚಿಕ್ಕಪ್ಪ : \_\_\_\_\_ ಮಗಲು : \_\_\_\_\_

15. ಕೊಟ್ಟಿರುವ ಪದಗಲಿಗೆ ಪ್ರಾಸ ಪದ ಬರೆಯಿರಿ

ಹೋರಾಡು: \_\_\_\_\_ ಬಾಯ್ಲೆ : \_\_\_\_\_

16. ಕೊಟ್ಟಿರುವ ಪದ ಗಮನಿಸಿ ಎರಡೆರಡು ಸಮಾನಾರ್ಥಕ ಪದಗಲನ್ನು ಬರೆಯಿರಿ.

ರಾಜ : \_\_\_\_\_

ಯುದ್ಧ : \_\_\_\_\_

III. ಀ ಕೆಲಗಿನ ಪದ್ಯ ಭಾಗವನ್ನು ಪೂರ್ತಿ ಮಾಡಿ.

1X4=4

17. ಬಿಸಿಲ ಝಳಕೆ ಕಡಲ ನೀರುನೆಲದ ಮೇಲೆ ಗುಡ್ಡ ಬೆಟ್ಟ

\_\_\_\_\_

\_\_\_\_\_ ಮೋಡವೆಲ್ಲ

\_\_\_\_\_

ಶಾರೀಯ ನೆರೆಯು:

**ಮೊದಲನೇ ಸಂಕಲನಾತ್ಮಕ ಮೌಲ್ಯಮಾಪನ, 2023-24**

ಐಷಯ: ಗಣಿತ

ತರಗತಿ: 4

ಉದ್ದಿಷ್ಟವಾರು ಕೋಷ್ಟಕ				
ಕ್ರ.ಸಂ	ಉದ್ದಿಷ್ಟಗಳು	ಪ್ರ.ಸಂ	ಅಂಕ	ಶೇ
1	ಜ್ಞಾನ	1,1,1,2,2=5	07	22
2	ತಿಳುವಳಿಕೆ	1,1,1,2,2,2,2,2=8	13	45
3	ಅನ್ವಯ	2,2,2=3	06	20
4	ಕೌಶಲ್ಯ	4=1	04	13
	<b>ಒಟ್ಟು</b>	<b>17</b>	<b>30</b>	<b>100</b>

ಪ್ರಶ್ನಾವಾರು ಕೋಷ್ಟಕ				
ಕ್ರ.ಸಂ	ಪ್ರ.ವಿಧ	ಪ್ರ.ಸಂ	ಅಂಕ	ಶೇ
1	ವಸ್ತುನಿಷ್ಠ (1 ಅಂಕ)	6	6	20
2	ಕಿರು ಉತ್ತರ (2 ಅಂಕ)	10	20	67
3	ವಿ.ಉತ್ತರ (4 ಅಂಕ)	1	4	13
	<b>ಒಟ್ಟು</b>	<b>17</b>	<b>30</b>	<b>100</b>

ಪ್ರಶ್ನೆ ಕ್ಲಿಷ್ಟತೆಮಟ್ಟ ಆಧಾರಿತ ಕೋಷ್ಟಕ				
ಕ್ರ.ಸಂ	ಕ್ಲಿಷ್ಟತೆ ಮಟ್ಟ	ಪ್ರ.ಸಂ	ಅಂಕ	ಶೇ
1	ಅತಿ ಸುಲಭ	06	09	30
2	ಸುಲಭ	09	15	50
3	ಕ್ಷಿಪ್ತ	02	06	20
	<b>ಒಟ್ಟು</b>	<b>17</b>	<b>30</b>	<b>100</b>

**ಮೊದಲನೇ ಸಂಕಲನಾತ್ಮಕ ಮೌಲ್ಯಮಾಪನ, 2023-24**

**ನೀಲಿನಕ್ಷೆ -4ನೇ ತರಗತಿ ಗಣಿತ**

ಕ್ರ.ಸಂ	ಉದ್ದಿಷ್ಟಗಳು→	ಜ್ಞಾನ			ತಿಳುವಳಿಕೆ			ಅನ್ವಯ			ಕೌಶಲ್ಯ			ಒಟ್ಟು	
	ಘಟಕಗಳು↓	ಪ.ನಿ	ಕಿ.ಉ	ವಿ.ಉ	ಪ.ನಿ	ಕಿ.ಉ	ವಿ.ಉ	ಪ.ನಿ	ಕಿ.ಉ	ವಿ.ಉ	ಪ.ನಿ	ಕಿ.ಉ	ವಿ.ಉ	ಪ್ರ.ಸಂ	ಅಂಕ
1	ಸರಳ ರೇಖಾಕೃತಿಗಳ ಸುತ್ತಳತೆ ಮತ್ತು ವಿಸ್ತೀರ್ಣ	1(1)				1(2)								2	3
2	ಸಂಖ್ಯೆಗಳು	1(1)	1(2)											2	3
3	ಸಂಕಲನ					1(2)			1(2)					2	4
4	ವ್ಯವಕಲನ					1(2)			1(2)					2	4
5	ಗುಣಾಕಾರ	1(1)				1(2)								2	3
6	ಭಾಗಾಕಾರ				1(1)	1(2)								2	3
7	ವೃತ್ತಗಳು											1(4)		1	4
8	ಮಾನಸಿಕ ಲೆಕ್ಕಾಚಾರ				1(1)				1(2)					2	3
9	ಭಿನ್ನರಾಶಿ ಸಂಖ್ಯೆಗಳು		1(2)		1(1)									2	3
	<b>ಒಟ್ಟು</b>	<b>3(3)</b>	<b>2(4)</b>		<b>3(3)</b>	<b>5(10)</b>			<b>3(6)</b>				<b>1(4)</b>	<b>17</b>	<b>30</b>
	<b>ಒಟ್ಟು</b>	<b>5(7)</b>			<b>8(13)</b>			<b>3(6)</b>			<b>1(4)</b>			<b>17(30)</b>	

ಶಾರೀಯ ಸಂಖ್ಯೆ:

**ಮೊದಲನೇ ಸಂಕಲನಾತ್ಮಕ ಮೌಲ್ಯಮಾಪನ, 2023-24**

ತರಗತಿ : 4

ವಿಷಯ : ಗಣಿತ

ಅಂಕಗಳು : 30

ಸಮಯ : 60 ನಿಮಿಷ

I. ಸೂಕ್ತ ಪದಗಳಿಂದ ವಾಕ್ಯ ಪೂರ್ತಿ ಮಾಡಿ:-

3X1=3

- ಮೂರು ಸಾವಿರದ ಒಂಬತ್ತು ಅಂಕಿಯಲ್ಲಿ ಬರೆದಾಗ \_\_\_\_\_
- ಒಂದು ಆಕೃತಿಯು ಆಕ್ರಮಿಸಿರುವ ಸ್ಥಳ ಅಥವಾ ಪ್ರದೇಶವನ್ನು \_\_\_\_\_ ಕರೆಯುವರು.
- \_\_\_\_\_  $\times 70 = 350$ .

II. ಈ ಕೆಳಗಿನ ಪ್ರಶ್ನೆಗಳಿಗೆ ಉತ್ತರಿಸಿ.

3X1=3

- $24 \div 8 = 3$  ಇದರಲ್ಲಿ ಭಾಜ್ಯ,ಭಾಜಕ,ಭಾಗಲಬ್ಧ ಗುರ್ತಿಸಿ ಬರೆ.
- ಮನಸ್ಸಿನಲ್ಲೇ ಮಾಡು 1)  $10 + 20 + 30 =$  \_\_\_\_\_
- ಬಣ್ಣ ತುಂಬಿರುವ ಒಟ್ಟು ಭಾಗವನ್ನು ಭಿನ್ನರಾಶಿಯಲ್ಲಿ ಸೂಚಿಸು.



III. ಈ ಕೆಳಗಿನ ಸಮಸ್ಯೆಗಳನ್ನು ಬಿಡಿಸಿ..

10X2=20

7. ಈ ಆಕೃತಿಯ ಸುತ್ತಳತೆ ಎಷ್ಟು?



65 ಮೀ

- 3, 5, 2, 9 ಈ ಎಲ್ಲಾ ಅಂಕಗಳನ್ನು ಉಪಯೋಗಿಸಿ ರಚಿಸಬಹುದಾದ ಅತೀ ಚಿಕ್ಕ ಸಂಖ್ಯೆ \_\_\_\_\_ ಅತೀ ದೊಡ್ಡ ಸಂಖ್ಯೆ \_\_\_\_\_
- ಆಹಾರ ಧಾನ್ಯಗಳ ಉಗ್ರಾಣದಲ್ಲಿ 2360 ಕ್ವಿಂಟಾಲ್ ರಾಗಿ ಹಾಗೂ 3427 ಕ್ವಿಂಟಾಲ್ ಜೋಳ ಇದೆ. ಉಗ್ರಾಣದಲ್ಲಿರುವ ಆಹಾರ ಧಾನ್ಯಗಳ ಒಟ್ಟು ತೂಕ ಎಷ್ಟು?
- ವ್ಯಕ್ತಿಯೊಬ್ಬನ ಒಂದು ತಿಂಗಳ ದುಡಿಮೆ ' 9500. ಅದರಲ್ಲಿ ಆ ತಿಂಗಳು ಮನೆಯ ಖರ್ಚಿಗೆ ' 3268 ಖರ್ಚಾಯಿತು. ಆತನ ಉಳಿತಾಯ ಎಷ್ಟು?
- $102 \times 43$  ನ್ನು ಗುಣಿಸಿ ಬರೆ.
- 4 ವಿದ್ಯಾರ್ಥಿಗಳು ಒಂದು ಬೆಂಚಿನಲ್ಲಿ ಕುಳಿತು ಕೊಳ್ಳಲು ಸಾಧ್ಯ 64 ವಿದ್ಯಾರ್ಥಿಗಳು ಕುಳಿತು ಕೊಳ್ಳಲು ಎಷ್ಟು ಬೆಂಚು ಬೇಕು?
- ಒಂದು ರೈಲುಬೋಗಿಗೆ ಎಂಟು ಚಕ್ರಗಳಿವೆ. 15 ರೈಲು ಬೋಗಿಗಳಲ್ಲಿರುವ ಒಟ್ಟು ಚಕ್ರಗಳ ಸಂಖ್ಯೆ ಎಷ್ಟು?
- ಮುಂದೆ ಕೊಟ್ಟಿರುವ ಭಿನ್ನರಾಶಿಗೆ ಎರಡು ಸಮಾನ ಭಿನ್ನರಾಶಿಗಳನ್ನು ಬರೆ.  $\frac{1}{4}, \frac{2}{5}$
- $6371 + 421$  ಇವುಗಳನ್ನು ಸ್ಥಾನಬೆಲೆಗೆ ಅನುಗುಣವಾಗಿ ಬರೆದು ಕೂಡು.
- 5074 ರಿಂದ 3267 ನ್ನು ಕಳೆ.

III. ಬಿಡಿಸಿ.

1X4=4

17. ಸ್ಕೇಲು ಮತ್ತು ಕೈವಾರದ ಸಹಾಯದಿಂದ 3ಸೆಂ,ಮೀ ಇರುವ ಒಂದು ವೃತ್ತ ಎಳೆದು ವೃತ್ತದ ಕೇಂದ್ರ ಬಿಂದುವನ್ನು ಗುರ್ತಿಸು.

\*\*\*\*\*

ಶಾರೀಯ ನೆರೆಯು:

**ಮೊದಲನೇ ಸಂಕಲನಾತ್ಮಕ ಮೌಲ್ಯಮಾಪನ, 2023-24**

ಐಷಯ: ಪಲಸರ ಅಧ್ಯಯನ

ತರಗತಿ: 4

ಉದ್ದಿಷ್ಟವಾರು ಕೋಷ್ಟಕ				
ಕ್ರ.ಸಂ	ಉದ್ದಿಷ್ಟಗಳು	ಪ್ರ.ಸಂ	ಅಂಕ	ಶೇ
1	ಜ್ಞಾನ	1,1,1,2,2=5	07	22
2	ತಿಳುವಳಿಕೆ	1,1,1,2,2,2,2=8	13	45
3	ಅನ್ವಯ	2,2,2=3	06	20
4	ಕೌಶಲ್ಯ	4=1	04	13
	<b>ಒಟ್ಟು</b>	<b>17</b>	<b>30</b>	<b>100</b>

ಪ್ರಶ್ನಾವಾರು ಕೋಷ್ಟಕ				
ಕ್ರ.ಸಂ	ಪ್ರ.ವಿಧ	ಪ್ರ.ಸಂ	ಅಂಕ	ಶೇ
1	ವಸ್ತುನಿಷ್ಠ (1 ಅಂಕ)	6	6	20
2	ಕಿರು ಉತ್ತರ (2 ಅಂಕ)	10	20	67
3	ವಿ.ಉತ್ತರ (4 ಅಂಕ)	1	4	13
	<b>ಒಟ್ಟು</b>	<b>17</b>	<b>30</b>	<b>100</b>

ಪ್ರಶ್ನೆ ಕ್ಲಿಷ್ಟತೆಮಟ್ಟ ಆಧಾರಿತ ಕೋಷ್ಟಕ				
ಕ್ರ.ಸಂ	ಕ್ಲಿಷ್ಟತೆ ಮಟ್ಟ	ಪ್ರ.ಸಂ	ಅಂಕ	ಶೇ
1	ಅತಿ ಸುಲಭ	06	09	30
2	ಸುಲಭ	09	15	50
3	ಕ್ಷಿಪ್ತ	02	06	20
	<b>ಒಟ್ಟು</b>	<b>17</b>	<b>30</b>	<b>100</b>



**ಮೊದಲನೇ ಸಂಕಲನಾತ್ಮಕ ಮೌಲ್ಯಮಾಪನ, 2023-24**

**ನೀಲಿನಕ್ಷೆ -4ನೇ ತರಗತಿ ಪರಿಸರ ಅಧ್ಯಯನ**

ಕ್ರ.ಸಂ	ಉದ್ದಿಷ್ಟಗಳು→	ಜ್ಞಾನ			ತಿಳುವಳಿಕೆ			ಅನ್ವಯ			ಕೌಶಲ್ಯ			ಒಟ್ಟು	
	ಘಟಕಗಳು↓	ವ.ನಿ	ಕಿ.ಉ	ವಿ.ಉ	ವ.ನಿ	ಕಿ.ಉ	ವಿ.ಉ	ವ.ನಿ	ಕಿ.ಉ	ವಿ.ಉ	ವ.ನಿ	ಕಿ.ಉ	ವಿ.ಉ	ಪ್ರ.ಸಂ	ಅಂಕ
1	ಪ್ರಾಣಿ ಪ್ರಪಂಚ				1(1)	1(2)								2	3
2	ಸವಿಜೇನು		1(2)		1(1)									2	3
3	ವನಸಂಚಾರ				1(1)	1(2)								2	3
4	ಸಸ್ಯಾಧಾರ ಬೇರು					1(2)								1	2
5	ಪುಷ್ಪರಾಗ					1(2)								1	2
6	ಹನಿಗೂಡಿಹರೆ.	1(1)												1	1
7	ಜಲಮಾಲಿನ್ಯ-ಸಂರಕ್ಷಣೆ .								1(2)					1	2
8	ಆಹಾರ-ಆರೋಗ್ಯ	1(1)							1(2)					2	3
9	ಆಹಾರ-ಅಭ್ಯಾಸ								1(2)					1	2
10	ವಸತಿ ವೈವಿಧ್ಯ	1(1)				1(2)								2	3
11	ಕಸ-ರಸ		1(2)											1	2
12	ನಕ್ಷೆ ಕಲಿ-ದಾರಿ ತಿಳಿ												1(4)	1	4
	<b>ಒಟ್ಟು</b>	<b>3(3)</b>	<b>2(4)</b>		<b>3(3)</b>	<b>5(10)</b>			<b>3(6)</b>				<b>1(4)</b>	<b>17</b>	<b>30</b>
	<b>ಒಟ್ಟು</b>	<b>5(7)</b>			<b>8(13)</b>			<b>3(6)</b>			<b>1(4)</b>			<b>17(30)</b>	

ಕಾರ್ಯಾಯುಕ್ತರು: \_\_\_\_\_

**ಮೊದಲನೇ ಸಂಕಲನಾತ್ಮಕ ಮೌಲ್ಯಮಾಪನ, 2023-24**

ತರಗತಿ : 4

ವಿಷಯ : ಪರಿನರ ಅಧ್ಯಯನ

ಅಂಕಗಳು : 30

ಸಮಯ : 60 ನಿಮಿಷ

I. ಸೂಕ್ತ ಪದಗಳಿಂದ ವಾಕ್ಯ ಪೂರ್ತಿ ಮಾಡಿ:-

3X1=3

1. ನೀರು ಕಾದು \_\_\_\_\_ ಆಗುತ್ತದೆ.
2. ಎ ಜೀವ ಸತ್ತ ಕೊರತೆಯಿಂದ \_\_\_\_\_ ರೋಗ ಬರುತ್ತದೆ.
3. ಇಲಿಯ ವಾಸಸ್ಥಳ \_\_\_\_\_

II. ಈ ಕೆಳಗಿನ ಪ್ರಶ್ನೆಗಳಿಗೆ ಒಂದು ವಾಕ್ಯದಲ್ಲಿ ಉತ್ತರಿಸಿ.

3X1=3

4. ಮನೆಯಲ್ಲಿ ಬಳಸುವ ಹಾಲು ಯಾವ ಪ್ರಾಣಿಗಳಿಂದ ದೊರೆಯುತ್ತದೆ?
5. ರಾಣಿ ಜೇನಿನ ಕೆಲಸ ಏನು?
6. ಅರಣ್ಯ ಸಂರಕ್ಷಣೆಯ ಬಗ್ಗೆ ಒಂದು ಘೋಷಣೆಯನ್ನು ಬರೆ.

III. ಈ ಕೆಳಗಿನ ಪ್ರಶ್ನೆಗಳಿಗೆ ಎರಡು-ಮೂರು ವಾಕ್ಯದಲ್ಲಿ ಉತ್ತರಿಸಿ.

10X2=20

7. ಪ್ರಾಣಿಗಳಿಂದ ನಮಗಾಗುವ 4 ಅನುಕೂಲಗಳನ್ನು ಬರೆ.
8. ಜೇನುಗೂಡಿನ ಉತ್ಪನ್ನಗಳಿಂದ ಯಾವ ಯಾವ ವಸ್ತುಗಳನ್ನು ತಯಾರಿಸುತ್ತಾರೆ?
9. ಕಾಡುಗಳಿಂದ ನಮಗೇನೆಲ್ಲಾ ವಸ್ತುಗಳು ದೊರಕುತ್ತವೆ ಪಟ್ಟಿಮಾಡಿ.
10. ಬೇರಿನ ಕಾರ್ಯಗಳನ್ನು ಪಟ್ಟಿ ಮಾಡು.
11. ಯಾವುದಾದರೂ ಎರಡು ಹೂಗಳ ಉಪಯೋಗಗಳನ್ನು ಬರೆಯಿರಿ?
12. ನೀರು ಮಲಿನಗೊಳ್ಳದಂತೆ ಯಾವ ಕ್ರಮಗಳನ್ನು ವಹಿಸಬೇಕು?
13. ಬೀದಿಯಲ್ಲಿ ತೆರೆದಿಟ್ಟು ಮಾರುವ ಆಹಾರ ಮತ್ತು ಕತ್ತರಿಸಿಟ್ಟ ಹಣ್ಣುಗಳನ್ನು ತಿನ್ನಬಾರದು. ಏಕೆ?
14. ನೀನು ಭಾಗವಹಿಸಿದ ಜಾತ್ರೆಯ ಅನುಭವವನ್ನು ಬರೆ.
15. ನೀನು ಕಸವೆಂದು ಎಸೆಯುವ ಐದು ವಸ್ತುಗಳ ಹೆಸರನ್ನು ಬರೆ.
16. ಬಹುಮಹಡಿ ಕಟ್ಟಡಗಳಿಂದ ಆಗುವ ಅನುಕೂಲ ಏನು?

III. ಈ ಕೆಳಗಿನ ಪದ್ಯ ಭಾಗವನ್ನು ಪೂರ್ತಿ ಮಾಡಿ.

1X4=4

17. ಕರ್ನಾಟಕ ರಾಜ್ಯದ ಭೂಪಟವನ್ನು ಬರೆದು, ಕೆಳಗೆ ಕೊಟ್ಟ ಸ್ಥಳಗಳು ರಾಜ್ಯದ ಯಾವ ದಿಕ್ಕಿನಲ್ಲಿವೆ ಎಂದು ಗುರುತಿಸಿ ಬರೆ.

1. ಅರಬ್ಬೀ ಸಮುದ್ರ, 2. ಆಂಧ್ರಪ್ರದೇಶ

\*\*\*\*\*

4 ನೇ ತರಗತಿ ಇಂಗ್ಲೀಷ್(ಉ.ಭಾ)

ಸಂಕಲನಾತ್ಮಕ ಮೌಲ್ಯಮಾಪನ-1

2023-24

ಮಾದರಿ

ಪ್ರಶ್ನೆಪತ್ರಿಕೆ

(ಕೇವಲ ಪರಾಮರ್ಶೆಗಾಗಿ,ಇದೇ ಮಾದರಿಯಲ್ಲಿ  
ಶಾಲಾ ಹಂತದಲ್ಲಿ ತಯಾರಿಸಿಕೊಳ್ಳಬಹುದು.)

ಪ್ರಶ್ನೆಪತ್ರಿಕೆ ತಯಾರಿಕೆ

ರಮ್ಯ

ಸಾಹಿತ್ಯಕಾರ

ಸರ್ಕಾರಿ ಸಿಲಿಯು ಪ್ರಾಥಮಿಕ ಶಾಲೆ ಸಾತೇನಾಳ್ಕಿ

ಸಾಸನ ತಾಲ್ಲೂಕು, ಸಾಸನ ಜಿಲ್ಲೆ

ಶಾಲೆಯ ಹೆಸರು: \_\_\_\_\_

ಮೊದಲನೇ ಸಂಕಲನಾತ್ಮಕ ಮೌಲ್ಯಮಾಪನ, 2023-24

ತರಗತಿ : 4

ಬಿಷಯ : ENGLISH

ಅಂಕಗಳು : 10

ಸಮಯ : 20 ನಿಮಿಷ



I. I. Match the following.


$4 \times \frac{1}{2} = 2$

Sl. No	A	B	
1.	Onions	Tired	
2.	Knife	Soft	
3.	Gopu	Sharp	
4.	voice	Red and white	

II. Fill in the blanks.





2X1=2

1. The rooks build their \_\_\_\_\_  on the \_\_\_\_\_ 

2. Their nests look \_\_\_\_\_  and big.

I. III. Read the picture and talk about the picture.

$4 \times \frac{1}{2} = 2$

 <p>it is _____ it is very _____</p>	 <p>it is _____ it is very _____</p>
 <p>it is _____ it is very _____</p>	 <p>it is _____ it is very _____</p>

IV. Write a letter. Choose the words from those given in brackets.

1X2=2

The chief \_\_\_\_\_

Government of \_\_\_\_\_

We are \_\_\_\_\_ you \_\_\_\_\_ us. We would like to  
\_\_\_\_\_ our \_\_\_\_\_

\_\_\_\_\_

Your \_\_\_\_\_

( faithfully, happy, minister, have saved, thanks, express, sir, tree and river,  
Karnataka)

V. Make a meaning full sentence.

2X1=2

1. I'd / to / a/ bus/ like/ drive

2. a/ rocket/ lanch/ to/ like/ I'd

5 ನೇ ತರಗತಿ ಕನ್ನಡ(ಪ್ರ.ಭಾ), ಇಂಗ್ಲೀಷ್(ಛ.ಭಾ),ಗಣಿತ ಮತ್ತು  
ಪಠಿಸರ ಅಧ್ಯಯನಗಳ

**ಸಂಕಲನಾತ್ಮಕ ಮೌಲ್ಯಮಾಪನ-1**

2023-24

ಮಾಧರಿ

**ಪ್ರಶ್ನೆಪತ್ರಿಕೆ**

(ಕೇವಲ ಪಠಾಢುಶೇಢಗಾಢ,ಇಢೇ ಢಾಧರಿಯಲ್ಲ  
ಶಾಲಾ ಹಂತಢಲ್ಲ ತಯಾರಿಸಿಕೊಳ್ಳಬಹುಢು.)

ಢಿನ್ಯಾಸ

ಅಂಜು ಸಕಲೇಶಪುರ

ಪ್ರಶ್ನೆಪತ್ರಿಕೆ ತಯಾರಿಕೆ

ಭಾಗ್ಯಲಕ್ಷ್ಮೀ ಸಿ.ಎಸ್

ಸಹಶಿಕ್ಷಕರು

ಶಾರೀರಿಯ ಸಂಖ್ಯೆ:

**ಮೊದಲನೇ ಸಂಕಲನಾತ್ಮಕ ಮೌಲ್ಯಮಾಪನ, 2023-24**

ಐಷಯ: ಕನ್ನಡ

ತರಗತಿ: 5

ಉದ್ದಿಷ್ಟವಾರು ಕೋಷ್ಟಕ				
ಕ್ರ.ಸಂ	ಉದ್ದಿಷ್ಟಗಳು	ಪ್ರ.ಸಂ	ಅಂಕ	ಶೇ
1	ಜ್ಞಾನ	1,1,1,2,2,2=6	9	30
2	ಗ್ರಹಿಕೆ	1,1,1,2,2,2,2=7	11	37
3	ಅಭಿವ್ಯಕ್ತಿ	2,2,2=3	6	20
4	ಪ್ರಶಂಸೆ	4=1	4	13
	<b>ಒಟ್ಟು</b>	<b>17</b>	<b>30</b>	<b>100</b>

ಪ್ರಶ್ನಾವಾರು ಕೋಷ್ಟಕ				
ಕ್ರ.ಸಂ	ಪ್ರ.ವಿಧ	ಪ್ರ.ಸಂ	ಅಂಕ	ಶೇ
1	ವಸ್ತುನಿಷ್ಠ (1 ಅಂಕ)	06	06	20
2	ಕಿರು ಉತ್ತರ (2 ಅಂಕ)	10	20	67
3	ವಿ.ಉತ್ತರ (4 ಅಂಕ)	01	04	13
	<b>ಒಟ್ಟು</b>	<b>17</b>	<b>30</b>	<b>100</b>

ಪ್ರಶ್ನೆ ಕ್ಲಿಷ್ಟತೆಮಟ್ಟ ಆಧಾರಿತ ಕೋಷ್ಟಕ				
ಕ್ರ.ಸಂ	ಕ್ಲಿಷ್ಟತೆ ಮಟ್ಟ	ಪ್ರ.ಸಂ	ಅಂಕ	ಶೇ
1	ಅತಿ ಸುಲಭ	06	09	30
2	ಸುಲಭ	09	15	50
3	ಕ್ಷಿಪ್ತ	02	06	20
	<b>ಒಟ್ಟು</b>	<b>17</b>	<b>30</b>	<b>100</b>

**ಮೊದಲನೇ ಸಂಕಲನಾತ್ಮಕ ಮೌಲ್ಯಮಾಪನ, 2023-24**

**ನೀಲಿನಕ್ಷೆ-5ನೇ ತರಗತಿ ಕನ್ನಡ(ಪ್ರ.ಭಾ)**

ಕ್ರ.ಸಂ	ಉದ್ದಿಷ್ಟಗಳು→	ಜ್ಞಾನ			ಗ್ರಹಿಕೆ			ಅಭಿವ್ಯಕ್ತಿ			ಪ್ರಶಂಸೆ			ಒಟ್ಟು	
	ಘಟಕಗಳು↓	ಪ.ನಿ	ಕಿ.ಉ	ವಿ.ಉ	ಪ.ನಿ	ಕಿ.ಉ	ವಿ.ಉ	ಪ.ನಿ	ಕಿ.ಉ	ವಿ.ಉ	ಪ.ನಿ	ಕಿ.ಉ	ವಿ.ಉ	ಪ್ರ.ಸಂ	ಅಂಕ
1	ಒಟ್ಟಿಗೆ ಬಾಳುವ ಆನಂದ	1(1)							1(2)					2	3
2	ನದಿಯ ಅಳಲು				1(1)	1(2)								2	3
3	ನಮ್ಮ ಮಾತು ಕೇಳಿ				1(1)	1(2)								2	3
4	ಜೀವದ ಮೌಲ್ಯ				1(1)				1(2)					2	3
10	ಗಿಡಮರ(ಪದ್ಯ)	1(1)				1(2)								2	3
11	ಸ್ವಾತಂತ್ರ್ಯದ ಹಣತೆ(ಪದ್ಯ)											1(4)		1	4
12	ವಚನಗಳು(ಪದ್ಯ)		1(2)			1(2)								2	4
13	ಕನ್ನಡ ಕನ್ನಡ ಬರಿ ನಮ್ಮ ಸಂಗಡ (ಪದ್ಯ)	1(1)							1(2)					2	3
1	ಪ್ರಾಮಾಣಿಕತೆ (ಪೂರಕ ಪಾಠ)		1(2)											1	2
2	ಮೆಚ್ಚಿನ ಗೊಂಬೆ(ಪೂರಕ ಪಾಠ)		1(2)											1	2
		3(3)	3(6)		3(3)	4(8)			3(6)				1(4)	17	30
		6(9)			7(11)			3(6)			1(4)			17(30)	

ಶಾರ್ವಯು ಸ್ಥಳ: \_\_\_\_\_

**ಮೊದಲನೇ ಸಂಕಲನಾತ್ಮಕ ಮೌಲ್ಯಮಾಪನ, 2023-24**

ತರಗತಿ : 5

ಐಷಯ : ಸಫಿನನ್ನಡ

ಅಂಕಗಲು : 30

ಸಮಯ : 60 ಫಢುಷ

I. ಸೂಕ್ತ ಪದಗಲಿಂದ ವಾಕ್ಯ ಪೂರ್ತಿ ಮಾಡಿ:-

3X1=3

1. ಬೇವಿನ ಮರವನ್ನು ಜನ \_\_\_\_\_ ಎಂದು ಕರೆಯುತ್ತಿದ್ದರು.
2. ಎಂಥ ಸೂಗಸು \_\_\_\_\_
3. ಎದೆಯ ತುಂಬ \_\_\_\_\_ ತುಳುಕಬೇಕು.

II. ಀ ಕೆಲಗಿನ ಪ್ರಶ್ನೆಗಲಿಗೆ ಉತ್ತರಿಸಿ. 3X1=3

4. ಚಕ್ರ, ಆಜ್ಞೆ, ಸ್ತ್ರೀ, ವಸ್ತ್ರ ಇತ್ಯಾದಿ. ಇವು ಯಾವ ರೀತಿಯ ಸಂಯುಕ್ತಾಕ್ಷರಗಲಾಗಿವೆ.
5. ವಚನ ಬದಲಿಸಿ ಬರೆಯಿರಿ. 1. ನೀವು
6. ಬಾರ್ಬರಾ ಯಾವ ಸಮಸ್ಯೆಯಿಂದ ನರಳುತ್ತಿದ್ದಳು?

II. ಀ ಕೆಲಗಿನ ಪ್ರಶ್ನೆಗಲಿಗೆ ಉತ್ತರಿಸಿ.

10X2=20

7. ಬೇವಿನ ಮರ ಮತ್ತು ಅಮ್ಮನ ಕಲ್ಲು ಮತ್ತೆ ಹೇಗೆ ಸ್ನೇಹಿತರಾದವು?
  8. ನದಿ ಶುದ್ಧವಾಗಿ ಹರಿಯುವಂತಾಗಲು ಏನು ಮಾಡಬಹುದು?
  9. ಕರಡಿ ಹಿಡಿದ ಫಲಕದಲ್ಲಿ ಏನೆಂದು ಬರೆದಿತ್ತು?
  10. ಀ ನುಡಿಗಟ್ಟುಗಲ ಅರ್ಥ ಬರೆದು, ವಾಕ್ಯಗಲಲ್ಲಿ ಬಳಸಿ. 1. ಕಂಠವು ಬಿಗಿದು ಬಂತು 2. ಕಣ್ಣನ್ನು ತೆರೆಸು
  11. ಯಾರ ಮಾತಿನಂತೆ ಮನ ಇಲ್ಲ? ಏಕೆ?
  12. ಅಕ್ಕಮಹಾದೇವಿ ಅವರ ಅಂಕಿತ ಏನು? ಎಂತಹ ಭಕ್ತಿಯಿಂದ ದ್ರವ್ಯದ ಕೇಡಾಗುತ್ತದೆ?
  13. ಕೂಟ್ಟಿರುವ ವಾಕ್ಯಗಲಲ್ಲಿ ಗುಣವಿಶೇಷಣವನ್ನು ಗುರುತಿಸಿ ಅಡಿ ಗೆರೆ ಹಾಕಿರಿ.
- ಅ. ಲಾರಿಯು ತುಂಬ ಲಗ್ನೇಜನ್ನು ಹೂರಬಲ್ಲುದು.  
ಆ. ವಿಮಾನ ನಿಲ್ದಾಣದಲ್ಲಿ ವಿಶೇಷ ಅತಿಥಿಗಲ ಕೂಠಡಿಗಲಿರುತ್ತವೆ.
14. ಀ ಪದಗಲನ್ನು ಬಿಡಿಸಿ ಬರೆಯಿರಿ. ಸಂಧಿ ಕಾರ್ಯ ಹೇಳಿರಿ. ಸಕ್ಕರೆಯಾಯಿತು, ಕೆಟ್ಟವಳೇನೂ,
  15. ರಾಜಮ್ಮನ ಪ್ರಾಮಾಣಿಕತೆಗೆ ಸಹ ಪ್ರಯಾಣಿಕಳು ಯಾವ ಸಲಹೆ ಕೂಟ್ಟಳು?
  16. ಗೂಂಬೆಗಲು ಯಾವ ಯಾವ ರೂಪಗಲಲ್ಲಿ ಜನ್ಮತಾಳಿವೆ?

III. ಀ ಕೆಲಗಿನ ಪದ್ಯ ಭಾಗವನ್ನು ಪೂರ್ತಿ ಮಾಡಿ.

1X4=4

17. ಸದಾ \_\_\_\_\_  
\_\_\_\_\_  
\_\_\_\_\_ ಘನತೆ  
ಸಾಗಿದಂತೆ \_\_\_\_\_  
\_\_\_\_\_  
\_\_\_\_\_ ದವನ

\*\*\*\*\*



ಶಾರೀಯ ನೆರೆಯ:

**ಮೊದಲನೇ ಸಂಕಲನಾತ್ಮಕ ಮೌಲ್ಯಮಾಪನ, 2023-24**

ಐಷಯ: ಗಣಿತ

ತರಗತಿ: 5

ಉದ್ದಿಷ್ಟವಾರು ಕೋಷ್ಟಕ				
ಕ್ರ.ಸಂ	ಉದ್ದಿಷ್ಟಗಳು	ಪ್ರ.ಸಂ	ಅಂಕ	ಶೇ
1	ಜ್ಞಾನ	1,1,1,2,2=5	07	22
2	ತಿಳುವಳಿಕೆ	1,1,1,2,2,2,2,2=8	13	45
3	ಅನ್ವಯ	2,2,2=3	06	20
4	ಕೌಶಲ್ಯ	4=1	04	13
	<b>ಒಟ್ಟು</b>	<b>17</b>	<b>30</b>	<b>100</b>

ಪ್ರಶ್ನಾವಾರು ಕೋಷ್ಟಕ				
ಕ್ರ.ಸಂ	ಪ್ರ.ವಿಧ	ಪ್ರ.ಸಂ	ಅಂಕ	ಶೇ
1	ವಸ್ತುನಿಷ್ಠ (1 ಅಂಕ)	6	6	20
2	ಕಿರು ಉತ್ತರ (2 ಅಂಕ)	10	20	67
3	ವಿ.ಉತ್ತರ (4 ಅಂಕ)	1	4	13
	<b>ಒಟ್ಟು</b>	<b>17</b>	<b>30</b>	<b>100</b>

ಪ್ರಶ್ನೆ ಕ್ಲಿಷ್ಟತೆಮಟ್ಟ ಆಧಾರಿತ ಕೋಷ್ಟಕ				
ಕ್ರ.ಸಂ	ಕ್ಲಿಷ್ಟತೆ ಮಟ್ಟ	ಪ್ರ.ಸಂ	ಅಂಕ	ಶೇ
1	ಅತಿ ಸುಲಭ	06	09	30
2	ಸುಲಭ	09	15	50
3	ಕ್ಷಿಪ್ತ	02	06	20
	<b>ಒಟ್ಟು</b>	<b>17</b>	<b>30</b>	<b>100</b>

**ಮೊದಲನೇ ಸಂಕಲನಾತ್ಮಕ ಮೌಲ್ಯಮಾಪನ, 2023-24**

**ನೀಲಿನಕ್ಷೆ - 5ನೇ ತರಗತಿ ಗಣಿತ**

ಕ್ರ.ಸಂ	ಉದ್ದಿಷ್ಟಗಳು →	ಜ್ಞಾನ			ತಿಳುವಳಿಕೆ			ಅನ್ವಯ			ಕೌಶಲ್ಯ			ಒಟ್ಟು	
	ಘಟಕಗಳು ↓	ಪ.ನಿ	ಕಿ.ಉ	ವಿ.ಉ	ಪ.ನಿ	ಕಿ.ಉ	ವಿ.ಉ	ಪ.ನಿ	ಕಿ.ಉ	ವಿ.ಉ	ಪ.ನಿ	ಕಿ.ಉ	ವಿ.ಉ	ಪ್ರ.ಸಂ	ಅಂಕ
1	5 ಅಂಕಿಯ ಸಂಖ್ಯೆಗಳು	1(1)	1(2)											2	3
2	ಸಂಕಲನ		1(2)						1(2)					2	4
3	ವ್ಯವಕಲನ	1(1)							1(2)					2	3
4	ಅಪವರ್ತನಗಳು ಮತ್ತು ಅಪವರ್ತನಗಳು				1(1)	1(2)								2	3
5	ಭಿನ್ನರಾಶಿ				1(1)	1(2)								2	3
6	ಕೋನಗಳು				1(1)	1(2)								2	3
7	ವೃತ್ತಗಳು											1(4)		1	4
8	ಉದ್ದ					1(2)								1	2
9	ಸುತ್ತಳತೆ ಮತ್ತು ವಿಸ್ತೀರ್ಣ	1(1)				1(2)								2	3
10	ಅಂಕಿ ಅಂಶಗಳು								1(2)					1	2
	<b>ಒಟ್ಟು</b>	<b>3(3)</b>	<b>2(4)</b>		<b>3(3)</b>	<b>5(10)</b>			<b>3(6)</b>				<b>1(4)</b>	<b>17</b>	<b>30</b>
	<b>ಒಟ್ಟು</b>	<b>5(7)</b>			<b>8(13)</b>			<b>3(6)</b>			<b>1(4)</b>			<b>17(30)</b>	

**ಮೊದಲನೇ ಸಂಕಲನಾತ್ಮಕ ಮೌಲ್ಯಮಾಪನ, 2023-24**

ತರಗತಿ : 5

ಐಷಯ : ಗಣಿತ

ಅಂಕಗಳು : 30

ಸಮಯ : 60 ನಿಮಿಷ

**I. ಈ ಕೆಳಗಿನ ಬಿಟ್ಟ ಸ್ಥಳಗಳನ್ನು ಸೂಕ್ತ ಪದ ಬಳಸಿ ತುಂಬಿರಿ.**

**3×1=3**

1. ಚೌಕದಲ್ಲಿ ಸಮನಾದ ಬಾಹುಗಳ ಸಂಖ್ಯೆ \_\_\_\_\_
2. 65215-23891 ಇವುಗಳ ವ್ಯತ್ಯಾಸ \_\_\_\_\_
3. 7,8,4,9 ರಚಿಸಬಹುದಾದ ನಾಲ್ಕುಂಕಿಯ ಅತಿ ಚಿಕ್ಕ ಸಂಖ್ಯೆ \_\_\_\_\_

**II. ಈ ಕೆಳಗಿನ ಸಮಸ್ಯೆಗಳನ್ನು ಬಿಡಿಸಿರಿ**

**3×1=3**

4. ಈ ಕೆಳಗಿನ ಸಂಖ್ಯೆಗಳಲ್ಲಿ 50 ರ ಅಪವರ್ತನಗಳನ್ನು ಗುರುತಿಸಿ ವೃತ್ತ ಹಾಕು-5, 10, 16, 21, 25, 35, 50 4
5.  $\frac{1}{3} = \frac{\quad}{6}$  ಖಾಲಿ ಜಾಗವನ್ನು ಸೂಕ್ತ ಅಂಕಿಯಿಂದ ತುಂಬು.
6. ಕೋನವನ್ನು ಅಳೆಯಲು ಬಳಸುವ ಸಾಧನ ಯಾವುದು?

**III. ಈ ಕೆಳಗಿನ ಸಮಸ್ಯೆಗಳನ್ನು ಬಿಡಿಸಿರಿ.**

**10×2=20**

7. ಈ ಕೆಳಗೆ ಕೊಟ್ಟಿರುವ ಸಂಖ್ಯೆಗಳನ್ನು ಇಳಿಕೆ ಕ್ರಮದಲ್ಲಿ ಬರೆಯಿರಿ.  
61234, 62134, 21364, 12364
8. ಒಂದು ಹಳ್ಳಿಯ ಜನಸಂಖ್ಯೆಯು 3,389. ಇನ್ನೊಂದು ಹಳ್ಳಿಯ ಜನಸಂಖ್ಯೆಯು 4,893. ಎರಡು ಹಳ್ಳಿಗಳ ಒಟ್ಟು ಜನಸಂಖ್ಯೆಯನ್ನು ಕಂಡುಹಿಡಿಯಿರಿ.
9. ಒಬ್ಬ ರೈತನು ಕಳೆದ ವರ್ಷ 38,462 ತೆಂಗಿನ ಕಾಯಿಗಳನ್ನು ತನ್ನ ತೋಟದಿಂದ ಪಡೆದನು. ಈ ವರ್ಷ 47,285 ತೆಂಗಿನ ಕಾಯಿಗಳನ್ನು ಪಡೆದನು. ಅವನು ಕಳೆದ ವರ್ಷಕ್ಕಿಂತ ಎಷ್ಟು ಹೆಚ್ಚು ತೆಂಗಿನ ಕಾಯಿಗಳನ್ನು ಪಡೆದಿದ್ದಾನೆ?
10. ಒಂದು ಬೈಸಿಕಲ್ ಕಾರ್ಖಾನೆಯಲ್ಲಿ 2005 ರಿಂದ 2009ನ ಸಾಲಿನಲ್ಲಿ ತಯಾರಿಸಲಾದ ಬೈಸಿಕಲ್‌ಗಳ ಸಂಖ್ಯೆಯನ್ನು ಕೊಡಲಾಗಿದೆ. ಈ ದತ್ತಾಂಶಗಳಿಗೆ ಸೂಕ್ತ ಸ್ತಂಭಾಲೇಖವನ್ನು ರಚಿಸಿರಿ.

ವರ್ಷ	2005	2006	2007	2008	2009
ಬೈಸಿಕಲ್ ಗಳ ಸಂಖ್ಯೆ	800	600	900	500	700

11. 90 ರ ಅಪವರ್ತನ ವ್ಯಕ್ತ ರಚಿಸಿರಿ.
12. ಈ ಭಿನ್ನರಾಶಿಗಳನ್ನು ಸಂಕ್ಷಿಪ್ತ ರೂಪದಲ್ಲಿ ಬರೆಯಿರಿ  $\frac{24}{36}, \frac{45}{75}$
13. ಕೋನದ ವಿವಿಧ ವಿಧಗಳನ್ನು ಉದಾಹರಣೆಯೊಂದಿಗೆ ಪಟ್ಟಿಮಾಡಿ.
14. 65 ಮೀಟರ್ 56 ಸೆ.ಮೀ ಮತ್ತು 44 ಮೀಟರ್ 32 ಸೆ.ಮೀ ಇವುಗಳ ವ್ಯತ್ಯಾಸ ಕಂಡುಹಿಡಿಯಿರಿ.
15. ಒಂದು ಚೌಕಾಕಾರ ಮೈದಾನದ ಉದ್ದ 75 ಮೀಟರ್ ರೀತಾಳು ಈ ಮೈದಾನದ ಸುತ್ತ 5 ಸುತ್ತು ಓಡುತ್ತಾಳೆ. ಅವಳು ಓಡಿದ ಒಟ್ಟು ದೂರವೆಷ್ಟು?
16. ಕೆಳಗಿನ ಸಂಖ್ಯೆಗಳ ಮೊತ್ತ ಕಂಡುಹಿಡಿಯಿರಿ.  
25,236 + 34,051 + 8,368

**III. ಈ ಕೆಳಗಿನ ಸಮಸ್ಯೆಗಳನ್ನು ಬಿಡಿಸಿರಿ**

**1×4=4**

17. 5 ಸೆ.ಮೀ ತ್ರಿಜ್ಯವಿರುವ ವೃತ್ತವನ್ನು ರಚಿಸಿ, ವ್ಯಾಸವನ್ನು ಅಳೆದು ಬರೆಯಿರಿ.

ಶಾರೀಯ ನೆರೆಯ:

**ಮೊದಲನೇ ಸಂಕಲನಾತ್ಮಕ ಮೌಲ್ಯಮಾಪನ, 2023-24**

ಐಷಯ: ಪಲಸರ ಅಧ್ಯಯನ

ತರಗತಿ: 5

ಉದ್ದಿಷ್ಟವಾರು ಕೋಷ್ಟಕ				
ಕ್ರ.ಸಂ	ಉದ್ದಿಷ್ಟಗಳು	ಪ್ರ.ಸಂ	ಅಂಕ	ಶೇ
1	ಜ್ಞಾನ	1,1,1,2,2=5	07	22
2	ತಿಳುವಳಿಕೆ	1,1,1,2,2,2,2=8	13	45
3	ಅನ್ವಯ	2,2,2=3	06	20
4	ಕೌಶಲ್ಯ	4=1	04	13
	<b>ಒಟ್ಟು</b>	<b>17</b>	<b>30</b>	<b>100</b>

ಪ್ರಶ್ನಾವಾರು ಕೋಷ್ಟಕ				
ಕ್ರ.ಸಂ	ಪ್ರ.ವಿಧ	ಪ್ರ.ಸಂ	ಅಂಕ	ಶೇ
1	ವಸ್ತುನಿಷ್ಠ (1 ಅಂಕ)	6	6	20
2	ಕಿರು ಉತ್ತರ (2 ಅಂಕ)	10	20	67
3	ವಿ.ಉತ್ತರ (4 ಅಂಕ)	1	4	13
	<b>ಒಟ್ಟು</b>	<b>17</b>	<b>30</b>	<b>100</b>

ಪ್ರಶ್ನೆ ಕ್ಲಿಷ್ಟತೆಮಟ್ಟ ಆಧಾರಿತ ಕೋಷ್ಟಕ				
ಕ್ರ.ಸಂ	ಕ್ಲಿಷ್ಟತೆ ಮಟ್ಟ	ಪ್ರ.ಸಂ	ಅಂಕ	ಶೇ
1	ಅತಿ ಸುಲಭ	06	09	30
2	ಸುಲಭ	09	15	50
3	ಕ್ಷಿಪ್ತ	02	06	20
	<b>ಒಟ್ಟು</b>	<b>17</b>	<b>30</b>	<b>100</b>

**ಮೊದಲನೇ ಸಂಕಲನಾತ್ಮಕ ಮೌಲ್ಯಮಾಪನ, 2023-24**

**ನೀಲಿನಕ್ಷೆ- 5ನೇ ತರಗತಿ ಪರಿಸರ ಅಧ್ಯಯನ**

ಕ್ರ.ಸಂ	ಉದ್ದಿಷ್ಟಗಳು→	ಜ್ಞಾನ			ತಿಳುವಳಿಕೆ			ಅನ್ವಯ			ಕೌಶಲ್ಯ			ಒಟ್ಟು	
	ಘಟಕಗಳು↓	ಪ.ನಿ	ಕಿ.ಉ	ವಿ.ಉ	ಪ.ನಿ	ಕಿ.ಉ	ವಿ.ಉ	ಪ.ನಿ	ಕಿ.ಉ	ವಿ.ಉ	ಪ.ನಿ	ಕಿ.ಉ	ವಿ.ಉ	ಪ್ರ.ಸಂ	ಅಂಕ
1	ಜೀವ ಪ್ರಪಂಚ												1(4)	1	4
2	ಕುಟುಂಬ				1(1)				1(2)					2	3
3	ಸಮುದಾಯ		1(2)		1(1)	1(2)								3	5
4	ಸಮುದಾಯ ಕ್ರೀಡೆಗಳು	1(1)							1(2)					2	3
5	ನೈಸರ್ಗಿಕ ಸಂಪನ್ಮೂಲಗಳು				1(1)	2(4)								3	5
6	ವಾಯು	1(1)							1(2)					2	3
7	ನೀರು	1(1)	1(2)											2	3
8	ಕೃಷಿ					2(4)								2	4
	ಒಟ್ಟು	3(3)	2(4)		3(3)	5(10)			3(6)				1(4)	17	30
	ಒಟ್ಟು	5(7)			8(13)			3(6)			1(4)			17(30)	

ಶಾರ್ವಯು ಸ್ಥಾನ:

**ವೊದಲನೇ ಸಂಕಲನಾತ್ಮಕ ಮೌಲ್ಯಮಾಪನ, 2023-24**

ತರಗತಿ : 5

ಐಷಯ : ಪಲನರ ಅಧ್ಯಯನ

ಅಂಕಗಳು : 30

ಸಮಯ : 60 ನಿಮಿಷ

I. ಸೂಕ್ತ ಪದಗಳಿಂದ ವಾಕ್ಯ ಪೂರ್ತಿ ಮಾಡಿ:-

3X1=3

1. ಸಾಹಸ ಕ್ರೀಡೆಗಳಿಗೆ ಒಂದು ಉದಾಹರಣೆ\_\_\_\_\_
2. ಮಳೆ ನೀರನ್ನು ಸಂಗ್ರಹಿಸಲು ಮಾನವ ಕೃತಕವಾಗಿ ನಿರ್ಮಿಸಿದ ತಗ್ಗುಭಾಗ \_\_\_\_\_
3. ವಾಯುವಿನಲ್ಲಿ ನೈಟ್ರೋಜನ್ ಪ್ರಮಾಣ\_\_\_\_\_

II. ಈ ಕೆಳಗಿನ ಪ್ರಶ್ನೆಗಳಿಗೆ ಒಂದು ವಾಕ್ಯದಲ್ಲಿ ಉತ್ತರಿಸಿ.

3X1=3

4. ಮನೆಯಲ್ಲಿ ಅಡುಗೆ ಮಾಡಲು ಬಳಸುವ ಎರಡು ಇಂಧನಗಳನ್ನು ಹೆಸರಿಸು.
5. ವಂಶವೃಕ್ಷ ಎಂದರೇನು?
6. ಹೆಣ್ಣುಮಕ್ಕಳ ಭವಿಷ್ಯಕ್ಕಾಗಿ ಸರ್ಕಾರ ಜಾರಿಗೆ ತಂದಿರುವ ಯೋಜನೆ ಯಾವುದು?

III. ಈ ಕೆಳಗಿನ ಪ್ರಶ್ನೆಗಳಿಗೆ ಎರಡು-ಮೂರು ವಾಕ್ಯದಲ್ಲಿ ಉತ್ತರಿಸಿ.

10X2=20

7. ಕುಟುಂಬದಿಂದ ನೀನು ಕಲಿಯುವ ಒಳ್ಳೆಯ ಗುಣಗಳು ಯಾವುವು?
8. ಮೇಲ್ಮಣ್ಣು ಕೊಚ್ಚಿ ಹೋಗದಂತೆ ಸಂರಕ್ಷಿಸಲು ಅನುಸರಿಸುವ ಕ್ರಮಗಳಾವುವು ?
9. ವಾಯುಮಾಲಿನ್ಯವನ್ನು ತಡೆಗಟ್ಟಲು ಅನುಸರಿಸಬಹುದಾದ ಎರಡು ಕ್ರಮಗಳನ್ನು ಬರೆಯಿರಿ?
10. ಕರ್ನಾಟಕದ ಕೆಲವು ಮುಖ್ಯ ನದಿಗಳನ್ನು ಹೆಸರಿಸಿ ?
11. ನಿಮ್ಮ ಗ್ರಾಮದಲ್ಲಿ ಬೆಳೆಯುವ ಪ್ರಮುಖ ಬೆಳೆಗಳಾವುವು?
12. ಕ್ರೀಡೆಗಳಿಂದ ನಮಗಾಗುವ ಉಪಯೋಗಗಳನ್ನು ತಿಳಿಸಿ?
13. ನಗರ ಪ್ರದೇಶದಲ್ಲಿನ ಜನರು ಎದುರಿಸುತ್ತಿರುವ ಸಮಸ್ಯೆಗಳಾವುವು?
14. ಹನಿ ನೀರಾವರಿ ಹಾಗೂ ತುಂತುರು ನೀರಾವರಿಯ ಉಪಯೋಗಗಳನ್ನು ಕೆಳಗೆ ಪಟ್ಟಿಮಾಡು.
15. ಗ್ರಾಮಗಳಲ್ಲಿ ಕಂಡು ಬರುವ ಕಸುಬುಗಳನ್ನು ಬರೆ.
16. ಸೂರ್ಯನ ಶಕ್ತಿಯನ್ನು ಬಳಸಿ ಮಾಡಬಹುದಾದ ಕೆಲಸಗಳನ್ನು ಪಟ್ಟಿ ಮಾಡು.

III. ಈ ಕೆಳಗಿನ ಪದ್ಯ ಭಾಗವನ್ನು ಪೂರ್ತಿ ಮಾಡಿ.

1X4=4

17. ಸಸ್ಯವೊಂದರ ಚಿತ್ರವನ್ನು ಬರೆದು ಭಾಗಗಳನ್ನು ಗುರ್ತಿಸಿ.

\*\*\*\*\*

5 ನೇ ತರಗತಿ ಇಂಗ್ಲೀಷ್(ಉ.ಭಾ)

ಸಂಕಲನಾತ್ಮಕ ಮೌಲ್ಯಮಾಪನ-1

2023-24

ಮಾದರಿ

ಪ್ರಶ್ನೆಪತ್ರಿಕೆ

(ಕೇವಲ ಪರಾಮರ್ಶೆಗಾಗಿ,ಇದೇ ಮಾದರಿಯಲ್ಲಿ  
ಶಾಲಾ ಹಂತದಲ್ಲಿ ತಯಾರಿಸಿಕೊಳ್ಳಬಹುದು.)

ಪ್ರಶ್ನೆಪತ್ರಿಕೆ ತಯಾರಿಕೆ

ರಮ್ಯ

ಸಾಹಿತ್ಯಕಾರರು

ಸರ್ಕಾರಿ ಸಿಲಿಯು ಪ್ರಾಥಮಿಕ ಶಾಲೆ ಸಾತನಾಳ್ಕಿ

ಸಾಸನ ತಾಲ್ಲೂಕು, ಸಾಸನ ಜಿಲ್ಲೆ

ಶಾಲೆಯ ಹೆಸರು:

ಮೊದಲನೇ ಸಂಕಲನಾತ್ಮಕ ಮೌಲ್ಯಮಾಪನ, 2023-24

ತರಗತಿ : 5

ಬಿಷಯ : ENGLISH

ಅಂಕಗಳು : 10

ಸಮಯ : 20 ನಿಮಿಷ

I. Give the opposite of the following.

$4 \times \frac{1}{2} = 2$

1. Soft -
2. Remember -
3. First -
4. Near -

II. Find one word of the following.

$2 \times \frac{1}{2} = 1$

1. A place where wild animals live. \_\_\_\_\_
2. Where there is no danger. \_\_\_\_\_

III. Give the plurals of the following.

$2 \times \frac{1}{2} = 1$

1. Community -
2. Friends -

IV. Answer the following questions.

$4 \times 1 = 4$

1. Who had taken them to the exhibition?

\_\_\_\_\_

2. Where did Pream and his family live?

\_\_\_\_\_

3. Who was the ruler of the Syracuse?


\_\_\_\_\_

4. Who told stories to Lucy ?

\_\_\_\_\_

V. Complete the dotted picture and write 5 sentence about it.

$2 \times 1 = 2$



\_\_\_\_\_

\_\_\_\_\_

\_\_\_\_\_

\_\_\_\_\_