
















ವಿದ್ಯಾರ್ಥಿ ಹೆಸರು:-

1. ಈ ಮುಂದಿನ ವಿನ್ಯಾಸವನ್ನು ಬರೆಯಿರಿ :-

3x1=3

2. ಅಕ್ಷರದಲ್ಲಿ ಬರೆಯಿರಿ:-

564

600

169

3x2=6

3. ಎಣಿಕೆ ಮಾಡಿ ಬರೆಯಿರಿ. $100 + 10 + 10 + 1 =$ _____ $100 + 100 + 100 + 20 + 5 =$ _____

2x1=2

4. ಸೇರಿಸಿ ಬರೆಯಿರಿ. $9000 + 700 + 20 + 7 =$ _____ $1000 + 400 + 30 + 7 =$ _____

2x1=2

4. 789 ಇದರಲ್ಲಿ 7ರ ಸ್ಥಾನ ಬೆಲೆ _____ 296 ಇದರಲ್ಲಿ 9 ಮುಖಬೆಲೆ _____

2x1=2

5. ಮಾದರಿಯಂತೆ ಬಿಡಿಸಿ ಬರೆಯಿರಿ :- $3541 = 3000 + 500 + 400 + 1$.

2x1=2

4835 = _____

6090 = _____

6. ಕಳೆದು ಹೋಗಿರುವ ಸಂಖ್ಯೆ ಬರೆಯಿರಿ.

 $8 \times \frac{1}{2} = 4$

56		58	59		61
501	502				506
1409	1410		1412		

7. ಸೂಕ್ತವಾದ ಚಿಹ್ನೆಗಳನ್ನು ತುಂಬಿರಿ. = < >

4x1=4

546 546 679 699 976 543 999 909

8. ಇಳಿಕೆ ಕ್ರಮದಲ್ಲಿ ಬರೆಯಿರಿ.

2x1=2

248 747 388 939 _____

9. ಏರಿಕೆ ಕ್ರಮದಲ್ಲಿ ಬರೆಯಿರಿ.

678 190 564 400 _____

2x1=2

10. 791 ಇದನ್ನು ಸ್ಥಾನಬೆಲೆ ಕೋಷ್ಟಕದಲ್ಲಿ ಹೆಸರಿಸಿ ಸಂಖ್ಯೆಗಳನ್ನು ತುಂಬಿರಿ.

1x1=1

