



اول سمسٹر مجموعی قدری پیمائی سوالیاتی پرچہ 2023-24

مدرسہ کانام۔

جماعت: دوّم مضمون: علم ریاضی نشانات: 30 وقفہ: 90 منٹ تاریخ: _____

طالب علم کانام: _____ رول نمبر: _____

1. حل کریں۔

a)

اکائی	دہائی	عدد
		12

b)

اکائی	دہائی	عدد
		19

1- مقامی قیمت لکھیں۔

a) 5,14,3,17,9

b) 12,8,13,9,10

2- بڑھتی ہوئی ترتیب میں لکھیں۔

a) 19,8,12,14,17

b) 15,13,8,12,16

3- گھٹتی ہوئی ترتیب میں لکھیں۔

a) $52+63+04 =$

b) $61+16+30 =$

4- جمع کریں۔

a)	5	8		b)	3	5	8	
+	3	2		-	1	2	3	
c)	3	0	6	d)	5	9	6	
-	2	9	8	+	3	7	8	

5- حل کرو۔

6- چھ [6] سے دس [10] تک پہاڑے لکھیں۔

7- 0 سے 10 تک اعداد کو الفاظ میں لکھیں۔

8- مکمل کیجئے۔

	+	3	=	9
-		+		-
	-	2	=	
=		=		=
4	+		=	9

9- آپ کی پیدائشی دن پر آپ کے پاس 18 چاکلیٹ ہیں۔ اپنے 6 دوستوں میں مساوی 3 کے حساب سے تقسیم کریں۔ اور خالی جگہ پُر کریں۔

1] تمہارے پاس موجود چاکلیٹ کی تعداد

2] ہر ساتھی کو دیے گئے چاکلیٹ کی تعداد

3] چاکلیٹ پانے والے کل ساتھیوں کی تعداد


a) $18 \div 3$

b) $14 \div 2$


10- تقسیم کریں۔

11. مسائل کو حل کریں۔

11- ضرب کریں۔



12- نمونے مکمل کریں۔



13- پُر کریں۔

51	52	53	54	55	56	57	58	59	60
	62			65				69	
		73							80
			84				88		
		93		95				99	

14- جوڑ لگائیں۔

ب

الف

19

4-2 (1)

08

16-3 (2)

02

16+3 (3)

13

8-0 (4)

15- A [چھوٹے عدد پر دائرہ بناؤ۔

10, 01 (b)

12, 21 (a)

B [بڑے عدد پر دائرہ بناؤ۔

100, 001 (b)

10, 20 (a)

جوابی پرچہ

جماعت: دوّم مضمون: علم ریاضی نشانات: 30 وقفہ: 90 منٹ تاریخ: _____

1. a-1 اکائی-2 ، دہائی-1 ، [b اکائی-9، دہائی-1
 2- a) 3,5,9,14,17 b) 8,9,10,12,13
 3- a) 19,17,14,12,8 b) 16,15,13,12,8
 4- a) 119 b) 107
 5- a) 90 b) 1081 c) 901 d) 974
 6-

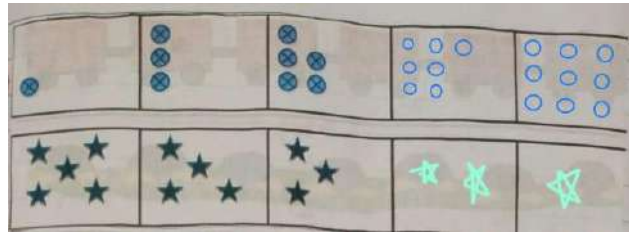
6	7	8	9	10
12	14	16	18	20
18	21	24	27	30
24	28	32	36	40
30	35	40	45	50
36	42	48	54	60
42	49	56	63	70
48	56	64	72	80
54	63	72	81	90
60	70	80	90	100

- 7- 0- صفر، 1- ایک، 2- دو، 3- تین، 4- چار، 5- پانچ
 6- چھ، 7- سات، 8- آٹھ، 9- نو، 10- دس

6	+	3	=	9
-		+		-
2	-	2	=	0
=		=		=
4	+	5	=	9

- 8-
 9- 18[1 03[2 06[3
 10- a) 6 b) 7
 11- a) 8 b) 16 c) 48 d) 56 e) 40 f) 32 g) 0

-12



-13

51	52	53	54	55	56	57	58	59	60
61	62	63	64	65	66	67	68	69	70
71	72	73	74	75	76	77	78	79	80
81	82	83	84	85	86	87	88	89	90
91	92	93	94	95	96	97	98	99	100

1) 02

2) 13

3) 19

4) 08

-14

{ A -15

12(a

01(b

{ A

20(a

100 (b


زبانی سوالیاتی پرچہ

جماعت: دوّم مضمون: علم ریاضی نشانات: 20

$$2 * 10 = 20$$

I. درج ذیل سوالات کے جوابات دیں۔

1- تصویر دیکھ کر کون سے رنگ کی کتنی مچھلیاں ہیں؟ گنتی کر کے بتائیں۔



2- دو سے چھ تک پہاڑے پڑھیں۔

3- دروازہ کس کی مثال ہے۔

داڑھ، مربع، مستطیل، مثلث

4- بولو مس بولو مس نظم کو ادکاری کے ساتھ پڑھیں۔

5- 20 سے صفر تک اُلٹی گنتی پڑھیں۔

6- تخت سیاہ پر موجود علامتوں کے نام بتائیں۔

÷ × - +

7- دیوار پر موجود گھڑی میں کتنے نمبر درج ہیں؟ اور وہ گھڑی کونسی شکل رکھتی ہے؟

8- 99 سے پہلے آنے والا عدد کونسا ہے؟

9- سب سے چھوٹا تین ہندسی عدد کونسا ہے؟

10- سب سے بڑا دو ہندسی عدد کونسا ہے؟