

ವಿಭಾಗ - I

ಕನ್ನಡ

1. ಪುಲ್ಲಿಂಗ ಅಥವಾ ಸ್ತ್ರೀಲಿಂಗ ರೂಪಕ್ಕೆ ಬದಲಿಸಿ ಬರೆಯಿರಿ :

ಹೂವಾಡಿಗ

- (A) ಹೂಮಾರುವ (B) ~~ಹೂವಾಡಿಗಿತ್ತಿ~~
 (C) ಹೂಕೊಯ್ಯುವ (D) ಹೂಬೆಳೆಯುವ

2. ಕೆಳಗಿನವುಗಳಲ್ಲಿ ಅಂಕಿತನಾಮವಲ್ಲದ ಪದವನ್ನು ಗುರುತಿಸಿ

- (A) ಕರ್ನಾಟಕ (B) ಬೆಂಗಳೂರು
 (C) ಕಾವೇರಿ (D) ~~ವ್ಯಾಪಾರಿ~~

3. ಚಿಪ್ಪುಂಟು ಆಮೆಯಲ್ಲ, ಜುಟ್ಟುಂಟು ಪೂಜಾರಿಯಲ್ಲ, ಮೂರು ಕಣ್ಣುಂಟು ಹರನಲ್ಲ, ಹಾಗಾದರೆ ನಾನು ಯಾರು ? ಈ ಒಗಟನ್ನು ಬಿಡಿಸಿ

- (A) ಈಶ್ವರ
 (B) ಬ್ರಹ್ಮ
 (C) ~~ತೆಂಗಿನಕಾಯಿ~~
 (D) ವಿಷ್ಣು

4. ಕೆಳಗಿನ ಪದಗಳಲ್ಲಿ 'ಗುಡುಗು' ಪದಕ್ಕೆ ಸರಿಹೊಂದುವ ಜೋಡು ಪದ ಗುರುತಿಸಿ

- (A) ಮಳೆ (B) ಮಿಂಚು
 (C) ~~ಸಿಡಿಲು~~ (D) ಶಬ್ದ

5. ಕೆಳಗಿನ ಪದಗಳಲ್ಲಿ ಗುಂಪಿಗೆ ಸೇರದ ಪದ ಗುರುತಿಸಿ :

ಧನ, ಆಪತ್ತು, ಸಂಪತ್ತು, ಐಶ್ವರ್ಯ

- (A) ಐಶ್ವರ್ಯ (B) ಧನ
 (C) ಸಂಪತ್ತು (D) ~~ಆಪತ್ತು~~

Space for Rough Work / ಒರಟು ಕೆಲಸಕ್ಕೆ ಸ್ಥಳ

6. ಎ.ಪಿ.ಜೆ. ಅಬ್ದುಲ್ ಕಲಾಂ ಅವರ ಆತ್ಮ ಕಥನ ಯಾವುದು ?

- (A) ಅಗ್ನಿಯ ರೆಕ್ಕೆಗಳು
- (B) ನನ್ನ ಭಯಾಗ್ರಾಫಿ
- (C) ಆಡಾಡ್ತಾಕಾಲ
- (D) ಸತ್ಯಶೋಧನೆ

7. ಶ್ರವಣ ಕುಮಾರನ ತಂದೆ

- (A) ದಶರಥ
- (B) ತಾಂಡವ ಋಷಿ
- (C) ದ್ರೋಣ
- (D) ಧರ್ಮರಾಯ

8. 'ತಾಳಿದವನು _____' ಈ ಗಾದೆಯನ್ನು ಪೂರ್ಣಗೊಳಿಸಿ.

- (A) ನಿಂತನು
- (B) ಕೂತನು
- (C) ನಡೆದನು
- (D) ಬಾಳಿಯಾನು

9. 'ರವಿ _____ ರಂಗಸ್ಥಳದಲ್ಲಿ ನೆತ್ತರು ಮಾಡುವನು' ಪದ್ಯದ ಈ ಸಾಲನ್ನು ಪೂರ್ಣಗೊಳಿಸಿ.

- (A) ಪಡುವಣ
- (B) ತೆಂಕಣ
- (C) ಮೂಡಣ
- (D) ಬಡಗಣ

10. 'ತೆಂಗಿನ ಕಂಗಿನ' ಈ ಪದಗಳ ಅರ್ಥ

- (A) ತೆಂಗು-ಅಡಿಕೆ
- (B) ತೆಂಗು-ಬಾಳೆ
- (C) ತೆಂಗು-ನಾರು
- (D) ತೆಂಗು-ಮಾವು

Space for Rough Work / ಒರಟು ಕೆಲಸಕ್ಕೆ ಸ್ಥಳ

11. ದೀರ್ಘ ಸ್ವರಗಳ ಸಂಖ್ಯೆ ಎಷ್ಟು?

(A) 08

(B) 06

(C) 05

~~(D) 07~~

12. ಜಲ ಚರ ಪ್ರಾಣಿಗಳೆಂದರೆ :

(A) ಭೂಮಿಯ ಮೇಲೆ ವಾಸಿಸುವ ಪ್ರಾಣಿಗಳು

(B) ಅರಣ್ಯಗಳಲ್ಲಿ ವಾಸಿಸುವ ಪ್ರಾಣಿಗಳು

~~(C) ನೀರಿನಲ್ಲಿ ವಾಸಿಸುವ ಪ್ರಾಣಿಗಳು~~

(D) ಮಣ್ಣಿನಲ್ಲಿ ವಾಸಿಸುವ ಪ್ರಾಣಿಗಳು

'ಜೀನಿಯಂಸ್'
ಯೋಗೀಶ್ ಬಾಕ್ & ವಾಣಿ ಕ್ರಮೇಶ್ವರಿ
ಸಂಪರ್ಕಿಸಿ : 7204857422

13. ಕೊಟ್ಟಿರುವ ಮಾದರಿಯಂತೆ ಸಮಾನಾರ್ಥಕ ಪದ ಬರೆಯಿರಿ

ಮಾದರಿ: ನೆರವು - ಸಹಾಯ

ಸುಳಿವು _____

~~(A) ಕುರುಹು~~

(B) ಜ್ಞಾಪಕ

(C) ಮರೆವು

(D) ನೆನಪು

14. 'ಆಟಗಾರರು ಆಟಗಳನ್ನು ಆಡಿದರು' ಇದನ್ನು ಏಕವಚನದಲ್ಲಿ ಬರೆದಾಗ :

(A) ಆಟಗಾರರು ಆಟಗಳನ್ನು ಆಡಿದನು

(B) ಆಟಗಾರನು ಆಟಗಳನ್ನು ಆಡಿದರು

~~(C) ಆಟಗಾರನು ಆಟವನ್ನು ಆಡಿದನು~~

(D) ಆಟಗಾರರು ಆಟವನ್ನು ಆಡಿದನು

15. 'ಅಪ್ಪ' ಪದವನ್ನು ಬಿಡಿಸಿದಾಗ

(A) ಅ + ಪ + ಅ

~~(B) ಅ + ಪ್ + ಪ್ + ಅ~~

(C) ಅ + ಪ್ + ಪ್ + ಅ

(D) ಅ + ಪ್ + ಅ

Space for Rough Work / ಒರಟು ಕೆಲಸಕ್ಕೆ ಸ್ಥಳ

16. ಮಲಿನಗೊಂಡ ನದಿಯಿಂದ ಮನುಷ್ಯ ಜೀವಕ್ಕೆ ಆಗುವ ಪರಿಣಾಮ
- (A) ಸಹಕಾರಿ (B) ಆರೋಗ್ಯಕಾರಿ
(C) ಉಪಕಾರಿ (D) ~~ಅಪಾಯಕಾರಿ~~
17. ಏಳು ಬಣ್ಣಗಳು ಸೇರಿ _____ ಆಗುತ್ತದೆ.
- (A) ಸಪ್ತಸ್ವರ (B) ~~ಕಾಮನಬಿಲ್ಲು~~
(C) ಸಪ್ತಪದಿ (D) ಸಪ್ತಾಹ
18. ದಶರಥನಿಗೆ ಎಷ್ಟು ಮಕ್ಕಳಿದ್ದರು
ಈ ವಾಕ್ಯದಲ್ಲಿ ಬಳಸಬೇಕಾದ ಲೇಖನ ಚಿಹ್ನೆಯನ್ನು ಗುರುತಿಸಿ
- (A) ಭಾವಸೂಚಕ
(B) ಪೂರ್ಣವಿರಾಮ
(C) ~~ಪ್ರಶ್ನಾರ್ಥಕ~~
(D) ಅಲ್ಪವಿರಾಮ
19. 'ರಂಜನಾ ಈಗ ನರ್ತಿಸುತ್ತಿದ್ದಾಳೆ' - ಯಾವ ಕಾಲವನ್ನು ಸೂಚಿಸುತ್ತದೆ ?
- (A) ~~ವರ್ತಮಾನ ಕಾಲ~~
(B) ಭವಿಷ್ಯತ್ ಕಾಲ
(C) ಭೂತ ಕಾಲ
(D) ಭೂತ ಭವಿಷ್ಯತ್ ಕಾಲ
20. 'ನಾಕು ತಂತಿ' - ರವರ ಕೃತಿಯಾಗಿದೆ
- (A) ಕುವೆಂಪು
(B) ಪು.ತಿ.ನ.
(C) ಮಾಸ್ತಿ ವೆಂಕಟೇಶ ಅಯ್ಯಂಗಾರ್
(D) ~~ದ.ರಾ. ಬೇಂದ್ರೆ~~

Space for Rough Work / ಒರಟು ಕೆಲಸಕ್ಕೆ ಸ್ಥಳ

SECTION - II

ENGLISH

Read the following passage and answer the questions set on it (Q. 21 - 24) :

Narendra was born on 12 January, 1863. His parents were Vishwanath Dutta and Bhuvaneshwari Devi. They gave him the name Narendranath Dutta. He was sent to school at the age of 6. He read stories from Ramayana and Mahabharata. He had a desire to study more and become a scholar. He wanted to see God.

Later, he met his real guru Ramakrishna Paramahansa and experienced God. He stayed with Ramakrishna Paramahansa for a few years. Then he became a wandering monk visiting different places in India.

21. Narendra was born in _____.

(A) 1864

~~(B) 1863~~

(C) 1865

(D) 1866

22. Narendra read stories from Ramayana before he met Ramakrishna Paramahansa.

The underlined verb indicates _____.

(A) Present Tense

(B) Future Time

~~(C) Past Tense~~

(D) Conditional Future Time

23. He became a wandering monk.

The underlined word is _____.

(A) a Noun

(B) a Pronoun

(C) an Adverb

~~(D) an Adjective~~

24. Narendranath had a desire to _____.

~~(A) see God~~

(B) become God

(C) question God

(D) conquer God

Space for Rough Work / ಬರಹು ಕೆಲಸಕ್ಕೆ ಸ್ಥಳ

25. Write the opposite of the word 'Heavy'.
- (A) Warm (B) ~~Light~~
(C) Bright (D) Levy
26. Write the Past Tense of 'Teach'.
- (A) Teached (B) Tot
(C) ~~Taught~~ (D) Trot
27. Write the opposite gender of 'Lion'.
- (A) ~~Lioness~~ (B) Lions
(C) Lion's (D) Lions'
28. Ramana Maharshi called his cow '_____'.
(A) Gown (B) Minchu
(C) Ganga (D) ~~Lakshmi~~
29. I am angry _____ you.
(A) ~~on~~ (B) to
(C) with (D) in
30. Raju is _____ MLA.
(A) a (B) ~~an~~
(C) the (D) on
31. Prem's letter to the President of Gramasabha requested them _____.
- (A) ~~not to cut down the trees~~ (B) to cut down the trees
(C) to kill the animals (D) to sell the trees
32. Fill in the blank choosing the correct question-word :
_____ sweet do you like ?
(A) When (B) Why
(C) Where (D) ~~Which~~

Space for Rough Work / ಒರಟು ಕೆಲಸಕ್ಕೆ ಸ್ಥಳ

33. Add suitable Prefix to the word 'lucky'.
- (A) inlucky (B) imlucky
(C) unlucky (D) dislucky
34. Write the Plural of 'child'.
- (A) childs (B) children
(C) childrens (D) children's
35. Write the meaning of 'realised'.
- (A) recorded (B) remembered
(C) rebelled (D) understood
36. Lata Mangeshkar was a great singer.
Identify the adjective.
- (A) great (B) Lata Mangeshkar
(C) was (D) singer
37. Choose the contracted (short) form of 'does not'.
- (A) don't (B) doesn't
(C) didn't (D) does't
38. You will succeed _____ you work hard.
- (A) but (B) and
(C) if (D) before
39. Select the correct sentence :
- (A) you / are permitted / to leave / the office.
(B) to leave / the office / you / are permitted.
(C) are permitted / you / to leave / the office.
(D) you / to leave / are permitted / the office.
40. Oh ! How painful it is !
The above sentence expresses the feeling of _____.
- (A) joy (B) pride
(C) admiration (D) sadness

Space for Rough Work / ಒರಟು ಕೆಲಸಕ್ಕೆ ಸ್ಥಳ


ವಿಭಾಗ - III

ಗಣಿತ

41. ಈ ಕೆಳಗಿನವುಗಳಲ್ಲಿ ಲಘುಕೋನ

- (A) 120° (B) 90°
(C) 180° (D) 55°

42. ಈ ಕೆಳಗಿನ ಚಿತ್ರದಲ್ಲಿ ಬಣ್ಣಬಳಿದ (ಕಪ್ಪಾಗಿಸಿದ) ಭಾಗವನ್ನು ಭಿನ್ನರಾಶಿ ರೂಪದಲ್ಲಿ ಬರೆಯಿರಿ



- (A) $\frac{3}{4}$ (B) $\frac{1}{2}$
(C) $\frac{1}{4}$ (D) $\frac{1}{3}$

43. $2345 \times 32 =$

- (A) 64005 (B) 75040
(C) 56360 (D) 72640

44. $\frac{3}{10}$ ನ್ನು ದಶವಾಂಶ ರೂಪದಲ್ಲಿ ಬರೆಯಿರಿ

- (A) 0.3 (B) 0.003
(C) 3.0 (D) 30.0

45. 13, 26, 39, 52, _____

- (A) 79 (B) 85
(C) 60 (D) 65

Space for Rough Work / ಒರಟು ಕೆಲಸಕ್ಕೆ ಸ್ಥಳ

46. 6000 ಲೀಟರ್‌ಗಳನ್ನು ಕಿಲೋಲೀಟರ್‌ಗಳಲ್ಲಿ ಬರೆಯಿರಿ

- (A) 12 ಕಿಲೋಲೀಟರ್
(B) 6 ಕಿಲೋಲೀಟರ್
(C) 60 ಕಿಲೋಲೀಟರ್
(D) 600 ಕಿಲೋಲೀಟರ್


47. 6 ಬಂಡಲ್‌ಗಳ ವೈರಿನ ಒಟ್ಟು ಉದ್ದ 240 ಮೀಟರ್‌ಗಳಾದರೆ ಒಂದು ಬಂಡಲ್ ವೈರಿನ ಉದ್ದ

- (A) 40 ಮೀಟರ್
(B) 30 ಮೀಟರ್
(C) 60 ಮೀಟರ್
(D) 120 ಮೀಟರ್

48. ಒಂದು ಗಡಿಯಾರದಲ್ಲಿ 3 ಗಂಟೆ ಸಮಯವಾಗಿದ್ದಾಗ ಅದರ ಎರಡು ಮುಳ್ಳುಗಳ ನಡುವಿನ ಕನಿಷ್ಠ ಕೋನ

- (A) 60° (B) 75°
(C) 120° (D) 90°

49. ಈ ಕೆಳಗಿನ ಆಕೃತಿಯ ಹೆಸರನ್ನು ತಿಳಿಸಿ



- (A) ಶಂಕ
(B) ಚೌಕ
(C) ಸಿಲಿಂಡರ್
(D) ಆಯತ

ಇಲಿನ್ಯಾನ್,
ಯೋರ್ಜ್ ಬಾಕ್ & ಮಾದರಿ ಪ್ರಶ್ನೆಪತ್ರಿಕೆಗಾಗಿ
ಸಂಪರ್ಕಿಸಿ : 7204857422

Space for Rough Work / ಒರಟು ಕೆಲಸಕ್ಕೆ ಸ್ಥಳ

50. 3 ಕೆ.ಜಿ. 200 ಗ್ರಾಂ ಗಳನ್ನು ಗ್ರಾಂಗಳಲ್ಲಿ ತಿಳಿಸಿ

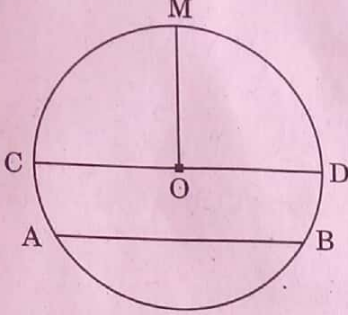
(A) 3200 ಗ್ರಾಂ

(C) 32000 ಗ್ರಾಂ

(B) 320 ಗ್ರಾಂ

(D) 3700 ಗ್ರಾಂ

51. ಈ ಕೆಳಗಿನ ವೃತ್ತದಲ್ಲಿ 'ಜ್ಯಾ'



(A) OM

(C) AB

(B) CD

(D) DM

52. ಒಂದು ನೋಟ್ ಪುಸ್ತಕದ ಬೆಲೆ ₹ 30.25 ಆದರೆ, 7 ನೋಟ್ ಪುಸ್ತಕಗಳ ಬೆಲೆ

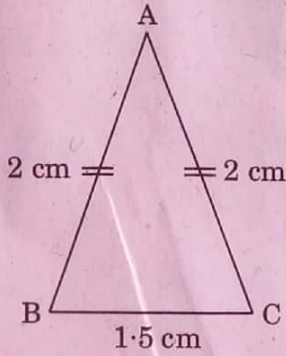
(A) ₹ 415.25

(C) ₹ 176.50

(B) ₹ 211.75

(D) ₹ 321.00

53. ಈ ಕೆಳಗಿನ ತ್ರಿಭುಜವು _____ ಗೆ ಉದಾಹರಣೆಯಾಗಿದೆ.



(A) ಸಮಬಾಹು ತ್ರಿಭುಜ

(C) ಲಂಬಕೋನ ತ್ರಿಭುಜ

(B) ಅಸಮಬಾಹು ತ್ರಿಭುಜ

(D) ಸಮದ್ವಿಬಾಹು ತ್ರಿಭುಜ

Space for Rough Work / ಒರಟು ಕೆಲಸಕ್ಕೆ ಸ್ಥಳ

54. $2631 \cdot 25 + 3421 \cdot 50 =$ _____ .
- (A) 7632·50 (B) 4361·00
(C) 6052·75 (D) 5620·25
55. $8635 - 3620 =$
- (A) 5015 (B) 4720
(C) 6260 (D) 3800
56. ಆಯತಾಕಾರದ ಒಂದು ಹೊಲದ ಉದ್ದ ಮತ್ತು ಅಗಲಗಳು ಕ್ರಮವಾಗಿ 250 ಮೀಟರ್ ಮತ್ತು 150 ಮೀಟರ್ ಗಳಾದರೆ ವಿಸ್ತೀರ್ಣ
- (A) 400 ಚದರ ಮೀಟರ್ (B) 37500 ಚದರ ಮೀಟರ್
(C) 36250 ಚದರ ಮೀಟರ್ (D) 3720 ಚದರ ಮೀಟರ್
57. ಒಂದು ಚೌಕಾಕಾರದ ಕೊಠಡಿಯ ಉದ್ದ 8 ಮೀಟರ್ ಗಳಾದರೆ ಅದರ ಸುತ್ತಳತೆ
- (A) 16 ಮೀಟರ್ (B) 60 ಮೀಟರ್
(C) 24 ಮೀಟರ್ (D) 32 ಮೀಟರ್
58. 5 ಕಿಲೋಮೀಟರ್ ಗಳನ್ನು ಮೀಟರ್ ಗಳಾಗಿ ಪರಿವರ್ತಿಸಿ
- (A) 50 ಮೀಟರ್ (B) 5000 ಮೀಟರ್
(C) 50,000 ಮೀಟರ್ (D) 500 ಮೀಟರ್
59. 26256 ಕ್ಕೆ ಎಷ್ಟನ್ನು ಸೇರಿಸಿದಾಗ 41260 ದೊರೆಯುತ್ತದೆ ?
- (A) 14306 (B) 15006
(C) 15004 (D) 16204
60. $1440 \div 16 =$
- (A) 90 (B) 85
(C) 75 (D) 60

Space for Rough Work / ಒರಟು ಕೆಲಸಕ್ಕೆ ಸ್ಥಳ

ವಿಭಾಗ - IV

ವಿಜ್ಞಾನ

61. ಒಂದು ವಸ್ತು ತನ್ನ ಸ್ಥಾನದ ಕಾರಣದಿಂದಾಗಿ ಪಡೆಯುವ ಶಕ್ತಿ :

- (A) ಪ್ರಚ್ಛನ್ನ ಶಕ್ತಿ
(B) ಚಲನ ಶಕ್ತಿ
(C) ಸೌರ ಶಕ್ತಿ
(D) ಉಷ್ಣ ಶಕ್ತಿ

'ಜೀನಿಯಸ್' ನೈರೋಬಿ ಬಾಂಕ್ &
ನ್ಯಾಷನಲ್ ಟ್ರಸ್ಟ್ ಫಾರ್ ಸಂಪರ್ಕಣೆ
7204857422

62. ಸೌರವ್ಯೂಹದಲ್ಲಿ ಅತ್ಯಂತ ಚಿಕ್ಕ ಗ್ರಹ

- (A) ಗುರು (B) ಮಂಗಳ
(C) ಶುಕ್ರ (D) ಬುಧ

63. ಭಾರತದ ಪೂರ್ವ ಭಾಗದಲ್ಲಿರುವ ದೇಶ

- (A) ಬಾಂಗ್ಲಾದೇಶ (B) ಚೀನಾ
(C) ಪಾಕಿಸ್ತಾನ (D) ನೇಪಾಳ

64. ನೀರಿನ ಕರಗುವ ಬಿಂದು

- (A) 25°C (B) 100°C
(C) 0°C (D) 50°C

65. ಕಣಗಳು ಹೆಚ್ಚು ಒತ್ತೊತ್ತಾಗಿ ಜೋಡಿಸಲ್ಪಟ್ಟಿರುವ ದ್ರವ್ಯದ ಸ್ಥಿತಿ :

- (A) ದ್ರವ (B) ಘನ
(C) ಅನಿಲ (D) ಪ್ಲಾಸ್ಮಾ

66. SI ಪದ್ಧತಿಯಲ್ಲಿ ದ್ರವ್ಯರಾಶಿಯ ಮೂಲಮಾನ :

- (A) ಮಿಲಿಗ್ರಾಂ
(B) ಜೌಲ್
(C) ಗ್ರಾಂ
(D) ಕಿಲೋಗ್ರಾಂ

Space for Rough Work / ಒರಟು ಕೆಲಸಕ್ಕೆ ಸ್ಥಳ

67. 'ನೆಪೆಂಥಿಸ್' _____ ಸಸ್ಯ.
- (A) ಮಾಂಸಾಹಾರಿ (B) ಮಿಶ್ರಾಹಾರಿ
(C) ಕೀಟಾಹಾರಿ (D) ಸಸ್ಯಾಹಾರಿ
68. ದರೋಜಿ ವನ್ಯಧಾಮದಲ್ಲಿ ಈ ಪ್ರಾಣಿಯನ್ನು ಸಂರಕ್ಷಿಸಲಾಗುತ್ತಿದೆ
- (A) ಕರಡಿ (B) ಸಿಂಹ
(C) ಹುಲಿ (D) ಆನೆ
69. ಪರ್ಣಪಾತಿ ಸಸ್ಯ ವರ್ಗಕ್ಕೆ ಉದಾಹರಣೆ
- (A) ಹಲಸಿನ ಮರ (B) ತೇಗದ ಮರ
(C) ಆಲದ ಮರ (D) ಉಪ್ಪುನೇರಳೆ
70. ವಾಯುವಿನಲ್ಲಿ ಆಮ್ಲಜನಕದ ಪ್ರಮಾಣ
- (A) 78% (B) 0.96%
(C) 0.04% (D) 21%
71. ವಸ್ತುವಿನ ಕಣಗಳು ತುಂಬಾ ವಿರಳವಾಗಿರುವ ಸ್ಥಿತಿ
- (A) ಘನ (B) ಪ್ಲಾಸ್ಮಾ
(C) ಅನಿಲ (D) ದ್ರವ
72. ಈ ಕೆಳಗಿನವುಗಳಲ್ಲಿ ಸಂಯುಕ್ತ ವಸ್ತು
- (A) ಚಿನ್ನ (B) ಆಮ್ಲಜನಕ
(C) ನೀರು (D) ಸಾರಜನಕ
73. ನೀರಿನಲ್ಲಿ ಆಮ್ಲಜನಕ ಮತ್ತು ಜಲಜನಕಗಳ ಪ್ರಮಾಣ :
- (A) 1 : 2 (B) 3 : 2
(C) 4 : 1 (D) 2 : 1

Space for Rough Work / ಒರಟು ಕೆಲಸಕ್ಕೆ ಸ್ಥಳ

74. ಕಬ್ಬಿಣ ಒಂದು
 (A) ~~ಮೂಲವಸ್ತು~~ (B) ಸಂಯುಕ್ತವಸ್ತು
 (C) ಮಿಶ್ರಣ (D) ದ್ರವ
75. 'A' ಜೀವಸತ್ವ ಕೊರತೆಯಿಂದ ಬರುವ ರೋಗ :
 (A) ಬೆರಿಬೆರಿ (B) ರಿಕೆಟ್ಸ್
 (C) ಸ್ಕರ್ವಿ (D) ~~ರಾತ್ರಿಕುರುಡು~~
76. ಹುಲಿಯು ತನ್ನ _____ ನಿಂದ ಮಾಂಸವನ್ನು ಸಿಗಿಯುತ್ತದೆ.
 (A) ಕಾಲು (B) ~~ಹಲ್ಲು~~
 (C) ಪಂಜ (D) ನಾಲಿಗೆ
77. ವಾಸನೆಯನ್ನು ಗ್ರಹಿಸುವ ಮಾನವನ ಅಂಗ :
 (A) ಕಣ್ಣು (B) ನಾಲಿಗೆ
 (C) ~~ಮೂಗು~~ (D) ಕಿವಿ
78. ಮನುಷ್ಯನು ಉಸಿರಾಡುವಾಗ ಹೊರಗೆ ಬಿಡುವುದು :
 (A) ~~ಇಂಗಾಲದ ಡೈಆಕ್ಸೈಡ್~~ (B) ಆಮ್ಲಜನಕ
 (C) ಜಲಜನಕ (D) ಸಾರಜನಕ
79. ನಿಮಿಷವೊಂದಕ್ಕೆ ಮಾನವನ ಹೃದಯ ಬಡಿತ
 (A) 30 ಸಲ (B) ~~70 ಸಲ~~
 (C) 60 ಸಲ (D) 120 ಸಲ
80. ಆಕಾರ ಮತ್ತು ಗಾತ್ರ ಎರಡನ್ನೂ ಹೊಂದಿರುವ ದ್ರವ್ಯದ ಸ್ಥಿತಿ :
 (A) ದ್ರವ (B) ಅನಿಲ
 (C) ~~ಘನ~~ (D) ಪ್ಲಾಸ್ಮಾ

Space for Rough Work / ಒರಟು ಕೆಲಸಕ್ಕೆ ಸ್ಥಳ

ವಿಭಾಗ - V
ಸಮಾಜ ವಿಜ್ಞಾನ

81. ಪವಿತ್ರ ಗಂಗಾ ನದಿ ಹುಟ್ಟುವ ಸ್ಥಳ
(A) ಪಶ್ಚಿಮ ಘಟ್ಟಗಳು
(B) ಸಾತಪುರ ಶ್ರೇಣಿ
(C) ಹಿಮಾಲಯ ಶ್ರೇಣಿ
(D) ಪೂರ್ವ ಘಟ್ಟಗಳು
82. ಬೇಲೂರು - ಹಳೇಬೀಡಿನ ದೇವಾಲಯಗಳನ್ನು ಕಟ್ಟಲು ಬಳಸಿರುವ ಕಲ್ಲುಗಳು
(A) ಅಮೃತಶಿಲೆ
(B) ಮರಳು ಕಲ್ಲು
(C) ಕಡಪ ಕಲ್ಲು
(D) ಬಳಪದ ಕಲ್ಲು
83. ತೀರ ಪ್ರದೇಶದ ಮೈದಾನಗಳಲ್ಲಿ ನೆಲೆಸಿರುವ ಜನರ ಮುಖ್ಯ ಕಸುಬು
(A) ವ್ಯವಸಾಯ
(B) ಮೀನುಗಾರಿಕೆ
(C) ತೋಟಗಾರಿಕೆ
(D) ಹೈನುಗಾರಿಕೆ
84. ಭಾರತದ ಅತಿದೊಡ್ಡ ಉಪ್ಪಿನ ಸರೋವರ ಇರುವ ಸ್ಥಳ
(A) ಸಾಂಭಾರ್
(B) ಡಿಡ್ವಾನ್
(C) ನೈನಿತಾಲ್ ಲೇಕ್
(D) ಸರ್‌ಗೋಲ
85. ಇತ್ತೀಚೆಗೆ ರಚಿಸಲಾದ ಕರ್ನಾಟಕದ ಹೊಸ ಜಿಲ್ಲೆ
(A) ವಿಜಯಪುರ
(B) ಚಾಮರಾಜನಗರ
(C) ವಿಜಯನಗರ
(D) ಚಿಕ್ಕಬಳ್ಳಾಪುರ

Space for Rough Work / ಒರಟು ಕೆಲಸಕ್ಕೆ ಸ್ಥಳ

86. ಭಾರತದಲ್ಲಿರುವ ಒಟ್ಟು ರಾಜ್ಯಗಳು

- (A) 26
- (B) 27
- (C) 29
- ~~(D) 28~~

87. ಭಾರತದ ವಿಶ್ವವಿಖ್ಯಾತ ಚೆಸ್ ಆಟಗಾರ

- (A) ರಾಹುಲ್ ದ್ರಾವಿಡ್
- ~~(B) ವಿಶ್ವನಾಥನ್ ಆನಂದ್~~
- (C) ಭರತ್ ಚೆಟ್ಟಿ
- (D) ಧನರಾಜ್ ಪಿಳ್ಳೆ

88. ಭಾರತ ಇರುವ ಖಂಡ

- ~~(A) ಏಷ್ಯಾ~~
- (B) ಆಫ್ರಿಕಾ
- (C) ಯುರೋಪ್
- (D) ಆಸ್ಟ್ರೇಲಿಯಾ

89. ಅತಿಹೆಚ್ಚು ರೇಷ್ಮೆ ಉತ್ಪಾದಿಸುವ ರಾಜ್ಯ

- (A) ತೆಲಂಗಾಣ
- (B) ತಮಿಳುನಾಡು
- ~~(C) ಕರ್ನಾಟಕ~~
- (D) ಆಂಧ್ರ ಪ್ರದೇಶ

90. ಪುಟ್‌ಬಾಲ್ ತಂಡವೊಂದರಲ್ಲಿ ಆಡುವ ಆಟಗಾರರ ಸಂಖ್ಯೆ

- (A) 09
- (B) 08
- (C) 10
- ~~(D) 11~~

'ಜೀನಿಯಸ್' ಮೌಠಾಜಿಬುಕ್ &
ಮಾಧು ಪ್ರಶ್ನೆಪತ್ರಕಗು ಸಂಪರ್ಕಿಸಿ

7204857422

Space for Rough Work / ಒರಟು ಕೆಲಸಕ್ಕೆ ಸ್ಥಳ

91. ಎರಡಕ್ಕಿಂತ ಹೆಚ್ಚು ತಲೆಮಾರಿನ ಸದಸ್ಯರು ಒಟ್ಟಾಗಿ ವಾಸಿಸುವ ಕುಟುಂಬ
- (A) ವಿಭಕ್ತ ಕುಟುಂಬ
 (B) ವೈಯಕ್ತಿಕ ಕುಟುಂಬ
 (C) ಆಧುನಿಕ ಕುಟುಂಬ
 (D) ಅ ವಿಭಕ್ತ ಕುಟುಂಬ
92. ದಟ್ಟವಾದ ಕಾಡು ಅಥವಾ ಪರ್ವತ ಪ್ರದೇಶಗಳಲ್ಲಿ ವಾಸಿಸುವ ಕುಟುಂಬಗಳ ಸಮುದಾಯ
- (A) ಬುಡಕಟ್ಟು (B) ಗ್ರಾಮೀಣ
 (C) ನಗರ (D) ಅರೆನಗರ
93. ಬಿಸ್ಮಿಲ್ಲಾಖಾನ್ ನುಡಿಸುತ್ತಿದ್ದ ಸಂಗೀತ ವಾದ್ಯ
- (A) ತಬಲ (B) ಪ್ಲೂಟ್
 (C) ಷಹನಾಯ್ (D) ಹಾರ್ಮೋನಿಯಂ
94. 'ವೃಕ್ಷ ಮಾತೆ' ಎಂದು ಕರೆಸಿಕೊಂಡಿರುವ ಮಹಿಳೆ
- (A) ಒನಕೆ ಓಬವ್ವ
 (B) ಸಾಲುಮರದ ತಿಮ್ಮಕ್ಕ
 (C) ಕೆಳದಿ ಚನ್ನಮ್ಮ
 (D) ಶಕುಂತಲ ದೇವಿ
95. ನೀರನ್ನು ಬೆಳೆಯ ಬೇರುಗಳಿಗೆ ನೇರವಾಗಿ ತಲುಪಿಸುವ ನೀರಾವರಿ ಪದ್ಧತಿ
- (A) ಸಿಂಪಡಿಸುವ ನೀರಾವರಿ (B) ಹನಿ ನೀರಾವರಿ
 (C) ಕಾಲುವೆ ನೀರಾವರಿ (D) ಏತ ನೀರಾವರಿ

Space for Rough Work / ಒರಟು ಕೆಲಸಕ್ಕೆ ಸ್ಥಳ

96. ಟ್ರಾಫಿಕ್ ಸಿಗ್ನಲ್‌ಗಳಲ್ಲಿ ಕೆಂಪು ದೀಪವು ಏನನ್ನು ಸೂಚಿಸುತ್ತದೆ ?

- (A) ನಿಲ್ಲಲು
(B) ಹೋಗಲು
(C) ಕಾಯಲು
(D) ಸಿದ್ಧವಾಗಲು

97. ಜಲ ಸಾರಿಗೆಯಲ್ಲಿ ಬಳಸುವ ವಾಹನ

- (A) ಬಸ್ಸು
(B) ಹೆಲಿಕಾಪ್ಟರ್
(C) ಹಡಗು
(D) ರೈಲು

98. “ಜೈ ಭಾರತ ಜನನಿಯ ತನುಜಾತೆ” ಗೀತೆಯನ್ನು ರಚಿಸಿದವರು

- (A) ಪು. ತಿ. ನಾ.
(B) ಚಂದ್ರಶೇಖರ ಕಂಬಾರ
(C) ನಿಸಾರ್ ಅಹಮದ್
(D) ಕುವೆಂಪು

99. ಥಾಮಸ್ ಆಲ್ವಾ ಎಡಿಸನ್ ಅನ್ವೇಷಿಸಿದ ಸಾಧನ

- (A) ದೂರವಾಣಿ
(B) ವಿದ್ಯುತ್ ಬಲ್ಬ್
(C) ಟೆಲಿವಿಶನ್
(D) ರೇಡಿಯೋ

100. ಭಾರತದ ರಾಷ್ಟ್ರೀಯ ಪಕ್ಷಿ

- (A) ನವಿಲು
(B) ಗಿಳಿ
(C) ಹದ್ದು
(D) ಪಾರಿವಾಳ

Space for Rough Work / ಒರಟು ಕೆಲಸಕ್ಕೆ ಸ್ಥಳ