

حکومت کرناٹک
Government of Karnataka
محکمہ تعلیم عامہ

(Department of Public Instruction)

کرناٹک اسکول کوالٹی اسٹیمنٹ اینڈ اکیڈمیٹیشن کونسل
Karnataka School Quality Assessment and Accreditation Council

کے۔ ایس۔ ای۔ ای۔ بی۔ ملیشورم۔ بنگلور 560003

K.S.E.E.B, Malleshwaram, Bengaluru-560003.

سی آر پی/بی آر پی/ای سی او (پرائمری اسکول ٹیچر کیڈر) امتحان 2020 - پیر - 1

CRP/BRP/ECO (Primary School Teacher Cadre) Examination - 2020, Paper - 1

(Candidate Reg. No.) امیدوار کا رجسٹر نمبر

2 9 0 3 P R 0 0 3 8 9

ورژن
Version A

وقت: 2 گھنٹے

Time : 2 Hours

میڈیم: اردو/انگلش

Medium: Urdu / English

کل نشانات: 85

Maximum Marks : 85

(Instructions to Candidates) ہدایات برائے امیدوار

① ہر سوال کا جواب دیں۔ ہر سوال ایک نمبر کا ہے۔

Answering all the questions is compulsory. The most appropriate answer of each question carries one mark.

② OMR میں دی گئی جگہ پر اپنا رجسٹر نمبر اور ڈسٹرکٹ کوڈ لکھیں۔

Must enter Register number within the space provided in the OMR.

③ ہدایت کے مطابق OMR میں صحیح جواب کے لئے رنگ بھریں۔

The correct answer for each MCQ to be shaded in the OMR as instructed.

④ صرف نیلا یا کالا رنگ والا بال پوائنٹ پین استعمال کریں۔

Use only blue or black ball point pen.

⑤ موبائل فون، کیلکولیٹر، ڈیجیٹل/سمارٹ واچ، کتابوں اور دیگر اشیاء کا استعمال ہال میں لانا سختی سے منع ہے۔

Mobile Phones, Calculator, Digital / Smart watch, books and other materials inside the exam hall is strictly prohibited.

⑥ OMR میں دوبارہ مت لکھیں۔ OMR کے بار کوڈ کو نہ موڑیں/نہ بھاڑیں/نہ جاڑیں۔

Do not overwrite, fold, tear, wrinkle or staple on OMR sheet

⑦

Using whitener, shading more than one answers on the OMR sheet then such answers will not be considered.

⑧

English version of the question paper will be considered as final, in case of any dispute arising out of variation in translation version.

1. — نثری ادب کی مقبول صنف ہے
(A) افسانہ (B) کہانی (C) ناول (D) مضمون
2. — ”سیرت عائشہ“ اور ”حیاتِ شبلی“ کے مصنف
(A) ابوالکلام آزاد (B) سید سلیمان ندوی
(C) سر سید احمد خان (D) محمد رفیع انصاری
3. — وہ علم جس سے شعر کے اوزان معلوم کئے جاتے ہیں:
(A) علمِ حرف (B) علمِ نحو (C) علمِ بجزور (D) علمِ عروض
4. — وہ کتابی کیڑا تھا مگر ہر سوال کا جواب دینا اس کے بس کی بات نہیں تھی:
قواعد کے اعتبار سے یہ جملہ ہے۔
(A) وصلی (B) تردیدی (C) استدراکی (D) سببی
5. — واللہ اپنے قول کا ہر دم خیال ہے
بہنا، حسینؑ مخیر صادق کالال ہے
اس شعر میں مخیر صادق سے مراد:
(A) حضرت علیؑ (B) حضرت محمد ﷺ (C) حضرت بی بی فاطمہؑ (D) سچی خبر دینے والا
6. — جملہ تحسین کی نشاندہی کیجئے۔
(A) میں موجودہ گورنمنٹ کو جائز تسلیم نہیں کرتا۔
(B) واللہ میں نے انکی پیشانی پر کبھی بل نہیں دیکھے۔
(C) ہائے! یہ بربادی کے منظر دیکھے نہیں جاتے۔
(D) ماشاء اللہ! ہمارا ملک سائنسی ترقی میں پیچھے نہیں رہا۔
7. — ”اگر تم محنت کرتے تو کامیاب ہوتے“
اس جملے میں حرفِ جزا ہے
(A) اگر (B) تم (C) کرتے (D) تو
8. — چال جیسے کڑی کمان کا تیر
دل میں ایسے کہ جا کرے کوئی
اس شعر میں کونسا لفظ مشبہ بہ
(A) چال (B) تیر (C) کڑی کمان (D) دل

9. وہ صنفِ سخن جس کا ہر شعر معنی و مفہوم کے لحاظ سے مکمل ہوتا ہے۔

- (A) غزل
(B) قصیدہ
(C) مرثیہ
(D) مثنوی

10. ”خالد نے روٹی کھائی“ اس جملے میں علامتِ قاطعی ہے

- (A) خالد
(B) نے
(C) روٹی
(D) کھائی

11. ”ڈرامہ“ اصل میں کس زبان کا لفظ ہے

- (A) عربی
(B) فارسی
(C) انگریزی
(D) یونانی

12. درج ذیل الفاظ میں مونث کی نشاندہی کیجئے۔

- (A) بونا
(B) کپڑا
(C) ڈبیا
(D) دروازہ

13. درج ذیل میں غیر متعلق لفظ ہے

- (A) سُرمئی
(B) تاریک
(C) سُرخ
(D) اسود

14. ذرا سا تودل ہوں، مگر شوخ اتا

وہی ”لن ترانی“ سنا چاہتا ہوں

اس شعر میں کسی پیغمبر کا ذکر ہے

- (A) حضرت آدم
(B) حضرت موسیٰ
(C) حضرت عیسیٰ
(D) حضرت محمد ﷺ

15. پنجُ خُسنِ تعین سے، ظاہر ہو کہ باطن ہو

یہ قید نظر کی ہے، وہ فکر کا زنداں ہے

اس شعر میں استعمال کی گئی صنعت

- (A) صنعتِ تلحیح
(B) صنعتِ تضاد
(C) صنعتِ تشبیہ
(D) صنعتِ استعارہ

16. The correct prefix to be added to the word 'violence' to mean its opposite will be :

A. un

B. dis

C. non

D. mis

17. Raju bought a new shirt .

The right question to get the underlined part as answer is :

A. Who bought a new shirt ?

B. What did Raju buy ?

C. What does Raju buy ?

D. What was Raju buying ?

18. Sheela ran fast in the race and won the first prize .

The underlined word is a/an :

A. Preposition

B. Adjective

C. Conjunction

D. Adverb

19. Ramesh built this house .

The passive voice of the given sentence is :

A. This house was built by Ramesh

B. This house is built by Ramesh

C. This house was being built by Ramesh

D. This house is being built by Ramesh

20. Jupiter is the largest planet in the solar system .

The comparative degree of the given sentence is :

A. No other planet in the solar system is as large as Jupiter.

B. Jupiter is as large as any other planet in the solar system.

C. Jupiter is larger than any other planet in the solar system.

D. Other planets in the solar system are larger than Jupiter.

21. The right form of the verb to be used in the blanks are ::

Sam _____ (sit) in the lawn and _____ (write) a letter to his friend yesterday.

A. sits, writes

B. sitting, writing

C. sat, written

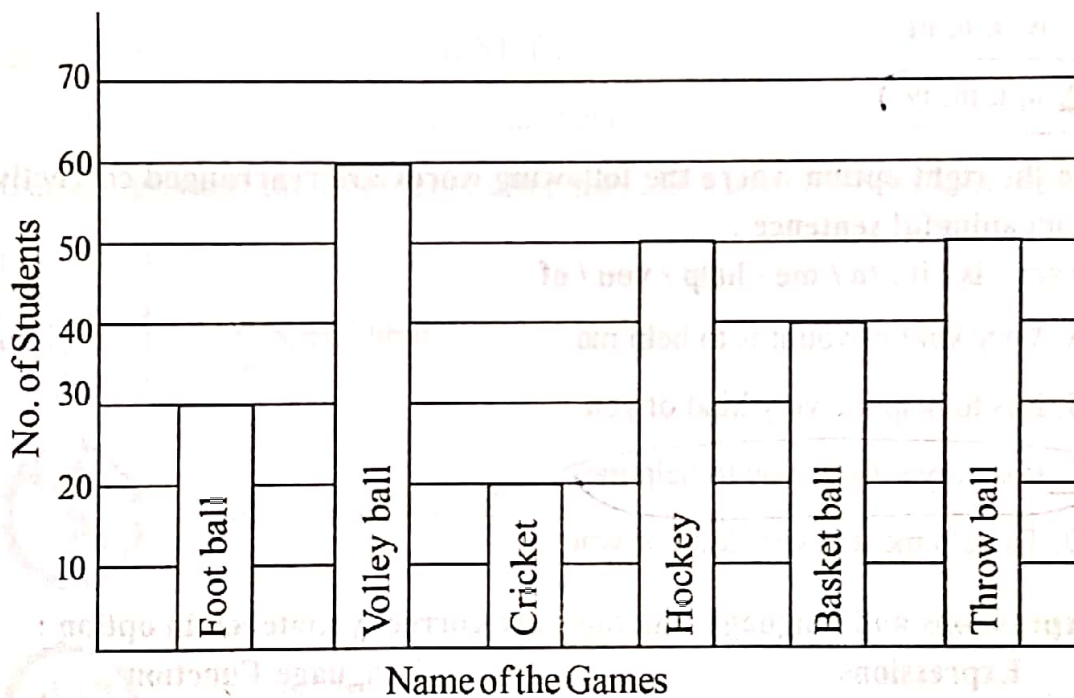
D. sat, wrote

22. Motherly love by its very nature is unconditional. Mother loves the new born infant because it is her child, not because the child has fulfilled any specific condition, or lived upto any specific expectations. Unconditional love corresponds to one of the deepest longings, not only of the child but also of every human being. On the other hand, to be loved because of one's merit or because one deserves it, always leaves doubt and there is always a fear that love could disappear.

One can conclude from the reading, that for a mother to love her child :

- A. The child has to earn such love
- B. The child does not need to do anything**
- C. The child is expected to do what it is required to do
- D. There are certain specific conditions that both have to follow

Below given Bar graph represents the popularity of various games among the students in a school. Based on the bar graph answer the question number 23.



Statements :

- i) Foot ball is the most popular game
- ii) Basket ball is more popular than Cricket
- iii) Volley ball is the least popular game
- iv) Hockey and Throw ball are equally popular

23. Which of these statements are correct ?

A. Statements i, ii and iii

B. Statements ii, iii and iv

C. Statements i and iii

D. Statements ii and iv

24. Mary is preparing gulab jamuns for the first time. The right order of steps she has to follow to prepare the dish is :

i) Heat oil/ghee in a pan and fry the small balls on a low flame

ii) Mix the jamun mix with water and make small balls of it

iii) Soak the fried jamun balls in the sugar syrup for half an hour

iv) Add two cups of sugar and two cups of water in a vessel and boil them well for 5 minutes to prepare the sugar syrup

A. iv, ii, i, iii

B. ii, iii, i, iv

C. iv, i, ii, iii

D. ii, i, iii, iv

25. Choose the right option where the following words are rearranged correctly to form a meaningful sentence :

kind / very / is / it / to / me / help / you / of

A. Very kind of you it is to help me

B. It is to help me very kind of you

C. It is very kind of you to help me

D. To help me it is very kind of you

26. The expressions and language functions are correctly matched in option :

Expressions

Language Function

i) Good morning.

a) Expressing gratitude

ii) Could you please switch off the fan?

b) Introducing

iii) Meet my friend Rita.

c) Requesting

iv) Thank you very much.

d) Greeting

*A. i-d, ii-c, iii-b, iv-a

B. i-b, ii-a, iii-d, iv-c

C. i-d, ii-a, iii-b, iv-c

D. i-b, ii-c, iii-d, iv-a





Refer to the following T.V. Schedule and answer the question number 27 based on it .

Channel	7:00	11:00	13:00	15:00	20:00	21:30
Chandana	Yoga	News	Light music	Serial	National News	Quiz
Animal Planet	Save Tigers	Indian Birds	Ecology Issues	Deep in the sea	Man V/S Wild	River Monsters
NDTV	Today's politics	Talk show	Afternoon news	Interview	Delhi news	Karnataka Focus
Udaya TV	Devotional songs	Serial	Feature film	News	Game show	Serial

27. The channel that you would opt to watch game show at 8.00 pm is :

- A. Udaya TV
- B. NDTV
- C. Animal Planet
- D. Chandana

28. The traffic signs and their corresponding meanings are correctly matched in option

- i)  a) Speed limit
- ii)  b) School Zone
- iii)  c) No entry
- iv)  d) No parking

- A. i-d, ii-c, iii-b, iv=a
- B. i=d, ii=c, iii=a, iv-b
- C. i-c, ii-d, iii-b, iv-a
- D. i-c, ii-d, iii-a, iv-b

29. The right order of words as they appear in the dictionary is :

- A. descent, decent, denote, delete
 B. decent, denote, delete, descent
 C. delete, denote, descent, decent
 (D) decent, delete, denote, descent

30. The correctly punctuated statement is :

A. Aziz said, "I will meet you tomorrow at 10 am in the park."

B. Aziz said, "I will meet you tomorrow at 10 am in the park!"

(C) Aziz said, "I will meet you tomorrow at 10 am in the park".

D. Aziz said, "I will meet you tomorrow at 10 am in the park?"

31. بھارتی قومی جھنڈے کے چکر میں پائی جانے والی لکیروں کی تعداد

24 (B) 22 (A)

28 (D) 26 (C)

The total number of spokes in the wheel of the National flag of India is :

A. 22

B. 24

C. 26

D. 28

32. گیت 'وندے ماترم' کس ناول میں موجود ہے

(B) دیوداس

(A) آنتھو

(D) نیلی رکتا

(C) تھیر پانچالی

"Vande Maataram" song is in the novel :

A. Ananda Mata

B. Devadasa

C. Pather Panchali

D. Neeliraktha

33. انڈونیشیا کی کرنسی

(B) کیات

(A) ڈالر

(D) روپیہ

(C) رکیٹ

The Currency of Indonesia is :

A. Dollar

B. Kyat

C. Ringgit

D. Rupiah

34۔ تفریحی مقامات کی صحیح جوڑی کی نشاندہی کیجئے۔

- (A) اور ڈاولت - سری رنگ بنی
(B) ٹیپو محل - کوپپالا
(C) پتھر کا رتھ - شرنگیری
(D) سکے - آر - ایس - مدیکیری

Choose the correct pair related to tourist place :

- A. Dariya Daulat - Srirangapatna
B. Tippu's Palace - Koppala
C. Stone Chariot - Sringeri
D. K.R.S - Madikeri

35۔ کولمبیا خلائی جہاز میں آخری سانس لینے والی خلا باز

- (A) سنیچا ویلس
(B) کلپنا چاولہ
(C) سٹین کوئٹس
(D) مائیکل

The astronaut who died in the Columbian Spaceship was :

- A. Sunita Williams
B. Kalpana Chawla
C. Eileen Collins
D. Michael

36۔ اسرو کا مرکزی دفتر بننے کی جگہ

- (A) شری ہری کوٹہ
(B) ہاسن
(C) بنگلور
(D) باگل کوٹہ

ISRO's head office is in :

- A. Sriharikota
B. Hassan
C. Bengaluru
D. Bagalkote

37۔ سال 2019 کا امن اور بھائی چارہ کی نوبل انعام حاصل کرنے والے

- (A) ابی احمد علی
(B) کیلاش سٹیارتھی
(C) ڈینیس موکوچ
(D) جان میڈول سیانوس

Noble Prize for Peace and Harmony was awarded for the year 2019 to :

- A. Abi Ahmed Ali
B. Kailash Satyarthi
C. Denias Mukwege
D. Juan Munuel Santos

38۔ نیچے دی گئی حالتوں میں سے کون سا ریاست میں ہے

- (A) گیل
(B) پنجاب
(C) گجرات
(D) اتر پردیش

Netaji Subhas National Institute of sports is in this state :

- A. Kerala
B. Punjab
C. Kamataka
D. Uttar Pradesh

(B) دا را بیندرے

(A) کوئمپو

(D) یو۔ آر۔ آنت مورتی

(C) گریش کارناڈ

The author of the book "Tughlaq" is :

A. Kuvempu

B. Da.Ra. Bendre

C. Girish Karnad

D. U. R. Anantha Murthy

40. ریاست کرناٹک میں سے پہلے بھارت رتن عزاز حاصل کرنے والے

(B) ایم۔ لیس۔ سبلاکشمی

(A) سر۔ ایم۔ ویشویشوریا

(D) سی۔ وی۔ رامن

(C) راج گوپال چاری

The first recipient of Bharathrathna Award from Karnataka is :

A. Sir M. Visvesvaraya

B. M.S. Subbulakshmi

C. C. Rajagopalachari

D. C.V. Raman

41. سال 96 - 1995 میں نلی کلی پروگرام کو تخریباتی طور پر نافذ کیا گیا تعلق

(B) ہوناسور

(A) کولے گال

(D) ہگیڈادیونا کوٹے

(C) چامراج نگر

The Nali-Kali pilot programme was implemented in the year 1995-96 in this Taluk :

A. Kollegal

B. Hunasur

C. ChamarajanagarD. Heggadadevanakote

42. نلی۔ کلی قبل از مرحلے کی سرگرمی میں کہا، سرگرمی کو ظاہر کرنے والا لوگو

(B) منہ

(A) لڑکا۔ لڑکی

(D) دو چوہے گھنٹی بجاتے ہوئے

(C) صندوق پر بندر

The logo which represents the activity 'story' in Nali-Kali preparatory stage activity

is :

A. Boy - Girl

B. Mouth

C. Monkey on Box

D. Bell among rats

43. تعلق سطح پر اسکول سے باہر رہنے والے بچوں کا سروے کرنے والی کمیٹی کے رکن سکریٹری

- (A) بلاک ریسورس کوآرڈینیٹر
(B) تحصیلدار
(C) سیکریٹری آفیسر
(D) بلاک ایجوکیشن آفیسر

The member secretary of the committee which conducts the survey of out of school children at taluk level is :

- A. Block Resource Co-ordinator B. Tahasildar
C. Executive Officer D. Block Education Officer

44. دوپہر کے گرم کھانے کا منصوبہ کس مدارس میں رائج کیا گیا ہے

- (A) سرکاری اور امدادی مدارس
(B) سرکاری مدارس
(C) سرکاری اور غیر امدادی مدارس
(D) امدادی اور غیر امدادی مدارس

The types of beneficiary schools of mid-day meal scheme are :

- A. Government and Aided schools B. Government schools
C. Government and Unaided schools D. Aided and Unaided schools

45. دوپہر کے گرم کھانے کے منصوبے کے تحت پہلی تا پانچویں جماعت کے لئے بچوں کو دی جانے والی چاول کی مقدار

- 140gm (B) 150gm (A)
100gm (D) 125gm (C)

The quantity of rice given to the students of 1 to 5th standard under mid-day meal scheme is :

- A. 150 gm B. 140 gm
C. 125 gm D. 100 gm

46. سال 2018 - 19 میں CSAS قدر پیمائی میں آنے والی جماعتیں

- (A) پہلی یادس ویں جماعت
(B) چوتھی تا دس ویں جماعت
(C) پہلی تا نو ویں جماعت
(D) چوتھی تا نویں جماعت

The classes included for the CSAS evaluation in the year 2018-19 are :

- A. 1st to 10th Standard B. 4th to 10th Standard
C. 1st to 9th Standard D. 4th to 9th Standard

47. اکشر اہمائیہ منصوبے سے مستفیض ہونے والوں کو دی جانے والی دودھ کی مقدار

120ml (B)

100ml (A)

200ml (D)

150ml (C)

The quantity of milk distributed to each beneficiary under Ksheera Bhagya scheme is :

A. 100 ml

B. 120 ml

C. 150 ml

D. 200 ml

48. دوپہر کے گرم کھانے کے منصوبے سے مستفیض ہونے والوں کا اعداد و شمار روانہ کرنے والا مفت کا نمبر

15544 (B)

15454 (A)

15444 (D)

15554 (C)

The toll free number to which information to be sent to collect the daily real data of mid-day meal beneficiaries is :

A. 15454

B. 15544

C. 15554

D. 15444

49. بچوں کا امدادی نمبر (Help Line)

1090 (B)

1088 (A)

1099 (D)

1098 (C)

Children helpline number is :

A. 1088

B. 1090

C. 1098

D. 1099

50. سال 2019 - 20 میں مفت بائسکل حاصل کرنے والے طالب علم

(A) آٹھویں جماعت کے سرکاری اور امدادی مدارس کے لڑکے اور لڑکیاں

(B) آٹھویں جماعت کے سرکاری مدارس کے لڑکے

(C) آٹھویں جماعت کے سرکاری مدارس کی لڑکیاں

(D) آٹھویں جماعت کے سرکاری اور امدادی مدارس کی لڑکیاں

Free bicycle beneficiary students during the year 2019-20 are :

A. 8th standard boys and girls of Government and Aided schools

B. 8th standard boys of Government schools

C. 8th standard girls of Government schools

D. 8th standard girls of Government and Aided schools

51. سال 2019-20 میں 9 تا 10 ویں جماعت کے طلباء کو شواہد کے لئے حکومت کی جانب سے دیا جانے والا اکائی خرچ:

(B) 295 روپے

(A) 205 روپے

(D) 325 روپے

(C) 315 روپے

The unit cost allocated by the Government for shoes and socks for the students of 9 to 10th standards during the year 2019-20 is :

A. ₹ 205

B. ₹ 295

C. ₹ 315

D. ₹ 325

52. کرناٹکا ٹیچرس ایلیجیبلٹی ٹسٹ ان اساتذہ کے لئے منعقد کیا جاتا ہے

(A) پہلی تا پانچویں جماعت کو پڑھانے والے اساتذہ

(B) پہلی تا دسویں جماعت کو پڑھانے والے اساتذہ

(C) پہلی تا آٹھویں جماعت کو پڑھانے والے اساتذہ

(D) پانچویں تا آٹھویں جماعت کو پڑھانے والے اساتذہ

Karnataka Teacher Eligibility Test is conducted to these teachers :

A. The teachers who teach 1 to 5th standard

B. The teachers who teach 1 to 10th standard

C. The teachers who teach 1 to 8th standard

D. The teachers who teach 5 to 8th standard

53. سال 2019-20 میں 101 سے 250 تک کا داخلہ لئے ہوئے مدارس کو دی جانے والی "اسکولی امدادی رقم"

(B) ₹40,000

(A) ₹10,000

(D) ₹75,000

(C) ₹50,000

The school grant given to the schools with the enrollment of 101 to 250 during the year 2019-20 is :

A. ₹10,000

B. ₹40,000

C. ₹50,000

D. ₹75,000

54۔ سال 19 - 2018 میں قانون حق تعلیم کی سیکشن (2) 12 اور اصول (1) 8 کے تحت سرکاری مدارس میں داخلہ لئے ہوئے ہر بچے کے لئے مختص کیا گیا سالانہ فی کس خرچ

- (A) پرائمری مدارس کے لئے 16,000 روپے، پری پرائمری مدارس کے لئے 8000 روپے
 (B) پرائمری مدارس کے لئے 15,000 روپے، پری پرائمری مدارس کے لئے 7000 روپے
 (C) پرائمری مدارس کے لئے 10,000 روپے، پری پرائمری مدارس کے لئے 500 روپے
 (D) پرائمری مدارس کے لئے 20,000 روپے، پری پرائمری مدارس کے لئے 1000 روپے

In the year 2018-19, the annual expenditure prescribed for each child enrolled under RTE, Section 12(2) and Rule 8(1) in Government schools was :

- A. Rs. 16,000 for primary schools, 8,000 for pre-primary schools
 B. Rs. 15,000 for primary schools, 7,000 for pre-primary schools
 C. Rs. 10,000 for primary schools, 5,000 for pre-primary schools
 D. Rs. 20,000 for primary schools, 10,000 for pre-primary schools

55۔ سال 19 - 2018 میں قطزدہ تعلقوں میں 5 تا 6 ویں جماعت میں پڑھنے والے بچوں کے لئے بیسکے سمبراما کالیکیاوجنے کے تحت منصوبہ بند اکتسابی سرگرمی کا مطلب

- (A) نصابی اکتساب
 (B) پڑھنا، لکھنا، حساب و کتاب
 (C) صلاحیتوں پر مبنی اکتساب
 (D) تھوڑا پڑھو، تھوڑا مستی کرو

In the year 2018-19 "Besige Sambrama learning scheme" was conducted to the children of 5th and 6th standard in drought prone taluks. The learning activity of this scheme was :

- A. Curriculum based learning
 B. Read, Write, Calculation
 C. Competency based learning
 D. Swalpa odhu, Swalpa moju

56۔ بہت ہی معذور اور کمزور بچے جو آزادی سے اسکول جا نہیں سکتے انہیں (School Readiness Centers) جانے کے لئے دیا جانے والا ماہانہ وظیفہ

- (A) ₹ 350
 (B) ₹ 450
 (C) ₹ 250
 (D) ₹ 750

Monthly allowance given to children to attend school readiness centers who cannot attend schools independently due to severe disability is :

- A. ₹350
 B. ₹450
 C. ₹250
 D. ₹750

57. سرکاری کنٹرمیڈیم مدارس کے چوتھی اور پانچویں جماعت میں پڑھنے والے طلباء، کنٹرول اور علم ریاضی موضوعات میں اکتسابی صلاحیت کو بہترین بنانے کے لئے Pratham Foundation کی جانب سے جاری کیا گیا پروگرام

(B) وشواسا کرانا

(A) اودو کرناٹکا

(D) تالپ

(C) جیسے مھرانا

The programme introduced with the collaboration of Pratham foundation to improve the learning levels in Kannada and Maths of students who are studying in 4th and 5th standards of government kannada medium schools is :

A. Oodu Karnataka

B. Vishwasa Kirana

C. Besige Sambrama

D. TALP

58. NMMS کی توسیع

National Means Cum Merit Scholarship (A)

National Merit Means Scholarship (B)

National Means Cum Marked Schools (C)

National Means Cum Merit Schools (D)

Expanded form of NMMS is :

A. National Means Cum Merit Scholarship

B. National Merit Means Scholarship

C. National Means Cum Marked Schools

D. National Means Cum Merit Schools

59. "گنیٹا کلیرکا آندولنا" پروگرام اس ادارے کے اشتراک سے جاری کیا گیا ہے

(A) ٹی۔سی۔ ایس فاؤنڈیشن

(B) عظیم پریم جی فاؤنڈیشن

(C) اکشرا فاؤنڈیشن

(D) پراٹھم فاؤنڈیشن

'Ganitha Kalika Andolana' programme is introduced with the association of this organization :

A. TCS Foundation

B. Azim Premji Foundation

C. Akshara Foundation

D. Pratham Foundation

60. "کنیا کلیرکا آندولن" درج ذیل جماعتوں کے لئے شروع کیا گیا ہے۔

(A) 4 اور 5 ویں جماعت

(B) 4 اور 7 ویں جماعت

(C) 4 اور 7 ویں جماعت

(D) 4 اور 9 ویں جماعت

'Ganitha Kalika Andolana' is introduced for the following classes :

A. 4th and 5th class

B. 4th and 7th class

C. 4th to 7th class

D. 4th to 9th class

61. $\sqrt{0.000225} + \sqrt{4.41}$ کی قیمت

2.25 (B)

2.105 (A)

21.15 (D)

2.15 (C)

The value of $\sqrt{0.000225} + \sqrt{4.41}$ is :

A. 2.105

B. 2.25

C. 2.115

D. 21.15

62. اگر ایک مکعب کا حجم 64cm^3 ہے تو اس کا کل سطحی رقبہ ہوگا

16 cm^2 (B)

96 cm^2 (A)

48 cm^2 (D)

24 cm^2 (C)

If the volume of a cube is 64cm^3 , then its total surface area is :

A. 96 cm^2

B. 16 cm^2

C. 24 cm^2

D. 48 cm^2

63. $8^{2/3}$ کی قیمت

16 (B)

8 (A)

4 (D)

$\sqrt{2}$ (C)

The value $8^{2/3}$ is:

A. 8

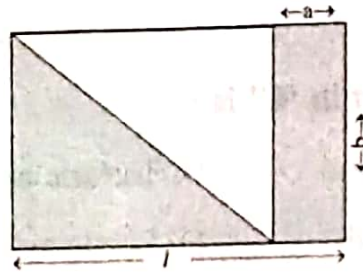
B. 16

C. $\sqrt{2}$

D. 4

64. دی گئی تصویر میں رنگین حصے کا رقبہ

- (A) $\frac{l-b-ab}{2}$
 (B) $\frac{l+b+ab}{2}$
 (C) $\frac{l-b-ab}{4}$
 (D) $\frac{l+b+ab}{4}$



Area of the shaded portion in the figure is :

- A. $\frac{l-b-ab}{2}$
 B. $\frac{l+b+ab}{2}$
 C. $\frac{l-b-ab}{4}$
 D. $\frac{l+b+ab}{4}$

65. ایک گڑیا کی قیمت فروخت ₹345 ہے۔ اس سے دوکان مالک کو 15% فیصد کا منافع حاصل ہوتا ہے تو اس گڑیا کی قیمت خرید ہوگی۔

₹325 (B)

₹350 (A)

₹275 (D)

₹300 (C)

Selling price of a doll is ₹345. If the profit made by the shop keeper is 15%. Then the cost price of the doll is :

A. ₹ 350

B. ₹ 325

C. ₹ 300

D. ₹ 275

66. رفتار سے متعلق صحیح ضابطہ

(B) $\frac{\text{فاصلہ}}{\text{وقت}}$

(A) $\frac{\text{وقت}}{\text{فاصلہ}} = \text{رفتار}$

(D) $\text{رفتار} = \frac{\text{وقت}}{\text{طے شدہ فاصلہ}}$

(C) $\text{رفتار} = \frac{\text{طے شدہ فاصلہ}}{\text{وقت}}$

The correct formula with respect to speed is :

A. Speed = $\frac{\text{time}}{\text{displacement}}$

B. Speed = $\frac{\text{displacement}}{\text{time}}$

C. Speed = $\frac{\text{distance travelled}}{\text{time}}$

D. Speed = $\frac{\text{time}}{\text{distance travelled}}$

67۔ وٹامن 'C' کا دوسرا نام

(B) ٹارٹارک آکسائیڈ

(A) میتھانوائک آکسائیڈ

(D) لیاکٹک آکسائیڈ

(C) اسکاربک آکسائیڈ

Another name of vitamin 'C' is :

A. Methanoic acid

B. Tartaric acid

C. Ascorbic acid

D. Lactic acid

68۔ فہرست A میں دئے گئے برقی آلات کو فہرست B میں دی گئی علامتوں سے مناسب جوڑ کی نشاندہی کیجئے

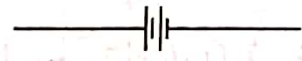
A

B

1. برقی خانہ

a) 


2. برقی بلب

b) 

3. بیٹری

c) 

4. موصل تار

d) 

1.b, 2.c, 3.d, 4.a (B)

1.a, 2.b, 3.c, 4.d (A)

1.d, 2.d, 3.b, 4.a (D)

1.d, 2.b, 3.c, 4.a (C)

Match the column 'A' and 'B' with respect to Electronic device and their symbol :

'A'

'B'


1) Electric cell

a) 

2) Electric bulb

b) 

3) Battery

c) 

4) Conducting wire

d) 

A. 1-a, 2-b, 3-c, 4-d

B. 1-b, 2-c, 3-d, 4-a

C. 1-d, 2-b, 3-c, 4-a

D. 1-d, 2-c, 3-b, 4-a

سرسر 69. خلوی کی جملی نہ رکھنے والا خلیہ عضویہ

(A) مائٹوکانڈریا

(B) کلوروپلاسٹ

(C) بنڈویلازمک ریٹی کولم

(D) رائبوزومس

The cellular organell which does not contain cell membrane is :

A. Mitochondria

B. Chloroplast

C. Endoplasmic Reticulum

D. Ribosome

سرسر 70. وہ عنصر جس میں کیٹینیشن (catenation) کی خصوصیت موجود ہے

(B) آکسیجن

(A) ہائیڈروجن

(D) نائٹروجن

(C) کاربن

The element with the capability of Catenation is :

A. Hydrogen

B. Oxygen

C. Carbon

D. Nitrogen

سرسر 71. ہندوستانی دستور کی وجہ دفعہ جو تعلیم کو بنیادی حق تسلیم کرتی ہے

(B) 21A

(A) 86

(D) 45

(C) 51A

The Article of Indian Constitution which considered the Education as a Fundamental Right is :

A. 86

B. 21 A

C. 51 A

D. 45

سرسر 72. تعلیمی ادارہ "اکاڈمی" کا بانی

(B) الیگزینڈر

(A) ارسٹائل

(D) ساکریٹس

(C) پلاٹو

The Educational Institution called "Academy" was founded by :

A. Aristotle

B. Alexander

C. Plato

D. Socrates

س73. درج ذیل پیشوں میں سے یہ گروپ سے تعلق نہیں رکھتا

- (A) بغیر زمین زراعتی مزدور
(B) اساتذہ
(C) سپاہی
(D) صنعتی مزدور

The profession which does NOT belong to this group is :

- A. Landless Agricultural Labourers
B. Teachers
C. Soldiers
D. Industrial Labourers

س74. دی گئی تجویز (A) اور وجہ (R) غور سے پڑھئے اور صحیح جواب کا انتخاب کیجئے۔

- تجویز (A) عظیم ہمالیہ ہادری کہا جاتا ہے
وجہ (R) عظیم ہمالیہ پہاڑیاں سال بھر ہمالیہ برف سے ڈھکی رہتی ہیں
(A) (A) صحیح، (R) غلط
(B) (A) غلط، (R) صحیح

- (C) (A) اور (R) دونوں صحیح ہیں اور (R) کی صحیح وضاحت کرتا ہے
(D) (A) اور (R) دونوں صحیح ہیں اور (R) کی صحیح وضاحت نہیں کرتا ہے

Read the given Assertion (A) and Reason (R) and choose the correct answer.

Assertion (A) : The Greater Himalayas is called as Himadri

Reason (R) : The Greater Himalayas is covered with snow throughout the year.

- A. (A) is true, (R) is false
B. (A) is false, (R) is true
C. Both (A) and (R) are true and (R) is the correct explanation of (A)
D. Both (A) and (R) are true and (R) is not the correct explanation of (A)

س75. SAARC کی صحیح توسیع

- South Asian Association for Research and Construction (A)
South Asian Association for Research and Co-Operation (B)
South Asian Association for Reconstruction and Co-Ordination (C)
South Asian Association for Regional Co-Operation (D)

The expansion of SAARC is :

- A. South Asian Association for Research and Construction
B. South Asian Association for Research and Co-Operation
C. South Asian Association for Reconstruction and Co-Ordination
D. South Asian Association for Regional Co-Operation

76. پری پرائمری جماعت کا اکتسابی نکتہ

- (A) میرا سکول
(B) میرا کنبہ
(C) میرا سماج
(D) میرے دوست

The initial learning competency in Pre- Primary level is :

- A. My School
B. My Family
C. My Society
D. My Friends

77. اساتذہ کا اولین فرض

- (A) طلباء کی سماجی ضرورتوں کو پورا کرنا
(B) طلباء میں قومی جذبہ اور تہذیب پیدا کرنا
(C) طلباء کے اکتساب میں رہبری کرنا
(D) طلباء کے لئے جماعت میں اکتسابی مواقع فراہم کرنا

The primary duty of a teacher is :

- A. to fulfill the social needs of the students
B. to install the culture of the community among the students
C. to guide the learning of the students
D. to create a learning atmosphere in the class room for the students

78. بنارس سنسکرت کالج کے بانی

- (A) جونا تھن ڈنکن
(B) مدن موہن مالویہ (بنارس کا ہندو یونیورسٹی)
(C) وارن ہسٹنگس
(D) ایشور چندر ودھیاساگر

“Banaras Sanskrit College” was established by :

- A. Jonathan Duncan
B. Madan Mohan Malaviya
C. Warren Hastings
D. Eshwar Chandra Vidyasagar

79. مثبت اکتساب پر اثر انداز ہونے والا نکتہ

- (A) حوصلہ افزائی
(B) بھولنا
(C) تھکان
(D) دماغی کمزوری

The factor affecting Positive learning is :

- A. Motivation
B. Forgetting
C. Fatigue
D. Mental Disability

80۔ پرائمری سطح پر سائنس کی تدریس کا بہترین طریقہ

- (A) عملی طریقہ
(B) تشریحی طریقہ
(C) تحقیقی طریقہ
(D) منصوبائی طریقہ

The best method to teach science at primary school level is :

- A. Demonstration Method B. Analytical Method
C. Heuristic Method D. Project Method

81۔ جماعتی نگرانی کا اہم مقصد

- (A) طلباء کو قابو میں رکھنا
(B) طلباء میں نظم و ضبط پیدا کرنا
(C) طلباء کو موثر طریقے سے سیکھنے کے قابل بنانا
(D) طلباء میں ڈر پیدا کرنا

The main purpose of classroom supervision is :

- A. to control the students
B. to build discipline in the students
C. to make the students learn effectively
D. to create fear in the minds of the students

82۔ پراجیکٹ ٹیکنیک سے جانچا جاتا ہے

- (A) ذہانت
(B) شخصیت
(C) دلچسپی
(D) رویہ

The projective techniques measure :

- A. Intelligence B. Personality
C. Interest D. Attitude

83۔ مخصوص طلباء کے مطالعہ کے لئے اساتذہ کے لئے مددگار طریقہ

- (A) خود کار تجزیہ کا طریقہ
(B) تجرباتی طریقہ
(C) تفصیلی طریقہ
(D) شخصی مطالعہ کا طریقہ

The method which helps the teachers to study the children with special needs is :

- A. Introspective Method B. Experimental Method
C. Observation Method D. Case Study Method

84. وہ تدریسی طریقہ جہاں پر معلم مخصوص تشریح سے عام اصولوں کی طرف آتا ہے۔

- (A) منصوبائی طریقہ
(B) تجزیاتی طریقہ
(C) استقرائی طریقہ
(D) استخراجی طریقہ

The method where a teacher begins from a specific example and arrives at a universal principle is :

- A. Project Method
B. Analytical Method
C. Inductive Method
D. Deductive Method

85. تعلیمی مقاصد کے علاقوں (Domains) کی تعداد

- (A) دو
(B) تین
(C) چار
(D) پانچ

The number of domains of educational objectives is :

- A. Two
B. Three cognitive / Affective / psychomotor.
C. Four
D. Five