

ಕರ್ನಾಟಕ ಸರ್ಕಾರ  
Government of Karnataka  
ಸಾರ್ವಜನಿಕ ಶಿಕ್ಷಣ ಇಲಾಖೆ  
Department of Public Instruction

ಕರ್ನಾಟಕ ಶಾಲಾ ಗುಣಮಟ್ಟ ಮೌಲ್ಯಾಂಕನ ಮತ್ತು ಅಂಗೀಕರಣ ಪರಿಷತ್ತು  
ಕ.ಪ್ರೌ.ಶಿ.ಪ.ಮಂಡಳಿ, ಮಲ್ಲೇಶ್ವರಂ, ಬೆಂಗಳೂರು-560003.

Karnataka School Quality Assessment and Accreditation Council  
K.S.E.E.B, Malleshwaram, Bengaluru-560003.

ಇ.ಸಿ.ಓ. (ಪ್ರಾಥಮಿಕ ಶಾಲಾ ಶಿಕ್ಷಕರ ತತ್ಸಮಾನ ಶ್ರೇಣಿ) ಲಿಖಿತ ಪರೀಕ್ಷೆ - 2020, ಪತ್ರಿಕೆ - 2  
ECO (Primary School Teacher Equivalent Cadre) Examination - 2020, Paper - 2

ಅಭ್ಯರ್ಥಿಯ ನೋಂದಣಿ ಸಂಖ್ಯೆ / Candidate's Register Number

--	--	--	--	--	--	--	--	--	--

ವರ್ಷನ್ A  
Version

ಸಮಯ: 2 ಗಂಟೆ 30 ನಿಮಿಷಗಳು

ಮಾಧ್ಯಮ : ಕನ್ನಡ / ಆಂಗ್ಲ

ಗರಿಷ್ಠ ಅಂಕಗಳು: 85

Time : 2 Hours 30 Minutes

Medium : Kannada / English

Maximum Marks : 85

ಈ ಪತ್ರಿಕೆಯಲ್ಲಿ 1 ರಿಂದ 35 ರವರೆಗಿನ ಪ್ರಶ್ನೆಗಳು ಬಹು ಆಯ್ಕೆ ಮಾದರಿಯ ಪ್ರಶ್ನೆಗಳಾಗಿದ್ದು, ಪ್ರತಿ ಪ್ರಶ್ನೆಯ ಅತ್ಯಂತ ಸೂಕ್ತವಾದ ಉತ್ತರಕ್ಕೆ ಒಂದು ಅಂಕವಿರುತ್ತದೆ ಹಾಗೂ ನೀಡಿರುವ ಒ.ಎಂ.ಆರ್‌ನಲ್ಲಿ ಸರಿಯಾದ ಉತ್ತರವನ್ನು ಶೇಡ್ ಮಾಡುವುದು.

The questions from 1 to 35 are MCQ's. The most appropriate answer of each question carries one mark. Shade the correct answer in the given OMR.

ಪ್ರಶ್ನೆ ಸಂಖ್ಯೆ 36 ರಿಂದ 45 ರವರೆಗಿನ ಪ್ರಶ್ನೆಗಳು ವಿವರಣಾತ್ಮಕ ಪ್ರಶ್ನೆಗಳಾಗಿದ್ದು, ಉತ್ತರವನ್ನು ನೀಡಿರುವ ಪ್ರಶ್ನೋತ್ತರ ಪತ್ರಿಕೆಯಲ್ಲಿಯೇ ಬರೆಯಬೇಕು. ಹೆಚ್ಚುವರಿ ಹಾಳೆಗಳನ್ನು ನೀಡುವುದಿಲ್ಲ.

The questions from 36 to 45 are descriptive type. The answer should be written in the space provided in the question paper cum answer booklet. No additional sheet will be provided.

ಪ್ರ.ಸಂ. Q.No.	ನಿಗದಿತ ಅಂಕ Marks	ಗಳಿಸಿದ ಅಂಕ Marks Obt.	ಪ್ರ.ಸಂ. Q.No.	ನಿಗದಿತ ಅಂಕ Marks	ಗಳಿಸಿದ ಅಂಕ Marks Obt.
36	5		41	5	
37	5		42	5	
38	5		43	5	
39	5		44	5	
40	5		45	5	
ಒಟ್ಟು			ಒಟ್ಟು		

ಒಟ್ಟು ಪಡೆದ ಅಂಕಗಳು / Total Marks Obtained

ಒಟ್ಟು ಪಡೆದ ಅಂಕಗಳು (ಅಕ್ಷರಗಳಲ್ಲಿ) :

Total Marks Obtained (in words) \_\_\_\_\_

## ಅಭ್ಯರ್ಥಿಗಳಿಗೆ ಸೂಚನೆಗಳು / Instructions to Candidates

1. ಎಲ್ಲಾ ಪ್ರಶ್ನೆಗಳಿಗೆ ಉತ್ತರಿಸುವುದು ಕಡ್ಡಾಯ.  
Answering all the questions is compulsory.
2. ಎಲ್ಲಾ ಅಭ್ಯರ್ಥಿಗಳು ನೋಂದಣಿ ಸಂಖ್ಯೆಯನ್ನು ಪ್ರಶ್ನೋತ್ತರ ಪತ್ರಿಕೆಯಲ್ಲಿ ನೀಡಿರುವ ಜಾಗದಲ್ಲಿ ಕಡ್ಡಾಯವಾಗಿ ಬರೆಯಬೇಕು.  
All the candidates must enter their Register Number within the space provided in the question paper cum answer booklet.
3. ನೀಲಿ ಅಥವಾ ಕಪ್ಪು ಬಾಲ್ ಪಾಯಿಂಟ್ ಪೆನ್ನನ್ನು ಮಾತ್ರ ಉಪಯೋಗಿಸಬೇಕು.  
Use only blue or black ball point pen.
4. ಪರೀಕ್ಷಾ ಕೊಠಡಿಯೊಳಗೆ ಮೊಬೈಲ್ ಫೋನ್, ಕ್ಯಾಲ್ಕುಲೇಟರ್, Digital / Smart watch, ಪುಸ್ತಕ ಇತ್ಯಾದಿ ವಸ್ತುಗಳನ್ನು ನಿಷೇಧಿಸಿದೆ.  
Carrying Mobile Phones, Calculator, Digital / Smart watch, books and other materials inside the exam hall is strictly prohibited.
5. ಈ ಪ್ರಶ್ನೋತ್ತರ ಪತ್ರಿಕೆಯು ಒಟ್ಟು 85 ಅಂಕಗಳ 45 ಪ್ರಶ್ನೆಗಳನ್ನು ಒಳಗೊಂಡಿದೆ. ಪ್ರಶ್ನೆ ಸಂಖ್ಯೆ 1 ರಿಂದ 35 ಬಹು ಆಯ್ಕೆಯ ಪ್ರಶ್ನೆಗಳಾಗಿರುತ್ತವೆ (ಪ್ರತಿ ಪ್ರಶ್ನೆಗೆ ಒಂದು ಅಂಕ).  
ಪ್ರಶ್ನೆ ಸಂಖ್ಯೆ 36 ರಿಂದ 45 ವಿವರಣಾತ್ಮಕ ಪ್ರಶ್ನೆಗಳು (ಪ್ರತಿ ಪ್ರಶ್ನೆಗೆ 5 ಅಂಕಗಳು) ಆಗಿರುತ್ತವೆ.  
This question paper cum answer booklet contains 45 questions of 85 marks. Question number from 1 to 35 are of Multiple choice type (Carrying one mark each).  
Question number 36 to 45 are of Descriptive type (Each question carries 5 marks).
6. ಅಭ್ಯರ್ಥಿಗಳು ಪ್ರಶ್ನೆ ಸಂಖ್ಯೆ 1 ರಿಂದ 35 ರ ಉತ್ತರವನ್ನು ನೀಡಿರುವ ಓ.ಎಂ.ಆರ್‌ನಲ್ಲಿ ಶೇಡ್ ಮಾಡುವುದು.  
ಪ್ರಶ್ನೆ ಸಂಖ್ಯೆ 36 ರಿಂದ 45ರ ಉತ್ತರಗಳನ್ನು ನೀಡಿರುವ ಪ್ರಶ್ನೋತ್ತರ ಪತ್ರಿಕೆಯಲ್ಲಿಯೇ ಬರೆಯಲು ಸ್ಥಳಾವಕಾಶ ಕಲ್ಪಿಸಿದ್ದು, ಹೆಚ್ಚುವರಿ ಹಾಳೆಗಳನ್ನು ನೀಡಲಾಗುವುದಿಲ್ಲ.  
Candidates should shade the answer for question number 1 to 35 in the OMR sheet.  
Answers to question number from 36 to 45 should be written in the space provided in the question paper cum answer booklet. No additional sheet will be provided.
7. ಒ.ಎಂ.ಆರ್ ಹಾಳೆಯನ್ನು ಚಿತ್ತು ಮಾಡುವುದು, ಮಡಚುವುದು, ಹರಿಯುವುದು ಅಥವಾ ಸ್ಟೇಪಲ್ ಪಿನ್ ಮಾಡಬಾರದು.  
Do not overwrite, fold, tear, wrinkle or staple on OMR sheet.
8. ಒ.ಎಂ.ಆರ್‌ನಲ್ಲಿ ವೈಟ್ನರ್ ಬಳಸುವುದು, ಒಂದಕ್ಕಿಂತ ಹೆಚ್ಚಿನ ಉತ್ತರಗಳನ್ನು ಶೇಡ್ ಮಾಡಿದಲ್ಲಿ ಅಂತಹ ಉತ್ತರಗಳನ್ನು ಪರಿಗಣಿಸಲಾಗುವುದಿಲ್ಲ.  
Using whitener, shading more than one answers on the OMR sheet then such answers will not be considered.
9. ಅನುವಾದಿತ ಪ್ರಶ್ನೆಪತ್ರಿಕೆಗಳಲ್ಲಿ ಯಾವುದೇ ಸಮಸ್ಯೆಗಳು ಉದ್ಭವಿಸಿದ್ದಲ್ಲಿ ಪ್ರಶ್ನೆ ಪತ್ರಿಕೆಯ ಇಂಗ್ಲಿಷ್ ಆವೃತ್ತಿಯನ್ನೇ ಅಂತಿಮವೆಂದು ಪರಿಗಣಿಸಲಾಗುವುದು.  
English version of the question paper will be considered as final, in case of any dispute arising out of variation in translation version.

1. ಈ ಕೆಳಗಿನ ಹೇಳಿಕೆಗಳಿಗೆ ನಾಲ್ಕು ಆಯ್ಕೆಗಳನ್ನು ನೀಡಲಾಗಿದೆ. ಇವುಗಳಲ್ಲಿ ಅತ್ಯಂತ ಸೂಕ್ತವಾದ ಉತ್ತರವನ್ನು ಆಯ್ಕೆ ಮಾಡಿ, ಓ.ಎಂ.ಆರ್‌ನಲ್ಲಿ ಶೇಡ್ ಮಾಡಿರಿ.

35 × 1 = 35

**Each statement has four alternatives. Select the most appropriate answer and shade it in the OMR Sheet.**

1. ಶಿಕ್ಷಣ ಸಂಯೋಜಕರ 'ಹುದ್ದೆ'ಯು ಶಾಲೆಯಿಂದ ಹೊರಗುಳಿದ ಮಕ್ಕಳ ಸಂದರ್ಭದಲ್ಲಿ ಆಗುವ ಪ್ರಾಧಿಕಾರ :

- A. ಶಿಕ್ಷಣ ಪ್ರಾಧಿಕಾರ  
B. ಸ್ಥಳೀಯ ಪ್ರಾಧಿಕಾರ  
C. ಹಾಜರಾತಿ ಪ್ರಾಧಿಕಾರ  
D. ಕಲಿಕಾ ಪ್ರಾಧಿಕಾರ

**The 'Post' of Educational Co-ordinator in the case of out of school children becomes:**

- A. Education Authority  
B. Local Authority  
C. Attendance Authority  
D. Learning Authority

2. ಶಿಕ್ಷಣ ಸಂಯೋಜಕರ ಹುದ್ದೆಯ ಕರ್ತವ್ಯದ ಭೌಗೋಳಿಕ ವ್ಯಾಪ್ತಿ :

- A. ತಾಲ್ಲೂಕಿನ ಎಲ್ಲಾ ಶಾಲೆಗಳು  
B. ಕ್ಲಸ್ಟರ್‌ನ ಎಲ್ಲಾ ಶಾಲೆಗಳು  
C. ಹೋಬಳಿಯ ಎಲ್ಲಾ ಶಾಲೆಗಳು  
D. ಜಿಲ್ಲೆಯ ಎಲ್ಲಾ ಶಾಲೆಗಳು

**The geographical boundary of the duty of Educational Co-ordinator :**

- A. All the schools of the Taluk  
B. All the schools of the Cluster  
C. All the schools of the Hobli  
D. All the schools of the District

3. OOSC ಯ ಸರಿಯಾದ ವಿಸ್ತರಣಾ ರೂಪ :

- A. Out of Society Child  
B. Out of School Child  
C. Out of Scene Child  
D. Out of Sibling Child

**The correct expansion of OOSC :**

- A. Out of Society Child  
B. Out of School Child  
C. Out of Scene Child  
D. Out of Sibling Child

4. ಶಿಕ್ಷಣ ಸಂಯೋಜಕರ ಕಾರ್ಯವ್ಯಾಪ್ತಿಗೆ ಸಂಬಂಧಿಸಿದ ಸರಿಯಾದ ಪಟ್ಟಿ :

- A. ಶೈಕ್ಷಣಿಕ ಅಂಕಿ ಅಂಶ ಸಂಗ್ರಹ, ಶಾಲಾ ತಪಾಸಣೆ, ಶೈಕ್ಷಣಿಕ ಮಾರ್ಗದರ್ಶನ  
B. ಶೈಕ್ಷಣಿಕ ಅಂಕಿ ಅಂಶ ಸಂಗ್ರಹ, ಶಾಲಾಭೇಟಿ, CCA ನಿಯಮಾನುಸಾರ ಶಿಸ್ತು ಕ್ರಮ ವಹಿಸುವುದು  
C. ಶೈಕ್ಷಣಿಕ ಅಂಕಿ ಅಂಶ ಸಂಗ್ರಹ, ದಂಡ ಸಂಗ್ರಹ, ಶಾಲಾ ಭೇಟಿ  
D. ಶೈಕ್ಷಣಿಕ ಅಂಕಿ ಅಂಶ ಸಂಗ್ರಹ, ಪಠ್ಯಪುಸ್ತಕ ವಿತರಣೆ, ಶುಲ್ಕ ಸಂಗ್ರಹ

**The correct list related to the duties of Educational Co-ordinator :**

- A. Collection of educational statistics, School inspection, Educational guidance  
B. Collection of educational statistics, School visit, Taking disciplinary action according to CCA Rules  
C. Collection of educational statistics, Collection of fine, School visit  
D. Collection of educational statistics, text book distribution, fee collection

## K-04 A

5. ಶಿಕ್ಷಣ ಸಂಯೋಜಕರು ಮಾಸಿಕವಾಗಿ ಭೇಟಿ ನೀಡಬೇಕಾದ ಸಿ.ಆರ್.ಪಿ ಕೇಂದ್ರಗಳ ಸಂಖ್ಯೆ :

- A. 05 B. 03  
C. 02 D. 01

**The number of CRP centres an Educational Co-ordinator has to visit in a month :**

- A. 05 B. 03  
C. 02 D. 01

6. 'ಋತುಮಾನ ಆಧಾರಿತ ತಾತ್ಕಾಲಿಕ ವಸತಿ ಶಾಲೆಯನ್ನು ಶಿಕ್ಷಣ ಸಂಯೋಜಕರ ವ್ಯಾಪ್ತಿಯಲ್ಲಿ ಆರಂಭಿಸಲಾಗಿದೆ' ಈ ಶಾಲೆ ಸಂಬಂಧಿಸಿರುವುದು :

- A. ಕಿರಿಯ ಪ್ರಾಥಮಿಕ ಶಾಲಾ ಮಕ್ಕಳಿಗೆ B. ಹಿರಿಯ ಪ್ರಾಥಮಿಕ ಶಾಲಾ ಮಕ್ಕಳಿಗೆ  
C. ಶಾಲೆಯಿಂದ ಹೊರಗುಳಿದ ಮಕ್ಕಳಿಗೆ D. ಪ್ರೌಢಶಾಲಾ ಮಕ್ಕಳಿಗೆ

**The school related to 'Season based Temporary Residential School started in the range of Educational Co-ordinator' :**

- A. Lower primary school children B. Higher primary school children  
C. Out of school children D. High school children

SUKUMAR Kadin

7. SATS - ನ Login ಹೊಂದಿರುವವರ ಸರಿಯಾದ ಪಟ್ಟಿ :

- A. CRP, BRC, Student B. BEO, CRP, Parent  
C. DyPC, Parent, CRP D. DDPI, BEO, CRP

**The correct list who have SATS Login :**

- A. CRP, BRC, Student B. BEO, CRP, Parent  
C. DyPC, Parent, CRP D. DDPI, BEO, CRP

8. 'ಶಿಕ್ಷಣ ಸಂಯೋಜಕರು' ಹುದ್ದೆಯ ಸ್ವರೂಪದಂತೆ ಅದನ್ನು ವಿವರಿಸುವ ಸೂಕ್ತ ಪದ :

- A. ಗುಮಾಸ್ತರು B. ಶೈಕ್ಷಣಿಕ ಮಾರ್ಗದರ್ಶಕರು  
C. ಆಡಳಿತಾಧಿಕಾರಿ D. ಮುಖ್ಯ ಶಿಕ್ಷಕರು

**The suitable word that describes the post in perspective of 'Educational Co-ordinator' :**

- A. Clerk B. Educational Guide  
C. Administrator D. Headmaster

9. SATS - ಕುರಿತ ಸರಿಯಾದ ಹೇಳಿಕೆ :

- A. SATS ನಲ್ಲಿ ಎಲ್ಲರೂ ದತ್ತಾಂಶಗಳನ್ನು ಅಪ್‌ಲೋಡ್ ಮಾಡಬಹುದು.
- B. SATS ನಲ್ಲಿ ಜಿಲ್ಲಾ ಹಂತದ ಅಧಿಕಾರಿಗಳು ಮಾತ್ರ ದತ್ತಾಂಶಗಳನ್ನು ಅಪ್‌ಲೋಡ್ ಮಾಡಬಹುದು.
- C. SATS ನಲ್ಲಿ Login - ID ಮತ್ತು ಪಾಸ್‌ವರ್ಡ್ ಹೊಂದಿರುವವರು ಮಾತ್ರ ದತ್ತಾಂಶಗಳನ್ನು ಅಪ್‌ಲೋಡ್ ಮಾಡಬಹುದು.
- D. SATS ನಲ್ಲಿ ರಾಜ್ಯ ಹಂತದ ಅಧಿಕಾರಿಗಳು ಮಾತ್ರ ದತ್ತಾಂಶಗಳನ್ನು ಅಪ್‌ಲೋಡ್ ಮಾಡಬಹುದು.

**The correct statement regarding SATS :**

- A. Everyone can upload data in SATS.
- B. Only district level officers can upload data in SATS.
- C. Only those who have login ID and password can upload data in SATS.
- D. Only state level officers can upload data in SATS.

10. SATS - ನ ಸಾಮಾನ್ಯ ಮಾಹಿತಿಯನ್ನು ಪಡೆಯಲು ಸಾಧ್ಯವಿರುವವರು :

- A. ಯಾರು ಬೇಕಾದರೂ ಪಡೆಯಬಹುದು.
- B. ಶಿಕ್ಷಣ ಇಲಾಖೆಯವರು ಮಾತ್ರ ಪಡೆಯಬಹುದು.
- C. ರಾಜ್ಯ ಸರ್ಕಾರದ ವಿವಿಧ ಇಲಾಖೆಯವರು ಮಾತ್ರ ಪಡೆಯಬಹುದು.
- D. ಪೋಷಕರು ಮತ್ತು ಶಿಕ್ಷಕರು ಮಾತ್ರ ಪಡೆಯಬಹುದು.

**The person who can get general information of SATS :**

- A. Any one can get.
- B. Only education department persons can get.
- C. Only different department persons of State Government can get.
- D. Only parents and teachers can get.

11. 2019-20ನೇ ಸಾಲಿನಲ್ಲಿ ಪ್ರಾಥಮಿಕ ಶಾಲಾ ಶಿಕ್ಷಕರಿಗೆ ನೀಡುತ್ತಿರುವ ತರಬೇತಿಯ ಸಾಮಾನ್ಯ ಅವಧಿ :

- A. 5 ದಿನಗಳ ತರಬೇತಿ + 5 ದಿನಗಳ ಶೇರಿಂಗ್ ಕಾರ್ಯಾಗಾರ
- B. 10 ದಿನಗಳ ತರಬೇತಿ
- C. 30 ದಿನಗಳ ತರಬೇತಿ
- D. 5 ದಿನಗಳ ಶೇರಿಂಗ್ ಕಾರ್ಯಾಗಾರ + 10 ದಿನಗಳ ತರಬೇತಿ.

**The general duration of training given to primary school teachers in the year 2019-20 :**

- A. 5 days training + 5 days sharing workshop
- B. 10 days training
- C. 30 days training
- D. 5 days sharing workshop + 10 days training

## K-04 A

12. 2019-20ನೇ ಸಾಲಿನಲ್ಲಿ ಪ್ರಾರಂಭವಾದ 'ಆಂಗ್ಲ ಮಾಧ್ಯಮ' ಪ್ರಾಥಮಿಕ ಶಾಲೆಗಳ ಶಿಕ್ಷಕರಿಗೆ ನೀಡಿದ ತರಬೇತಿ :
- A. ELEP  
B. EMTIP  
C. BRITISH COUNCIL  
D. SPOKEN ENGLISH

**The training given to teachers of 'English Medium' Primary Schools started in the year 2019-20:**

- A. ELEP  
B. EMTIP  
C. BRITISH COUNCIL  
D. SPOKEN ENGLISH
13. 2019-20ನೇ ಸಾಲಿನಲ್ಲಿ ಅನುಷ್ಠಾನಗೊಳ್ಳುತ್ತಿರುವ ತರಬೇತಿ ಹಾಗೂ ತರಗತಿಗಳ ಸರಿಯಾದ ಪಟ್ಟಿ :
- A. TALP - ಪ್ರಾಥಮಿಕ ಶಾಲಾ ಶಿಕ್ಷಕರು  
B. ಗುರುಚೇತನ - ಪ್ರೌಢಶಾಲಾ ಶಿಕ್ಷಕರು  
C. ಓದು ಕರ್ನಾಟಕ - 4 ಮತ್ತು 5ನೇ ತರಗತಿ ಶಿಕ್ಷಕರು  
D. ಗಣಿತ ಕಲಿಕಾ ಆಂದೋಲನ - 9 ಮತ್ತು 10ನೇ ತರಗತಿ ಶಿಕ್ಷಕರು

**The correct list of trainings being implemented in the year 2019-20 and their classes :**

- A. TALP - Primary school teachers  
B. Guruchetana - High school teachers  
C. Oodu Karnataka - 4th and 5th Standard teachers  
D. Ganitha Kalika Andolana - 9th and 10th standard teachers
14. 'ಗುರುಚೇತನ' - ತರಬೇತಿಗಳು :
- A. ಶಿಕ್ಷಕರ ವೃತ್ತಿಪರ ಅಭಿವೃದ್ಧಿ ಕಾರ್ಯಾಗಾರಗಳು  
B. ಶಿಕ್ಷಕರ ಸಮಾಲೋಚನಾ ಕಾರ್ಯಾಗಾರಗಳು  
C. ಮುಖ್ಯ ಶಿಕ್ಷಕರ ನಾಯಕತ್ವ ವರ್ಧನಾ ತರಬೇತಿಗಳು  
D. ಮುಖ್ಯ ಶಿಕ್ಷಕರ ಕಾರ್ಯ ಅವಲೋಕನಾ ತರಬೇತಿಗಳು

**'Guruchetana' trainings are :**

- A. Teachers professional development workshops  
B. Teachers sharing (Review) workshops  
C. Head Masters leadership building trainings  
D. Head masters work observation trainings
15. 'ಗುರುಚೇತನ' ತರಬೇತಿ ಮಾಡ್ಯೂಲ್‌ಗಳು ಲಭ್ಯವಿರುವ ಮಾಧ್ಯಮಗಳ ಪಟ್ಟಿ :
- A. ಕನ್ನಡ, ಉರ್ದು, ತಮಿಳು  
B. ಕನ್ನಡ, ಇಂಗ್ಲಿಷ್, ಉರ್ದು  
C. ಕನ್ನಡ, ಮರಾಠಿ, ಉರ್ದು  
D. ಕನ್ನಡ, ತೆಲುಗು, ಉರ್ದು

**The list of mediums in which 'Guruchetana' Training modules are available is :**

- A. Kannada, Urdu, Tamil  
B. Kannada, English, Urdu  
C. Kannada, Marati, Urdu  
D. Kannada, Telugu, Urdu

16. ಕರ್ನಾಟಕ ರಾಜ್ಯದಲ್ಲಿರುವ ಶೈಕ್ಷಣಿಕ ಅಂಗೀಕರಣ ಸಂಸ್ಥೆ :

- A. KSQAAC  
B. KSEEB  
C. DSERT  
D. DIET

The educational accreditation institute in Karnataka state is :

- A. KSQAAC  
B. KSEEB  
C. DSERT  
D. DIET

17. NTSE ಪರೀಕ್ಷೆಯ ತಯಾರಿಗಾಗಿ DSERT 2019-20ರಲ್ಲಿ ಪ್ರಚಾರ ಪಡಿಸಿದ ಕಾರ್ಯಕ್ರಮ :

- A. ಸ್ಪರ್ಧಾಕಲಿ  
B. ನಲಿ-ಕಲಿ  
C. ಕಲಿ-ನಲಿ  
D. ಗುರುಚೇತನ

The programme promoted by DSERT in the year 2019-20 for NTSE preparation is :

- A. Spardha Kali  
B. Nali - Kali  
C. Kali-Nali  
D. Guruchetana

18. ವಿದ್ಯಾರ್ಥಿಗಳ ಆಂತರಿಕ ಪ್ರೇರಣೆ ಹೆಚ್ಚಿಸಲು ರಾಜ್ಯದಲ್ಲಿ ಅನುಷ್ಠಾನಗೊಂಡ 'ಪ್ರೇರಣಾ' ಕಾರ್ಯಕ್ರಮಕ್ಕೆ ಸಂಬಂಧಿಸಿದ ಪದ :

- A. Star  
B. Exam  
C. Cash  
D. Tour

The word related to 'Prerana' programme which was implemented in the state to increase the internal motivation of students :

- A. Star  
B. Exam  
C. Cash  
D. Tour

19. ಕಲಿಕೆಯಲ್ಲಿನ ಅರ್ಥಪೂರ್ಣವಾದ ಅತ್ಯಂತ ಸಣ್ಣ ಘಟಕ :

- A. ಪಠ್ಯಪುಸ್ತಕ  
B. ಕ್ಷೇತ್ರ  
C. ವಿಷಯ  
D. ಸಾಮರ್ಥ್ಯ

The smallest meaningful unit of learning :

- A. Text book  
B. Area  
C. Subject  
D. Competency

20. ಕಲಿಕೆಯ ಗುಣಮಟ್ಟ ಏಕಪ್ರಕಾರವಾದುದು. ಎಲ್ಲಾ ಕಲಿಕೆಯ ಅಂಶಗಳನ್ನು ಮೌಲ್ಯಾಂಕನಗೊಳಿಸುವುದು ಕಷ್ಟಸಾಧ್ಯ - ಈ ಹೇಳಿಕೆಗಳು ಕ್ರಮವಾಗಿ :

- A. ತಪ್ಪು ಹಾಗೂ ಸರಿ  
B. ಸರಿ ಹಾಗೂ ತಪ್ಪು  
C. ಸರಿ ಹಾಗೂ ಸರಿ  
D. ತಪ್ಪು ಹಾಗೂ ತಪ್ಪು

The quality of learning is uniform. It is difficult to assess all the learning aspects - The statements respectively are :

- A. Wrong and right  
B. Right and wrong  
C. Right and right  
D. Wrong and wrong

## K-04 A

21. 5) 15 (3)  
 $\frac{15}{00}$  ಇದರಲ್ಲಿನ ಅಂಶಗಳನ್ನು ವಿವರಿಸುವ ಸರಿಯಾದ ಪಟ್ಟಿ :

- A. ಭಾಜ್ಯ-3, ಭಾಜಕ-15, ಭಾಗಲಬ್ಧ-5, ಶೇಷ-0      B. ಭಾಜ್ಯ-5, ಭಾಜಕ-15, ಭಾಗಲಬ್ಧ-3, ಶೇಷ-0  
C. ಭಾಜ್ಯ-15, ಭಾಜಕ-5, ಭಾಗಲಬ್ಧ-3, ಶೇಷ-0      D. ಭಾಜ್ಯ-0, ಭಾಜಕ-3, ಭಾಗಲಬ್ಧ-15, ಶೇಷ-5

5) 15 (3)  
 $\frac{15}{00}$  The correct list that describes the points in this problem :

- A. Dividend-3, Divisor-15, Quotient -5, Remainder-0  
B. Dividend-5, Divisor-15, Quotient -3, Remainder-0  
C. Dividend-15, Divisor-5, Quotient -3, Remainder-0  
D. Dividend-0, Divisor-3, Quotient -15, Remainder-5

22.  $2 \times \frac{1}{2}$  ಈ ಭಿನ್ನರಾಶಿಗಳ ಗುಣಲಬ್ಧದ ಚಿತ್ರ :

- A.       B.   
C.       D. 

$2 \times \frac{1}{2}$  The diagram of the product of these fractions :

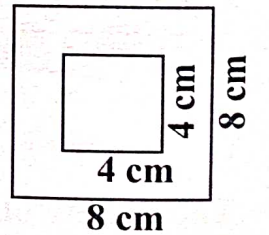
- A.       B.   
C.       D. 

23. ಈ ಮುಂದಿನ ಚಿತ್ರದಲ್ಲಿ ಒಳಗಿನ ಚೌಕವನ್ನು ಕತ್ತರಿಸಿ ತೆಗೆದರೆ ಉಳಿಯುವ ಆಕೃತಿಯ ಕ್ಷೇತ್ರ ಫಲ :

- A. 64 ಚ.ಸಂ.ಮೀ.      B. 16 ಚ.ಸಂ.ಮೀ  
C. 48 ಚ.ಸಂ.ಮೀ.      D. 12 ಚ.ಸಂ.ಮೀ.

The area of the remaining figure when the inner square is cut and removed from the given diagram :

- A. 64 Sq. cm      B. 16 Sq. cm  
C. 48 Sq. cm      D. 12 Sq. cm





24. ಕೊಟ್ಟಿರುವ ಆಕೃತಿಯ ಸುತ್ತಳತೆ :

A.  $6x$

B.  $4x$

C.  $2x^2$

D.  $4x^2$

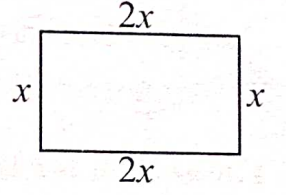
The perimeter of the given figure :

A.  $6x$

B.  $4x$

C.  $2x^2$

D.  $4x^2$



25. ಒಂದು ವೃತ್ತದ ವ್ಯಾಸ 8.4 ಸೆ.ಮೀ. ಆದರೆ ವೃತ್ತದ ಪರಿಧಿ :

A. 16.8 ಸೆ.ಮೀ

B. 4.8 ಸೆ.ಮೀ.

C. 26.4 ಸೆ.ಮೀ.

D. 24.6 ಸೆ.ಮೀ.

If the diameter of a circle is 8.4cm, then its circumference is :


A. 16.8 cm

B. 4.8 cm

C. 26.4 cm

D. 24.6 cm

26. ಈ ಮುಂದಿನ ಚಿತ್ರವು ಸೂಚಿಸುತ್ತಿರುವ ಗ್ರಹಣ ಮತ್ತು ಅದು ನಡೆಯುವ ದಿನ :



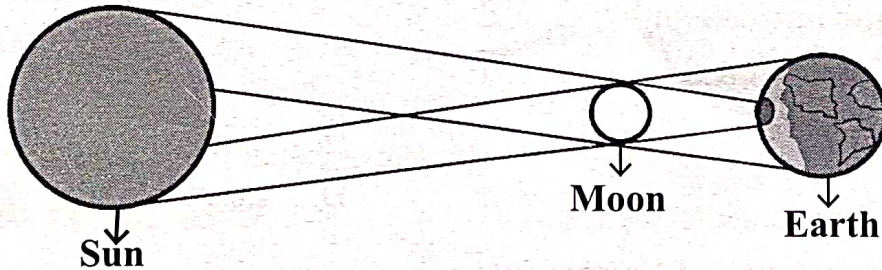
A. ಚಂದ್ರ ಗ್ರಹಣ ಮತ್ತು ಅಮಾವಾಸ್ಯೆ

B. ಚಂದ್ರ ಗ್ರಹಣ ಮತ್ತು ಹುಣ್ಣಿಮೆ

C. ಸೂರ್ಯ ಗ್ರಹಣ ಮತ್ತು ಹುಣ್ಣಿಮೆ

D. ಸೂರ್ಯ ಗ್ರಹಣ ಮತ್ತು ಅಮಾವಾಸ್ಯೆ

The eclipse and the day it happens indicated by the following diagram :



A. Lunar eclipse and New Moon day

B. Lunar eclipse and Full Moon day

C. Solar eclipse and Full Moon day

D. Solar eclipse and New Moon day

## K-04 A

27. ಅಡುಗೆ ಮಾಡುವಾಗ ಮುಚ್ಚಿರುವ ತಟ್ಟೆಗಳು ಅಲುಗಾಡಲು ಕಾರಣ :

- A. ಪಾತ್ರೆಯೊಳಗೆ ತರಕಾರಿ ಇರುವುದರಿಂದ
- B. ಪಾತ್ರೆಯೊಳಗಿನ ಗಾಳಿ ಶಾಖದಿಂದ ವಿಕಾಸವಾಗುವುದರಿಂದ
- C. ಪಾತ್ರೆಯೊಳಗಿನ ತರಕಾರಿ ಶಾಖದಿಂದ ಬೇಯುವುದರಿಂದ
- D. ಪಾತ್ರೆಯೊಳಗಿನ ನೀರು ಸಂಕುಚಿತಗೊಳ್ಳುವುದರಿಂದ

**The reason for the shaking of closed plate while cooking :**

- A. Vegetables in the vessel
- B. The expansion of air in the vessel
- C. The cooking of vegetables due to the heat
- D. The compression of water in the vessel

28. ಈ ಕೆಳಗಿನವುಗಳಲ್ಲಿ ಸರಿಯಾದ ಜೋಡಿ :

- A. ಅಮೀಬಾ - ಮಿಥ್ಯಾಪಾದ
- B. ಎರೆಹುಳ - ಸ್ಪರ್ಷಾಂಗ
- C. ಹೈಡ್ರಾ - ಜೀರ್ಣನಾಳ
- D. ಅಕಶೇರುಕ - ಬೆನ್ನುಮೂಳೆ

**The right pair among the following :**

- A. Amoeba - False foot
- B. Earthworm - Sense organ
- C. Hydra - Digestive Canal
- D. Invertebrate - Spinal cord

29. ನೀರಿನ ಕುದಿಯುವ ಬಿಂದು :

- A. 100°C
- B. 90°C
- C. 110°C
- D. 27°C

**The boiling point of water :**

- A. 100°C
- B. 90°C
- C. 110°C
- D. 27°C

30. ಎರೆಹುಳುವಿನ ವಿಸರ್ಜನಾಂಗ :

- A. ನೆಫ್ರೀಡಿಯಾ
- B. ನೆಫ್ರಾನ್ಸ್
- C. ಎರೆಡಿಯಾ
- D. ಎಫ್ರಾನ್ಸ್

**The excretory organ of Earthworm :**

- A. Nephridia
- B. Nephrons
- C. Eradia
- D. Ephrons

31 ಪ್ರಾಚೀನ ಜಗತ್ತಿನ ಮೊದಲ ನಾಗರಿಕತೆ :

- A. ಚೀನಾ  
B. ಈಜಿಪ್ಟ್  
C. ಗ್ರೀಕ್  
D. ಹರಪ್ಪ

**The first civilization of ancient world :**

- A. China  
B. Egypt  
C. Greek  
D. Harappa

32 ಸಂವಿಧಾನ ಸಭೆಯಲ್ಲಿ ಭಾರತದ ರಾಷ್ಟ್ರಗೀತೆ ಜನ ಗಣ ಮನವನ್ನು ಅಂಗೀಕರಿಸಿದ್ದು :

- A. 24 ಜನವರಿ 1950 ರಂದು  
B. 26 ಜನವರಿ 1950 ರಂದು  
C. 15 ಆಗಸ್ಟ್ 1947 ರಂದು  
D. 26 ನವೆಂಬರ್ 1949 ರಂದು

**The National Anthem Jana Gana Mana was accepted by Constituent Assembly on :**

- A. 24th January 1950  
B. 26th January 1950  
C. 15th August 1947  
D. 26th November 1949

33 ನಕ್ಷಾ ಸೂಚಿಗೆ ಸಂಬಂಧಿಸಿದಂತೆ ಈ ಕೆಳಗಿನವುಗಳಲ್ಲಿ ಸರಿಯಾಗಿ ಹೊಂದಾಣಿಕೆಯಾಗುವ ಚೋಡಿಯನ್ನು ಗುರುತಿಸಿ :

- A. ○ - ದೊಡ್ಡ ನಗರ  
B. ⊙ - ಸಣ್ಣ ನಗರ  
C. ● - ರಾಷ್ಟ್ರೀಯ ರಾಜಧಾನಿ  
D. ◻ - ರಾಜ್ಯದ ರಾಜಧಾನಿ

**Choose the correct pair related to the Map Index :**

- A. ○ - Big City  
B. ⊙ - Small City  
C. ● - National Capital  
D. ◻ - State Capital

34 ತೃತೀಯ ವಲಯದ ಆರ್ಥಿಕ ಚಟುವಟಿಕೆಗಳಿಗೆ ಉದಾಹರಣೆ :

- A. ಮೀನುಗಾರಿಕೆ  
B. ಕಟ್ಟಡ ನಿರ್ಮಾಣ  
C. ಹೋಟೆಲ್‌ಗಳು ಮತ್ತು ರೆಸ್ಟೋರೆಂಟ್‌ಗಳು  
D. ವಿದ್ಯುತ್ ಉತ್ಪಾದನೆ

**An example for economic activity of Tertiary sector is :**

- A. Fishery  
B. Building construction  
C. Hotel and restaurants  
D. Power generation

35 'ಕರ್ನಾಟಕದ ಕುಲ ಪುರೋಹಿತ' ಎಂಬ ಬಿರುದನ್ನು ಪಡೆದವರು :

- A. ಹುಯಿಲಗೋಳ ನಾರಾಯಣರಾವ್  
B. ಆಲೂರು ವೆಂಕಟರಾಯರು  
C. ಕುವೆಂಪು  
D. ಡೆಪ್ಯುಟಿ ಚೆನ್ನಬಸಪ್ಪ

**The person who got the title "Karnataka Kula Purohitha" is**

- A. Huyilagola Narayana Rao  
B. Alur Venkataraya  
C. Kuvempu  
D. Deputy Channabasappa

**K-04 A**

**II.** ಈ ಕೆಳಗಿನ ಪ್ರಶ್ನೆಗಳಿಗೆ ಸೂಕ್ತವಾದ ವಿವರಣಾತ್ಮಕ ಉತ್ತರವನ್ನು ಬರೆಯಿರಿ. (ಪ್ರಶ್ನೆ ಸಂಖ್ಯೆ 36 ರಿಂದ 45) 10×5=50  
**Write the suitable descriptive answers for the following questions. (Question No.36 to 45)**

**36.** 'ಶಿಕ್ಷಣ ಸಂಯೋಜಕರ' ಹುದ್ದೆಯ ವ್ಯಾಪ್ತಿಯನ್ನು ವಿವರಿಸಿ. ಅವರ ಪ್ರಮುಖ ಕರ್ತವ್ಯಗಳನ್ನು ಪಟ್ಟಿಮಾಡಿ.

**Explain the scope of the 'Educational Co-ordinator' Post. List out the prominent functions of them.**

SUKUMAR Kadinakonda

## K-04 A

37. ಶಿಕ್ಷಣ ಸಂಯೋಜಕರಾಗಿ ತಮ್ಮ ವ್ಯಾಪ್ತಿಯ ಶಾಲೆಯ ಮುಖ್ಯಶಿಕ್ಷಕರಿಗೆ ಶಿಕ್ಷಕರ ಸಭೆ ಕರೆಯಲು 'ಸೂಚನಾ ಪತ್ರ'ವನ್ನು ತಯಾರಿಸಿ.

**Prepare a 'meeting notice' to call for the teachers meeting to the headmasters of your range as an Educational Co-ordinator.**

SUKUMAR Kadinakonda

**K-04 A**

38. CWSN ಮಕ್ಕಳೆಂದರೆ ಯಾರು? ಅವರಿಗೆ ಶಾಲೆಯ ಮುಖಾಂತರ ದೊರೆಯುವ ಪ್ರಮುಖ ಸೌಲಭ್ಯಗಳನ್ನು ಪಟ್ಟಿಮಾಡಿ.  
Who are CWSN Children? List out the important facilities given to them through the school.

SUKUMAR Kadinakonda

## K-04 A

39. KGBV ಶಾಲೆಗಳಲ್ಲಿ ದಾಖಲಾಗುವವರು ಯಾರು? ಅವರಿಗೆ ಅಲ್ಲಿ ದೊರೆಯುವ ಪ್ರಮುಖ ಸೌಲಭ್ಯಗಳನ್ನು ವಿವರಿಸಿ.  
Who are admitted in KGBV Schools? Explain the important facilities available for them in such schools.

SUKUMAR Kadinakonda

**K-04 A**

40. SATS ನಲದ ರಾಜ್ಯಾಡಳಲತಕ್ಕೆ ಆಗುವ ಅನುಕೂಲಗಲನ್ನು ಪಟ್ಟಲಮಾಡಿ.

**List out the advantages for state administration through SATS.**

SUKUMAR Kadinakonda



## K-04 A

41. ಮಧ್ಯಾಹ್ನ ಉಪಹಾರ ಯೋಜನೆಗೆ ಸಂಬಂಧಿಸಿದಂತೆ ರಾಜ್ಯದಲ್ಲಿ ಅನುಸರಿಸಲ್ಪಡುತ್ತಿರುವ ಉತ್ತಮ ಹತ್ತು ಆಚರಣೆಗಳನ್ನು ಪಟ್ಟಿ ಮಾಡಿ.

**List the best practices followed in the state related to Mid-day Meals scheme.**

SUKUMAR Kadinakonda

**K-04 A**

42. ಸೂತ್ರ ಉಪಯೋಗಿಸಿ ವಿಸ್ತರಿಸಿ  $(2x + 3)(2x + 5)$ .

Expand using formula  $(2x+3)(2x+5)$ .

SUKUMAR Kadinakonda

## K-04 A

43. 'ಜಲಮಾಲಿನ್ಯ'ವೆಂದರೇನು? ಜಲಮಾಲಿನ್ಯವನ್ನು ನಿಯಂತ್ರಿಸುವಲ್ಲಿ ವಿದ್ಯಾರ್ಥಿಗಳಿಗೆ ಅರಿವನ್ನು ಹೇಗೆ ಮೂಡಿಸುವಿರಿ? ಯಾವುದಾದರೂ 4 ಕ್ರಮಗಳನ್ನು ಸೂಚಿಸಿ.

**What is meant by 'Water Pollution'? How will you develop awareness among students to control water pollution? Mention any 4 measures.**

SUKUMAR Kadinakonda

## K-04 A

44. ಯಾವುದಾದರೂ ಎರಡು ರಾಷ್ಟ್ರಮಟ್ಟದ ಮೌಲ್ಯಾಂಕನ ಪರೀಕ್ಷೆಗಳನ್ನು ಹೆಸರಿಸಿ. ಅವುಗಳಲ್ಲಿ ಯಾವುದಾದರೂ ಒಂದು ಪರೀಕ್ಷೆಯ ಕುರಿತು ವಿವರಿಸಿ.

Name any two National level assessment examinations. Explain any one of the examinations among those.

SUKUMAR Kadinakonda

**K-04 A**

45. ಭಾರತದಲ್ಲಿ ಬ್ರಿಟಿಷ್ ಶಿಕ್ಷಣದ ಪರಿಣಾಮಗಳನ್ನು ವಿವರಿಸಿ.

**Explain the effects of British education in India.**

SUKUMAR Kadinakonda