

ಕರ್ನಾಟಕ ಸರ್ಕಾರ
Government of Karnataka
ಸಾರ್ವಜನಿಕ ಶಿಕ್ಷಣ ಇಲಾಖೆ
Department of Public Instruction

ಕರ್ನಾಟಕ ಶಾಲಾ ಗುಣಮಟ್ಟ ಮೌಲ್ಯಾಂಕನ ಮತ್ತು ಅಂಗೀಕರಣ ಪರಿಷತ್ತು
ಕ.ಪ್ರೌ.ಶಿ.ಪ.ಮಂಡಳಿ, ಮಲ್ಲೇಶ್ವರಂ, ಬೆಂಗಳೂರು-560003.

Karnataka School Quality Assessment and Accreditation Council
K.S.E.E.B, Malleshwaram, Bengaluru-560003.

ಸಿ.ಆರ್.ಪಿ/ಬಿ.ಆರ್.ಪಿ/ಇ.ಸಿ.ಟಿ (ಪ್ರಾಥಮಿಕ ಶಾಲಾ ಶಿಕ್ಷಕರ ತತ್ಸಮಾನ ಶ್ರೇಣಿ) ಲಿಖಿತ ಪರೀಕ್ಷೆ - 2020, ಪತ್ರಿಕೆ - 1
CRP/BRP/ECO (Primary School Teacher Cadre) Examination - 2020, Paper - 1

ಅಭ್ಯರ್ಥಿಯ ನೋಂದಣಿ ಸಂಖ್ಯೆ / Candidate's Register Number

--	--	--	--	--	--	--	--	--	--

ವರ್ಷನ್ A
Version

ಸಮಯ: 2 ಗಂಟೆಗಳು
Time : 2 Hours

ಮಾಧ್ಯಮ : ಕನ್ನಡ / ಆಂಗ್ಲ
Medium : Kannada / English

ಗರಿಷ್ಠ ಅಂಕಗಳು: 85
Maximum Marks : 85

ಅಭ್ಯರ್ಥಿಗಳಿಗೆ ಸೂಚನೆಗಳು / Instructions to Candidates

- ಎಲ್ಲಾ ಪ್ರಶ್ನೆಗಳಿಗೆ ಉತ್ತರಿಸುವುದು ಕಡ್ಡಾಯ. ಪ್ರತಿ ಪ್ರಶ್ನೆಯ ಅತ್ಯಂತ ಸೂಕ್ತವಾದ ಉತ್ತರಕ್ಕೆ ಒಂದು ಅಂಕವಿರುತ್ತದೆ.
Answering all the questions is compulsory. The most appropriate answer of each question carries one mark.
- ಒ.ಎಂ.ಆರ್‌ನಲ್ಲಿ ನೋಂದಣಿ ಸಂಖ್ಯೆಯನ್ನು ಕಡ್ಡಾಯವಾಗಿ ಬರೆಯಬೇಕು.
Must enter Register number within the space provided in the OMR.
- ಪ್ರತಿ ಬಹು ಆಯ್ಕೆ ಪ್ರಶ್ನೆಗೆ ಸರಿ ಉತ್ತರವನ್ನು ಒ.ಎಂ.ಆರ್‌ನಲ್ಲಿ ನೀಡಲಾದ ಸೂಚನೆಯಂತೆ ಶೇಡ್ ಮಾಡಬೇಕು.
The correct answer for each MCQ to be shaded in the OMR as instructed.
- ನೀಲಿ ಅಥವಾ ಕಪ್ಪು ಬಾಲ್ ಪಾಯಿಂಟ್ ಪೆನ್‌ನ್ನು ಮಾತ್ರ ಉಪಯೋಗಿಸಬೇಕು.
Use only blue or black ball point pen.
- ಪರೀಕ್ಷಾ ಕೊಠಡಿಯೊಳಗೆ ಮೊಬೈಲ್ ಫೋನ್, ಕ್ಯಾಲ್ಕುಲೇಟರ್, Digital / Smart watch, ಪುಸ್ತಕ ಇತ್ಯಾದಿ ವಸ್ತುಗಳನ್ನು ನಿಷೇಧಿಸಿದೆ.
Mobile Phones, Calculator, Digital / Smart watch, books and other materials inside the exam hall is strictly prohibited.
- ಒ.ಎಂ.ಆರ್ ಹಾಳೆಯನ್ನು ಚಿತ್ತು ಮಾಡುವುದು, ಮಡಚುವುದು, ಹರಿಯುವುದು ಅಥವಾ ಸ್ಟೇಪಲ್ ಪಿನ್ ಮಾಡಬಾರದು.
Do not overwrite, fold, tear, wrinkle or staple on OMR sheet
- ಒ.ಎಂ.ಆರ್‌ನಲ್ಲಿ ವೈಟ್‌ನರ್ ಬಳಸುವುದು, ಒಂದಕ್ಕಿಂತ ಹೆಚ್ಚಿನ ಉತ್ತರಗಳನ್ನು ಶೇಡ್ ಮಾಡಿದಲ್ಲಿ ಅಂತಹ ಉತ್ತರಗಳನ್ನು ಪರಿಗಣಿಸಲಾಗುವುದಿಲ್ಲ.
Using whitener, shading more than one answers on the OMR sheet then such answers will not be considered.
- ಅನುವಾದಿತ ಪ್ರಶ್ನೆಪತ್ರಿಕೆಗಳಲ್ಲಿ ಯಾವುದೇ ಸಮಸ್ಯೆಗಳು ಉದ್ಭವಿಸಿದಲ್ಲಿ ಪ್ರಶ್ನೆ ಪತ್ರಿಕೆಯ ಇಂಗ್ಲಿಷ್ ಆವೃತ್ತಿಯನ್ನೇ ಅಂತಿಮವೆಂದು ಪರಿಗಣಿಸಲಾಗುವುದು.
English version of the question paper will be considered as final, in case of any dispute arising out of variation in translation version.

K-01 A

1. 'ಕನಸು ಮತ್ತು ಸಂದೇಶ' ಗದ್ಯಭಾಗವನ್ನು ಎ.ಪಿ.ಜಿ. ಅಬ್ದುಲ್ ಕಲಾಂ ರವರ ಈ ಪುಸ್ತಕದಿಂದ ತೆಗೆದುಕೊಳ್ಳಲಾಗಿದೆ :
 - A. ಜೀವ ಉಳಿಸುವ ಮರಗಳು
 - B. ಯತುಮಾನ
 - C. ಪ್ರತಿ ಸ್ಪಂದನ
 - D. ಪ್ರಜ್ವಲಿತ ದೀಪಗಳು
2. 'ಕಾಡಿನ ಜೀವಿಗಳಿಗೆ ನೀರಿಲ್ಲ ಮಳೆರಾಯ ಬೇಗ ಬಾ, ಮಳೆ ತಾ' ಎಂದು ಹಾರೈಸುವ ಹಾಡೇ ತಾರ್ಲೆಕುಣಿತ. ಈ ಹಾಡಿನಲ್ಲಿ ಬೆಳತನಕ ಹಾಡಬಲ್ಲ ಸಾಹಿತ್ಯವಿದೆ. ಜನಜೀವನದ ಚಿತ್ರಣವಿದೆ. ಈ ವಾಕ್ಯವೃಂದದಲ್ಲಿರುವ 'ತಾರ್ಲೆಕುಣಿತ' ಎಂದರೆ :
 - A. ಮಳೆ ಬಾರದಿದ್ದಾಗ ಹಾಲಕ್ಕೆ ಒಕ್ಕಲಗಿತ್ತಿಯರು ಮಳೆಗಾಗಿ ದೇವರನ್ನು ಪ್ರಾರ್ಥಿಸುವ ವಿಶಿಷ್ಟ ನರ್ತನ.
 - B. ಮಳೆ ಜೋರಾಗಿ ಬಂದಾಗ ಹಾಲಕ್ಕೆ ಒಕ್ಕಲಗಿತ್ತಿಯರು ಮಳೆ ನಿಲ್ಲಲು ದೇವರನ್ನು ಪ್ರಾರ್ಥಿಸುವ ವಿಶಿಷ್ಟ ನರ್ತನ.
 - C. ಮಳೆ ಬಾರದಿದ್ದಾಗ ಹಾಲಕ್ಕೆ ಒಕ್ಕಲಗಿತ್ತಿಯರು ತಮ್ಮ ಸ್ವಾರ್ಥಕ್ಕಾಗಿ ದೇವರನ್ನು ಪ್ರಾರ್ಥಿಸುವ ವಿಶಿಷ್ಟ ನರ್ತನ.
 - D. ಮಳೆ ಬರಲು ಹಾಲಕ್ಕೆ ಒಕ್ಕಲಗಿತ್ತಿಯರು ದೇವರನ್ನು ಟೀಕಿಸಿ ಪ್ರಾರ್ಥಿಸುವ ನರ್ತನ.
3. "ಕರಿಯನಿತ್ತಡೆ ಒಲ್ಲೆ, ಸಿರಿಯನಿತ್ತಡೆ ಒಲ್ಲೆ
ಹಿರಿದಪ್ಪ ರಾಜ್ಯವನಿತ್ತಡೆ ಒಲ್ಲೆ" ಈ ವಚನದ ಕರ್ತೃ:
 - A. ಬಸವಣ್ಣ
 - B. ಅಕ್ಕಮಹಾದೇವಿ
 - C. ಜೇಡರ ದಾಸಿಮಯ್ಯ
 - D. ಅಲ್ಲಮ ಪ್ರಭುದೇವ
4. "ಈತನಾರು ತಾತ, ಇಲ್ಲಿ ನಿಂತು ನೋಡುತ್ತಿರುವನು, ಇಂದ್ರಗಿರಿಯ ನೆತ್ತಿಯಲ್ಲಿ ಏನು ಮಾಡುತ್ತಿರುವನು?" ಈ ಕವನದ ಸಾಲು ಬರೆದ ಕವಿ :
 - A. ಕುವೆಂಪು
 - B. ಸು.ರಂ. ಎಕ್ಕುಂಡಿ
 - C. ದ.ರಾ. ಬೇಂದ್ರೆ
 - D. ಚಂಪಾ
5. ಕೇವಲ ಅವರ್ಗೀಯ ವ್ಯಂಜನಾಕ್ಷರಗಳನ್ನು ಹೊಂದಿರುವ ಪದ :
 - A. ನಮನ
 - B. ಸರಸ
 - C. ಕಳಸ
 - D. ಸಫಲ
6. ಸೃಜನ, ಸಂವಾದ, ಸಂಪದ ಎಂಬ ಪ್ರಸಿದ್ಧ ಕೃತಿಗಳನ್ನು ಬರೆದ ಲೇಖಕರು :
 - A. ಸ. ಜ. ನಾಗಲೋಟಿಮಠ
 - B. ಹಾ. ಮಾ. ನಾಯಕ
 - C. ತ. ರಾ. ಸುಬ್ಬರಾವ್
 - D. ದ. ರಾ. ಬೇಂದ್ರೆ
7. ಇವುಗಳಲ್ಲಿ ವಸ್ತುವಾಚಕ ಪದ :
 - A. ಮನುಷ್ಯ
 - B. ಕೆಂಪು
 - C. ದೊಡ್ಡದು
 - D. ಚೆಲುವು
8. ಇವುಗಳಲ್ಲಿ ಅನುಕರಣಾವ್ಯಯಕ್ಕೆ ಉದಾಹರಣೆ :
 - A. ಬೇಗಬೇಗ
 - B. ಸಾಕುಸಾಕು
 - C. ಬೇಡಬೇಡ
 - D. ಸರಸರ

9. ಕುವೆಂಪುರವರು 39ನೇ ಅಖಿಲ ಭಾರತ ಕನ್ನಡ ಸಾಹಿತ್ಯ ಸಮ್ಮೇಳನದ ಅಧ್ಯಕ್ಷರಾಗಿದ್ದರು. ಈ ಸಾಹಿತ್ಯ ಸಮ್ಮೇಳನ ನಡೆದ ಸ್ಥಳ :
- A. ಮೈಸೂರು
B. ಬೆಂಗಳೂರು
C. ಹಾಸನ
D. ಧಾರವಾಡ
10. ಇವುಗಳಲ್ಲಿ ಸರಿಯಾದ ರೂಪ :
- A. ಆಜಾನುಬಾಹು
B. ಅಜಾನುಬಾಹು
C. ಆಜಾನುಭಾಹು
D. ಅಜಾನುಭಾಹು
11. ಎಂ. ಗೋವಿಂದ ಪೈ ರವರಿಗೆ 'ರಾಷ್ಟ್ರಕವಿ' ಪುರಸ್ಕಾರ ನೀಡಿದ್ದು :
- A. ಭಾರತ ಸರ್ಕಾರ
B. ಕರ್ನಾಟಕ ಸರ್ಕಾರ
C. ಮೈಸೂರು ಸರ್ಕಾರ
D. ಮದರಾಸು ಸರ್ಕಾರ
12. 'ಅಗ್ನಿದಿವ್ಯ' ಪದದ ಅರ್ಥ :
- A. ಅಗ್ನಿಗೆ ಸಮರ್ಪಿಸುವುದು
B. ಅಗ್ನಿಸಾಕ್ಷಿಯಾಗಿ ಕೈಹಿಡಿಯುವುದು
C. ಕಠಿಣವಾದ ಪರೀಕ್ಷೆ
D. ಸರಳವಾದ ಪರೀಕ್ಷೆ
13. 'ಕುಳಿರ್ಗಾಳಿ' ಪದಕ್ಕೆ ಪ್ರಸ್ತಾರ ಹಾಕಿದಾಗ ಆಗುವ ರೂಪ :
- A. ಁ - - ಁ
B. ಁ ಁ - ಁ
C. ಁ ಁ ಁ -
D. - ಁ - ಁ
14. 'ಕೆಂಡದಂಥ ಮಾತುಗಳು ಹೊರಬೀಳುತ್ತಿದ್ದವು'. ಈ ವಾಕ್ಯದಲ್ಲಿ ಉಪಮೇಯ :
- A. ಕೆಂಡ
B. ಮಾತುಗಳು
C. ಅಂಥ
D. ಹೊರಬೀಳುವಿಕೆ
15. ನುಡಿಗಟ್ಟು ಮತ್ತು ಅವುಗಳ ಅರ್ಥವನ್ನು ಕೆಳಗಿನ 'ಅ' ಮತ್ತು 'ಬ' ಪಟ್ಟಿಗಳಲ್ಲಿ ಕೊಟ್ಟಿದೆ. ಅವುಗಳನ್ನು ಸರಿಯಾಗಿ ಹೊಂದಿಸಿ. ಕೆಳಗೆ ಕೊಟ್ಟಿರುವ ಸಂಕೇತಗಳಿಂದ ಆಯ್ಕೆ ಮಾಡಿ :
- | | |
|-------------------|---------------------|
| 'ಅ' | 'ಬ' |
| 1 ಗಂಟಲು ಕಟ್ಟು | i ಪ್ರೋತ್ಸಾಹಿಸು |
| 2 ಬೆನ್ನುತಟ್ಟು | ii ಬಿಡುಗಡೆ ಹೊಂದು |
| 3 ನಿಟ್ಟುಸಿರು ಬಿಡು | iii ಮೆಚ್ಚುಗೆ ಸೂಚಿಸು |
| 4 ಶತಾಯುಗತಾಯ | iv ಗದ್ದದಿತನಾಗು |
| | v ಹೇಗಾದರೂ ಮಾಡಿ |
- A. 1-iv, 2-i, 3-ii, 4-v
B. 1-i, 2-iv, 3-iii, 4-ii
C. 1-iv, 2-ii, 3-v, 4-i
D. 1-iv, 2-i, 3-ii, 4-iii

K-01 A

16. The correct prefix to be added to the word 'violence' to mean its opposite will be :

- | | |
|--------|--------|
| A. un | B. dis |
| C. non | D. mis |

17. Raju bought a new shirt .

The right question to get the underlined part as answer is :

- | | |
|-----------------------------|---------------------------|
| A. Who bought a new shirt ? | B. What did Raju buy ? |
| C. What does Raju buy ? | D. What was Raju buying ? |

18. Sheela ran fast in the race and won the first prize .

The underlined word is a/an :

- | | |
|----------------|--------------|
| A. Preposition | B. Adjective |
| C. Conjunction | D. Adverb |

19. Ramesh built this house.

The passive voice of the given sentence is :

- A. This house was built by Ramesh
- B. This house is built by Ramesh
- C. This house was being built by Ramesh
- D. This house is being built by Ramesh

20. Jupiter is the largest planet in the solar system.

The comparative degree of the given sentence is :

- A. No other planet in the solar system is as large as Jupiter.
- B. Jupiter is as large as any other planet in the solar system.
- C. Jupiter is larger than any other planet in the solar system.
- D. Other planets in the solar system are larger than Jupiter.

21. The right form of the verb to be used in the blanks are :.

Sam _____ (sit) in the lawn and _____ (write) a letter to his friend yesterday.


- | | |
|-----------------|---------------------|
| A. sits, writes | B. sitting, writing |
| C. sat, written | D. sat, wrote |

22. Motherly love by its very nature is unconditional. Mother loves the new born infant because it is her child, not because the child has fulfilled any specific condition, or lived upto any specific expectations. Unconditional love corresponds to one of the deepest longings, not only of the child but also of every human being. On the other hand, to be loved because of one's merit or because one deserves it, always leaves doubt and there is always a fear that love could disappear.

One can conclude from the reading, that for a mother to love her child :

- The child has to earn such love
- The child does not need to do anything
- The child is expected to do what it is required to do
- There are certain specific conditions that both have to follow

Below given Bar graph represents the popularity of various games among the students in a school. Based on the bar graph answer the question number 23.



Statements :

- Foot ball is the most popular game
- Basket ball is more popular than Cricket
- Volley ball is the least popular game
- Hockey and Throw ball are equally popular

K-01 A

23. Which of these statements are correct ?

- A. Statements i, ii and iii
B. Statements ii, iii and iv
C. Statements i and iii
D. Statements ii and iv

24. Mary is preparing gulab jamuns for the first time. The right order of steps she has to follow to prepare the dish is :

- i) Heat oil/ghee in a pan and fry the small balls on a low flame
ii) Mix the jamun mix with water and make small balls of it
iii) Soak the fried jamun balls in the sugar syrup for half an hour
iv) Add two cups of sugar and two cups of water in a vessel and boil them well for 5 minutes to prepare the sugar syrup

- A. iv, ii, i, iii
B. ii, iii, i, iv
C. iv, i, ii, iii
D. ii, i, iii, iv

25. Choose the right option where the following words are rearranged correctly to form a meaningful sentence :

kind / very / is / it / to / me / help / you / of

- A. Very kind of you it is to help me
B. It is to help me very kind of you
C. It is very kind of you to help me
D. To help me it is very kind of you

26. The expressions and language functions are correctly matched in option :

Expressions	Language Function
i) Good morning.	a) Expressing gratitude
ii) Could you please switch off the fan?	b) Introducing
iii) Meet my friend Rita.	c) Requesting
iv) Thank you very much.	d) Greeting

A. i-d, ii-c, iii-b, iv-a
B. i-b, ii-a, iii-d, iv-c
C. i-d, ii-a, iii-b, iv-c
D. i-b, ii-c, iii-d, iv-a

K-01 A

29. The right order of words as they appear in the dictionary is :

- A. descent, decent, denote, delete
B. decent, denote, delete, descent
C. delete, denote, descent, decent
D. decent, delete, denote, descent

30. The correctly punctuated statement is :

- A. Aziz said, "I will meet you tomorrow at 10 am in the park."
B. Aziz said, "I will meet you tomorrow at 10 am in the park!"
C. Aziz said, "I will meet you tomorrow at 10 am in the park".
D. Aziz said, "I will meet you tomorrow at 10 am in the park?"

31. ಭಾರತದ ರಾಷ್ಟ್ರೀಯ ಬಾವುಟದ ಚಕ್ರದಲ್ಲಿನ ಗೆರೆಗಳ ಒಟ್ಟು ಸಂಖ್ಯೆ :

- A. 22
B. 24
C. 26
D. 28

The total number of spokes in the wheel of the National flag of India is :

- A. 22
B. 24
C. 26
D. 28

32. 'ವಂದೇ ಮಾತರಂ' ಗೀತೆ ಇರುವ ಕಾದಂಬರಿ :

- A. ಆನಂದ ಮಠ
B. ದೇವದಾಸ
C. ಪಥೆರ್ ಪಾಂಚಾಲಿ
D. ನೀಲಿರಕ್ತ

"Vande Maataram" song is in the novel :

- A. Ananda Mata
B. Devadasa
C. Pather Panchali
D. Neeliraktha

33. ಇಂಡೋನೇಷ್ಯಾದ ಕರೆನ್ಸಿ :

- A. ಡಾಲರ್
B. ಕ್ಯಾಟ್
C. ರಿಂಗಿಟ್
D. ರುಪಯ್ಯಾ

The Currency of Indonesia is :

- A. Dollar
B. Kyat
C. Ringgit
D. Rupiah

34. ಪ್ರವಾಸಿ ಸ್ಥಳಕ್ಕೆ ಸಂಬಂಧಿಸಿದಂತೆ ಸರಿಯಾದ ಜೋಡಿಯನ್ನು ಆಯ್ಕೆ ಮಾಡಿ :
- A. ದರಿಯಾ ದೌಲತ್ - ಶ್ರೀರಂಗಪಟ್ಟಣ B. ಟಿಪ್ಪು ಅರಮನೆ - ಕೊಪ್ಪಳ
C. ಕಲ್ಲಿನ ರಥ - ಶೃಂಗೇರಿ D. ಕೆ.ಆರ್.ಎಸ್ - ಮಡಿಕೇರಿ

Choose the correct pair related to tourist place :

- A. Dariya Daulat - Srirangapatna B. Tippu's Palace - Koppala
C. Stone Chariot - Sringeri D. K.R.S - Madikeri

35. ಕೊಲಂಬಿಯಾ ಗಗನ ನೌಕೆಯಲ್ಲಿ ಕೊನೆಯುಸಿರೆಳೆದ ಅಂತರಿಕ್ಷಯಾತ್ರಿ :

- A. ಸುನೀತಾ ವಿಲಿಯಮ್ಸ್ B. ಕಲ್ಪನಾ ಚಾವ್ಲಾ
C. ಎಲ್ಲಿನ್ ಕೊಲ್ಲಿನ್ಸ್ D. ಮೈಕೇಲ್

The astronaut who died in the Columbian Spaceship was :

- A. Sunita Williams B. Kalpana Chawla
C. Eileen Collins D. Michael

36. ಇಸ್ರೋದ ಕೇಂದ್ರ ಕಛೇರಿ ಇರುವ ಸ್ಥಳ :

- A. ಶ್ರೀ ಹರಿಕೋಟಾ B. ಹಾಸನ
C. ಬೆಂಗಳೂರು D. ಬಾಗಲಕೋಟೆ

ISRO's head office is in :

- A. Sriharikota B. Hassan
C. Bengaluru D. Bagalkote

37. 2019 ನೇ ಸಾಲಿನಲ್ಲಿ ಶಾಂತಿ ಮತ್ತು ಸೌಹಾರ್ದಕ್ಕಾಗಿ ನೊಬೆಲ್ ಪ್ರಶಸ್ತಿ ಪಡೆದವರು :

- A. ಅಭಿ ಅಹಮದ್ ಅಲಿ B. ಕೈಲಾಶ್ ಸತ್ಯಾರ್ಥಿ
C. ಡೇನಿಸ್ ಮುಕ್ವೆಜ್ D. ಜಾನ್ ಮ್ಯಾನ್ಯೂಯಲ್ ಸ್ಯಾಂಟೋಸ್

Noble Prize for Peace and Harmony was awarded for the year 2019 to :

- A. Abi Ahmed Ali B. Kailash Satyarthi
C. Denias Mukwege D. Juan Munuel Santos

38. ನೇತಾಜಿ ಸುಭಾಷ್ ನ್ಯಾಷನಲ್ ಇನ್‌ಸ್ಟಿಟ್ಯೂಟ್ ಆಫ್ ಸ್ಪೋರ್ಟ್ಸ್ ಇರುವ ರಾಜ್ಯ :

- A. ಕೇರಳ B. ಪಂಜಾಬ್
C. ಕರ್ನಾಟಕ D. ಉತ್ತರ ಪ್ರದೇಶ

Netaji Subhas National Institute of sports is in this state :

- A. Kerala B. Punjab
C. Karnataka D. Uttar Pradesh

K-01 A

39. 'ತುಘಲಕ್' ಪುಸ್ತಕದ ರಚನಾಕಾರರು :

- A. ಕುವೆಂಪು
B. ದ.ರಾ. ಬೇಂದ್ರೆ
C. ಗಿರೀಶ್ ಕಾರ್ನಾಡ್
D. ಯು.ಆರ್. ಅನಂತ ಮೂರ್ತಿ

The author of the book "Tughlaq" is :

- A. Kuvempu
B. Da.Ra. Bendre
C. Girish Karnad
D. U. R. Anantha Murthy

40. ಕರ್ನಾಟಕ ರಾಜ್ಯದಲ್ಲಿ ಮೊದಲ ಬಾರಿಗೆ ಭಾರತ ರತ್ನ ಪ್ರಶಸ್ತಿ ಪಡೆದವರು :

- A. ಸರ್ ಎಂ. ವಿಶ್ವೇಶ್ವರಯ್ಯ
B. ಎಂ.ಎಸ್. ಸುಬ್ಬುಲಕ್ಷ್ಮಿ
C. ಸಿ. ರಾಜಗೋಪಾಲಚಾರಿ
D. ಸಿ.ವಿ. ರಾಮನ್

The first recipient of Bharathrathna Award from Karnataka is :

- A. Sir M. Visvesvaraya
B. M.S. Subbulakshmi
C. C. Rajagopalachari
D. C.V. Raman

41. 1995-96 ರಲ್ಲಿ ನಲಿ-ಕಲಿ ಕಾರ್ಯಕ್ರಮವನ್ನು ಪ್ರಾಯೋಗಿಕವಾಗಿ ಅನುಷ್ಠಾನಗೊಳಿಸಿದ ತಾಲ್ಲೂಕು :

- A. ಕೊಳ್ಳೇಗಾಲ
B. ಹುಣಸೂರು
C. ಚಾಮರಾಜನಗರ
D. ಹೆಗ್ಗಡದೇವನಕೋಟೆ

The Nali-Kali pilot programme was implemented in the year 1995-96 in this Taluk :

- A. Kollegal
B. Hunasur
C. Chamarajanagar
D. Heggadadevanakote

42. ನಲಿ-ಕಲಿ ಪೂರ್ವ ಸಿದ್ಧತಾ ಹಂತದ ಚಟುವಟಿಕೆಯಲ್ಲಿ 'ಕಥೆ' ಚಟುವಟಿಕೆಯನ್ನು ಪ್ರತಿನಿಧಿಸುವ ಲೋಗೋ ಎಂದರೆ :

- A. ಹುಡುಗ - ಹುಡುಗಿ
B. ಬಾಯಿ
C. ಡಬ್ಬದ ಮೇಲೆ ಮಂಗ
D. ಇಲಿಗಳ ಮಧ್ಯೆ ಗಂಟೆ

The logo which represents the activity 'story' in Nali-Kali preparatory stage activity is :

- A. Boy - Girl
B. Mouth
C. Monkey on Box
D. Bell among rats

43. ತಾಲ್ಲೂಕು ಮಟ್ಟದ ಶಾಲೆಯಿಂದ ಹೊರಗುಳಿದ ಮಕ್ಕಳ ಸಮೀಕ್ಷಾ ಕಾರ್ಯವನ್ನು ನಡೆಸುವ ಸಮಿತಿಯ ಸದಸ್ಯ ಕಾರ್ಯದರ್ಶಿಗಳೆಂದರೆ :

- A. ಕ್ಷೇತ್ರ ಸಂಪನ್ಮೂಲ ಸಮನ್ವಯಾಧಿಕಾರಿಗಳು
B. ತಹಸೀಲ್ದಾರರವರು
C. ಕಾರ್ಯ ನಿರ್ವಹಣಾಧಿಕಾರಿಗಳು
D. ಕ್ಷೇತ್ರ ಶಿಕ್ಷಣಾಧಿಕಾರಿಗಳು

The member secretary of the committee which conducts the survey of out of school children at taluk level is :

- A. Block Resource Co-ordinator
B. Tahasildar
C. Executive Officer
D. Block Education Officer

44. ಮಧ್ಯಾಹ್ನ ಬಿಸಿಯೂಟ ಯೋಜನೆಯ ಫಲಾನುಭವಿ ಶಾಲೆಗಳ ವಿಧಗಳೆಂದರೆ :

- A. ಸರ್ಕಾರಿ ಮತ್ತು ಅನುದಾನಿತ ಶಾಲೆಗಳು
B. ಸರ್ಕಾರಿ ಶಾಲೆಗಳು
C. ಸರ್ಕಾರಿ ಮತ್ತು ಅನುದಾನರಹಿತ ಶಾಲೆಗಳು
D. ಅನುದಾನಿತ ಮತ್ತು ಅನುದಾನರಹಿತ ಶಾಲೆಗಳು

The types of beneficiary schools of mid-day meal scheme are :

- A. Government and Aided schools
B. Government schools
C. Government and Unaided schools
D. Aided and Unaided schools

45. ಮಧ್ಯಾಹ್ನ ಬಿಸಿಯೂಟ ಯೋಜನೆಯಡಿ 1 ರಿಂದ 5ನೇ ತರಗತಿ ವಿದ್ಯಾರ್ಥಿಗಳಿಗೆ ನೀಡುತ್ತಿರುವ ಅಕ್ಕಿಯ ಪ್ರಮಾಣ :

- A. 150 ಗ್ರಾಂ
B. 140 ಗ್ರಾಂ
C. 125 ಗ್ರಾಂ
D. 100 ಗ್ರಾಂ

The quantity of rice given to the students of 1 to 5th standard under mid-day meal scheme is :

- A. 150 gm
B. 140 gm
C. 125 gm
D. 100 gm

46. 2018-19 ನೇ ಸಾಲಿನಲ್ಲಿ CSAS ಮೌಲ್ಯಮಾಪನಕ್ಕೆ ಒಳಪಟ್ಟ ತರಗತಿಗಳು :

- A. 1 ರಿಂದ 10ನೇ ತರಗತಿ
B. 4 ರಿಂದ 10ನೇ ತರಗತಿ
C. 1 ರಿಂದ 9ನೇ ತರಗತಿ
D. 4 ರಿಂದ 9ನೇ ತರಗತಿ

The classes included for the CSAS evaluation in the year 2018-19 are :

- A. 1st to 10th Standard
B. 4th to 10th Standard
C. 1st to 9th Standard
D. 4th to 9th Standard

K-01 A

47. ಕ್ಷೀರಭಾಗ್ಯ ಯೋಜನೆಯಡಿಯಲ್ಲಿ ಪ್ರತಿ ಫಲಾನುಭವಿಗೆ ವಿತರಿಸಲಾಗುತ್ತಿರುವ ಹಾಲಿನ ಪ್ರಮಾಣ :

- A. 100 ಮಿ.ಲೀ
B. 120 ಮಿ.ಲೀ
C. 150 ಮಿ.ಲೀ
D. 200 ಮಿ.ಲೀ

The quantity of milk distributed to each beneficiary under Ksheera Bhagya scheme is :

- A. 100 ml
B. 120 ml
C. 150 ml
D. 200 ml

48. ಬಿಸಿಯೂಟದ ಫಲಾನುಭವಿಗಳ ದೈನಂದಿನ ನೈಜ ದತ್ತಾಂಶವನ್ನು ಸಂಗ್ರಹಿಸಲು ಮಾಹಿತಿಯನ್ನು ರವಾನಿಸುವ ಶುಲ್ಕ ರಹಿತ ಸಂಖ್ಯೆ :

- A. 15454
B. 15544
C. 15554
D. 15444

The toll free number to which information to be sent to collect the daily real data of mid-day meal beneficiaries is :

- A. 15454
B. 15544
C. 15554
D. 15444

49. ಮಕ್ಕಳ ಸಹಾಯವಾಣಿಯ ಸಂಖ್ಯೆ :

- A. 1088
B. 1090
C. 1098
D. 1099

Children helpline number is :

- A. 1088
B. 1090
C. 1098
D. 1099

50. 2019-20ನೇ ಸಾಲಿನಲ್ಲಿ ಉಚಿತ ಬೈಸಿಕಲ್ ಫಲಾನುಭವಿ ವಿದ್ಯಾರ್ಥಿಗಳೆಂದರೆ :

- A. 8ನೇ ತರಗತಿಯ ಸರ್ಕಾರಿ ಮತ್ತು ಅನುದಾನಿತ ಶಾಲಾ ಗಂಡು ಮತ್ತು ಹೆಣ್ಣು ಮಕ್ಕಳು
B. 8ನೇ ತರಗತಿಯ ಸರ್ಕಾರಿ ಶಾಲೆಗಳ ಗಂಡು ಮಕ್ಕಳು
C. 8ನೇ ತರಗತಿಯ ಸರ್ಕಾರಿ ಶಾಲೆಗಳ ಹೆಣ್ಣು ಮಕ್ಕಳು
D. 8ನೇ ತರಗತಿಯ ಸರ್ಕಾರಿ ಮತ್ತು ಅನುದಾನಿತ ಶಾಲೆಗಳ ಹೆಣ್ಣು ಮಕ್ಕಳು

Free bicycle beneficiary students during the year 2019-20 are :

- A. 8th standard boys and girls of Government and Aided schools
B. 8th standard boys of Government schools
C. 8th standard girls of Government schools
D. 8th standard girls of Government and Aided schools

51. 2019-20ನೇ ಸಾಲಿನಲ್ಲಿ 9ರಿಂದ 10ನೇ ತರಗತಿ ಮಕ್ಕಳಿಗೆ ವಿತರಿಸುವ ಷೂ ಮತ್ತು ಸಾಕ್ಸ್‌ಗಳಿಗೆ ಸರ್ಕಾರ ನೀಡುವ ಘಟಕ ವೆಚ್ಚ :

- A. ₹ 205
- B. ₹295
- C. ₹ 315
- D. ₹325

The unit cost allocated by the Government for shoes and socks for the students of 9 to 10th standards during the year 2019-20 is :

- A. ₹ 205
- B. ₹295
- C. ₹ 315
- D. ₹325

52. ಕರ್ನಾಟಕ ಶಿಕ್ಷಕರ ಅರ್ಹತಾ ಪರೀಕ್ಷೆಯನ್ನು ಈ ಶಿಕ್ಷಕರಿಗಾಗಿ ನಡೆಸಲಾಗುತ್ತದೆ :

- A. 1 ರಿಂದ 5ನೇ ತರಗತಿ ಬೋಧಿಸುವ ಶಿಕ್ಷಕರಿಗೆ
- B. 1 ರಿಂದ 10ನೇ ತರಗತಿ ಬೋಧಿಸುವ ಶಿಕ್ಷಕರಿಗೆ
- C. 1 ರಿಂದ 8ನೇ ತರಗತಿ ಬೋಧಿಸುವ ಶಿಕ್ಷಕರಿಗೆ
- D. 5 ರಿಂದ 8ನೇ ತರಗತಿ ಬೋಧಿಸುವ ಶಿಕ್ಷಕರಿಗೆ

Karnataka Teacher Eligibility Test is conducted to these teachers :

- A. The teachers who teach 1 to 5th standard
- B. The teachers who teach 1 to 10th standard
- C. The teachers who teach 1 to 8th standard
- D. The teachers who teach 5 to 8th standard

53. 2019-20ನೇ ಸಾಲಿನಲ್ಲಿ 101 ರಿಂದ 250 ಮಕ್ಕಳು ದಾಖಲಾಗಿರುವ ಶಾಲೆಗಳಿಗೆ ನೀಡುತ್ತಿರುವ ಶಾಲಾನುದಾನದ ಮೊತ್ತ :

- A. ₹10,000
- B. ₹40,000
- C. ₹50,000
- D. ₹75,000

The school grant given to the schools with the enrollment of 101 to 250 during the year 2019-20 is :

- A. ₹10,000
- B. ₹40,000
- C. ₹50,000
- D. ₹75,000

K-01 A

54. 2018-19ನೇ ಸಾಲಿನಲ್ಲಿ ಶಿಕ್ಷಣ ಹಕ್ಕು ಕಾಯ್ದೆಯ ಸೆಕ್ಷನ್ 12(2) ಮತ್ತು ನಿಯಮ 8(1) ರಂತೆ ಸರ್ಕಾರದ ಶಾಲೆಗಳಲ್ಲಿ ಪ್ರವೇಶ ಪಡೆದ ಪ್ರತಿ ಮಗುವಿಗೆ ನಿಗದಿ ಪಡಿಸಿದ ತಲಾ ವಾರ್ಷಿಕ ವೆಚ್ಚ :

- A. ಪ್ರಾಥಮಿಕ ಶಾಲೆಗಳಿಗೆ 16,000, ಪೂರ್ವ ಪ್ರಾಥಮಿಕ ಶಾಲೆಗಳಿಗೆ 8,000 ರೂಪಾಯಿಗಳು
- B. ಪ್ರಾಥಮಿಕ ಶಾಲೆಗಳಿಗೆ 15,000, ಪೂರ್ವ ಪ್ರಾಥಮಿಕ ಶಾಲೆಗಳಿಗೆ 7,000 ರೂಪಾಯಿಗಳು
- C. ಪ್ರಾಥಮಿಕ ಶಾಲೆಗಳಿಗೆ 10,000, ಪೂರ್ವ ಪ್ರಾಥಮಿಕ ಶಾಲೆಗಳಿಗೆ 5,000 ರೂಪಾಯಿಗಳು
- D. ಪ್ರಾಥಮಿಕ ಶಾಲೆಗಳಿಗೆ 20,000, ಪೂರ್ವ ಪ್ರಾಥಮಿಕ ಶಾಲೆಗಳಿಗೆ 10,000 ರೂಪಾಯಿಗಳು

In the year 2018-19, the annual expenditure prescribed for each child enrolled under RTE, Section 12(2) and Rule 8(1) in Government schools was :

- A. Rs. 16,000 for primary schools, 8,000 for pre-primary schools
- B. Rs. 15,000 for primary schools, 7,000 for pre-primary schools
- C. Rs. 10,000 for primary schools, 5,000 for pre-primary schools
- D. Rs. 20,000 for primary schools, 10,000 for pre-primary schools

55. 2018-19ನೇ ಸಾಲಿನಲ್ಲಿ ಬರಪೀಡಿತ ತಾಲ್ಲೂಕುಗಳಲ್ಲಿ 5 ರಿಂದ 6ನೇ ತರಗತಿಯಲ್ಲಿ ವ್ಯಾಸಂಗ ಮಾಡುತ್ತಿರುವ ಮಕ್ಕಳಿಗೆ "ಬೇಸಿಗೆ ಸಂಭ್ರಮ ಕಲಿಕಾ ಯೋಜನೆ" ಆಧಾರಿತವಾಗಿರುವ ಕಲಿಕಾ ಚಟುವಟಿಕೆ ಎಂದರೆ :

- A. ಪಠ್ಯಾಧಾರಿತ ಕಲಿಕೆ
- B. ಓದು, ಬರಹ, ಲೆಕ್ಕಾಚಾರ
- C. ಸಾಮರ್ಥ್ಯಾಧಾರಿತ ಕಲಿಕೆ
- D. ಸ್ವಲ್ಪ ಓದು, ಸ್ವಲ್ಪ ಮೋಜು

In the year 2018-19 "Besige Sambrama learning scheme" was conducted to the children of 5th and 6th standard in drought prone taluks. The learning activity of this scheme was :

- A. Curriculum based learning
- B. Read, Write, Calculation
- C. Competency based learning
- D. Swalpa odhu, Swalpa moju

56. ತೀವ್ರ ನ್ಯೂನತೆಯ ಕಾರಣದಿಂದ ಸ್ವತಂತ್ರವಾಗಿ ಶಾಲೆಗಳಿಗೆ ಹಾಜರಾಗಲು ಸಾಧ್ಯವಿಲ್ಲದ ಮಕ್ಕಳಿಗೆ ಶಾಲಾ ಸಿದ್ಧತಾ ಕೇಂದ್ರಗಳಿಗೆ ಹಾಜರಾಗಲು ನೀಡಲಾಗುತ್ತಿರುವ ಮಾಸಿಕ ಭತ್ಯೆ :

- A. ₹350
- B. ₹450
- C. ₹250
- D. ₹750

Monthly allowance given to children to attend school readiness centers who cannot attend schools independently due to severe disability is :

- A. ₹350
- B. ₹450
- C. ₹250
- D. ₹750

57. ಸರ್ಕಾರಿ ಕನ್ನಡ ಮಾಧ್ಯಮ ಶಾಲೆಗಳ ನಾಲ್ಕು ಮತ್ತು ಐದನೇ ತರಗತಿಗಳಲ್ಲಿ ಅಭ್ಯಾಸ ಮಾಡುತ್ತಿರುವ ವಿದ್ಯಾರ್ಥಿಗಳ ಕನ್ನಡ ಮತ್ತು ಗಣಿತ ವಿಷಯಗಳಲ್ಲಿನ ಕಲಿಕಾಮಟ್ಟವನ್ನು ಉತ್ತಮ ಪಡಿಸಲು ಪ್ರಥಮ್ ಸಂಸ್ಥೆ ಸಹಯೋಗದೊಂದಿಗೆ ಜಾರಿಗೆ ತಂದಿರುವ ಕಾರ್ಯಕ್ರಮ :

- A. ಓದು ಕರ್ನಾಟಕ
B. ವಿಶ್ವಾಸ ಕಿರಣ
C. ಬೇಸಿಗೆ ಸಂಭ್ರಮ
D. ಟಾಲ್ಡ್

The programme introduced with the collaboration of Pratham foundation to improve the learning levels in Kannada and Maths of students who are studying in 4th and 5th standards of government kannada medium schools is :

- A. Oodu Karnataka
B. Vishwasa Kirana
C. Besige Sambrama
D. TALP

58. NMMS ನ ವಿಸ್ತೃತ ರೂಪ :

- A. National Means Cum Merit Scholarship
B. National Merit Means Scholarship
C. National Means Cum Marked Schools
D. National Means Cum Merit Schools

Expanded form of NMMS is :

- A. National Means Cum Merit Scholarship
B. National Merit Means Scholarship
C. National Means Cum Marked Schools
D. National Means Cum Merit Schools

59. 'ಗಣಿತ ಕಲಿಕಾ ಆಂದೋಲನ' ಕಾರ್ಯಕ್ರಮವನ್ನು ಈ ಸಂಸ್ಥೆಯ ಸಹಯೋಗದೊಂದಿಗೆ ಆಯೋಜಿಸಿ ಜಾರಿಗೆ ತರಲಾಗಿದೆ :

- A. TCS ಪ್ರತಿಷ್ಠಾನ
B. ಅಜೀಂ ಪ್ರೇಮ್‌ಜಿ ಪ್ರತಿಷ್ಠಾನ
C. ಅಕ್ಷರ ಪ್ರತಿಷ್ಠಾನ
D. ಪ್ರಥಮ್ ಪ್ರತಿಷ್ಠಾನ

'Ganitha Kalika Andolana' programme is introduced with the association of this organization :

- A. TCS Foundation
B. Azim Premji Foundation
C. Akshara Foundation
D. Pratham Foundation

K-01 A

60. 'ಗಣಿತ ಕಲಿಕಾ ಆಂದೋಲನ'ವನ್ನು ಕೆಳಗಿನ ತರಗತಿಗಳಿಗೆ ಪ್ರಾರಂಭಿಸಲಾಗಿದೆ :

- A. 4 ಮತ್ತು 5ನೇ ತರಗತಿ
B. 4 ಮತ್ತು 7ನೇ ತರಗತಿ
C. 4 ರಿಂದ 7ನೇ ತರಗತಿ
D. 4 ರಿಂದ 9ನೇ ತರಗತಿ

'Ganitha Kalika Andolana' is introduced for the following classes :

- A. 4th and 5th class
B. 4th and 7th class
C. 4th to 7th class
D. 4th to 9th class

61. $\sqrt{0.000225} + \sqrt{4.41}$ ನ ಬೆಲೆಯು :

- A. 2.105
B. 2.25
C. 2.115
D. 21.15

The value of $\sqrt{0.000225} + \sqrt{4.41}$ is :

- A. 2.105
B. 2.25
C. 2.115
D. 21.15

62. ಒಂದು ಚೌಕ ಘನದ ಘನಫಲವು 64cm^3 ಆದರೆ, ಅದರ ಪೂರ್ಣ ಮೇಲ್ಮೈ ವಿಸ್ತೀರ್ಣವು :

- A. 96cm^2
B. 16cm^2
C. 24cm^2
D. 48cm^2

If the volume of a cube is 64cm^3 , then its total surface area is :

- A. 96cm^2
B. 16cm^2
C. 24cm^2
D. 48cm^2

63. $\sqrt[8]{\frac{2}{3}}$ ರ ಬೆಲೆಯು :

- A. 8
B. 16
C. $\sqrt{2}$
D. 4

The value $\sqrt[8]{\frac{2}{3}}$ is:

- A. 8
B. 16
C. $\sqrt{2}$
D. 4

64. ಚಿತ್ರದಲ್ಲಿ ಛಾಯಾಗೊಳಿಸಿದ ಭಾಗದ ವಿಸ್ತೀರ್ಣ :

A. $\frac{l-b-ab}{2}$

B. $\frac{l+b-ab}{2}$

C. $\frac{l-b-ab}{4}$

D. $\frac{l+b-ab}{4}$

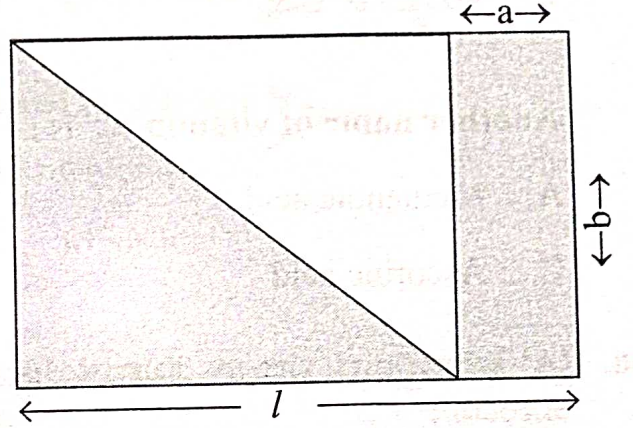
Area of the shaded portion in the figure is :

A. $\frac{l-b-ab}{2}$

B. $\frac{l+b-ab}{2}$

C. $\frac{l-b-ab}{4}$

D. $\frac{l+b-ab}{4}$



65. ಒಂದು ಬೊಂಬೆಯ ಮಾರಾಟ ಬೆಲೆಯು ₹345 ಆಗಿದೆ. ಇದರಿಂದ ಅಂಗಡಿಯವನಿಗೆ 15% ಲಾಭ ದೊರೆತರೆ, ಬೊಂಬೆಯ ಕೊಂಡ ಬೆಲೆ :

A. ₹ 350

B. ₹ 325

C. ₹ 300

D. ₹ 275

Selling price of a doll is ₹345. If the profit made by the shop keeper is 15%. Then the cost price of the doll is :

A. ₹ 350

B. ₹ 325

C. ₹ 300

D. ₹ 275

66. ಜವಕ್ಕೆ ಸಂಬಂಧಿಸಿದ ಸರಿಯಾದ ಸೂತ್ರ :

A. ಜವ = $\frac{\text{ಕಾಲ}}{\text{ಸ್ಥಾನಪಲ್ಲಟ}}$

B. ಜವ = $\frac{\text{ಸ್ಥಾನಪಲ್ಲಟ}}{\text{ಕಾಲ}}$

C. ಜವ = $\frac{\text{ಚಲಿಸಿದ ದೂರ}}{\text{ಕಾಲ}}$

D. ಜವ = $\frac{\text{ಕಾಲ}}{\text{ಚಲಿಸಿದ ದೂರ}}$

The correct formula with respect to speed is :

A. Speed = $\frac{\text{time}}{\text{displacement}}$

B. Speed = $\frac{\text{displacement}}{\text{time}}$

C. Speed = $\frac{\text{distance travelled}}{\text{time}}$

D. Speed = $\frac{\text{time}}{\text{distance travelled}}$

K-01 A

67. ವಿಟಮಿನ್ 'ಸಿ'ಯ ಇನ್ನೊಂದು ಹೆಸರು :

- A. ಮೆಥನೋಯಿಕ್ ಆಮ್ಲ
B. ಟಾರ್ಟಾರಿಕ್ ಆಮ್ಲ
C. ಆಸ್ಕಾರ್ಬಿಕ್ ಆಮ್ಲ
D. ಲ್ಯಾಕ್ಟಿಕ್ ಆಮ್ಲ

Another name of vitamin 'C' is :


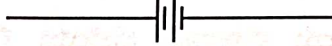
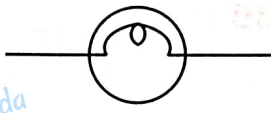

- A. Methanoic acid
B. Tartaric acid
C. Ascorbic acid
D. Lactic acid

68. 'A' ಕಂಬದಲ್ಲಿರುವ ವಿದ್ಯುತ್ ಸಲಕರಣೆಯೊಂದಿಗೆ 'B' ಕಂಬದಲ್ಲಿರುವ ಅವುಗಳ ಸಂಕೇತದೊಂದಿಗೆ ಸರಿಯಾಗಿ ಹೊಂದಿಸಿ :

'A'

- 1) ವಿದ್ಯುತ್ ಕೋಶ
2) ವಿದ್ಯುತ್ ಬಲ್ಬ್
3) ಬ್ಯಾಟರಿ
4) ವಾಹಕ ತಂತಿ

'B'

- a) 
b) 
c) 
d) 

A. 1-a, 2-b, 3-c, 4-d

B. 1-b, 2-c, 3-d, 4-a

C. 1-d, 2-b, 3-c, 4-a


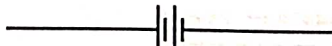
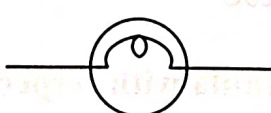

D. 1-d, 2-c, 3-b, 4-a

Match the column 'A' and 'B' with respect to Electronic device and their symbol :

'A'

- 1) Electric cell
2) Electric bulb
3) Battery
4) Conducting wire

'B'

- a) 
b) 
c) 
d) 

A. 1-a, 2-b, 3-c, 4-d

B. 1-b, 2-c, 3-d, 4-a

C. 1-d, 2-b, 3-c, 4-a

D. 1-d, 2-c, 3-b, 4-a

69. ಕೋಶಪೂರೆಯನ್ನು ಹೊಂದಿಲ್ಲದ ಕಣದಂಗ :

- | | |
|-------------------------------|-------------------|
| A. ಮೈಟೋಕಾಂಡ್ರಿಯಾ | B. ಕ್ಲೋರೋಪ್ಲಾಸ್ಟ್ |
| C. ಎಂಡೋಪ್ಲಾಸ್ಮಿಕ್ ರೆಟಿಕ್ಯುಲಮ್ | D. ರೈಬೋಸೋಮ್ |

The cellular organell which does not contain cell membrane is :

- | | |
|--------------------------|----------------|
| A. Mitochondria | B. Chloroplast |
| C. Endoplasmic Reticulum | D. Ribosome |

70. ಕೆಟನೀಕರಣ ಸಾಮರ್ಥ್ಯವಿರುವ ಧಾತು :

- | | |
|----------|------------|
| A. ಜಲಜನಕ | B. ಆಮ್ಲಜನಕ |
| C. ಇಂಗಾಲ | D. ಸಾರಜನಕ |

The element with the capability of Catenation is :

- | | |
|-------------|-------------|
| A. Hydrogen | B. Oxygen |
| C. Carbon | D. Nitrogen |

71. ಶಿಕ್ಷಣವನ್ನು ಮೂಲಭೂತ ಹಕ್ಕು ಎಂದು ಪರಿಗಣಿಸಿರುವ ಭಾರತ ಸಂವಿಧಾನದ ವಿಧಿ :

- | | |
|---------|---------|
| A. 86 | B. 21 A |
| C. 51 A | D. 45 |

The Article of Indian Constitution which considered the Education as a Fundamental Right is :

- | | |
|---------|---------|
| A. 86 | B. 21 A |
| C. 51 A | D. 45 |

72. "ಅಕಾಡೆಮಿ" ಎಂಬ ಶೈಕ್ಷಣಿಕ ಸಂಸ್ಥೆಯನ್ನು ಸ್ಥಾಪಿಸಿದವರು :

- | | |
|---------------|----------------|
| A. ಅರಿಸ್ಟಾಟಲ್ | B. ಅಲೆಕ್ಸಾಂಡರ್ |
| C. ಪ್ಲೇಟೊ | D. ಸಾಕ್ರಟಿಸ್ |

The Educational Institution called "Academy" was founded by :

- | | |
|--------------|--------------|
| A. Aristotle | B. Alexander |
| C. Plato | D. Socrates |

K-01 A

73. ಈ ಕೆಳಗಿನ ವೃತ್ತಿಗಳಲ್ಲಿ ಯಾವುದು ಗುಂಪಿಗೆ ಸೇರುವುದಿಲ್ಲ :

- A. ಭೂರಹಿತ ಕೃಷಿ ಕಾರ್ಮಿಕರು
B. ಶಿಕ್ಷಕರು
C. ಸೈನಿಕರು
D. ಕೈಗಾರಿಕಾ ಕಾರ್ಮಿಕರು

The profession which does NOT belong to this group is :

- A. Landless Agricultural Labourers
B. Teachers
C. Soldiers
D. Industrial Labourers

74. ನೀಡಿರುವ ಪ್ರತಿಪಾದನೆ (A) ಮತ್ತು ಸಮರ್ಥನೆ (R) ಗಳನ್ನು ಓದಿ ಸರಿಯಾದ ಉತ್ತರವನ್ನು ಆಯ್ಕೆಮಾಡಿ.

ಪ್ರತಿಪಾದನೆ (A) : ಮಹಾ ಹಿಮಾಲಯವನ್ನು ಹಿಮಾದ್ರಿ ಎಂದು ಕರೆಯಲಾಗುತ್ತದೆ.

ಸಮರ್ಥನೆ (R) : ಮಹಾ ಹಿಮಾಲಯ ಶ್ರೇಣಿಯು ವರ್ಷವೆಲ್ಲಾ ಹಿಮದಿಂದ ಆವೃತವಾಗಿರುತ್ತದೆ.

- A. (A) ಸರಿ, (R) ತಪ್ಪು
B. (A) ತಪ್ಪು, (R) ಸರಿ
C. (A) ಮತ್ತು (R) ಎರಡೂ ಸರಿ ಮತ್ತು (R), (A) ನ ಸರಿಯಾದ ವಿವರಣೆಯಾಗಿದೆ
D. (A) ಮತ್ತು (R) ಎರಡೂ ಸರಿ ಆದರೆ (R), (A) ನ ಸರಿಯಾದ ವಿವರಣೆಯಲ್ಲ

Read the given Assertion (A) and Reason (R) and choose the correct answer.

Assertion (A) : The Greater Himalayas is called as Himadri

Reason (R) : The Greater Himalayas is covered with snow throughout the year.

- A. (A) is true, (R) is false
B. (A) is false, (R) is true
C. Both (A) and (R) are true and (R) is the correct explanation of (A)
D. Both (A) and (R) are true and (R) is not the correct explanation of (A)

75. SAARC ನ ವಿಸ್ತೃತ ರೂಪ :

- A. South Asian Association for Research and Construction
B. South Asian Association for Research and Co-Operation
C. South Asian Association for Reconstruction and Co-Ordination
D. South Asian Association for Regional Co-Operation

The expansion of SAARC is :

- A. South Asian Association for Research and Construction
B. South Asian Association for Research and Co-Operation
C. South Asian Association for Reconstruction and Co-Ordination
D. South Asian Association for Regional Co-Operation

76. ಪೂರ್ವ ಪ್ರಾಥಮಿಕ ತರಗತಿಯ ಆರಂಭಿಕ ಕಲಿಕಾಂಶ :

- A. ನನ್ನ ಶಾಲೆ
B. ನನ್ನ ಕುಟುಂಬ
C. ನನ್ನ ಸಮಾಜ
D. ನನ್ನ ಸ್ನೇಹಿತರು

The initial learning competency in Pre- Primary level is :

- A. My School
B. My Family
C. My Society
D. My Friends

77. ಶಿಕ್ಷಕರ ಪ್ರಾಥಮಿಕ ಕರ್ತವ್ಯ :

- A. ವಿದ್ಯಾರ್ಥಿಗಳ ಸಾಮಾಜಿಕ ಅಗತ್ಯತೆಗಳ ಪೂರೈಸುವಿಕೆ
B. ವಿದ್ಯಾರ್ಥಿಗಳಲ್ಲಿ ಸಮುದಾಯದ ಸಂಸ್ಕೃತಿಯನ್ನು ಅಳವಡಿಸುವುದು
C. ವಿದ್ಯಾರ್ಥಿಗಳ ಕಲಿಕೆಗೆ ಮಾರ್ಗದರ್ಶನ ಮಾಡುವುದು
D. ವಿದ್ಯಾರ್ಥಿಗಳಿಗೆ ತರಗತಿಯಲ್ಲಿ ಕಲಿಕಾ ಸನ್ನಿವೇಶವನ್ನು ಉಂಟುಮಾಡುವುದು

The primary duty of a teacher is :

- A. to fulfill the social needs of the students
B. to install the culture of the community among the students
C. to guide the learning of the students
D. to create a learning atmosphere in the class room for the students

78. "ಬನಾರಸ್ ಸಂಸ್ಕೃತ ಕಾಲೇಜಿ"ನ ಸ್ಥಾಪಕರು :

- A. ಜೋನಾಥನ್ ಡಂಕನ್
B. ಮದನ ಮೋಹನ ಮಾಳವೀಯ
C. ವಾರನ್ ಹೇಸ್ಟಿಂಗ್ಸ್
D. ಈಶ್ವರ ಚಂದ್ರ ವಿದ್ಯಾಸಾಗರ

"Banaras Sanskrit College" was established by :

- A. Jonathan Duncan
B. Madan Mohan Malaviya
C. Warren Hastings
D. Eshwar Chandra Vidyasagar

79. ಧನಾತ್ಮಕ ಕಲಿಕೆಯ ಮೇಲೆ ಪ್ರಭಾವ ಬೀರುವ ಅಂಶ :

- A. ಅಭಿಪ್ರೇರಣೆ
B. ಮರೆವು
C. ಆಯಾಸ
D. ಮನೋದೌರ್ಬಲ್ಯ

The factor affecting Positive learning is :

- A. Motivation
B. Forgetting
C. Fatigue
D. Mental Disability

K-01 A

80. ಪ್ರಾಥಮಿಕ ಶಾಲಾ ಹಂತದಲ್ಲಿ ವಿಜ್ಞಾನವನ್ನು ಬೋಧಿಸುವ ಅತ್ಯುತ್ತಮ ವಿಧಾನವೆಂದರೆ :

- A. ಪ್ರಾತ್ಯಕ್ಷಿಕಾ ವಿಧಾನ
B. ವಿಶ್ಲೇಷಣಾ ವಿಧಾನ
C. ಶೋಧನಾ ವಿಧಾನ
D. ಯೋಜನಾ ವಿಧಾನ

The best method to teach science at primary school level is :

- A. Demonstration Method
B. Analytical Method
C. Heuristic Method
D. Project Method

81. ತರಗತಿ ಮೇಲ್ವಿಚಾರಣೆಯ ಪ್ರಮುಖ ಉದ್ದೇಶ :

- A. ವಿದ್ಯಾರ್ಥಿಗಳನ್ನು ನಿಯಂತ್ರಿಸುವುದು
B. ವಿದ್ಯಾರ್ಥಿಗಳಲ್ಲಿ ಶಿಸ್ತನ್ನು ಮೂಡಿಸುವುದು
C. ವಿದ್ಯಾರ್ಥಿಗಳು ಪರಿಣಾಮಕಾರಿಯಾಗಿ ಕಲಿಯುವಂತೆ ಮಾಡುವುದು
D. ವಿದ್ಯಾರ್ಥಿಗಳಲ್ಲಿ ಭಯವನ್ನುಂಟು ಮಾಡುವುದು

The main purpose of classroom supervision is :

- A. to control the students
B. to build discipline in the students
C. to make the students learn effectively
D. to create fear in the minds of the students

82. ಪ್ರಕ್ಷೇಪಣಾ ತಂತ್ರಗಳು ಅಳತೆ ಮಾಡುವುದು :

- A. ಬುದ್ಧಿ ಶಕ್ತಿ
B. ವ್ಯಕ್ತಿತ್ವ
C. ಆಸಕ್ತಿ
D. ಮನೋವೃತ್ತಿ

The projective techniques measure :

- A. Intelligence
B. Personality
C. Interest
D. Attitude

83. ವಿಶೇಷ ಅಗತ್ಯತೆಯುಳ್ಳ ವಿದ್ಯಾರ್ಥಿಗಳ ಅಧ್ಯಯನಕ್ಕೆ ಶಿಕ್ಷಕರಿಗೆ ಸಹಾಯಕವಾಗುವ ವಿಧಾನ :

- A. ಅಂತರಾವಲೋಕನ ವಿಧಾನ
B. ಪ್ರಾಯೋಗಿಕ ವಿಧಾನ
C. ವೀಕ್ಷಣಾ ವಿಧಾನ
D. ವ್ಯಕ್ತಿ ಅಧ್ಯಯನ ವಿಧಾನ

The method which helps the teachers to study the children with special needs is :

- A. Introspective Method
B. Experimental Method
C. Observation Method
D. Case Study Method

84. ನಿರ್ದಿಷ್ಟ ದೃಷ್ಟಾಂತದಿಂದ ಸಾರ್ವತ್ರಿಕ ತತ್ವದಡೆಗೆ ಬೋಧಿಸುವ ಪದ್ಧತಿ :

- | | |
|------------------|-------------------------|
| A. ಯೋಜನಾ ಪದ್ಧತಿ | B. ವಿಶ್ಲೇಷಣಾತ್ಮಕ ಪದ್ಧತಿ |
| C. ಅನುಗಮನ ಪದ್ಧತಿ | D. ನಿಗಮನ ಪದ್ಧತಿ |

The method where a teacher begins from a specific example and arrives at a universal principle is :

- | | |
|---------------------|----------------------|
| A. Project Method | B. Analytical Method |
| C. Inductive Method | D. Deductive Method |

85. ಶೈಕ್ಷಣಿಕ ಉದ್ದೇಶಗಳ ವಲಯಗಳ ಸಂಖ್ಯೆ :

- | | |
|-----------|---------|
| A. ಎರಡು | B. ಮೂರು |
| C. ನಾಲ್ಕು | D. ಐದು |

The number of domains of educational objectives is :

- | | |
|---------|----------|
| A. Two | B. Three |
| C. Four | D. Five |

SUKUMAR Kadinakonda