

ತರಗತಿ 8  
ಸಮಾಜ  
ವಿಜ್ಞಾನ

ಕರ್ನಾಟಕ ಸರ್ಕಾರ, ದ.ಕ.ಜಿ.ಪಂ ಸಾರ್ವಜನಿಕ ಶಿಕ್ಷಣ ಇಲಾಖೆ  
ಕ್ಷೇತ್ರ ಶಿಕ್ಷಣಾಧಿಕಾರಿಯವರ ಕಛೇರಿ ಪುತ್ತೂರು  
ಕ್ಷೇತ್ರ ಸಂಪನ್ಮೂಲ ಕೇಂದ್ರ, ಪುತ್ತೂರು

## ಕಲಿಕಾಸಂಗಮ

- ವಿದ್ಯಾಗಮದೇ ಪುತ್ತೂರಿನ ನಡೆ..

ಘಟಕ 1  
ಆಧಾರಗಳು


ಚಟುವಟಿಕೆ 1 ನಿಮ್ಮ ತರಗತಿಯಲ್ಲಿ ಒಬ್ಬ ವಿದ್ಯಾರ್ಥಿಯು ಶಾಲೆಗೆ ಬರುವಾಗ ತಡವಾಯಿತು ಕಾರಣ ಕೇಳಿದಾಗ ತನಗೆ ಶಾಲೆಗೆ ಬರುವ ದಾರಿಯಲ್ಲಿ ಹುಲಿಯೊಂದು ಆಕ್ರಮಣ ಮಾಡಿದ್ದು, ಅದರೊಂದಿಗೆ ಹೋರಾಡಿ ತಪ್ಪಿಸಿಕೊಂಡು ಬರುವಾಗ ತಡವಾಯಿತು ಎಂದು ಹೇಳುತ್ತಾನೆ. ಈತನ ಹೇಳಿಕೆಯಲ್ಲಿ ನಂಬಲು ಸಾಧ್ಯವಿರುವ ಕಾರಣಗಳನ್ನು ಪಟ್ಟಿ ಮಾಡಿ.

- 1)
- 2)
- 3)
- 4)

ಆ ಘಟನೆಯನ್ನು ನಂಬಲು ಆಧಾರಗಳು ಬೇಕಾಯಿತು. ಆಧಾರವಿಲ್ಲದೆ ಯಾವುದೇ ಘಟನೆಯನ್ನು ನಂಬಲು ಸಾಧ್ಯವಿಲ್ಲ. ಇತಿಹಾಸಕ್ಕೂ ಆಧಾರಗಳು ಬೇಕಾಗುತ್ತದೆ. ಅದರಲ್ಲಿ ಪ್ರಮುಖವಾದುದು 1)ಪ್ರಾಕೃತ ಆಧಾರಗಳು 2)ಸಾಹಿತ್ಯಕ ಆಧಾರಗಳು

ಚಟುವಟಿಕೆ 2 ಈ ಚಿತ್ರಗಳನ್ನು ಗಮನಿಸಿ ನಿನ್ನ ಅನಿಸಿಕೆಗಳನ್ನು ಪಟ್ಟಿ ಮಾಡು.

1



ಚಟುವಟಿಕೆ 3 ಇಲ್ಲಿ ಕೊಡಲಾದ ಸಾಹಿತಿಗಳು ಮತ್ತು ಅವರ ಕೃತಿಗಳನ್ನು ಗಮನಿಸು.

ಸಾಹಿತಿಗಳ ಹೆಸರು	ಸಾಹಿತ್ಯ	ಸಾಹಿತಿಗಳ ಹೆಸರು	ಸಾಹಿತ್ಯ
ಕೌಟಿಲ್ಯ	ಅರ್ಥಶಾಸ್ತ್ರ	ಪಂಪ	ವಿಕ್ರಮಾರ್ಜುನ ವಿಜಯ
ಬಾಣಭಟ್ಟ	ಹರ್ಷಚರಿತ	ಹೂಯನ್ ತ್ಸಾಂಗ್	ಸಿ-ಯು-ಕಿ
ಮೆಗಸ್ತನೀಸ	ಇಂಡಿಕಾ	ಬಾಬರ	ತುಜ್-ಕಿ ಬಾಬರಿ
ಹಾಲರಾಜ	ಗಾಥಾಸಪ್ತಶದಿ	ಟಾಲೆಮಿಯ	ಜಿಯೋಗ್ರಾಫಿ
ಫಾಹಿಯಾನ	ಘೋ-ಕೋ-ಕಿ	ವಿಶಾಖದತ್ತ	ಮುದ್ರಾರಾಕ್ಷಸ

ಮೇಲಿನ ಸಾಹಿತಿಗಳನ್ನು ದೇಶೀಯ ಸಾಹಿತ್ಯ ಮತ್ತು ವಿದೇಶೀಯ ಸಾಹಿತ್ಯಕಾರರು ಎಂದು ವಿಂಗಡಿಸಿ.

ದೇಶೀಯ ಸಾಹಿತ್ಯ	ವಿದೇಶೀಯ ಸಾಹಿತ್ಯ

ಚಟುವಟಿಕೆ 4 ಚಿತ್ರನೋಡಿ ಇವುಗಳು ಏನೆಂದು ಬರೆಯಿರಿ.



ತರಗತಿ 8  
ಸಮಾಜ  
ವಿಜ್ಞಾನ

ಕರ್ನಾಟಕ ಸರ್ಕಾರ, ದ.ಕ.ಜಿ.ಪಂ ಸಾರ್ವಜನಿಕ ಶಿಕ್ಷಣ ಇಲಾಖೆ  
ಕ್ಷೇತ್ರ ಶಿಕ್ಷಣಾಧಿಕಾರಿಯವರ ಕಛೇರಿ ಪುತ್ತೂರು  
ಕ್ಷೇತ್ರ ಸಂಪನ್ಮೂಲ ಕೇಂದ್ರ, ಪುತ್ತೂರು

## ಕಲಿಕಾಸಂಗಮ

- ವಿದ್ಯಾಗಮದೇ ಪುತ್ಸೂರಿನ ನಡೆ..

ಘಟಕ ೧  
ಭೌಗೋಳಿಕ  
ಲಕ್ಷಣಗಳು  
ಹಾಗೂ ಚರಿತ್ರೆ  
ಪೂರ್ವಭಾರತ

ಚಟುವಟಿಕೆ 1 ಅ) ನಿನ್ನ ಮನೆಯಲ್ಲಿ ಹಬ್ಬ ದಿನ ತಯಾರಿಸುವ ವಿವಿಧ ತಿಂಡಿ, ತಿನಿಸುಗಳನ್ನು ಪಟ್ಟಿ ಮಾಡು

1) 2) 3) 4) 5)

ಅ) ಇಲ್ಲಿ ಕೊಡಲಾದ ಆಹಾರ ಪದಾರ್ಥದಲ್ಲಿ ನಿಮ್ಮ ಮನೆಯಲ್ಲಿ ಮಾಡದ ಆಹಾರಪದಾರ್ಥ ಯಾವುದು ನೀರುದೋಸೆ, ಅಕ್ಕಿರೊಟ್ಟಿ, ಇಡ್ಲಿ, ಆಲೂಪರೋಟೆ, ಉಪ್ಪಿಟ್ಟು, ಇ) ನಿಮ್ಮ ಮನೆಯಲ್ಲಿ ಆ ತಿಂಡಿಯನ್ನು ಮಾಡದಿರಲು ಕಾರಣವನ್ನು ಗುರುತಿಸು

\* ಅದೊಂದು ತಿಂಡಿಯಲ್ಲ \* ಅದೊಂದು ಸ್ಥಳದ ಹೆಸರು

\* ಅದು ಉತ್ತರ ಭಾರತದ ತಿಂಡಿ \* ಅದು ಒಂದು ಕ್ರೀಡೆಯ ಹೆಸರು

ಚಟುವಟಿಕೆ 2 ನೀನು ಈ ಚಿತ್ರದಲ್ಲಿ ಏನನ್ನು ಗಮನಿಸುವೆ . ಪಟ್ಟಿಮಾಡು



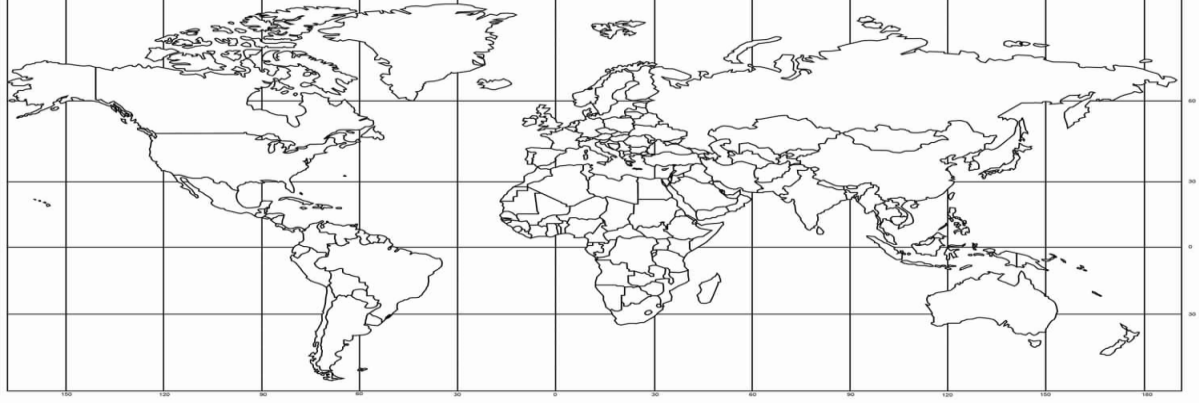
ಚಟುವಟಿಕೆ 3 ನೀನು ಗಮನಿಸಿದಂತೆ ನಿನ್ನ ಊರಿನ ಜನರ ಮುಖ್ಯ ಕಸುಬುಗಳನ್ನು ಪಟ್ಟಿಮಾಡು

1 2 3

ಒಂದು ಪ್ರದೇಶದಲ್ಲಿನ ಜನರ ಆಹಾರ ಪದ್ಧತಿಗಳು ಧರಿಸುವ ಬಟ್ಟೆಗಳು, ಕೆಲಸ ಮತ್ತು ಸಂಸ್ಕೃತಿಗಳು ಭೌಗೋಳಿಕತೆಯಿಂದ ಪ್ರಭಾವಿತವಾಗಿದೆ

ಚಟುವಟಿಕೆ-೪ ಪ್ರಪಂಚದ ಭೂಪಟದಲ್ಲಿ ಭಾರತವನ್ನು ಗುರುತಿಸಿ

World Mercator Projection Map with Country Outlines



This is a royalty free image that can be used for your personal, corporate or education projects. It can not be resold or freely distributed, if you need an editable PowerPoint or Adobe Illustrator version of this map please visit [www.bjdesign.com](http://www.bjdesign.com) or [www.mapsfordesign.com](http://www.mapsfordesign.com). This text can be cropped off. © Copyright J. Bruce Jones 2019

ಭಾರತದ ಭೌಗೋಳಿಕ ಲಕ್ಷಣಗಳನ್ನಪಟ್ಟಿಮಾಡು

- 1
- 2
- 3
- 4

ಚಟುವಟಿಕೆ ೫

ಅ) ನೀವು ಆಹಾರವನ್ನು ಹೇಗೆ ತಯಾರಿಸಿಕೊಳ್ಳುತ್ತೀರಾ ?


ಸಾವಿರಾರು ವರ್ಷಗಳ ಹಿಂದೆ ಮಾನವರು ಯಾವ ತರಹದ ಆಹಾರವನ್ನು ತಯಾರಿಸಿಕೊಳ್ಳುತ್ತಿದ್ದರು ?

ಆ) ನೀವು ಯಾವ ರೀತಿ ಉಡುಗೆಗಳನ್ನು ಧರಿಸುತ್ತೀರಾ ?

ಸಾವಿರಾರು ವರ್ಷಗಳ ಹಿಂದೆ ಮಾನವರು ಯಾವ ರೀತಿಯ ಉಡುಗೆಗಳನ್ನು ಧರಿಸುತ್ತಿದ್ದರು ?

ಇ) ನೀವು ಯಾವ ರೀತಿಯ ಮನೆಗಳಲ್ಲಿ ವಾಸಿಸುತ್ತಿದ್ದೀರಾ ?

ಸಾವಿರಾರು ವರ್ಷಗಳ ಹಿಂದೆ ಯಾವ ರೀತಿಯ ಮನೆಗಳಲ್ಲಿ ವಾಸಿಸುತ್ತಿದ್ದರು ?



ಚಟುವಟಿಕೆ ೬ ಈ ಕೆಳಗಿನ ಚಿತ್ರವನ್ನು ಗಮನಿಸಿ ಅದಕ್ಕೆ ಸರಿಯಾಗಿ ಹೊಂದಿಕೆಯಾಗುವ ಹೇಳಿಕೆಯನ್ನು ಗುರುತು ಮಾಡಿ ( ಸರಿ / ತಪ್ಪು)

ಅ) ಇದು ಆಧುನಿಕ ನಗರ ಜೀವನದ ದೃಶ್ಯವಾಗಿದೆ. ( )

ಆ) ಈ ಕಾಲಘಟ್ಟದ ಜನರು ಕಲ್ಲಿನ ಆಯುಧಗಳನ್ನು ಬಳಸುತ್ತಿದ್ದರು.

ಇ) ಈ ಜನರು ಮಾಂಸವನ್ನು ಹಸಿಯಾಗಿಯೇ ತಿನ್ನುತ್ತಿದ್ದರು.

ಈ) ಪ್ರಾಣಿಗಳನ್ನು ಮಾಂಸಕ್ಕಾಗಿ ಮಾತ್ರ ಸಾಕುತ್ತಿದ್ದರು.

ಉ) ಈ ಜನರು ಪೊಟರೆಗಳಲ್ಲಿ ವಾಸಿಸುತ್ತಿದ್ದರು.

ಊ) ಈ ಜನರು ನದಿ ದಡಗಳಲ್ಲಿ ವಾಸಿಸುತ್ತಿದ್ದರು.

ಋ) ಈ ಜನರು ಬೆಂಕಿಯ ಬಳಕೆಯನ್ನು ತಿಳಿದಿದ್ದರು.

ಹಳೆಯ ಶಿಲಾಯುಗ, ಮಧ್ಯಶಿಲಾಯುಗ ಮತ್ತು ನವ ಶಿಲಾಯುಗಗಳಲ್ಲಿ ಮಾನವನ ಬದುಕಿನಲ್ಲಿ ಸಾಕಷ್ಟು ಬದಲಾವಣೆಗಳು ಆಗಿವೆ. ಯೋಚಿಸಿ ಬರೆ.

ತರಗತಿ 8

ಸಮಾಜ  
ವಿಜ್ಞಾನ

ಕರ್ನಾಟಕ ಸರ್ಕಾರ, ದ.ಕ.ಜಿ.ಪಂ ಸಾರ್ವಜನಿಕ ಶಿಕ್ಷಣ ಇಲಾಖೆ  
ಕ್ಷೇತ್ರ ಶಿಕ್ಷಣಾಧಿಕಾರಿಯವರ ಕಛೇರಿ ಪುತ್ತೂರು  
ಕ್ಷೇತ್ರ ಸಂಪನ್ಮೂಲ ಕೇಂದ್ರ, ಪುತ್ತೂರು

## ಕಲಿಕಾಸಂಗಮ

- ವಿದ್ಯಾಗಮದೇ ಪುತ್ತೂರಿನ ನಡೆ..

ಘಟಕ 3  
ಭಾರತದ  
ಪ್ರಾಚೀನ  
ನಾಗರಿಕತೆಗಳು

ಈ ಹೇಳಿಕೆಗಳನ್ನು ಗಮನಿಸಿ. ಚಿತ್ರದ ಕೆಳಗೆ ಸರಿ ಹೊಂದುವ ವಾಕ್ಯವನ್ನು ಬರೆಯಿರಿ

• ಚಟುವಟಿಕೆ ೧

ಇವರ ಒಂದು ಕಡೆ ನೆಲೆ ನಿಂತು ಬೇಸಾಯ ಪ್ರಾರಂಭಿಸಿದರು.

ತಮ್ಮ ಆಹಾರಕ್ಕಾಗಿ ಹುಡುಕಾಟ ನಡೆಸುತ್ತಿದ್ದರು.

ಇವರನ್ನು ಅಲೆಮಾರಿಗಳು ಎಂದು ಕರೆಯುತ್ತೇವೆ.

ಸಾಕು ಪ್ರಾಣಿಗಳನ್ನು ಸಾಕುತ್ತಿದ್ದರು .

ಆಧುನಿಕ ಜೀವನಶೈಲಿಯಲ್ಲಿ ಬದುಕು ನಡೆಸುತ್ತಿದ್ದರು.

ಒಂದು ಕಡೆಯಿಂದ ಮತ್ತೊಂದು ಸ್ಥಳಕ್ಕೆ ವಲಸೆ ಹೋಗುತ್ತಿದ್ದರು.

ಕ್ರೂರ ಮೃಗಗಳ ರಕ್ಷಣೆಗೆ ಡೇರೆಗಳನ್ನು ಗುಹೆಗಳನ್ನು ಅವಲಂಬಿಸುತ್ತಿದ್ದರು..

ಗುಡಿಸಲುಗಳನ್ನು ಮನೆಗಳನ್ನು ಕಟ್ಟಿಕೊಂಡು ಜೀವನ ಸಾಗಿಸುತ್ತಿದ್ದರು



-----  
-----  
-----  
-----  
-----  
-----  
-----  
-----  
-----  
-----

-----  
-----  
-----  
-----  
-----  
-----  
-----  
-----  
-----  
-----

ಈ ಮೇಲಿನ ಎರಡು ಜೀವನಶೈಲಿಯಲ್ಲಿ ನಿನ್ನ ಆಯ್ಕೆ ಯಾವುದು?

-----

**ಚಟುವಟಿಕೆ 2** ಮನುಷ್ಯನು ಮನೆಯನ್ನು ಕಟ್ಟಿಕೊಂಡು ಸ್ಥಿರ ಜೀವನ ಕಂಡುಕೊಳ್ಳಲು ಆ ಪ್ರದೇಶದಲ್ಲಿರ ಬೇಕಾದ ಮೂಲ ಅವಶ್ಯಕತೆಗಳನ್ನು ಪಟ್ಟಿಮಾಡಿ

\*

\*

\*

\*

\*

**ಚಟುವಟಿಕೆ 3** ಇಲ್ಲಿ ನೀರಿನ ಆಕರಗಳನ್ನು ಅವುಗಳ ಗಾತ್ರಕ್ಕನುಗುಣವಾಗಿ ಏರಿಕೆ ಕ್ರಮದಲ್ಲಿ ಬರೆಯಿರಿ. ಸರೋವರ ಬಾವಿ, ಕೊಳ, ನದಿ, ಸಮುದ್ರ, ಕೆರೆ, ಸಾಗರ,

**ಚಟುವಟಿಕೆ 4. ರಸಪ್ರಶ್ನೆ**

1. ಹರಪ್ಪ ನಾಗರಿಕತೆಗಿರುವ ಮತ್ತೊಂದು ಹೆಸರೇನು ?
2. ಭಾರತದಲ್ಲಿ ಕಂಡುಬಂದ ನಾಗರಿಕತೆಗಳು ಯಾವುವು
3. ಯಾವ ನದಿಯ ದಡದಲ್ಲಿ ಹರಪ್ಪ ನಾಗರಿಕತೆ ಕಂಡುಬಂತು ?
4. ಯಾವ ನಗರದಲ್ಲಿ ಪ್ರಸಿದ್ಧವಾದ ಸ್ನಾನದ ಕೊಳ ಕಂಡುಬಂತು ?
5. ಬೆಂಕಿಯ ಒಲೆಗಳು ಕಂಡು ಬಂದ ನಗರಗಳು ಯಾವುವು?

**ಚಟುವಟಿಕೆ - 5**

**ಹರಪ್ಪ ನಗರ ಯೋಜನೆಗೆ ಸಂಬಂಧಿಸಿದಂತೆ ಈ ಕೆಳಗಿನ ಯಾವ ಹೇಳಿಕೆಗಳು ಸರಿಯಾಗಿವೆ ?**

- ಇವರು ಮಣ್ಣಿನಿಂದ ಮನೆಗಳನ್ನು ಕಟ್ಟುತ್ತಿದ್ದರು
- ಕಿಟಕಿಗಳು ರಸ್ತೆಗೆ ಮುಖ ಮಾಡಿದ್ದವು
- ನಗರಗಳು ಒಳಚರಂಡಿ ವ್ಯವಸ್ಥೆ ಹೊಂದಿದ್ದವು
- ಚರಂಡಿಗಳನ್ನು ಶುಚಿಯಾಗಿಡಲು ರಂಧ್ರಗಳಿದ್ದವು
- ಚರಂಡಿಗಳನ್ನು ಚಪ್ಪಡಿಗಳಿಂದ ಮುಚ್ಚಲಾಗಿತ್ತು

## ಚಟುವಟಿಕೆ -6

ಹರಪ್ಪನಗರ ಯೋಜನೆಗೂ ನಮ್ಮ ಇಂದಿನ ನಗರಯೋಜನೆಗೂ ಇರುವ ಯಾವುದಾದರೂ 4 ಸಾಮ್ಯತೆಗಳನ್ನು ಪಟ್ಟಿಮಾಡಿ

ವೇದಗಳ ಕಾಲ

ಸಾಮವೇದ,ಯಜುರ್ವೇದ,ಋಗ್ವೇದ,ಅಥರ್ವವೇದ ಇವುಗಳನ್ನು ಅನುಕ್ರಮವಾಗಿ ಜೋಡಿಸು

## ಚಟುವಟಿಕೆ 7

ಋಗ್ವೇದ ಕಾಲದ ಕೆಳಗಿನ ಹೇಳಿಕೆಗಳನ್ನು ಸೂಕ್ತಜಾಗಗಳಲ್ಲಿ ತುಂಬಿ

- ಈ ಕಾಲದಲ್ಲಿ ಸಭಾ ಮತ್ತು ಸಮಿತಿ ಎಂಬ ಶಬ್ದಗಳ ಉಲ್ಲೇಖವಿತ್ತು
- ಮೂರ್ತಿ ಪೂಜೆ ಇರಲಿಲ್ಲ.
- ಮಿಶ್ರಲೋಹವಾದ ಕಂಚನ್ನು ಆಯಸ್ ಎಂದು ಕರೆಯುತ್ತಿದ್ದರು
- ಪಿತೃಪ್ರಧಾನ ಕುಟುಂಬ ವ್ಯವಸ್ಥೆಯಿತ್ತು.

ಸಾಮಾಜಿಕ ವ್ಯವಸ್ಥೆ -----

ಅರ್ಥವ್ಯವಸ್ಥೆ -----

ರಾಜಕೀಯ ವ್ಯವಸ್ಥೆ -----

ಧಾರ್ಮಿಕ ವ್ಯವಸ್ಥೆ -----

## ಚಟುವಟಿಕೆ -2

ಸರಿಯಾದ ಉತ್ತರವನ್ನು ಆರಿಸಿ ಬರೆಯಿರಿ

- 1.ಅಥರ್ವ ವೇದವು -----ರೂಪದಲ್ಲಿದೆ (ಪದ್ಯ,ಗದ್ಯ,ಶ್ಲೋಕ,ಚಂಪೂ)
- 2.ವರ್ಣ ವ್ಯವಸ್ಥೆಯಲ್ಲಿ ಕೊನೆಯ ವರ್ಗ ----- (ಕ್ಷತ್ರಿಯ,ಬ್ರಾಹ್ಮಣ,ಶೂದ್ರ,ವೈಶ್ಯ)
- 3.ಆರು ಮತ್ತು ಎಂಟು ಎತ್ತುಗಳ ನೇಗಿಲಿನ ಪ್ರಸ್ತಾಪವಿರುವ ವೇದ  
( ಋಗ್ವೇದ,ಯಜುರ್ವೇದ,ಸಾಮವೇದ,ಅಥರ್ವವೇದ)
4. ರಾಜನು ಅಧಿಕಾರಕ್ಕೆ ಬರಲು ನಡೆಸುತ್ತಿದ್ದ ಪಟ್ಟಾಭಿಷೇಕದ ಆಚರಣೆಯ ಹೆಸರು  
( ರಾಜಸೂಯ,ಅಶ್ವಮೇಧ ಯಾಗ,ವಾಜಪೇಯ,ಉಪನಿಷತ್)
5. ಬಡಗಿಯ ವೃತ್ತಿ ಗೌರವಯುತವಾದುದು ----- ತಯಾರಿಕೆಯಿಂದ  
(ನೇಗಿಲು,ರಥ,ಮನೆ, ಬಿಲ್ಲು)