

# ಸೇತುಬಂಧ ಅಭ್ಯಾಸದ ಹಾಳೆ - 01

ಸಾಮರ್ಥ್ಯ:-1 ಆಧಾರಗಳು, ಇತಿಹಾಸ ಪೂರ್ವ ಕಾಲ ಮತ್ತು ಐತಿಹಾಸಿಕ ಪ್ರಜ್ಞೆ}

ತರಗತಿ: 8 ವಿದ್ಯಾರ್ಥಿಯ ಹೆಸರು:

ವಿಷಯ: ಸಮಾಜ ವಿಜ್ಞಾನ

ಮುಸ್ತಕದ ಸಹಾಯದಿಂದ ಇವರನ್ನು ಹೆಸರಿಸಿ:








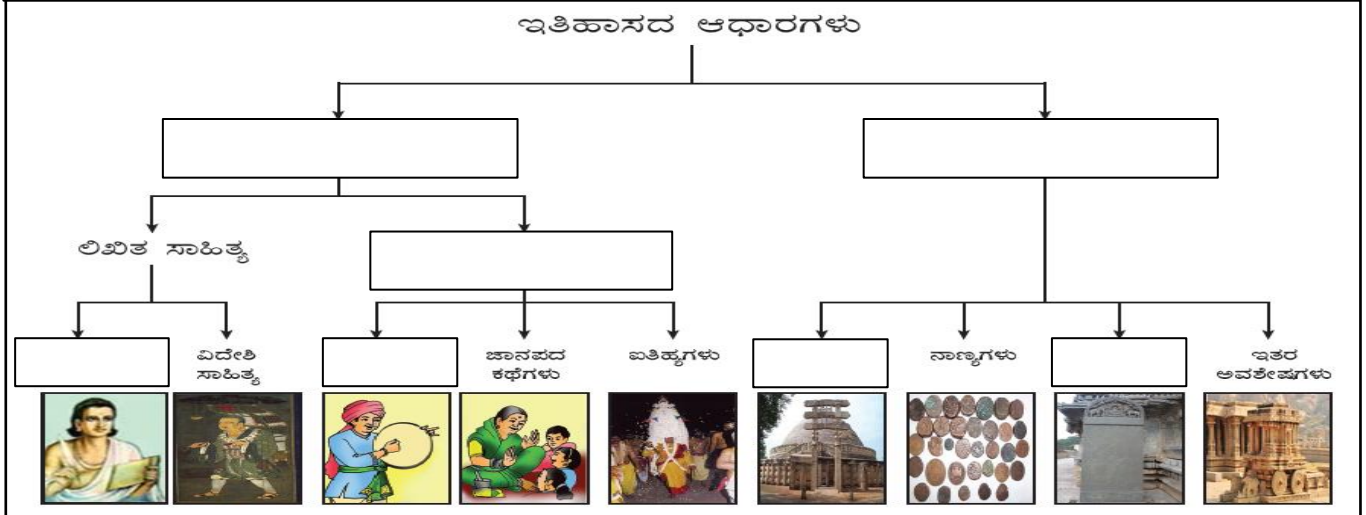
- I. ಕೆಳಗಿನ ಬಿಟ್ಟಿರುವ ಸ್ಥಳಗಳನ್ನು ಸರಿಯಾದ ಪದಗಳಿಂದ ತುಂಬಿರಿ:
- 1) ಇತಿಹಾಸದ ಪಿತಾಮಹ \_\_\_\_\_.
  - 2) ಮಾನವನು ಬಳಸಿದ ಮೊದಲ ಲೋಹ \_\_\_\_\_.
  - 3) ಸಂಗನಕಲ್ಲು \_\_\_\_\_ ಉತ್ಪಾದನೆಯ ನೆಲೆಯಾಗಿತ್ತು.
  - 4) ಮಧ್ಯ ಶಿಲಾಯುಗವನ್ನು \_\_\_\_\_ ಎಂದೂ ಕರೆಯುವರು.
- II. ಕೆಳಗಿನ ಪ್ರಶ್ನೆಗಳಿಗೆ ಒಂದು ಪದ/ವಾಕ್ಯದಲ್ಲಿ ಉತ್ತರಿಸಿರಿ:
- 1) ಇತಿಹಾಸ ಎಂದರೇನು?
  - 2) ಪುರತತ್ವ ಆಧಾರಗಳು ಎಂದರೇನು?
  - 3) ಪ್ರಾಗೈತಿಹಾಸಿಕ ಕಾಲ ಎಂದರೇನು?
  - 4) ಯಾವ ಯುಗದಲ್ಲಿ ಮಾನವ ಕೃಷಿಯನ್ನು ಪ್ರಾರಂಭಿಸಿದನು?

ಕರ್ನಾಟಕದಲ್ಲಿನ ಶಿಲಾಯುಗದ ನೆಲೆಗಳನ್ನು ಹೆಸರಿಸಿ:
ಹಳೆ ಶಿಲಾಯುಗ
ಮಧ್ಯ ಶಿಲಾಯುಗ
ನವ ಶಿಲಾಯುಗ

ಈ ಚಿತ್ರಗಳನ್ನು ಗಮನಿಸಿ ಪ್ರಾಗೈತಿಹಾಸಿಕ ಕಾಲದ 3 ಹಂತಗಳನ್ನು ಹೆಸರಿಸಿ:

ಆಧಾರಗಳ ಪ್ರಕಾರಗಳಿಗೆ ಸಂಬಂಧಿಸಿದಂತೆ ಈ ಕೆಳಗಿನ ಚರ್ಚಿನಲ್ಲಿ ಖಾಲಿ ಬಿಟ್ಟಿರುವ ಸ್ಥಳಗಳನ್ನು ಸೂಕ್ತ ಪದಗಳಿಂದ ತುಂಬಿರಿ:




## ಸೇತುಬಂಧ ಅಭ್ಯಾಸದ ಹಾಳೆ - 02

(ಸಾಮರ್ಥ್ಯ:-2 ಭಾರತ ಮತ್ತು ಜಗತ್ತಿನ ಪ್ರಾಚೀನ ನಾಗರಿಕತೆಗಳು)

ತರಗತಿ: 8 ವಿದ್ಯಾರ್ಥಿಯ ಹೆಸರು:

ವಿಷಯ: ಸಮಾಜ ವಿಜ್ಞಾನ



ಈ ಕೆಳಗಿನವುಗಳನ್ನು ಗುರುತಿಸಿ:

I. ಕೆಳಗಿನ ಬಿಟ್ಟಿರುವ ಸ್ಥಳಗಳನ್ನು ಸರಿಯಾದ ಪದಗಳಿಂದ ತುಂಬಿ:

- 1) ಹರಪ್ಪನ್ನರು \_\_\_\_\_ ದೇವತೆಯನ್ನು ಪೂಜಿಸುತ್ತಿದ್ದರು.
- 2) ಜಗತ್ತಿನ ಮೊತ್ತಮೊದಲ ಸಾಮ್ರಾಜ್ಯ \_\_\_\_\_.
- 3) ಬ್ಯಾಬಿಲೋನ್ ತೂಗು ಉದ್ಯಾನ ನಿರ್ಮಿಸಿದವನು \_\_\_\_\_.
- 4) ಚೀನಿಯರು \_\_\_\_\_ ಲಿಪಿಯ ಮೂಲಕ ಬರೆಯುತ್ತಿದ್ದರು.
- 5) ವೈದ್ಯಶಾಸ್ತ್ರದ ಪಿತಾಮಹ \_\_\_\_\_.
- 6) ರೋಮನ್ನರ ಭಾಷೆ \_\_\_\_\_.
- 7) ರೋಮನ್ನರ ಮೂಲ ಪುರುಷರು \_\_\_\_\_.

II. ಕೆಳಗಿನ ಪ್ರಶ್ನೆಗಳಿಗೆ ಒಂದು ಪದ/ವಾಕ್ಯದಲ್ಲಿ ಉತ್ತರಿಸಿ:

- 1) ಜಗತ್ತಿನಲ್ಲೇ ಹತ್ತಿ ಬೆಳೆದ ಮೊದಲ ದೇಶ ಯಾವುದು?
- 2) ಜಗತ್ತಿನ ಉದ್ದವಾದ ನದಿ ಯಾವುದು?
- 3) ಫೆರೋ ಎಂದರೆ ಯಾರು?
- 4) ಇತಿಹಾಸದ ಪಿತಾಮಹ ಎಂದು ಯಾರನ್ನು ಕರೆಯುತ್ತಾರೆ?

III. ಕೆಳಗಿನವುಗಳನ್ನು ಹೊಂದಿಸಿ ಬರೆಯಿರಿ:

- |                        |                       |
|------------------------|-----------------------|
| 'ಅ' ಪಟ್ಟಿ              | 'ಬ' ಪಟ್ಟಿ             |
| 1. ಕಲೋಸಿಯಂ             | ಎ. ಚೀನಾದ ಮಹಾಗೋಡೆ      |
| 2. ಸಾರ್ವಜನಿಕ ಸ್ನಾನ ಗೃಹ | ಬಿ. ಅಕಾಡೆಮಿ           |
| 3. ಪ್ಲೇಟೋ              | ಸಿ. ರೋಮಿನ ವಾಸ್ತುಶಿಲ್ಪ |
| 4. ಪಿ ಹ್ಲಾಂಗ್ ತಿ       | ಡಿ. ಖುಫು              |
| 5. ಗಿಜೆ ಪಿರಮಿಡ್        | ಇ. ಮೊಹೆಂಜೊದಾರೊ        |

ನಾಲ್ಕು ವೇದಗಳನ್ನು ಹೆಸರಿಸಿ:

ನಾಲ್ಕು ವರ್ಣಗಳನ್ನು ಹೆಸರಿಸಿ:

ಹರಪ್ಪ ನಾಗರಿಕತೆಯ ನಗರಗಳನ್ನು ಹೆಸರಿಸಿ:

ಪಠ್ಯಪುಸ್ತಕ ಅವಲೋಕಿಸಿ ಈ ಕೆಳಗಿನ ಮಾಹಿತಿಯನ್ನು ಪೂರ್ಣಗೊಳಿಸಿ:

ನಾಗರಿಕತೆ	ನದಿ ದಂಡೆ	ಯಾವುದಾದರೊಂದು ವೈಶಿಷ್ಟ್ಯ
ಹರಪ್ಪ ನಾಗರಿಕತೆ		
ಈಜಿಪ್ಟ್ ನಾಗರಿಕತೆ		
ಮೆಸಪಟೋಮಿಯಾ ನಾಗರಿಕತೆ		
ಚೀನಾ ನಾಗರಿಕತೆ		
ರೋಮ್ ನಾಗರಿಕತೆ		

# ಸೇತುಬಂಧ ಅಭ್ಯಾಸದ ಹಾಳೆ - 03

(ಸಾಮರ್ಥ್ಯ:-3 ಭಾರತ ಮತ್ತು ಕರ್ನಾಟಕವನ್ನು ಆಳಿದ ಪ್ರಮುಖ ರಾಜಮನೆತನಗಳು)

ತರಗತಿ: 8 ವಿದ್ಯಾರ್ಥಿಯ ಹೆಸರು:

ವಿಷಯ: ಸಮಾಜ ವಿಜ್ಞಾನ

ಈ ಕೆಳಗಿನ ಸ್ಮಾರಕಗಳನ್ನು ಹೆಸರಿಸಿ:



I. ಕೆಳಗಿನ ಬಿಟ್ಟಿರುವ ಸ್ಥಳಗಳನ್ನು ಸರಿಯಾದ ಪದಗಳಿಂದ ತುಂಬಿರಿ:

- 1) ಕವಿ ಚಕ್ರವರ್ತಿ ಎಂಬ ಬಿರುದು ಗಳಿಸಿದ ಕವಿ \_\_\_\_\_.
- 2) ಚೋಳರ ರಾಜಧಾನಿ \_\_\_\_\_.
- 3) ದೇವಾಲಯಗಳ ಚಕ್ರವರ್ತಿ ಎನಿಸಿಕೊಂಡ ದೇವಾಲಯ \_\_\_\_\_.
- 4) ಕಂಚಿಯ ಪಲ್ಲವರ ಪ್ರಸಿದ್ಧ ದೊರೆ \_\_\_\_\_.
- 5) ದೇವಾಲಯಗಳ ವಾಸ್ತುಶಿಲ್ಪದ ತೊಟ್ಟಿಲು \_\_\_\_\_.
- 6) ಅಶೋಕನ ಶಾಸನಗಳು ಪ್ರಧಾನವಾಗಿ \_\_\_\_\_ ಲಿಪಿಯಲ್ಲಿವೆ.
- 7) ಬಹುಮನಿ ಸಾಮ್ರಾಜ್ಯದ ಸ್ಥಾಪಕ \_\_\_\_\_.
- 8) ಅಮುಕ್ತ ಮೌಲ್ಯದ ಗ್ರಂಥವನ್ನು ಬರೆದವನು \_\_\_\_\_.

ಉತ್ತರ ಭಾರತವನ್ನಾಳಿದ ರಾಜ ಮನೆತನಗಳನ್ನು ಹೆಸರಿಸಿ:

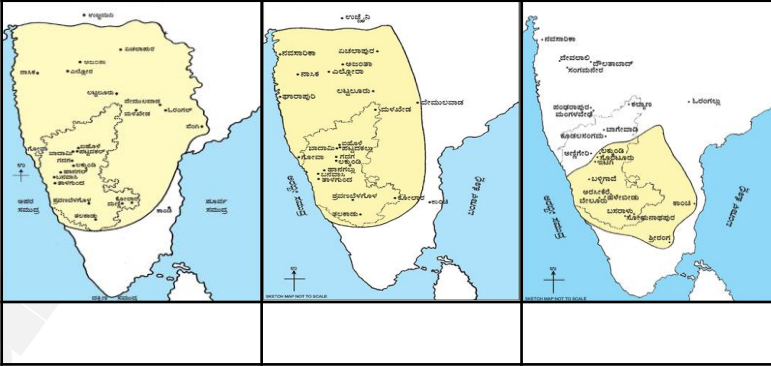

III. ಕೆಳಗಿನವುಗಳನ್ನು ಹೊಂದಿಸಿ ಬರೆಯಿರಿ:

- |                      |                      |
|----------------------|----------------------|
| 'ಅ' ಪಟ್ಟಿ            | 'ಬ' ಪಟ್ಟಿ            |
| 1. ಮೌರ್ಯರು           | ಅ. 2ನೇ ತೈಲಪ          |
| 2. ದೆಹಲಿ ಸುಲ್ತಾನರು   | ಆ. ಪಷ್ಯಭೂತಿ          |
| 3. ಮೊಘಲರು            | ಇ. ಕುತ್ಬುದ್ದೀನ್ ಐಬಕ್ |
| 4. ಕಲ್ಯಾಣದ ಚಾಲುಕ್ಯರು | ಈ. ಬಾಬರ್             |
| 5. ವರ್ಧನರು           | ಉ. ಚಂದ್ರಗುಪ್ತ        |

ಈ ಕೆಳಗಿನ ಕವಿಗಳ ಗ್ರಂಥಗಳನ್ನು ಹೆಸರಿಸಿ:

- |                |
|----------------|
| ಕಾಳಿದಾಸ -      |
| ಶ್ರೀಪುರುಷ -    |
| ಶ್ರೀವಿಜಯ -     |
| 3ನೇ ಸೋಮೇಶ್ವರ - |
| ಕುಮಾರ ವ್ಯಾಸ -  |

ಈ ಕೆಳಗಿನ ಸಾಮ್ರಾಜ್ಯದ ಗಡಿಗಳನ್ನು ಗಮನಿಸಿ ಸಾಮ್ರಾಜ್ಯವನ್ನು ಹೆಸರಿಸಿ:



ವಿಜಯನಗರ ಸಾಮ್ರಾಜ್ಯವನ್ನಾಳಿದ 4 ಮನೆತನಗಳನ್ನು ತಿಳಿಸಿ:


ರಾಜಮನೆತನ	ಸ್ಥಾಪಕ	ರಾಜಧಾನಿ	ಪ್ರಸಿದ್ಧ ದೊರೆ	ಲಾಂಛನ
ಕದಂಬರು				
ಗಂಗರು				
ಬಾ. ಚಾಲುಕ್ಯರು				
ಹೊಯ್ಸಳರು				
ವಿಜಯನಗರ				
ಒಡೆಯರು				




## ಸೇತುಬಂಧ ಅಭ್ಯಾಸದ ಹಾಳೆ - 04

{ಸಾಮರ್ಥ್ಯ:-4 ಧರ್ಮಗಳು ಹಾಗೂ ಸಾಮಾಜಿಕ ಮತ್ತು ಧಾರ್ಮಿಕ ಸುಧಾರಣೆ ಚಳುವಳಿಗಳು}

ತರಗತಿ: 8 ವಿದ್ಯಾರ್ಥಿಯ ಹೆಸರು:

ವಿಷಯ: ಸಮಾಜ ವಿಜ್ಞಾನ

ಇವರನ್ನು ಹೆಸರಿಸಿ:



I. ಕೆಳಗಿನ ಬಿಟ್ಟಿರುವ ಸ್ಥಳಗಳನ್ನು ಸರಿಯಾದ ಪದಗಳಿಂದ ತುಂಬಿ:

- 1) ಚೈತನ್ಯರ ಮೊದಲ ಹೆಸರು \_\_\_\_\_.
- 2) ತುಳಸಿದಾಸರ ಪ್ರಸಿದ್ಧ ಗ್ರಂಥ \_\_\_\_\_.
- 3) ಬಂದೇನವಾಜ್ ಎಂದರೆ \_\_\_\_\_ ಎಂದರ್ಥ.
- 4) ಸ್ವಾಮಿ ವಿವೇಕಾನಂದರ ಗುರುಗಳು \_\_\_\_\_.
- 5) ವೇದಗಳಿಗೆ ಹಿಂದಿರುಗಿ ಎಂದು \_\_\_\_\_ ಕರೆಯುತ್ತರು.
- 6) ಗುಲಾಮಗಿರಿ ಎಂಬ ಕೃತಿಯನ್ನು ರಚಿಸಿದವರು \_\_\_\_\_.
- 7) 'ಮುಕ್ತಿ ಮಿಷನ್' ಸಂಸ್ಥೆಯ ಸ್ಥಾಪಕರು \_\_\_\_\_.

II. ಕೆಳಗಿನ ಪ್ರಶ್ನೆಗಳಿಗೆ ಒಂದು ಪದ/ವಾಕ್ಯದಲ್ಲಿ ಉತ್ತರಿಸಿ:

- 1) ಕನ್ನಡದ ಮೊದಲ ಮುಸ್ಲಿಂ ಕವಿ ಯಾರು?
- 2) ಭಾರತದ ರಾಷ್ಟ್ರೀಯತೆಯ ನಿಜವಾದ ಪಿತಾಮಹ ಯಾರು?
- 3) ಒಬ್ಬ ದೇವರು, ಒಂದು ಧರ್ಮ & ಒಂದು ಜಾತಿ ಎಂದವರು ಯಾರು?
- 4) ಪ್ರಾರ್ಥನಾ ಸಮಾಜದ ಸ್ಥಾಪಕರು ಯಾರು?




III. ಕೆಳಗಿನವುಗಳನ್ನು ಹೊಂದಿಸಿ ಬರೆಯಿರಿ:

'ಅ' ಪಟ್ಟಿ

'ಬ' ಪಟ್ಟಿ

- |                   |                     |
|-------------------|---------------------|
| 1. ಅಕ್ಕಮಹಾದೇವಿ    | ಅ. ಕರ್ನಾಟಕದ ಕಬೀರ    |
| 2. ಶ್ರೀನಿವಾಸ ನಾಯಕ | ಆ. ಆದಿಕೇಶವ          |
| 3. ಕನಕದಾಸರು       | ಇ. ಪುರಂದರ ದಾಸ       |
| 4. ಶಿಶುನಾಳ ಶರೀಫರು | ಈ. ಕಲಿಯುಗದ ರಾಧೆ     |
| 5. ಮೀರಾಬಾಯಿ       | ಉ. ಚನ್ನಮಲ್ಲಿಕಾರ್ಜುನ |

ಇವರನ್ನು ಹೆಸರಿಸಿ:



ಪಠ್ಯಪುಸ್ತಕವನ್ನು ಅವಲೋಕಿಸಿ ಈ ಕೆಳಗಿನ ಮಾಹಿತಿಯನ್ನು ಪೂರ್ಣಗೊಳಿಸಿ:

ಧರ್ಮ	ಸ್ಥಾಪಕರು	ಪವಿತ್ರ ಗ್ರಂಥ	ನಿಮಗಿಷ್ಟವೆನಿಸಿದ ಅವರ ಒಂದು ಬೋಧನೆ
ಜೈನ ಧರ್ಮ			
ಬೌದ್ಧ ಧರ್ಮ			
ಕ್ರೈಸ್ತಧರ್ಮ			
ಇಸ್ಲಾಂ ಧರ್ಮ			
ಸಿಖ್ ಧರ್ಮ			

# ಸೇತುಬಂಧ ಅಭ್ಯಾಸದ ಹಾಳೆ - 05

(ಸಾಮರ್ಥ್ಯ:-5 ಭಾರತದಲ್ಲಿ ಬ್ರಿಟಿಷ್ ವಿರೋಧಿ ಹೋರಾಟಗಳು)

ತರಗತಿ: 8 ವಿದ್ಯಾರ್ಥಿಯ ಹೆಸರು:

ವಿಷಯ: ಸಮಾಜ ವಿಜ್ಞಾನ

ಈ ಬ್ರಿಟಿಷ್ ಅಧಿಕಾರಿಗಳನ್ನು ಗುರುತಿಸಿ:



I. ಕೆಳಗಿನ ಬಿಟ್ಟಿರುವ ಸ್ಥಳಗಳನ್ನು ಸರಿಯಾದ ಪದಗಳಿಂದ ತುಂಬಿ:

- 1) ಸಹಾಯಕ ಸೈನ್ಯ ಪದ್ಧತಿಯನ್ನು ಜಾರಿಗೆ ತಂದವನು \_\_\_\_\_.
- 2) ದತ್ತು ಮಕ್ಕಳಿಗೆ ಹಕ್ಕಿಲ್ಲ ನೀತಿಯನ್ನು ಜಾರಿಗೆ ತಂದವನು \_\_\_\_\_.
- 3) ಬಂಗಾಳವನ್ನು ವಿಭಜಿಸಿದ ಬ್ರಿಟಿಷ್ ವೈಸರಾಯ್ \_\_\_\_\_.
- 4) ಪಂಜಾಬಿನ ಸಿಂಹ ಎಂದು ಖ್ಯಾತರಾಗಿದ್ದವರು \_\_\_\_\_.
- 5) ರೌಲತ್ ಕಾಯ್ದೆ ಜಾರಿಗೆ ಬಂದ ವರ್ಷ \_\_\_\_\_.
- 6) ಗಡಿನಾಡ ಗಾಂಧೀ ಎಂದು \_\_\_\_\_ರನ್ನು ಕರೆಯುತ್ತಾರೆ.
- 7) ಸುಭಾಷ್ ಚಂದ್ರ ಬೋಸರು ಸ್ಥಾಪಿಸಿದ ಹೊಸ ಪಕ್ಷ \_\_\_\_\_.


II. ಕೆಳಗಿನ ಪ್ರಶ್ನೆಗಳಿಗೆ ಒಂದು ಪದ/ವಾಕ್ಯದಲ್ಲಿ ಉತ್ತರಿಸಿ:

- 1) ಭಾರತದ ಪ್ರಥಮ ಸ್ವಾತಂತ್ರ್ಯ ಸಂಗ್ರಾಮ ಎಷ್ಟರಲ್ಲಿ ಜರುಗಿತು?
- 2) ಬಾಲಗಂಗಾಧರ ತಿಲಕರು ಪ್ರಾರಂಭಿಸಿದ ಪತ್ರಿಕೆಗಳು ಯಾವುವು?
- 3) ಗಾಂಧೀಜಿಯವರ ರಾಜಕೀಯ ಗುರು ಯಾರು?
- 4) ಸುಭಾಷ್ ಚಂದ್ರ ಬೋಸರು ಸ್ಥಾಪಿಸಿದ ಸೇನೆಯ ಹೆಸರೇನು?
- 5) ಭಾರತ ಸಂವಿಧಾನದ ಶಿಲ್ಪಿಯೆಂದು ಯಾರನ್ನು ಕರೆಯುತ್ತೇವೆ?


III. ಕೆಳಗಿನವುಗಳನ್ನು ಹೊಂದಿಸಿ ಬರೆಯಿರಿ:

- |                     |                                 |
|---------------------|---------------------------------|
| 'ಅ' ಪಟ್ಟಿ           | 'ಬ' ಪಟ್ಟಿ                       |
| 1. 2ನೇ ಬಹದ್ದೂರ್ ಷಾ  | ಎ. ಕ್ರಾಂತಿಕಾರಿ                  |
| 2. ದಾದಾಬಾಯಿ ನವರೋಜಿ  | ಬಿ. ಮೊಘಲರ ಕೊನೆಯ ದೊರೆ            |
| 3. ಎ.ಓ. ಹ್ಯೂಮ್      | ಸಿ. ಅಸಹಕಾರ ಚಳುವಳಿ               |
| 4. ಆಜಾದ್ ಚಂದ್ರಶೇಖರ್ | ಡಿ. ಮಂದಗಾಮಿ ನಾಯಕ                |
| 5. ಮಹಾತ್ಮ ಗಾಂಧೀಜಿ   | ಇ. ರಾಷ್ಟ್ರೀಯ ಕಾಂಗ್ರೆಸ್‌ನ ಸ್ಥಾಪಕ |

ಈ ಕೆಳಗಿನ ತೀವ್ರಗಾಮಿ ನಾಯಕರನ್ನು ಹೆಸರಿಸಿ:



ಈ ಸ್ವಾತಂತ್ರ್ಯ ಹೋರಾಟಗಾರರನ್ನು ಹೆಸರಿಸಿ:



# ಸೇತುಬಂಧ ಅಭ್ಯಾಸದ ಹಾಳೆ - 06

{ಸಾಮರ್ಥ್ಯ:-6 ಕರ್ನಾಟಕದ ಸಾಂಸ್ಕೃತಿಕ ಪರಿಚಯ}

ತರಗತಿ: 8 ವಿದ್ಯಾರ್ಥಿಯ ಹೆಸರು:

ವಿಷಯ: ಸಮಾಜ ವಿಜ್ಞಾನ

ಈ ಸಾಧಕರನ್ನು ಹೆಸರಿಸಿ:



I. ಕೆಳಗಿನ ಬಿಟ್ಟಿರುವ ಸ್ಥಳಗಳನ್ನು ಸರಿಯಾದ ಪದಗಳಿಂದ ತುಂಬಿ:

- 1) ಬಾಬಾಬುಡನ್ ಗಿರಿ \_\_\_\_\_ ಜಿಲ್ಲೆಯಲ್ಲಿದೆ.
- 2) ಕರ್ನಾಟಕದ ರಾಜಧಾನಿ \_\_\_\_\_.
- 3) ಕರ್ನಾಟಕದ ಅತ್ಯಂತ ದೊಡ್ಡ ಕೆರೆ \_\_\_\_\_.
- 4) ಕರ್ನಾಟಕದ ಪ್ರಥಮ ಮುಖ್ಯಮಂತ್ರಿ \_\_\_\_\_.
- 5) ಕನಕದಾಸರು \_\_\_\_\_ ಎಂಬ ಗ್ರಾಮದಲ್ಲಿ ಜನಿಸಿದರು.
- 6) ಉತ್ತರ ಕನ್ನಡ ಜಿಲ್ಲೆಯಲ್ಲಿರುವ ಬೃಹತ್ ನೌಕಾನೆಲೆ \_\_\_\_\_.
- 7) ರಾಜರ್ಷಿ ಎಂದು ಕರೆಯಲ್ಪಟ್ಟ ಮೈಸೂರಿನ ಒಡೆಯರು \_\_\_\_\_.

II. ಕೆಳಗಿನ ಪ್ರಶ್ನೆಗಳಿಗೆ ಒಂದು ಪದ/ವಾಕ್ಯದಲ್ಲಿ ಉತ್ತರಿಸಿ:

- 1) ವಚನಗಳ ಪಿತಾಮಹ ಎಂದು ಯಾರನ್ನು ಕರೆಯುತ್ತಾರೆ?
- 2) ಮೈಸೂರಿನ ಹುಲಿ ಎಂದು ಖ್ಯಾತನಾದವರು ಯಾರು?
- 3) ಭಾರತ ರತ್ನ ಪ್ರಶಸ್ತಿ ಪಡೆದ ಮೊದಲ ಕನ್ನಡಿಗ ಯಾರು?
- 4) ಬೆಂಗಳೂರು ನಗರದ ಸ್ಥಾಪಕ ಯಾರು?
- 5) ಪ್ರಧಾನಮಂತ್ರಿ ಹುದ್ದೆಗೇರಿದ ಮೊದಲ ಕನ್ನಡಿಗ ಯಾರು?

III. ಕೆಳಗಿನವುಗಳನ್ನು ಹೊಂದಿಸಿ ಬರೆಯಿರಿ:

- |                     |             |
|---------------------|-------------|
| 'ಅ' ಪಟ್ಟಿ           | 'ಬ' ಪಟ್ಟಿ   |
| 1. ಏಕಶಿಲಾ ಬೆಟ್ಟ     | ಎ. ಶಿವಮೊಗ್ಗ |
| 2. ಅಂತರಗಂಗೆ         | ಬಿ. ಕಲಬುರಗಿ |
| 3. ಜೋಗ ಜಲಪಾತ        | ಸಿ. ಕೋಲಾರ   |
| 4. ದರೋಜಿ ಕರಡಿ ಧಾಮ   | ಡಿ. ತುಮಕೂರು |
| 5. ಖ್ವಾಜ ಬಂದೇ ನವಾಜ್ | ಇ. ಬಳ್ಳಾರಿ  |

ಈ ಕೆಳಗಿನ ಮಹಿಳಾ ಸಾಧಕಿಯರನ್ನು ಹೆಸರಿಸಿ:



ಈ ಪ್ರೇಕ್ಷಣೀಯ ಸ್ಥಳಗಳನ್ನು ಹೆಸರಿಸಿ:



# ಸೇತುಬಂಧ ಅಭ್ಯಾಸದ ಹಾಳೆ - 07

{ಸಾಮರ್ಥ್ಯ:-7 ಸಂವಿಧಾನ ಮತ್ತು ಸರ್ಕಾರ}



ತರಗತಿ: 8 ವಿದ್ಯಾರ್ಥಿಯ ಹೆಸರು:


ವಿಷಯ: ಸಮಾಜ ವಿಜ್ಞಾನ

ಭಾರತ ಸಂವಿಧಾನದ ಲಕ್ಷಣಗಳನ್ನು ಬರೆಯಿರಿ:	

1. ಕೆಳಗಿನ ಬಿಟ್ಟಿರುವ ಸ್ಥಳಗಳನ್ನು ಸರಿಯಾದ ಪದಗಳಿಂದ ತುಂಬಿರಿ:
  - 1) ಸಂವಿಧಾನ ರಚನಾ ಸಭೆಯ ಅಧ್ಯಕ್ಷರು \_\_\_\_\_.
  - 2) ಭಾರತದ ಸಂವಿಧಾನದ ಶಿಲ್ಪಿ \_\_\_\_\_.
  - 3) ರಾಜ್ಯಸಭೆಯ ಅಧ್ಯಕ್ಷರು \_\_\_\_\_ಯವರು ಆಗಿರುತ್ತಾರೆ.
  - 4) ಭಾರತ ಗಣರಾಜ್ಯದ ಅತ್ಯುನ್ನತ ಮುಖ್ಯಸ್ಥರು \_\_\_\_\_.
  - 5) ಭಾರತದ ಪ್ರಥಮ ಪ್ರಧಾನಮಂತ್ರಿ \_\_\_\_\_.
  - 6) ಪ್ರಸ್ತುತ ನಿಮ್ಮ ಕ್ಷೇತ್ರದ ಶಾಸಕರು(ಎಂ.ಎಲ್.ಎ) \_\_\_\_\_.
  - 7) ನಿಮ್ಮ ಕ್ಷೇತ್ರದ ಸಂಸದರು(ಎಂ.ಪಿ) \_\_\_\_\_.
- II. ಕೆಳಗಿನ ಪ್ರಶ್ನೆಗಳಿಗೆ ಒಂದು ಪದ/ವಾಕ್ಯದಲ್ಲಿ ಉತ್ತರಿಸಿರಿ:
  - 1) ಸಂವಿಧಾನ ಎಂದರೇನು?
  - 2) ಭಾರತ ಸಂವಿಧಾನದ ಕರಡು ಸಮಿತಿಯ ಅಧ್ಯಕ್ಷರು ಯಾರು?
  - 3) ಕರ್ನಾಟಕ ವಿಧಾನಸಭೆಯ ಒಟ್ಟು ಸದಸ್ಯರ ಸಂಖ್ಯೆ ಎಷ್ಟು?
  - 4) ಭಾರತ ಸಂವಿಧಾನವು ಎಷ್ಟರಲ್ಲಿ ಜಾರಿಗೆ ಬಂದಿತು?

ನಾನು ಯಾರು?  
ಪುಸ್ತಕ ನೋಡಿ ಹೆಸರಿಸಿ.

ಈ ಮಾಹಿತಿ ಪೂರ್ಣಗೊಳಿಸಿ:	
ಹುದ್ದೆ	ಕನಿಷ್ಠ ಮಯೋಮಿತಿ
ರಾಷ್ಟ್ರಪತಿ	
ರಾಜ್ಯಸಭೆ ಸದಸ್ಯ	
ಲೋಕಸಭೆ ಸದಸ್ಯ	
ರಾಜ್ಯಪಾಲ	
ವಿಧಾನ ಸಭೆ ಸದಸ್ಯ	
ವಿಧಾನ ಪರಿಷತ್ ಸದಸ್ಯ	

ಪುಸ್ತಕ ನೋಡಿ ಮಾಹಿತಿ ನೀಡಿ:		
ಸರ್ಕಾರದ 3 ಅಂಗಗಳು		
1	2	3
ಕೇಂದ್ರ ಶಾಸಕಾಂಗ(ಸಂಸತ್ತು)ದ 2 ಸದನಗಳು		
1	2	
ರಾಜ್ಯ ಶಾಸಕಾಂಗದ 2 ಸದನಗಳು		
1	2	

6 ಮೂಲಭೂತ ಹಕ್ಕುಗಳನ್ನು ಹೆಸರಿಸಿ:

ಈ ಕೆಳಗಿನ ಕಟ್ಟಡಗಳನ್ನು ಗುರುತಿಸಿ:





# ಸೇತುಬಂಧ ಅಭ್ಯಾಸದ ಹಾಳೆ - 08

ಸಾಮರ್ಥ್ಯ:-8 ದೇಶ ರಕ್ಷಣೆ ಮತ್ತು ರಾಷ್ಟ್ರೀಯ ಭಾವೈಕ್ಯತೆ

ತರಗತಿ: 8 ವಿದ್ಯಾರ್ಥಿಯ ಹೆಸರು:

ವಿಷಯ: ಸಮಾಜ ವಿಜ್ಞಾನ

ಈ ಕೆಳಗಿನವುಗಳನ್ನು ಹೆಸರಿಸಿ:



ಭಾರತದ 3 ಯುದ್ಧ ಹಡಗುಗಳನ್ನು ಹೆಸರಿಸಿ:

I. ಕೆಳಗಿನ ಬಿಟ್ಟಿರುವ ಸ್ಥಳಗಳನ್ನು ಸರಿಯಾದ ಪದಗಳಿಂದ ತುಂಬಿ:

- 1) ಭೂಸೇನೆಯ ಕೇಂದ್ರ ಕಛೇರಿ \_\_\_\_\_ಯಲ್ಲಿದೆ.
- 2) ಕಾರವಾರದಲ್ಲಿ \_\_\_\_\_ ನೌಕಾ ನೆಲೆಯನ್ನು ಸ್ಥಾಪಿಸಲಾಗಿದೆ.
- 3) \_\_\_\_\_ ಎಂಬುದು ಎನ್.ಸಿ.ಸಿ.ಯ ಧ್ಯೇಯ ವಾಕ್ಯವಾಗಿದೆ.
- 4) ರೆಡ್ ಕ್ರಾಸ್ ಸಂಸ್ಥೆಯ ಧ್ಯೇಯ ವಾಕ್ಯ \_\_\_\_\_.
- 5) ಭಾರತದ ರಾಷ್ಟ್ರಗೀತೆಯನ್ನು ರಚಿಸಿದವರು \_\_\_\_\_.
- 6) ರಾಷ್ಟ್ರಗೀತೆಯನ್ನು ಹಾಡಲು ಬೇಕಾಗುವ ಕಾಲಾವಧಿ \_\_\_\_\_ ಸೆಕೆಂಡುಗಳು.

II. ಕೆಳಗಿನ ಪ್ರಶ್ನೆಗಳಿಗೆ ಒಂದು ಪದ/ವಾಕ್ಯದಲ್ಲಿ ಉತ್ತರಿಸಿ:

- 1) ರಕ್ಷಣಾ ಪಡೆಗಳ ಸರ್ವೋಚ್ಚ ಅಧಿಕಾರ ಯಾರಿಗೆ ನೀಡಲಾಗಿದೆ?
- 2) ಗಡಿಭದ್ರತಾ ದಳದ ಧ್ಯೇಯ ವಾಕ್ಯವೇನು?
- 3) ಭಾರತೀಯ ರೆಡ್ ಕ್ರಾಸ್ ಸಂಸ್ಥೆಯ ಅಧ್ಯಕ್ಷರು ಯಾರು?
- 4) ನಮ್ಮ ರಾಷ್ಟ್ರ ಲಾಂಛನವನ್ನು ಏನೆಂದು ಕರೆಯುತ್ತಾರೆ?
- 5) ರಾಷ್ಟ್ರೀಯ ಭಾವೈಕ್ಯತೆ ಎಂದರೇನು?

ಇವುಗಳ ವಿಶೇಷತೆ ತಿಳಿಸಿ:



III. ಕೆಳಗಿನವುಗಳನ್ನು ಹೊಂದಿಸಿ ಬರೆಯಿರಿ:

- |                      |                     |
|----------------------|---------------------|
| 'ಅ' ಪಟ್ಟಿ            | 'ಬ' ಪಟ್ಟಿ           |
| 1. ಭೂಸೇನೆಯ ಮುಖ್ಯಸ್ಥ  | ಎ. ಏರ್‌ಚೀಫ್ ಮಾರ್ಷಲ್ |
| 2. ನೌಕಾದಳದ ಮುಖ್ಯಸ್ಥ  | ಬಿ. ಜನರಲ್           |
| 3. ವಾಯುಪಡೆಯ ಮುಖ್ಯಸ್ಥ | ಸಿ. ಆಡ್ಮಿರಲ್        |

ಪೂರಕ ರಕ್ಷಣಾ ಪಡೆಗಳನ್ನು ಹೆಸರಿಸಿ:

ಈ ಕೆಳಗಿನ ಚಿತ್ರಗಳನ್ನು ಗಮನಿಸಿ ಸೇನಾ ಪಡೆಯ ವಿಭಾಗಗಳನ್ನು ಹೆಸರಿಸಿ:






## ಸೇತುಬಂಧ ಅಭ್ಯಾಸದ ಹಾಳೆ - 09

{ಸಾಮರ್ಥ್ಯ:-9 ದಿಕ್ಕುಗಳು, ಅಕ್ಷಾಂಶ ಮತ್ತು ರೇಖಾಂಶಗಳು ಹಾಗೂ ಭೂಮಿ}

ತರಗತಿ: 8 ವಿದ್ಯಾರ್ಥಿಯ ಹೆಸರು:

ವಿಷಯ: ಸಮಾಜ ವಿಜ್ಞಾನ

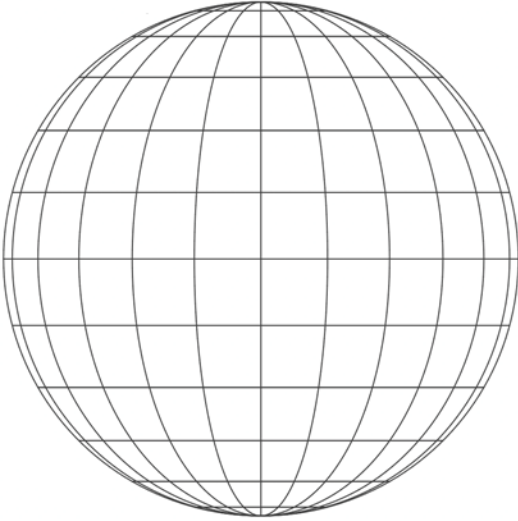
ಈ ಕೆಳಗಿನ ಚಿತ್ರದಲ್ಲಿ 4 ದಿಕ್ಕು ಮತ್ತು 4 ಉಪದಿಕ್ಕುಗಳನ್ನು ಹೆಸರಿಸಿ:



1. ಕೆಳಗಿನ ಪ್ರಶ್ನೆಗಳಿಗೆ ಒಂದು ಪದ/ವಾಕ್ಯದಲ್ಲಿ ಉತ್ತರಿಸಿರಿ:


- 1) ಸೌರವ್ಯೂಹದಲ್ಲಿ ಭೂಮಿಯು ಎಷ್ಟನೆ ದೊಡ್ಡ ಗ್ರಹವಾಗಿದೆ?
- 2) ಭೂಮಿಯು ಯಾವ ಆಕಾರದಲ್ಲಿದೆ?
- 3) ಸೌರವ್ಯೂಹದಲ್ಲಿ ಜೀವಿಗಳಿರುವ ಏಕೈಕ ಗ್ರಹ ಯಾವುದು?
- 4) 0° ಅಕ್ಷಾಂಶವನ್ನು ಏನೆಂದು ಕರೆಯುತ್ತಾರೆ?
- 5) 0° ರೇಖಾಂಶವನ್ನು ಏನೆಂದು ಕರೆಯುತ್ತಾರೆ?

ಈ ಗ್ಲೋಬ್‌ನ ಸಹಾಯದಿಂದ ಕೆಳಗಿನ ಚಟುವಟಿಕೆಗಳನ್ನು ಪೂರ್ಣಗೊಳಿಸಿ:



- 1) ಸಮಭಾಜಕ ವೃತ್ತವನ್ನು ಗುರುತಿಸಿ(ತಿದ್ದಿರಿ).
- 2) ಪ್ರಧಾನ ರೇಖಾಂಶವನ್ನು ಗುರುತಿಸಿ(ತಿದ್ದಿರಿ).
- 3) ಉತ್ತರ ಗೋಳಾರ್ಧವನ್ನು ಗುರುತಿಸಿ(ಬರೆಯಿರಿ).
- 4) ದಕ್ಷಿಣ ಗೋಳಾರ್ಧವನ್ನು ಗುರುತಿಸಿ(ಬರೆಯಿರಿ).
- 5) ಪೂರ್ವ ಗೋಳಾರ್ಧವನ್ನು ಗುರುತಿಸಿ(ಬರೆಯಿರಿ).
- 6) ಪಶ್ಚಿಮ ಗೋಳಾರ್ಧವನ್ನು ಗುರುತಿಸಿ(ಬರೆಯಿರಿ).
- 7) ಉತ್ತರ ದ್ರುವವನ್ನು ಗುರುತಿಸಿ(ಬರೆಯಿರಿ).
- 8) ದಕ್ಷಿಣ ದ್ರುವವನ್ನು ಗುರುತಿಸಿ(ಬರೆಯಿರಿ).

ಈ ಕೆಳಗಿನ ಚಿತ್ರವನ್ನು ಗಮನಿಸಿ, ನಮ್ಮ ಸೌರವ್ಯೂಹದಲ್ಲಿರುವ ಗ್ರಹಗಳನ್ನು ಹೆಸರಿಸಿ:



# ಸೀತುಬಂಧ ಅಭ್ಯಾಸದ ಹಾಳೆ - 10

{ಸಾಮರ್ಥ್ಯ:-10 ಭೂ ಖಂಡಗಳ ಸಂಕ್ಷಿಪ್ತ ಪರಿಚಯ}

ತರಗತಿ: 8 ವಿದ್ಯಾರ್ಥಿಯ ಹೆಸರು:

ವಿಷಯ: ಸಮಾಜ ವಿಜ್ಞಾನ

ಈ ಕೆಳಗಿನವುಗಳನ್ನು ಹೆಸರಿಸಿ:



I. ಕೆಳಗಿನ ಬಿಟ್ಟಿರುವ ಸ್ಥಳಗಳನ್ನು ಸರಿಯಾದ ಪದಗಳಿಂದ ತುಂಬಿ:

- 1) ಪ್ರಪಂಚದ ಅತ್ಯಂತ ದೊಡ್ಡ ಭೂಖಂಡ \_\_\_\_\_.
- 2) ಭಾರತವು \_\_\_\_\_ ಖಂಡದಲ್ಲಿದೆ
- 3) ಪ್ರಪಂಚದ ಅತ್ಯಂತ ಚಿಕ್ಕ ಭೂಖಂಡ \_\_\_\_\_.
- 4) ಆಸ್ಟ್ರೇಲಿಯಾದ ಅತಿ ಪ್ರಮುಖ ವೃತ್ತಿ \_\_\_\_\_.
- 5) \_\_\_\_\_ ಖಂಡವನ್ನು ಹುಲ್ಲುಗಾವಲುಗಳ ನಾಡು ಎನ್ನುವರು.
- 6) ಉತ್ತರ ಅಮೇರಿಕಾ ಖಂಡವನ್ನು ಕಂಡು ಹಿಡಿದವನು \_\_\_\_\_.
- 7) ಯುರೋಪ್ ಖಂಡದ ಅತಿ ಎತ್ತರವಾದ ಶಿಖರ \_\_\_\_\_.

II. ಕೆಳಗಿನ ಪ್ರಶ್ನೆಗಳಿಗೆ ಒಂದು ಪದ/ವಾಕ್ಯದಲ್ಲಿ ಉತ್ತರಿಸಿ:

- 1) ಪ್ರಪಂಚದ ಅತಿ ದೊಡ್ಡ ನದಿ ಯಾವುದು?
- 2) ಕೇಂದ್ರೀಯ ಖಂಡವೆಂದು ಯಾವ ಖಂಡವನ್ನು ಕರೆಯುತ್ತಾರೆ?
- 3) ಅಂಟಾರ್ಕ್ಟಿಕ್ ಖಂಡದಲ್ಲಿರುವ ನಮ್ಮ ಸಂಶೋಧನಾ ಕೇಂದ್ರ ಯಾವುದು?

III. ಕೆಳಗಿನವುಗಳನ್ನು ಹೊಂದಿಸಿ ಬರೆಯಿರಿ:

- |                      |                    |
|----------------------|--------------------|
| 'ಅ' ಪಟ್ಟಿ            | 'ಬ' ಪಟ್ಟಿ          |
| 1. ಏಷ್ಯಾ ಖಂಡ         | ಎ. ಕತ್ತಲೆಯ ಖಂಡ     |
| 2. ಆಫ್ರಿಕಾ ಖಂಡ       | ಬಿ. ಸಮತಟ್ಟಾದ ಭೂಖಂಡ |
| 3. ಉತ್ತರ ಅಮೇರಿಕಾ ಖಂಡ | ಸಿ. ವೈಪರೀತ್ಯಗಳ ಖಂಡ |
| 4. ಆಸ್ಟ್ರೇಲಿಯಾ       | ಡಿ. ಶ್ವೇತ ಭೂಖಂಡ    |
| 5. ಅಂಟಾರ್ಕ್ಟಿಕ್ ಖಂಡ  | ಇ. ಪ್ರೇರಿ ನಾಡು     |

ಈ ಕೆಳಗಿನವುಗಳನ್ನು ಹೆಸರಿಸಿ:



ಪ್ರಪಂಚದ 7 ಖಂಡಗಳು ಮತ್ತು 4 ಮಹಾಸಾಗರಗಳನ್ನು ಗುರುತಿಸಿ:

