

ಸಾರ್ವಜನಿಕ ಶಿಕ್ಷಣ ಇಲಾಖೆ, ಕ್ಷೇತ್ರ ಶಿಕ್ಷಣಾಧಿಕಾರಿಗಳ ಕಛೇರಿ, ನಂಜನಗೂಡು ತಾಲ್ಲೂಕು.

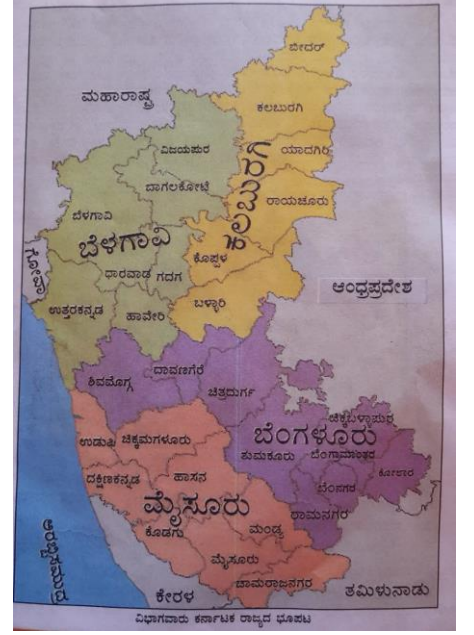
ಕಲಿಕಾ ಸಂಗಮ

ಮೊದಲ ವಾರ - ಅಭ್ಯಾಸ ಹಾಳೆ-01 ಕಲಿಕಾಂಶ : ನಮ್ಮ ರಾಜ್ಯ ಕರ್ನಾಟಕ

ತರಗತಿ - 7

ನಮ್ಮ ರಾಜ್ಯ ಕರ್ನಾಟಕ. ನಮ್ಮ ರಾಜ್ಯಕ್ಕೆ ಸುಮಾರು ಎರಡು ಸಾವಿರ ವರ್ಷಗಳ ಚರಿತ್ರೆಯಿದೆ. ನಮ್ಮ ರಾಜ್ಯದಲ್ಲಿ ಆಡಳಿತದ ಅನುಕೂಲಕ್ಕೆ ನಾಲ್ಕು ಕಂದಾಯ ವಿಭಾಗಗಳನ್ನು ರೂಪಿಸಲಾಗಿದೆ. ಅವುಗಳು ಹೀಗಿವೆ.

- 1) ಬೆಂಗಳೂರು ವಿಭಾಗ
- 2) ಮೈಸೂರು ವಿಭಾಗ
- 3) ಬೆಳಗಾವಿ ವಿಭಾಗ
- 4) ಕಲಬುರಗಿ ವಿಭಾಗ



❖ ಈ ಕೆಳಗಿನ ಕರ್ನಾಟಕ ರಾಜ್ಯದ ಭೂಪಟದಲ್ಲಿ 4 ಕಂದಾಯ ವಿಭಾಗಗಳನ್ನು ಗುರುತಿಸು.



1) ಬೆಂಗಳೂರು ವಿಭಾಗ :

ನಮ್ಮ ರಾಜ್ಯದ ರಾಜಧಾನಿ ಬೆಂಗಳೂರು.
ಇದು ಒಂದು ಆಡಳಿತ ಕಂದಾಯ ವಿಭಾಗವಾಗಿದೆ.
ಈ ವಿಭಾಗದಲ್ಲಿ 9 ಜಿಲ್ಲೆಗಳಿವೆ. ಅವುಗಳೆಂದರೆ,

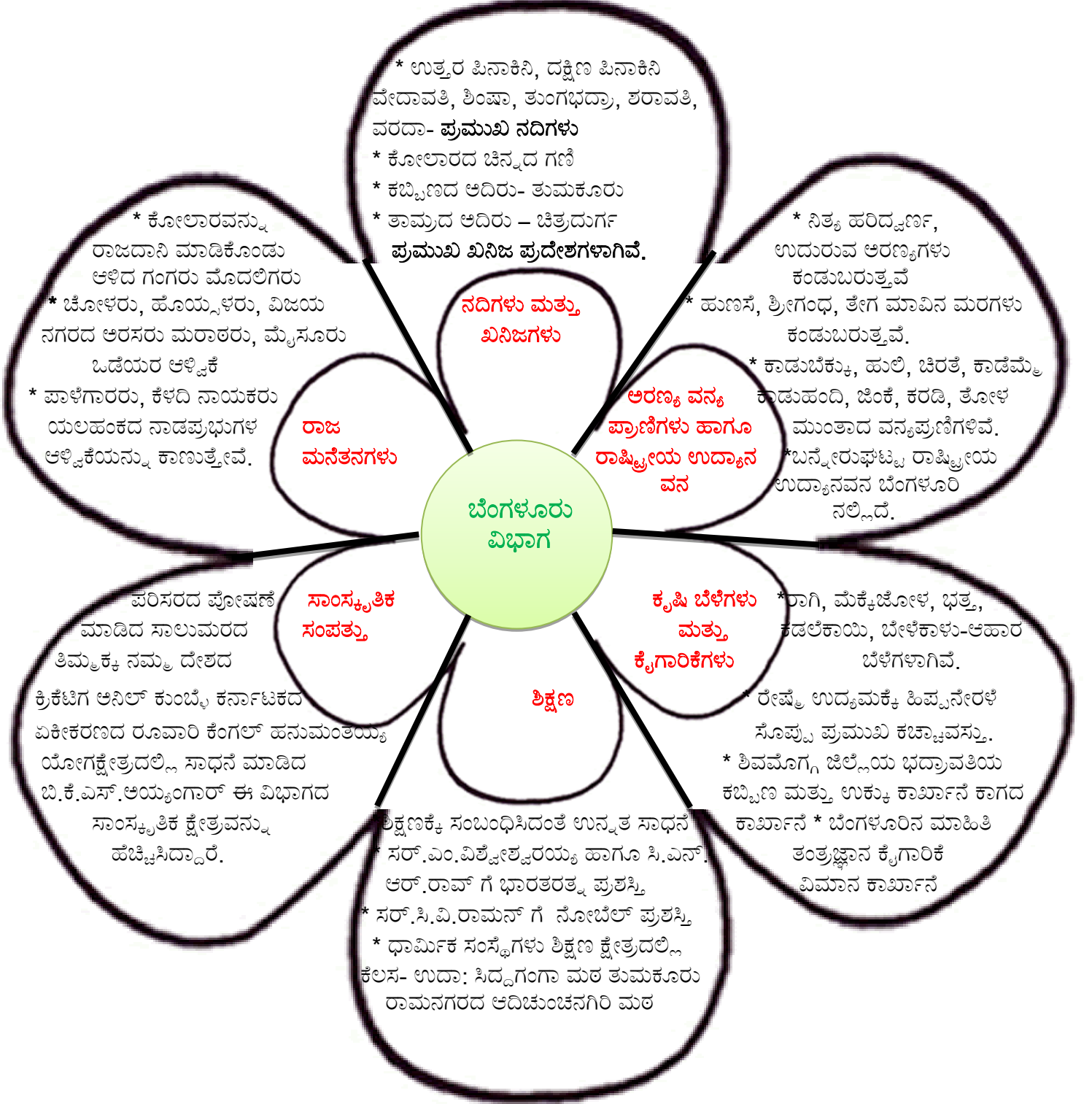
- | | |
|---------------------|---------------|
| 1) ಬೆಂಗಳೂರು ನಗರ | 6) ತುಮಕೂರು |
| 2) ಬೆಂಗಳೂರು ಗ್ರಾಮೀಣ | 7) ಚಿತ್ರದುರ್ಗ |
| 3) ಕೋಲಾರ | 8) ದಾವಣಗೆರೆ |
| 4) ಚಿಕ್ಕಬಳ್ಳಾಪುರ | 9) ಶಿವಮೊಗ್ಗ |
| 5) ರಾಮನಗರ | |



ಈ ಕೆಳಗಿನ ಕರ್ನಾಟಕ ಭೂಪಟದಲ್ಲಿ ಬೆಂಗಳೂರು ವಿಭಾಗದ ಜಿಲ್ಲೆಗಳಿಗೆ ಬಣ್ಣ ತುಂಬು :-



ಬೆಂಗಳೂರು ವಿಭಾಗದಲ್ಲಿ, ಹಲವಾರು ರಾಜಮನೆತನಗಳು ಆಳ್ವಿಕೆ ಮಾಡಿರುತ್ತಾರೆ. ಜೊತೆಗೆ ಪ್ರಾಕೃತಿಕ ಸಂಪನ್ಮೂಲಗಳಾದ ನದಿ, ಕಾಡು, ಖನಿಜಗಳು ವನ್ಯಮೃಗಗಳು ಮುಂತಾದವುಗಳನ್ನು ಒಳಗೊಂಡಿದೆ. ಶಿಕ್ಷಣ, ಕೃಷಿ, ಕೈಗಾರಿಕೆಗಳ ಸಾಂಸ್ಕೃತಿಕ ಸಮೃದ್ಧಿಯನ್ನು ಸಂಕ್ಷಿಪ್ತವಾಗಿ ತಿಳಿಯೋಣ.



❖ ಮೇಲಿನ ಅಂಶಗಳನ್ನು ಓದಿದ ನಂತರ ಕೆಳಗಿನ ಪ್ರಶ್ನೆಗಳಿಗೆ ಉತ್ತರಿಸಿ.

- 1) ಕೋಲಾರದಲ್ಲಿ _____ ಗಣಿಯಿದೆ.
- 2) ರೇಷ್ಮೆ ಉದ್ಯಮಕ್ಕೆ ಪ್ರಮುಖ ಕಚ್ಚಾವಸ್ತು _____
- 3) ಅದಿಚುಂಚನಗಿರಿ : ರಾಮನಗರ : : ಸಿದ್ದಗಂಗಾಮಠ : _____
- 4) ಗಂಗರ ರಾಜಧಾನಿ : _____

❖ ಹೊಂದಿಸಿ ಬರೆಯಿರಿ :

- | | | | |
|-----------------------|---|-----------------------|-------|
| 5) ಪರಿಸರ ಸಂರಕ್ಷಣೆ | - | ಸರ್.ಎಂ. ವಿಶ್ವೇಶ್ವರಯ್ಯ | _____ |
| 6) ರಾಷ್ಟ್ರೀಯ ಉದ್ಯಾನವನ | - | ಸಾಲುಮರದ ತಿಮ್ಮಕ್ಕ | _____ |
| 7) ಭಾರತರತ್ನ | - | ಅನಿಲ್ ಕುಂಬ್ಳೆ | _____ |
| 8) ದೇಶದ ಕ್ರಿಕೆಟಿಗ | - | ಬನ್ನೇರುಘಟ್ಟ | _____ |

❖ ಕೆಳಗಿನ ಪ್ರಶ್ನೆಗಳಿಗೆ ಉತ್ತರಿಸಿ :

- 9) ಬೆಂಗಳೂರು ವಿಭಾಗದ ರಾಜಮನೆತನಗಳನ್ನು ಹೆಸರಿಸಿ.

- 10) ಬೆಂಗಳೂರು ವಿಭಾಗಕ್ಕೆ ಸೇರಿದ ನದಿಗಳನ್ನು ಹೆಸರಿಸಿ.

ಬೆಂಗಳೂರು ವಿಭಾಗದ ಜಿಲ್ಲೆಗಳ ವೈಶಿಷ್ಟ್ಯತೆಗಳು

ವಿದ್ಯಾರ್ಥಿಗಳೇ, ಕೆಳಗೆ ನೀಡಿರುವ ಪ್ರಮುಖ ಅಂಶಗಳನ್ನು ಗಮನವಿಟ್ಟು ಓದಿ, ನಮೂದಿಸಿರುವ ಚಟುವಟಿಕೆಗಳಿಗೆ ಸೂಕ್ತವಾಗಿ ಉತ್ತರಿಸಿ:

❖ **ಬೆಂಗಳೂರು ನಗರ :** ಬೆಂಗಳೂರು

ನಗರವು ನಮ್ಮ ರಾಜಧಾನಿ
ಯಾಗಿದ್ದು ವಿಧಾನಸೌಧ
ಉಚ್ಚನ್ಯಾಯಾಲಯ ಲಾಲ್ ಬಾಗ್,
ಕಬ್ಬನ್ ಉದ್ಯಾನವನ, ನಂದಿ ಬೆಟ್ಟ,
ಬನ್ನೇರುಘಟ್ಟ ಮುಂತಾದ
ಪ್ರೇಕ್ಷಣೀಯ ಸ್ಥಳಗಳಿವೆ.



ಉಚ್ಚ ನ್ಯಾಯಾಲಯ



ವಿಧಾನ ಸೌಧ

❖ **ಬೆಂಗಳೂರು ಗ್ರಾಮಾಂತರ :** ಬೆಂಗಳೂರು ಗ್ರಾಮಾಂತರ ಜಿಲ್ಲೆಯಲ್ಲಿ ದೇವನಹಳ್ಳಿ ಕೆಂಪೇಗೌಡ ವಿಮಾನನಿಲ್ದಾಣವನ್ನು ಕಾಣಬಹುದು. ಶಿವಗಂಗೆ ಪ್ರಸಿದ್ಧ ಯಾತ್ರಾ ಕ್ಷೇತ್ರವಾಗಿದೆ.



ದೇವನಹಳ್ಳಿ ವಿಮಾನ ನಿಲ್ದಾಣ

❖ **ರಾಮನಗರ ಜಿಲ್ಲೆ :** ಈ ಜಿಲ್ಲೆಯು ಚನ್ನಪಟ್ಟಣದ ಗೊಂಬೆಗಳು ಹಾಗೂ ರೇಷ್ಮೆ ಉತ್ಪಾದನೆಗೆ ಹೆಸರುವಾಸಿಯಾಗಿದೆ.



ಚನ್ನಪಟ್ಟಣದ ಗೊಂಬೆಗಳು

❖ **ಚಿಕ್ಕಬಳ್ಳಾಪುರ ಜಿಲ್ಲೆ :** ಕೈವಾರ ದೇವಾಲಯ, ವಿಧುರಾಶ್ವತ್ಥ, ನಂದಿ ದುರ್ಗವು ಈ ಜಿಲ್ಲೆಯಲ್ಲಿ ಕಂಡುಬರುತ್ತದೆ.



ನಂದಿದುರ್ಗ



ಅಂತರಗಂಗೆ


❖ **ಕೋಲಾರ ಜಿಲ್ಲೆ :** ಚಿನ್ನದ ಗಣಿಗೆ ಹೆಸರುವಾಸಿಯಾಗಿದ್ದು, ಅಂತರಗಂಗೆ, ಹೈದರಾಲಿ ದರ್ಗಾ, ಶ್ರೀ ಪಾದರಾಯರ ಬೃಂದಾವನ ಇಲ್ಲಿ ಕಂಡುಬರುವ ದೃಶ್ಯಗಳು.

- ❖ **ತುಮಕೂರು ಜಿಲ್ಲೆ** : ತೆಂಗಿನಕಾಯಿ ಬೆಳೆಗೆ ಪ್ರಸಿದ್ಧಿಯಾಗಿದೆ. ಇಲ್ಲಿ ಏಷ್ಯಾ ಖಂಡದಲ್ಲಿಯೇ ಎತ್ತರವಾದ ಮಧುಗಿರಿ ಬೆಟ್ಟವನ್ನು ಕಾಣಬಹುದು.



ಮಧುಗಿರಿ ಬೆಟ್ಟ

- ❖ **ಚಿತ್ರದುರ್ಗ ಜಿಲ್ಲೆ** : ಏಳು ಸುತ್ತಿನ ಅಭೇದ್ಯಕೋಟೆ, ಮದಕರಿ ನಾಯಕ ಮತ್ತು ಒನಕೆ ಓಬವ್ವ ಇಂದಿಗೂ ಮರೆಯಲಾಗದ ಪ್ರಮುಖ ವ್ಯಕ್ತಿಗಳಾಗಿದ್ದಾರೆ.



ಏಳು ಸುತ್ತಿನ ಕೋಟೆ

- ❖ **ದಾವಣಗೆರೆ ಜಿಲ್ಲೆ** : ಕರ್ನಾಟಕದ ಮ್ಯಾಂಚೆಸ್ಟರ್ ಎಂದೇ ಹೆಸರಾಗಿರುವ ದಾವಣಗೆರೆಯು ದಕ್ಷಿಣ ಭಾರತದಲ್ಲಿಯೇ ಅತಿ ದೊಡ್ಡ ಕೆರೆ ಶಾಂತಿಸಾಗರ ಕೆರೆಯನ್ನು ಹೊಂದಿದೆ.



- ❖ **ಶಿವಮೊಗ್ಗ ಜಿಲ್ಲೆ** : ಜೋಗ ಜಲಪಾತ, ಕುವೆಂಪುರವರ ಮನೆ, ಕರ್ನಾಟಕದ ಭತ್ತದ ಕಣಜ ಎಂದೇ ಪ್ರಸಿದ್ಧವಾದ ಜಿಲ್ಲೆ ಶಿವಮೊಗ್ಗದಲ್ಲಿ ಪ್ರಸಿದ್ಧ ಗುಡವಿ ಪಕ್ಷಿಧಾಮವನ್ನು ಕಾಣಬಹುದು.



ಜೋಗ ಜಲಪಾತ

ಅ) ಹೊಂದಿಸಿ ಬರೆಯಿರಿ :

- 1) ತುಮಕೂರು - ಬನ್ನೇರುಘಟ್ಟ _____
- 2) ಬೆಂಗಳೂರು ನಗರ - ಶಾಂತಿಸಾಗರ ಕೆರೆ _____
- 3) ಶಿವಮೊಗ್ಗ - ಮಧುಗಿರಿ ಬೆಟ್ಟ _____
- 4) ದಾವಣಗೆರೆ - ಗುಡವಿ ಪಕ್ಷಿಧಾಮ _____

ಆ) ನೀಡಿರುವ ಸೂಚನೆಗಳಲ್ಲಿ, ಕಂಡುಬರುವ ಜಿಲ್ಲೆಗಳ ಹೆಸರುಗಳನ್ನು ಬರೆಯಿರಿ :

- 1) _____
- 2) _____
- 3) _____
- 4) _____
- 5) _____
- 6) _____
- 7) _____
- 8) _____
- 9) _____

ಇ) ನೀಡಿರುವ ಜಿಲ್ಲೆಗಳ ಒಂದೊಂದು ವೈಶಿಷ್ಟ್ಯತೆಯನ್ನು ಗುರುತಿಸಿ :

- 1) ರಾಮನಗರ _____
- 2) ಕೋಲಾರ _____
- 3) ಚಿಕ್ಕಬಳ್ಳಾಪುರ _____
- 4) ಬೆಂಗಳೂರು ನಗರ _____
- 5) ಶಿವಮೊಗ್ಗ _____

ಈ) ಪೂರ್ಣಗೊಳಿಸಿ :

- 1) ತೆಂಗಿನಕಾಯಿ ಬೆಳೆಗೆ ಪ್ರಸಿದ್ಧವಾದ ಜಿಲ್ಲೆ _____
- 2) ಏಳು ಸುತ್ತಿನ ಕೋಟೆ ಹೊಂದಿರುವ ಜಿಲ್ಲೆ _____
- 3) ದಕ್ಷಿಣಭಾರತದ ದೊಡ್ಡ ಕೆರೆಯಿರುವ ಜಿಲ್ಲೆ _____
- 4) ಕುವೆಂಪುರವರ ಮನೆಯಿರುವುದು _____

ಉ) ನೀಡಿರುವ ಚಿತ್ರಪಟಗಳನ್ನು ಗಮನಿಸಿ ನಂತರ ಅವು ಯಾವ ಜಿಲ್ಲೆಗೆ ಸೇರಿವೆ ಹೆಸರಿಸಿ.





