

ತರಗತಿ 6
ಸಮಾಜ
ವಿಜ್ಞಾನ

ಕರ್ನಾಟಕ ಸರ್ಕಾರ, ದ.ಕ.ಜಿ.ಪಂ ಸಾರ್ವಜನಿಕ ಶಿಕ್ಷಣ ಇಲಾಖೆ
ಕ್ಷೇತ್ರ ಶಿಕ್ಷಣಾಧಿಕಾರಿಯವರ ಕಛೇರಿ ಪುತ್ತೂರು
ಕ್ಷೇತ್ರ ಸಂಪನ್ಮೂಲ ಕೇಂದ್ರ, ಪುತ್ತೂರು

ಕಲಿಕಾಸಂಗಮ

- ವಿದ್ಯಾಗಮದ ಪುತ್ಸೂರಿನ ನಡೆ..

ಘಟಕ 1
ಇತಿಹಾಸದ
ಪರಿಚಯ

ಚಟುವಟಿಕೆ -1

ಮಕ್ಕಳೇ ,... ನಾನು ಉಪ್ಪಿನಂಗಡಿಯಿಂದ ನಿಮ್ಮನ್ನು ಕಾಣಲು ಬಂದಿದ್ದೇನೆ. ನನ್ನ ಊರಿಗೆ" ಉಪ್ಪಿನಂಗಡಿ" ಎಂದು ಹೆಸರು ಬರಲು ಒಂದು ಪುಟ್ಟ ಕಥೆಯಿದೆ. ನೋಡಿ ನನ್ನ ಅಜ್ಜಿ ಹೇಳುತ್ತಾ ಇದ್ದರಲು ಬಹಳ ಹಿಂದಿನ ಕಾಲದಲ್ಲ ಅಂದರೆ ಹಣದ ವ್ಯವಹಾರ ಇಲ್ಲದ ಕಾಲದಲ್ಲಿ ಜನರಿಗೆ ಬದುಕಲು ಅಗತ್ಯವಾದ ವಸ್ತುಗಳಿಗೋಸ್ಕರ ಅವರು ವಸ್ತುಗಳನ್ನು ಅದಲು ಬದಲು ಮಾಡಿ ಪಡೆದು ಕೊಳ್ಳುತ್ತಿದ್ದರು. ಆಗ ನಮ್ಮೂರಿನ ಸುತ್ತಮುತ್ತಲ ಜನ ಬಂದು ಉಪ್ಪನ್ನು ನೀಡಿ ಅದರ ಬದಲಿಗೆ ಹಾಸನದ ಕಡೆಯಿಂದ ಬರುತ್ತಿದ್ದ ಭತ್ತವನ್ನು ಪಡೆದುಕೊಳ್ಳುತ್ತಿದ್ದರು. ಆದಕಾರಣ ನಮ್ಮೂರಿಗೆ ಉಪ್ಪಿನಂಗಡಿ ಎಂಬ ಹೆಸರು ಬಂತು. ಮಕ್ಕಳೇ ನಿಮ್ಮ ಊರಿಗೆ ಇರುವ ಹೆಸರು ಬರಲು ಕಾರಣವಾಗಿರುವ ಕಥೆಯನ್ನು ಅಥವಾ ಘಟನೆಯನ್ನು ಹಿರಿಯರಿಂದ ಕೇಳಿ ಯೋಚಿಸಿ ಬರೆಯುವೆಯಾ ?

ಚಟುವಟಿಕೆ 2

ಇದೆ ತರಹ ಹಿನ್ನೆಲೆ ಅಥವಾ ಘಟನೆ ಕಾರಣವಾದ ನಿನ್ನ ಅಕ್ಕ ಪಕ್ಕದ ಇತರ ಊರುಗಳ ಹೆಸರನ್ನು ಪಟ್ಟಿ ಮಾಡಿಕೊಂಡು ಬರುವೆಯಾ

ಚಟುವಟಿಕೆ 3

ಈ ಕೆಳಗಿನ ಚಿತ್ರವನ್ನು ಸರಿಯಾಗಿ ಗಮನಿಸು


1)



2)



3)



4)



5)



6)



8)



7)

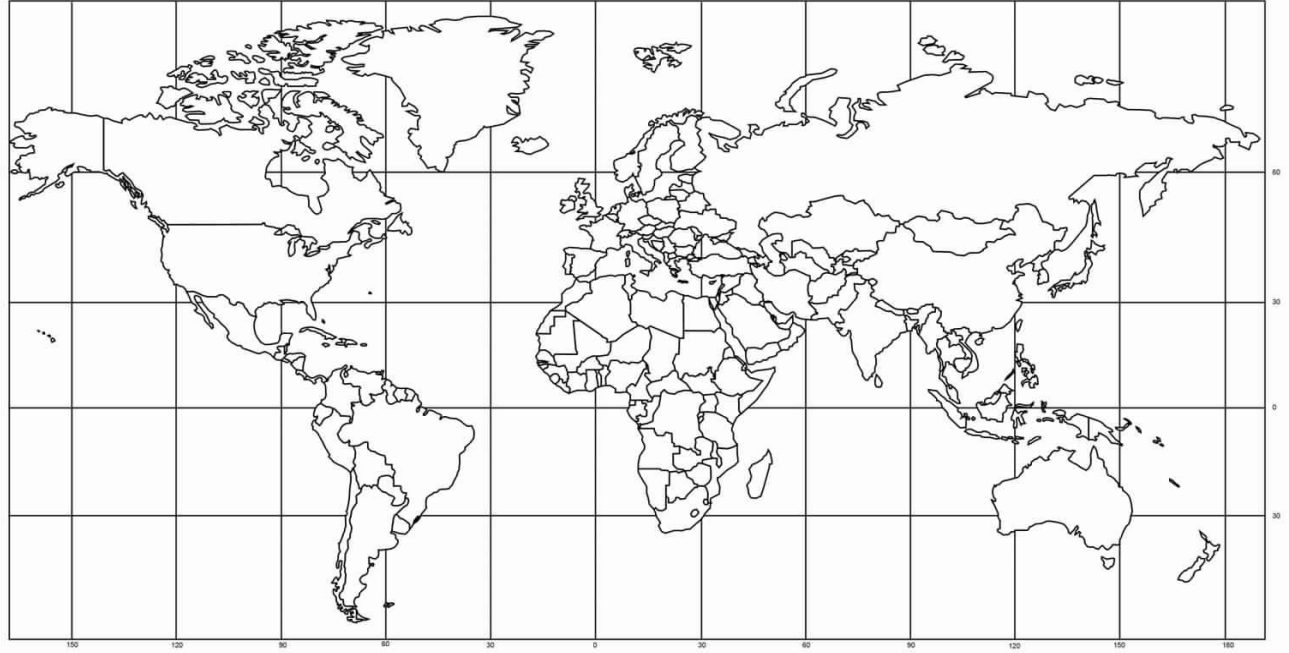


ಚಿತ್ರದ ಸಂಖ್ಯೆ	ಸಂಬಂಧಿಸಿದ ವಿವರ
1	
2	
3	
4	
5	
6	
7	
8	

ಚಟುವಟಿಕೆ 4

ಪ್ರಪಂಚದ ಭೂಪಟ ನೀಡಲಾಗಿದೆ ಅದರಲ್ಲಿ ಈ ಕೆಳಗೆ ಬರೆದ ಖಂಡಗಳನ್ನು ಗುರುತಿಸಿ ಬಣ್ಣ ಹಚ್ಚಲು ಪ್ರಯತ್ನಿಸು.

World Mercator Projection Map with Country Outlines



This is a royalty free image that can be used for your personal, corporate or education projects. It can not be resold or freely distributed, if you need an editable PowerPoint or Adobe Illustrator version of this map please visit www.bjdesign.com or www.mapsfordesign.com. This text can be cropped off. © Copyright J. Bruce Jones 2019

ಏಷ್ಯಾ	ಹಳದಿ
ಯುರೋಪ್	ಗುಲಾಬಿ
ಉತ್ತರ ಅಮೇರಿಕಾ	ಕೇಸರಿ
ದಕ್ಷಿಣ ಅಮೇರಿಕಾ	ಹಸಿರು
ಆಫ್ರಿಕಾ	ಕಂದು

ತರಗತಿ 6
ಸಮಾಜ
ವಿಜ್ಞಾನ

ಕರ್ನಾಟಕ ಸರ್ಕಾರ, ದ.ಕ.ಜಿ.ಪಂ ಸಾರ್ವಜನಿಕ ಶಿಕ್ಷಣ ಇಲಾಖೆ
ಕ್ಷೇತ್ರ ಶಿಕ್ಷಣಾಧಿಕಾರಿಯವರ ಕಛೇರಿ ಪುತ್ತೂರು
ಕ್ಷೇತ್ರ ಸಂಪನ್ಮೂಲ ಕೇಂದ್ರ, ಪುತ್ತೂರು

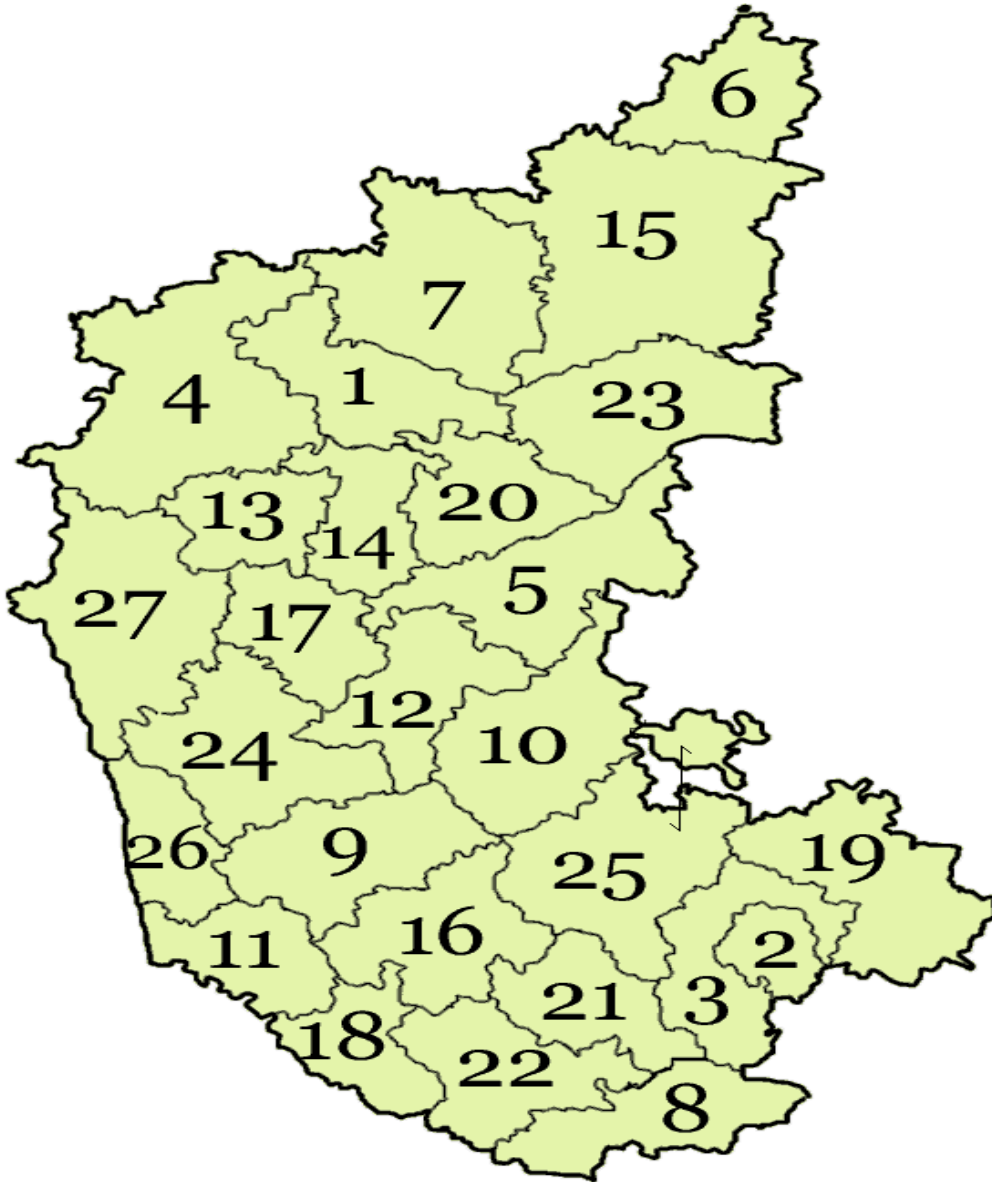
ಕಲಿಕಾಸಂಗಮ

- ವಿದ್ಯಾಗಮದೇ ಪುತ್ತೂರಿನ ನಡೆ..

ಘಟಕ ೨
ನಮ್ಮ
ಕರ್ನಾಟಕ

ಚಟುವಟಿಕೆ 1

ಕೆಳಗೆ ನೀಡಿದ ಕರ್ನಾಟಕದ ನಕ್ಷೆಯಲ್ಲಿ, ಜಿಲ್ಲೆಗಳನ್ನು ಹೆಸರಿಸಿ ಅದಕ್ಕೆ ವಿವಿಧ ಬಣ್ಣ ಹಚ್ಚುವೆಯಾ



- 1 Bagalkot
- 2 Bangalore
- 3 Bangalore Rural
- 4 Belgaum
- 5 Bellary
- 6 Bidar
- 7 Bijapur
- 8 Chamarajanagar
- 9 Chikmagalur
- 10 Chitradurga
- 11 Dakshina Kannada
- 12 Davanagere
- 13 Dharwad
- 14 Gadag
- 15 Gulbarga
- 16 Hassan
- 17 Haveri
- 18 Kodagu
- 19 Kolar
- 20 Koppal
- 21 Mandya
- 22 Mysore
- 23 Raichur
- 24 Shimoga
- 25 Tumkur
- 26 Udupi
- 27 Uttara Kannada

ಚಟುವಟಿಕೆ 2 ನಿನ್ನ ಪಠ್ಯ ಪುಸ್ತಕದ ಸಹಾಯದಿಂದ ಕೆಳಗೆ ತಿಳಿಸಿದಂತೆ ವಿಭಾಗವಾರು ಜಿಲ್ಲೆಗಳ ಹೆಸರು ಬರೆ.

ಕಲಬುರಗಿ	ಬೆಳಗಾವಿ	ಮೈಸೂರು	ಬೆಂಗಳೂರು

ಚಟುವಟಿಕೆ 3 ನೀನು ಈಗಾಗಲೇ ಬಣ್ಣ ಹಾಕಿದ (ಚಟುವಟಿಕೆ)ಕರ್ನಾಟಕದ ನಕ್ಷೆಯನ್ನು ವಿಭಾಗವಾರು ಗುರುತಿಸು.

ಚಟುವಟಿಕೆ 4 - ಯೋಚಿಸಿ ಉತ್ತರಿಸು

ನಮ್ಮ ರಾಜ್ಯದ ರಾಜಧಾನಿ _____

ಬೆಂಗಳೂರು ವಿಭಾಗದಲ್ಲಿ ಬರುವ ಒಟ್ಟು ಜಿಲ್ಲೆಗಳ ಸಂಖ್ಯೆ ____-

ನಮ್ಮ ರಾಜ್ಯದಲ್ಲಿ ಅತೀ ಕಡಿಮೆ ಮಳೆ ಬೀಳುವ ಪ್ರದೇಶವನ್ನು ಹೊಂದಿರುವ ಜಿಲ್ಲೆ ____-

ಜೋಗ ಜಲಪಾತ ಇರುವ ಜಿಲ್ಲೆ _____

ಚಿನ್ನದ ಗಣಿ ಎಂದು ಪ್ರಸಿದ್ಧವಾದ ಜಿಲ್ಲೆ _____

ಬೆಂಗಳೂರು ನಗರ ಬತ್ತಿ ಹೋಗಲು ಇದೂ ಒಂದು ಕಾರಣ _____

ಚಟುವಟಿಕೆ 5

ಕನ್ನಡ ನಾಡಿನ ಹಿರಿಮೆಯನ್ನು ಸಾರುವ ಒಂದು ಹಾಡನ್ನು ರಾಗಬದ್ಧವಾಗಿ ಹಾಡಲು ಪ್ರಯತ್ನಿಸು

ಚಟುವಟಿಕೆ 6

ಚಿತ್ರದಲ್ಲಿರುವ ವ್ಯಕ್ತಿಯನ್ನು ಗುರುತಿಸಿ ಅವರ ಸಾಧನೆಯನ್ನು ಬರೆ.



ಚಟುವಟಿಕೆ 8 ಸೂಚಿಸಿದಂತೆ ಹೊಂದಿಸು

ಚೆನ್ನಪಟ್ಟಣ ಇನ್ವೆಸ್ಟಿಸಿಸ್ ಮಧುಗಿರಿ ಲಾಲ್ ಬಾಗ್ ಕೆಂಪೆಗೌಡ	ಪುಷ್ಪ ಪ್ರದರ್ಶನ ಏಕಶಿಲಾ ಬೆಟ್ಟ ವಿಮಾನ ನಿಲ್ದಾಣ ಗೊಂಬೆಗಳು ಖಾಸಗಿ ಉದ್ಯಮ
---	--

ಚಟುವಟಿಕೆ 9 ಮೈಸೂರು ವಿಭಾಗದ ಬಗ್ಗೆ ಪಠ್ಯದ ಸಹಾಯದಿಂದ ಟಿಪ್ಪಣಿ ಬರೆ

ಚಟುವಟಿಕೆ 10 ಮೈಸೂರಿನ ಪ್ರೇಕ್ಷಣೀಯ ಸ್ಥಳಗಳ ಚಿತ್ರಗಳನ್ನು ಸಂಗ್ರಹಿಸಿ ಪುಸ್ತಕದಲ್ಲಿ ಅಂಟಿಸಲು ಪ್ರಯತ್ನಿಸು.

ಚಟುವಟಿಕೆ 11 ಮಾದರಿಯಂತೆ ಪಠ್ಯಪಸ್ತಕದ ಸಹಾಯದಿಂದ ಸ್ಥಳದ ಹೆಸರನ್ನು ಹುಡುಕು

ಚೆನ್ನಕೇಶವ ದೇವಾಲಯ	ಬೇಲೂರು
ಗೋಮಟೇಶ್ವರ	
ಕರ್ನಾಟಕದ ಕಾಶ್ಮೀರ	
ದಸರಾ	
ಸಕ್ಕರೆಯ ನಾಡು	
ಹಾಸನಾಂಬ ದೇವಲಾಯ	
ಬಾಬಾ ಬುಡನ್ ಗಿರಿ	
ಕನಕನ ಕಿಂಡಿ	
ಶ್ರೀರಂಗಪಟ್ಟಣ	
ಪಣಂಬೂರು ಬಂದರು	
ಡಾ ಶಿವರಾಮಕಾರಂತ	
ಜೈವಿಕ ಉದ್ಯಾನವನ	
ಸೈಂಟ್ ಮೇರಿಸ್ ದ್ವೀಪ	

ತರಗತಿ 6

ಸಮಾಜ
ವಿಜ್ಞಾನ

ಕರ್ನಾಟಕ ಸರ್ಕಾರ, ದ.ಕ.ಜಿ.ಪಂ ಸಾರ್ವಜನಿಕ ಶಿಕ್ಷಣ ಇಲಾಖೆ
ಕ್ಷೇತ್ರ ಶಿಕ್ಷಣಾಧಿಕಾರಿಯವರ ಕಛೇರಿ ಪುತ್ತೂರು
ಕ್ಷೇತ್ರ ಸಂಪನ್ಮೂಲ ಕೇಂದ್ರ, ಪುತ್ತೂರು

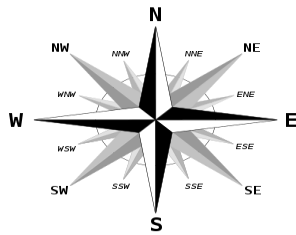
ಕಲಿಕಾಸಂಗಮ

- ವಿದ್ಯಾಗಮದೇ ಪ್ರತ್ನೂರಿನ ನಡೆ..

ಘಟಕ 3
ಭೂಗೋಳ
ವಿಜ್ಞಾನ-
ನಕಾಶೆ

ಚಟುವಟಿಕೆ 1

ಈ ಕೆಳಗಿನ ಚಿತ್ರವನ್ನು ಗಮನಿಸು. - ಊರಿನ ಮಧ್ಯೆ ದೊಡ್ಡ ಆಲದ ಮರವಿದೆ. ಆಲದ ಮರದಿಂದ ಕೆಳಗೆ ಕೊಟ್ಟ ಸ್ಥಳಗಳು ಯಾವ ದಿಕ್ಕಿನಲ್ಲಿದೆ ಎಂದು ಗುರುತಿಸು



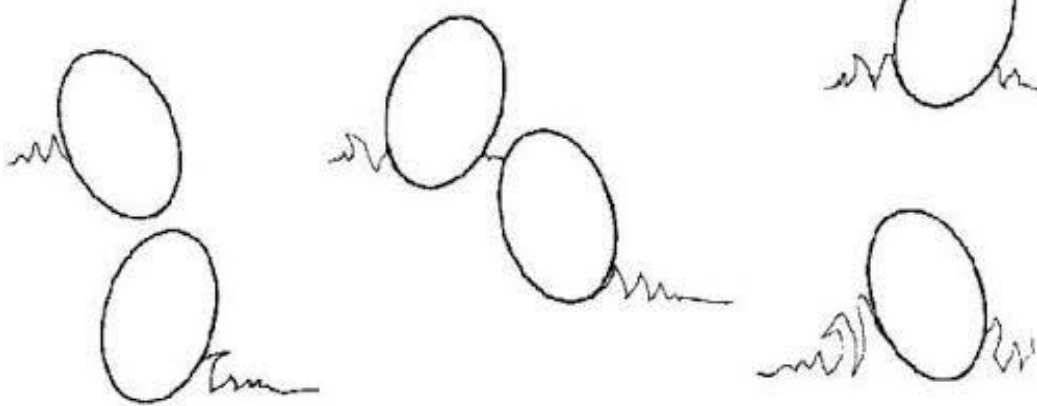
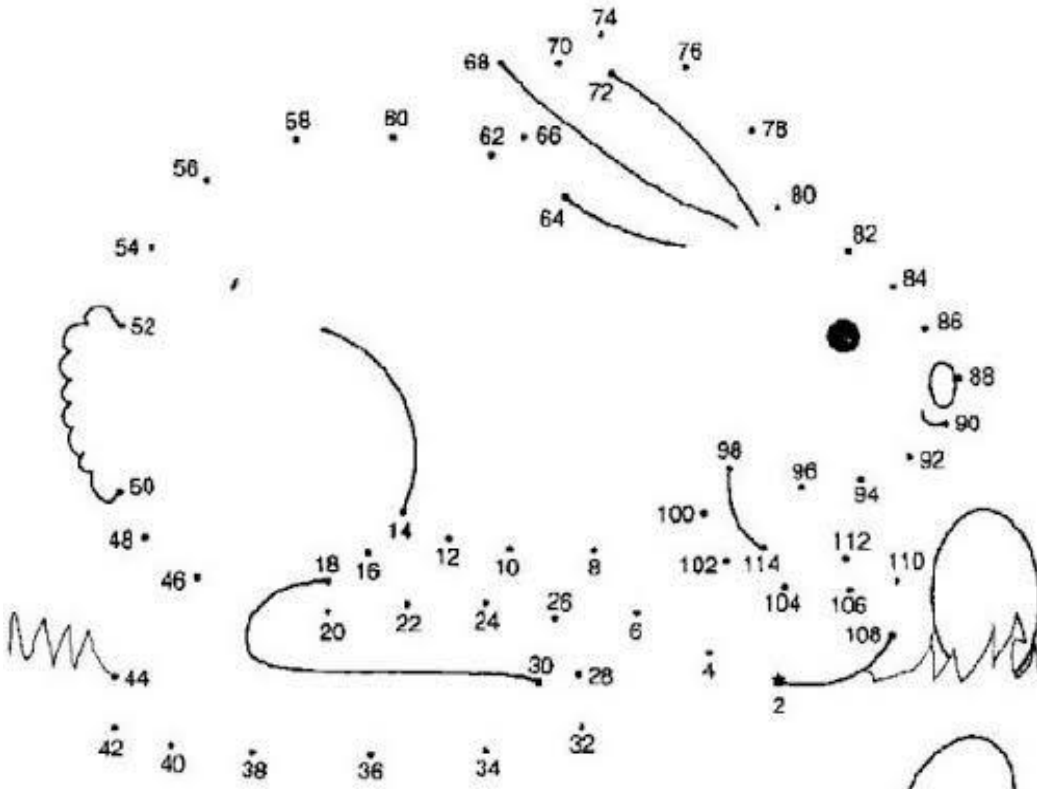
This Photo by Unknown

ಯಾವ ದಿಕ್ಕಿಗಿದೆ ಎಂದು ಸೂಚಿಸು.

ಆಸ್ಪತ್ರೆ	
ಗ್ರಾಮಪಂಚಾಯತ್	
ಶಾಲೆ	
ಉದ್ಯಾನವನ	
ಮಸೀದಿ	
ನ್ಯಾಬೆಲೆ ಅಂಗಡಿ	
ಬೋರ್ ವೆಲ್	
ದೇವಸ್ಥಾನ	
ಕೆರೆ	
ಚರ್ಚ್	

ಚಟುವಟಿಕೆ 2 ಈ ಕೆಳಗೆ ಕಾಣಿಸಿದ ಚುಕ್ಕಿಗಳನ್ನು ಕ್ರಮಪ್ರಕಾರವಾಗಿ ಸೇರಿಸು. ನೀನಿಗ ಯಾವ ನಕಾಶೆ ಬಿಡಿಸಿರುವೆ ಎಂದು ಹೇಳು

Connect the dots. Count by 2's



ವೇಯಾ ?

ಚಟುವಟಿಕೆ 3 ಇದು ನನ್ನ ಮನೆಯ ನಕಾಶೆ. ನಿನಗೆ ತಿಳಿದ ಹಾಗೆ ನಿನ್ನ ಮನೆಯ ನಕಾಶೆಯನ್ನು ಬಿಡಿಸು.



1ST, 2ND & 3RD FLOOR

ಚಟುವಟಿಕೆ 4

ನಿನ್ನ ಮನೆ ಮತ್ತು ಸುತ್ತಮುತ್ತಲಿರುವ ಗಿಡಮರ ಕಟ್ಟಡ ಒಳಗೊಂಡಂತೆ ಚಿತ್ರ ಬಿಡಿಸು

ಚಟುವಟಿಕೆ 5 ನಿನ್ನ ಪಠ್ಯಪುಸ್ತಕದ (ಪುಟಸಂಖ್ಯೆ 124) ನಕ್ಷೆಯನ್ನು ಗಮನಿಸು

ಕೆಳಗಿನ ಪಶ್ಚಿಮಗಳಿಗೆ ಉತ್ತರಿಸು

- ೧) ಇದು ಯಾವ ಪ್ರಮಾಣದ ನಕ್ಷೆ
- ೨) ಈ ನಕ್ಷೆಯಲ್ಲಿ ನೀನು ಏನೇನು ಗಮನಿಸಿರುವೆ
- ೩) ಈ ರೀತಿಯ ನಕ್ಷೆಯನ್ನು ನೀನು ಎಲ್ಲೆಲ್ಲಿ ಉಪಯೋಗಿಸಿದನ್ನು ಗಮನಿಸಿರುವೆ.

ಚಟುವಟಿಕೆ 6 ಪ್ರಪಂಚದ ನಕ್ಷೆಯಲ್ಲಿ ಈ ಕೆಳಗೆ ಕಾಣಿಸಿದ ಅಂಶಗಳನ್ನು ಬಣ್ಣ ಹಚ್

World Mercator Projection Map with Country Outlines



This is a royalty free image that can be used for your personal, corporate or education projects. It can not be resold or freely distributed, if you need an editable PowerPoint or Adobe Illustrator version of this map please visit www.bjdesign.com or www.mapsfordesign.com. This text can be cropped off. © Copyright J. Bruce Jones 2019

1. ಜಲಭಾಗ
2. ಭಾರತ ದೇಶ
3. ದಕ್ಷಿಣ ಅಮೇರಿಕಾ
4. ನದಿ

