



ಸಾಮರ್ಥ್ಯಧಾರಿತ ಸೇತುಬಂಧ ವರ್ಕ್ ಶೀಟ್ -2021-22 (DSERT ಸೂಚಿತ)

ಅಪೇಕ್ಷಿತ ಕಲಿಕಾ ಫಲ 1-

ತರಗತಿ -6

ಒಟ್ಟು ಅವಧಿ- 2

ಈ ಎಲ್ಲಾ ಕೋಷ್ಟಕ/ಪ್ರಶ್ನೆಗಳನ್ನು ಪೂರ್ಣಕರ ಸಹಾಯದಿಂದ ಉತ್ತರಿಸಿ ಹಾಗೂ ಮೊಬೈಲ್ ಮೂಲಕ ಶಿಕ್ಷಕರಿಂದ ಮಾರ್ಗದರ್ಶನ ಪಡೆದುಕೊಳ್ಳಿ)

ಪ್ರಾಣಿಗಳು	ಗಾತ್ರ/ ಆಕಾರ	ಬಣ್ಣ	ಆಹಾರ	ಚಲನೆ	ವಾಸಸ್ಥಳ
ಹಸು					
ಮೀನು					
ಕೊಕ್ಕರೆ					
ಚಿಟ್ಟೆ					
ಕೋತಿ					
ಓತಿಕಾತ					
ಮೊಲ					
ಮಿಡತೆ					
ಮನುಷ್ಯ					

ಪ್ರಾಣಿಗಳ ಹೆಸರು	ಅವುಗಳ ಉಪಯೋಗ
ಹಸು	
ಕುದುರೆ	
ಎತ್ತು	
ಕೋಳಿ	
ಮೇಕೆ	
ರಣಹದ್ದು	
ಮೀನು	



ಸಾಮರ್ಥ್ಯಧಾರಿತ ಸೇತುಬಂಧ ವರ್ಕ್ ಶೀಟ್ -2021-22 (DSERT ಸೂಚಿತ)



ಜೇನು ಹುಳುಗಳು ಹೇಗೆ
ಜೇನುತುಪ್ಪವನ್ನು
ಸಂಗ್ರಹಿಸುತ್ತದೆ



ಜೇನುತುಪ್ಪದಿಂದ ಯಾವ
ಯಾವ ಉತ್ಪನ್ನಗಳನ್ನು
ತಯಾರಿಸುವರು

ಶುದ್ಧ ಜೇನುತುಪ್ಪವನ್ನು ಹೇಗೆ
ಕಂಡುಹಿಡುವಿರಿ. ಮನೆಯಲ್ಲಿ (ನೀವು
ಪ್ರಯೋಗ ಮಾಡಿ, ಮತ್ತು ಅದರ
ವಿಡಿಯೋ ಕಳುಹಿಸಿ)

ನಿಮ್ಮ ಮನೆ ಅಥವಾ ಅಥವಾ
ನಿಮ್ಮ ಗ್ರಾಮದಲ್ಲಿ ಇರುವ ಸಾಕುಪ್ರಾಣಿಗಳು
ಯಾವುವು?

ನಿಮಗೆ ಇಷ್ಟವಾದ ಒಂದು ಯಾವುದಾದರೂ ಒಂದು ಪ್ರಾಣಿಯ ಚಿತ್ರ ಬರೆದು ಬಣ್ಣ
ತುಂಬಿರಿ



ಸಾಮರ್ಥ್ಯಧಾರಿತ ಸೇತುಬಂಧ ವರ್ಕ್ ಶೀಟ್ -2021-22 (DSERT ಸೂಚಿತ)

ಅಪೇಕ್ಷಿತ ಕಲಿಕಾಫಲ- 2

ತರಗತಿ-6

ಒಟ್ಟು ಅವಧಿ-2

ಕಿರುಸಮೀಕ್ಷೆ ಮಾಡಿ ಈ ಕೋಷ್ಟಕ ತುಂಬಿರಿ (ಮನೆ ಭೇಟಿ ಆಗದಿದ್ದಲ್ಲಿ ನಿಮ್ಮ ಸ್ನೇಹಿತರಿಗೆ ಕರೆ ಮಾಡಿ ಮಾಹಿತಿ ತುಂಬಿರಿ, ನಿಮ್ಮ ಮನೆಯ ಮಾಹಿತಿಯೂ ಕೂಡ ಇರಲಿ)

ಮನೆ ಮುಖ್ಯಸ್ಥರ ಹೆಸರು	ಅವರ ವಯಸ್ಸು	ಮನೆಯ ಸದಸ್ಯರು ಮುಖ್ಯಸ್ಥರೊಂದಿಗೆ ಹೊಂದಿರುವ ಸಂಬಂಧ	ಈ ಮನೆಯಲ್ಲಿನ ಒಟ್ಟು ತಲೆಮಾರುಗಳ ಸಂಖ್ಯೆ	ಇದು ವಿಭಕ್ತ/ ಅವಿಭಕ್ತ ಕುಟುಂಬವೇ?

ಕುಟುಂಬದಿಂದ ಕಲಿಯುವ ಒಳ್ಳೆಯ ಗುಣಗಳು ಯಾವುವು ?

1. _____
2. _____
3. _____
4. _____
5. _____
6. _____

ನಿನ್ನ ಕುಟುಂಬದ ವಂಶವೃಕ್ಷ ಬರೆಯಿರಿ



ಸಾಮರ್ಥ್ಯಧಾರಿತ ಸೇತುಬಂಧ ವರ್ಕ್ ಶೀಟ್ -2021-22 (DSERT ಸೂಚಿತ)

ಅಪೇಕ್ಷಿತ ಕಲಿಕಾಫಲ- 3

ತರಗತಿ-6

ಒಟ್ಟು ಅವಧಿ-2

ಗ್ರಾಮೀಣ ಸಮುದಾಯದಲ್ಲಿ ಜನರು ನಿರ್ವಹಿಸುವ ವಿವಿಧ ಕೆಲಸಗಳನ್ನು ಸಂಗ್ರಹಿಸಿ ಬರೆಯಿರಿ

--	--	--	--	--	--	--

ನಗರ ಸಮುದಾಯದಲ್ಲಿ ಜನರು ನಿರ್ವಹಿಸುವ ವಿವಿಧ ಕೆಲಸಗಳನ್ನು ಸಂಗ್ರಹಿಸಿ ಬರೆಯಿರಿ

--	--	--	--	--	--	--



ಈ ರೀತಿಯ ಮರದ ಆಟಿಕೆಗಳಿಗೆ ಹೆಸರುವಾಸಿಯಾದ ಕರ್ನಾಟಕದ ಸ್ಥಳ ಯಾವುದು?

ಕಿನ್ನಾಳ ಗೊಂಬೆಗಳಿಗೆ ಹೆಸರುವಾಸಿಯಾದ ಕರ್ನಾಟಕದ ಸ್ಥಳ ಯಾವುದು?



ಬಾಲಕಾರ್ಮಿಕ ಮಕ್ಕಳು ಅನುಭವಿಸುತ್ತಿರುವ ತೊಂದರೆಗಳೇನು?

1. _____

2. _____

೨

ಬಾಲಕಾರ್ಮಿಕ ಮಕ್ಕಳನ್ನು ಸಂರಕ್ಷಿಸಲು ಕರೆ ಮಾಡಬೇಕಾದ ದೂರವಾಣಿ ಸಂಖ್ಯೆ _____





ಸಾಮರ್ಥ್ಯಧಾರಿತ ಸೇತುಬಂಧ ವರ್ಕ್ ಶೀಟ್ -2021-22 (DSERT ಸೂಚಿತ)

ಅಪೇಕ್ಷಿತ ಕಲಿಕಾ ಫಲ 4

ತರಗತಿ -6

ಒಟ್ಟು ಅವಧಿ- 2

1. ನೀವು ಯಾವುದಾದರೂ ಜಾತ್ರೆ/ ಉತ್ಸವಕ್ಕೆ ಭೇಟಿ ನೀಡಿದ ಸಂದರ್ಭದಲ್ಲಿ ಅಲ್ಲಿ ನೋಡಿದ ಮಳಿಗೆಗಳು, / ಅಂಗಡಿಗಳು /ವಸ್ತುಗಳು/ ಸಿಹಿತಿನಿಸು ಇನ್ನಿತರ ಮಾಹಿತಿಗಳ ಕುರಿತು ಬರೆಯಿರಿ.

--

2. ನಿಮ್ಮ ಮನೆಯಲ್ಲಿ ಆಚರಿಸುವ ಹಬ್ಬ ಮತ್ತು ಆ ದಿನದ ತಯಾರಿಸುವ ವಿಶೇಷ ಆಹಾರಗಳನ್ನು ಹೆಸರಿಸಿ

ಹಬ್ಬ	ಆಹಾರ

3. ಕರ್ನಾಟಕದ ವಿವಿಧ ಭಾಗಗಳು ಮತ್ತು ಅಲ್ಲಿನ ಆಹಾರಗಳ ಸಂಗ್ರಹಿಸಿ ಬರೆಯಿರಿ

ಉತ್ತರ ಕರ್ನಾಟಕ	ಮಲೆನಾಡು	ಕರಾವಳಿ

ಈ ನಾಡಹಬ್ಬದ ಚಿತ್ರವನ್ನು ಗುರುತಿಸಿ ಇದನ್ನು ಯಾವಾಗ, ಎಲ್ಲಿ ಹೇಗೆ ಆಚರಣೆ ಮಾಡುವರು ಎಂಬುದರ ಕುರಿತು ಬರೆಯಿರಿ



--



ಸಾಮರ್ಥ್ಯಧಾರಿತ ಸೇತುಬಂಧ ವರ್ಕ್ ಶೀಟ್ -2021-22 (DSERT ಸೂಚಿತ)

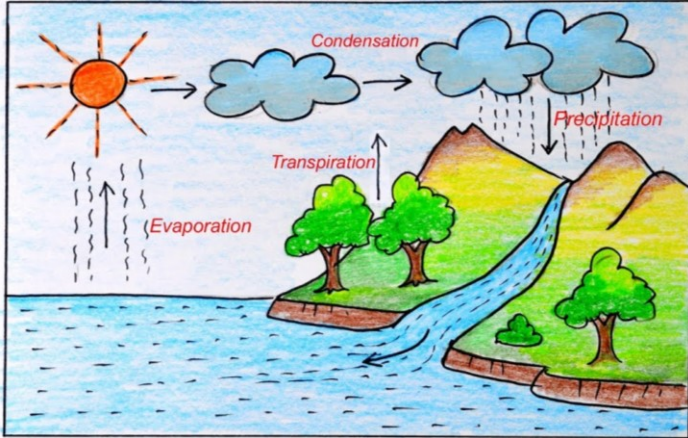
ಅಪೇಕ್ಷಿತ ಕಲಿಕಾ ಫಲ 5

ತರಗತಿ -6

ಒಟ್ಟು ಅವಧಿ- 3

ಆಯಾ ಋತುಮಾನಗಳಿಗೆ ಅನ್ವಯವಾಗುವಂತಹ ಮಾಹಿತಿ ಸಂಗ್ರಹಿಸಿ

ಋತುಮಾನಗಳು	ಉಡುಪುಗಳು/ ವಸ್ತುಗಳು	ಆಹಾರ	ಬೆಳೆಗಳು
ಬೇಸಿಗೆ ಕಾಲ			
ಮಳೆಗಾಲ			
ಚಳಿಗಾಲ			



ಮಳೆ ಹೇಗೆ ಉಂಟಾಗುತ್ತದೆ ?

ಮಳೆ ಹೇಗೆ ಉಂಟಾಗುತ್ತದೆ ಪಕ್ಕದ ಚಿತ್ರದಲ್ಲಿ ಗಮನಿಸಿ ಅದೇ ರೀತಿ ಚಿತ್ರ ಬರೆದು ಬಣ್ಣ ತುಂಬಿರಿ



ಸಾಮರ್ಥ್ಯಧಾರಿತ ಸೇತುಬಂಧ ವರ್ಕ್ ಶೀಟ್ -2021-22 (DSERT ಸೂಚಿತ)

ಹವಾಮಾನದ ಘಟಕಾಂಶಗಳಿಗೆ ✓ ಗುರುತು ಹಾಕಿ, ಇಲ್ಲವೆಂದಲ್ಲಿ ✗ ಗುರುತು ಹಾಕಿ

ಮೋಡ	ಆಹಾರ	ಗಾಳಿ	ಬಿಸಿಲು	ಶಾಲೆ	ಮಳೆ	ಉಷ್ಣತೆ

ಹವಾಮಾನ ಮತ್ತು ವಾಯುಗುಣ ಇವುಗಳಿಗಿರುವ ವ್ಯತ್ಯಾಸ ಬರೆಯಿರಿ

ಹವಾಮಾನ	ವಾಯುಗುಣ

ಎರಡು ದಿನದ ನಿಮ್ಮ ಊರಿನ ವಾತಾವರಣ ವೀಕ್ಷಿಸಿ ಹವಾಮಾನ ಪರಿಸ್ಥಿತಿ ಅಧ್ಯಯನ

ಸಮಯ	ಮಳೆ/ಬಿಸಿಲು/ ಮೋಡ/ಗಾಳಿ/ ಮಂಜು(ಆಯ್ಕೆ ಸಮಯಕ್ಕೆ ಸೂಕ್ತವಾದುದನ್ನು ಗಮನಿಸಿ ಬರೆಯಿರಿ (ದಿನಾಂಕ-	ಸಮಯ	ಮಳೆ/ಬಿಸಿಲು/ ಮೋಡ/ಗಾಳಿ/ ಮಂಜು(ಆಯ್ಕೆ ಸಮಯಕ್ಕೆ ಸೂಕ್ತವಾದುದನ್ನು ಗಮನಿಸಿ ಬರೆಯಿರಿ(ದಿನಾಂಕ-
8 AM		8 AM	
9 AM		9 AM	
10 AM		10 AM	
11 AM		11 AM	
12 NOON		12 NOON	
1 PM		1 PM	
2 PM		2 PM	
3PM		3PM	
4PM		4PM	
5 PM		5 PM	



ಸಾಮರ್ಥ್ಯಧಾರಿತ ಸೇತುಬಂಧ ವರ್ಕ್ ಶೀಟ್ -2021-22 (DSERT ಸೂಚಿತ)

ಅಪೇಕ್ಷಿತ ಕಲಿಕಾ ಫಲ 6

ತರಗತಿ -6

ಒಟ್ಟು ಅವಧಿ- 4

ಈ ಕೆಳಗಿನ ಸಂಪನ್ಮೂಲಗಳನ್ನು ಆಯ್ದು ನವೀಕರಿಸಬಹುದಾದ ನವೀಕರಿಸಲಾಗದ ಸಂಪನ್ಮೂಲಗಳಾಗಿ ವಿಂಗಡಿಸಿ ಬರೆಯಿರಿ ಕಲ್ಲಿದ್ದಲು, ನೀರು, ಗಾಳಿ, ಮಣ್ಣು, ಪೆಟ್ರೋಲಿಯಮ್ ,ಖನಿಜಗಳು, ಬೆಳಕು,ಅದಿರುಗಳು	
ನವೀಕರಿಸಬಹುದಾದ ಸಂಪನ್ಮೂಲಗಳು	ನವೀಕರಿಸಲಾಗದ ಸಂಪನ್ಮೂಲಗಳು

ಅರಣ್ಯ ಸಂರಕ್ಷಣೆ ಮಾಡಬಹುದಾದ ಕ್ರಮಗಳನ್ನು ಬರೆಯಿರಿ

ನೀರಿನ ಮಿತ ಬಳಕೆ ಹಾಗೂ ನೀರಿನ ಸಂರಕ್ಷಣೆ ಕುರಿತು ಯಾವ ಯಾವ ಕ್ರಮಗಳನ್ನು ಅನುಸರಿಸಬಹುದು



ಸಾಮರ್ಥ್ಯಧಾರಿತ ಸೇತುಬಂಧ ವರ್ಕ್ ಶೀಟ್ -2021-22 (DSERT ಸೂಚಿತ)

ಹಸಿ ತ್ಯಾಜ್ಯ ಗಳು ಯಾವುವು	→	ಹೇಗೆ ವಿಲೇವಾರಿ ಮಾಡಬಹುದು?
ಒಣ ತ್ಯಾಜ್ಯ ಯಾವುವು	→	ಹೇಗೆ ವಿಲೇವಾರಿ ಮಾಡಬಹುದು?

ಈ ಚಿತ್ರದಲ್ಲಿ ಇರುವವರು ಯಾರು? ಇವರು ಏಕೆ ಪ್ರಸಿದ್ಧಿ ಪಡೆದಿದ್ದಾರೆ?

ಇವರಿಂದ ನೀವು ಕಲಿಯಬಹುದಾದ ಒಂದು ಗುಣ ತಿಳಿಸಿ



ವಾಯುಮಾಲಿನ್ಯ ಉಂಟಾಗಲು ಕಾರಣಗಳು	ವಾಯುಮಾಲಿನ್ಯ ತಡೆಯುವ ಕ್ರಮಗಳು

ಪರಿಸರ ಮಾಲಿನ್ಯಕ್ಕೆ ಸಂಬಂಧಿಸಿದ ಚಿತ್ರವನ್ನು ಡ್ರಾಯಿಂಗ್/ ಬಿಳಿ ಹಾಳೆಯಲ್ಲಿ ಬರೆದು ಬಣ್ಣ ತುಂಬಿ ಈ ವರ್ಕ್ ಶೀಟ್ ನೊಂದಿಗೆ ಕೊಡಿ



ಸಾಮರ್ಥ್ಯಧಾರಿತ ಸೇತುಬಂಧ ವರ್ಕ್ ಶೀಟ್ -2021-22 (DSERT ಸೂಚಿತ)

ಅಪೇಕ್ಷಿತ ಕಲಿಕಾ ಫಲ 7

ತರಗತಿ -6

ಒಟ್ಟು ಅವಧಿ- 3



ರಾಷ್ಟ್ರಧ್ವಜದ ಬಣ್ಣಗಳನ್ನು ಬರೆದು - ಅವು ಏನನ್ನು ಸೂಚಿಸುತ್ತದೆ ಎಂಬುದನ್ನು ಅದರ ಮುಂದೆ ಬರೆಯಿರಿ

- 1.
- 2.
- 3.

ಅಶೋಕಚಕ್ರ-

ರಾಷ್ಟ್ರಲಾಂಛನವನ್ನು ಎಲ್ಲೆಲ್ಲಿ ಕಾಣುತ್ತೇವೆ

ಲಾಂಛನದಲ್ಲಿ ಕಾಣುವ ಪ್ರಾಣಿಗಳು ಯಾವುದು? ಇದರಲ್ಲಿ ಏನೆಂದು ಬರೆಯಲಾಗಿದೆ



ರಾಷ್ಟ್ರೀಯ ಪ್ರಾಣಿ	
ರಾಷ್ಟ್ರೀಯ ಪಕ್ಷಿ	
ರಾಷ್ಟ್ರೀಯ ಮರ	
ರಾಷ್ಟ್ರೀಯ ಹಬ್ಬಗಳು	
ರಾಷ್ಟ್ರೀಯ ಕ್ರೀಡೆ	
ರಾಷ್ಟ್ರಗೀತೆ	
ರಾಷ್ಟ್ರೀಯ ಹೂ	
ರಾಷ್ಟ್ರೀಯ ಹಣ್ಣು	

ಕರ್ನಾಟಕ ರಾಜ್ಯದ ಮಾಹಿತಿ	
ರಾಜ್ಯ ಪ್ರಾಣಿ	
ರಾಜ್ಯ ಹೂ	
ರಾಜ್ಯ ವೃಕ್ಷ	
ರಾಜ್ಯ ಪಕ್ಷಿ	



ಸಾಮರ್ಥ್ಯಧಾರಿತ ಸೇತುಬಂಧ ವರ್ಕ್ ಶೀಟ್ -2021-22 (DSERT ಸೂಚಿತ)

1. ಭಾರತದ ರಾಷ್ಟ್ರಗೀತೆ ಯಾವುದು _____
2. ಭಾರತದ ರಾಷ್ಟ್ರಗೀತೆ ಬರೆದವರು ಯಾರು _____
ಭಾರತದ ರಾಷ್ಟ್ರಗೀತೆಯನ್ನು ಎಷ್ಟು ಕಾಲಾವಧಿಯಲ್ಲಿ ಹಾಡಬೇಕು _____
3. ರಾಷ್ಟ್ರಗೀತೆ ಕೇಳಿದ ಕೂಡಲೆ ಎಲ್ಲರೂ ನಿಲ್ಲುವುದು ಏಕೆ _____
4. ಭಾರತದ ರಾಷ್ಟ್ರಗೀತೆಯನ್ನು ಹಾಡಿ ಮೊಬೈಲ್ ನಲ್ಲಿ ರೆಕಾರ್ಡ್ ಮಾಡಿ ಕಳುಹಿಸಿ

1.ಭಾರತ ದೇಶದ ವಿವಿಧ ರಾಜ್ಯಗಳ ನೃತ್ಯಗಳ ವಿಧಗಳನ್ನು ಹೆಸರಿಸಿ. ಮತ್ತು ಚಿತ್ರಗಳನ್ನು ಸಂಗ್ರಹಿಸಿ

ರಾಜ್ಯಗಳ ಹೆಸರು	ನೃತ್ಯ ಪ್ರಕಾರ

ನಿಮ್ಮ ಊರು ಅಥವಾ ಶಾಲೆಯಲ್ಲಿ ಆಚರಿಸಿದ ಸ್ವಾತಂತ್ರ್ಯದಿನಾಚರಣೆ ಕುರಿತು ಕಿರುಪ್ರಬಂಧ ಬರೆಯಿರಿ

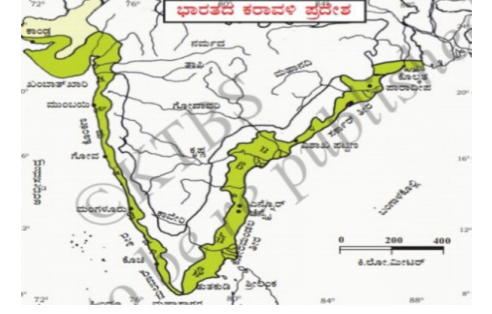
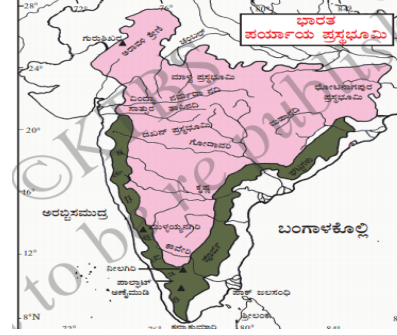
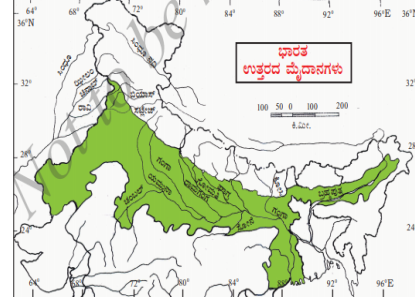
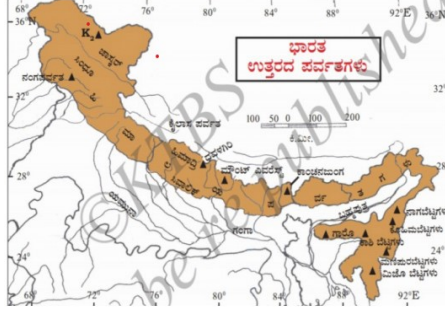


ಸಾಮರ್ಥ್ಯಧಾರಿತ ಸೇತುಬಂಧ ವರ್ಕ್ ಶೀಟ್ -2021-22 (DSERT ಸೂಚಿತ)

ಅಪೇಕ್ಷಿತ ಕಲಿಕಾ ಫಲ 8

ತರಗತಿ -6

ಒಟ್ಟು ಅವಧಿ-4



ಈ ಭೂಪಟಗಳ ಸಹಾಯದಿಂದ ಭಾರತದ ಪ್ರಾಕೃತಿಕ ವಿಭಾಗಗಳನ್ನು ಗುರುತಿಸಿ

ಹಿಮಾಲಯ ಪರ್ವತದಿಂದ ಆಗುವ ಅನುಕೂಲಗಳೇನು?

ನದಿ ಬಯಲಿನಲ್ಲಿ ಹೆಚ್ಚಿನ ಜನರು ವಾಸಿಸಲು ಕಾರಣವೇನು



ಸಾಮರ್ಥ್ಯಧಾರಿತ ಸೇತುಬಂಧ ವರ್ಕ್ ಶೀಟ್ -2021-22 (DSERT ಸೂಚಿತ)

ಪ್ರಸ್ತಭೂಮಿಯ ಅನುಕೂಲಗಳೇನು?

ಮರುಭೂಮಿಯ ಲಕ್ಷಣಗಳೇನು? ಮತ್ತು ಓಯಾಸಿಸ್ ಎಂದರೇನು

ಭಾರತದ ಪ್ರಮುಖ ನದಿಗಳು	ಭಾರತದಲ್ಲಿನ ಪ್ರಮುಖ ಪ್ರಾಣಿಗಳು	ಭಾರತದಲ್ಲಿನ ಪ್ರಮುಖ ಪಕ್ಷಿಗಳು	ಭಾರತದಲ್ಲಿನ ಪ್ರಮುಖ ಮರಗಳು	ಭಾರತದ ಬೆಳೆಗಳು



ಸಾಮರ್ಥ್ಯಧಾರಿತ ಸೇತುಬಂಧ ವರ್ಕ್ ಶೀಟ್ -2021-22 (DSERT ಸೂಚಿತ)

ಅಪೇಕ್ಷಿತ ಕಲಿಕಾ ಫಲ 9

ತರಗತಿ -6

ಒಟ್ಟು ಅವಧಿ-4



1. ಭಾರತ ದೇಶವು ಏಷ್ಯಾ ಖಂಡದ _____ ಭಾಗದಲ್ಲಿದೆ (ಉತ್ತರ, ದಕ್ಷಿಣ)

2. ಭಾರತ ದೇಶದ ಸುತ್ತ ಇರುವ ಜಲಭಾಗಗಳು ಯಾವುವು

ಪೂರ್ವಕ್ಕೆ _____

ಪಶ್ಚಿಮಕ್ಕೆ _____

ದಕ್ಷಿಣಕ್ಕೆ _____

3. ಭಾರತ ದೇಶವನ್ನು ಹಾದು ಹೋಗಿರುವ ಅಕ್ಷಾಂಶ _____ ಮತ್ತು

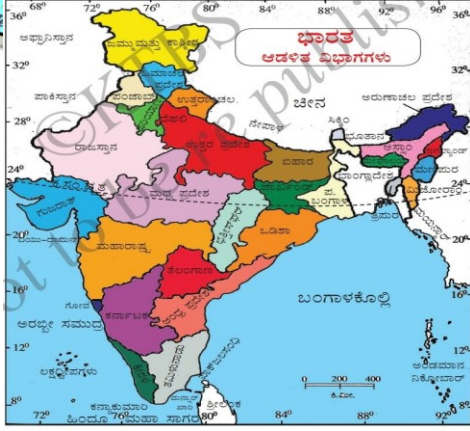
ರೇಖಾಂಶ _____

5. ಭಾರತದ ನೆರೆಹೊರೆ ರಾಷ್ಟ್ರಗಳು _____

ಭಾರತದ ರಾಜ್ಯಗಳು ಮತ್ತು ರಾಜಧಾನಿ ಹೆಸರನ್ನು ಪಟ್ಟಿ ಮಾಡಿ



ಸಾಮರ್ಥ್ಯಧಾರಿತ ಸೇತುಬಂಧ ವರ್ಕ್ ಶೀಟ್ -2021-22 (DSERT ಸೂಚಿತ)



ಭಾರತದ ದಕ್ಷಿಣಕ್ಕಿರುವ ರಾಜ್ಯಗಳು

ಭಾರತದ ಉತ್ತರಕ್ಕಿರುವ ರಾಜ್ಯಗಳು

ಭಾರತದ ಈಶಾನ್ಯ ರಾಜ್ಯಗಳು

ಭಾರತದ ಕೇಂದ್ರಾಡಳಿತ ಪ್ರದೇಶಗಳು

1. ಬಿಳಿಹಾಳ ಅಥವಾ/ಡ್ರಾಯಿಂಗ್ ಶೀಟ್ ನಲ್ಲಿ ಭಾರತದ ಮತ್ತು ಕರ್ನಾಟಕ ಭೂಪಟ ರಚಿಸಿ
2. ಕೆಳಗಿನ ಕೋಷ್ಟಕದಲ್ಲಿ ಕರ್ನಾಟಕದ ಜಿಲ್ಲೆಗಳನ್ನು ಹೆಸರಿಸಿ



ಸಾಮರ್ಥ್ಯಧಾರಿತ ಸೇತುಬಂಧ ವರ್ಕ್ ಶೀಟ್ -2021-22 (DSERT ಸೂಚಿತ)

ಅಪೇಕ್ಷಿತ ಕಲಿಕಾ ಫಲ 10

ತರಗತಿ -6

ಒಟ್ಟು ಅವಧಿ-4

ಸೌರವ್ಯೂಹ ಎಂದರೇನು?

ಸೌರವ್ಯೂಹದ ಗ್ರಹಗಳು ಹೆಸರಿಸಿ

--	--	--	--	--	--	--	--

ಕ್ರ ಸಂ	ಹೇಳಿಕೆಗಳು	ಸರಿ/ ತಪ್ಪು	ತಪ್ಪಾಗಿದ್ದರೆ ಸರಿ ಉತ್ತರ ಬರೆಯಿರಿ
1	ಸೂರ್ಯ ಒಂದು ನಕ್ಷತ್ರ		
2	ಭೂಮಿಯು ವೃತ್ತಾಕಾರದಲ್ಲಿದೆ		
3	ಸೂರ್ಯನಿಗೆ ಅತಿ ಹತ್ತಿರದ ಗ್ರಹ ಬುಧ		
4	ಸೂರ್ಯನಿಗೆ ದೂರದ ಗ್ರಹ ಶನಿ		
5	ಸೌರವ್ಯೂಹದ ದೊಡ್ಡ ಗ್ರಹ ಗುರು		
6	ಸೌರವ್ಯೂಹದ ಚಿಕ್ಕಗ್ರಹ ಶನಿ		
7	ಸೌರವ್ಯೂಹದಲ್ಲಿ ಪ್ರಕಾಶಮಾನವಾದ ಗ್ರಹ ಶುಕ್ರ		
8	ಸೌರವ್ಯೂಹದಲ್ಲಿ ಕೆಂಪುಗ್ರಹ ಭೂಮಿ		
9	ಸೌರವ್ಯೂಹದಲ್ಲಿ ಉಂಗುರಗಳಿರುವ ಗ್ರಹ ಶನಿ		
10	ಹ್ಯಾಲಿ ಧೂಮಕೇತು 70 ವರ್ಷಗಳಿಗೊಮ್ಮೆ ಕಾಣುತ್ತದೆ		
11	ಬೀಳುವ ನಕ್ಷತ್ರಗಳು ಎಂದರೆ ಉಲೈಗಳು		



ಸಾಮರ್ಥ್ಯಧಾರಿತ ಸೇತುಬಂಧ ವರ್ಕ್ ಶೀಟ್ -2021-22 (DSERT ಸೂಚಿತ)

ಪ್ರಮುಖ ಲಕ್ಷಣ ಬರೆಯಿರಿ

ಉಲ್ಲೇಖ	ಕ್ವದ್ರಗ್ರಹಗಳು	ಧೂಮಕೇತು

ಭೂಮಿಯ ಎರಡು ರೀತಿಯ ಚಲನೆಗಳು	ಪರಿಣಾಮ	ತೆಗೆದುಕೊಳ್ಳುವ ಸಮಯ

ಚಂದ್ರನ ಎರಡು ರೀತಿಯ ಚಲನೆಗಳು	ಪರಿಣಾಮ	ತೆಗೆದುಕೊಳ್ಳುವ ಸಮಯ



ಸಾಮರ್ಥ್ಯಧಾರಿತ ಸೇತುಬಂಧ ವರ್ಕ್ ಶೀಟ್ -2021-22 (DSERT ಸೂಚಿತ)

- ಸೇತುಬಂಧ ಪೂರ್ವ ಪರೀಕ್ಷೆ ನಂತರ ಈ ವರ್ಕ್ ಶೀಟ್ ಬಳಸಿಕೊಳ್ಳಬಹುದು
- ಮಕ್ಕಳಿಗೆ ಉತ್ತರಿಸಲು ಸೂಕ್ತ ಮಾರ್ಗದರ್ಶನ ನೀಡಿ

Sundaresh B K GPT
GHPS Dommanakuppe
Tumkur (T) & Tumkur(D)