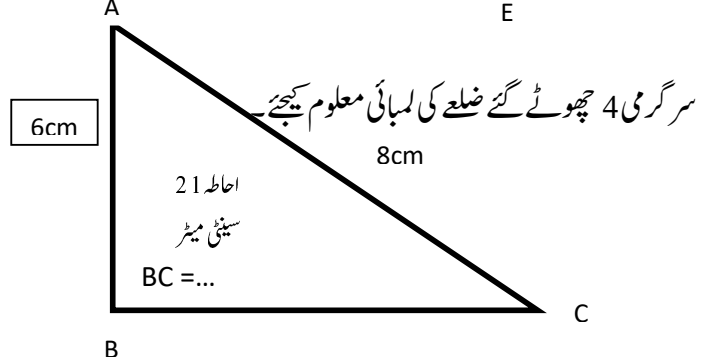
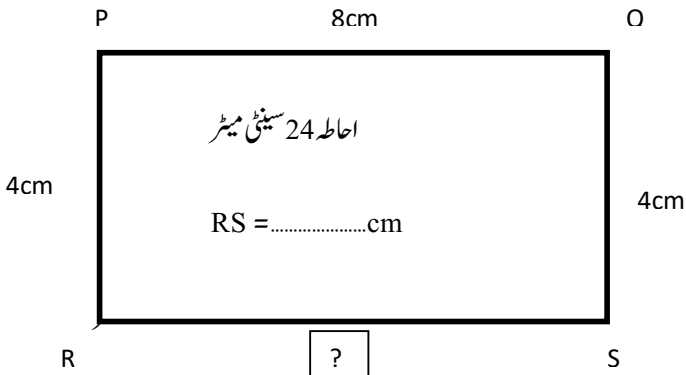
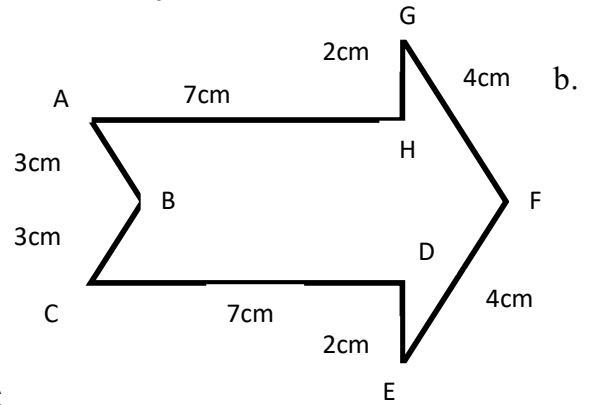
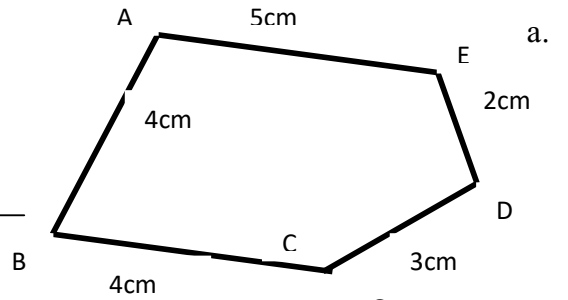


	تاریخ	سادہ ہندسی اشکال کا رقبہ اور احاطہ	سبق	مضمون علم ریاضی	مدرس کا نام
	حاصل کردہ نمبرات	رول نمبر	چہارم	جماعت	طالب علم کا نام
	کل نمبرات	احاطہ معلوم کرنا۔			صلاحیت

سرگرمی نمبر 1: ہدایت کے مطابق اشکال کھینچئے۔

دائرہ	مثلث	مستطیل	مربع

سرگرمی نمبر 2 دئے گئے اشکال کا احاطہ معلوم کیجئے۔

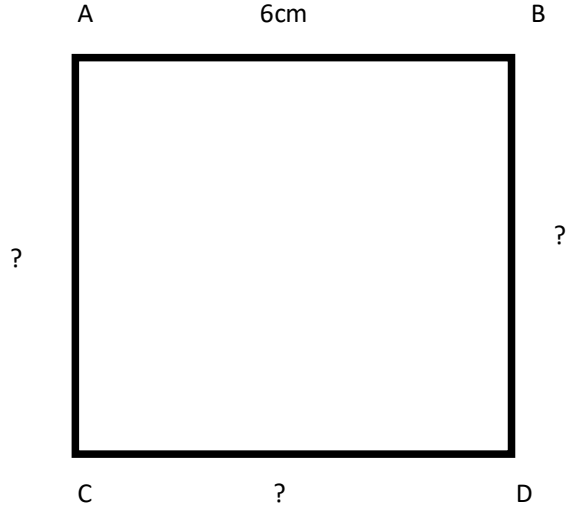



سرگرمی نمبر 5 درج ذیل مربع کے باقی تین ضلعوں کی لمبائی اور احاطہ معلوم کیجئے۔


AC=.....cm

BD=.....cm

CD=.....cm



سرگرمی نمبر 6 مندرجہ ذیل خاکوں کا احاطہ معلوم کیجئے۔



سرگرمی نمبر 7 ذیل میں اپنی پسند خاکہ کھینچ کر اس کا احاطہ معلوم کیجئے۔

مذید ورک شیٹ اور تعلیمی ویڈیوس کے لئے ہمارے چنل al ilm education کو سبسکرائب کریں۔ ہمارے واٹس آپ گروپ AL ILM میں شامل ہونے کے لئے 7892756320 / 9449724786 پر رابطہ کریں۔ یا [www. Studymanzil-yaseen.com](http://www.Studymanzil-yaseen.com) پر آئیں۔