

ಸಾರ್ವಜನಿಕ ಶಿಕ್ಷಣ ಇಲಾಖೆ  
ಕೃತ್ರಿಮ ಶಿಕ್ಷಣಾಧಿಕಾರಿಗಳ ಕಛೇರಿ, ಹಿರಿಯೂರು ತಾ. ಚಿತ್ರದುರ್ಗ ಜಿಲ್ಲೆ



**e\_ಚರ**

**ಮಕ್ಕಳ ನಿರಂತರ ಕಲಿಕೆಯ ಆಕರ**

**2021 ರ ಬೇಸಿಗೆ ರಜಾ ಅವಧಿಯಲ್ಲಿ ವಿದ್ಯಾರ್ಥಿಗಳ  
ನಿರಂತರ ಕಲಿಕೆಗೆ ಪೂರಕ ಚಟುವಟಿಕೆಗಳು  
(1 ರಿಂದ 9 ನೇ ತರಗತಿ ವಿದ್ಯಾರ್ಥಿಗಳಿಗೆ)**



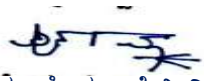


## ಆಶಯ ನುಡಿ

ದೇಶ ನಿರ್ಮಾಣದಲ್ಲಿ ಪ್ರಮುಖ ಪಾತ್ರಹೊಂದಿರುವ ,ಯುವ ಪೀಳಿಗೆಯನ್ನು ಸರಿಯಾದ ದಾರಿಗೆ ತರುವ, ಸಮಾಜದಲ್ಲಿ ಉತ್ತಮ ಮೌಲ್ಯಗಳನ್ನು ಬಿತ್ತುವ ಶಿಕ್ಷಣ ಕ್ಷೇತ್ರದ ಮೇಲೆ ಕೋವಿಡ್ -19 ಅಗಾಧ ಪರಿಣಾಮವನ್ನು ಬೀರಿದೆ. ನಿರಂತರ ಕಲಿಕೆಯಿಲ್ಲದೇ ಹಲವಾರು ವಿದ್ಯಾರ್ಥಿಗಳು ತಮ್ಮ ಸಹಜ ಕ್ರಿಯಾಶೀಲತೆಯನ್ನು ಕಳೆದುಕೊಳ್ಳುತ್ತಿದ್ದಾರೆ.ಇಂತಹ ಕಠಿಣ ಸಂದರ್ಭದಲ್ಲಿಯೂ ಸಾರ್ವಜನಿಕ ಶಿಕ್ಷಣ ಇಲಾಖೆ ದೂರದರ್ಶನ ಚಂದನ ವಾಹಿನಿಯ ಮೂಲಕ ವಿದ್ಯಾರ್ಥಿಗಳಿಗೆ ಜ್ಞಾನಧಾರೆಯನ್ನು ನೀಡಿದೆ.ವಿದ್ಯಾಗಮ ಕಾರ್ಯಕ್ರಮದ ಮೂಲಕ ಮತ್ತೆ ಶಿಕ್ಷಕ-ವಿದ್ಯಾರ್ಥಿಗಳ ನಡುವಿನ ನೇರ ಮುಖಾಮುಖಿ ಸಂವಹನಕ್ಕೂ ಅವಕಾಶ ನೀಡಿತ್ತು .

ವಿದ್ಯಾರ್ಥಿಗಳಿಗೆ ಕಳೆದ ಶೈಕ್ಷಣಿಕ ವರ್ಷದಲ್ಲಿ ತಮ್ಮ ತರಗತಿಗಳ ಎಲ್ಲಾ ಪರಿಕಲ್ಪನೆಗಳನ್ನು ಕಲಿಯಲು ಸಾಧ್ಯವಾಗಿಲ್ಲ. ಈ ಪರಿಕಲ್ಪನೆಗಳು ಮುಂದಿನ ತರಗತಿಗಳ ಪರಿಕಲ್ಪನೆಗಳಿಗೆ ಬೆಸೆದುಕೊಂಡಿರುವುದರಿಂದ ಎಲ್ಲವನ್ನೂ ಕಲಿಯಬೇಕಾಗಿದೆ. ಪ್ರಸ್ತುತ ನಮ್ಮ ರಾಜ್ಯದಲ್ಲಿ 1 ರಿಂದ 9 ನೇ ತರಗತಿ ವಿದ್ಯಾರ್ಥಿಗಳಿಗೆ ಬೇಸಿಗೆ ರಜೆ ಘೋಷಣೆ ಮಾಡಿದೆ. ಈ ರಜಾ ಅವಧಿಯಲ್ಲಿ ವಿದ್ಯಾರ್ಥಿಗಳು ಸುಮ್ಮನೇ ಕಾಲಹರಣ ಮಾಡದೇ ಹಿಂದಿನ ತರಗತಿಯಲ್ಲಿ ತಾವು ಕಲಿತ ಕಲಿಕಾಂಶಗಳನ್ನು ಪುನರ್ಮನನ ಮಾಡಿಕೊಳ್ಳಲು ಸಹಕಾರಿಯಾಗುವಂತೆ ನಮ್ಮ ಹಿರಿಯೂರು ತಾಲ್ಲೂಕಿನ ಕ್ಷೇತ್ರ ಶಿಕ್ಷಣಾಧಿಕಾರಿಗಳು ಮತ್ತು ಅವರ ತಂಡ ಕಾಳಜಿ ವಹಿಸಿ ಸಂಪನ್ಮೂಲ ಶಿಕ್ಷಕರ ಮೂಲಕ 1 ರಿಂದ 9 ನೇ ತರಗತಿ ವಿದ್ಯಾರ್ಥಿಗಳಿಗೆ ಅಭ್ಯಾಸ ಹಾಳೆಗಳನ್ನು ಸಿದ್ಧಪಡಿಸಿದ್ದಾರೆ.

ವಿದ್ಯಾರ್ಥಿಗಳಿಗೆ ಅವರ ಕಲಿಕೆಯಲ್ಲಿ ನಿರಂತರತೆ ಕಾಪಾಡಲು ಮತ್ತು ಮುಂದಿನ ಶೈಕ್ಷಣಿಕ ವರ್ಷಕ್ಕೆ ಅವರನ್ನು ಸಜ್ಜುಗೊಳಿಸಲು ವಿಷಯವಾರು ಅಭ್ಯಾಸಹಾಳೆಗಳು, ಚಟುವಟಿಕೆಗಳನ್ನು ಒಳಗೊಂಡ ಕೈಪಿಡಿ ಸಹಕಾರಿಯಾಗಿದೆ. ಇದನ್ನು ಎಲ್ಲಾ ವಿದ್ಯಾರ್ಥಿಗಳು ನಿರಂತರವಾಗಿ ಅಭ್ಯಾಸ ಮಾಡುತ್ತೀರಿ ಎಂದು ಆಶಿಸುತ್ತೇನೆ. ವಿಶೇಷವಾಗಿ ಪೋಷಕವರ್ಗದವರು ತಮ್ಮ ಮಕ್ಕಳ ಬಗ್ಗೆ ಕಾಳಜಿ ವಹಿಸಿ ಶಿಕ್ಷಕರು ನೀಡುವ ಎಲ್ಲಾ ಚಟುವಟಿಕೆಗಳನ್ನು ವಿದ್ಯಾರ್ಥಿಗಳು ಪೂರ್ಣಗೊಳಿಸುವಂತೆ ಮಾಡಿ, ನಿರಂತರ ಕಲಿಕೆಗಾಗಿ ಇಲಾಖೆಯೊಂದಿಗೆ , ಶಾಲಾ ಶಿಕ್ಷಕರೊಂದಿಗೆ ಸಹಕಾರ ನೀಡುತ್ತೀರಿ ಎಂದು ಆಶಿಸುತ್ತೇನೆ.ನಮ್ಮ ತಾಲ್ಲೂಕಿನ ಎಲ್ಲಾ ಪ್ರಾಥಮಿಕ ಮತ್ತು ಪ್ರೌಢಶಾಲಾ ಮುಖ್ಯ ಶಿಕ್ಷಕರು ಮತ್ತು ಸಹಶಿಕ್ಷಕರುಗಳು ಈ ಮಹತ್ತರ ಕಾರ್ಯದಲ್ಲಿ ತೊಡಗಿಸಿಕೊಂಡು ಈ ಯೋಜನೆಯನ್ನು ಯಶಸ್ವಿಗೊಳಿಸುತ್ತೀರಿ ಎಂದು ಆಶಿಸುತ್ತೇನೆ. ಈ ಅಭ್ಯಾಸಹಾಳೆಗಳನ್ನು ರಚಿಸಲು ಶ್ರಮ ವಹಿಸಿದ ನಮ್ಮ ಹಿರಿಯೂರು ತಾಲ್ಲೂಕಿನ ಕ್ಷೇತ್ರ ಶಿಕ್ಷಣಾಧಿಕಾರಿಗಳು ಮತ್ತು ಅವರ ತಂಡ ಹಾಗೂ ಇಲಾಖೆಯ ಅಧಿಕಾರಿ ವರ್ಗವನ್ನು ಮತ್ತು ಸಂಪನ್ಮೂಲ ಶಿಕ್ಷಕರ ತಂಡವನ್ನು ಅಭಿನಂದಿಸುತ್ತೇನೆ.

  
ಶ್ರೀಮತಿ ಪೂರ್ಣಿಮಾ .ಕೆ ಶ್ರೀನಿವಾಸ್  
ಶಾಸಕರು  
ಹಿರಿಯೂರು ವಿಧಾನಸಭಾ ಕ್ಷೇತ್ರ



## ಆಶಯ ನುಡಿ



ಶಿಕ್ಷಣ ಕ್ಷೇತ್ರದ ಮೇಲೆ ಕೋವಿಡ್-19 ರ ತೀಕ್ಷ್ಣ ಪ್ರಭಾವ ಬೀರಿದೆ. ಶಾಲಾ ತರಗತಿಯಲ್ಲಿ ವಿದ್ಯಾರ್ಥಿ ಮತ್ತು ಶಿಕ್ಷಕರ ನಡುವಿನ ನೇರ ಸಂವಹನ ಹಲವಾರು ತಿಂಗಳ ನಂತರ ನಡೆದು ಮತ್ತೆ ಈಗ ಸ್ಥಗಿತಗೊಂಡಿದೆ. ಪ್ರಾಥಮಿಕ ಶಿಕ್ಷಣದಿಂದ ಪ್ರೌಢ ಶಿಕ್ಷಣದವರೆಗೆ ಮಕ್ಕಳ ಸೃಜನಶೀಲ ಮತ್ತು ಸುಸ್ಥಿರ ಕಲಿಕೆಗಾಗಿ ಇಲಾಖೆ ನಿರಂತರವಾಗಿ ಪ್ರಯತ್ನಿಸುತ್ತಿದೆ. ರಾಷ್ಟ್ರೀಯ ಪಠ್ಯಕ್ರಮ ಚೌಕಟ್ಟಿನ ಆಶಯದಂತೆ ರೂಪಿತವಾಗಿರುವ ಪಠ್ಯಪುಸ್ತಕಗಳು, ನೈಜಜೀವನಕ್ಕೆ ಪೂರಕವಾದ ಜ್ಞಾನವನ್ನು ಮಕ್ಕಳು ಪಡೆಯಬಹುದಾದಂತಹ ವಾತಾವರಣವನ್ನು ಕಲ್ಪಿಸಲಾಗಿದೆ. ಶಿಕ್ಷಕರ ಸಾಮರ್ಥ್ಯಭಿವೃದ್ಧಿ ಕಾರ್ಯಗಳು ನಿರಂತರವಾಗಿದೆ. ಇಂದು ಮಕ್ಕಳಲ್ಲಿನ ಅಪ್ಯಾಯಮಾನ ಮುಗ್ಧತೆಯನ್ನು ಕಡಡದಂತಹ ಶಿಕ್ಷಣ ನೀಡಬೇಕಿದ್ದು, ನಮ್ಮಲ್ಲೇ ಕಳೆದು ಹೋಗಿರಬಹುದಾದ ಸೃಜನ ಶೀಲತೆಯನ್ನು ಪುನಃಶ್ಚೇತನಗೊಳಿಸಿಕೊಳ್ಳುವ ಪ್ರಕ್ರಿಯೆಯು ಜೊತೆ ಜೊತೆಯಾಗಿ ಸಾಗಬೇಕಿದೆ.

2020-21 ನೇ ಸಾಲಿನಲ್ಲಿ ವಿವಿಧ ರೀತಿಗಳಲ್ಲಿ ಬೋಧನಾ ಪ್ರಕ್ರಿಯೆ ನಡೆದರೂ ಸಹ ಮೊದಲಿನಂತೆ ವಿದ್ಯಾರ್ಥಿಗಳ ಮನದಲ್ಲಿ ಆಯಾ ತರಗತಿಯ ಎಲ್ಲಾ ಪರಿಕಲ್ಪನೆಗಳು ಆಳವಾಗಿ ಮೂಡಲು ಸಾಧ್ಯವಾಗಿಲ್ಲವೆಂಬುದು ನಮಗೆಲ್ಲರಿಗೂ ತಿಳಿದ ಸಂಗತಿ. ಪ್ರತೀ ವಿಷಯದಲ್ಲಿ ಪ್ರತೀ ಪರಿಕಲ್ಪನೆಗಳು ಒಂದಕ್ಕೊಂದು ಪೂರಕವಾಗಿರುವುದರಿಂದ ಎಲ್ಲಾ ಪರಿಕಲ್ಪನೆಗಳ ಅರಿವು ವಿದ್ಯಾರ್ಥಿಗಳಿಗಿರಬೇಕಾಗುತ್ತದೆ. ಈ ದಿಸೆಯಲ್ಲಿ ನಮ್ಮ ಹಿರಿಯೂರು ತಾಲ್ಲೂಕಿನ 1 ರಿಂದ 9 ನೇ ತರಗತಿ ವಿದ್ಯಾರ್ಥಿಗಳಿಗೆ ಅವರ ಕಲಿಕೆಯಲ್ಲಿ ನಿರಂತರತೆ ಕಾಪಾಡಲು ಮತ್ತು ಮುಂದಿನ ಶೈಕ್ಷಣಿಕ ವರ್ಷಕ್ಕೆ ಅವರನ್ನು ಸಜ್ಜುಗೊಳಿಸಲು ವಿಷಯವಾರು ಅಭ್ಯಾಸಹಾಳೆಗಳು, ಚಟುವಟಿಕೆಗಳನ್ನು ಒಳಗೊಂಡ ಕೈಪಿಡಿಯನ್ನು ಸಿದ್ಧಪಡಿಸಿ ಪ್ರಕಟಿಸಲಾಗಿದೆ. ಸ್ವತಃ ವಿದ್ಯಾರ್ಥಿಗಳೇ ಕಲಿಯಲು ಈ ಅಭ್ಯಾಸ ಹಾಳೆಗಳ ಕೈಪಿಡಿ ಸಹಕಾರಿಯಾಗಿದೆ. ಇದನ್ನು ಎಲ್ಲಾ ವಿದ್ಯಾರ್ಥಿಗಳು ನಿರಂತರವಾಗಿ ಅಭ್ಯಾಸ ಮಾಡುತ್ತೀರಿ ಎಂದು ಆಶಿಸುತ್ತಾ ಈ ಅಭ್ಯಾಸಹಾಳೆಗಳನ್ನು ರಚಿಸಿದ ನಮ್ಮ ಹಿರಿಯೂರು ತಾಲ್ಲೂಕಿನ ಸಂಪನ್ಮೂಲ ಶಿಕ್ಷಕರ ತಂಡವನ್ನು ಅಭಿನಂದಿಸುತ್ತೇವೆ.

ಹೆಚ್.ಮಂಜುನಾಥ್  
ಪ್ರಾಂಶುಪಾಲರು ಹಾಗೂ ಪದನಿಮಿತ್ತ ಸಹ ನಿರ್ದೇಶಕರು  
ಸಿ.ಟಿ.ಇ, ಚಿತ್ರದುರ್ಗ

ಕೆ.ರವಿಶಂಕರ್ ರೆಡ್ಡಿ  
ಉಪನಿರ್ದೇಶಕರು(ಆಡಳಿತ)  
ಸಾರ್ವಜನಿಕ ಶಿಕ್ಷಣ ಇಲಾಖೆ  
ಚಿತ್ರದುರ್ಗ

ಎಸ್.ಕೆ.ಬಿ ಪ್ರಸಾದ್  
ಪ್ರಾಂಶುಪಾಲರು ಹಾಗೂ ಪದನಿಮಿತ್ತ  
ಉಪನಿರ್ದೇಶಕರು(ಅಭಿವೃದ್ಧಿ)  
ಡಯಟ್ ಚಿತ್ರದುರ್ಗ

ನಾಗಭೂಷಣ. ಎಸ್.  
ಕ್ಷೇತ್ರಶಿಕ್ಷಣಾಧಿಕಾರಿಗಳು  
ಸಾರ್ವಜನಿಕ ಶಿಕ್ಷಣ ಇಲಾಖೆ  
ಹಿರಿಯೂರು

ಕ್ಷೇತ್ರಶಿಕ್ಷಣಾಧಿಕಾರಿಗಳ ಕಚೇರಿ ಸಾರ್ವಜನಿಕ ಶಿಕ್ಷಣ ಇಲಾಖೆ ಹಿರಿಯೂರು ತಾಲ್ಲೂಕು

01ನೇ ತರಗತಿ ವಿದ್ಯಾರ್ಥಿಗಳ ಕಲಿಕೆಗೆ ಪೂರಕ ಚಟುವಟಿಕೆಗಳು

ದಿನಾಂಕ /ವಾರ	ಕನ್ನಡ	ಇಂಗ್ಲೀಷ್	ಗಣಿತ	ಪರಿಸರ ಅಧ್ಯಯನ
<p>ಮೇ - 3ನೇ ವಾರ 16/05/2021 ರಿಂದ 18/05/2021</p> <p>ಚಟುವಟಿಕೆಗಳನ್ನು ಮಾಡಲು ಸಹಾಯಕ್ಕಾಗಿ ಲಿಂಕ್‌ಗಳು</p> <p><a href="https://youtu.be/Dl4n5aVm2qg">https://youtu.be/Dl4n5aVm2qg</a> <a href="https://youtu.be/3s57HonYXDQ">https://youtu.be/3s57HonYXDQ</a> <a href="https://youtu.be/2Tn9UbgcRTg">https://youtu.be/2Tn9UbgcRTg</a> <a href="https://youtu.be/axTU7Wu6QKM">https://youtu.be/axTU7Wu6QKM</a></p>	<p>ಈ ಕೆಳಗಿನ ಅಕ್ಷರ ಮತ್ತು ಪದಗಳನ್ನು ಮೂರು ಬಾರಿ ಬರೆಯಿರಿ</p> <p>ರ ರ ರ ರ ರ ಗ ಗ ಗ ಗ ಗ ಸ ಸ ಸ ಸ ಸ ದ ದ ದ ದ ದ ಅ ಅ ಅ ಅ ಅ</p> <p>ರಸ ಸರ ಅರ ಅಗ ದರ ಗರ ಸಗ ಅರಸ ಅಗಸ ದಸರ ದರಗ ಸರಸ ಸದರ</p>	<p>ಈ ಕೆಳಗಿನ ಅಕ್ಷರಗಳನ್ನು ಮೂರು ಬಾರಿ ಬರೆಯಿರಿ</p> <p>ccccc ಕ್ oooo ಆ aaaaa ಯ ppppp ಪ್ ttttttt ಟ್</p>	<p>ಈ ಕೆಳಗಿನ ಅಂಕಗಳನ್ನು ಮೂರು ಬಾರಿ ಬರೆಯಿರಿ</p> <p>1 111111 22222222 3333333 444444 5555555</p>	<p>ರಾತ್ರಿ ಆಕಾಶದ ಚಿತ್ರ ಬರೆದು ಅಲ್ಲಿರುವ ಚಂದ್ರ ಮತ್ತು ನಕ್ಷತ್ರದ ಚಿತ್ರ ಬರೆ</p>
<p>ಮೇ - 3ನೇ ವಾಡಿ 19/05/2021 ರಿಂದ 22/05/2021</p> <p>ಚಟುವಟಿಕೆಗಳನ್ನು ಮಾಡಲು ಸಹಾಯಕ್ಕಾಗಿ ಲಿಂಕ್‌ಗಳು</p>	<p>ಕನ್ನಡ ಒಂದು ಪದವನ್ನು)10 ಸಲ ಬರೆಯಿರಿ(</p> <p>ಜ ಜ ಜ ಜ ಜ ಜ ಜಗ ಜನ ಗಜ ರಜ ವ ವ ವ ವ ವ ವ</p>	<p>ಈ ಕೆಳಗಿನ ಅಕ್ಷರಗಳನ್ನು ಮೂರು ಬಾರಿ ಬರೆಯಿರಿ</p> <p>c c c c c c ಸೌಂಡ್ ಕ್ car(ಕಾರ್) cat(ಕ್ಯಾಟ್) cap(ಕ್ಯಾಪ್)</p>	<p>ಬಿಟ್ಟ ಸ್ಥಳ ತುಂಬಿರಿ</p> <p>1 ರ ಮುಂದಿನ ಸಂಖ್ಯೆ--- 2ರ ಮುಂದಿನ ಸಂಖ್ಯೆ --- 3ರ ಮುಂದಿನ ಸಂಖ್ಯೆ--- 4ರ ಮುಂದಿನ ಸಂಖ್ಯೆ---</p>	<p>ನಿಮ್ಮ ಮನೆಯಲ್ಲಿ ಯಾರು ಯಾರು ಇದ್ದೀರಾ ಕೇಳಿರಿ</p> <p>ಅತ್ತೆ ಮಾವ ದೊಡ್ಡಪ್ಪ ಚಿಕ್ಕಪ್ಪ ಅಣ್ಣ ತಮ್ಮ ಅಕ್ಕ ತಂಗಿ ದೊಡ್ಡಮ್ಮ ಚಿಕ್ಕಮ್ಮ ಬಗ್ಗೆ ಕೇಳಿರಿ</p>

<p><a href="https://youtu.be/x0_NDtmZGas">https://youtu.be/x0_NDtmZGas</a> <a href="https://youtu.be/Hagl6CSA7BM">https://youtu.be/Hagl6CSA7BM</a></p>	<p>ವರ ವಜ ಜವ ದವಸ</p>		<p>5ರ ಹಿಂದಿನ ಸಂಖ್ಯೆ- 4ರ ಹಿಂದಿನ ಸಂಖ್ಯೆ- 3ರ ಹಿಂದಿನ ಸಂಖ್ಯೆ- 2ರ ಹಿಂದಿನ ಸಂಖ್ಯೆ -</p>	
<p>ಮೇ - 4ನೇ ವಾರ <b>23/05/2021</b> ರಿಂದ <b>26/05/2021</b>  ಚಟುವಟಿಕೆಗಳನ್ನು ಮಾಡಲು ಸಹಾಯಕ್ಕಾಗಿ ಲಿಂಕ್‌ಗಳು  <a href="https://youtu.be/KYWpjZLgd-8">https://youtu.be/KYWpjZLgd-8</a></p>	<p>ಒಂದು ಪದ)10 ಸಲ ಹೇಳಿಸುತ್ತ ಬರೆಸಿರಿ (  ಮ ಮ ಮ ಮ ಮ  ಮರ ಮಗ ಅಮರ ಮದರಸ  ಬ ಬ ಬ ಬ ಬ ಬ ಬರ ಬಸವ ಬರಬರ</p>	<p>ಇಂಗ್ಲೀಷ್)10ಸಲ ಹೇಳಿಸಿ ಬರೆಸಿ(  o o o o o ಸೌಂಡ್ ಆ  orange(ಅರೆಂಜ್) on(ಆನ್) off(ಆಫ್)</p>	<p>ಮಧ್ಯದ ಅಂಕಿ ಬರೆಸಿರಿ  1__3  2__4  3__5  4__6  5__7  6__8  7__9  ಬಿಟ್ಟ ಅಂಕಿ ಬರೆಸಿ  1_3_5_7_9</p>	<p>ನಿಮ್ಮ ರಕ್ತ ಸಂಬಂಧಿಗಳನ್ನು ಪಟ್ಟಿ ಮಾಡಿರಿ</p>

<p>ಮೇ - 4ನೇ ವಾರ 27/05/2021 ರಿಂದ 29/05/2021</p> <p>ಚಟುವಟಿಕೆಗಳನ್ನು ಮಾಡಲು ಸಹಾಯಕ್ಕಾಗಿ ಲಿಂಕ್‌ಗಳು</p> <p><a href="https://youtu.be/Sno15qcDEr4">https://youtu.be/Sno15qcDEr4</a></p>	<p>ಕನ್ನಡ ಒಂದು ಪದ)10 ಸಲ ಹೇಳಿಸುತ್ತ ಬರೆಸಿರಿ (</p> <p>ನ ನ ನ ನ ನ ನ</p> <p>ನರ ನಗ ನಗರ ನವರಸ ನಮನ</p> <p>ಜನ ನಗ ಮರ ಬಸವ</p>	<p>ಇಂಗ್ಲೀಷ್)10ಸಲ ಹೇಳಿಸಿ ಬರೆಸಿ(</p> <p>a a a a a a ಸೌಂಡ್ ಆಫ್</p> <p>apple(ಆಪಲ್ ) arrow(ಆರೋ) (ant(ಆಂಟ್)</p>	<p>ಚಿಕ್ಕ ಅಂಕಿ ಯಾವುದು ಗುರುತು ಹಾಕಿಸಿ</p> <p>1 2 3 4 2 3 5 4 3 1 2 5 2 4 5 3 1 4 6 2 3 7 5 8 5 7 9 4 5 2 9 6 6 7 8 9 4 7 9 8</p>	<p>ಅಭ್ಯಾಸ ಪುಸ್ತಕದ ಮೆಟ್ಟಿಲು 14 ಪ್ರಶ್ನೆಗಳನ್ನು ಕೇಳಿರಿ</p>
<p>ಮೇ - 4ನೇ ವಾರ 30/05/2021 ರಿಂದ 31/05/2021</p> <p><a href="https://youtu.be/Ma7ntsksyP8">https://youtu.be/Ma7ntsksyP8</a></p>	<p>ಕನ್ನಡ ಒಂದು ಪದ)10 ಸಲ ಹೇಳಿಸುತ್ತ ಬರೆಸಿರಿ (</p> <p>ಜಗ, ನಗರ, ವರ. ದವಸ, ಮದಗಜ, ಅವಸರ, ಮಜ ನಮನ,</p>	<p>ಇಂಗ್ಲೀಷ್)10ಸಲ ಹೇಳಿಸಿ ಬರೆಸಿ(</p> <p>p p p p p ಸೌಂಡ್ ಪ್</p> <p>pot(ಪಾಟ್) pig(ಪಿಗ್) (pen(ಪೆನ್)</p>	<p>ದೊಡ್ಡ ಅಂಕಿ ಯಾವುದು ಗುರುತು ಹಾಕಿಸಿ</p> <p>1 2 3 4 2 3 5 4 3 1 2 5 2 4 5 3</p>	<p>ಅಭ್ಯಾಸ ಪುಸ್ತಕದ ಮೆಟ್ಟಿಲು 15 ಚಿತ್ರಗಳಿಗೆ ಬಣ್ಣ ಹಾಕಿಸಿ</p>

	ಜನಮನ, ಬರಬರ		1 4 6 2 3 7 5 8 5 7 9 4 5 2 9 6 6 7 8 9 4 7 9 8	
<p>ಜೂನ್ - 1ನೇ ವಾರ 01/06/2021 ರಿಂದ 03/06/2021 <a href="https://youtu.be/VIPfxokADXY">https://youtu.be/VIPfxokADXY</a></p>	<p>ಕನ್ನಡ ಈ ವಾಕ್ಯಗಳನ್ನು)5 ಸಲ ಹೇಳಿಸುತ್ತ ಬರೆಸಿರಿ  ನಗರದ ಜನ  ವನದ ಮರ</p>	<p>ಇಂಗ್ಲೀಷ್)10ಸಲ ಹೇಳಿಸಿ ಬರೆಸಿ(  t t t t t ಸೌಂಡ್ ಟ್  table(ಟೇಬಲ್ ( tap(ಟ್ಯಾಪ್(  tomato(ಟೊಮ್ಯಾಟೋ(  3 7 5 7 5 7 9 4 9 2 9 6 6 7 8 6 4 7 9 8</p>	<p>ಪ್ರತಿ ಸಾಲಿನಲ್ಲಿ ಬಂದಿರುವ ಸಮ ಸಂಖ್ಯೆ ಗುರುತಿಸಿರಿ  1 2 3 1 2 3 5 5 3 1 3 5 2 4 5 4 6 4 6 2 3 7 5 7 5 7 9 4 9 2 9 6 6 7 8 6 4 7 9 8</p>	<p>ಪರಿಸರ  ಅಭ್ಯಾಸ ಪುಸ್ತಕದ ಮೆಟ್ಟಿಲು 16 ನಿಮ್ಮ ಮನೆಯಲ್ಲಿ ಇರುವವರಿಗೆ ಮಾತ್ರ ಬಣ್ಣ ತುಂಬಿಸಿ</p>







	ಯಮ ಜಯ ಸಮಯ ನಯನ		7__9 2ರ ಮಗ್ಗಿ ಬರೆಸಿರಿ	
<p>ಜೂನ್ - 3ನೇ ವಾರ 13/06/2021 ರಿಂದ 15/06/2021</p>	<p>ಕನ್ನಡ ಈ ಪದಗಳನ್ನು)10 ಸಲ ಬರೆಸಿರಿ( ಉ ಉ ಉ ಉ ಉ ಉಮ ಉದಯ ಉರಗ ಡ ಡ ಡ ಡ ಡ ದಡ ಉಡ ಬಡವ ಡವಡವ 2ರ ಮಗ್ಗಿ ಬರೆಸಿರಿ</p>	<p>ಇಂಗ್ಲೀಷ್)10ಸಲ ಹೇಳಿಸಿ ಬರೆಸಿ( ot( ಆಟ್( cot(ಕಾಟ್( pot(ಪಾಟ್( e ಸೌಂಡ್ ಎ</p>	<p>ಗಣಿತ ಏರಿಕೆ ಕ್ರಮದಲ್ಲಿ ಬರೆಸಿರಿ (ಚಿಕ್ಕ ಸಂಖ್ಯೆಯಿಂದ ದೊಡ್ಡ ಸಂಖ್ಯೆ ಕಡೆಗೆ ಬರೆಸಿರಿ( 1. 4,6,2,5 2. 6,3,7,5 3. 5,2,1,6 4. 2,7,1,9 5. 7,3,8,4 6. 8,5,9,6 7. 4,2,1,8 8. 6,2,8,9 ಈ ರೀತಿಯ ಲೆಕ್ಕಗಳನ್ನು ಇನ್ನೂ ಹೆಚ್ಚು ಮಾಡಿಸಿರಿ</p>	<p>ಪರಿಸರ ಅಭ್ಯಾಸ ಪುಸ್ತಕದ ಮೆಟ್ಟಿಲು 21 ಚಿತ್ರಗಳಿಗೆ ಬಣ್ಣ ತುಂಬಿರಿ</p>
<p>ಜೂನ್ - 3ನೇ ವಾರ 16/06/2021 ರಿಂದ</p>	<p>ಕನ್ನಡ ಈ ಪದಗಳನ್ನು)10 ಸಲ ಬರೆಸಿರಿ( ಟ ಟ ಟ ಟ ಟ</p>	<p>ಇಂಗ್ಲೀಷ್)10ಸಲ ಹೇಳಿಸಿ ಬರೆಸಿ( e ಸೌಂಡ್ ಎ</p>	<p>ಗಣಿತ ಇಳಿಕೆ ಕ್ರಮದಲ್ಲಿ ಬರೆಸಿರಿ</p>	<p>ಪರಿಸರ ಅಭ್ಯಾಸ ಪುಸ್ತಕದ ಮೆಟ್ಟಿಲು 22</p>

<p><b>17/06/2021</b></p> <p><a href="https://youtu.be/ONEyC-S1x-U">https://youtu.be/ONEyC-S1x-U</a></p>	<p>ಪಟ ಪಟಪಟ</p> <p>ಚ ಚ ಚ ಚ ಚ</p> <p>ಚರ ಚಮಚ ಚದರ ಚಟಪಟ</p>	<p>e e e e e</p> <p>egg(ಎಗ್ಗ) (</p> <p>elephant(ಎಲಿಫೆಂಟ್) (</p> <p>engine(ಎಂಜಿನ್)(</p>	<p>(ದೊಡ್ಡ ಸಂಖ್ಯೆಯಿಂದ ಚಿಕ್ಕ ಸಂಖ್ಯೆ ಕಡೆಗೆ ಬರೆಸಿರಿ)</p> <ol style="list-style-type: none"> <li>1. 4,6,2,5</li> <li>2. 6,3,7,5</li> <li>3. 5,2,1,6</li> <li>4. 2,7,1,9</li> <li>5. 7,3,8,4</li> <li>6. 8,5,9,6</li> <li>7. 4,2,1,8</li> <li>8. 6,2,8,9</li> </ol> <p>ಈ ರೀತಿಯ ಲೆಕ್ಕಗಳನ್ನು ಇನ್ನೂ ಹೆಚ್ಚು ಮಾಡಿಸಿರಿ</p> <p>3ರ ಮಗ್ಗಿ ಬರೆಸಿರಿ</p>	<p>ಚಿತ್ರಗಳು ಮಾಡುತ್ತಿರುವ ಕೆಲಸ ಕೇಳಿ ನೀವು ಯಾವ ಯಾವ ಕೆಲಸ ಮಾಡುವಿರಿ</p>
<p><b>ಜೂನ್ - 3ನೇ ವಾರ</b></p> <p><b>18/06/2021</b></p> <p>ರಿಂದ</p> <p><b>19/06/2021</b></p>	<p>ಕನ್ನಡ ಈ ಪದಗಳನ್ನು)10 ಸಲ ಬರೆಸಿರಿ(</p> <p>ಜಪ, ಜಯ, ನಟ, ಪದ, ದಡ</p> <p>ನಯನ, ವಚನ, ಉರಗ, ಪದರ ಚಟಚಟ,</p>	<p>ಇಂಗ್ಲೀಷ್)10ಸಲ ಹೇಳಿಸಿ ಬರೆಸಿ(</p> <p>s ಸೌಂಡ್ ಸ್</p> <p>s s s s s</p>	<p>ಗಣಿತ</p> <p>ಕೂಡುವ ಲೆಕ್ಕ ಮಾಡಿಸಿರಿ ಕಡ್ಡಿ ಕಲ್ಲು ನೀಡಿ ಮಾಡಿಸಿರಿ</p> <p>5+1=__</p>	<p>ಪರಿಸರ</p> <p>ಅಭ್ಯಾಸ ಪುಸ್ತಕದ ಮೆಟ್ಟಿಲು 22</p> <p>ನೀನು ಮನೆಯಲ್ಲಿ ಯಾವ ಯಾವ ಕೆಲಸ ಮಾಡುವೆ ಯಾರು</p>

<p><a href="https://youtu.be/4RWXeGGAs7c">https://youtu.be/4RWXeGGAs7c</a></p>	<p>ಡಬ್ಬು, ಅಪಜಯ</p>	<p>sun(ಸನ್ (soap(ಸೋಪ್ (star(ಸ್ಟಾರ್(</p>	<p>2+2= __ 3+4= __ 3+1= __ 4+3= __ 5+4= __ 3+3= __ 4+5= __</p> <p>3ರ ಮಗ್ಗಿ ಬರೆಸಿರಿ</p>	<p>ಯಾರಿಗೆ ಹೇಗೆ ಸಹಾಯ ಮಾಡುವೆ?</p>
<p>ಜೂನ್ - 4ನೇ ವಾರ 20/06/2021 ರಿಂದ 21/06/2021 <a href="https://youtu.be/kzzXROKd-i0">https://youtu.be/kzzXROKd-i0</a></p>	<p>ಕನ್ನಡ ಈ ವಾಕ್ಯಗಳನ್ನು)10 ಸಲ ಬರೆಸಿರಿ( 1.ಉದಯದ ಸಮಯ 2.ಸಮಯದ ಗಮನ  ಚಿಮಚಿ ನಯನ ಪಟ</p>	<p>ಇಂಗ್ಲೀಷ್)10ಸಲ ಹೇಳಿಸಿ ಬರೆಸಿ( b ಸೌಂಡ್ ಬ್ b b b b b ball(ಬಾಲ್ (bat(ಬ್ಯಾಟ್ ( bag(ಬ್ಯಾಗ್(</p>	<p>ಗಣಿತ ಕೂಡುವ ಲೆಕ್ಕ ಮಾಡಿಸಿರಿ ಕಡ್ಡಿ ಕಲ್ಲು ನೀಡಿ ಮಾಡಿಸಿರಿ 5+2= __ 2+3= __ 3+3= __ 3+5= __ 4+4= __ 5+1= __</p>	<p>ಪರಿಸರ ಅಭ್ಯಾಸ ಪುಸ್ತಕದ ಮೆಟ್ಟಿಲು 22 ನೀನು ಮನೆಯಲ್ಲಿ ಯಾವ ಯಾವ ಕೆಲಸ ಮಾಡುವೆ ಯಾರು ಯಾರಿಗೆ ಹೇಗೆ ಸಹಾಯ ಮಾಡುವೆ?</p>

			<p>3+2= __</p> <p>4+1= __</p> <p>4ರ ಮಗ್ಗಿ ಬರೆಸಿರಿ</p>	
<p>ಜೂನ್ - 4ನೇ ವಾರ</p> <p>22/06/2021</p> <p>ರಿಂದ</p> <p>24/06/2021</p> <p><a href="https://youtu.be/zp_Zbh1uSB0">https://youtu.be/zp_Zbh1uSB0</a></p> <p><a href="https://youtu.be/P56hZEhqFCw">https://youtu.be/P56hZEhqFCw</a></p>	<p>ಕನ್ನಡ ಈ ಅಕ್ಷರಗಳನ್ನು ತಿದ್ದಿ(10)</p> <p>ಸಲ ಬರೆಸಿರಿ(</p> <p>ಲ ಲ ಲ ಲ ಲ</p> <p>ಷ ಷ ಷ ಷ ಷ</p> <p>ಈ ಈ ಈ ಈ ಈ</p>	<p>ಇಂಗ್ಲೀಷ್)10ಸಲ ಹೇಳಿಸಿ</p> <p>ಬರೆಸಿ(</p> <p>i ಸೌಂಡ್ ಇ</p> <p>iiiiii</p> <p>india(ಇಂಡಿಯಾ (ink(ಇಂಕ್ (</p> <p>idli(ಇಡ್ಲಿ(</p>	<p>ಗಣಿತ</p> <p>ಕಲೆಯುವ ಲೆಕ್ಕ ಮಾಡಿಸಿರಿ ಕಡ್ಡಿ</p> <p>ಕಲ್ಲು ನೀಡಿ ಮಾಡಿಸಿರಿ</p> <p>5-2= __</p> <p>2-1= __</p> <p>3-3= __</p> <p>3-1= __</p> <p>6-4= __</p> <p>5-1= __</p> <p>3-2= __</p> <p>4-1= __</p> <p>5ರ ಮಗ್ಗಿ ಬರೆಸಿರಿ</p>	<p>ಪರಿಸರ</p> <p>ಅಭ್ಯಾಸ ಪುಸ್ತಕದ ಮೆಟ್ಟಿಲು</p> <p>25 ನೀನು ನೋಡಿರುವ ಚಿತ್ರ</p> <p>ಗುರುತಿಸಿ</p>

ಜೂನ್ - 4ನೇ ವಾರ

25/06/2021

ರಿಂದ

28/06/2021

<https://youtu.be/qE5HEeoVGb0>

ಕನ್ನಡ ಈ ಅಕ್ಷರಗಳನ್ನು ತಿದ್ದಿಸಿ)10  
ಸಲ ಬರೆಸಿರಿ(

ಊ ಊ ಊ ಊ

ಕ ಕ ಕ ಕ ಕ ಕ

ಕರ ಲವ ಊನ ಪದಕ

ಸಲಗ ಕಮಲ ಚರಕ

ಇಂಗ್ಲೀಷ್)10ಸಲ ಹೇಳಿಸಿ  
ಬರೆಸಿ(

n ಸೌಂಡ್ ನ್

n n n n n

net(net)

nest (ನೆಸ್ಟ್(

neck(ನೆಕ್(

ಗಣಿತ

ತಿದ್ದಿಸಿ ಬರೆಸಿರಿ

0 0 0 0 0(ಸೊನ್ನೆ(

ಕೂಡುವ ಲೆಕ್ಕ.

2+0=

3+0=

6+0=

7+0=

1+0=

4+0=

5+0=

8+0=

9+0=

5ರ ಮಗ್ಗಿ ಬರೆಸಿರಿ

ಪರಿಸರ

ಅಭ್ಯಾಸ ಪುಸ್ತಕದ ಮೆಟ್ರಿಲು 26  
ರ ಪ್ರಶ್ನೆಗಳಿಗೆ ಉತ್ತರ ಕೇಳಿರಿ

ಕ್ಷೇತ್ರಶಿಕ್ಷಣಾಧಿಕಾರಿಗಳ ಕಚೇರಿ ಸಾರ್ವಜನಿಕ ಶಿಕ್ಷಣ ಇಲಾಖೆ ಹಿರಿಯೂರು ತಾಲ್ಲೂಕು

02ನೇ ತರಗತಿ ವಿದ್ಯಾರ್ಥಿಗಳ ಕಲಿಕೆಗೆ ಪೂರಕ ಚಟುವಟಿಕೆಗಳು

ದಿನಾಂಕ /ವಾರ	ಕನ್ನಡ	ಇಂಗ್ಲೀಷ್	ಗಣಿತ	ಪರಿಸರ ಅಧ್ಯಯನ
<p>ಮೇ - 3ನೇ ವಾರ</p> <p>16/05/2021 ರಿಂದ</p> <p>18/05/2021</p> <p>ಚಟುವಟಿಕೆಗಳನ್ನು ಮಾಡಲು ಸಹಾಯಕ್ಕಾಗಿ ಲಿಂಕ್‌ಗಳು</p> <p><a href="https://youtu.be/bv1-VvEAMsE">https://youtu.be/bv1-VvEAMsE</a></p> <p><a href="https://youtu.be/XQLhJWFQ3FE">https://youtu.be/XQLhJWFQ3FE</a></p>	<p>ಈ ಕೆಳಗಿನ ಅಕ್ಷರಗಳನ್ನು ಮೂರು ಬಾರಿ ಬರೆಯಿರಿ</p> <p>ಕೈ ಪೈ ಗೈ ಫೈ</p> <p>ಚೈಫೈ ಜೈ ರೈ.</p> <p>ಟೈ ಲೈ ಡೈ ಥೈಣೈ</p> <p>ತೈ ಥೈ ದೈ ಧೈ ನೈ</p> <p>ಪೈ ಫೈ ಬೈ ಭೈ ಮೈ</p> <p>ಯೈ ರೈ ಲೈ ವೈ ಶೈ ಷೈ ಸೈ ಹೈ ಳೈ</p>	<p>ಈ ಕೆಳಗಿನ ಅಕ್ಷರಗಳನ್ನು ಮೂರು ಬಾರಿ ಬರೆಯಿರಿ</p> <p>cccccc ಕ್</p> <p>ooooo ಆ</p> <p>aaaaa ಯ</p> <p>ppppp ಪ್</p> <p>ttttttt ಟ್</p>	<p>ಈ ಕೆಳಗಿನ ಸಂಖ್ಯೆಗಳನ್ನು ಮೂರು ಬಾರಿ ಬರೆಯಿರಿ</p> <p>21 22 23 24 25 26 27 28 29 30</p> <p>ಬಾಕ್ಸ್ ಬುಕ್‌ನಲ್ಲಿ ಬರೆ</p> <p>2 ರ ಮಗ್ಗಿ ಬರೆಸಿರಿ</p>	<p>ನಿಮ್ಮ ಮನೆಯಲ್ಲಿ ಯಾರು ಯಾರು ಇದ್ದಾರೆ ಎಂಬುದನ್ನು ಬರೆ</p>
<p>ಮೇ - 3ನೇ ವಾರ</p> <p>19/05/2021 ರಿಂದ</p> <p>22/05/2021</p>	<p>ಕನ್ನಡ ಒಂದು ಪದ)10 ಸಲ ಬರೆಸಿರಿ(</p> <p>ರೈಲು ಕೈ ಟೈರು ಕೈಗಾಡಿ</p> <p>ದೈವ ಮೈಲಿ ಪೈರು ಹೈನು ರೈತ ತೈಲ</p> <p>ಪೈಸೆ ನೈಜ ಜೈಲು ಮೈದ</p>	<p>ಈ ಕೆಳಗಿನ ಅಕ್ಷರಗಳನ್ನು ಮೂರು ಬಾರಿ ಬರೆಯಿರಿ</p> <p>cccccc ಸೌಂಡ್ ಕ್</p> <p>car(ಕಾರ್ (cap(ಕ್ಯಾಪ್ (</p> <p>cat(ಕ್ಯಾಟ್(</p>	<p>ಈ ಕೆಳಗಿನ ಸಂಖ್ಯೆಗಳನ್ನು ಮೂರು ಬಾರಿ ಬರೆಯಿರಿ</p> <p>31 32 33 34 35 36 37 38 39 40(ಬಾಕ್ಸ್ ಬುಕ್ ನಲ್ಲಿ ಬರೆಸಿರಿ(</p> <p>3ರ ಮಗ್ಗಿ ಬರೆಸಿ ಕೇಳಿರಿ</p>	<p>ನಿಮ್ಮ ಮನೆಯ ಅಕ್ಕ ಪಕ್ಕದ ಮನೆಯಲ್ಲಿ ಎಷ್ಟು ಜನರು ಇದ್ದಾರೆ ಯೋಚಿಸಿ ಲೆಕ್ಕ ಹಾಕಿರಿ</p>
<p>ಮೇ - 4ನೇ ವಾರ</p> <p>23/05/2021 ರಿಂದ</p>	<p>ಕನ್ನಡ ಒಂದು ಪದ)10 ಸಲ ಬರೆಸಿರಿ(</p> <p>ಕೈಲಾಸ</p> <p>ಮೈಶಾಖಿ ಮೈದಾನ ಬೈತಲೆ ಸೈನಿಕ</p>	<p>ಈ ಕೆಳಗಿನ ಅಕ್ಷರಗಳನ್ನು ಮೂರು ಬಾರಿ ಬರೆಯಿರಿ</p> <p>oooooo ಸೌಂಡ್ ಆ</p>	<p>ಈ ಕೆಳಗಿನ ಸಂಖ್ಯೆಗಳನ್ನು ಮೂರು ಬಾರಿ ಬರೆಯಿರಿ</p> <p>41 42 43 44 45 46 47 48 49 50(ಬಾಕ್ಸ್ ಬುಕ್ ನಲ್ಲಿ</p>	<p>ಹವಾಮಾನ ನಕ್ಷೆ ಹಾಕಿಸಿ</p> <p>ಮೆಟ್ಟಿಲು 15 ಪ್ರಶ್ನೆಗಳನ್ನು ಕೇಳಿರಿ</p>

<p><b>26/05/2021</b></p> <p><a href="https://youtu.be/XQLhJWFQ3FE">https://youtu.be/XQLhJWFQ3FE</a></p>	<p>ಮೈಸೂರು ವೈಭವ ಕೈವಾರ ಕೈಕೆಸರು</p> <p>ಕೈಕಡಗ ಬೈರವ ಮೈಲಾರಿ ಜೈಕಾರ ನೈದಿಲೆ ವೈಕುಂಠ</p>	<p>orange(ಅರೇಂಜ್ ( off(ಆಫ್ (on(ಆನ್(</p>	<p>ಬರೆಸಿರಿ( 4 ರ ಮಗ್ಗಿ ಬರೆಸಿರಿ ಕೇಳಿರಿ</p>	
<p><b>ಮೇ - 4ನೇ ವಾರ</b></p> <p><b>27/05/2021</b> ರಿಂದ</p> <p><b>29/05/2021</b></p> <p><a href="https://youtu.be/779F1b_BgAA-">https://youtu.be/779F1b_BgAA-</a></p>	<p>ಕನ್ನಡ ಒಂದು ಪದ)10 ಸಲ ಬರೆಸಿರಿ( ಕೈವಾರ ವೈಶಾಲಿ ಕೈಗಾರಿಕೆ ಕೈಚಳಕ ರೈಲುಗಾಡಿ ದೈನಂದಿನ ಕೈಕಾಲು ಸೈಂದವ ಸಂತೈಸು ಕಾಲುಚೈನು</p>	<p>ಇಂಗ್ಲೀಷ್)10ಸಲ ಹೇಳಿಸಿ ಬರೆಸಿ( a a a a a a ಸೌಂಡ್ ಆ apple(ಆಪಲ್ ( arrow(ಆರೋ(ant(ಆಂಟ್</p>	<p>ಸ್ಥಾನಪಟ್ಟಿ ರಚಿಸಿರಿ 25 [ಹ[ಬ][ [2] [5] 35 28 47 49 21 19 29 25 20 40 41 39 5 ರ ಮಗ್ಗಿ ಬರೆಸಿರಿ ಕೇಳಿರಿ</p>	<p>ಹವಾಮಾನ ನಕ್ಷೆ ಹಾಕಿಸಿ ಮೆಟ್ಟಿಲು 16 ಚಿತ್ರಗಳಿಗೆ ಬಣ್ಣ ತುಂಬಿರಿ ನಿಮ್ಮ ಮನೆಯಲ್ಲಿ ಯಾರು ಯಾರು ವಾಸಿಸುತ್ತಿದ್ದೀರಿ ?</p>
<p><b>ಮೇ - 4ನೇ ವಾರ</b></p> <p><b>30/05/2021</b> ರಿಂದ</p> <p><b>31/05/2021</b></p>	<p>ಕನ್ನಡ ಒಂದು ವಾಕ್ಯ)5 ಸಲ ಬರೆಸಿರಿ( 1. ಐವರು ಗೆಳೆಯರು ರೈಲುಗಾಡಿ ಏರಿದರು. 2.ಕೈಮರ ಮೇಲೇರಿತು ಚುಕುಬುಕು ಎಂದು ರೈಲು ಚಲಿಸಿತು 3. ನಾವು ಸೈನಿಕರು ದೇಶಕಾಗಿ ದುಡಿಯುವವರು. 4. ದುಡಿಯುವವರು ಕಾಯಕವೇ ಕೈಲಾಸ</p>	<p>ಇಂಗ್ಲೀಷ್)10ಸಲ ಹೇಳಿಸಿ ಬರೆಸಿ( p p p p p ಸೌಂಡ್ ಪ್ pot(ಪಾಟ್ ( pig(ಪಿಗ್(pen(ಪೆನ್</p>	<p>A.27ರಲ್ಲಿ 2ರ ಸ್ಥಾನಬೆಲೆ= 7ರ ಸ್ಥಾನ ಬೆಲೆ= B.35ರಲ್ಲಿ 3ರ ಸ್ಥಾನಬೆಲೆ = 7ರ ಸ್ಥಾನಬೆಲೆ =</p>	<p>ಹವಾಮಾನ ನಕ್ಷೆ ಹಾಕಿಸಿ ಮೆಟ್ಟಿಲು 18ರ ಚಟುವಟಿಕೆ ಮಾಡಿಸಿರಿ</p>



	ಎಂದು ನಂಬಿದವರು.		<p>C.40ರಲ್ಲಿ</p> <p>4ರ ಸ್ಥಾನ ಬೆಲೆ=</p> <p>0ಯ ಸ್ಥಾನ ಬೆಲೆ=</p> <p>D.21 ರಲ್ಲಿ</p> <p>2ರ ಸ್ಥಾನಬೆಲೆ =</p> <p>1ರ ಸ್ಥಾನಬೆಲೆ =</p> <p>E.33ರಲ್ಲಿ</p> <p>3ರ ಸ್ಥಾನಬೆಲೆ=</p> <p>3ರ ಸ್ಥಾನಬೆಲೆ=</p> <p>6 ರ ಮಗ್ಗಿ ಬರೆಸಿರಿ ಕೇಳಿರಿ</p>	
<p>ಜೂನ್ - 1ನೇ ವಾರ</p> <p>01/06/2021</p> <p>ರಿಂದ</p> <p>03/06/2021</p> <p><a href="https://youtu.be/E3-ul5xwtjg">https://youtu.be/E3-ul5xwtjg</a></p>	<p>ಕನ್ನಡ )5 ಸಲ ಬರೆಸಿರಿ)</p> <p>ಕೊ ಖೊ ಗೊ ಘೊ</p> <p>ಚೊ ಛೊ ಜೊ ಝೊ</p> <p>ಟೊ ಠೊ ಡೊ ಢೊ ಣೊ</p> <p>ತೊ ಥೊ ದೊ ಧೊ ನೊ</p> <p>ಪೊ ಫೊ ಬೊ ಭೊ ಮೊ</p>	<p>ಇಂಗ್ಲೀಷ್)10ಸಲ ಹೇಳಿಸಿ ಬರೆಸಿ(</p> <p>ttttt ಸೌಂಡ್ ಟ್</p> <p>table(ಟೇಬಲ್ (</p> <p>tap(ಟ್ಯಾಪ್ (</p> <p>tomato(ಟೊಮ್ಯಾಟೋ(</p>	<p>ಹಿಂದಿನ ಸಂಖ್ಯೆ ಬರೆಯಿರಿ</p> <p>---25</p> <p>__20</p> <p>__31</p> <p>__49</p> <p>__28</p> <p>__40</p>	<p>ಹವಾಮಾನ ನಕ್ಷೆ ಹಾಕಿಸಿ</p> <p>ನೀವು ಹೋಗಿರುವ ಸಮಾರಂಭಗಳು ಹಬ್ಬಗಳು ಜಾತ್ರೆಗಳ ಬಗ್ಗೆ ಕೇಳಿ ತಿಳಿದುಕೊಳ್ಳಿರಿ</p>

	ಯೋರೋಲೋವೊಶೋಷೋಸೋಹೋಳೋ		__30 __31 __38 __45 __41 __33	
			7 ರ ಮಗ್ಗಿ ಬರೆಸಿರಿ ಕೇಳಿರಿ	
<b>ಜೂನ್ - 1ನೇ ವಾರ</b> <b>04/06/2021</b> <b>ರಿಂದ</b> <b>06/06/2021</b>	<b>ಕನ್ನಡ ಒಂದು ಪದ)10 ಸಲ ಬರೆಸಿರಿ</b> ಮೊಳೆ ಕೊಡೆ ಸೊಂಡಿಲು ಪೊರಕೆ ಜೇನುನೋಣ ದೊರೆ ಬಾಳೆಗೊನೆ ಕೊಳಲು ಮೊಸಳೆ ಕೊಡಲಿ ಹೊರೆ ಮೊರ ಮೊಸಳೆ ಪೊಟರೆ	<b>ಇಂಗ್ಲೀಷ್</b> <b>ಇಂಗ್ಲೀಷ್)10ಸಲ ಹೇಳಿಸಿ</b> <b>ಬರೆಸಿ(</b> <b>at( ಆಟ್(</b> <b>cat(ಕ್ಯಾಟ್(</b> <b>pat(ಪ್ಯಾಟ್</b>	<b>ಗಣಿತ</b> <b>ಮುಂದಿನ ಸಂಖ್ಯೆ ಬರೆಯಿರಿ</b> 25__ 20__ 31__ 49__ 28__ 40__ 30__ 31__	<b>ಪರಿಸರ</b> <b>ಹವಾಮಾನ ನಕ್ಷೆ ಹಾಕಿಸಿ</b> ಅಭ್ಯಾಸ ಪುಸ್ತಕದ 21 ನೇ ಮೆಟ್ಟಿಲು ಪ್ರಶ್ನೆಗಳನ್ನು ಕೇಳಿರಿ

			<p>38__</p> <p>45__</p> <p>41__</p> <p>33__</p> <p>29__</p> <p>39__</p> <p>8 ರ ಮಗ್ಗಿ ಬರೆಸಿರಿ ಕೇಳಿರಿ</p>	
<p>ಜೂನ್ - 2ನೇ ವಾರ</p> <p>07/06/2021</p> <p>ರಿಂದ</p> <p>09/06/2021</p> <p><a href="https://youtu.be/71wAicbV_lw">https://youtu.be/71wAicbV_lw</a></p>	<p>ಕನ್ನಡ ಒಂದು ಪದ)10 ಸಲ ಬರೆಸಿರಿ</p> <p>ಉಡುಗೊರೆ, ಅಂಕುಡೊಂಕು,</p> <p>ಜೇನುನೋಣ, ರೆಂಬಿಕೊಂಬೆ-,</p> <p>ತೊಂಡೆಕಾಯಿ, ಗೊಂಬೆಯಾಟ,</p> <p>ಹೊಂಚುಹಾಕು, ದೊಂಬರಾಟ,</p> <p>ಹೊಂಗಿರಣ, ಹೊಂದಾಣಿಕೆ.</p>	<p>ಇಂಗ್ಲೀಷ್</p> <p>ಇಂಗ್ಲೀಷ್)10ಸಲ ಹೇಳಿಸಿ</p> <p>ಬರೆಸಿ(</p> <p>ap( ಆಪ್</p> <p>cap(ಕ್ಯಾಪ್(</p> <p>tap(ಟ್ಯಾಪ್(</p> <p>pap(ಪ್ಯಾಪ್</p>	<p>ಗಣಿತ</p> <p>ಮಧ್ಯದನ ಸಂಖ್ಯೆ ಬರೆಯಿರಿ</p> <p>25__27</p> <p>20__22</p> <p>31__33</p> <p>49__51</p> <p>28__30</p> <p>40__42</p> <p>30__32</p> <p>31__33</p>	<p>ಪರಿಸರ</p> <p>ಹವಾಮಾನ ನಕ್ಷೆ ಹಾಕಿಸಿ</p> <p>ಅಭ್ಯಾಸ ಪುಸ್ತಕದ 22 ನೇ</p> <p>ಮೆಟ್ಟಿಲು ಚಿತ್ರಗಳಿಗೆ ಬಣ್ಣ</p> <p>ತುಂಬಿರಿ ಮತ್ತು ಹಾಳೆಯಲ್ಲಿ</p> <p>ಬಿಡಿಸಿರಿ</p>



			10.38,48,28,50	
			2 ರ ಮಗ್ಗಿ ಬರೆಸಿರಿ ಕೇಳಿರಿ	
<p><b>ಜೂನ್ - 3ನೇ ವಾರ</b></p> <p><b>13/06/2021</b></p> <p><b>ರಿಂದ</b></p> <p><b>15/06/2021</b></p>	<p>ಕನ್ನಡ ಈ ವಾಕ್ಯಗಳನ್ನು 3 ಸಲ ಬರೆಸಿರಿ</p> <p>1.ನರಿ ಕೊಳಲು ಊದುತ್ತಿದೆ.</p> <p>2. ರೈತ ಹೊಲವನು ಉಳುಮೆ ಮಾಡುತ್ತಿರುವನು.</p> <p>3. ಕೊಳದ ನೀರಿನಲ್ಲಿ ಹಾವುಗಳಿವೆ</p> <p>4.ವಿಮಲೆಯ ಕೈಯಲ್ಲಿ ಗೊಂಬೆ ಇದೆ.</p> <p>5. ಬಾಳೆ ಗಿಡದಲ್ಲಿ ಬಾಳೆಗೊನೆ ಇದೆ</p> <p>6. ಹೂವಿನ ಮೇಲೆ ಜೇನುನೋಣ ಕುಳಿತಿದೆ</p>	<p>ಇಂಗ್ಲೀಷ್</p> <p>ಇಂಗ್ಲೀಷ್)10ಸಲ ಹೇಳಿಸಿ ಬರೆಸಿ(</p> <p>ot( ಆಟ್(</p> <p>cot(ಕಾಟ್(</p> <p>pot(ಪಾಟ್(</p>	<p>ಗಣಿತ</p> <p>ದೊಡ್ಡ ಸಂಖ್ಯೆಗೆ ವೃತ್ತ ಹಾಕಿಸಿ</p> <p>1.34,25,46,28</p> <p>2.45,33,25,43</p> <p>3.33,49,29,31</p> <p>4.26,19,32,44</p> <p>5.17,32,46,15</p> <p>6.33,44,22,11</p> <p>7.43,23,50,27</p> <p>8.47,21,43,35</p> <p>9.10,20,26,19</p> <p>10.38,48,28,50</p>	<p>ಪರಿಸರ</p> <p>ಹವಾಮಾನ ನಕ್ಷೆ ಹಾಕಿಸಿ</p> <p>ಅಭ್ಯಾಸ ಪುಸ್ತಕದ 28ನೇ ಮೆಟ್ಟಿಲ ಪ್ರಶ್ನೆಗಳಿಗೆ ಉತ್ತರಿಸಿ</p>

			3 ರ ಮಗ್ಗಿ ಬರೆಸಿರಿ ಕೇಳಿರಿ	
<p>ಜೂನ್ - 3ನೇ ವಾರ</p> <p>16/06/2021</p> <p>ರಿಂದ</p> <p>17/06/2021</p>	<p>ಕನ್ನಡ ಈ ಅಕ್ಷರಗಳನ್ನು 5 ಸಲ ಬರೆಯಿರಿ(</p> <p>ಕೋ ಖೋ ಗೋ ಘೋ</p> <p>ಚೋ ಛೋ ಜೋ ಝೋ</p> <p>ಟೋ ಠೋ ಡೋ ಢೋ ಣೋ</p> <p>ತೋ ಥೋ ದೋ ಧೋ ನೋ</p> <p>ಪೋಫೋಬೋಭೋಮೋ</p> <p>ಯೋ ರೋ ಲೋ ವೋ ಶೋ ಷೋ ಸೋ ಹೋ ಳೋ</p>	<p>ಇಂಗ್ಲಿಷ್</p> <p>ಇಂಗ್ಲಿಷ್)10ಸಲ ಹೇಳಿಸಿ ಬರೆಸಿ(</p> <p>e ಸೌಂಡ್ ಎ</p> <p>e e e e e</p> <p>egg (ಎಗ್ಗ್)</p> <p>elephant(ಎಲಿಫೆಂಟ್)</p> <p>engine(ಎಂಜಿನ್)</p>	<p>ಗಣಿತ</p> <p>ಚಿಕ್ಕ ಸಂಖ್ಯೆಗೆ ವೃತ್ತ ಹಾಕಿಸಿ</p> <p>1.34,25,46,28</p> <p>2.45,33,25,43</p> <p>3.33,49,29,31</p> <p>4.26,19,32,44</p> <p>5.17,32,46,15</p> <p>6.33,44,22,11</p> <p>7.43,23,50,27</p> <p>8.47,21,43,35</p> <p>9.10,20,26,19</p> <p>10.38,48,28,50</p> <p>4 ರ ಮಗ್ಗಿ ಬರೆಸಿರಿ ಕೇಳಿರಿ</p>	<p>ಪರಿಸರ</p> <p>ಹವಾಮಾನ ನಕ್ಷೆ ಹಾಕಿಸಿ</p> <p>ಅಭ್ಯಾಸ ಪುಸ್ತಕದ 29ನೇ ಮೆಟ್ಟಿಲ ಚಿತ್ರಗಳಿಗೆ ಬಣ್ಣ ತುಂಬಿರಿ</p>

<p>ಜೂನ್ - 3ನೇ ವಾರ 18/06/2021 ರಿಂದ 19/06/2021</p>	<p>ಕನ್ನಡ ಈ ಪದಗಳನ್ನು)10 ಸಲ ಬರೆಯಿರಿ(  ಗೋಧಿ, ತೋಳ, ನೋಟು, ಕೋತಿ, ಲೋಟ, ಕೋಡು, ಸೋಮಾರಿ, ಗೋಲಕ, ಪೋಲೀಸು, ಭೋಜನ, ಗೋಣಿಚೀಲ, ಯೋಗಾಸನ, ಉಪಯೋಗ, ಸಂತೋಷ, ಸಹೋದರ, ಗೋಡಂಬಿ, ರಂಗೋಲಿ, ತೋಟಗಾರ, ಸೋಮವಾರ, ಬಾತುಕೋಳಿ ಮರಕೋತಿ.</p>	<p>ಇಂಗ್ಲಿಷ್ ಇಂಗ್ಲಿಷ್)10ಸಲ ಹೇಳಿಸಿ ಬರಿಸಿ(  s ಸೌಂಡ್ ಸ್  s s s s s  sun (ಸನ್(  soap(ಸೋಪ್(  star(ಸ್ಟಾರ್(  5 ರ ಮಗ್ಗಿ ಬರಿಸಿರಿ ಕೇಳಿರಿ</p>	<p>ಗಣಿತ ಸಮ ಸಂಖ್ಯೆಗೆ ವೃತ್ತ ಹಾಕಿಸಿ  1.34,25,46,25  2.45,33,25,33  3.33,49,49,31  4.26,19,32,19  5.15,32,46,15  6.33,44,22,44  7.43,43,50,27  8.47,21,43,21  9.10,20,26,10  10.38,48,38,50</p>	<p>ಪರಿಸರ ಹವಾಮಾನ ನಕ್ಷೆ ಹಾಕಿಸಿ  ಅಭ್ಯಾಸ ಪುಸ್ತಕದ 30ನೇ ಮೆಟ್ಟಿಲ ಚಿತ್ರಗಳಲ್ಲಿ ಸರಿ ಯಾವುದು ತಪ್ಪು ಯಾವುದು ತಿಳಿಸಿ</p>
<p>ಜೂನ್ - 4ನೇ ವಾರ 20/06/2021 ರಿಂದ 21/06/2021  <a href="https://youtu.be/N0xrUp8fyAw">https://youtu.be/N0xrUp8fyAw</a></p>	<p>ಕನ್ನಡ ಈ ವಾಕ್ಯಗಳನ್ನು)10 ಸಲ ಬರೆಯಿರಿ(  1.ಮಳೆಗಾಲಕೆ ಬೇಕೆ ಬೇಕು ರೈನು ಕೋಟು.</p>	<p>ಇಂಗ್ಲಿಷ್ ಇಂಗ್ಲಿಷ್)10ಸಲ ಹೇಳಿಸಿ ಬರಿಸಿ(  b ಸೌಂಡ್ ಬ್</p>	<p>ಗಣಿತ ಏರಿಕೆ ಕ್ರಮದಲ್ಲಿ ಬರಿಸಿರಿ  1.34,25,46,28  2.45,33,25,37</p>	<p>ಪರಿಸರ ಹವಾಮಾನ ನಕ್ಷೆ ಹಾಕಿಸಿ  ಅಭ್ಯಾಸ ಪುಸ್ತಕದ 31ನೇ ಮೆಟ್ಟಿಲ ಚಿತ್ರ ಗುರ್ತಿಸಿ ಪ್ರಶ್ನೆ ಕೇಳಿರಿ</p>

	<p>2.ಮೋಡ ಕವಿದ ವಾತಾವರಣ</p> <p>3.ಕೋಮಲಳು ಗೊಂಬೆ ಹಿಡಿದಿರುವಳು</p> <p>4.ಬಾತು ಕೋಳಿ ಕೊಳದೊಳಗೆ ಇದೆ</p> <p>5.ಊಟದ ನಂತರ ಒಂದು ಲೋಟ ನೀರು ಕುಡಿಯಬೇಕು.</p>	<p>b b b b b</p> <p>bat (ಬ್ಯಾಟ್(</p> <p>ball(ಬಾಲ್(</p> <p>Bag(ಬ್ಯಾಗ್(</p>	<p>3.33,49,41,31</p> <p>4.26,19,32,11</p> <p>5.15,32,46,19</p> <p>6.33,44,22,42</p> <p>7.43,40,50,27</p> <p>8.47,21,43,25</p> <p>9.10,20,26,15</p> <p>10.38,48,35,50</p>	
<p>ಜೂನ್ - 4ನೇ ವಾರ</p> <p>22/06/2021</p> <p>ರಿಂದ</p> <p>24/06/2021</p> <p><a href="https://youtu.be/nqrgP04GMPo">https://youtu.be/nqrgP04GMPo</a></p>	<p>ಕನ್ನಡ ಈ ಪದಗಳನ್ನು)10 ಸಲ ಬರೆಯಿರಿ(</p> <p>ಕೋಲಾಟ ರಂಗೋಲಿ ದೋಸೆ ಹೋಳಿಗೆ ತೋಟ ಕೋಡಂಗಿ ಗೋಲಕ ಕೋಡುಬಳೆ ಗೋದಾವರಿ ಜೋಕಾಲಿ ಯೋಗಾಸನ ಗೋರಂಟಿ</p>	<p>ಇಂಗ್ಲಿಷ್</p> <p>ಇಂಗ್ಲಿಷ್)10ಸಲ ಹೇಳಿಸಿ ಬರಿಸಿ(</p> <p>i ಸೌಂಡ್ ಇ</p> <p>iiii</p> <p>india (ಇಂಡಿಯಾ(</p> <p>ink(ಇಂಕ್(</p> <p>idli(ಇಡ್ಲಿ(</p>	<p>ಗಣಿತ</p> <p>ಇಳಿಕೆ ಕ್ರಮದಲ್ಲಿ ಬರಿಸಿರಿ</p> <p>1.34,25,46,28</p> <p>2.45,33,25,37</p> <p>3.33,49,41,31</p> <p>4.26,19,32,11</p> <p>5.15,32,46,19</p> <p>6.33,44,22,42</p>	<p>ಪರಿಸರ</p> <p>ಹವಾಮಾನ ನಕ್ಷೆ ಹಾಕಿಸಿ</p> <p>ಅಭ್ಯಾಸ ಪುಸ್ತಕದ 32ನೇ ಮೆಟ್ಟಿಲ ಚಟುವಟಿಕೆ ಮಾಡಿರಿ</p>



			<p>7.43,40,50,27</p> <p>8.47,21,43,25</p> <p>9.10,20,26,15</p> <p>10.38,48,35,50</p> <p>7 ರ ಮಗ್ಗಿ ಬರೆಸಿರಿ ಕೇಳಿರಿ</p>	
<p>ಜೂನ್ - 4ನೇ ವಾರ</p> <p>25/06/2021</p> <p>ರಿಂದ</p> <p>28/06/2021</p> <p><a href="https://youtu.be/d2ATP-WBG-g">https://youtu.be/d2ATP-WBG-g</a></p> <p><a href="https://youtu.be/7-IE_aEqMyU">https://youtu.be/7-IE_aEqMyU</a></p>	<p>ಕನ್ನಡ ಈ ಪದಗಳನ್ನು)10 ಸಲ ಬರೆಯಿರಿ(</p> <p>ಕೌ ಖೌ ಗೌ ಘೌ</p> <p>ಚೌ ಛೌ ಜೌ ಝೌ</p> <p>ಟೌ ಠೌ ಡೌ ಢೌ ಣೌ</p> <p>ತೌ ಥೌ ದೌ ಧೌ ನೌ</p> <p>ಪೌ ಫೌ ಬೌ ಭೌ ಮೌ</p> <p>ಯೌ ರೌ ಲೌ ವೌ ಶೌ ಷೌ ಸೌ ಹೌ ಳೌ</p>	<p>ಇಂಗ್ಲೀಷ್</p> <p>ಇಂಗ್ಲೀಷ್)10ಸಲ ಹೇಳಿಸಿ ಬರೆಸಿ(</p> <p>ಇಂಗ್ಲೀಷ್)10ಸಲ ಹೇಳಿಸಿ ಬರೆಸಿ(</p> <p>n ಸೌಂಡ್ ನ್</p> <p>n n n n n</p> <p>net(net)</p> <p>nest (ನೆಸ್ಟ್(</p> <p>neck(ನೆಕ್(</p>	<p>ಗಣಿತ</p> <p>ಕನಿಷ್ಠ ಸಂಖ್ಯೆಗೆ ವೃತ್ತ ಹಾಕಿಸಿ</p> <p>1.34,25,46,28</p> <p>2.45,33,25,37</p> <p>3.33,49,41,31</p> <p>4.26,19,32,11</p> <p>5.15,32,46,19</p> <p>6.33,44,22,42</p> <p>7.43,40,50,27</p> <p>8.47,21,43,25</p> <p>9.10,20,26,15</p> <p>10.38,48,35,50</p> <p>8 ರ ಮಗ್ಗಿ ಬರೆಸಿರಿ ಕೇಳಿರಿ</p>	<p>ಪರಿಸರ</p> <p>ಹವಾಮಾನ ನಕ್ಷೆ ಹಾಕಿಸಿ</p> <p>ಅಭ್ಯಾಸ ಪುಸ್ತಕದ 34ನೇ ಮೆಟ್ಟಿಲ ಪ್ರಶ್ನೆಗಳನ್ನು ಕೇಳಿರಿ</p>

ಕ್ಷೇತ್ರಶಿಕ್ಷಣಾಧಿಕಾರಿಗಳ ಕಚೇರಿ ಸಾರ್ವಜನಿಕ ಶಿಕ್ಷಣ ಇಲಾಖೆ ಹಿರಿಯೂರು ತಾಲ್ಲೂಕು

03ನೇ ತರಗತಿ ವಿದ್ಯಾರ್ಥಿಗಳ ಕಲಿಕೆಗೆ ಪೂರಕ ಚಟುವಟಿಕೆಗಳು

ದಿನಾಂಕ /ವಾರ	ಕನ್ನಡ	ಇಂಗ್ಲಿಷ್	ಗಣಿತ	ಪರಿಸರ ಅಧ್ಯಯನ
<p>ಮೇ - 3ನೇ ವಾರ</p> <p><b>16/05/2021</b> ರಿಂದ</p> <p><b>18/05/2021</b> <a href="https://youtu.be/BddMIRWwUBI">https://youtu.be/BddMIRWwUBI</a></p>	<p>*ಕನ್ನಡ*</p> <p>ಬಾವಿಯಲ್ಲಿ ಚಂದ್ರ ಪದ್ಯ 2 ಸಲ ಬರೆಯಿರಿ</p>	<p>*ಇಂಗ್ಲಿಷ್*</p> <p>ಈ ಕೆಳಗಿನ ಅಕ್ಷರಗಳನ್ನು ಮೂರು ಬಾರಿ ಬರೆಯಿರಿ</p> <p><b>cccc</b> ಸೌಂಡ್ ಕ್</p> <p><b>oooo</b> ಸೌಂಡ್ ಆ</p> <p><b>aaaa</b> ಸೌಂಡ್ ಆ್ಯ</p> <p><b>pppp</b> ಸೌಂಡ್ ಪ್</p> <p><b>tttttt</b> ಸೌಂಡ್ ಟ್</p>	<p>*ಗಣಿತ*</p> <p><b>101</b>ರಿಂದ <b>300</b> ರವರೆಗೆ ಸಂಖ್ಯೆ ಬರೆಯಿರಿ</p>	<p>*ಪರಿಸರ*</p> <p>ನಿಮ್ಮ ಮನೆಯಲ್ಲಿ ಯಾರು ಯಾರು ಇದ್ದಾರೆ ಅವರು ಮಾಡುವ ಒಂದು ಕೆಲಸವನ್ನು ಬರೆಯಿರಿ</p>
<p>ಮೇ - 3ನೇ ವಾರ</p> <p><b>19/05/2021</b> ರಿಂದ</p> <p><b>22/05/2021</b> <a href="https://youtu.be/Y9XLcCb9QXo">https://youtu.be/Y9XLcCb9QXo</a></p>	<p>*ಕನ್ನಡ*</p> <p>ಬಾವಿಯಲ್ಲಿ ಚಂದ್ರ ಪದ್ಯದ ಪ್ರಶೋತ್ತರ ಬರೆಯಿರಿ</p>	<p>*ಇಂಗ್ಲಿಷ್*</p> <p>ಈ ಕೆಳಗಿನ ಅಕ್ಷರಗಳನ್ನು ಮೂರು ಬಾರಿ ಬರೆಯಿರಿ</p> <p>(ಕನ್ನಡದಲ್ಲಿ ಇರುವುದನ್ನು ಬರೆಯಬೇಡಿ)</p> <p><b>car</b>(ಕಾರ್ ( <b>cat</b>(ಕ್ಯಾಟ್ ( <b>cap</b>(ಕ್ಯಾಪ್(</p>	<p>*ಗಣಿತ*</p> <p><b>301</b>ರಿಂದ <b>500</b> ರವರೆಗೆ ಸಂಖ್ಯೆ ಬರೆಯಿರಿ</p>	<p>*ಪರಿಸರ*</p> <p>ಮೆಟ್ಟಿಲು <b>15</b> ನ್ನು ಓದಿರಿ ನಿಮ್ಮ ಕುಟುಂಬದ ಸಂಬಂಧಿಕರನ್ನು ಅವರ ಹೆಸರನ್ನು ತಿಳಿಯಿರಿ</p>

		<p>orange(ಅರೇಂಜ್ ( on(ಆನ್)(off(ಆಫ್(</p> <p>apple(ಆಪಲ್ ( arrow(ಆರೋ(ant(ಆಂಟ್</p> <p>pot(ಪಾಟ್ ( pig(ಪಿಗ್)(pen(ಪೆನ್(</p> <p>table(ಟೇಬಲ್ ( tap(ಟ್ಯಾಪ್(</p> <p>tomato(ಟೊಮ್ಯಾಟೋ(</p>		
<p>ಮೇ - 4ನೇ ವಾರ</p> <p>23/05/2021 ರಿಂದ</p> <p>26/05/2021</p> <p><a href="https://youtu.be/uID4EhCisoM">https://youtu.be/uID4EhCisoM</a></p>	<p><b>*ಕನ್ನಡ*</b></p> <p>ಲಗೋರಿ ಆಟ ಪಾಠವನ್ನು ಓದಿರಿ ನಿಮ್ಮ ತಂದೆಯ ಬಳಿ ಆ ಆಟವನ್ನು ಅವರು ಚಿಕ್ಕವರಾಗಿದ್ದಾಗ ಹೇಗೆ ಅಡುತ್ತಿದ್ದರು ಕೇಳಿರಿ ಮತ್ತು ಆ ಪಾಠದಲ್ಲಿ ಬಂದಿರುವ ಒತ್ತಕ್ಷರ ಪದಗಳನ್ನು ಪಟ್ಟಿ ಮಾಡಿರಿ</p>	<p><b>*ಇಂಗ್ಲಿಷ್*</b></p> <p>(ಕನ್ನಡದಲ್ಲಿ ಇರುವುದನ್ನು ಬರೆಯಬೇಡಿ ಸೌಂಡ್ ( ಹೇಳುತ್ತಾ ಬರೆಯಿರಿ</p> <p><b>e</b> ಸೌಂಡ್ ಎ</p> <p><b>s</b> ಸೌಂಡ್ ಸ್</p> <p><b>b</b> ಸೌಂಡ್ ಬ್</p> <p><b>i</b> ಸೌಂಡ್ ಇ</p>	<p><b>*ಗಣಿತ*</b></p> <p>ಸ್ಥಾನ ಪಟ್ಟಿ ರಚಿಸಿ ಉದಾ :235</p> <p>ನೂ ಹ ಬಿ</p> <p><b>2 3 5</b></p> <p><b>1.349</b></p> <p><b>2.365</b></p> <p><b>3.499</b></p>	<p><b>*ಪರಿಸರ*</b></p> <p>ಮೆಟ್ಟಿಲು 15 ನ್ನು ಓದಿಕೊಂಡು 16,17 ರ ಪ್ರಶ್ನೆಗಳಿಗೆ ಉತ್ತರ ಹುಡುಕಿ ಬರೆಯಿರಿ</p>

		n ಸೌಂಡ್ ನ್	4.178	
			5.261 ಹೀಗೆ 10 ಲೆಕ್ಕ ಮಾಡಿರಿ	
<p>ಮೇ - 4ನೇ ವಾರ</p> <p>27/05/2021 ರಿಂದ</p> <p>29/05/2021</p> <p><a href="https://youtu.be/uM27dnCyGNl">https://youtu.be/uM27dnCyGNl</a></p>	<p>*ಕನ್ನಡ*</p> <p>ಲಗೋರಿ ಆಟ ಪಾಠದ ಪ್ರಶೋತ್ತರ ಬರೆಯಿರಿ</p>	<p>*ಇಂಗ್ಲಿಷ್*</p> <p>(ಕನ್ನಡದಲ್ಲಿ ಇರುವುದನ್ನು ಬರೆಯಬೇಡಿ ಸೌಂಡ್ (  ಹೇಳುತ್ತಾ ಬರೆಯಿರಿ</p> <p>en</p> <p>in</p> <p>it</p> <p>an</p> <p>et</p> <p>at</p> <p>pen</p> <p>tin</p> <p>pit</p> <p>pan</p> <p>net</p>	<p>*ಗಣಿತ*</p> <p>ಪದಗಳಲ್ಲಿ ಬರೆಯಿರಿ</p> <p>1.349</p> <p>2.365</p> <p>3.499</p> <p>4.178</p> <p>5.276</p> <p>ಸಂಖ್ಯೆ ಯಲ್ಲಿ ಬರೆಯಿರಿ</p> <p>1.ಮೂರು ನೂರ ಇಪ್ಪತ್ತಾಲ್ಕು</p> <p>2.ಎರಡು ನೂರ ಮೂವತ್ತು</p> <p>3.ಒಂದುನೂರ ಒಂದು</p> <p>4.ನಾಲ್ಕು ನೂರ ಎಂಬತ್ತೇಳು</p>	<p>*ಪರಿಸರ*</p> <p>ಮೆಟ್ಟಿಲು 19 ರ ಚಟುವಟಿಕೆ ಮಾಡಿರಿ</p>

		sat ten bin		
<p>ಮೇ - 4ನೇ ವಾರ 30/05/2021 ರಿಂದ 31/05/2021 <a href="https://youtu.be/bFGbJNXz-Fs">https://youtu.be/bFGbJNXz-Fs</a></p>	<p><b>*ಕನ್ನಡ*</b> ಇವುಗಳನ್ನು ಬರೆಯಿರಿ ಪೂರ್ಣ xಅಪೂರ್ಣ ನೋವುxನಲಿವು ಶುಭ xಅಶುಭ ಆರಂಭ xಅಂತ್ಯ ಆಗಮಿಸುxನಿರ್ಗಮಿಸು ನ್ಯಾಯ xಅನ್ಯಾಯ ಮುಂದೆ xಹಿಂದೆ ಜಯxಅಪಜಯ ಅಭ್ಯಾಸ ಪುಸ್ತಕ 24 ಮೆಟ್ಟಿಲು ಮಾಡಿರಿ</p>	<p><b>*ಇಂಗ್ಲಿಷ್*</b> (ಕನ್ನಡದಲ್ಲಿದ್ದ ಇರುವುದನ್ನು ಬರೆಯಬೇಡಿ ಸೌಂಡ್ ( ಹೇಳುತ್ತಾ ಬರೆ <b>u sound</b> ಅ ಎಂದು ಹೇಳುತ್ತಾ ಬರಿಸಿರಿ <b>u u u u u u</b> <b>under</b>(ಅಂಡರ್( <b>up</b>(ಅಪ್( <b>umbrella</b>(ಅಂಬ್ರೆಲ್ಲ( <b>1. 415 __ 500</b> <b>2. 275 __ 275</b> <b>3. 410 __ 210</b> <b>4. 499 __ 399</b> <b>5. 350 __ 250</b></p>	<p><b>*ಗಣಿತ*</b> ಹೆಚ್ಚು ಕಡಿಮೆ ಸಮ ಚಿಹ್ನೆ ಹಾಕಿ <b>【&lt; &gt; =】</b></p>	<p><b>*ಪರಿಸರ*</b> ಅಭ್ಯಾಸ ಪುಸ್ತಕ ಮೆಟ್ಟಿಲು 20 ಓದಿರಿ ಮತ್ತು ನಿಮ್ಮ ಮನೆಯಲ್ಲಿ ಹಬ್ಬ ಜಾತ್ರೆ ಸಮಾರಂಭಗಳು ಯಾವುವು ಹೇಗೆ ಮಾಡುತ್ತಾರೆ ಕೇಳಿರಿ</p>

			6. 155 __ 450  7. 230__ 385  8. 405__ 405  9. 356__ 256  10. 295 __195	
<p>ಜೂನ್ - 1ನೇ ವಾರ 01/06/2021 ರಿಂದ 03/06/2021 <a href="https://youtu.be/YgcRS77yKzA">https://youtu.be/YgcRS77yKzA</a></p>	<p><b>*ಕನ್ನಡ*</b>  'ಉದ್ಯಾನವನದಲ್ಲಿ ಒಂದು ದಿನ ಪಾಠವನ್ನು ಓದಿರಿ ಅದರಲ್ಲಿ ಬಂದಿರುವ ಒತ್ತಕ್ಷರ ಪದಗಳನ್ನು ಬರೆಯಿರಿ</p>	<p><b>*ಇಂಗ್ಲಿಷ್*</b>  (ಕನ್ನಡದಲ್ಲಿ ಇರುವುದನ್ನು ಬರೆಯಬೇಡಿ ಸೌಂಡ್ (  ಬರೆ ಹೇಳುತ್ತಾ  <b>d sound</b> ಡ್ ಎಂದು ಹೇಳುತ್ತಾ ಬರಿಸಿರಿ  <b>d d d d d</b>  <b>dog(ಡಾಗ್)</b></p>	<p><b>*ಗಣಿತ*</b>  ಏರಿಕೆ ಕ್ರಮದಲ್ಲಿ ಬರಿಸಿರಿ  <b>1.434,325,146,228</b>  <b>2.445,336,125,237</b>  <b>3.233,449,341,231</b>  <b>4.246,169,322,161</b>  <b>5.115,132,146,119</b></p>	<p><b>*ಪರಿಸರ*</b>  ಅಭ್ಯಾಸ ಪುಸ್ತಕ ಮೆಟ್ಟಿಲು <b>21</b>ರ ಪ್ರಶ್ನೆಗಳಿಗೆ ಉತ್ತರಿಸಿ ಸಹಾಯಕ್ಕೆ <b>20</b> ಮೆಟ್ಟಿಲಲ್ಲಿ ಉತ್ತರ ಇರುವುದು ಓದಿ ಹುಡುಕಿರಿ</p>

		<b>door(ಡೋರ್(</b> <b>deer(deer)</b>	<b>6.233,244,222,242</b> <b>7.43,40,50,27</b> <b>8.447,215,434,254</b> <b>9.100,200,326,150</b> <b>10.386,485,355,500</b>	
<b>ಜೂನ್ - 1ನೇ ವಾರ</b> <b>04/06/2021</b> <b>ರಿಂದ</b> <b>06/06/2021</b> <a href="https://youtu.be/24dKTgOG3Ok">https://youtu.be/24dKTgOG3Ok</a>	<b>*ಕನ್ನಡ*</b> ಉದ್ಯಾನವನದಲ್ಲಿ ಒಂದು ದಿನ ಪ್ರಶೋತ್ತರ ಬರೆಯಿರಿ	<b>*ಇಂಗ್ಲಿಷ್*</b> (ಕನ್ನಡದಲ್ಲಿ ಇರುವುದನ್ನು ಬರೆಯಬೇಡಿ ಸೌಂಡ್ ( ಹೇಳುತ್ತಾ ಬರೆ  <b>g sound</b> ಗ್ ಎಂದು ಹೇಳುತ್ತಾ ಬರಿಸಿರಿ  <b>g g g g g</b>  <b>goat(ಗೋಟ್(</b>  <b>girl(ಗರ್ಲ್(</b>  <b>grass(ಗ್ರಾಸ್(</b>	<b>*ಗಣಿತ*</b> ಇಳಿಕೆ ಕ್ರಮದಲ್ಲಿ ಬರಿಸಿರಿ <b>1.434,325,146,228</b> <b>2.445,336,125,237</b> <b>3.233,449,341,231</b> <b>4.246,169,322,161</b> <b>5.115,132,146,119</b> <b>6.233,244,222,242</b> <b>7.435,400,450,427</b> <b>8.447,215,434,254</b> <b>9.100,200,326,150</b> <b>10.386,485,355,500</b>	<b>*ಪರಿಸರ*</b> ಅಭ್ಯಾಸ ಪುಸ್ತಕ ಮೆಟ್ಟಿಲು <b>23ರ</b> ಪ್ರಶ್ನೆಗಳಿಗೆ ನಿಮ್ಮ ಮನೆಯ ಹಿರಿಯರಿಂದ ಉತ್ತರ ಕೇಳಿ ತಿಳಿದುಕೊಳ್ಳಿ

<p>ಜೂನ್ - 2ನೇ ವಾರ</p> <p><b>07/06/2021</b> ರಿಂದ</p> <p><b>09/06/2021</b></p> <p><a href="https://youtu.be/o80Vb2d-ZxM">https://youtu.be/o80Vb2d-ZxM</a></p>	<p><b>*ಕನ್ನಡ*</b></p> <p>ಅಭ್ಯಾಸ ಪುಸ್ತಕದ 39,40,41ನೇ ಮೆಟ್ಟಿಲು ಬರೆಯಿರಿ</p>	<p><b>*ಇಂಗ್ಲಿಷ್*</b></p> <p>(ಕನ್ನಡದಲ್ಲಿ ಇರುವುದನ್ನು ಬರೆಯಬೇಡಿ ಸೌಂಡ್ ( ಹೇಳುತ್ತಾ ಬರೆ</p> <p><b>r sound</b> ರ್ ಎಂದು ಹೇಳುತ್ತಾ ಬರೆಯಿರಿ</p> <p><b>r r r r r</b></p> <p><b>rat</b>(ರ್ಯಾಟ್)</p> <p><b>rose</b>(ರೋಸ್)</p> <p><b>rabbit</b>(ರ್ಯಾಬಿಟ್)</p>	<p><b>*ಗಣಿತ*</b></p> <p>ಗರಿಷ್ಠ ಸಂಖ್ಯೆಗೆ ವೃತ್ತ ಹಾಕಿ</p> <p><b>1.434,325,146,228</b></p> <p><b>2.445,336,125,237</b></p> <p><b>3.233,449,341,231</b></p> <p><b>4.246,169,322,161</b></p> <p><b>5.115,132,146,119</b></p> <p><b>6.233,244,222,242</b></p> <p><b>7.435,400,450,427</b></p> <p><b>8.447,215,434,254</b></p> <p><b>9.100,200,326,150</b></p> <p><b>10.386,485,355,500</b></p>	<p><b>*ಪರಿಸರ*</b></p> <p>ಅಭ್ಯಾಸ ಪುಸ್ತಕ ಮೆಟ್ಟಿಲು 24ರ ಚಿತ್ರ ನೋಡಿ ಆ ಮನೆ ಕಟ್ಟಿಲು ಯಾವ ವಸ್ತು ಬಳಸಿದ್ದಾರೆ ಬರೆಯಿರಿ</p>
<p>ಜೂನ್ - 2ನೇ ವಾರ</p> <p><b>10/06/2021</b> ರಿಂದ</p> <p><b>12/06/2021</b></p> <p><a href="https://youtu.be/f2yZXhAHMk0">https://youtu.be/f2yZXhAHMk0</a></p>	<p><b>*ಕನ್ನಡ*</b></p> <p>ಅಭ್ಯಾಸ ಪುಸ್ತಕದ 42ನೇ ಮೆಟ್ಟಿಲು ಓದಿ ಉತ್ತರಿಸಿ ಮತ್ತು ಸೂಚನೆಗಳನ್ನು ಎಲ್ಲಿಲ್ಲಿ</p>	<p><b>*ಇಂಗ್ಲಿಷ್*</b></p> <p>(ಕನ್ನಡದಲ್ಲಿ ಇರುವುದನ್ನು ಬರೆಯಬೇಡಿ ಸೌಂಡ್ ( ಹೇಳುತ್ತಾ ಬರೆ</p>	<p><b>*ಗಣಿತ*</b></p> <p>ಕನಿಷ್ಠ ಸಂಖ್ಯೆಗೆ ವೃತ್ತ ಹಾಕಿ</p> <p><b>1.434,325,146,228</b></p>	<p><b>*ಪರಿಸರ*</b></p> <p>ಅಭ್ಯಾಸ ಪುಸ್ತಕ ಮೆಟ್ಟಿಲು 25ರ ಚಿತ್ರ ನೋಡಿ ಆ ಮನೆಗಳ ಬಗ್ಗೆ ಓದಿ</p>



	ಬರೆದಿರುತ್ತಾರೆ ಬರೆಯಿರಿ	<b>m sound</b> ಮ್ ಎಂದು ಹೇಳುತ್ತಾ ಬರೆಸಿರಿ <b>mat</b> (ಮ್ಯಾಟ್( <b>moon</b> (ಮೂನ್( <b>mango</b> (ಮ್ಯಾಂಗೋ(	<b>2.445,336,125,237</b> <b>3.233,449,341,231</b> <b>4.246,169,322,161</b> <b>5.115,132,146,119</b> <b>6.233,244,222,242</b> <b>7.435,400,450,427</b> <b>8.447,215,434,254</b> <b>9.100,200,326,150</b> <b>10.386,485,355,500</b>	ತಿಳಿದುಕೊಳ್ಳಿ
ಜೂನ್ - 3ನೇ ವಾರ <b>13/06/2021</b> ರಿಂದ <b>15/06/2021</b> <a href="https://youtu.be/NgY2B6hIWCY">https://youtu.be/NgY2B6hIWCY</a>	*ಕನ್ನಡ* ಅಭ್ಯಾಸ ಪುಸ್ತಕದ 42ನೇ ಮೆಟ್ಟಿಲು ಈ ಸೂಚನೆಗಳನ್ನು ಎಲ್ಲರಿಗೂ ಬರೆದಿರುತ್ತಾರೆ	*ಇಂಗ್ಲಿಷ್* (ಕನ್ನಡದಲ್ಲಿ ಇರುವುದನ್ನು ಬರೆಯಬೇಡಿ ಸೌಂಡ್ ( ಹೇಳುತ್ತಾ ಬರೆ <b>u d g r m</b> ಸೌಂಡ್ ಹೇಳುತ್ತಾ ಬರೆಸಿ	*ಗಣಿತ* ಮುಂದಿನ ಸಂಖ್ಯೆ ಬರೆ <b>1.434---</b> <b>2.445---</b> <b>3.233---</b> <b>4.246--</b> <b>5.115---</b>	*ಪರಿಸರ* ಅಭ್ಯಾಸ ಪುಸ್ತಕ ಮೆಟ್ಟಿಲು <b>26ರ</b> ಪ್ರಶ್ನೆಗಳಿಗೆ ಉತ್ತರಿಸಿ

			6.233--- 7.435---- 8.447---- 9.100--- 10.386---	
<p>ಜೂನ್ - 3ನೇ ವಾರ</p> <p>16/06/2021 ರಿಂದ</p> <p>17/06/2021</p> <p><a href="https://youtu.be/Ffkkz3Av30A">https://youtu.be/Ffkkz3Av30A</a></p>	<p>*ಕನ್ನಡ*</p> <p>ಮುದ್ದು ಕಂದ ಪದ್ಯವನ್ನು 3 ಸಲ ಬರೆದು ಓದಿಕೊಳ್ಳಿರಿ ಅದರಲ್ಲಿ ಬಂದಿರುವ ಒತ್ತಕ್ಷರ ಪದಗಳನ್ನು ಪಟ್ಟಿ ಮಾಡಿರಿ</p>	<p>*ಇಂಗ್ಲಿಷ್*</p> <p>(ಕನ್ನಡದಲ್ಲಿ ಇರುವುದನ್ನು ಬರೆಯಬೇಡಿ)</p> <p>10 ಸಲ ಬರೆಯಿರಿ</p> <p>ag(ಯಾಗ್)</p> <p>bag(ಬ್ಯಾಗ್)</p> <p>rag(ರ್ಯಾಗ್)</p> <p>tag(ಟ್ಯಾಗ್)</p>	<p>*ಗಣಿತ*</p> <p>ಹಿ0ದಿನ ಸಂಖ್ಯೆ ಬರೆ</p> <p>1.__434</p> <p>2.__445</p> <p>3.__233</p> <p>4.__246</p> <p>5.__115</p> <p>6.__233</p> <p>7.__435</p> <p>8.__447</p> <p>9.__100</p> <p>10.__386</p>	<p>*ಪರಿಸರ*</p> <p>ಅಭ್ಯಾಸ ಪುಸ್ತಕ ಮೆಟ್ಟಿಲು 27ರ ಚಿತ್ರ ನೋಡಿ ಕೆಳಗಿನ ಪ್ರಶ್ನೆಗಳಿಗೆ ಉತ್ತರಿಸಿ</p>



<p>ಜೂನ್ - 4ನೇ ವಾರ 22/06/2021 ರಿಂದ 24/06/2021 <a href="https://youtu.be/34Lg6rOC0iU">https://youtu.be/34Lg6rOC0iU</a></p>	<p>ಮಾದರಿಯಂತೆ ಚೌಕದಲ್ಲಿರುವ ಪದಗಳನ್ನು ಬಳಸಿ ವಾಕ್ಯ ರಚಿಸಿ ಮಾದರಿ: ರಮೇಶ ಊಟ ಮಾಡಿದನು</p> <table border="1" data-bbox="555 284 981 469"> <tr> <td>ರಮೇಶ</td> <td>ಊಟ</td> <td>ಮಾಡಿದನು</td> </tr> <tr> <td>ಲತಾ</td> <td>ಆಟ</td> <td>ಮಾಡಿದಳು</td> </tr> <tr> <td>ಸಂಗೀತಾ</td> <td></td> <td>ಆಡಿದಳು</td> </tr> <tr> <td>ರವಿ</td> <td></td> <td>ಆಡಿದನು</td> </tr> </table>	ರಮೇಶ	ಊಟ	ಮಾಡಿದನು	ಲತಾ	ಆಟ	ಮಾಡಿದಳು	ಸಂಗೀತಾ		ಆಡಿದಳು	ರವಿ		ಆಡಿದನು	<p>ಒಂದು ಪುಟ ಇಂಗ್ಲೀಷ್ ಪಾಠ ಬರೆಯಿರಿ</p>	<p>ವಿಸ್ತರಿಸಿ ಬರೆಯಿರಿ 1.785 2.987 3.543 4.865 5.945</p>	<p>ಇವುಗಳಿಗೆ ಎರಡು ಉದಾಹರಣೆ ನೀಡು ೧.ಮಾಂಸಹಾರಿ ೨.ಸಾಕುಪ್ರಾಣಿ ೩.ಮರಗಳು ೪.ಪೊದರು</p>
ರಮೇಶ	ಊಟ	ಮಾಡಿದನು														
ಲತಾ	ಆಟ	ಮಾಡಿದಳು														
ಸಂಗೀತಾ		ಆಡಿದಳು														
ರವಿ		ಆಡಿದನು														
<p>ಜೂನ್ - 4ನೇ ವಾರ 25/06/2021 ರಿಂದ 28/06/2021</p>	<p>ಈ ಕೆಳಗಿನ ಪದಗಳನ್ನು ಬಳಸಿ ಸ್ವಂತ ವಾಕ್ಯ ರಚಿಸಿ ೧.ಬೆದರು ೨.ಸಪ್ಪಳ ೩.ದಿಬ್ಬಣ ೪.ಬೆಳ್ಳಕ್ಕೆ</p>	<p>Write opposite words Unity,single,smooth, Special,noisy,polite Pretty,push,high In,soft,hot</p>	<p>ವ್ಯವಕಲನ 1.945-632 2.89-544 3.872-681 4.694-378 5.564-345</p>	<p>ಹೊಂದಿಸಿ ಬರೆಯಿರಿ</p> <table border="1" data-bbox="1787 517 2107 802"> <tr> <td>ಎಲೆಗಳು</td> <td>ಆಹಾರದ ಬೆಳೆ</td> </tr> <tr> <td>ನಾಯಿ</td> <td>ಬಿಲ</td> </tr> <tr> <td>ಕಾಗೆ</td> <td>ಗೊಬ್ಬರ</td> </tr> <tr> <td>ಇಲಿ</td> <td>ಸಾಕುಪ್ರಾಣಿ</td> </tr> <tr> <td>ರಾಗಿ</td> <td>ಗೂಡು</td> </tr> </table>	ಎಲೆಗಳು	ಆಹಾರದ ಬೆಳೆ	ನಾಯಿ	ಬಿಲ	ಕಾಗೆ	ಗೊಬ್ಬರ	ಇಲಿ	ಸಾಕುಪ್ರಾಣಿ	ರಾಗಿ	ಗೂಡು		
ಎಲೆಗಳು	ಆಹಾರದ ಬೆಳೆ															
ನಾಯಿ	ಬಿಲ															
ಕಾಗೆ	ಗೊಬ್ಬರ															
ಇಲಿ	ಸಾಕುಪ್ರಾಣಿ															
ರಾಗಿ	ಗೂಡು															

ಕ್ಷೇತ್ರಶಿಕ್ಷಣಾಧಿಕಾರಿಗಳ ಕಚೇರಿ ಸಾರ್ವಜನಿಕ ಶಿಕ್ಷಣ ಇಲಾಖೆ ಹಿರಿಯೂರು ತಾಲ್ಲೂಕು

04 ನೇ ತರಗತಿ ವಿದ್ಯಾರ್ಥಿಗಳ ಪೂರಕ ಚಟುವಟಿಕೆಗಳು

ವಿಷಯ : ಕನ್ನಡ

1. ಕನ್ನಡ ವರ್ಣಮಾಲೆಯ ಅಕ್ಷರಗಳನ್ನು ಬರೆಯಿರಿ

ದಿನಾಂಕ : 16/05/2021

ಚಟುವಟಿಕೆಗಳನ್ನು ಮಾಡಲು ಸಹಾಯಕ್ಕಾಗಿ ಈ ಲಿಂಕ್‌ಗಳ ಮೇಲೆ ಒತ್ತಿರಿ ==>>>

<https://youtu.be/wH6pSnCHi7g>

ಹ್ರಸ್ವ ಸ್ವರ

ದೀರ್ಘ ಸ್ವರ :

ಯೋಗವಾಹಕಗಳು :

ವರ್ಗೀಯವ್ಯಂಜನಗಳು :

ಅವರ್ಗೀಯ ವ್ಯಂಜನಗಳು :

ಈ ಕೆಳಗಿನ ಅಕ್ಷರಗಳ ಸಹಾಯದಿಂದ ಪದಗಳನ್ನು ರಚಿಸಿ ದಿನಾಂಕ : 17/05/2021

ಬ	ರ	ಋ	ೠ	ಌ	ೡ	ಋ	ೠ	ಌ	ೡ	ಋ	ೠ
---	---	---	---	---	---	---	---	---	---	---	---


ಈ ಕೆಳಗಿನ ಪದಗಳನ್ನು ಓದಿ ಮಾಡಿರಿ

ದಿನಾಂಕ : 18/05/2021

ಜಠರ	ಘಳಘಳ	ಬಸವ	ಘಮಘಮ	ಔಷಧ	ಭಯ	ಕಥನ

ಈ ಕೆಳಗಿನ ಅಕ್ಷರಗಳ ಒತ್ತಕ್ಷರಗಳನ್ನು ಬರೆಯಿರಿ

ದಿನಾಂಕ : 19/05/2021

<https://youtu.be/Z70qFOWb5X0>

೧	೨	೩	೪	೫	೬	೭

ಎಲ್ಲಾ ಅಕ್ಷರಗಳ ಒತ್ತಕ್ಷರಗಳನ್ನು ಬರೆ


ಈ ಕೆಳಗಿನ ಒತ್ತಕ್ಷರಗಳನ್ನು ಬಳಸಿ ಪದಗಳನ್ನು ರಚಿಸಿ

ದಿನಾಂಕ : 20/05/2021

ಬ	ಣ್ಣ	
ಬ		
ಬ		
ಬ		
ಗ		
ಗ		
ಹ		
ಹ		

ಮಾದರಿಯಂತೆ ಪದಗಳನ್ನು ಕೂಡಿಸಿ ಅರ್ಥಪೂರ್ಣ ಪದ ರಚಿಸಿರಿ

ದಿನಾಂಕ : 21/05/2021

ಮಾದರಿ ಬೆಳಗು + ಆಯಿತು = ಬೆಳಗಾಯಿತು


ಮನೆ+ ಇಂದ	
ಮಳೆಗಾಲ+ಅಲ್ಲಿ	
ಪುಸ್ತಕ+ಅನ್ನು	
ದಾರಿ+ಅಲ್ಲಿ	
ಪ್ರಾಣಿ+ಅನ್ನು	
ದೇವ+ಆಲಯ	

ಈ ಪಟ್ಟಿಯಲ್ಲಿ ಪ್ರಾಸಪದಗಳನ್ನು ಹೊಂದಿಸಿ

ದಿನಾಂಕ : 22/05/2021



ಬಂದಳೋ ಗರಿಯರು ಕೊಡಗಿದು ತಾಳಲಿ ದೇಶವು ಮುಕ್ತಿ ನಾಡಲಾ ಗಮನ ಸಲ್ಲಲಿ ಹಣ್ಣು ಹಣತೆ ಹರಡಿತು ಭದ್ರ
ಬೀಡಲಾ ಬೆಳಗಿತು ಬೆಡಗಿದು ಹಿರಯರು ನಿಂದಳೋ ಕೋಶವು ಬಾಳಲಿ ಭಕ್ತಿ ನಮನ ಗೆಲ್ಲಲಿ ಜನತೆ ಛಿದ್ರ ಕಣ್ಣು



ಕೊಟ್ಟಿರುವ ಪದಗಳನ್ನು ಬಳಸಿ ಪದಬಂಧ ಬಂದ ಪೂರ್ಣ ಮಾಡಿ ಮಾಡಿ

ದಿನಾಂಕ : 23/05/2021

ಋ		ಋ	ಋ		
		ಋ	ಠ		
				ಋ	
				ಠ	
				ಠ	

ಸುಲಿಪು : ದ್ರಾ ಜಿಫ ಮ್ ದ್ರ ತ್ರಿ ಪ್ಷ ಳ್ಠ

ದಿನಾಂಕ : 24/05/2021

ಅರ್ಥಪೂರ್ಣ ವಾಕ್ಯಗಳನ್ನು ರಚಿಸಿ

1ನವಿಲು ಕೊಂಕಿಸಿ ಕೊರಳು ಸೊಗಸು ಕುಣಿಯುವುದೇ ನೋಡಲು

--

2ಸಿಗರೇಟು ಹೊಗೆ ತೊಂದರೆಗೆ ಉಸಿರಾಟದ ಕಾರಣ

--

3ಬಡಿದಾಟ ಹಿತವೇ ಹುಡುಗರಿಗೆ ಹೊಡೆದಾಟ

--

4ಶಿವನ ಗುಡಿಗೆ ಹೋಗಿ ಶಿರಬಾಗಿ ಹರಿಣಿ ಬಂದಳು ವಂದಿಸಿ

--

ಕ ಇಂದ ಆ ವರಗೆ ಕಾಗುಣಿತ ಬರೆಯಿರಿ ( ಬಾಳಿ)

ದಿನಾಂಕ : 25/05/2021 ರಿಂದ ದಿನಾಂಕ : 01/05/2021
















ನಿನ್ನ ಸ್ನೇಹಿತರ ಬಗ್ಗೆ ಬರೆ

ಕ್ಷೇತ್ರಶಿಕ್ಷಣಾಧಿಕಾರಿಗಳ ಕಚೇರಿ ಸಾರ್ವಜನಿಕ ಶಿಕ್ಷಣ ಇಲಾಖೆ ಹಿರಿಯೂರು ತಾಲ್ಲೂಕು

## 04 ಮತ್ತು 05 ನೇ ತರಗತಿ ವಿದ್ಯಾರ್ಥಿಗಳ ಗೃಹಪಾಠ

ವಿಷಯ : ಗಣಿತ

ದಿನಾಂಕ : 16/05/2021

<https://youtu.be/k8LuAaAQAc4>

ಈ ಮಾದರಿಯಲ್ಲಿ 3,4 ಮತ್ತು 5ನೇ ಮಗ್ಗಿಯನ್ನು ರಚಿಸಿ ಈ ಕೆಳಗಿನ ಮಗ್ಗಿಗಳನ್ನು ಪೂರ್ಣಗೊಳಿಸು.

3	×	1	=	3
3	×	2	=	6
	×		=	9
3	×	4	=	
	×	5	=	15
3	×		=	
3	×	7	=	
3	×	8	=	
	×		=	27
3	×	10	=	30

4	×	1	=	4
4	×		=	8
4	×	3	=	
	×		=	16
4	×		=	20
4	×	6	=	24
4	×	7	=	
4	×		=	
4	×		=	
	×		=	

5	×	1	=	5
5	×	2	=	
5	×		=	15
	×		=	20
5	×		=	25
	×	6	=	30
5	×	7	=	35
5	×	8	=	
5	×		=	45
5	×	10	=	

ದಿನಾಂಕ : 17/05/2021

3. ಮಾದರಿಯಂತೆ ಚೌಕದಲ್ಲಿ ನೀಡಿರುವ ಸಂಖ್ಯೆಗಳನ್ನು ಅಕ್ಷರದಲ್ಲಿ ಬರೆ.

2	9	3	1		
		4	5	6	7
9					
8		6	1	9	8
0					
9		3	2	5	7

1) 2931 = ಎರಡು ಸಾವಿರದ ಒಂಬತ್ತನೂರು ಮೂವತ್ತೊಂದು

2) ..... = .....

3) ..... = .....

4) ..... = .....

5) ..... = .....

ದಿನಾಂಕ : 18/05/2021

ಮಾದರಿಯಂತೆ ವಿಸ್ತರಿಸಿ ಬರೆ :-

ಮಾದರಿ :	2525	=	2000	+	500	+	20	+	5
1.	528	=		+		+		+	
2	2050	=		+		+		+	
3.	4206	=		+		+		+	
4.	5928	=		+		+		+	
5.	7890	=		+		+		+	

ದಿನಾಂಕ : 19/05/2021 ರಿಂದ ದಿನಾಂಕ : 22/05/2021

ಕೆಳಗಿನ ಸಂಖ್ಯೆಗಳನ್ನು ಏರಿಕೆ ಮತ್ತು ಇಳಿಕೆ ಕ್ರಮದಲ್ಲಿ ಮಾದರಿಯಂತೆ ಬರೆ.  
ಮಾದರಿ :

a. 1529, 1523, 1521, 1522, 1526, 1528

ಏರಿಕೆ - 1521, 1522, 1523, 1526, 1528, 1529

ಇಳಿಕೆ - 1529, 1528, 1526, 1523, 1522, 1521

b. 2378, 2318, 2328, 2398, 2348

ಏರಿಕೆ - ....., ....., ....., .....

ಇಳಿಕೆ - ....., ....., ....., .....

c. 5635 , 5135 , 5835 , 5735, 5235, 5035

ಏರಿಕೆ - ....., ....., ....., .....

ಇಳಿಕೆ - ....., ....., ....., .....

d. 7248, 1248, 9248, 6248, 5248

ಏರಿಕೆ - ....., ....., ....., .....

ಇಳಿಕೆ - ....., ....., ....., .....

e. 2547, 2745, 2457, 2754, 2574

ಏರಿಕೆ - ....., ....., ....., .....

ಇಳಿಕೆ - ....., ....., ....., .....

ದಿನಾಂಕ : 23/05/2021

ಬಿಟ್ಟ ಸ್ಥಳ ತುಂಬಿ.

a. ಮೂರು ಅಂಕಿಯ ಅತ್ಯಂತ ಚಿಕ್ಕ ಸಂಖ್ಯೆ .....

b. ನಾಲ್ಕು ಅಂಕಿಯ ಅತ್ಯಂತ ಚಿಕ್ಕ ಸಂಖ್ಯೆ .....

c. ನಾಲ್ಕು ಅಂಕಿಯ ಅತ್ಯಂತ ದೊಡ್ಡ ಸಂಖ್ಯೆ .....

ದಿನಾಂಕ : 24/05/2021 ರಿಂದ 25 /05/2021 <https://youtu.be/WgROU1wXSjM>

1. ಸಂಕಲನ ಮಾಡು :

ಮಾದರಿ: a)  $5 + 7 = 12$

b)  $129 + 19 = \dots\dots\dots$

c)  $41 + 12 = \dots\dots\dots$

d)  $92 + 15 = \dots\dots\dots$

1.	$\begin{array}{r} 3826 \\ + 4753 \\ \hline \end{array}$	2.	$\begin{array}{r} 3917 \\ + 5314 \\ \hline \end{array}$	3.	$\begin{array}{r} 4900 \\ + 3756 \\ \hline \end{array}$
----	---	----	---	----	---

4.	$\begin{array}{r} 5524 \\ + 3475 \\ \hline \end{array}$	5.	$\begin{array}{r} 7928 \\ + 1357 \\ \hline \end{array}$	6.	$\begin{array}{r} 4853 \\ + 3929 \\ \hline \end{array}$
----	---	----	---	----	---

ದಿನಾಂಕ : 26/05/2021

a) ಒಬ್ಬ ತೆಂಗಿನ ಕಾಯಿ ವ್ಯಾಪಾರಿಯ ಹತ್ತಿರ 2250 ತೆಂಗಿನ ಕಾಯಿಗಳಿವೆ. ಅವನು 4880 ತೆಂಗಿನ ಕಾಯಿಗಳನ್ನು ಮತ್ತೆ ಕೊಂಡು ತಂದನು. ಅವನ ಹತ್ತಿರ ಇರುವ ಒಟ್ಟು ತೆಂಗಿನ ಕಾಯಿಗಳ ಸಂಖ್ಯೆ ಎಷ್ಟು?

ದಿನಾಂಕ : 28/05/2021 ರಿಂದ ದಿನಾಂಕ : 30/05/2021

b) ಒಂದು ಊರಿನಲ್ಲಿ 4128 ಗಂಡಸರು ಮತ್ತು 3789 ಹೆಂಗಸರು ಹಾಗೂ 1232 ಮಕ್ಕಳಿದ್ದಾರೆ. ಆ ಊರಿನ ಒಟ್ಟು ಜನಸಂಖ್ಯೆ ಎಷ್ಟು?

c) ಭಾನುಪ್ರಿಯಾ ಸೋಮವಾರ ₹ 2350 ಅನ್ನು ಬ್ಯಾಂಕ್‌ಗೆ ಜಮಾ ಮಾಡುತ್ತಾಳೆ. ಅವಳು ಮಂಗಳವಾರ ₹ 3890 ಅನ್ನು ಮತ್ತು ಬುಧವಾರ ₹ 3050 ಅನ್ನು ಜಮಾ ಮಾಡುತ್ತಾಳೆ. 3 ದಿನಗಳಲ್ಲಿ ಭಾನುಪ್ರಿಯಾ ಬ್ಯಾಂಕ್‌ಗೆ ಜಮಾ ಮಾಡಿದ ಒಟ್ಟು ಹಣ ಎಷ್ಟು?

4. ರವಿಯ ತಂದೆಯ ಹತ್ತಿರ ₹ 3800 ಇದೆ. ರವಿಯ ತಾತನು, ರವಿಯ ತಂದೆಗೆ ₹ 2890ನ್ನು ನೀಡಿದರೆ, ರವಿಯ ತಂದೆಯ ಹತ್ತಿರ ಇರುವ ಒಟ್ಟು ಹಣ ಎಷ್ಟು?

ದಿನಾಂಕ : 01/06/2021 ರಿಂದ ದಿನಾಂಕ : 04/06/2021 [https://youtu.be/VMhu\\_bh3WLc](https://youtu.be/VMhu_bh3WLc)

## 5. ವ್ಯವಕಲನ

1. ವ್ಯವಕಲನ ಮಾಡು

ಮಾದರಿ :

$$9 \text{ ರಲ್ಲಿ } 3 \text{ ನ್ನು ಕಳೆ } \quad 9 - 3 = 6$$

1) 8 ರಲ್ಲಿ 4 ನ್ನು ಕಳೆ

2) 15 ರಲ್ಲಿ 3 ನ್ನು ಕಳೆ

3) 25 ರಲ್ಲಿ 12 ನ್ನು ಕಳೆ

4) 25 ರಲ್ಲಿ 19 ನ್ನು ಕಳೆ

5) 45 ರಲ್ಲಿ 11 ನ್ನು ಕಳೆ

6) 64 ರಲ್ಲಿ 18 ನ್ನು ಕಳೆ

ದಿನಾಂಕ : 23/05/2021

a. ಯಾವ ಸಂಖ್ಯೆಗೆ 2454 ನ್ನು ಕೂಡಿದರೆ ಉತ್ತರ 6392 ಬರುತ್ತದೆ?

b. ಒಂದು ಸಂಖ್ಯೆಗೆ 3846 ನ್ನು ಕೂಡಿದರೆ 8508 ಬರುತ್ತದೆ. ಆ ಸಂಖ್ಯೆಯನ್ನು ಕಂಡುಹಿಡಿ.

ಹೇಳಿಕೆ ಸಮಸ್ಯೆಗಳನ್ನು ಮಾದರಿಯಲ್ಲಿ ತೋರಿಸುವಂತೆ ಬಿಡಿಸು.

ಮಾದರಿ:- a) ರೇಖಾಳ ತಾಯಿಯ ಬ್ಯಾಂಕ್ ಖಾತೆಯಲ್ಲಿ ಒಟ್ಟು ₹ 8561 ಇದೆ. ಅದರಲ್ಲಿ ₹ 7681 ನ್ನು ಹಿಂಪಡೆದರೆ, ರೇಖಾಳ ತಾಯಿಯ ಬ್ಯಾಂಕ್ ಖಾತೆಯಲ್ಲಿ ಉಳಿದ ಹಣವೆಷ್ಟು?

ರೇಖಾಳ ತಾಯಿಯ ಖಾತೆಯಲ್ಲಿ ಇದ್ದ ಒಟ್ಟು ಹಣ = ₹ 8561

ಖಾತೆಯಿಂದ ಹಿಂಪಡೆದ ಹಣ = ₹ 7681

ಅವರ ಖಾತೆಯಲ್ಲಿ ಉಳಿದ ಹಣ = ₹ 880

ದಿನಾಂಕ : 05/06/2021 ರಿಂದ ದಿನಾಂಕ : 07/06/2021

b) ಶಾಲಾ ಮಕ್ಕಳ ಪ್ರವಾಸಕ್ಕಾಗಿ ವಿದ್ಯಾರ್ಥಿಗಳಿಂದ ₹ 9775 ಸಂಗ್ರಹವಾಯಿತು. ಪ್ರವಾಸಕ್ಕೆ ಖರ್ಚಾಗಿ ಉಳಿದ ಹಣ ₹ 1916 ಆದರೆ, ಪ್ರವಾಸಕ್ಕೆ ಖರ್ಚಾದ ಹಣವೆಷ್ಟು?

c) ಶಾಲಾ ಗ್ರಂಥಾಲಯದ ಮೊದಲನೇ ಕಪಾಟಿನಲ್ಲಿ 2570 ಪುಸ್ತಕಗಳಿವೆ ಮತ್ತು ಎರಡನೇ ಕಪಾಟಿನಲ್ಲಿ 2450 ಪುಸ್ತಕಗಳಿವೆ. ಹಾಗಾದರೆ ಯಾವ ಕಪಾಟಿನಲ್ಲಿ ಹೆಚ್ಚು ಪುಸ್ತಕಗಳಿವೆ? ಎಷ್ಟು ಪುಸ್ತಕಗಳು ಹೆಚ್ಚು ಇದೆ ಕಂಡುಹಿಡಿ.

d) ಸುಹಾಸನು 4.5 kg ಈರುಳ್ಳಿ ತರಲು ಮಾರುಕಟ್ಟೆಗೆ ಬಂದನು. ತರಕಾರಿಯವಳು ತಕ್ಕಡಿಯ ಒಂದು ಬದಿಯಲ್ಲಿ 4.5 kg ತೂಕವಿಟ್ಟು ಇನ್ನೊಂದು ಬದಿಯಲ್ಲಿ 3 kg ಈರುಳ್ಳಿ ಹಾಕಿದಳು. ಹಾಗಾದರೆ ಇನ್ನು ಎಷ್ಟು kg ಈರುಳ್ಳಿ ಹಾಕಬೇಕು? (3 kg = 3000gm, 4.5kg = 4500gm)



ದಿನಾಂಕ : 08/06/2021 ರಿಂದ ದಿನಾಂಕ : 09/06/2021 <https://youtu.be/zjp7N4PuxLU>

ಮಾದರಿಯಂತೆ ಗುಣಿಸು:

ಉದಾ:  $34 \times 6$

$$34 = 30 + 4$$

$$\begin{aligned} \therefore 34 \times 6 &= (30 + 4) \times 6 \\ &= 30 \times 6 + 4 \times 6 \\ &= 180 + 24 \\ &= 204 \end{aligned}$$

a) $789 \times 5$	b) $486 \times 6$
c) $43 \times 37$	d) $24 \times 53$
e) $44 \times 54$	f) $69 \times 71$

ದಿನಾಂಕ : 10/06/2021

ಕೆಳಗಿನ ಗುಣಾಕಾರ ಕೋಷ್ಟಕ ಪೂರ್ಣಗೊಳಿಸು.

$\times$	0	1	2	3	4	5	6	7	8
1									
2			4						
3						15			
4									
5			10						
6				18					
7							42		
8									
9	0								

ದಿನಾಂಕ : 11/06/2021 ರಿಂದ ದಿನಾಂಕ : 12/06/2021



ಈ ಲೆಕ್ಕಗಳನ್ನು ಮಾಡು.

ಮಾದರಿ : ಒಂದು ಪೆನ್ಸಿಲ್ ಬಾಕ್ಸ್‌ನಲ್ಲಿ 6 ಪೆನ್ಸಿಲ್‌ಗಳಿವೆ. ಇಂತಹ 12 ಪೆನ್ಸಿಲ್ ಬಾಕ್ಸ್‌ನಲ್ಲಿರುವ ಒಟ್ಟು ಪೆನ್ಸಿಲ್‌ಗಳ ಸಂಖ್ಯೆ ಕಂಡುಹಿಡಿ.

ಒಂದು ಬಾಕ್ಸ್‌ನಲ್ಲಿರುವ ಪೆನ್ಸಿಲ್‌ಗಳು = 6

12 ಬಾಕ್ಸ್‌ಗಳಲ್ಲಿರುವ ಪೆನ್ಸಿಲ್‌ಗಳು =  $12 \times 6 = 72$

ಒಟ್ಟು ಪೆನ್ಸಿಲ್‌ಗಳು = 72

1) ಒಂದು ಚೀಲದಲ್ಲಿ 25 kg ಅಕ್ಕಿ ಇದೆ. ಇದರ ಬೆಲೆ ₹ 1250. ಇಂತಹ 7 ಚೀಲಗಳನ್ನು ಖರೀದಿಸಿದರೆ ನೀಡಬೇಕಾದ ಹಣ ಎಷ್ಟು?

2) ಒಂದು ಟ್ರಾಕ್ಟರ್‌ನಲ್ಲಿ 1650 ಇಟ್ಟಿಗೆಗಳನ್ನು ಸಾಗಿಸಬಹುದು. ಅಂತಹ 6 ಟ್ರಾಕ್ಟರ್‌ಗಳಲ್ಲಿ ಸಾಗಿಸಬಹುದಾದ ಇಟ್ಟಿಗೆಗಳ ಸಂಖ್ಯೆಯನ್ನು ಕಂಡುಹಿಡಿ.

3) ಲತಾ ಪ್ರತಿ ದಿನ ಹೂ ವ್ಯಾಪಾರ ಮಾಡಿ ₹ 675 ಲಾಭ ಗಳಿಸುತ್ತಾಳೆ. ಲತಾ 1 ವಾರದಲ್ಲಿ ಗಳಿಸುವ ಲಾಭ ಎಷ್ಟು?

ಭಾಗಾಕಾರ ಮಾಡಿ 'ಭಾಜ್ಯ' 'ಭಾಜಕ, ಭಾಗಲಬ್ಧ ಮತ್ತು ಶೇಷಗಳನ್ನು ಗುರುತಿಸು.

ಮಾದರಿ :  $324 \div 6$

$$\begin{array}{r} \text{ಭಾಜ್ಯ} \\ \uparrow \\ \text{ಭಾಜಕ} \leftarrow 6 \overline{) 324} (54 \rightarrow \text{ಭಾಗಲಬ್ಧ} \\ \underline{-30} \\ 24 \\ \underline{-24} \\ 00 \rightarrow \text{ಶೇಷ} \end{array}$$

a) $195 \div 4$	b) $5688 \div 5$

ದಿನಾಂಕ : 14/06/2021

ಭಾಗಾಕಾರ ಸಮಸ್ಯೆಗಳನ್ನು ಬಿಡಿಸು.

- a) ಪ್ರಭಾಕರ್‌ಗೆ 3 ಜನ ಮಕ್ಕಳು. ಪ್ರಭಾಕರ್ ₹ 963 ನ್ನು 3 ಜನ ಮಕ್ಕಳು ಸಮನಾಗಿ ಹಂಚಿಕೊಳ್ಳಲು ನೀಡಿದರೆ, ಪ್ರತಿಯೊಬ್ಬರಿಗೂ ದೊರೆಯುವ ಹಣ ಎಷ್ಟು?

b) ಒಂದು ಕಾರು 7 ಗಂಟೆಯಲ್ಲಿ 651 km ಕ್ರಮಿಸಿದರೆ, ಕಾರು ಒಂದು ಗಂಟೆಯಲ್ಲಿ ಚಲಿಸಿದ ದೂರವನ್ನು ಕಂಡುಹಿಡಿ.

ದಿನಾಂಕ : 15/06/2021

c) ಕೃಷ್ಣನ ಬಳಿ 200 ಗೋಲಿಗಳಿವೆ. ಇವುಗಳನ್ನು 4 ಚೀಲಗಳಲ್ಲಿ ಸಮನಾಗಿರುವಂತೆ ತುಂಬಿದನು. ಹಾಗಾದರೆ ಪ್ರತಿ ಚೀಲದಲ್ಲಿರುವ ಗೋಲಿಗಳ ಸಂಖ್ಯೆ ಎಷ್ಟು?

d) ಸುಮಾಳು 9 ಪೆನ್ನಿಲ್‌ಗಳನ್ನು ಕೊಳ್ಳಲು ₹ 99 ನ್ನು ಅಂಗಡಿಯವನಿಗೆ ನೀಡಿದರೆ, ಪ್ರತಿ ಪೆನ್ನಿಲ್‌ನ ಬೆಲೆ ಎಷ್ಟು?

ಕ್ಷೇತ್ರಶಿಕ್ಷಣಾಧಿಕಾರಿಗಳ ಕಚೇರಿ ಸಾರ್ವಜನಿಕ ಶಿಕ್ಷಣ ಇಲಾಖೆ ಹಿರಿಯೂರು ತಾಲ್ಲೂಕು

04 ಮತ್ತು 05 ನೇ ತರಗತಿ ವಿದ್ಯಾರ್ಥಿಗಳ ಗೃಹಪಾಠ

ವಿಷಯ : ಪರಿಸರ ಅಧ್ಯಯನ

ದಿನಾಂಕ : 16/05/2021

[https://youtu.be/vqA4TP\\_6jDA](https://youtu.be/vqA4TP_6jDA)

ಈ ಪ್ರಶ್ನೆಗಳಿಗೆ ಉತ್ತರಿಸು (2-3 ವಾಕ್ಯಗಳಲ್ಲಿ)

1. ನಿನಗೆ ತಿಳಿದಿರುವ ಪ್ರಾಣಿಗಳ ಹೆಸರು ತಿಳಿಸು

---

---

---

2. ನಿನಗೆ ಇಷ್ಟವಾದ ಪ್ರಾಣಿ ಯಾವುದು? ಏಕೆ?

---

---

---

3. ಕಾಡು ಪ್ರಾಣಿಗಳನ್ನು ಹೆಸರಿಸು

---

---

---

4. ಸಾಕು ಪ್ರಾಣಿಗಳನ್ನು ಹೆಸರಿಸು

---

---

---

5. ಸಾಕು ಪ್ರಾಣಿಗಳಿಂದ ಆಗುವ ಉಪಯೋಗಗಳೇನು?

---

---

ದಿನಾಂಕ : 17/05/2021

ಸರಿ(✓) ಅಥವಾ ತಪ್ಪು (×) ಎಂದು ಗುರುತಿಸಿ ಬರೆಯಿರಿ.

1. ಕಾಡಿನಲ್ಲಿ ಕಾಡು ಪ್ರಾಣಿಗಳು ಇರುವುದರಿಂದ ಕಾಡನ್ನು ರಕ್ಷಿಸಬಹುದು.
2. ಪ್ರಾಣಿಗಳಿಂದ ಮಾನವನಿಗೆ ಉಪಯೋಗವಿಲ್ಲ.
3. ನಾವು ಮಾಡುವ ಕೆಲಸಕ್ಕೆ ಪ್ರಾಣಿಗಳು ಸಹಾಯ ಮಾಡುತ್ತವೆ.
4. ಕಾಡನ್ನು ನಾಶ ಮಾಡಿದರೆ ಕಾಡು ಪ್ರಾಣಿಗಳು ಉಳಿಯುತ್ತವೆ.
5. ಪ್ರಾಣಿಗಳಿಂದ ಪರಿಸರ ಉಳಿಯುತ್ತದೆ.

ಒಗಟು-ಬಿಡಿಸು

1. ಹುಲಿಯ ಚಿಕ್ಕಮ್ಮ ಇಲಿಯ ಮುಕ್ಕಮ್ಮ. \_\_\_\_\_
2. ದೊಡ್ಡಹೊಟ್ಟೆ ದೊಡ್ಡಣ್ಣನಿಗೆ ಹಿಂದೂ ಬಾಲ ಮುಂದೂ ಬಾಲ. \_\_\_\_\_
3. ಹತ್ತಲಾರದ ಮರಕ್ಕೆ ಹತ್ತಿದವನು ಜಾಣ, ಹತ್ತಿ ಹಣ್ಣನ್ನು ಮೆದ್ದವನು ನಿಪುಣ. \_\_\_\_\_

[ಆನೆ, ಬೆಕ್ಕು, ಇಲಿ]

ದಿನಾಂಕ : 18/05/2021

ಈ ಕೆಳಗಿನ ಪ್ರಶ್ನೆಗಳಿಗೆ 2-3 ವಾಕ್ಯಗಳಲ್ಲಿ ಉತ್ತರಿಸಿ :

1. ಕಾಡಿದ್ದರೆ ಊರಿಗೆ ಆಗುವ ಉಪಯೋಗಗಳು ಬರೆಯಿರಿ.

---

---

2. ನಿನ್ನ ಮನೆಯ ಮುಂದೆ ಮರ ಇದ್ದರೆ ನಿನಗೆ ಆಗುವ ಪ್ರಯೋಜನವೇನು?

---

---

3. ಕಾಡಿನಲ್ಲಿ ಯಾವ ಯಾವ ಜೀವಿಗಳು ವಾಸ ಮಾಡುತ್ತವೆ?

---

---

4. ನೀನು ಶಾಲೆಯಲ್ಲಿ ಯಾವ ಯಾವ ಮರಗಳು ನೋಡಿರುವೆ?

---

---

5. ನಿಮ್ಮ ಊರಿನಲ್ಲಿರುವ ಮರಗಳ ಹೆಸರುಗಳನ್ನು ತಿಳಿಸು.

---

---

---

ದಿನಾಂಕ : 19/05/2021

ಕಾರಣ ಕೊಡಿ

1. ಕಾಡನ್ನು ಸಂರಕ್ಷಿಸಬೇಕು.

---

---

---

2. ಕಾಡು ಪ್ರಾಣಿಗಳನ್ನು ಸಂರಕ್ಷಿಸಬೇಕು

---

---

---

3. ಕಾಡು ಇಲ್ಲದ ಕಡೆ ಮಳೆ ಬೆಳೆ ಇಲ್ಲದ ಬರಡಾಗಿರುತ್ತದೆ.

---

---

---

ಸೂಕ್ತ ಪದಗಳನ್ನು ಆಯ್ದು ಬಿಟ್ಟು ಸ್ಥಳ ತುಂಬಿರಿ :

1. \_\_\_\_\_ ಇಲ್ಲದೆ ನಾಡಿಲ್ಲ \_\_\_\_\_ ಫಲವಿಲ್ಲ.
2. ಮೇವಿಲ್ಲದೆ \_\_\_\_\_ ಇವಿಲ್ಲದೆ \_\_\_\_\_
3. ಉಸಿರು, ನೀರು, ಆಹಾರ ಬಾಳಿನ ಶಕ್ತಿಗೆ \_\_\_\_\_ ಆಧಾರ.

[ಮರಗಳೇ, ಕಾಡು, ಮರವಿಲ್ಲದೆ, ಬದುಕಿಲ್ಲ, ಮೃಗಗಳಿಲ್ಲ]

ದಿನಾಂಕ : 20/05/2021

ಬಿಟ್ಟು ಸ್ಥಳ ತುಂಬಿ (ಸೂಕ್ತ ಪದ ಆರಿಸಿ ಬರೆಯಿರಿ)

1. ಪ್ರಾಣಿಗಳು ನಿಲ್ಲಲು \_\_\_\_\_ ಆಧಾರ. [ಬೇರು, ಕಾಲುಗಳು, ಕೈಗಳು, ಮೂಗು]
2. ಸಸ್ಯಗಳು ಗಟ್ಟಿಯಾಗಿ ನಿಲ್ಲಲು \_\_\_\_\_ ಆಧಾರ. [ಕಾಂಡ, ಹಣ್ಣು, ಎಲೆ, ಬೇರು]
3. ಸಸ್ಯಗಳು ಬೆಳೆಯಲು \_\_\_\_\_ ಬೇಕು. [ಹೂ, ಹಣ್ಣು, ಎಲೆ, ಬೇರು]
4. ಬೇರುಗಳಲ್ಲಿ \_\_\_\_\_ ವಿಧಗಳು. [ 4, 3, 2, 5]
5. ಬೇರುಗಳಲ್ಲಿ ತಾಯಿಬೇರು ಮತ್ತು \_\_\_\_\_ ಬೇರುಗಳೆಂಬ ವಿಧಗಳಿವೆ. [ಗಂಟುಬೇರು, ಸಣ್ಣಬೇರು, ದೊಡ್ಡಬೇರು, ತಂತುಬೇರು]

ದಿನಾಂಕ : 21/05/2021

ಈ ಕೆಳಗಿನ ಪ್ರಶ್ನೆಗಳಿಗೆ 2-3 ವಾಕ್ಯಗಳಲ್ಲಿ ಉತ್ತರಿಸಿರಿ :

1. ಸಸ್ಯದ ಭಾಗಗಳು ಯಾವುವು?

---

---

---

2. ಬೇರು ಸಸ್ಯದ ಯಾವ ಭಾಗದಲ್ಲಿ ಕಂಡುಬರುತ್ತದೆ?

---

---

---

3. ಬೇರು ಸಸ್ಯ ಬೆಳೆಯಲು ಹೇಗೆ ಸಹಾಯ ಮಾಡುತ್ತದೆ?

---

---

---

4. ಸಸ್ಯಕ್ಕೆ ಆಹಾರ ತಯಾರಿಸಲು ನೀರು ಒದಗಿಸುವ ಭಾಗ ಯಾವುದು?

---

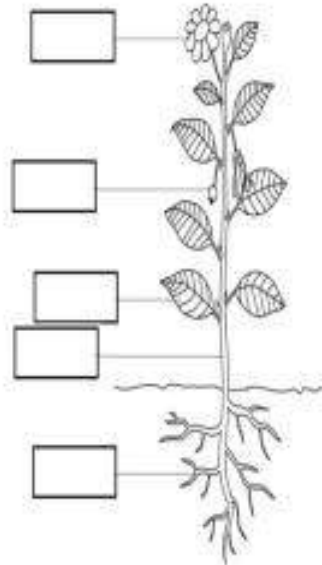
---

---

ದಿನಾಂಕ : 22/05/2021

<https://youtu.be/jyLJK13aFYo>

ಸಸ್ಯದ ಚಿತ್ರದಲ್ಲಿ ಭಾಗಗಳನ್ನು ಗುರುತಿಸಿ ಬಣ್ಣ ತುಂಬಿ. ಸಸ್ಯದ ಚಿತ್ರ



ದಿನಾಂಕ : 23/05/2021

ಬೇರಿನ ರೂಪಗಳಾದ ಚಿತ್ರಗಳಿಗೆ '✓' ಗುರುತು ಹಾಕಿ ಇಲ್ಲವಾದಲ್ಲಿ 'x' ಎಂದು ಗುರುತು ಹಾಕಿ



ದಿನಾಂಕ : 24/05/2021

ಸರಿ ಅಥವಾ ತಪ್ಪು ಎಂದು ಗುರುತಿಸಿ ಬರೆಯಿರಿ :

1. ಬೇರು ಮಣ್ಣಿನ ಒಳಗೆ ಬೆಳೆಯುತ್ತದೆ. [ ]
2. ಸೌತೆಕಾಯಿ ಒಂದು ಬೇರು. [ ]
3. ಬೇರು ಮಣ್ಣಿನಲ್ಲಿರುವ ಪೋಷಕಾಂಶಗಳನ್ನು ಹೀರಿಕೊಳ್ಳುತ್ತದೆ. [ ]
4. ಕೆಲವು ಬೇರುಗಳಿಂದ ಔಷಧಿ ತಯಾರಿಸುತ್ತಾರೆ. [ ]
5. ಕೆಲವು ಬೇರುಗಳನ್ನು ಆಹಾರವಾಗಿ ಬಳಸುತ್ತೇವೆ. [ ]
6. ಆಲದ ಮರದಲ್ಲಿ ಬೇರುಗಳು ಮಣ್ಣಿನ ಮೇಲ್ಭಾಗದಲ್ಲಿ ಕಾಣುತ್ತೇವೆ. [ ]



ದಿನಾಂಕ : 25/05/2021 ರಿಂದ ದಿನಾಂಕ : 26/05/2021 <https://youtu.be/HklgcUqMPHg>

ಈ ಕೆಳಗಿನ ಪ್ರಶ್ನೆಗಳಿಗೆ 2-3 ವಾಕ್ಯಗಳಲ್ಲಿ ಉತ್ತರಿಸಿ :

1. ನಿನಗೆ ತಿಳಿದಿರುವ ನೀರಿನ ಆಕರಗಳನ್ನು ತಿಳಿಸು.

---

---

---

2. ದಿನನಿತ್ಯ ನೀರನ್ನು ಯಾವ ಯಾವ ಕೆಲಸಗಳಿಗೆ ಉಪಯೋಗಿಸುವೆ?

---

---

---

3. ಜಲಚಕ್ರ ಎಂದರೇನು?

---

---

---

4. ಮಳೆ ನೀರನ್ನು ಸಂರಕ್ಷಿಸುವ ವಿಧಾನಗಳನ್ನು ತಿಳಿಸು.

---

---

---

ದಿನಾಂಕ : 27/05/2021 ರಿಂದ ದಿನಾಂಕ : 29/05/2021

ಕಾರಣ ಕೊಡಿ:

1. ಮಳೆ ಕೊಯ್ಲುನ್ನು ಪ್ರತಿಯೊಂದು ಗ್ರಾಮದಲ್ಲಿ ಮಾಡಬೇಕು.

---

---

---

2. ಹನಿ ನೀರಾವರಿ ಪದ್ಧತಿಯನ್ನು ಅಳವಡಿಸಬೇಕು.

---

---

---

3. ನೀರನ್ನು ಪೋಲು ಮಾಡಬಾರದು.

---

---

---

4. ಭೂಮಿಯ ಮೂರು ಭಾಗದಷ್ಟು ನೀರು ಇದ್ದರು ಬಳಸಲು ಆಗುವುದಿಲ್ಲ.

---

---

---

5. ಮಳೆ ನೀರನ್ನು ಸಂರಕ್ಷಿಸಬೇಕು.

---

---

---

ದಿನಾಂಕ : 30/05/2021

ಹೊಂದಿಸಿ ಬರೆಯಿರಿ :

1. ಕ್ಲೋರಿನ್ - ಆರೋಗ್ಯಕರವಾದುದು. [ ]
2. ಪುನರ್ಜಲೀಕರಣ - ಅತಿಸಾರದಿಂದ ಉಂಟಾಗುತ್ತದೆ. [ ]
3. ನಿರ್ಜಲೀಕರಣ - ಓ.ಆರ್.ಎಸ್. ದ್ರಾವಣ ಕುಡಿಯುವುದರಿಂದ [ ]
4. ರೋಗಾಣುಗಳು - ನೀರನ್ನು ಶುದ್ಧೀಕರಣಗೊಳಿಸುವುದು. [ ]
5. ಕುದಿಸಿ ಆರಿಸಿದ ನೀರು - ಮಲಿನ ನೀರಿನಲ್ಲಿ ಇರುತ್ತದೆ. [ ]

ದಿನಾಂಕ : 01/05/2021 ರಿಂದ ದಿನಾಂಕ : 03/05/2021

ಈ ಕೆಳಗಿನ ಪ್ರಶ್ನೆಗಳಿಗೆ ಉತ್ತರಿಸಿರಿ : ( 2-3 ವಾಕ್ಯಗಳಲ್ಲಿ)

1. ಓ.ಆರ್.ಎಸ್. ದ್ರಾವಣ ಹೇಗೆ ತಯಾರಿಸುತ್ತಾರೆ?

---

---

---

---

2. ಜಲಮಾಲಿನ್ಯ ಎಂದರೇನು?

---

---

---

3. ಜಲಮಾಲಿನ್ಯಕ್ಕೆ ಕಾರಣಗಳು ಯಾವುವು?

---

---

---

---

ದಿನಾಂಕ : 04/06/2021 ರಿಂದ ದಿನಾಂಕ : 05/06/2021

ಬಿಟ್ಟಸ್ಥಳಗಳನ್ನು ಸೂಕ್ತ ಪದಗಳಿಂದ ತುಂಬಿರಿ :

1. ಗಳಗಂಡ ರೋಗವು \_\_\_\_\_ಲವಣದ ಕೊರತೆಯಿಂದ ಉಂಟಾಗುತ್ತದೆ.
2. ಆನೆ ಸೊಪ್ಪನ್ನು \_\_\_\_\_ನಿಂದ ಹಿಡಿದು ತಿನ್ನುತ್ತದೆ.
3. ಆಹಾರವನ್ನು ಬೇಯಿಸಿದಾಗ ಅದರಲ್ಲಿರುವ \_\_\_\_\_ನಾಶವಾಗುತ್ತದೆ.

ಗುಂಪಿಗೆ ಸೇರದ ಪದವನ್ನು ಆರಿಸಿ ಬರೆಯಿರಿ :

1. ವಿಟಮಿನ್-ಎ, ವಿಟಮಿನ್-ಬಿ, ವಿಟಮಿನ್-ಸಿ, ವಿಟಮಿನ್-ಇ. \_\_\_\_\_
2. ಹುಲಿ, ಜಿಂಕೆ, ಸಿಂಹ, ಚಿರತೆ \_\_\_\_\_
3. ಬೆಣ್ಣೆ, ತುಪ್ಪ, ಕೊಬ್ಬರಿ ಎಣ್ಣೆ, ಅವರೇಕಾಯಿ. \_\_\_\_\_

ದಿನಾಂಕ : 06/06/2021 ರಿಂದ ದಿನಾಂಕ : 08/06/2021

ಕಾರಣ ಕೊಡಿ :

1. ನಮ್ಮ ಮನೆಯಲ್ಲಿ ತಯಾರಿಸಿದ ಆಹಾರ ಪದಾರ್ಥಗಳನ್ನು ಸರಿಯಾಗಿ ಮುಚ್ಚಿಡಬೇಕು.

---

---

---

---

---

2. ನಾವು ಸಮತೋಲನ ಆಹಾರವನ್ನು ಸೇವಿಸಬೇಕು.

---

---

---

---

---

ಹೊಂದಿಸಿ ಬರೆಯಿರಿ :

1. ಗೋಧಿ, ರಾಗಿ, ಜೋಳ (1) ಸಾಮೂಹಿಕ ಬೋಜನ [ ]
2. ಸಕ್ಕರೆ (2) ಹೊಲಗಳಲ್ಲಿ ಬೆಳೆಯುವ ಆಹಾರ ಪದಾರ್ಥ [ ]
3. ಹೋಳಿಗೆ, ಚಿತ್ರಾಹ್ಲ, ಅನ್ನ, ಸಾರು, ಹಪ್ಪಳ (3) ಕಾರ್ಖಾನೆಗಳಲ್ಲಿ ತಯಾರಾಗುವ ಆಹಾರ ಪದಾರ್ಥ [ ]
4. ಬಿಸಿಯೂಟ (4) ಹಬ್ಬದ ಅಡುಗೆ [ ]

ಗುಂಪಿಗೆ ಸೇರದ ಪದ ಆರಿಸಿ ಬರೆಯಿರಿ :

1. ಹೋಳಿಗೆ, ಪಾಯಸ, ಗುಲಾಬ್ ಜಾಮೂನ್, ಚಿತ್ರಾಹ್ನ, \_\_\_\_\_
2. ರಾಗಿ, ಗೋಧಿ, ಜೋಳ, ಟಮೋಟೋ, \_\_\_\_\_
3. ಸೇಬು, ಮಾವು, ಬಾಳೆಹಣ್ಣು, ಬದನೆಕಾಯಿ \_\_\_\_\_

ವಿವಿಧ ಹಬ್ಬಗಳಲ್ಲಿ ಮಾಡುವ ವಿಶೇಷ ಅಡುಗೆಗಳನ್ನು ಬರೆ

ದೀಪಾವಳಿ -	
ರಂಜಾನ್ -	
ಕ್ರಿಸ್‌ಮಸ್ -	
ಸಂಕ್ರಾಂತಿ -	

ದಿನಾಂಕ : 12/06/2021

ಇಲ್ಲಿ ಕೆಲವು ಪ್ರಾಣಿ-ಪಕ್ಷಿಗಳ ಹೆಸರುಗಳನ್ನು ನೀಡಲಾಗಿದೆ. ಅವುಗಳ ವಾಸಿಸುವ ಸ್ಥಳಗಳನ್ನು ಬರೆಯಿರಿ.

ಪ್ರಾಣಿಗಳ ಹೆಸರು	ಅವುಗಳ ವಾಸಸ್ಥಳ
1. ಇರುವೆ	
2. ಕೋತಿ	
3. ಹಾವು	
4. ಹದ್ದು	

ದಿನಾಂಕ : 13/06/2021

ಚಿತ್ರಗಳನ್ನು ನೋಡಿ ಆಟದ ಹೆಸರನ್ನು ಬರೆ

1)



2)



3)



4)



5)



ದಿನಾಂಕ : 14/06/2021

ನಿಮ್ಮ ಊರಿನಲ್ಲಿರುವ ಒಬ್ಬ ಪ್ರಸಿದ್ಧ ಕ್ರೀಡಾಪಟುವಿನ ಸಂದರ್ಶನ ಮಾಡಿ ಅವರಾಡುವ ಆಟ/ ಹಾಗೂ ಆಟಕ್ಕೆ ಬೇಕಾಗುವ ಕೌಶಲಗಳನ್ನು ಪಟ್ಟಿ ಮಾಡು.

	ಅಟದ ಹೆಸರು	ಕೌಶಲ
1)		
2)		
3)		
4)		

ದಿನಾಂಕ : 15/06/2021

ಚಿತ್ರಗಳಿಗೆ ಸರಿ ಹೊಂದುವ ಪದ ಬರೆ.

1)



1)

2)



2)

3)



3)

4)



4)

5)



5)

**ಕ್ಷೇತ್ರಶಿಕ್ಷಣಾಧಿಕಾರಿಗಳ ಕಚೇರಿ ಸಾರ್ವಜನಿಕ ಶಿಕ್ಷಣ ಇಲಾಖೆ ಹಿರಿಯಾರು ತಾಲ್ಲೂಕು**  
**05ನೇ ತರಗತಿ ವಿದ್ಯಾರ್ಥಿಗಳ ಪೂರಕ ಚಟುವಟಿಕೆಗಳು**

ದಿನಾಂಕ /ವಾರ	ಕನ್ನಡ	ಇಂಗ್ಲೀಷ್	ಗಣಿತ	ಪರಿಸರ ಅಧ್ಯಯನ																				
ಮೇ - 3ನೇ ವಾರ 16/05/2021 ರಿಂದ 18/05/2021	ಮನೆಯಲ್ಲಿ ಮಗು ಹುತ್ತರಿ ಹಾಡು ಪದ್ಯವನ್ನು ಹಾಡಿದ್ದನ್ನು ರೆಕಾರ್ಡ್ ಮಾಡಿ ಕಳುಹಿಸಲು ಪೋಷಕರಿಗೆ ತಿಳಿಸುವುದು. <a href="https://youtu.be/22Xbm0iourQ">https://youtu.be/22Xbm0iourQ</a>	Name some animals and their uses in their daily life activities <a href="https://youtu.be/WgzRPMpC_SQ">https://youtu.be/WgzRPMpC_SQ</a>	ಸ್ಥಾನಬೆಲೆಗಳನ್ನು ಗುರುತಿಸಿ. 5,438 <table border="1" style="margin-left: auto; margin-right: auto;"> <tr> <td>ಸಾ</td> <td>ನೂ</td> <td>ಹ</td> <td>ಬಿ</td> </tr> <tr> <td></td> <td></td> <td></td> <td></td> </tr> </table> 3,809 <table border="1" style="margin-left: auto; margin-right: auto;"> <tr> <td>ಸಾ</td> <td>ನೂ</td> <td>ಹ</td> <td>ಬಿ</td> </tr> <tr> <td></td> <td></td> <td></td> <td></td> </tr> </table>	ಸಾ	ನೂ	ಹ	ಬಿ					ಸಾ	ನೂ	ಹ	ಬಿ					ಜೀವಿಗಳು ಮತ್ತು ನಿರ್ಜೀವಿಗಳನ್ನು ಪಟ್ಟಿ ಮಾಡಿರಿ				
ಸಾ	ನೂ	ಹ	ಬಿ																					
ಸಾ	ನೂ	ಹ	ಬಿ																					
ಮೇ - 3ನೇ ವಾರ 19/05/2021 ರಿಂದ 22/05/2021	ಕೊಡಗಿನ ಪ್ರಾಕೃತಿಕ ಸನ್ನದೇಶ ವಿವರಣೆಯನ್ನು ಹಿರಿಯರೊಂದಿಗೆ ಚರ್ಚಿಸಿ ಬರೆ	draw the figure of elephant and name the parts of the body <a href="https://youtu.be/YX1j79480KM">https://youtu.be/YX1j79480KM</a>	ಸೂಚನೆಯಂತೆ ಬರೆ <table border="1" style="margin-left: auto; margin-right: auto;"> <tr> <td>1</td> <td>ಅಂಕಿಯ ಅತಿ ಚಿಕ್ಕ ಸಂಖ್ಯೆ</td> </tr> <tr> <td>1</td> <td>ಅಂಕಿಯ ಅತಿ ದೊಡ್ಡ ಸಂಖ್ಯೆ</td> </tr> <tr> <td>2</td> <td>ಅಂಕಿಯ ಅತಿ ಚಿಕ್ಕ ಸಂಖ್ಯೆ</td> </tr> <tr> <td>2</td> <td>ಅಂಕಿಯ ಅತಿ ದೊಡ್ಡ ಸಂಖ್ಯೆ</td> </tr> <tr> <td>3</td> <td>ಅಂಕಿಯ ಅತಿ ಚಿಕ್ಕ ಸಂಖ್ಯೆ</td> </tr> <tr> <td>3</td> <td>ಅಂಕಿಯ ಅತಿ ದೊಡ್ಡ ಸಂಖ್ಯೆ</td> </tr> <tr> <td>4</td> <td>ಅಂಕಿಯ ಅತಿ ಚಿಕ್ಕ ಸಂಖ್ಯೆ</td> </tr> <tr> <td>4</td> <td>ಅಂಕಿಯ ಅತಿ ದೊಡ್ಡ ಸಂಖ್ಯೆ</td> </tr> <tr> <td>5</td> <td>ಅಂಕಿಯ ಅತಿ ಚಿಕ್ಕ ಸಂಖ್ಯೆ</td> </tr> <tr> <td>5</td> <td>ಅಂಕಿಯ ದೊಡ್ಡ ಸಂಖ್ಯೆ</td> </tr> </table>	1	ಅಂಕಿಯ ಅತಿ ಚಿಕ್ಕ ಸಂಖ್ಯೆ	1	ಅಂಕಿಯ ಅತಿ ದೊಡ್ಡ ಸಂಖ್ಯೆ	2	ಅಂಕಿಯ ಅತಿ ಚಿಕ್ಕ ಸಂಖ್ಯೆ	2	ಅಂಕಿಯ ಅತಿ ದೊಡ್ಡ ಸಂಖ್ಯೆ	3	ಅಂಕಿಯ ಅತಿ ಚಿಕ್ಕ ಸಂಖ್ಯೆ	3	ಅಂಕಿಯ ಅತಿ ದೊಡ್ಡ ಸಂಖ್ಯೆ	4	ಅಂಕಿಯ ಅತಿ ಚಿಕ್ಕ ಸಂಖ್ಯೆ	4	ಅಂಕಿಯ ಅತಿ ದೊಡ್ಡ ಸಂಖ್ಯೆ	5	ಅಂಕಿಯ ಅತಿ ಚಿಕ್ಕ ಸಂಖ್ಯೆ	5	ಅಂಕಿಯ ದೊಡ್ಡ ಸಂಖ್ಯೆ	ಪ್ರಾಣಿ ಮತ್ತು ಮನುಷ್ಯರ ನಡುವೆ ಇರುವ ಪ್ರಮುಖ ಹೋಲಿಕೆಗಳೇನು?
1	ಅಂಕಿಯ ಅತಿ ಚಿಕ್ಕ ಸಂಖ್ಯೆ																							
1	ಅಂಕಿಯ ಅತಿ ದೊಡ್ಡ ಸಂಖ್ಯೆ																							
2	ಅಂಕಿಯ ಅತಿ ಚಿಕ್ಕ ಸಂಖ್ಯೆ																							
2	ಅಂಕಿಯ ಅತಿ ದೊಡ್ಡ ಸಂಖ್ಯೆ																							
3	ಅಂಕಿಯ ಅತಿ ಚಿಕ್ಕ ಸಂಖ್ಯೆ																							
3	ಅಂಕಿಯ ಅತಿ ದೊಡ್ಡ ಸಂಖ್ಯೆ																							
4	ಅಂಕಿಯ ಅತಿ ಚಿಕ್ಕ ಸಂಖ್ಯೆ																							
4	ಅಂಕಿಯ ಅತಿ ದೊಡ್ಡ ಸಂಖ್ಯೆ																							
5	ಅಂಕಿಯ ಅತಿ ಚಿಕ್ಕ ಸಂಖ್ಯೆ																							
5	ಅಂಕಿಯ ದೊಡ್ಡ ಸಂಖ್ಯೆ																							

<p>ಮೇ - 4ನೇ ವಾರ 23/05/2021 ರಿಂದ 26/05/2021</p>	<p>ಬಗ್ಗಟ್ಟಿನಲ್ಲಿ ಬಲವಿದೆ ಬಗ್ಗುಬಂದುಕಥೆ ಬರೆ</p>	<p>Write experiences if they have visited any zoo or tourist place <a href="https://youtu.be/7LKplFyEuwg">https://youtu.be/7LKplFyEuwg</a></p>	<p>ಕೆಳಗಿನ ಸಂಖ್ಯೆಗಳ ಮೊತ್ತ ಕಂಡುಹಿಡಿ.</p> <table border="1" data-bbox="1102 219 1543 430"> <thead> <tr> <th></th> <th>ಸಾ</th> <th>ನೂ</th> <th>ಹ</th> <th>ಬಿ</th> </tr> </thead> <tbody> <tr> <td>ಸಂಕಲ್ಯ</td> <td>1</td> <td>2</td> <td>3</td> <td>4</td> </tr> <tr> <td>ಸಂಕಲಕ</td> <td>5</td> <td>6</td> <td>4</td> <td>2</td> </tr> <tr> <td>ಮೊತ್ತ</td> <td></td> <td></td> <td></td> <td></td> </tr> </tbody> </table>		ಸಾ	ನೂ	ಹ	ಬಿ	ಸಂಕಲ್ಯ	1	2	3	4	ಸಂಕಲಕ	5	6	4	2	ಮೊತ್ತ					<p>ಜೀವಿಗಳ ಪ್ರಮುಖ ಲಕ್ಷಣಗಳನ್ನು ತಿಳಿಸಿ.</p>
	ಸಾ	ನೂ	ಹ	ಬಿ																				
ಸಂಕಲ್ಯ	1	2	3	4																				
ಸಂಕಲಕ	5	6	4	2																				
ಮೊತ್ತ																								
<p>ಮೇ - 4ನೇ ವಾರ 27/05/2021 ರಿಂದ 29/05/2021</p>	<p>ಮಗು ತನ್ನ ಪೋಷಕರ ಮುಂದೆ ಈ ಪಾಠವನ್ನು ಗಟ್ಟಿಯಾಗಿ ಓದುವಂತೆ ತಿಳಿಸುವುದು. ಮಗು ಓದಿದ ಒಂದು ತುಣುಕನ್ನು ರೆಕಾರ್ಡ್ ಮಾಡಿ ವಾಟ್ಸಾಪ್ ಮೂಲಕ ಕಳುಹಿಸಲು ತಿಳಿಸುವುದು.</p>	<p>express views about their pet animals and their uses</p>	<p>ಖಾಲಿ ಬಿಟ್ಟ ಸ್ಥಳಗಳಲ್ಲಿ ಸೂಕ್ತ ಸಂಖ್ಯೆಯನ್ನು ಬರೆ.</p> <ol style="list-style-type: none"> <li>1. <math>8,415 = 8 \times 1000 + 4 \times \square + 1 \times \square + 5 \times 1</math></li> <li>2. <math>58,791 = 5 \times \square + 8 \times 1000 + 7 \times \square + 9 \times 10 + 1 \times \square</math></li> <li>3. <math>90,036 = 9 \times 10,000 + 0 \times \square + 0 \times 100 + \square \times 10 + 6 \times 1</math></li> <li>4. <math>81,808 = 8 \times 10,000 + \square \times 1000 + 8 \times \square + \square \times \square + 8 \times 1</math></li> </ol> <p><a href="https://youtu.be/TdxhIqAunjs">https://youtu.be/TdxhIqAunjs</a></p>	<p>ಸಸ್ಯಗಳ ಆಹಾರ ತಯಾರಿಕೆಯ ಕ್ರಮವನ್ನು ವಿವರಿಸಿ.</p>																				
<p>ಮೇ - 4ನೇ ವಾರ 30/05/2021 ರಿಂದ 31/05/2021</p>	<p>ವರ್ಣಮಾಲೆ ಯನ್ನು ಚೌಕಳಿ ಪುಸ್ತಕದಲ್ಲಿ ಅಂದವಾಗಿ ನಿಯಮದಂತೆ ಬರೆಯಲು ತಿಳಿಸುವುದು <a href="https://youtu.be/9A4XlyDk5EA">https://youtu.be/9A4XlyDk5EA</a></p>	<p>Write yours friends name</p>	<p>ಕೆಳಗಿನ ಸಮಸ್ಯೆಗಳನ್ನು ಬಿಡಿಸು :</p> <ol style="list-style-type: none"> <li>1. 27,232 ರಲ್ಲಿ ಎಷ್ಟನ್ನು ಕಳೆದರೆ 1,760 ಆಗುತ್ತದೆ? .....</li> <li>2. 46,502 ರಲ್ಲಿ ಎಷ್ಟನ್ನು ಕಳೆದರೆ 14,318 ಆಗುತ್ತದೆ. .....</li> <li>3. 53,668 ರಲ್ಲಿ ಎಷ್ಟನ್ನು ಕಳೆದರೆ 21,204 ಆಗುತ್ತದೆ. .....</li> </ol>	<p>ಕಾಡುಗಳಿಂದ ನಮಗೇನೇ ವಸ್ತುಗಳು ದೊರಕುತ್ತವೆ?</p>																				




<p>ಜೂನ್ - 1ನೇ ವಾರ 01/06/2021 ರಿಂದ 03/06/2021</p>	<p>ನೀರಿನ ಸಂರಕ್ಷಣೆ ಕುರಿತು ಒಂದು ಚಿಕ್ಕ ಪ್ರಬಂಧವನ್ನು ಬರೆಯಲು ಹೇಳುವುದು. (ಕನಿಷ್ಠ ಏಳುಎಂಟು ವಾಕ್ಯಗಳಲ್ಲಿ ಬರೆಯಲು ಸೂಚಿಸುವುದು) <a href="https://youtu.be/1-ca_zSziyY">https://youtu.be/1-ca_zSziyY</a></p>	<p>Write yourself in complete sentences</p>	<p>ಕೆಳಗಿನ ಸಂಖ್ಯೆಗಳ ಅಪವರ್ತನಗಳನ್ನು ಬರೆ.</p> <p>1. 40 : .....</p> <p>2. 65 : .....</p> <p>3. 81 : .....</p> <p>4. 84 : .....</p>	<p>ಕುಟುಂಬದ ವಂಶವೃಕ್ಷವನ್ನು ತನ್ನ ಸ್ನೇಹಿತರ ವಂಶವೃಕ್ಷದೊಂದಿಗೆ ಹೋಲಿಸಿ, ಸಾಮ್ಯತೆ ಮತ್ತು ವ್ಯತ್ಯಾಸಗಳನ್ನು ಪಟ್ಟಿ ಮಾಡುವ ಚಟುವಟಿಕೆ ನೀಡುವುದು.</p>
<p>ಜೂನ್ - 1ನೇ ವಾರ 04/06/2021 ರಿಂದ 06/06/2021</p>	<p>ದಿನ ನಿತ್ಯ ಮಾತನಾಡುವಾಗ ಬಳಸುವ ೧೦ ಸಜಾತಿ ಮತ್ತು ೧೦ ವಿಜಾತಿ - ಒತ್ತಕರ ಪದಗಳನ್ನು ಬರೆಯಿರಿ <a href="https://youtu.be/Z70qFOWb5X0">https://youtu.be/Z70qFOWb5X0</a></p>	<p>Write as many words as possible associated with each other. • 1. Hospital – doctor--- nurse--- injection-bed 1.teacher 2.police 3.home 4.coffee</p>	<p>ಅತ್ಯಂತ ಚಿಕ್ಕ ಭಿನ್ನರಾಶಿಗೆ ವೃತ್ತ ಹಾಕು</p> <p><math>\frac{3}{10}, \frac{7}{10}, \frac{1}{10}, \frac{4}{10}</math></p> <p><math>\frac{2}{9}, \frac{7}{9}, \frac{1}{9}, \frac{5}{9}</math></p> <p><math>\frac{2}{3}, \frac{2}{5}, \frac{2}{4}, \frac{2}{8}</math></p> <p><math>\frac{9}{2}, \frac{9}{4}, \frac{9}{6}, \frac{9}{15}</math></p>	<p>ಮಗು ತನ್ನ ಕುಟುಂಬದ ವಂಶವೃಕ್ಷವನ್ನು ಸಂಕೇತಗಳ ಮೂಲಕ ರಚಿಸಲು ತಿಳಿಸುವುದು.</p>
<p>ಜೂನ್ - 2ನೇ ವಾರ 07/06/2021 ರಿಂದ 09/06/2021</p>	<p>ಮನೆಯಲ್ಲಿ ಮಗು ಪದ್ಯವನ್ನು ಹಾಡಿ, ಅದನ್ನು ರೆಕಾರ್ಡ್ ಮಾಡಿ ಕಳುಹಿಸಲು ತಿಳಿಸುವುದು.</p>	<p>Add the missing vowels a,e,i,o,u complete the word. 1. V-ll-g 2. R-v-r 3. Sch-l 4. C-ty 5. C-ld 6. W-t-r</p>	<p><math>\frac{8}{17}, \frac{12}{17}, \frac{5}{17}, \frac{15}{17}</math></p> <p>ಅತ್ಯಂತ ದೊಡ್ಡ ಭಿನ್ನರಾಶಿ .....</p> <p>ಅತ್ಯಂತ ಚಿಕ್ಕ ಭಿನ್ನರಾಶಿ .....</p> <p>ಆರೋಹಣ .....</p> <p>ಅವರೋಹಣ .....</p>	<p>ಕುಟುಂಬದ ಲಕ್ಷಣಗಳನ್ನು ಪಟ್ಟಿ ಮಾಡಲು ತಿಳಿಸುವುದು. <a href="https://youtu.be/3k3imZDrePk">https://youtu.be/3k3imZDrePk</a></p>

<p>ಜೂನ್ - 2ನೇ ವಾರ 10/06/2021 ರಿಂದ 12/06/2021</p>	<p>ಮಕ್ಕಳ ಮನೆ ಮತ್ತು ಸುತ್ತಲಿನ ವ್ಯಕ್ತಿ, ಪ್ರಾಣಿ, ಪಕ್ಷಿ, ಕೀಟ ಹೆಸಗಳನ್ನು ಪಟ್ಟಿಮಾಡಿ ಅವುಗಳ ಲಿಂಗವನ್ನು ಬರೆದುಕೊಂಡು ಬರಲು ಸೂಚಿಸುವುದು.</p>	<p>Write a story</p>	<p>ಹೊಂದಿಸಿ ಬರೆಯಿರಿ <a href="https://youtu.be/OdfVL09ytkk">https://youtu.be/OdfVL09ytkk</a></p> <table border="0"> <thead> <tr> <th>A</th> <th>B</th> </tr> </thead> <tbody> <tr> <td>1. ಲಘು ಕೋನ</td> <td>90° ಅಳತೆಯ ಕೋನ</td> </tr> <tr> <td>2. ವಿಶಾಲಕೋನ</td> <td>180° ಅಳತೆಯ ಕೋನ</td> </tr> <tr> <td>3. ಲಂಬಕೋನ</td> <td>180° ಗಿಂತ ಹೆಚ್ಚು 360° ಗಿಂತ ಕಡಿಮೆ</td> </tr> <tr> <td>4. ಸರಳಕೋನ</td> <td>360° ಅಳತೆಯ ಕೋನ</td> </tr> <tr> <td>5. ಸಂಪೂರ್ಣ ಕೋನ</td> <td>90° ಗಿಂತ ಹೆಚ್ಚು 180° ಗಿಂತ ಕಡಿಮೆ</td> </tr> <tr> <td>6. ಸರಳಾಧಿಕ ಕೋನ</td> <td>90° ಗಿಂತ ಕಡಿಮೆ ಅಳತೆಯಿರುವ ಕೋನ.</td> </tr> </tbody> </table>	A	B	1. ಲಘು ಕೋನ	90° ಅಳತೆಯ ಕೋನ	2. ವಿಶಾಲಕೋನ	180° ಅಳತೆಯ ಕೋನ	3. ಲಂಬಕೋನ	180° ಗಿಂತ ಹೆಚ್ಚು 360° ಗಿಂತ ಕಡಿಮೆ	4. ಸರಳಕೋನ	360° ಅಳತೆಯ ಕೋನ	5. ಸಂಪೂರ್ಣ ಕೋನ	90° ಗಿಂತ ಹೆಚ್ಚು 180° ಗಿಂತ ಕಡಿಮೆ	6. ಸರಳಾಧಿಕ ಕೋನ	90° ಗಿಂತ ಕಡಿಮೆ ಅಳತೆಯಿರುವ ಕೋನ.	<p>ವಿಭಕ್ತ ಕುಟುಂಬದ ಅನುಕೂಲತೆಗಳನ್ನು ಮತ್ತು ಅನಾನುಕೂಲತೆಗಳನ್ನು ಪಟ್ಟಿಮಾಡಿ.</p>
A	B																	
1. ಲಘು ಕೋನ	90° ಅಳತೆಯ ಕೋನ																	
2. ವಿಶಾಲಕೋನ	180° ಅಳತೆಯ ಕೋನ																	
3. ಲಂಬಕೋನ	180° ಗಿಂತ ಹೆಚ್ಚು 360° ಗಿಂತ ಕಡಿಮೆ																	
4. ಸರಳಕೋನ	360° ಅಳತೆಯ ಕೋನ																	
5. ಸಂಪೂರ್ಣ ಕೋನ	90° ಗಿಂತ ಹೆಚ್ಚು 180° ಗಿಂತ ಕಡಿಮೆ																	
6. ಸರಳಾಧಿಕ ಕೋನ	90° ಗಿಂತ ಕಡಿಮೆ ಅಳತೆಯಿರುವ ಕೋನ.																	
<p>ಜೂನ್ - 3ನೇ ವಾರ 13/06/2021 ರಿಂದ 15/06/2021</p>	<p>ಸ್ವಾತಂತ್ರ ದಿನಾಚರಣೆ ಕುರಿತು ಮಕ್ಕಳು ಸ್ವತಃ ಒಂದು ಚಿತ್ರ/ಚಿಕ್ಕ ಪ್ರಬಂಧ/ಕವನ ಬರೆಯಲು ಹೇಳುವುದು.</p>	<p>Write story of Krishna and sudhama .</p>	<p>ಈ ಚಿತ್ರದ ಸುತ್ತಲಿನ ಮತ್ತು ವಿಸ್ತೀರ್ಣ ಕಂ.ಹಿಡಿಯಿರಿ <a href="https://youtu.be/x_wQPyo2hsE">https://youtu.be/x_wQPyo2hsE</a></p> 	<p>ವಿಭಕ್ತ ಮತ್ತು ಅವಿಭಕ್ತ ಕುಟುಂಬಗಳಲ್ಲಿ ನಿನಗೆ ಇಷ್ಟವಾದ ಕುಟುಂಬ ಯಾವುದು? ಏಕೆ?</p>														

ಕ್ಷೇತ್ರಶಿಕ್ಷಣಾಧಿಕಾರಿಗಳ ಕಚೇರಿ ಸಾರ್ವಜನಿಕ ಶಿಕ್ಷಣ ಇಲಾಖೆ ಹಿರಿಯೂರು ತಾಲ್ಲೂಕು

06ನೇ ತರಗತಿ ವಿದ್ಯಾರ್ಥಿಗಳ ಪೂರಕ ಚಟುವಟಿಕೆಗಳು

Aga	ಕನ್ನಡ	ಇಂಗ್ಲೀಷ್	ಹಿಂದಿ	ಗಣಿತ	ವಿಜ್ಞಾನ	ಸಮಾಜವಿಜ್ಞಾನ
<p>ಮೇ - 3ನೇ ವಾರ 16/05/2021 ರಿಂದ 18/05/2021</p>	<p><b>ಅನುಕ್ರಮವಾಗಿ ಬರೆಯಿರಿ</b> ೧.ಅ ಯಿಂದ ಳ ವರಗೆ ೨. ಕ ಯಿಂದ ಳ ವರಗೆ ಗುಣತಾಕ್ಷರ ಬರೆ <a href="https://youtu.be/gcz_2af-9u0">https://youtu.be/gcz_2af-9u0</a></p>	<p><b>write the short form of</b> are not, it is ,was not ,that is, were not, who is ,do not ,what is, did not where is, does not, I have, can not ,we have, have not ,they have  <a href="https://youtu.be/6khIhLcQ8XQ">https://youtu.be/6khIhLcQ8XQ</a></p>	<p><b>स्वर वर्णों को लिखो</b> ಅಕ್ಷರಗಳಲ್ಲಿ ಬರೆಯಿರಿ. a) 86391: _____ b) 903512: _____ c) 2854709: _____</p>	<p>ನಿನಗೆ ಇಷ್ಟವಾದ ಎರಡು ಆಹಾರ ಪದಾರ್ಥಗಳು ಮತ್ತು ಅವುಗಳ ಘಟಕಾಂಶಗಳನ್ನು ತಿಳಿಸು</p>	<p><b>ಒಂದು ವಾಕ್ಯದಲ್ಲಿ ಉತ್ತರಿಸಿರಿ.</b> ೧. ಇತಿಹಾಸ ಎಂದರೇನು? ೨. ಇತಿಹಾಸ ಪಿತಾಮಹನಾದ ಹೆರೋಡೋಟಸ್ ನು ಯಾವ ದೇಶಕ್ಕೆ ಸೇರಿದವನು? ೩. ಇತಿಹಾಸದ ಎರಡು ಪ್ರಮುಖ ಆಧಾರಗಳನ್ನು ತಿಳಿಸಿ. ೪. ಕಾಳಿದಾಸನು ಬರೆದ ಕೃತಿ ಯಾವುದು? ೫. ಜೀಸಸ್ ಸಂಘವನ್ನು ಕಟ್ಟಿದವರು ಯಾರು?</p>	
<p>ಮೇ - 3ನೇ ವಾರ 19/05/2021 ರಿಂದ 22/05/2021</p>	<p><b>ಈ ಪದಗಳನ್ನು ಬಳಸಿ ೧೦ ಪದಗಳನ್ನರಚಿಸಿ</b></p> 	<p><b>Write the past form of</b> build , rise , creep,  see, grow , sink  ring , speak  <a href="https://youtu.be/tRt6VbsVKxg">https://youtu.be/tRt6VbsVKxg</a></p>	<p><b>क्रम के साथ लिखिए और पढ़िए :</b> इ उ अ ऋ ई आ औ ऐ अं ओ ए अः ऊ</p>	<p>ಈ ಕೆಳಗಿನವುಗಳನ್ನು ಇಳಿಕೆ ಕ್ರಮದಲ್ಲಿ ಬರೆಯಿರಿ. a) 97,654, 98,000, 96,999 _____ b) 10,56,783, 9,99,999, 12,00,101 _____ ಅಲ್ಪವಿರಾಮ ಹಾಕಿ ಬರೆಯಿರಿ. a) 246813579 : b) 136857099 :</p>	<p><b>ಈ ಕೆಳಗಿನ ಪ್ರಶ್ನೆಗಳಿಗೆ ಎರಡು ಅಥವಾ ಮೂರು ವಾಕ್ಯದಲ್ಲಿ ಉತ್ತರಿಸಿರಿ</b> ೧.ನಾವು ಸಂತುಲಿತ ಆಹಾರವನ್ನು ಏಕೆ ಸೇವಿಸಬೇಕು ? ಕಾರಣ ಕೊಡಿ ೨. ಸಮುದ್ರ ತೀರದ ಜನರಿಗೆ ಗಳಗಂಡ ರೋಗದ ಭಯವಿಲ್ಲ ಏಕೆ ?</p>	<p><b>ಚಟುವಟಿಕೆ :</b> ೧) ನಿಮ್ಮ ಮನೆಯಲ್ಲಿ ನಿಮ್ಮ ಅಜ್ಜ/ಅಜ್ಜಿ ಹೇಳಿದ ಒಂದು ಐತಿಹಾಸಿಕ ಕಥೆಯನ್ನು ಬರೆಯಿರಿ</p>

ಮೇ - 4ನೇ ವಾರ  
23/05/2021  
ರಿಂದ  
26/05/2021

ನಮ್ಮನ್ನು ವಿಂಗಡಿಸಿ ಮಾಡಿ ಬರೆಯಿರಿ.

ಮಾಪ: ಕಿಲೋ - ಕೆ+ಎ+ಗ್+ಇ+ಓ+ಎ

1. ಪಾಕಲೆ :

2. ಗುಡ್ಡು :

3. ಮೆಣಸು :

**Classify the following into fruits and vegetables and write them**

brinjal, mango, apple, potato, sapota, onion, lemon, tomato, cucumber, cabbage, pineapple, chilli, papaya, carrot, kiw

व्यंजनों को पढ़ते हुए लिखिए :

Write the vegetables names in Kannada, Hindi and English.

पढ़ते हुए पूर्ण करो-

क		ग		ड.
च				ज
ट		फ		
त				न
प	फ		भ	
य		अ		श
ष			क्ष	त्र
	श			

ಹಣ್ಣುಗಳು	ಪ್ರತಿ ಕೆಜಿ ಬೆಲೆ
ಸೆಬು	₹40.00
ಕಬ್ಬೆ	₹30.00
ದ್ರಾಕ್ಷೆ	₹20.00
ಪರಂಗಿ	₹30.00
ಸುಪಾರಿ	₹20.00

- 2kg ಪರಂಗಿ ಹಣ್ಣಿನ ಬೆಲೆ ಎಷ್ಟು?
- ಯಾವ ಹಣ್ಣಿನ ಬೆಲೆ ಸೇವಿಂಗ್ ₹10 ಕಡಿಮೆ ಇದೆ (kgಗೆ)?
- ದ್ರಾಕ್ಷಿಗಿಂತ 2ರಷ್ಟು ಬೆಲೆ ಯಾವ ಹಣ್ಣಾಗಿದೆ?
- 1kg ಸೆಬು ಮತ್ತು 1kg ದ್ರಾಕ್ಷಿಹಣ್ಣುಗಳ ಒಟ್ಟು ಬೆಲೆ ಎಷ್ಟು?
- 2kg ಪರಂಗಿಹಣ್ಣು ಮತ್ತು 1kg ಕತ್ತಳೆಹಣ್ಣಿನ ಬೆಲೆ ಏನು?
- ಕೋಳುಕದಲ್ಲಿ ಇರುವಂತೆ ಯಾವ ಹಣ್ಣಿನ ಬೆಲೆ ಹೆಚ್ಚಾಗಿದೆ?
- ಯಾವ ಹಣ್ಣಿನ ಬೆಲೆ ಅತಿ ಕಡಿಮೆ ಇದೆ?
- ಯಾವ ಯಾವ ಹಣ್ಣಿನ ಬೆಲೆಗಳು ಸಮಾನವಾಗಿವೆ?

<https://youtu.be/HUoj5s5AnZg>

**ಮೂರು/ನಾಲ್ಕು ವಾಕ್ಯದಲ್ಲಿ ಉತ್ತರಿಸಿರಿ.**

೧.ನೈಸರ್ಗಿಕ ಮತ್ತು ಸಂಶ್ಲೇಷಿತ ನಾರುಗಳ ನಡುವಿನ ವ್ಯತ್ಯಾಸ ಬರೆಯಿರಿ  
೨.ಬೇಸಿಗೆಯಲ್ಲಿ ಹತ್ತಿ ಬಟ್ಟೆಯನ್ನೇ ಹೆಚ್ಚಾಗಿ ಬಳಸುತ್ತಾರೆ. ಏಕೆ?

**ಒಂದು ವಾಕ್ಯದಲ್ಲಿ ಉತ್ತರಿಸಿರಿ.**

೧) ಕರ್ನಾಟಕ ರಾಜ್ಯದ ಆಡಳಿತ ವಿಭಾಗಗಳು ಯಾವವು ?  
೨) ಕರ್ನಾಟಕದ ಸುತ್ತಲಿನ/ನೆರೆಯ ರಾಜ್ಯಗಳು ಯಾವವು ? ೩) ಕರ್ನಾಟಕ ಕರಾವಳಿಯು ಯಾವ ಸಮುದ್ರವನ್ನು ಹೊಂದಿದೆ ?  
೪) ಕರ್ನಾಟಕ ರಾಜ್ಯದಲ್ಲಿರುವ ಒಟ್ಟು ಜಿಲ್ಲೆಗಳೆಷ್ಟು ?  
೫) ಕರ್ನಾಟಕ ರಾಜ್ಯದ ರಾಜಧಾನಿ ಯಾವುದು ? ೬) ಕರ್ನಾಟಕದ ಆಡಳಿತ ಭಾಷೆ ಯಾವುದು?



ಮೇ - 4ನೇ ವಾರ  
30/05/2021  
ರಿಂದ  
31/05/2021

ಕೆಳಗಿನ ಚಿತ್ರದ ಬಗ್ಗೆ ನಿಮಗೆ ಅನಿಸಿದ್ದನ್ನು ಬರೆಯಿರಿ.



**Complete the word chain using the last letter of the previous word.**

- e.g. - leg - gun - nest - tree - ear - rat -tiger - rabbit - table – elephant  
1. forest - ten –  
2. egg - good –  
3. finger - road –  
4. happy - yellow –  
5. elephant - tall –  
6. crow - wild

**ಗಿನಿತಿ**

ಅಂಜಿ ಅಂಕ	ಹಿಂದಿ ಅಂಕ
1	
2	
3	
4	
5	
6	
7	
8	
9	
10	

ಈ ಕೆಳಗೆ ಸಂಖ್ಯೆಗಳಿಂದ ತುಂಬಿರುವ ನಾಲ್ಕು ಚೀಲಗಳನ್ನು ಕೊಡಲಾಗಿದೆ. ಆ ಚೀಲಗಳಲ್ಲಿನ ಯಾವುದಾದರೂ 10 ಸಂಖ್ಯೆಗಳನ್ನು ಕೂಡಿದರೆ 1369 ಮೊತ್ತ ಬರುವ ಸಂಖ್ಯೆಗಳನ್ನು ಆರಿಸಿ ಬರೆಯಿರಿ

37 37 37 37 37 37 37	111 111 111 111 111 111
185 185 185 185 185 185	259 259 259 259 259 259

ಈ ಕೆಳಗಿನ ಪ್ರಶ್ನೆಗಳಿಗೆ ೨ ಅಥವಾ ೩ ವಾಕ್ಯಗಳಲ್ಲಿ ಉತ್ತರಿಸಿ.  
೧. ನಿಮ್ಮ ಮನೆಯಲ್ಲಿರುವ ಪ್ಲಾಸ್ಟಿಕ್‌ನಿಂದ ತಯಾರಿಸಿದ ಯಾವುದಾದರೂ ಐದು ವಸ್ತುಗಳನ್ನು ಹೆಸರಿಸಿ.  
೨. ನೀವು ಪ್ರತಿನಿತ್ಯ ಉಪಯೋಗಿಸುವ ಕಾಗದದಿಂದ ತಯಾರಿಸಲ್ಪಟ್ಟ ವಸ್ತುಗಳನ್ನು ಪಟ್ಟಿ ಮಾಡಿ.  
೩. ನೀರನ್ನು ಸಂಗ್ರಹಿಸಲು ಬಳಸುವ ಉಪಕರಣಗಳು ಯಾವುವು?

**ಕರ್ನಾಟಕ ನಕ್ಷೆ ಬರೆದು ರಾಜ್ಯದ ನಕ್ಷೆಯಲ್ಲಿ ಈ ಕೆಳಗಿನ ಸ್ಥಳಗಳನ್ನು ಗುರುತಿಸಿ**  
೧) ಬೆಂಗಳೂರು  
೨) ಮೈಸೂರು  
೩) ಶಿವಮೊಗ್ಗ  
೪) ದಾವಣಗೆರೆ  
೫) ಚಿತ್ರದುರ್ಗ  
೬) ಮಂಗಳೂರು  
[https://youtu.be/zVCLG2uB7\\_g](https://youtu.be/zVCLG2uB7_g)

ಜೂನ್ - 1ನೇ ವಾರ  
01/06/2021  
ರಿಂದ  
03/06/2021

- ಮಾದರಿಯಂತೆ ಸಂಪೂರ್ಣ ಬರೆಯಿರಿ.  
ಮಾದರಿ : ಗುರು ವಾಣಿವನ್ನು ಮಾಡಿದರು.  
ಗುರುಗಳು ವಾಣವನ್ನು ಮಾಡಿದರು.  
1. ಗದ್ದೆಯಲ್ಲಿ ಹೆಂಗನರು ಕೆಳ ಕೆಲಸಕ್ಕಿದ್ದಾರೆ.  
2. ಲತಾಳಿಗೆ ಒಮ್ಮೆಗೆ ಅಣ್ಣಂದಿರು ಇರುವಂತೆ ಕಾಣುತ್ತದೆ.  
3. ಹಳ್ಳಿಯಲ್ಲಿ ತುಂಬಾ ಮನೆ ಇದ್ದವು.  
4. ಕಾಡಿನಲ್ಲಿ ಪ್ರಾಣಿ ಸಹ ಸೇರಿದವು.  
5. ಮಗು ಸಭೆಯಲ್ಲಿ ಕುಳಿತಿದ್ದರು.

**Fill in the blanks using in/on/at**

- i) I was born \_\_\_\_ 2007.  
ii) I keep my books \_\_\_\_ my bag.  
iii) At home, I keep my bag \_\_\_\_ the table.  
iv) I carry my school bag \_\_\_\_ my back.  
v) My little cat always sleeps \_\_\_\_ a mat.

**ಗಿನಿತಿ**

ಅಂಜಿ ಅಂಕ	ಹಿಂದಿ ಅಂಕ
11	
12	
13	
14	
15	
16	
17	
18	
19	
20	

**ಕೆಳಗಿನವುಗಳ ಮ.ಸಾ.ಅ ಕಂಡುಹಿಡಿಯಿರಿ.**

- a) 12 ಮತ್ತು 30  
b) 150 ಮತ್ತು 210  
c) 140, 150 ಮತ್ತು 210  
d) 90, 120 ಮತ್ತು 150

<https://youtu.be/i48TV-3qAOA>

೧.ಪಾರದರ್ಶಕ ವಸ್ತುಗಳೆಂದರೇನು ? ಉದಾಹರಣೆ ಕೊಡಿ.  
೨. ಅಪಾರದರ್ಶಕ ವಸ್ತುಗಳಿಗೆ ನಾಲ್ಕು ಉದಾಹರಣೆ ಬರೆ ಮೃದು ವಸ್ತುವಿಗೆ ಉದಾಹರಣೆ ಬರೆ.  
೪. ತೆಳುವಾದ ಬಟ್ಟೆ .....ವಸ್ತುವಿಗೆ ಉದಾಹರಣೆಯಾಗಿದೆ.  
೫. ನೀರನ್ನು ಸಾವರ್ತ್ರಿಕ ದ್ರಾವಕ ಎನ್ನುವರು ಏಕೆ?

**ನಾಲ್ಕು ವಿಭಾಗಗಳಲ್ಲಿ ಬರುವ ಜಿಲ್ಲೆಗಳನ್ನು ಬರೆಯಿರಿ.**  
೧.ಬೆಂಗಳೂರು  
೨.ಮೈಸೂರು  
೩.ಕಲಬುರಗಿ  
೪.ಬೆಳಗಾವಿ

ಜೂನ್ - 1ನೇ  
ವಾರ  
04/06/2021  
ರಿಂದ  
06/06/2021

ಪದಗಳನ್ನು ಬಿಡಿಸಿ ಬರೆಯಿರಿ.  
ಮಾದರಿ : ಕಾಡಿನಲ್ಲಿ = ಕಾಡಿನ + ಅಲ್ಲಿ

ಕೈಯಲ್ಲಿ =

ಕೊಳ್ಳೆಯನ್ನು =

ಮಾತಿಲ್ಲ =

ಪಾಲಾಗು =

ಗಾಬರಿಯಿಂದ =

ಮಳೆಯಲ್ಲಿ =

ಕೋಗಿಲೆಯು =

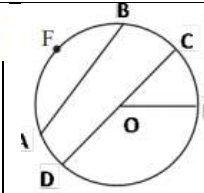
ಗುರುವಿನ =

**Classify the given words into masculine and feminine gender .**  
brother, father, queen, uncle, woman, mother, aunt, sister, king , man, grandmother, boy, wife, husband, girl, grandfather, male, female

<https://youtu.be/6sTCbBi45u>  
A

शब्दों में लिखो और पढो

अंग्रेजी अंक	हिंदी अंक	शब्दों में लिखो
1		
2		
3		
4		
5		
6		
7		
8		
9		
10		



ಕೊಟ್ಟಿರುವ ಚಿತ್ರದ ಸಹಾಯದಿಂದ ಈ ಕೆಳಗಿನವುಗಳನ್ನು ಹೆಸರಿಸಿ.


೧.ಜ್ಯಾ \_\_\_\_\_  
೨. ವ್ಯಾಸ \_\_\_\_\_  
೩. ತ್ರಿಜ್ಯ \_\_\_\_\_  
೪. ಅರ್ಧವೃತ್ತ \_\_\_\_\_  
೫. ಅಧಿಕ ವೃತ್ತ ಖಂಡ \_\_\_\_\_

೬. ಲಘು ವೃತ್ತ ಖಂಡ \_\_\_\_\_

೭. ಅಧಿಕ ವೃತ್ತಖಂಡಕ್ಕೆ 'ಕೆಂಪು' ಬಣ್ಣ ಹಾಕಿ  
೮. ಲಘು ವೃತ್ತಖಂಡಕ್ಕೆ 'ನೀಲಿ' ಬಣ್ಣ ಹಾಕಿ

೧.ಸಾಂದ್ರೀಕರಣ ಎಂದರೇನು ?  
೨. ಆವೀಕರಣ ಎಂದರೇನು ?  
೩. ಬಸಿಯುವಿಕೆ ಎಂದರೇನು ?  
೪. ಗುರುತ್ವ ಬಲದಿಂದ ಬೇರ್ಪಡಿಸುವಿಕೆ ಎಂದರೇನು ?  
೫. ತೂರುವಿಕೆ ಎಂದರೇನು ?  
೬. ಜರಡಿ ಹಿಡಿಯುವಿಕೆ ಎಂದರೇನು ?

ಈ ಕೆಳಗಿನ ಚಿತ್ರಗಳ ಕುರಿತು ೩/೪ ವಾಕ್ಯಗಳನ್ನು ಬರೆಯಿರಿ



ಜೂನ್ - 2ನೇ  
ವಾರ  
07/06/2021  
ರಿಂದ  
09/06/2021

ನಮ್ಮನ್ನು ಕೂಡಿಸಿ ಬರೆಯಿರಿ.  
ಮಾದರಿ : ನಮ್ಮ + ಅನ್ನು = ನಮ್ಮನ್ನು

ಮಲಗಿ + ಇದೆ =

ದಂಡೆ + ಅಲ್ಲಿ =

ಇಡು + ಉತ್ತ =

ಎಚ್ಚರ + ಆಗಿ =

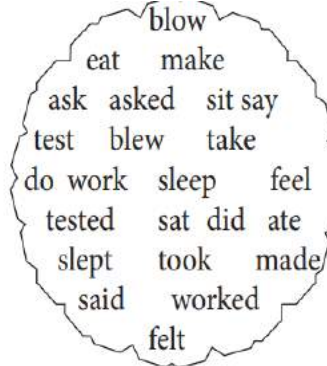
ಬಬ್ಬ + ಅನ್ನು =

ಮರ + ಇಂದ =

ಮರ + ಉ =

ಮರ + ಅಕ್ಕೆ =

**Identify the tense form of the words given**



<https://youtu.be/tRt6VbsVKx8>  
8

शब्दों में लिखो और पढो

अंग्रेजी अंक	हिंदी अंक	शब्दों में लिखो
11		
12		
13		
14		
15		
16		
17		
18		
19		
20		

ಕೆಳಗೆ ತಿಳಿಸಿದಂತೆ ಮಾಡಿ.  
ಈ ಸಂಖ್ಯೆಗಳ ಮುಂದಿನ ಸಂಖ್ಯೆ ಬರೆ.  
a) -2 .....  
b) 3 .....  
c) 0 .....  
d) -7 .....

ಈ ಸಂಖ್ಯೆಗಳ ಹಿಂದಿನ ಸಂಖ್ಯೆ ಬರೆ.  
a) 3 .....  
b) -4 .....  
c) 2 .....  
d) 0 .....


ಕೆಳಗಿನವುಗಳಿಗೆ ಎರಡು-ಮೂರು ವಾಕ್ಯಗಳಲ್ಲಿ ಉತ್ತರ ಬರೆಯಿರಿ.  
೧. ಆವೀಕರಣ ಮತ್ತು ಸಾಂದ್ರೀಕರಣದ ನಡುವಿನ ವ್ಯತ್ಯಾಸ ಬರೆಯಿರಿ.  
೨. ಜರಡಿ ಹಿಡಿಯುವಿಕೆ ಮತ್ತು ಸೋಸುವಿಕೆಗೆ ಎರಡೆರಡು ಉದಾಹರಣೆ ಬರೆಯಿರಿ.  
೩. ವಸ್ತುಗಳನ್ನು ಬೇರ್ಪಡಿಸುವ ವಿವಿಧ ವಿಧಾನಗಳನ್ನು ಪಟ್ಟಿ ಮಾಡಿ.  
೪. ಹಿಟ್ಟನ್ನು ಬಳಸುವ

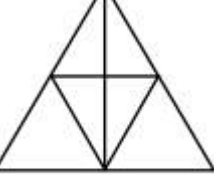
ಟಿಪ್ಪಣಿ ಬರೆಯಿರಿ  
೧. ಲೋಹ ಯುಗ  
೨. ಕಬ್ಬಿಣ ಯುಗ




					ಮುನ್ನ ನಾವು ಜರಡಿಯನ್ನು ಹಿಡಿಯಲು ಕಾರಣವೇನು ?	
ಜೂನ್ - 2ನೇ ವಾರ 10/06/2021 ರಿಂದ 12/06/2021	<p>ತತ್ಸಮ - ತದ್ವಚ ಪದಗಳನ್ನು ಬರೆಯಿರಿ.</p> <p>ಮಾದರಿ : ಆರ್ಯ - ಅಜ್ಜ</p> <p>ಕಾರ್ಯ -</p> <p>ಚಂದ್ರ -</p> <p>ವಿಜ್ಞಾನ -</p> <p>ನಿತ್ಯ -</p> <p>ಹೊತ್ತಗೆ -</p> <p>ಚಾಗ -</p> <p>ಸಿರಿ -</p> <p><a href="https://youtu.be/_Z9mA32FAZk">https://youtu.be/_Z9mA32FAZk</a></p>	<p><b>Classify the following words into 'a' sound, 'e' sound and 'i' sound words</b></p> <p>bat fed tag den flag will fill beg fit rat him shed then shell big hit red fill wish glad cla</p>	<p>(ಕಿತ್ತಾಬ, ಬಾಜಾರ, ಕೆಲಾ, ಗೀತ, ಟೊ-ಟೊ )</p> <p>1. मै _____ पढता श्लै ।</p> <p>2. _____ जाता श्लै ।</p> <p>3. _____ खाता श्लै ।</p> <p>4. _____ गाता श्लै ।</p> <p>5. _____ खेलता श्लै ।</p>	<p>ರಚನಾ ಓರ್ವ ಹಾಲು ಮಾರುವವನ (ಗೌಳಿಗ) ಮಗಳು. ರಜಾ ದಿನಗಳಲ್ಲಿ ಅವಳು ತಂದೆಯ ಜೊತೆ ಹೋಗಿ ಲೀಟರ್‌ಗೆ ೪೦ ರೂಪಾಯಿನಂತೆ 200 l, 180 l ಮತ್ತು 210 l ಗಳಷ್ಟು ಹಾಲನ್ನು ಮೂರು ದಿನಗಳಲ್ಲಿ ಮಾರಿದಳು. ಅವಳು ಮಾರಿದ ಹಾಲು ಮತ್ತು ಗಳಿಸಿದ ಹಣದ ವಿವರ ಕೊಡುವ ಒಂದು ಕೋಷ್ಟಕ ರಚಿಸಿರಿ.</p>	<p>ಮೈಜ್ಞಾನಿಕ ಕಾರಣ ಕೊಡಿ. ೧.</p> <p>ಮರದ ಚಕ್ರಕ್ಕೆ ಕಬ್ಬಿಣದ ಗಾಲಿಯನ್ನು ಕೂಡಿಸುವ ಮೊದಲು ಕಾಯಿಸಲು ಕಾರಣವೇನು?</p> <p>೨. ರೇಲ್ವೆ ಹಳಿಗಳನ್ನು ಜೋಡಿಸುವಾಗ ಕಂಬಿಗಳ ಮಧ್ಯೆ ಸ್ವಲ್ಪ ಜಾಗ ಬಿಟ್ಟಿರಲು ಕಾರಣವೇನು?</p>	<p><b>ಭಾರತದ ನಕ್ಷೆಬರೆದು ಈ ಕೆಳಗಿನ ಸ್ಥಳಗಳನ್ನು ಗುರುತಿಸಿ.</b></p> <p>೧) ಹಳ್ಳೂರು ೨) ಬ್ರಹ್ಮಗಿರಿ ೩) ಮೆಹರ್‌ಗರ್ ೪) ಹುಣಸಗಿ ೫) ಬುರ್ಜ್‌ಹೋಮ್ ೬) ಚಿರಾಂಡ್ ೭) ಗಣೇಶ್ವರ ೮) ಆದಮ್‌ಗರ್</p>



<p>ಜೂನ್ - 3ನೇ ವಾರ 13/06/2021 ರಿಂದ 15/06/2021</p>	<p><b>ಗಾದೆ ಪೂರ್ಣಗೊಳಿಸಿ</b></p> <ol style="list-style-type: none"> <li>ಬೆಕ್ಕಿಗೆ ಆಟ ಇಲಿಗೆ</li> <li>ಬೆಳೆವ ಸಿರಿ</li> <li>ಉಪ್ಪಿಗಿಂತ ರುಚಿ ಇಲ್ಲ</li> <li>ಹಾಸಿಗೆ ಇದ್ದಷ್ಟು</li> <li>ಹಿತ್ತಲ ಗಿಡ</li> <li>ಬಗ್ಗಟ್ಟಿನಲ್ಲಿ</li> <li>ಮಿಂಚಿಹೋದ ಕಾರ್ಯಕ್ಕೆ</li> <li>ಮಾಡಿದ್ದುಣ್ಣೋ</li> <li>ಗಾಳಿ ಬಂದಂತೆ</li> <li>ಗಿಡವಾಗಿ ಬಗ್ಗದ್ದು</li> </ol>	<p><b>What do you call these persons?</b></p> <ol style="list-style-type: none"> <li>1. A person receiving medical treatment.</li> <li>2. One who performs operations in the hospital.</li> <li>3 A person who writes news for a newspaper.</li> <li>4. One who ploughs the field.</li> <li>5. One who teaches</li> </ol> <p><a href="https://youtu.be/stj-QOS-CK0">https://youtu.be/stj-QOS-CK0</a></p>	<p>(ಕಿತ್ತಾಬ, ಬಾಜಾರ, ಕೆಲಾ, ಗೀತ, ಖಾ-ಖಾ )</p> <ol style="list-style-type: none"> <li>1. _____ ಪಢತೀ ಹ್ನು ।</li> <li>2. _____ ಜಾತೀ ಹ್ನು ।</li> <li>3. _____ ಖಾತೀ ಹ್ನು ।</li> <li>4. _____ ಗಾತೀ ಹ್ನು ।</li> <li>5. _____ ಖೆಲತೀ ಹ್ನು ।</li> </ol>	<p>ಒಂದು ಕ್ಲಿಪ್ ಪ್ರಶ್ನೆ ಪತ್ರಿಕೆಯಲ್ಲಿ ೧೦ ಪ್ರಶ್ನೆಗಳಿವೆ. ಪ್ರತಿ ಪ್ರಶ್ನೆಗೂ ೫ ಅಂಕಗಳನ್ನು ನಿಗದಿಪಡಿಸಲಾಗಿದೆ. ಪ್ರತಿಯೊಂದು ಸರಿ ಉತ್ತರಕ್ಕೆ +೫ ಅಂಕ ಹಾಗೂ ಪ್ರತಿಯೊಂದು ತಪ್ಪು ಉತ್ತರಕ್ಕೆ - ೩ ಅಂಕ. (ಚಿ) ರಮೇಶ ಎಲ್ಲಾ ಪ್ರಶ್ನೆಗಳಿಗೂ ಉತ್ತರಿಸುತ್ತಾನೆ. ಅದರಲ್ಲಿ ೬ ಉತ್ತರಗಳು ಸರಿಯಾಗಿವೆ ಹಾಗೂ ೪ ಉತ್ತರಗಳು ತಪ್ಪಾಗಿವೆ. ಮಂಜುಲ ಪ್ರಶ್ನೆಗಳಿಗೆ ಉತ್ತರಿಸುತ್ತಾನೆ. ಅದರಲ್ಲಿ ೫ ಉತ್ತರಗಳು ಸರಿಯಾಗಿವೆ ಹಾಗೂ ಉಳಿದ ಉತ್ತರಗಳು ತಪ್ಪಾಗಿವೆ. ಇವರಲ್ಲಿ ಗೆದ್ದವರು ಯಾರು? ಲೆಕ್ಕ ಮಾಡಿ ಬರೆಯಿರಿ</p>	<p><b>ಈ ಕೆಳಗಿನ ಪ್ರಶ್ನೆಗಳಿಗೆ ವೈಜ್ಞಾನಿಕ ಕಾರಣ ನೀಡಿ</b></p> <ol style="list-style-type: none"> <li>೧. ಸಸ್ಯಗಳು ಹಸಿರಾಗಿರಲು ಕಾರಣವೇನು?</li> <li>೨. ಜೋಳದ ಗಿಡವನ್ನು ಸುಲಭವಾಗಿ ಕೀಳಬಹುದು ಆದರೆ ಹತ್ತಿ ಗಿಡವನ್ನು ಸುಲಭವಾಗಿ ಕೀಳಲು ಸಾಧ್ಯವಿಲ್ಲ ಏಕೆ?</li> <li>೩. ಸಸ್ಯಗಳಿಗೆ ಚೀವ ಇದೆ ಎಂದು ಹೇಗೆ ಹೇಳುವಿರಿ.</li> <li>೪. ಹೂಗಳು ಆಕರ್ಷಕ ಬಣ್ಣವನ್ನು ಏಕೆ ಹೊಂದಿವೆ ?</li> </ol>	<p><b>ಒಂದು ವಾಕ್ಯದಲ್ಲಿ ಉತ್ತರಿಸಿರಿ.</b></p> <ol style="list-style-type: none"> <li>೧) ಭಾರತದ ಅತ್ಯಂತ ಜನಪ್ರಿಯವಾದ ಎರಡು ಮಹಾಕಾವ್ಯಗಳಾವುವು ?</li> <li>೨) ಉತ್ತರ ವೇದಕಾಲದಲ್ಲಿ ಪೂಜಿಸುತ್ತಿದ್ದ ದೇವತೆಗಳಾವುವು ?</li> <li>೩) ಹವಿಸ್ಸು ಎಂದರೇನು ?</li> <li>೪) ಯಾವ ವೇದಕಾಲದಲ್ಲಿ ವರ್ಣ ವ್ಯವಸ್ಥೆ ತಲೆ ಎತ್ತಿತ್ತು ?</li> </ol>
--	--	--	--	---	---	--

<p>ಜೂನ್ - 3ನೇ ವಾರ 16/06/2021 ರಿಂದ 17/06/2021</p>	<p><b>ಒಗಟು ಬಿಡಿಸಿ</b></p> <p>ಚಿಕ್ಕ ಮನೆಗೆ ಚಿನ್ನದ ಬೀಗ = ಏರಿ ಮೇಲೆ ಸಾಲು ಮರ = ಐದು ಮನೆಗೆ ಒಂದೇ ಅಂಗಳ.= ಮುಚ್ಚಿದರೆ ಒಂದು ಬಿಚ್ಚಿದರೆ ಸಾವಿರ = ಬರ್ರಾ ಇಳಿತಾನೆ, ಹೋಗ್ರಾ ಏರ್ರಾನೆ =</p> <p><a href="https://youtu.be/yG3_xJoR-wY">https://youtu.be/yG3_xJoR-wY</a></p>	<p><b>Write the names of professions 10 that you know</b></p>	<p><b>उदाहरण के अनुसार लिखिए</b></p> <p>मैं केला खाता हूँ ।      तुम आम खाती हो । मैं गाजर खाता हूँ ।      तुम ककड़ी खाती _____ । मैं कन्नड पढ़ता _____ ।      तुम हिंदी पढ़ती _____ । _____ अंग्रेजी लिखता _____ ।      तुम उर्दू _____ हो । मैं कहानी पढ़ता _____ ।      तुम कविता _____ । तुम गीत गावो ।      आप गीत गाईए ।</p>	<p><b>ಈ ಕೆಳಗಿನ ಹೇಳಿಕೆಗಳು ಸರಿ (T) ಅಥವಾ ತಪ್ಪು (F). ಎಂದು ಗುರುತಿಸಿ, ತಪ್ಪಿರುವ ಹೇಳಿಕೆಗಳನ್ನು ಸರಿಪಡಿಸಿ ಬರೆಯಿರಿ.</b></p> <p>೧.೪ ಬಾಹುಗಳುಳ್ಳ ಬಹುಭುಜಾಕೃತಿಗೆ ಕೇವಲ ೨ ಕರ್ಣಗಳಿರುತ್ತವೆ. ೨. ವೃತ್ತಕ್ಕೆ ಶೃಂಗಗಳಿರುವುದಿಲ್ಲ. ೩. ದತ್ತ ಬಿಂದುವಿನ ಮೂಲಕ ಅನಂತ ರೇಖೆಗಳನ್ನು ಎಳೆಯಬಹುದು. ೪. ವೃತ್ತದ ವ್ಯಾಸವು ತ್ರಿಜ್ಯದ ನಾಲ್ಕರಷ್ಟಿರುತ್ತದೆ. ೫. ಪರಸ್ಪರ ಸಂಧಿಸುವ ಎರಡು ರೇಖೆಗಳನ್ನು ಸಮಾಂತರ ರೇಖೆಗಳು</p>	 <p><b>ಹೂವಿನ ಅಂದವಾದ ಚಿತ್ರ ಬರೆದು ಭಾಗಗಳನ್ನು ಗುರ್ತಿಸಿ</b></p>	<p><b>ಕ್ರೈಸ್ತ ಮತ್ತು ಇಸ್ಲಾಂ ಧರ್ಮದ ಬೋಧನೆಗಳನ್ನು ಪಟ್ಟಿ ಮಾಡಿರಿ</b></p>
--	--	---	--	---	--	---




				ಎನ್ನುತ್ತೇವೆ. ಓ. ರೇಖೆಯು ರೇಖಾಖಂಡಕ್ಕಿಂತ ಚಿಕ್ಕದು.												
ಜೂನ್ - 3ನೇ ವಾರ 18/06/2021 ರಿಂದ 19/06/2021	ಕೆಳಗಿನ ಪದಗಳಿಗೆ ವಿರುದ್ಧಾರ್ಥಕ ಪದಗಳನ್ನು ಬರೆಯಿರಿ. <table border="1"> <tr><td>ಸುರ</td><td>x</td></tr> <tr><td>ಆಸೆ</td><td>x</td></tr> <tr><td>ಹಗಲು</td><td>x</td></tr> <tr><td>ಉತ್ತರ</td><td>x</td></tr> <tr><td>ಉದ್ದ</td><td>x</td></tr> </table>	ಸುರ	x	ಆಸೆ	x	ಹಗಲು	x	ಉತ್ತರ	x	ಉದ್ದ	x	<b>Some dates are given below. Write how these days are celebrated as shown in the example.</b> e. g : 5th September celebrated as Teachers day 14th April 5th June 15th August 2nd October 14 <sup>th</sup> November  <a href="https://youtu.be/xuwbbyDqWms">https://youtu.be/xuwbbyDqWms</a>	उदाहरण के अनुसार लिखिए : मैं गाती हूँ । 1. मैं _____ श्रावण । 2. मैं _____ श्रावण । 3. मैं _____ श्रावण । 4. मैं _____ श्रावण । 5. मैं _____ श्रावण ।	 ಈ ಚಿತ್ರದಲ್ಲಿ ಇರುವ ತ್ರಿಭುಜಗಳನ್ನು ಲೆಕ್ಕ ಹಾಕಿ ಬರೆಯಿರಿ.	ಎರಡು/ಮೂರು ವಾಕ್ಯದಲ್ಲಿ ಉತ್ತರಿಸಿ. ೧. ಪ್ರಾಣಿಗಳು ಒಂದು ಕಡೆಯಿಂದ ಇನ್ನೊಂದು ಕಡೆಗೆ ಚಲಿಸುವ ವಿಧಗಳನ್ನು ಹೆಸರಿಸಿ. ೨. ಪಕ್ಷಿಗಳು ಹಾರಾಡಲು ಸಹಾಯಕವಾಗುವ ವಿಶೇಷ ಗುಣಗಳನ್ನು ತಿಳಿಸಿ. ೩. ಸುಚಲನಾಕೃತಿ ಎಂದರೇನು ? ಸುಚಲನಾಕೃತಿ ಹೊಂದಿರುವ ಕೆಲವು ಜೀವಿಗಳನ್ನು ಹೆಸರಿಸಿ. ೪. ಮೂಳೆ ಮತ್ತು ಮೃದ್ವಸ್ಥಿಗಳ ನಡುವಿನ ವ್ಯತ್ಯಾಸ ತಿಳಿಸಿ	ಭಾರತ ನಕ್ಷೆ ಬರೆದು ಇದರಲ್ಲಿ ನಕ್ಷಾ ಸೂಚಿಗಳನ್ನು ಬಳಸಿ ಕೆಳಕಾಣಿಸಿದ ಅಂಶಗಳನ್ನು ಗುರುತಿಸಿರಿ. a). ದೆಹಲಿ b) ಗಂಗಾನದಿ c) ಬೆಂಗಳೂರು d) NH-೪ ಬೆಂಗಳೂರು ಪುಣಾ ಹೆದ್ದಾರಿ e) ಹಾವೇರಿ
ಸುರ	x															
ಆಸೆ	x															
ಹಗಲು	x															
ಉತ್ತರ	x															
ಉದ್ದ	x															

ವಾರ/ದಿನಾಂಕ	ಚಟುವಟಿಕೆ	ಡಿಜಿಟಲ್ ಪಠ್ಯಾಂಶ
ಮೇ ಮೂರನೇ ವಾರ ( 17/05/21 ರಿಂದ 24/05/21 )	<p>1) ಕೆಳಗೆ ನೀಡಿರುವ ಪದಗಳನ್ನು ಬಳಸಿ ನಿಮ್ಮದೇ ಆದ ವಾಕ್ಯ ರಚಿಸಿ</p> <p>ಅ) ಊಟೋಪಚಾರ : ----- ಆ) ಸಕಾಲ : ----- ಇ) ಆತಿಥ್ಯ : -----</p> <p>2) ಕಾಡು ನಾಶವಾಗುವುದರಿಂದ ಉಂಟಾಗುವ ತೊಂದರೆಗಳನ್ನು ಪಟ್ಟಿ ಮಾಡಿ</p> <p>ಅ) ----- -----</p>	 <p>B 2 N 3 E 4</p>
ಮೇ ನಾಲ್ಕನೇ ವಾರ ( 25/05/21 ರಿಂದ 31/05/21 )	<p>1) ಸ್ವಾತಂತ್ರ್ಯ ಚಳುವಳಿಗೆ ಸಂಬಂಧಪಟ್ಟ ಹತ್ತು ಪದಗಳನ್ನು ಬರೆಯಿರಿ</p> <p>----- -----</p> <p>2) ಕೆಳಗಿನ ವಾಕ್ಯಗಳಲ್ಲಿ ಕರ್ಮಪದ, ಕೃತೃಪದ ಮತ್ತು ಕ್ರಿಯಾಪದಗಳನ್ನು ಗುರುತಿಸಿ</p> <p>ಕ್ರ.ಸಂ. ವಾಕ್ಯಗಳು ಕರ್ಮಪದ ಕೃತೃಪದ ಕ್ರಿಯಾಪದ</p> <p>ಅ) ಉಮಾ ಹಾಡನ್ನು ಹಾಡಿದಳು. ----- ಆ) ಗಣೇಶ ಗಡಿಗೆಯನ್ನು ಒಡೆದನು -----</p>	 <p>Y 3 Y 6 B 2</p>
ಜೂನ್ ಮೊದಲನೇ ವಾರ ( 01/06/21 ರಿಂದ 07/06/21 )	<p>1) ಕೊಟ್ಟಿರುವ ವಾಕ್ಯಗಳಲ್ಲಿರುವ ತಪ್ಪನ್ನು ಸರಿಪಡಿಸಿ ಬರೆಯಿರಿ.</p> <p>ಅ) ಅಕ್ಕಿ ಹಕ್ಕಿಯನ್ನು ತಿನ್ನುತ್ತಿದೆ. : ----- ಆ) ಅನ್ನ ಅಣ್ಣವನ್ನು ಉನ್ನುತ್ತಾನೆ : ----- ಇ) ನಮ್ಮ ಸಾಲೆಯ ಆಸಾ ಹಶುರು ಬನ್ನದ ಪುಸ್ತಕ ತಂದಿದ್ದಾಳೆ : -----</p> <p>2) ಕೆಳಗೆ ನೀಡಿರುವ ನುಡಿಗಟ್ಟುಗಳನ್ನು ಬಳಸಿ ವಾಕ್ಯ ರಚಿಸಿ:</p> <p>ಅ) ಅಡ್ಡದಾರಿ ಹಿಡಿ (ತಪ್ಪು ಕೆಲಸ ಮಾಡು) : ----- ಆ) ಮೈ ಬಗ್ಗಿಸು (ಶ್ರಮಪಡು) : ----- ಇ) ಎತ್ತಿದ ಕೈ (ಪ್ರವೀಣ) : -----</p>	 <p>D 7 T 4 P 1</p>

ಬೇಸಿಗೆ ರಜಾ ಅವಧಿಯಲ್ಲಿ ವಿದ್ಯಾರ್ಥಿಗಳ ನಿರಂತರ ಕಲಿಕೆಗೆ ಪೂರಕ ಚಟುವಟಿಕೆಗಳು

ತರಗತಿ - 7

ವಿಷಯ - ಕನ್ನಡ



ವಾರ/ದಿನಾಂಕ	ಚಟುವಟಿಕೆ	ಡಿಜಿಟಲ್ ಪಠ್ಯಾಂಶ
ಜೂನ್ ಎರಡನೇ ವಾರ ( 08/06/21 ರಿಂದ 15/06/21 )	<p>1) ಮೊದಲೆರಡು ಪದಗಳ ಸಂಬಂಧ ಗ್ರಹಿಸಿ ಖಾಲಿಜಾಗದಲ್ಲಿ ಸೂಕ್ತ ಪದ ಭರ್ತಿಮಾಡಿ.</p> <p>ಅ) ಶತ್ರು : ಮಿತ್ರ :: ರಾತ್ರಿ : _____</p> <p>ಆ) ಮಾತಾ : ತಾಯಿ :: ಪಿತ : _____</p> <p>ಇ) ದಾವಣಗೆರೆ : ನಡುನಾಡು :: ಚಿತ್ರದುರ್ಗ : _____</p> <p>2) ಈ ಕೆಳಗಿನ ಪದಗಳನ್ನು ಬಿಡಿಸಿ ಸಂಧಿ ಹೆಸರಿಸಿ.</p> <p>ಅ) ಸೆರೆಯಿಂದ : _____</p> <p>ಆ) ಉಳಿಗಾಲ : _____</p>	 <p>P7A6X3</p>
ಜೂನ್ ಮೂರನೇ ವಾರ ( 16/06/21 ರಿಂದ 23/06/21 )	<p>1) ಕೆಳಗಿನ ಪದಗಳಿಗೆ ತತ್ಸಮ-ತದ್ಭವ ಪದಗಳನ್ನು ಬರೆಯಿರಿ.</p> <p>ಅ) ಮೃಗ : _____ ಆ) ರಾಜ : _____</p> <p>ಇ) ಬಣ್ಣ : _____ ಆ) ಹಕ್ಕಿ : _____</p> <p>2) ಕೆಳಗಿನ ಪದಗಳ ವಿರುದ್ಧ ಪದಗಳನ್ನು ಬರೆಯಿರಿ.</p> <p>ಅ) ದೂರ X _____ ಆ) ವಿವಿಧತೆ X _____</p> <p>ಇ) ನಿಯಮಿತ X _____ ಆ) ಆರಂಭ X _____</p>	 <p>P9D9B9</p>
ಜೂನ್ ನಾಲ್ಕನೇ ವಾರ ( 24/06/21 ರಿಂದ 30/06/21 )	<p>1) ಕೆಳಗೆ ನೀಡಿರುವ ಕತೆಯಲ್ಲಿ ಕೆಲವು ಪದಗಳನ್ನು ಬಿಟ್ಟು ಆ ಜಾಗದಲ್ಲಿ ಸ್ಥಳವನ್ನು ಖಾಲಿ ಬಿಡಲಾಗಿದೆ. ಬಿಟ್ಟ ಸ್ಥಳದಲ್ಲಿ ಇರಬೇಕಾದ ಪದಗಳನ್ನು ಕತೆಯ ಕೆಳಗೆ ಅವರ್ಣದಲ್ಲಿ ನೀಡಲಾಗಿದೆ. ಸೂಕ್ತ ಪದವನ್ನು ಆರಿಸಿ ಬಿಟ್ಟ ಸ್ಥಳದಲ್ಲಿ ತುಂಬಿರಿ.</p> <p>_____ ಒಂದು ಕಾಗೆ _____ ಬಂದು ಒಂದು _____ ಮೇಲೆ ಕುಳಿತುಕೊಂಡು _____ ತಿನ್ನತೊಡಗಿತು. ಮೋಸಗಾರ ನರಿ _____ಯನ್ನು ಕಂಡು _____ ತಿನ್ನಬೇಕೆಂದು _____ ಕೆಳಗೆ ನಿಂತು ಕಾಗೆಯನ್ನು ಹೊಗಳಿತು. "ವಿಲೈ ಕಾಗೆ ನೀನು _____ ಹಾಡುತ್ತೀಯೆ , ನಿನ್ನ _____ ತುಂಬಾ ಚೆಂದ. ನಿನ್ನ ಹಾಡನ್ನು _____ ಆಸೆ ನನಗೆ ಆಗಿದೆ" ಎಂದು ಹೊಗಳಿತು. ಕಾಗೆ ಅದರ ಹೊಗಳಿಕೆಗೆ ಮಾರು ಹೋಗಿ _____ ಎಂದು ಹಾಡತೊಡಗಿತು. ಆಗ ಅದರ _____ರೊಟ್ಟಿ ಕೆಳಗೆ _____ ಬಿದ್ದ _____ಯನ್ನು ನರಿ ಕಚ್ಚಿ _____ ಹೋಯಿತು.</p> <p>( ಹಾರಿ, ಮರದ, ಬಾಯಲ್ಲಿ, ರೊಟ್ಟಿ, ಚಂದ, ಹಾಡು, ಕೇಳುವ, ಕಾಕಾಕಾ, ಬಾಯಿಂದ , ಬಿದ್ದಿತು, ಓಡಿ, ಕಾಗೆ, ಕೊಂಬೆ)</p> <p>2) ಕೆಳಗಿನ ವಾಕ್ಯಗಳನ್ನು ವೇಗವಾಗಿ ಓದುವುದನ್ನು ಅಭ್ಯಾಸ ಮಾಡಿ, ಬರೆಯಿರಿ</p> <p>ಅ) ಗಿಡ ತಳಿರೊಡೆದರೆಡಲೆಯಾಯ್ತು : _____</p> <p>ಆ) ಬಸಪ್ಪನ ಮನೆಯಲ್ಲಿ ಬಿಸಿಬಿಸಿ ಗಸಗಸೆ ಪಾಯಸದ ವಾಸನೆ : _____</p>	 <p>D3D3V1</p>



ಪೆಟ್ಟಿವೆ ಪೆಟ್ಟಿವೆ ಪೆಟ್ಟಿವೆ ಪೆಟ್ಟಿವೆ ಪೆಟ್ಟಿವೆ ಪೆಟ್ಟಿವೆ ಪೆಟ್ಟಿವೆ ಪೆಟ್ಟಿವೆ ಪೆಟ್ಟಿವೆ ಪೆಟ್ಟಿವೆ  
 ಬೇಸಿಗೆ ರಜಾ ಅವಧಿಯಲ್ಲಿ ವಿದ್ಯಾರ್ಥಿಗಳ ನಿರಂತರ ಕಲಿಕೆಗೆ ಪೂರಕ ಚಟುವಟಿಕೆಗಳು

ತರಗತಿ - 7

ವಿಷಯ - ಇಂಗ್ಲಿಷ್




ವಾರ/ದಿನಾಂಕ	ಚಟುವಟಿಕೆ	ಡಿಜಿಟಲ್ ಪಠ್ಯಾಂಶ
<p>ಜೂನ್ ಮೂರನೇ ವಾರ ( 16/06/21 ರಿಂದ 23/06/21 )</p>	<p><b>Arrange the words in alphabetical order. Take help of a dictionary</b></p> <p>1) School      book      teacher      pencil      pen                      .                      2) white      yellow      orange      green      blue                      .                      3) doctor      painter      carpenter      driver      engineer                      .                      4) elephant      zebra      monkey      donkey      cat                      .</p>	
<p>ಜೂನ್ ನಾಲ್ಕನೇ ವಾರ ( 24/06/21 ರಿಂದ 30/06/21 )</p>	<p><b>Complete the sentences with the correct question tag</b></p> <p>1) -----old are you? ( How / What)                      Ans:</p> <p>2) ----- do you live? (Where / When)                      Ans:</p> <p>3)----- do you want to eat for lunch? (When /What)                      Ans.</p> <p>4)----- are you sad( Why/What)                      Ans.</p> <p>5)-----is your best friend( When/Who)                      Ans.</p>	

ಪೆಟ್ಟಿಗೆಯಲ್ಲಿರುವ ಸಂಖ್ಯೆಗಳನ್ನು ಪರಿಶೀಲಿಸಿ ಮತ್ತು ಅವುಗಳ ಮೊತ್ತವನ್ನು ಖಚಿತಪಡಿಸಿ. »j AÀÀ/EgÀÀ

ಬೇಸಿಗೆ ರಜಾ ಅವಧಿಯಲ್ಲಿ ವಿದ್ಯಾರ್ಥಿಗಳ ನಿರಂತರ ಕಲಿಕೆಗೆ ಪೂರಕ ಚಟುವಟಿಕೆಗಳು

ತರಗತಿ - 7








ವಿಷಯ - ಗಣಿತ

ವಾರ/ದಿನಾಂಕ	ಚಟುವಟಿಕೆ	ಡಿಜಿಟಲ್ ಪತ್ರ್ಯಾಂಶ
ಮೇ ಮೂರನೇ ವಾರ ( 17/05/21 ರಿಂದ 24/05/21 )	ನಾನು ಯಾರು ? ಗುರುತಿಸಿ. 1) ಎರಡಂಕಿಯ ಅತಿ ದೊಡ್ಡ ಸಂಖ್ಯೆ - 2) ನಾಲ್ಕಂಕಿಯ ಅತಿ ಚಿಕ್ಕ ಸಂಖ್ಯೆ - 3) ನಾಲ್ಕಂಕಿಯ ಅತಿ ದೊಡ್ಡ ಸಂಖ್ಯೆ - 4) 2 ರಿಂದ 5 ರ ವರೆಗಿನ ಮಗ್ಗಿ ಬರೆಯಿರಿ	 RS8PEH
ಮೇ ನಾಲ್ಕನೇ ವಾರ ( 25/05/21 ರಿಂದ 31/05/21 )	ಕೊಟ್ಟಿರುವ ಸಂಖ್ಯೆಗಳನ್ನು ಪದಗಳಲ್ಲಿ ಬರೆಯಿರಿ 1) 2,345 - 2) 73,456 - ಅಂಕಗಳಲ್ಲಿ ಬರೆಯಿರಿ 1) ಎಪ್ಪತ್ತೇಳು ಲಕ್ಷದ ಏಳು ಸಾವಿರದ ಇನ್ನೂರು - 2) ನಲವತ್ತು ಸಾವಿರದ ಮೂವತ್ತು - 3) 5 ರಿಂದ 10 ರ ವರೆಗಿನ ಮಗ್ಗಿ ಬರೆಯಿರಿ	 B6Q19D
ಜೂನ್ ಮೊದಲನೇ ವಾರ ( 01/06/21 ರಿಂದ 07/06/21 )	ಈ ಕೆಳಗಿನ ಸಂಖ್ಯೆಗಳಲ್ಲಿ 5 ರ ಸ್ಥಾನಬೆಲೆ ಬರೆಯಿರಿ 1) 2745 - 2) 75436 - ಮೊತ್ತ ಕಂಡುಹಿಡಿಯಿರಿ 1) 3456+2786 = 2) 756+81+6756 = 3) 11 ರಿಂದ 15 ರ ವರೆಗಿನ ಮಗ್ಗಿ ಬರೆಯಿರಿ	 ASHKGA

ಕರ್ನಾಟಕ ರಾಜ್ಯ ಪಠ್ಯಕ್ರಮ ಮತ್ತು ಪರೀಕ್ಷೆಗಳ ವಿಭಾಗ  
ಬೇಸಿಗೆ ರಜಾ ಅವಧಿಯಲ್ಲಿ ವಿದ್ಯಾರ್ಥಿಗಳ ನಿರಂತರ ಕಲಿಕೆಗೆ ಪೂರಕ ಚಟುವಟಿಕೆಗಳು

ತರಗತಿ - 7

ವಿಷಯ - ಗಣಿತ


ವಾರ/ದಿನಾಂಕ	ಚಟುವಟಿಕೆ	ಡಿಜಿಟಲ್ ಪಠ್ಯಾಂಶ
ಜೂನ್ ಎರಡನೇ ವಾರ ( 08/06/21 ರಿಂದ 15/06/21 )	<p>ವ್ಯತ್ಯಾಸ ಕಂಡು ಹಿಡಿಯಿರಿ</p> <p>1) 75608-4567 =</p> <p>2) 56438-43002 =</p> <p>ಹೋಲಿಕೆ ಮಾಡಿ ಸೂಕ್ತ ಚಿಹ್ನೆಗಳಿಂದ ಬಿಟ್ಟ ಸ್ಥಳ ತುಂಬಿ</p> <p>1) 2010 ---- 2001    2) 3023 ---- 3032    3) 7762 ---- 7762</p> <p>4) 15 ರಿಂದ 20 ರ ವರೆಗಿನ ಮಗ್ಗು ಬರೆಯಿರಿ</p>	 <p>B81FHL</p>
ಜೂನ್ ಮೂರನೇ ವಾರ ( 16/06/21 ರಿಂದ 23/06/21 )	<p>ಗುಣಲಬ್ಧ ಕಂಡುಹಿಡಿಯಿರಿ</p> <p>1) 8760 X 7 =</p> <p>2) 505 X 15 =</p> <p>ಭಾಗಲಬ್ಧ ಮತ್ತು ಶೇಷ ಕಂಡುಹಿಡಿಯಿರಿ</p> <p>1) 515 / 5 =</p> <p>2) 9045 / 12 =</p> <p>3) 2 ರಿಂದ 10 ರ ವರೆಗಿನ ಮಗ್ಗು ಬರೆಯಿರಿ</p>	 <p>B6Y4B1</p>
ಜೂನ್ ನಾಲ್ಕನೇ ವಾರ ( 24/06/21 ರಿಂದ 30/06/21 )	<p>ಎರಡು ಆಯಾಮದ ಚಿತ್ರಗಳನ್ನು ಅವುಗಳ ಹೆಸರಿನೊಂದಿಗೆ ಹೊಂದಿಸಿ</p> <p>1)ವೃತ್ತ </p> <p>2)ಆಯತ </p> <p>3)ಚೌಕ </p> <p>4)ತ್ರಿಭುಜ </p> <p>5) 2 ರಿಂದ 20 ರ ವರೆಗಿನ ಮಗ್ಗು ಬರೆಯಿರಿ</p>	 <p>B78SCN</p>



ಬೇಸಿಗೆ ರಜಾ ಅವಧಿಯಲ್ಲಿ ವಿದ್ಯಾರ್ಥಿಗಳ ನಿರಂತರ ಕಲಿಕೆಗೆ ಪೂರಕ ಚಟುವಟಿಕೆಗಳು

ತರಗತಿ - 7

ವಿಷಯ - ವಿಜ್ಞಾನ

ವಾರ/ದಿನಾಂಕ	ಚಟುವಟಿಕೆ	ಡಿಜಿಟಲ್ ಪಠ್ಯಾಂಶ
<p>ಮೇ ಮೂರನೇ ವಾರ ( 17/05/21 ರಿಂದ 24/05/21 )</p>	<p><b>ಬಿಟ್ಟ ಸ್ಥಳ ತುಂಬಿ</b></p> <p>1)ತಮ್ಮ ಆಹಾರವನ್ನು ತಾವೇ ಸಂಶ್ಲೇಷಿಸುವುದರಿಂದ ಹಸಿರು ಸಸ್ಯಗಳನ್ನು ----- ಎನ್ನುವರು.                  2)ದ್ಯುತಿ ಸಂಶ್ಲೇಷಣೆಯಲ್ಲಿ ಸೌರಶಕ್ತಿಯನ್ನು ಹಿಡಿದಿಟ್ಟುಕೊಳ್ಳುವ ವರ್ಣಕ-----                  3)ಸಸ್ಯಗಳು ದ್ಯುತಿ ಸಂಶ್ಲೇಷಣೆಯಲ್ಲಿ -----ಅನ್ನು ಒಳತೆಗೆದುಕೊಳ್ಳುತ್ತವೆ ಮತ್ತು -----ಅನ್ನು ಬಿಡುಗಡೆ ಮಾಡುತ್ತವೆ.                  4)ದ್ಯುತಿ ಸಂಶ್ಲೇಷಣೆಯ ಸಮೀಕರಣ ರೂಪ ಬರೆಯಿರಿ--</p>	
<p>ಮೇ ನಾಲ್ಕನೇ ವಾರ ( 25/05/21 ರಿಂದ 31/05/21 )</p>	<p>1)ವಿಲ್ಯಗಳೆಂದರೇನು? ಅವುಗಳು ಎಲ್ಲಿವೆ ಮತ್ತು ಅವುಗಳ ಕಾರ್ಯವೇನು?                  2)ಈ ಕೆಳಗಿನ ಪದಗಳ ಅರ್ಥವೇನು?                  ಅ) ಸಾಕಣೆ                  ಆ) ರೇಷ್ಮೆಕೃಷಿ                  3)ಜೀರ್ಣಾಂಗ ವ್ಯವಸ್ಥೆಯ ಚಿತ್ರ ಬರೆದು ಭಾಗಗಳನ್ನು ಗುರುತಿಸಿ</p> 